



Simulado Especial

MP SP

Auxiliar De Promotoria I

Pós-Edital

Caderno de Prova

Nome: _____

INFORMAÇÕES SOBRE O SIMULADO

- 1 - Este simulado conta com questões focadas no concurso **MP-SP**, cargo de **Auxiliar de Promotoria I**;
- 2 - A prova contém itens que abordam conhecimentos cobrados no edital do concurso;
- 3 - As questões são inéditas e foram elaboradas pelos nossos professores com base no perfil da banca organizadora;
- 4 - A participação no ranking classificatório só será permitida até o horário de liberação do gabarito;
- 5 - O link para preencher o formulário com seu gabarito está localizado logo após estas instruções;

PREENCHA SEU GABARITO

Clique no link, ou copie e cole no seu navegador, para preencher seu gabarito.

<https://forms.gle/hsNfdc1a4JXNQPay5>

01 - (A)(B)(C)(D)(E)	13 - (A)(B)(C)(D)(E)	25 - (A)(B)(C)(D)(E)	37 - (A)(B)(C)(D)(E)	49 - (A)(B)(C)(D)(E)
02 - (A)(B)(C)(D)(E)	14 - (A)(B)(C)(D)(E)	26 - (A)(B)(C)(D)(E)	38 - (A)(B)(C)(D)(E)	50 - (A)(B)(C)(D)(E)
03 - (A)(B)(C)(D)(E)	15 - (A)(B)(C)(D)(E)	27 - (A)(B)(C)(D)(E)	39 - (A)(B)(C)(D)(E)	51 - (A)(B)(C)(D)(E)
04 - (A)(B)(C)(D)(E)	16 - (A)(B)(C)(D)(E)	28 - (A)(B)(C)(D)(E)	40 - (A)(B)(C)(D)(E)	52 - (A)(B)(C)(D)(E)
05 - (A)(B)(C)(D)(E)	17 - (A)(B)(C)(D)(E)	29 - (A)(B)(C)(D)(E)	41 - (A)(B)(C)(D)(E)	53 - (A)(B)(C)(D)(E)
06 - (A)(B)(C)(D)(E)	18 - (A)(B)(C)(D)(E)	30 - (A)(B)(C)(D)(E)	42 - (A)(B)(C)(D)(E)	54 - (A)(B)(C)(D)(E)
07 - (A)(B)(C)(D)(E)	19 - (A)(B)(C)(D)(E)	31 - (A)(B)(C)(D)(E)	43 - (A)(B)(C)(D)(E)	55 - (A)(B)(C)(D)(E)
08 - (A)(B)(C)(D)(E)	20 - (A)(B)(C)(D)(E)	32 - (A)(B)(C)(D)(E)	44 - (A)(B)(C)(D)(E)	56 - (A)(B)(C)(D)(E)
09 - (A)(B)(C)(D)(E)	21 - (A)(B)(C)(D)(E)	33 - (A)(B)(C)(D)(E)	45 - (A)(B)(C)(D)(E)	57 - (A)(B)(C)(D)(E)
10 - (A)(B)(C)(D)(E)	22 - (A)(B)(C)(D)(E)	34 - (A)(B)(C)(D)(E)	46 - (A)(B)(C)(D)(E)	58 - (A)(B)(C)(D)(E)
11 - (A)(B)(C)(D)(E)	23 - (A)(B)(C)(D)(E)	35 - (A)(B)(C)(D)(E)	47 - (A)(B)(C)(D)(E)	59 - (A)(B)(C)(D)(E)
12 - (A)(B)(C)(D)(E)	24 - (A)(B)(C)(D)(E)	36 - (A)(B)(C)(D)(E)	48 - (A)(B)(C)(D)(E)	60 - (A)(B)(C)(D)(E)

SIMULADO NO SISTEMA DE QUESTÕES

Clique no link, ou copie e cole no seu navegador, para fazer este simulado também no SQ!

<https://coruja.page.link/jc55>

BLOCO ÚNICO**LÍNGUA PORTUGUESA***Patrícia Manzato***Texto 01**

Desde que o Ministério Público do Estado de São Paulo (MPSP) publicou a resolução nº 1647/2023, servidores e estagiários com deficiência ou que sejam pais ou responsáveis por dependentes que sejam pessoas com deficiência podem contar com condições especiais de trabalho para seus membros. A medida tem como objetivo garantir um ambiente de trabalho inclusivo e acessível, promovendo a igualdade de oportunidades a todos.

A Resolução se apoia em um conjunto robusto de leis e normas, como a Constituição Federal, O ECA (Estatuto da Criança e do Adolescente), além da Convenção Internacional sobre os Direitos da Pessoa com Deficiência, que no Brasil tem equivalência de norma constitucional.

Quem tem direito?

De acordo com a resolução, as condições especiais de trabalho podem ser solicitadas por integrantes do Ministério Público com deficiência, o que abrange membros, servidores e estagiários podem requisitar também o benefício aqueles: a) tenham filho(a) menor com deficiência sob sua guarda; b) tenham pessoa com deficiência sob a sua tutela ou curatela; c) tenham cônjuge, companheiro(a) ou filho(a) maior com deficiência, desde que comprovada a dependência pessoal para superação das barreiras decorrentes da sua condição.

Condições Especiais de Trabalho:

O documento especifica também quais são as condições especiais de trabalho que podem ser concedidas aos seus integrantes e elas são: designação provisória e temporária fora da comarca ou unidade administrativa em que o integrante está lotado, apoio à unidade ministerial de lotação ou designação do integrante, concessão de jornada especial de trabalho aos servidores, de acordo com as normas vigentes, exercício parcial ou integral da atividade em regime de

teletrabalho, sem acréscimo da produtividade. As condições especiais de trabalho podem ser requeridas isolada ou cumulativamente, com justificativa.

Como solicitar?

Os requerimentos de condições especiais de trabalho devem ser apresentados à Procuradoria-Geral de Justiça no caso de membros do MPSP, e no caso de servidores e estagiários o requerimento deve ser apresentado Diretoria Geral e todos os requerimentos devem ser acompanhados de justificativa para a necessidade de condições especiais de trabalho de acordo com o §1º do Art 1º dessa mesma resolução. Os requerimentos devem contar também laudo biopsicossocial, atestando o grau de deficiência e a necessidade de condições especiais de trabalho. O laudo será submetido à homologação de equipe multidisciplinar.

Adaptado de <<https://www.camarainclusao.com.br/sem-categoria/ministerio-publico-de-sp-promove-equidade-para-servidores-com-deficiencia-ou-que-sejam-responsaveis-por-pessoas-com-deficiencia/>>

1. Qual é o objetivo principal da Resolução nº 1647/2023, de acordo com o texto?

- a) Instituir o regime de teletrabalho para todos os servidores do MPSP.
- b) Promover um ambiente de trabalho mais inclusivo e acessível, garantindo isonomia.
- c) Aumentar a produtividade de servidores com deficiência através de novas ferramentas.
- d) Regulamentar o Estatuto da Criança e do Adolescente dentro do Ministério Público.
- e) Promover qualidade de vida a todos, independente de sua condição.

2. A finalidade comunicativa predominante no texto classifica-o como:

- a) Narrativo, pois relata a história da criação de uma resolução.
- b) Argumentativo, pois defende a tese de que o MPSP é o órgão mais inclusivo do país.
- c) Descritivo, pois detalha as características físicas das instalações do Ministério Público.
- d) Informativo/Expositivo, pois apresenta e explica o conteúdo de uma norma oficial.
- e) Injuntivo, pois traz uma diretriz aos servidores com deficiência.

3. No trecho "*A **medida** tem como objetivo garantir um ambiente de trabalho inclusivo...*", o termo em destaque retoma coesivamente:

- a) O Ministério Público do Estado de São Paulo (MPSP).
- b) O conjunto de leis e normas que apoiam a resolução.
- c) A publicação da resolução nº 1647/2023.
- d) Os servidores e estagiários com deficiência.
- e) A garantia de um ambiente....

4. Na frase "*servidores e estagiários com deficiência ou que sejam pais ou responsáveis por dependentes [...] **podem** contar com condições especiais de trabalho...*", a forma verbal "podem" está no plural porque:

- a) Concorde com o termo "dependentes", que está no plural.
- b) Concorde com o sujeito composto "servidores e estagiários".
- c) Trata-se de um verbo impessoal e, portanto, deve ser usado na terceira pessoa do plural.
- d) Concorde com "condições especiais", o objeto da oração.
- e) Concorde com o sujeito "dependentes".

5. Ao mencionar que a resolução "se apoia em um conjunto robusto de leis e normas", infere-se que o MPSP busca:

- a) Demonstrar que a medida é uma decisão isolada e inovadora.
- b) Prevenir questionamentos legais, conferindo solidez e legitimidade à norma.
- c) Sugerir que as leis anteriores eram insuficientes para garantir a inclusão.
- d) Simplificar a aplicação da norma, limitando-a ao que já existe na legislação.
- e) Noticiar que a inovação está à frente do MP-SP.

6. Com base na seção "Quem tem direito?", deduz-se que a solicitação do benefício **não** se aplicaria a um servidor que seja:

- a) Pai de uma criança de 10 anos com deficiência, sob sua guarda.
- b) Curador de uma pessoa com deficiência.
- c) Cônjuge de uma pessoa com deficiência.
- d) Filho de um pai idoso com deficiência, que mora em outra cidade.
- e) Dependência pessoal comprovada.

7. A utilização de intertítulos como "Quem tem direito?" e "Como solicitar?" no texto tem a função de:

- a) Tornar o texto mais subjetivo, inserindo a opinião do autor.
- b) Segmentar e organizar as informações, facilitando a leitura e a compreensão.
- c) Cumprir uma exigência legal para a publicação de resoluções.
- d) Criar um suspense, convidando o leitor a continuar a leitura.
- e) Manter o storytelling da notícia.

8. No primeiro período do texto, a correlação entre "publicou" (pretérito perfeito) e "podem" (presente do indicativo) estabelece uma relação de:

- a) Causa e consequência, indicando que a publicação da resolução é a origem do direito atual.
- b) Condição, sugerindo que o direito só existe se a resolução for consultada.
- c) Simultaneidade, indicando que as duas ações ocorrem ao mesmo tempo.
- d) Oposição, mostrando um contraste entre o passado e o presente.
- e) Adversidade, apresentando dois lados que se opõem.

9. De acordo com o texto, qual das seguintes opções **não** é uma condição especial de trabalho que pode ser concedida?

- a) Exercício da atividade em regime de teletrabalho, sem aumento de produtividade.
- b) Concessão de jornada especial de trabalho.
- c) Redução salarial proporcional à diminuição das horas trabalhadas.
- d) Designação provisória para atuar fora da unidade de lotação original.
- e) Manutenção da produtividade em regime de homeoffice.

10. O papel do laudo biopsicossocial no processo de solicitação é:

- a) Apenas um documento opcional para reforçar o pedido.
- b) Substituir a justificativa escrita do requerente.
- c) Atestar tecnicamente a deficiência e a necessidade das condições especiais.
- d) Iniciar o processo, sendo o primeiro documento a ser entregue.
- e) protocolar o pedido no processo.

Texto 2

As igrejas paulistas

[Crônica de 9 de janeiro de 2002]

Boa parte de nossa história, o Brasil teve dois grandes polos de desenvolvimento e dois grandes polos políticos. Os dois polos de desenvolvimento foram São Vicente e Pernambuco e os dois polos de poder a Bahia e o Rio de Janeiro.

As diferenças podem ser vistas por quem visita as cidades que serviram de centro para este processo, que refletem com crueza a vantagem do poder sobre o desenvolvimento, durante toda a fase colonial da história do país. Rio e Salvador são, guardadas as proporções de uma colônia em relação ao reino, grandiosas. Recife e Olinda são ricas e São Paulo positivamente pobre.

A razão para a pobreza paulista está na forma como a cidade foi usada para conquistar e colonizar o interior do Brasil. Desde o seu começo, com as primeiras bandeiras de caça ao índio, a cidade se esvaziava, cada vez que uma campanha destas tinha início. Boa parte dos homens da região se engajava na expedição.

Alguns morriam, e outros iam ficando pelo sertão, fundando pousos, que seriam usados como base pelas bandeiras que viriam depois.

Adaptado de <https://cronicasdacidade.com.br/da-cidade/2026/01/18/as-igrejas-paulistas/>

11. Com base na argumentação do texto, pode-se inferir que a principal diferença entre os "polos de desenvolvimento" e os "polos de poder" durante o período colonial era:

- a) A localização geográfica, sendo os polos de poder situados exclusivamente no litoral nordestino.
- b) A natureza da sua riqueza, sendo uma baseada na produção econômica e a outra, na centralização administrativa e política do reino.
- c) A data de fundação, com os polos de desenvolvimento sendo estabelecidos muito antes dos polos de poder.
- d) O tipo de mão de obra utilizada, com os polos de poder utilizando trabalho escravizado africano e os de desenvolvimento, mão de obra indígena.
- e) A arquitetura, que nos polos de poder era planejada para a guerra e, nos de desenvolvimento, para o comércio.

12. No último parágrafo, a sequência verbal "morriam", "iam ficando" e "seriam usados" estabelece uma relação temporal específica. Assinale a alternativa que analisa corretamente essa correlação.

- a) Todos os verbos estão no pretérito imperfeito, indicando ações contínuas e simultâneas no passado.
- b) "Morriam" e "iam ficando" indicam ações habituais no passado (pretérito imperfeito), enquanto "seriam usados" indica uma ação futura em relação a esse passado (futuro do pretérito).
- c) "Morriam" é uma ação pontual (pretérito perfeito), enquanto "iam ficando" e "seriam usados" são ações futuras.
- d) "Iam ficando" descreve o início de uma ação, e "seriam usados" descreve sua consequência imediata, ambos no mesmo plano temporal.
- e) A correlação está incorreta, pois o correto seria usar "foram usados" para manter a coerência com o tempo passado.

13. Considere a frase: "A razão para a pobreza paulista está na forma como a cidade foi usada para conquistar e colonizar o interior do Brasil." Se quiséssemos reescrever o início, qual das opções abaixo aplicaria corretamente o acento indicativo de crase?

- a) A pobreza paulista deve-se à forma como a cidade foi usada.
- b) A pobreza paulista se refere à uma forma específica de uso da cidade.
- c) Entregaram a cidade à conquistar e colonizar o interior.
- d) A pobreza era atribuída à todas as cidades que serviam de base.
- e) Os historiadores chegaram à essa conclusão há muito tempo.

14. No trecho "A razão para a pobreza paulista está na forma como a cidade foi usada para conquistar e colonizar o interior do Brasil. Desde o seu começo, com as primeiras bandeiras de caça ao índio, a cidade se esvaziava...", a expressão "Desde o seu começo" funciona como um elemento coesivo que:

- a) Introduz uma contradição com a ideia de pobreza apresentada anteriormente.
- b) Estabelece uma marcação temporal que inicia a explanação da causa mencionada no período anterior.
- c) Apresenta uma consequência direta do uso da cidade para a colonização.
- d) Compara o início de São Paulo com o de outras cidades mencionadas no texto.
- e) Retifica a informação dada no parágrafo anterior, corrigindo a perspectiva histórica.

15. Em "Boa parte dos homens da região se engajava na expedição", a concordância do verbo "engajar" no singular está:

- a) Incorreta, pois o núcleo do sujeito é "homens", exigindo a forma "engajavam".
- b) Correta, pois o verbo concorda com o núcleo da expressão partitiva, "parte", que está no singular.
- c) Incorreta, pois o sujeito é indeterminado, e o verbo deveria estar na terceira pessoa do plural.
- d) Correta, pois o pronome "se" atua como índice de indeterminação do sujeito, o que força o verbo para o singular.
- e) Opcional, mas a forma plural "engajavam" seria preferível por enfatizar os indivíduos.

16. Na frase "*Recife e Olinda são ricas e São Paulo positivamente pobre*", o termo "positivamente" tem a função morfológica e semântica de:

- a) Adjetivo, caracterizando a pobreza de São Paulo como algo bom.
- b) Substantivo, indicando um aspecto positivo da pobreza.
- c) Advérbio de modo, indicando a maneira como São Paulo era pobre.
- d) Advérbio de afirmação, sinônimo de "certamente", funcionando como um intensificador da característica "pobre".
- e) Conjunção adversativa, contrapondo a riqueza de Recife e Olinda.

17. Ao afirmar que as cidades-centro "refletem com crueza a vantagem do poder sobre o desenvolvimento", o autor sugere que:

- a) As cidades mais desenvolvidas economicamente acabaram, por fim, superando as sedes do poder político.
- b) O modelo de colonização português priorizava a ostentação da metrópole em suas sedes administrativas em detrimento do crescimento

econômico autossustentável das regiões produtivas.

- c) O desenvolvimento e o poder eram processos excludentes, e nenhuma cidade conseguia ter ambos.
- d) A "crueza" se refere à brutalidade com que os colonizadores trataram os nativos e os escravizados.
- e) São Paulo, por não ser um polo de poder, conseguiu um desenvolvimento mais justo e equilibrado para sua população.

18. No último parágrafo, a que se refere o pronome "outros" em "...e outros iam ficando pelo sertão..."?

- a) Aos pousos que seriam fundados.
- b) Aos índios caçados pelas bandeiras.
- c) A uma parte dos homens da região que se engajavam nas expedições e não morriam.
- d) Aos homens que se recusavam a participar das bandeiras.
- e) Aos fundadores das primeiras cidades do interior.

19. Analise a frase: "*A cidade se esvaziava, cada vez que uma campanha destas tinha início.*" A relação de sentido estabelecida pelo uso do pretérito imperfeito em "esvaziava" e "tinha" é de:

- a) Ação pontual e concluída no passado.
- b) Condição e consequência, onde uma ação dependia da outra para acontecer.
- c) Simultaneidade e habitualidade, indicando duas ações que ocorriam repetidamente e ao mesmo tempo no passado.
- d) Ação anterior e ação posterior, indicando uma sequência de eventos.
- e) Causa e efeito imediatos, onde o início da campanha provocava o esvaziamento instantâneo.

20. Se a frase "Boa parte de nossa história, o Brasil teve dois grandes polos" fosse reescrita, em qual das alternativas a frase estaria empregada incorretamente?

- a) O Brasil se dedicou à criação de dois grandes polos.
- b) A análise histórica remete à existência de dois grandes polos.
- c) À medida que o tempo passava, os polos se diferenciavam.
- d) A Coroa ajudava à formação de dois grandes polos.
- e) A história do Brasil é anterior à de muitos países.

MATEMÁTICA

Eduardo Mocellin

21. Em uma grande propriedade rural, planeja-se construir uma cerca reta atravessando 6 setores de pastagem contíguos. Em cada um desses setores, foram fixados 3 mourões (postes de madeira). O fazendeiro pretende instalar 3 fios de arame liso que conectarão esses mourões em uma única linha reta contínua. Sabendo-se que a distância entre dois mourões consecutivos é de 32 metros e desprezando-se as sobras para amarrações nas pontas, a quantidade total de arame liso necessária para realizar esse serviço é de:

- a) 544 m
- b) 1.719 m
- c) 576 m
- d) 1.632 m
- e) 564 m

22. Um gerente de logística precisa organizar um lote de caixas no armazém. Ele percebe que, ao tentar agrupar essas caixas em pilhas contendo 4, 5, 9 ou 20 unidades cada, sobram sempre 3 caixas fora das pilhas. Sabendo que o número total de caixas é o menor possível e maior que 3, a soma dos algarismos desse número total é

- a) 8.
- b) 9.
- c) 10.
- d) 11.
- e) 12.

23. Ricardo, um representante comercial, precisou viajar a trabalho de Santos a Campinas, ambas cidades do estado de São Paulo. Ele dirigiu ininterruptamente por 3 horas e 45 minutos até realizar uma parada de 35 minutos para almoçar e descansar. Logo após o intervalo, ele retomou a direção e seguiu direto até seu destino, completando um tempo total de deslocamento (incluindo a parada) de 7 horas e 30 minutos.

A duração exata da segunda parte dessa viagem, realizada após o almoço, foi de:

- a) 2h50min
- b) 2h55min
- c) 3h05min
- d) 3h10min
- e) 3h20min

24. Em uma expedição de montanhismo, o peso somado de duas mochilas, uma menor e uma maior, é de 29 kg. O guia da expedição observou que o valor da soma dos pesos dessas duas mochilas acrescido do peso da mochila maior é exatamente igual à capacidade máxima de carga de um drone de transporte, que é de 47 kg. Nessas condições, o peso da mochila menor é:

- a) 10 kg
- b) 11 kg
- c) 12 kg
- d) 13 kg
- e) 14 kg

25. Uma equipe de manutenção de rodovias foi contratada para recapear um longo trecho de uma estrada em três etapas distintas. Na primeira etapa, a equipe concluiu 40% da extensão total da obra. Na segunda etapa, trabalhou sobre 25% da extensão remanescente. Na terceira e última etapa, a equipe recapeou 540.000 metros, finalizando o serviço. A extensão total da estrada recapeada foi de:

- a) 1.000 km.
- b) 1.100 km.
- c) 1.200 km.
- d) 1.500 km.
- e) 1.600 km.

26. Quando o funcionário Lucas foi contratado por uma empresa de tecnologia, a gerente Mariana já trabalhava no local há exatos 12 anos. Atualmente, os tempos de serviço de Lucas e de Mariana na empresa estão na razão de 3 para 7, respectivamente. A soma dos tempos de serviço atuais desses dois profissionais, em anos, é igual a:

- a) 15
- b) 18
- c) 30
- d) 32
- e) 35

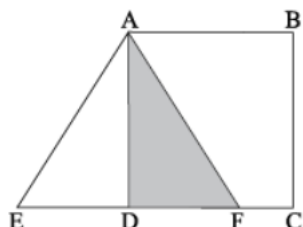
27. Uma empresa de engenharia está reformando o revestimento interno de um grande centro aquático. O engenheiro responsável pelo projeto registrou que, para revestir completamente uma parede lateral de 2 metros de altura por 20 metros de comprimento, foram utilizadas exatas 1.600 pastilhas de cerâmica. Considerando que a parede principal do centro possui 3 metros de altura e 30 metros de comprimento e que será utilizado o mesmo tipo de pastilha, a quantidade necessária de pastilhas para revestir a parede principal será de:

- a) 2.400
- b) 3.600
- c) 3.200
- d) 3.000
- e) 4.800

28. Um artesão especializado em móveis de madeira de demolição utiliza uma regra específica para precificar suas peças. Para que seu negócio seja sustentável, ele determinou que a diferença entre o valor de venda e o custo de produção de qualquer item deve ser equivalente a 40% do valor de venda final. Considerando essa regra de precificação, se o custo de produção de uma mesa de jantar foi de R\$ 3.000,00, o preço pelo qual essa mesa deverá ser vendida é:

- a) R\$ 4.400,00
- b) R\$ 4.600,00
- c) R\$ 4.800,00
- d) R\$ 5.000,00
- e) R\$ 5.200,00

29. Um designer criou um logotipo minimalista composto por duas figuras geométricas: um quadrado e um triângulo equilátero. No esboço do projeto, a altura do triângulo equilátero coincide exatamente com a medida do lado do quadrado.



Sabendo que a área ocupada pelo quadrado é de 75 cm², a área ocupada pelo triângulo equilátero, em cm², é:

- a) 25
- b) 50
- c) $25\sqrt{3}$
- d) $50\sqrt{3}$
- e) $100\sqrt{3}$

30. Considere três coeficientes técnicos, denominados α , β e γ , utilizados para calibrar um instrumento de precisão. Seus valores são definidos pelas seguintes expressões matemáticas:

$$\alpha = \sqrt{0,0625}$$

$$\beta = \left(\sqrt{\sqrt{0,0081}} \right)^{-1}$$

$$\gamma = (2^2)^2$$

O valor do produto $\alpha \cdot \beta \cdot \gamma$, necessário para a calibração final do equipamento, é:

- a) 40/3
- b) 20/3
- c) 10/3
- d) 14/5
- e) 9/5

31. Durante um treinamento de maratona, um atleta amador precisou interromper sua corrida por exaustão ao completar 1/5 do trajeto estipulado. Analisando seu desempenho no relógio com GPS, ele constatou que, se tivesse conseguido correr mais 1.200 metros, teria atingido a marca de 4/5 do percurso total. Com base nessas informações, a distância total desse trajeto de treinamento, em quilômetros, é:

- a) 1,75
- b) 2
- c) 2,25
- d) 2,75
- e) 3

32. Uma gráfica recebeu a encomenda para imprimir etiquetas adesivas numeradas para organizar um arquivo de documentos confidenciais. O cliente exigiu que as etiquetas seguissem uma numeração estritamente ímpar, iniciando em 1 e terminando em 349, conforme a sequência: (1, 3, 5, ..., 349).

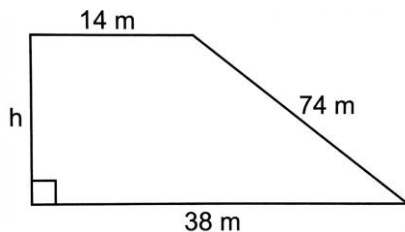
Para calcular o custo exato da tinta preta utilizada, a gráfica precisa determinar o número total de dígitos (algarismos) que serão impressos para produzir todas essas etiquetas. O valor correto é:

- a) 350
- b) 420
- c) 470
- d) 455
- e) 525

33. Carlos e Diana são dois estudantes universitários que decidiram poupar dinheiro mensalmente para custear uma viagem de intercâmbio. Carlos já possui R\$ 1.000,00 guardados em sua conta e planeja economizar R\$ 250,00 por mês. Diana, por sua vez, já conta com um saldo inicial de R\$ 1.400,00 e pretende guardar R\$ 200,00 mensalmente. Mantendo-se estritamente esses planos de economia, os montantes acumulados por Carlos e Diana serão exatamente iguais após N meses. Nessas condições, o valor de N é:

- a) 6
- b) 8
- c) 10
- d) 12
- e) 14

34. Um terreno plano foi demarcado com o formato de um trapézio retângulo para a construção de um galpão industrial.



O levantamento topográfico indicou que as duas divisas paralelas do terreno (as bases) medem 14 m e 38 m. A divisa que não é perpendicular às bases mede 74 m. A área total desse terreno é de:

- a) 1426 m^2
- b) 1380 m^2
- c) 2660 m^2
- d) 2736 m^2
- e) 1820 m^2

35. Três satélites de monitoramento ambiental, denominados Sat-A, Sat-B e Sat-C, completam uma órbita exata sobre uma estação terrestre a cada 40 dias, 36 dias e 30 dias, respectivamente.

Considerando que hoje os três satélites passaram simultaneamente sobre a estação, a próxima ocorrência desse evento conjunto corresponderá à

- a) nona passagem do Sat-A.
- b) décima segunda passagem do Sat-B.
- c) décima quarta passagem do Sat-A.
- d) décima quinta passagem do Sat-B.
- e) décima quinta passagem do Sat-C.

LEGISLAÇÃO

Rodrigo Bet

36. De acordo com o artigo 242 da Lei nº 10.261/1968, é proibido ao funcionário público estadual:

- a) Ausentar-se do serviço por motivo de doença devidamente comprovada.
- b) Residir no local onde exerce o cargo.
- c) Participar de palestras institucionais autorizadas pela chefia imediata.
- d) Retirar documentos da repartição quando houver interesse público devidamente justificado.
- e) Promover ou subscrever listas de donativos dentro da repartição.

37. Nos termos do artigo 241 da Lei nº 10.261/1968, constitui dever do funcionário público estadual:

- a) Exercer atividades particulares durante o horário de expediente, desde que não prejudiquem o serviço.
- b) Cumprir ordens superiores, ainda que manifestamente ilegais.
- c) Manter sigilo apenas sobre assuntos pessoais dos colegas de trabalho.
- d) Desempenhar com zelo e presteza os trabalhos de que for incumbido.
- e) Residir em qualquer local, independentemente do exercício do cargo.

38. De acordo com o artigo 243 da Lei nº 10.261/1968, é proibido ainda ao funcionário público estadual:

- a) Providenciar para que esteja sempre em ordem, no assentamento individual, a sua declaração de família.
- b) Participar da gerência ou administração de empresas bancárias ou industriais, ou de sociedades comerciais, que mantenham relações comerciais ou administrativas com o Governo do Estado.
- c) Requerer privilégios de invenção própria junto a órgãos federais, estaduais ou municipais.
- d) Não praticar usura.
- e) Constituir-se procurador de partes perante repartição pública em qualquer hipótese.

39. Tendo como base a Lei nº 10.261/1968, o funcionário público estadual é responsável pelos prejuízos que causar à Fazenda Estadual:

- a) Apenas quando agir com dolo.
- b) Somente se houver condenação criminal transitada em julgado.
- c) Quando houver prejuízo material, ainda que sem apuração.
- d) Quando agir com dolo ou culpa, devidamente apurados.
- e) Apenas nos casos expressamente previstos em regulamento interno.

40. Segundo o artigo 250 da Lei nº 10.261/1968, a responsabilidade administrativa do funcionário público:

- a) Exclui a responsabilidade civil, mas não a criminal.
- b) Exclui a responsabilidade criminal, mas mantém a civil.
- c) Isenta o pagamento da indenização, mesmo quando for obrigado.
- d) Depende de prévia decisão judicial.

- e) Não exime o funcionário da responsabilidade civil ou criminal, quando couber.

HISTÓRIA

Marco Túlio

41. São Paulo transformou-se num campo de batalha, em que cada paulista, sobretudo estudantes e membros das classes liberais, é um soldado. Fábricas se transformam do dia para a noite em produtoras de armas e munições. Comícios e discursos se sucedem inflamando ainda mais os espíritos: ou a vitória ou a morte! A seguir veio a Campanha do Ouro para o bem de São Paulo que foi realmente impressionante.

BASBAUM, Leônicio. História Sincera da República: de 1930 a 1960. São Paulo: Alfa-Ômega, 1985. p. 43. Adaptado.

Sobre a Revolução Constitucionalista de 1932, é correto afirmar que:

- a) teve como estopim o assassinato de João Pessoa, candidato à vice-presidência, e possibilitou a chegada de Getúlio Vargas ao poder.
- b) foi organizado por lideranças que defendiam a nomeação de um interventor civil e paulista para o governo do Estado de São Paulo.
- c) obteve apoio militar das elites regionais do Rio Grande do Sul e de Minas Gerais, extrapolando os limites territoriais de São Paulo.
- d) manifestou sua oposição à legislação eleitoral aprovada pelo governo central, que introduzia o voto secreto e o sufrágio feminino.
- e) constituiu o principal levante tenentista em São Paulo, sendo encabeçada por jovens militares insatisfeitos com o governo varguista.

42. Entre fins de fevereiro de 1945, quando José Américo de Almeida rompeu o cerco da censura, e 29 de outubro, com a deposição de Vargas, a sociedade brasileira, em pleno processo de democratização política e mobilizada em dois campos antagônicos, assistiu e participou de um movimento de massa, de proporções grandiosas.

(Jorge Ferreira, in O Brasil republicano: o tempo da experiência democrática.)

Acerca do movimento abordado pelo texto, conhecido como queremismo, é correto afirmar que:

- a) foi organizado pelo Partido Social Democrático (PSD), composto por figuras políticas ligadas ao Estado Novo.
- b) defendeu a deposição de Getúlio Vargas e a redemocratização do país a partir da convocação de novas eleições.
- c) defendeu a instalação de uma Assembleia Nacional Constituinte com a permanência de Vargas no poder.
- d) foi hostilizado pelo Partido Comunista, que o considerava uma ameaça em seus redutos eleitorais.
- e) apresentou caráter espontâneo, sendo organizado à margem da política institucional.

43. Durante vinte anos, a Constituição de 1946 serviu de norte ao país e imputou um ritmo democrático à vida pública nacional. Ainda hoje, as interpretações mais difundidas, embora reconheçam sua inequívoca vocação democrática, sublinham suas limitações e sua incidência sobre aquilo que consideram ser a fragilidade da experiência democrática brasileira nesse período.

SCHWARCZ, Lilian Moritz; STARLING, Heloisa Murgel. *Brasil: uma biografia*. São Paulo: Companhia das Letras, 2015. p. 397. Adaptado.

As restrições à experiência política brasileira derivada da Constituição citada podem ser exemplificadas pela:

- a) supressão da autonomia sindical pelo corporativismo e o desempenho do poder Moderador pelas Forças Armadas.
- b) exclusão do direito de voto aos analfabetos e a não inclusão dos trabalhadores rurais à legislação trabalhista.
- c) criação de órgãos de censura aos meios de comunicação e o não reconhecimento do sufrágio feminino.
- d) predominância dos partidos políticos regionais e a implementação do voto aberto pela legislação eleitoral.
- e) introdução do sistema parlamentarista e o não reconhecimento do direito de greve ao movimento sindical.

44. Em abril de 1977, Geisel introduziu uma série de medidas que ficaram conhecidas como “pacote de abril”. O “pacote” foi baixado depois que o governo não conseguiu a maioria necessária no Congresso para aprovar várias alterações constitucionais. O presidente, em resposta, colocou o Congresso em recesso e, a partir daí, emendou a Constituição e baixou vários decretos-leis.

FAUSTO, Boris. *História do Brasil*. São Paulo: Edusp, 2019. p. 420. Adaptado.

Sobre essas alterações promovidas pelo governo, é correto identificar os seguintes pontos:

- a) suspensão do direito de requerer *habeas corpus* e garantia da introdução do estado de sítio ao Poder Executivo.
- b) aumento das bancadas do Sul e Centro-Oeste na Câmara dos Deputados e revogação do bipartidarismo.
- c) criação da representação classista no Legislativo e estabelecimento da figura do senador “biônico”, eleito indiretamente.
- d) limitações à propaganda eleitoral para cargos do legislativo federal e extensão do mandato do presidente da República.
- e) restauração da eleição direta para a presidência da República e aumento do número de ministros do Supremo Tribunal Federal (STF).

45. 2016, este ano com uma notícia bombástica atrás da outra até o último segundo. Já nos últimos dias de dezembro teve quem tentou desistir de compreender o que estava acontecendo. Um ano para entrar nos livros de História.

(Exame. <https://exame.com/brasil/2016>. Publicado em: 27.09.2016)

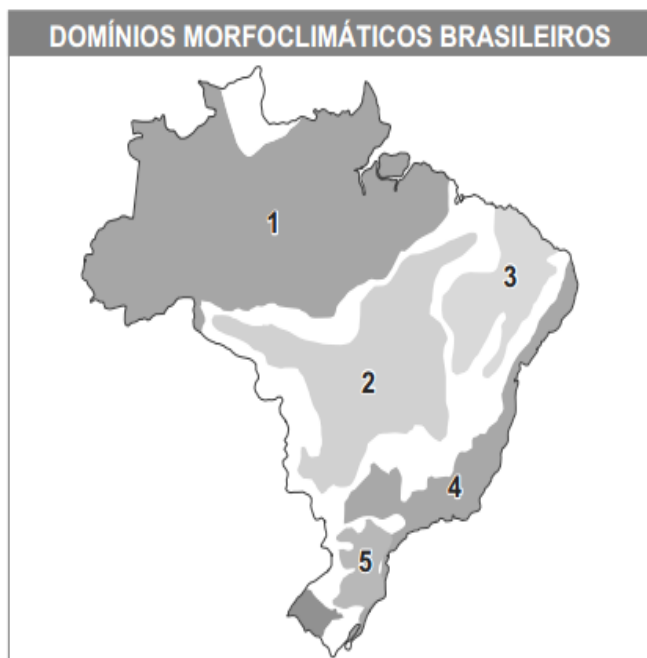
Entre os acontecimentos políticos do ano de 2016 no Brasil, é correto destacar:

- a) o impeachment da presidente Dilma Rousseff, a partir da acusação de cometimento de crime de responsabilidade fiscal.
- b) a prisão do ex-presidente Luiz Inácio Lula da Silva, acusado de corrupção passiva e lavagem de dinheiro.
- c) a eleição de Jair Bolsonaro como presidente da República, interrompendo o ciclo de vitórias do Partido dos Trabalhadores (PT).
- d) o início da Operação Lava-Jato, uma das maiores investigações de corrupção do país.
- e) eleição do deputado Eduardo Cunha (PMDB-RJ) para o cargo de presidente da Câmara dos Deputados.

GEOGRAFIA

Priscila Lima

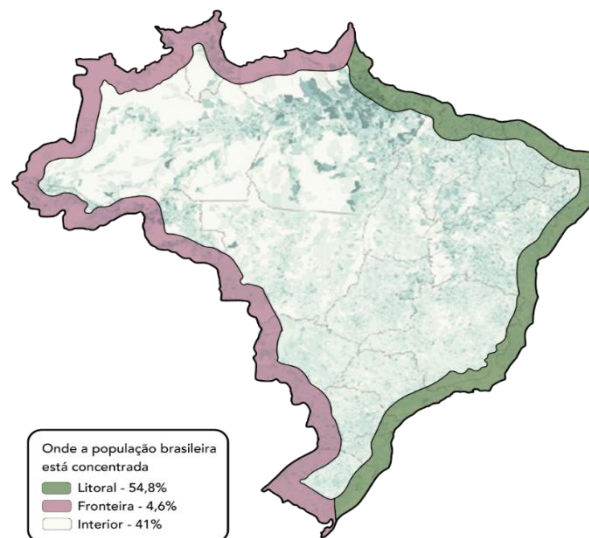
46. Observe:



Assinale a alternativa que identifica corretamente o domínio indicado pelo número **3**, bem como uma característica ambiental marcante dessa área.

- a) Domínio Amazônico – predomina a floresta equatorial densa, com elevada umidade, chuvas abundantes e grande regularidade hídrica ao longo do ano.
- b) Domínio do Cerrado – predominam formações savânicas, com árvores retorcidas e gramíneas, além de solos profundos e naturalmente muito férteis.
- c) Domínio das Araucárias – predominam florestas tropicais úmidas e contínuas, com temperaturas elevadas durante todo o ano e ausência de geadas.
- d) Domínio dos Mares de Morros – predominam planícies litorâneas extensas, com vegetação de campos abertos e baixa influência da umidade oceânica.
- e) Domínio da Caatinga – predomina o clima semiárido, com chuvas irregulares, rios intermitentes e vegetação xerófila adaptada a longos períodos de seca.

47. Considere o mapa a seguir



O cenário apresentado está relacionado, principalmente

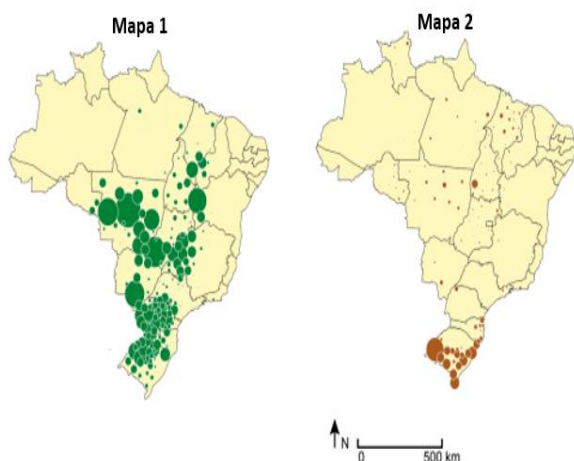
- a) à ocupação tardia do litoral, que se consolidou apenas com a expansão da agropecuária moderna no século XX.
- b) à industrialização recente do interior, que atraiu os principais fluxos migratórios desde o período colonial.
- c) à forte colonização no litoral - com núcleos urbanos em áreas portuárias -, e posterior industrialização no Sudeste.
- d) ao predomínio de atividades extrativistas no litoral, reduzindo a urbanização e criando uma dispersão populacional.
- e) à inexistência de redes de transporte e circulação no litoral, o que obrigou a população a concentração demográfica.

48. O acordo de livre comércio entre o Mercosul e a União Europeia foi negociado com o objetivo de ampliar o intercâmbio econômico entre os blocos, reduzindo barreiras comerciais e facilitando o fluxo de mercadorias e serviços. No entanto, sua implementação enfrenta desafios ligados a interesses produtivos e exigências ambientais.

Sobre esse acordo, é correto afirmar que

- a) elimina totalmente as tarifas de importação de forma imediata, sem exceções para setores sensíveis dos dois blocos.
- b) busca ampliar o comércio, mas gera tensões quanto à competitividade industrial e às exigências ambientais.
- c) tem como objetivo principal substituir a moeda do Mercosul pelo euro, unificando o sistema monetário.
- d) impede a exportação de produtos agrícolas do Mercosul para a União Europeia, priorizando bens industrializados.
- e) restringe o comércio internacional, pois fortalece políticas protecionistas e reduz a integração econômica.

49. Analise a espacialização de duas importantes produções em território brasileiro:



Considerando as áreas de maior concentração em cada mapa, é correto afirmar que o **mapa 1** e o **mapa 2** representam, respectivamente, a produção de

- a) café e cana-de-açúcar.
- b) arroz e soja.
- c) milho e algodão.
- d) soja e arroz.
- e) trigo e mandioca.

50. A partir do início da década de 1990, o Brasil intensificou medidas de abertura econômica, com redução de barreiras à entrada de produtos estrangeiros, maior integração ao comércio internacional e mudanças no papel do Estado na economia.

Esse conjunto de medidas esteve associado, principalmente,

- a) ao fortalecimento do modelo de substituição de importações.
- b) à ampliação do papel do Estado como principal agente produtivo.
- c) à adoção de políticas liberalizantes, com redução da intervenção estatal direta.
- d) ao fechamento da economia nacional, com restrição às importações
- e) à eliminação da participação de empresas transnacionais no país.

NOÇÕES DE INFORMÁTICA*Emannuelle Gouveia*

51. Em uma atividade de suporte técnico, o analista precisa organizar arquivos e verificar informações do sistema utilizando apenas o ambiente de linha de comando do Windows, seguindo procedimentos básicos previstos no próprio sistema operacional. Nessa situação, assinale a alternativa correta quanto ao uso desse ambiente.

- a) O comando del é utilizado para criar novos arquivos de texto diretamente na linha de comando.
- b) O comando dir permite listar o conteúdo de um diretório, exibindo arquivos e pastas presentes no local acessado.
- c) O comando rename pode mover arquivos entre pastas distintas sem necessidade de especificar caminhos.
- d) O comando copy remove arquivos de origem após realizar a cópia, funcionando como uma operação de recorte.
- e) O comando type altera o conteúdo de um arquivo, permitindo edição direta pela linha de comando.

52. No Windows, é possível ativar um menu a direita da tela que possibilita a escolha de várias formas para configurar a projeção de imagens. Qual letra corresponde a tecla de atalho padrão para essa opção:

- a) CTRL + G
- b) WIN + P.
- c) SHIFT + T
- d) WIN + A.
- e) CTRL + B.

53. No Word, temos o recurso de Quebra de Seção que é utilizado para a criação de áreas de edição independentes no texto. Das letras abaixo, marque aquela que contém tipos de quebra de seção válidos:

- a) Contínuo; Página Par.

- b) Página Impar; Página Dupla.
- c) Contínuo; Duplo.
- d) Próxima Página; Mesclado.
- e) Página Dupla; Próxima Seção.

54. No Word, um conjunto de formatações já está pré-definido ao entrarmos no ambiente e todos os documentos desenvolvidos receberão essa formatação, caso não haja alguma mudança feita pelo usuário. Esse conjunto de formatações é definido por:

- a) Estilo.
- b) Configurações
- c) Tema.
- d) Sumário.
- e) Notas.

55. No Microsoft Excel 2016, qual alternativa apresenta corretamente a função que retorna o menor valor entre os selecionados:

- a) =MÉDIA(A1:A10)
- b) =MAIOR(A1:A10;1)
- c) =SE(A1>10;"Sim";"Não")
- d) =MENOR(A1:A10;1)
- e) =CONT.SE(A1:A10;">10")

56. No Excel existe a funcionalidade que pode ser usada para filtrar dados em uma planilha. Para acessá-la, através do teclado, devemos utilizar qual combinação de teclas:

- a) CTRL + SHIFT + P
- b) CTRL + SHIFT + A
- c) CTRL + SHIFT + L
- d) CTRL + P
- e) SHIFT + L

57. A manutenção de consistência visual em apresentações longas depende do uso adequado dos recursos estruturais do PowerPoint.

Assinale a alternativa correta.

- a) Alterações feitas em um slide individual são automaticamente replicadas em todos os demais slides da apresentação.
- b) Modificações realizadas no Slide Mestre afetam os layouts associados e os slides que os utilizam.
- c) O uso de temas impede qualquer personalização posterior dos slides.
- d) A duplicação de slides é a única forma de garantir padronização visual ao longo da apresentação.
- e) Elementos inseridos no Slide Mestre só são visíveis no modo de edição, não aparecendo durante a apresentação.

58. A URL é formada por várias partes. A que indica o domínio vem logo após o (a):

- a) protocolo
- b) caminho
- c) query
- d) elemento
- e) email

59. Em um ambiente colaborativo corporativo baseado no Microsoft SharePoint, usuários trabalham simultaneamente com conteúdos armazenados em bibliotecas, acessando-os por páginas do site e controlando o compartilhamento conforme permissões definidas.

Assinale a alternativa correta.

- a) Bibliotecas funcionam apenas como páginas estáticas e não permitem organização hierárquica de conteúdos.
- b) Arquivos criados em uma biblioteca não podem ser versionados nem recuperados após alterações.

c) O compartilhamento de arquivos concede automaticamente permissão total a todos os usuários do site.

d) A navegação pelas páginas do site permite acessar bibliotecas e pastas, mantendo o controle de permissões definido para cada item.

e) Pastas substituem completamente as bibliotecas, tornando estas dispensáveis no ambiente.

60. Em um ambiente corporativo que utiliza o Microsoft Teams, diferentes recursos são empregados para comunicação síncrona e assíncrona, bem como para o desenvolvimento de atividades colaborativas entre integrantes de uma equipe.

Assinale a alternativa correta.

a) Conversas em chat são destinadas exclusivamente a comunicações informais, não sendo integradas a atividades de trabalho em grupo.

b) Chamadas de áudio e vídeo só podem ocorrer dentro de reuniões previamente agendadas.

c) Reuniões on-line permitem a participação de usuários internos e externos, bem como o compartilhamento de conteúdo e a colaboração em tempo real.

d) O trabalho colaborativo ocorre apenas em reuniões, não sendo possível em canais ou chats.

e) Chats em grupo e equipes possuem a mesma finalidade e não apresentam diferenças funcionais.

O QUE VOCÊ ACHOU DESTE SIMULADO?

*Conte-nos como foi sua experiência ao fazer este simulado.
Sua opinião é muito importante para nós!*

<https://forms.gle/3RC8pkHLNAnpSnxQ9>

NÃO É ASSINANTE?

Confira nossos planos, tenha acesso a milhares de cursos e participe gratuitamente dos projetos exclusivos. Clique no link!

<http://estrategi.ac/assinaturas>

CONHEÇA NOSSO SISTEMA DE QUESTÕES

Estratégia Questões nasceu maior do que todos os concorrentes, com mais questões cadastradas e mais soluções por professores. Clique no link e conheça!

<http://estrategi.ac/ok1zt0>
