



Simulado Final

PM SP

Soldado

Pós-Edital

Caderno de Prova

Nome: _____

INFORMAÇÕES SOBRE O SIMULADO

- 1 - Este simulado conta com questões focadas no concurso **PM-SP**, cargo de **Soldado**;
- 2 - A prova contém itens que abordam conhecimentos cobrados no edital do concurso;
- 3 - As questões são inéditas e foram elaboradas pelos nossos professores com base no perfil da banca organizadora;
- 4 - A participação no ranking classificatório só será permitida até o horário de liberação do gabarito;
- 5 - O link para preencher o formulário com seu gabarito está localizado logo após estas instruções;

PREENCHA SEU GABARITO

Clique no link, ou copie e cole no seu navegador, para preencher seu gabarito.

<https://forms.gle/aYiBRuQFBBNjFbnLA>

01 - (A B C D E)	13 - (A B C D E)	25 - (A B C D E)	37 - (A B C D E)	49 - (A B C D E)
02 - (A B C D E)	14 - (A B C D E)	26 - (A B C D E)	38 - (A B C D E)	50 - (A B C D E)
03 - (A B C D E)	15 - (A B C D E)	27 - (A B C D E)	39 - (A B C D E)	51 - (A B C D E)
04 - (A B C D E)	16 - (A B C D E)	28 - (A B C D E)	40 - (A B C D E)	52 - (A B C D E)
05 - (A B C D E)	17 - (A B C D E)	29 - (A B C D E)	41 - (A B C D E)	53 - (A B C D E)
06 - (A B C D E)	18 - (A B C D E)	30 - (A B C D E)	42 - (A B C D E)	54 - (A B C D E)
07 - (A B C D E)	19 - (A B C D E)	31 - (A B C D E)	43 - (A B C D E)	55 - (A B C D E)
08 - (A B C D E)	20 - (A B C D E)	32 - (A B C D E)	44 - (A B C D E)	56 - (A B C D E)
09 - (A B C D E)	21 - (A B C D E)	33 - (A B C D E)	45 - (A B C D E)	57 - (A B C D E)
10 - (A B C D E)	22 - (A B C D E)	34 - (A B C D E)	46 - (A B C D E)	58 - (A B C D E)
11 - (A B C D E)	23 - (A B C D E)	35 - (A B C D E)	47 - (A B C D E)	59 - (A B C D E)
12 - (A B C D E)	24 - (A B C D E)	36 - (A B C D E)	48 - (A B C D E)	60 - (A B C D E)

SIMULADO NO SISTEMA DE QUESTÕES

Clique no link, ou copie e cole no seu navegador, para fazer este simulado também no SQ!

<https://coruja.page.link/f8Yc>

**LÍNGUA PORTUGUESA E INTERPRETAÇÃO
DE TEXTO***Felipe Luccas***TEXTO 01****Pensando com populações**

No anoitecer do dia 16 de abril de 1984, mais de 1 milhão de pessoas procuravam encontrar, da melhor forma possível, uma maneira de chegar à enorme praça que cobre o vale central da cidade de São Paulo, para participar da maior manifestação popular de toda história brasileira. Em poucas horas daquele entardecer inesquecível, verdadeiros rios de gente — vestidos de verde-amarelo, o tradicional arco-íris brasileiro conhecido mundo afora — inundaram cada milímetro quadrado do tradicional vale do Anhangabaú, muito perto da então humilde colina onde essa megalópole fora um dia fundada. Cada novo grupo, logo ao chegar ao centro do comício, juntava-se ao já mais do que familiar coral que continuava a repetir, incessantemente, o seu poema de duas palavras. A cada instante, aquele grito que vinha do íntimo de cada um de nós se transformava, de repente, numa verdadeira erupção vocal, espalhando-se, como uma daquelas tempestades de verão paulistano, pelos céus entrecortados pelos últimos raios do sol, que parecia querer ficar, só mais um pouquinho, entre nós, para também participar daquele momento. Que inveja o sol deve ter sentido da lua, que logo a seguir passou a ser nossa celestial companheira e testemunha daquele mar de vozes a repetir, sem perder a rima, o ritmo ou o foco.

Diretas Já, Diretas Já, Diretas Já!

Se você, caro leitor, nunca teve a oportunidade de participar de um coral formado por 1 milhão de vozes, eu certamente recomendo a experiência. Nada pode nos preparar para o som penetrante que nasce dessa sinfonia de anseios e desejos; e nada desse lado da Via Láctea fará você esquecer essa música, esse quase pranto, pois ela, como ele, carrega o tipo de som que entalha memórias para toda uma vida. Para enquanto durar o sempre de uma vida mortal.

Como o fluxo crescente de pessoas me pressionava, eu não tive alternativa a não ser escalar uma banca de jornais e, do alto do seu teto de zinco, pela primeira vez naquela noite, deleitar-me com uma visão panorâmica de toda aquela multidão que decidira conquistar

plenamente o gigantesco vale, armada apenas com uma canção de dois verbetes. Para os praticamente dizimados índios Tupy-Guarani, a tribo nativa que ocupava aquela terra antes da chegada dos portugueses em 1500, o riacho que cortava aquele vale era conhecido como “o rio dos maus espíritos”. Não mais. Naquela noite emocionante, o único rio visível naquele vale era um poderoso Amazonas feito de gente. Nenhum espírito do mal ousaria aparecer no meio daquele verdadeiro oceano humano.

“O que vocês querem?” Parte da massa de gente provocava em gracejo espontâneo.

“Diretas!” O resto de nós respondia ao desafio.

“Quando?” Outro amontoado dava continuidade à graça.

“Já, Já, Já!” Toda a multidão respondia em uníssono.

No momento em que aquele coral de 1 milhão começou a cantar o Hino Nacional a plenos pulmões, nem mesmo os céus conseguiram segurar as lágrimas. Debaixo da tradicional garoa paulistana, eu comecei a compreender o que uma população de indivíduos pode realizar quando todos colaboram, em pura e sincronizada harmonia, na concretização de um objetivo coletivo. Apesar de a mensagem transmitida pela multidão ter sido sempre a mesma — “Diretas Já” —, a cada momento diferentes combinações de vozes foram responsáveis por representar o desejo de toda uma população. Esse fenômeno se deu simplesmente porque as mesmas pessoas não eram capazes de cantar o refrão a todo instante, ou porque algumas delas simplesmente perderam a voz, ou porque estavam emocionadas demais, ou porque se distraíam agitando suas bandeiras ou conversando com seus vizinhos. Ainda assim, o cântico podia ser ouvido claramente, até para quem estivesse a centenas de metros dali.

(Fonte: Miguel Nicolelis. **Muito além do nosso eu**: a nova neurociência que une cérebro e máquinas e como ela pode mudar nossas vidas. Companhia das Letras. São Paulo, 2011. Adaptado)

1. De acordo com as informações do texto, é correto afirmar que a manifestação de 16 de abril de 1984
- a) representou um momento de ressignificação simbólica do Vale do Anhangabaú, antes associado pelos indígenas a espíritos malignos.
 - b) perdeu parte significativa de seu público após o anoitecer, quando a garoa paulistana dispersou os manifestantes.
 - c) contou com a participação de cidadãos que, vestidos com as cores da bandeira nacional, demonstravam apoio às autoridades governamentais da época.
 - d) foi convocada pelas lideranças políticas que coordenaram a transição democrática após o fim do regime militar brasileiro.
 - e) limitou-se à capital paulista, não havendo registro de manifestações simultâneas em outras cidades brasileiras naquele período.
2. O termo destacado está empregado em linguagem denotativa na passagem:
- a) Que **inveja** o sol deve ter sentido da lua, que logo a seguir passou a ser nossa celestial companheira... (1º parágrafo)
 - b) ... e nada desse lado da **Via Láctea** fará você esquecer essa música, esse quase pranto... (3º parágrafo)
 - c) Naquela noite emocionante, o único rio visível naquele vale era um poderoso **Amazonas** feito de gente. (4º parágrafo)
 - d) ... passou a ser nossa celestial companheira e testemunha daquele **mar** de vozes a repetir, sem perder a rima... (1º parágrafo)
 - e) No momento em que aquele coral de 1 milhão começou a cantar o Hino Nacional a plenos pulmões, nem mesmo os céus conseguiram segurar as **lágrimas**. (9º parágrafo)
3. Na frase do quarto parágrafo – *Para os praticamente dizimados índios Tupy-Guarani, a tribo nativa que ocupava aquela terra antes da chegada dos portugueses em 1500, o riacho que cortava aquele vale era conhecido como “o rio dos maus espíritos”*. –, as aspas são empregadas para
- a) delimitar um trecho deslocado.
 - b) destacar a fala de uma pessoa.
 - c) introduzir uma citação.
 - d) reforçar o ponto de vista do autor.
 - e) isolar uma expressão irônica.
4. O trecho “Como o fluxo crescente de pessoas me pressionava, eu não tive alternativa a não ser escalar uma banca de jornais” (4º parágrafo) foi reescrito, preservando o sentido original, em:
- a) À medida que o fluxo crescente de pessoas me pressionava, eu não tive alternativa a não ser escalar uma banca de jornais.
 - b) O fluxo crescente de pessoas me pressionava, uma vez que eu não tive alternativa a não ser escalar uma banca de jornais.
 - c) Eu não tive alternativa a não ser escalar uma banca de jornais, porquanto o fluxo crescente de pessoas me pressionava.
 - d) O fluxo crescente de pessoas me pressionava de modo que eu não tive alternativa a não ser escalar uma banca de jornais.
 - e) Conquanto o fluxo crescente de pessoas me pressionasse, eu não tive alternativa a não ser escalar uma banca de jornais.

5. O emprego de vírgulas em – *Para os praticamente dizimados índios Tupy-Guarani, a tribo nativa que ocupava aquela terra antes da chegada dos portugueses em 1500, o riacho que cortava aquele vale era conhecido como “o rio dos maus espíritos”.* (4º parágrafo) – ocorre pelo mesmo motivo na passagem:

- a) Ainda assim, o cântico podia ser ouvido claramente, até para quem estivesse a centenas de metros dali. (9º parágrafo)
- b) Cada novo grupo, logo ao chegar ao centro do comício, juntava-se ao já mais do que familiar coral... (1º parágrafo)
- c) Se você, caro leitor, nunca teve a oportunidade de participar de um coral formado por 1 milhão de vozes... (3º parágrafo)
- d) ... eu não tive alternativa a não ser escalar uma banca de jornais e, do alto do seu teto de zinco, pela primeira vez naquela noite... (4º parágrafo)
- e) ... verdadeiros rios de gente — vestidos de verde-amarelo, o tradicional arco-íris brasileiro conhecido mundo afora — inundaram cada milímetro quadrado do tradicional vale do Anhangabaú. (1º parágrafo)

6. A relação em que o primeiro termo é um hiperônimo e o segundo um hipônimo está corretamente estabelecida entre os termos destacados em:

- a) Naquela noite emocionante, o único **rio** visível naquele vale era um poderoso **Amazonas** feito de gente. (4º parágrafo)
- b) No momento em que aquele **coral** de 1 milhão começou a cantar o **Hino Nacional** a plenos pulmões... (9º parágrafo)
- c) A cada instante, aquele **grito** que vinha do íntimo de cada um de nós se transformava, de repente, numa verdadeira **erupção vocal**... (1º parágrafo)
- d) ... as mesmas **pessoas** não eram capazes de cantar o refrão a todo instante, ou porque algumas **delas** simplesmente perderam a voz... (9º parágrafo)

e) ... o **riacho** que cortava aquele vale era conhecido como “o **rio** dos maus espíritos”. (4º parágrafo)

7. Assinale a alternativa em que o tempo verbal empregado no trecho destacado expressa incerteza.

- a) Ainda assim, o cântico **podia ser** ouvido claramente... (9º parágrafo)
- b) “Já, Já, Já!” Toda a multidão **respondia** em uníssono. (8º parágrafo)
- c) ... uma visão panorâmica de toda aquela multidão que **decidira** conquistar plenamente o gigantesco vale... (4º parágrafo)
- d) ... até para quem **estivesse** a centenas de metros dali. (9º parágrafo)
- e) ... muito perto da então humilde colina onde essa megalópole **fora** um dia fundada. (1º parágrafo)

8. Assinale a alternativa que atende à norma-padrão de ortografia e acentuação.

- a) O autor descreve o comício como uma experiência única, afim de enfatizar que a participação em movimentos coletivos pode gravar memórias indeléveis na consciência de cada indivíduo.
- b) Na história brasileira, a manifestação de 1984 representou um marco ao reafirmar que a população tinha voz para reivindicar seus direitos e transformar a realidade política do país.
- c) Mesmo com diferentes grupos entoando o canto “Diretas Já”, a mensagem mantinha-se unida, mostrando que a harmonia coletiva precinde de uniformidade, mas depende de um propósito comum.
- d) O Vale do Anhangabaú, antes conhecido pelos indígenas como o rio dos maus espíritos, foi palco de um evento cujo significado transcendeu as expectativas de todos os presentes.
- e) Mais de 1 milhão de pessoas se reuniram naquela noite histórica, demonstrando que a força coletiva advém da união de indivíduos que compartilham um objetivo comum.

9. Assinale a alternativa em que a flexão do substantivo composto no plural é feita da mesma forma que ocorre com o adjetivo “verde-amarelo”.

- a) abaixo-assinado
- b) guarda-roupa
- c) obra-prima
- d) beija-flor
- e) tique-taque

10. Considere as passagens:

- Cada novo grupo, **logo** ao chegar ao centro do comício, juntava-se ao já mais **do que** familiar coral que continuava a repetir, incessantemente, o seu poema de duas palavras. (1º parágrafo)
- **Ainda assim**, o cântico podia ser ouvido **claramente**, até para quem estivesse a centenas de metros dali. (9º parágrafo)

No contexto em que estão empregadas, as expressões destacadas veiculam, correta e respectivamente, sentidos de:

- a) tempo; comparação; oposição; modo
- b) conclusão; consequência; restrição; causa
- c) conclusão; conformidade; inclusão; explicação
- d) tempo; consequência; concessão; modo
- e) lugar; comparação; inclusão; causa

TEXTO 02

Violência política ameaça a democracia

A violência política deixou de ser exceção para tornar-se risco estrutural, mesmo em democracias maduras. O discurso racional perdeu espaço para a retórica inflamável. Se no passado a praça pública era o palco central da disputa, hoje o embate migrou para o território digital, onde redes sociais e aplicativos de mensagens converteram-se em arenas de linchamento simbólico. A lógica das redes – que premia o engajamento pelo choque e pela fúria – favorece a propagação de boatos, insultos e incitações, e resulta nos atos de violência física.

(...)

Essa violência transborda para a vida real; o eleitor sente-se autorizado a agredir o vizinho por sua opção partidária, o militante liberado para agredir fisicamente quem defende ideias contrárias, enquanto o político vê sua integridade ameaçada por hordas estimuladas por influenciadores irresponsáveis.

A democracia brasileira enfrenta um teste decisivo. Se aceitarmos a naturalização da violência política, corremos o risco de abrir caminho para regimes autoritários que se apresentam como “salvadores da ordem”, à base da repressão. A lição da história é clara: a violência política nunca fortaleceu a democracia; pelo contrário, sempre a corroeu.

A democracia se sustenta no conflito, mas um conflito mediado pela razão, pelo direito e pelo respeito. Quando o debate se transforma em guerra, todos perdem. Quando a política é violenta, a sociedade se torna refém do medo e de mais violência. O Brasil precisa, mais do que nunca, reafirmar sua vocação democrática: resolver divergências pelo voto, não pelo ódio.

(Fonte: Gaudêncio Torquato. **Jornal da USP**. Disponível em: jornal.usp.br. Adaptado)

11. O autor do texto defende que

- a) o conflito é incompatível com a manutenção da ordem democrática.
- b) as redes sociais contribuem para a checagem de fatos, desmentindo boatos.
- c) a violência simbólica nas redes é menos prejudicial que a violência física.
- d) a violência política é um fenômeno recente nas democracias contemporâneas.
- e) o risco de ascensão de regimes autoritários se acentua com a normalização da violência política.

12. A tipologia textual predominante no texto é a

- a) expositiva, pois tem como objetivo a explicação dos fatores que intensificam a violência política nas democracias modernas.
- b) narrativa, pois tem como objetivo fornecer um panorama cronológico da evolução da violência política no Brasil.
- c) argumentativa, pois tem como objetivo a análise crítica da violência política na atualidade, bem como os riscos à democracia.
- d) descritiva, pois tem como objetivo a apresentação das características dos tipos de violência política, como, por exemplo, a simbólica e a física.
- e) injuntiva, pois tem como objetivo fazer interlocução direta com o leitor para que saiba como se posicionar diante de episódios de violência política.

13. Considere as passagens:

- ... enquanto o político vê sua integridade ameaçada por **hordas** estimuladas por influenciadores irresponsáveis. (2º parágrafo)
- A lição da história é clara: a violência política nunca fortaleceu a democracia; pelo contrário, sempre a **corroeu**. (3º parágrafo)
- O Brasil precisa, mais do que nunca, reafirmar sua vocação democrática: resolver **divergências** pelo voto, não pelo ódio. (4º parágrafo)

No contexto em que estão empregados, os termos destacados significam, correta e respectivamente:

- a) bandos; degenerou; desavenças.
- b) redes; destruiu; conflitos.
- c) grupos; penalizou; disputas.
- d) organizações; reprimiu; lutas.
- e) plateias; violentou; brigas.

14. Considerando o contexto em que se encontram, a palavra destacada no trecho "... hoje o embate migrou para o território digital, **onde** redes sociais e aplicativos de mensagens converteram-se em arenas de linchamento simbólico" pertence à mesma classe de palavras que a destacada no trecho:

- a) "**Quando** a política é violenta, a sociedade se torna refém do medo e de mais violência." (4º parágrafo)
- b) "A lógica das redes – **que** premia o engajamento pelo choque e pela fúria – favorece a propagação de boatos..." (1º parágrafo)
- c) "A lição da história é clara: a violência política nunca fortaleceu a democracia; pelo contrário, **sempre** a corroeu." (3º parágrafo)
- d) "O discurso racional perdeu **espaço** para a retórica inflamável." (1º parágrafo)
- e) "... o militante liberado para agredir fisicamente quem defende ideias contrárias, **enquanto** o político vê sua integridade ameaçada..." (2º parágrafo)

15. Assinale a alternativa em que a flexão do termo destacado em negrito para o plural implica flexão do verbo sublinhado, de acordo com a norma-padrão.

- a) ... a **violência** política nunca fortaleceu a democracia; pelo contrário, sempre a corroeu. (3º parágrafo)
- b) A lógica das redes – que premia o **engajamento** pelo choque e pela fúria – favorece a propagação de boatos... (1º parágrafo)
- c) Essa violência transborda para a **vida** real; o eleitor sente-se autorizado a agredir o vizinho... (2º parágrafo)
- d) Se no **passado** a praça pública era o palco central da disputa, hoje o embate migrou para o território digital... (1º parágrafo)
- e) A violência política deixou de ser exceção para tornar-se **risco** estrutural... (1º parágrafo)

16. Considere a frase elaborada a partir do texto.

A violência política se refere ____ agressões de diversas naturezas – físicas, verbais, simbólicas, etc. –, que colocam em risco diretamente ____ integridade da democracia em meio ____ conflitos ideológicos e partidários.

Atendendo à norma-padrão de emprego do sinal indicativo de crase, as lacunas devem ser preenchidas, respectivamente, por:

- a) às; à; à
- b) às; a; a
- c) a; a; a
- d) à; à; à
- e) às; à; a

17. Na passagem do 3º parágrafo – *A lição da história é clara: a violência política nunca fortaleceu a democracia; pelo contrário, sempre a corroeu.* –, o termo destacado mantém relação coesiva com a expressão

- a) “a lição”.
- b) “história”.
- c) “democracia”.
- d) “violência política”.
- e) “repressão”.

18. A colocação pronominal está de acordo com a norma-padrão em:

- a) Se convertem, no território digital, as redes sociais em arenas de linchamento simbólico, onde a razão perde espaço para o discurso de ódio.
- b) Se não pode-se mudar a lógica das redes sociais que favorecem a disseminação do discurso radical, a violência política continuará a transbordar para a vida real.
- c) Em tempos de naturalização da violência política, é fundamental que reafirme-se a vocação democrática do Brasil.

d) Muito tem falado-se sobre o aumento de episódios de intolerância política em diferentes regiões, porém medidas efetivas ainda não foram implementadas pelas autoridades.

e) O eleitor sente-se autorizado a agredir o vizinho por opção partidária, fenômeno que representa uma perigosa regressão civilizatória.

19. A norma-padrão de regência verbal foi plenamente respeitada em:

- a) Aceitar a naturalização da violência implica em abrir caminho para regimes autoritários.
- b) A violência política pode acarretar à corrosão das instituições democráticas.
- c) As redes sociais visam na promoção de engajamento pelo choque e pela fúria.
- d) Muitos perfis na internet preferem propagar boatos do que promover o diálogo entre ideias.
- e) O debate racional cedeu espaço à retórica inflamável nas redes sociais.

20. A frase que está em conformidade com a norma-padrão de concordância verbal se encontra na alternativa:

- a) Devem haver urgentemente mecanismos eficazes de denunciar e punir atos de violência política em todas as esferas de governo.
- b) Intensifica-se, nas redes sociais, os ataques motivados por divergências políticas entre indivíduos de diferentes orientações ideológicas.
- c) Cabem aos cidadãos e às instituições democráticas reafirmar o compromisso com o debate mediado pela razão e pelo respeito.
- d) Aos princípios democráticos do respeito e da razão não se submete a retórica inflamável que domina as redes sociais atualmente.
- e) Cada vez mais transborda para a vida real o discurso inflamável e os ataques nas redes sociais, fomentando a violência política.

MATEMÁTICA*Eduardo Mocellin*

21. Uma fundação de amparo à pesquisa aprovou inicialmente 52 projetos científicos, destinando uma verba individual de R\$ 102.000,00 para cada um. No entanto, o edital previa uma etapa rigorosa de verificação documental. Caso algum projeto apresentasse irregularidades, ele seria desclassificado e a verba a ele destinada seria repartida igualmente entre os projetos aprovados restantes. Após a análise, constatou-se que 18 projetos apresentaram irregularidades e foram cortados. Diante desse cenário, o valor adicional que cada um dos projetos regulares recebeu foi, em reais, de:

- a) 48.000,00.
- b) 36.000,00.
- c) 66.000,00.
- d) 54.000,00.
- e) 72.000,00.

22. Um gerente de infraestrutura de TI adquiriu um rolo de 100 metros de um cabo de fibra óptica de alta performance por R\$ 20.000,00. Ao negociar a revenda desse material para empresas parceiras, ele vendeu 40 metros com um lucro de 50% sobre o custo, outros 40 metros com um lucro de 30% sobre o custo e os 20 metros restantes pelo preço de custo. O lucro total obtido com a venda de todo o rolo de fibra óptica foi, em reais, de:

- a) 10.400,00.
- b) 6.400,00.
- c) 4.400,00.
- d) 2.400,00.
- e) 2.000,00.

23. Em um batalhão de operações especiais, x policiais foram pré-selecionados para um curso intensivo de formação tática. Desses x candidatos, 32 foram dispensados logo no início por não atingirem o índice mínimo no teste de aptidão física. Dos restantes, $\frac{2}{5}$ foram alocados no módulo de inteligência policial, e os demais foram divididos em dois pelotões para realizarem o módulo de operações de campo. O primeiro pelotão de operações de campo, que corresponde a $\frac{3}{7}$ do total de policiais desse módulo, treinará patrulhamento ostensivo. O segundo pelotão treinará invasões táticas. Sabendo que são 24 os policiais que treinarão invasões táticas, pode-se calcular que o número x de policiais pré-selecionados é igual a

- a) 84.
- b) 85.
- c) 93.
- d) 102.
- e) 115.

24. Uma placa de sinalização retangular será instalada em uma rodovia. As especificações técnicas indicam que a medida do lado maior da placa é igual ao dobro da medida do lado menor, acrescido de 5 centímetros. Se o perímetro total dessa placa é de 130 centímetros, o comprimento do seu lado maior é:

- a) 15 cm.
- b) 35 cm.
- c) 45 cm.
- d) 30 cm.
- e) 80 cm.

25. Uma fábrica de eletrônicos utiliza dois tipos de robôs, o modelo Titã e o modelo Hércules, para a montagem de microchips. O planejamento de produção estabelece que a capacidade de trabalho de quatro robôs Titã equivale exatamente à capacidade de cinco robôs Hércules. Sabe-se que um grupo formado por 11 robôs Titã consegue montar um total de 4.400 microchips em um turno. Com base nesses dados de desempenho, a quantidade de microchips que seria montada, no mesmo turno, por uma equipe composta apenas por sete robôs Hércules é igual a

- a) 2.100.
- b) 2.240.
- c) 2.800.
- d) 2.520.
- e) 2.450.

26. Um trem de carga partiu da estação central às 17h31min de uma terça-feira e chegou ao seu destino final na quarta-feira, às 07h05min. A duração total dessa viagem foi de:

- a) 10h26min.
- b) 12h34min.
- c) 12h36min.
- d) 13h34min.
- e) 14h26min.

27. Em uma linha de produção automatizada, uma esteira transporta 100 caixas inicialmente lacradas e vazias, numeradas sequencialmente de 1 a 100. Durante o trajeto, três braços robóticos atuam sobre elas:

- O primeiro robô, denominado "Destravador", abre apenas as caixas cujo número é múltiplo de 2.
- O segundo robô, denominado "Auditor", fecha novamente apenas as caixas que estão abertas e cujo número é múltiplo de 3.
- O terceiro robô, denominado "Premiador", deposita um cupom promocional apenas dentro

das caixas que encontra abertas e cujo número é múltiplo de 5.

Ao final de todas as operações realizadas pelos robôs, a porcentagem de caixas que permaneceram vazias (ou seja, sem o cupom promocional) é de

- a) 93%.
- b) 94%.
- c) 95%.
- d) 96%.
- e) 97%.

28. Na manutenção de uma aeronave, um mecânico constatou que um pacote contendo 35 rebites de fixação de alta precisão possui uma massa total de 225 gramas. Considerando que todos os rebites são idênticos, a massa total de uma caixa contendo 224 desses mesmos rebites é

- a) 14,4 quilogramas.
- b) 1,8 quilogramas.
- c) 1,44 quilogramas.
- d) 1,88 quilogramas.
- e) 0,9 quilogramas.

29. Em um encontro familiar, cinco primos descobriram que as suas idades são representadas por números inteiros e que todas elas são distintas entre si. Ao calcularem a média aritmética dessas cinco idades, chegaram ao resultado de 16 anos. A idade máxima que o primo mais velho pode ter é

- a) 16.
- b) 20.
- c) 40.
- d) 50.
- e) 70.

30. Uma coordenação de logística adquiriu um lote de suprimentos composto por 30 caixas de embalagem do modelo Alfa e 40 caixas do modelo Beta, pagando um valor total de R\$ 1.800,00. Sabe-se que a razão entre o preço unitário da caixa Alfa e o preço unitário da caixa Beta é de 2 para 3, nessa ordem. Com base nesses dados, pode-se afirmar que, se essa coordenação tivesse optado por comprar todas as 70 caixas apenas do modelo Beta, a despesa teria sido superior ao valor original em

- a) R\$ 600,00.
- b) R\$ 500,00.
- c) R\$ 400,00.
- d) R\$ 300,00.
- e) R\$ 200,00.

31. Uma linha de montagem automatizada utiliza um braço robótico para soldar dois tipos de componentes: placas principais e microchips auxiliares. Operando em velocidade constante, o robô finaliza a soldagem de 1 placa principal e 10 microchips auxiliares em um tempo total de 4,2 minutos. Mantendo esse mesmo ritmo de trabalho, o robô consegue soldar 5 placas principais e 4 microchips auxiliares em 7,2 minutos. O tempo que esse robô leva para soldar um único microchip auxiliar é de

- a) 18 s.
- b) 24 s.
- c) 27 s.
- d) 21 s.
- e) 15 s.

32. Em um relatório de gestão de risco de um projeto industrial, três índices foram definidos para avaliar a performance de diferentes setores:

- Índice α : O quociente entre o tempo total de atraso em horas (8) e a quantidade de equipes alocadas (3).
- Índice β : O quociente entre o número de falhas documentadas (15) e o número de simulações realizadas (7).
- Índice γ : O quociente entre o volume de material excedente (14 m^3) e a capacidade de armazenamento secundário (22 m^3).

O produto dos três índices, $\alpha \cdot \beta \cdot \gamma$, é igual a:

- a) 3,072072072 ...
- b) 3,636363 ...
- c) 3,121212 ...
- d) 3,252525 ...
- e) 3,111 ...

33. Em um data center de alta performance, dois servidores dedicados, Servidor Alpha e Servidor Beta, realizam rotinas automáticas de backup de dados. O Servidor Alpha completa um ciclo inteiro de backup e reinicia imediatamente o próximo em exatos 25 minutos. O Servidor Beta realiza sua rotina de backup e reinicia o processo em exatos 35 minutos. Suponha que ambos os servidores realizem essas tarefas ininterruptamente, sem intervalos entre os ciclos. Sabendo-se que às 8 horas e 10 minutos ambos iniciaram um ciclo de backup simultaneamente, a primeira vez que esse fato ocorrerá novamente após as 17 horas desse mesmo dia será às

- a) 17 horas e 30 minutos.
- b) 19 horas e 50 minutos.
- c) 18 horas e 45 minutos.
- d) 19 horas e 15 minutos.
- e) 20 horas e 5 minutos.

34. Um galpão industrial possui uma área total de piso igual a 50 m^2 . Se uma base de concreto para uma máquina específica ocupa 2.000 cm^2 dessa área, então a porcentagem da área do piso que permanece livre para circulação ou outros usos é igual a

- a) 97,5%.
- b) 60%.
- c) 99,6%.
- d) 4%.
- e) 96%.

35. Um arquiteto projetou um painel decorativo de parede com o formato de um trapézio isósceles, no qual os lados não paralelos possuem o mesmo comprimento. As especificações do projeto indicam que a base maior do painel mede 12 m, a base menor mede 6 m e a altura (distância entre as bases) é de 4 m. A área ocupada por esse painel na parede e a medida do seu perímetro são, respectivamente, iguais a

- a) 32 m^2 e 24 m.
- b) 32 m^2 e 28 m.
- c) 36 m^2 e 24 m.
- d) 36 m^2 e 26 m.
- e) 36 m^2 e 28 m.

CONHECIMENTOS GERAIS - HISTÓRIA GERAL E DO BRASIL

Alessandra (Alê) Lopes

36. Fundada após um conflito político e militar envolvendo diversos países, esta organização internacional inovou as relações entre países na medida em que passou a considerar meios de resoluções de conflito entre nações. Ela continha previsões genéricas do que viriam a ser os direitos humanos, como o compromisso dos Estados nacionais assegurarem condições justas e dignas de trabalho para homens, mulheres e crianças. Além

disso, teve como finalidade promover a cooperação, a paz e a segurança internacional, condenando agressões externas contra a integridade territorial e a independência política dos seus membros.

Trata-se da:

- a) Organização das Nações Unidas (ONU) que, em função de sua existência, suprimiu a soberania dos países membros.
- b) Liga das Nações, a qual inovou ao apresentar limites à concepção de soberania estatal absoluta, ao tentar criar algum sistema de proteção aos civis ao mesmo tempo em que pretendia colaboração entre nações.
- c) Organização Internacional do Trabalho (OIT), responsável por responder às desigualdades do desenvolvimento do capitalismo em nível internacional.
- d) Liga das Nações, criada após a 2ª Guerra Mundial, apresentou um rol de Direitos Humanos estabelecidos na Declaração Universal de 1948.
- e) Organização das Nações Unidas (ONU), a qual estabeleceu o primeiro documento responsável por definir, em nível internacional, o escopo dos Direitos Humanos por meio da Declaração dos Direitos do Homem e do Cidadão.

37. Os Estados Unidos da América (EUA) se destacaram no contexto internacional após a Primeira Guerra Mundial. Contudo, com a crise de 1929, os EUA sofreram um grande impacto. Dentre as medidas adotadas para sanar a depressão econômica, podemos mencionar

- a) a guerra contra os mexicanos, a fim de aquecer a indústria armamentista.
- b) a implantação do New Deal, plano econômico do democrata Franklin Delano Roosevelt.
- c) a restrição de créditos para diminuir riscos de calotes no mercado consumidor.
- d) a implantação do neoliberalismo.
- e) o Plano Marshall.

38. Dentre as medidas abaixo enumeradas, quais delas foram medidas adotadas por Getúlio Vargas durante o período conhecido como Estado Novo (1936-1945):

- I - Extinção do Poder Legislativo;
 - II - Subordinação do Poder Judiciário ao Poder Executivo;
 - III - Indicação dos Governadores pelo Presidente.
- a) todas estão corretas.
b) apenas I está correta.
c) apenas I e II estão corretas.
d) apenas III estão corretas.
e) apenas II e III estão corretas.

39. No dia 15 de Março de 1985, o último general a governar o Brasil, João Figueiredo, recusou-se a entregar a faixa presidencial ao seu sucessor ou a descer solenemente a rampa do Planalto. De todo modo, com o fim do regime militar, teve início uma nova fase da História brasileira, chamada de Nova República.

SCHWARCZ. Lilia & STARLING, Heloísa M. Brasil: uma biografia. (adaptado de). São Paulo: Companhia das Letras. 2018, p. 467.

Identifique a alternativa que traz os dois elementos que marcam o contexto brasileiro da década de 1980:

- a) Proibição do direito de greve e redução da participação política.
- b) Concentração de renda e fortalecimento dos princípios democráticos.
- c) Ausência de política educacional e realização da reforma eleitoral.
- d) Desemprego e adoção do sistema parlamentarista.
- e) Censura aos meios de comunicação e consolidação da cidadania.

40. Em 28 de fevereiro de 1986, o Governo Sarney decretou feriado bancário e lançou o Plano Cruzado. Esse plano contou com as seguintes medidas:

- I. Congelamento dos preços das mercadorias, como alimentos e combustíveis;
- II. Congelamento dos salários, os quais passaram a ser reajustados automaticamente assim que a inflação chegasse a 20%. Essa medida ficou conhecida como “gatilho salarial”;
- III. O fim da correção monetária.
- IV. O fim da moeda Cruzeiro e a criação da nova moeda, o CRUZADO.

Assinale a alternativa que contém os itens que caracterizam o Plano Cruzado

- a) Apenas I e II.
- b) Apenas II, III, IV.
- c) Apenas I, II, IV.
- d) Apenas III, IV.
- e) I, II, III, IV.

CONHECIMENTOS GERAIS - GEOGRAFIA GERAL E DO BRASIL

Priscila Lima

41. Gases como dióxido de carbono, metano e óxidos de nitrogênio, emitidos principalmente pela queima de combustíveis fósseis e pelo desmatamento, acumulam-se na atmosfera e retêm parte da radiação infravermelha emitida pela superfície terrestre. Esse processo eleva a temperatura média do planeta, alterando regimes climáticos e intensificando eventos extremos.

O problema ambiental descrito é:

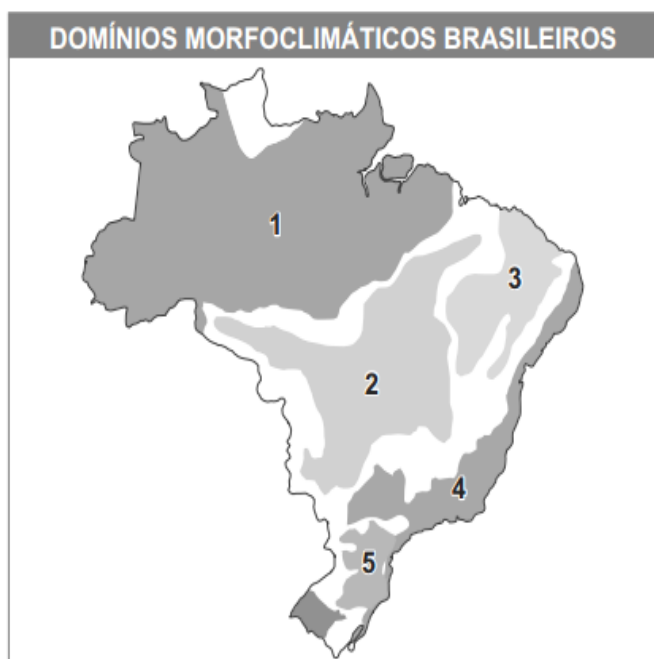
- a) ilhas de calor.
- b) inversão térmica.
- c) efeito estufa.
- d) redução da camada de ozônio.
- e) inundações urbanas.

42. Durante o governo de Donald Trump, os Estados Unidos anunciaram tarifas de importação sobre produtos como aço e alumínio, além de taxar mercadorias provenientes da China. Essas medidas visavam proteger a produção e o emprego internos, mas geraram tensões comerciais com diversos países e impacto nas cadeias produtivas globais, baseadas na livre circulação de mercadorias e capitais.

Esse episódio revela uma contradição típica da economia global contemporânea, expressa pela:

- a) expansão das políticas de livre-mercado e integração produtiva a partir de tarifas à China.
- b) substituição do comércio internacional pelo protecionismo dos países pobres na América Latina.
- c) ampliação do fluxo livre de bens e capitais, sem barreiras alfandegárias, sob a lógica neoliberal.
- d) diminuição da competitividade das empresas nacionais em economias fechadas.
- e) adoção de práticas protecionistas em um sistema baseado na interdependência econômica.

43.



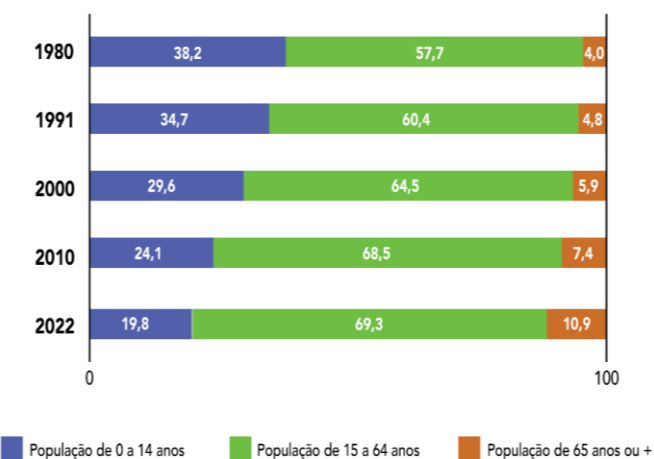
O mapa apresenta os principais domínios morfoclimáticos do Brasil. Relacione o domínio

indicado pelo número e a característica correspondente.

- a) 1 — clima equatorial úmido, rios intermitentes e floresta latifoliada.
- b) 2 — clima tropical sazonal, vegetação de savana e solos profundos e ácidos.
- c) 3 — clima tropical úmido, relevo de mares de morros e vegetação de Mata Atlântica.
- d) 4 — clima semiárido, rios intermitentes e vegetação xerófila.
- e) 5 — clima subtropical úmido, relevo de coxilhas e vegetação predominantemente rasteira.

44. O gráfico apresenta a evolução dos grupos etários da população brasileira entre 1980 e 2022.

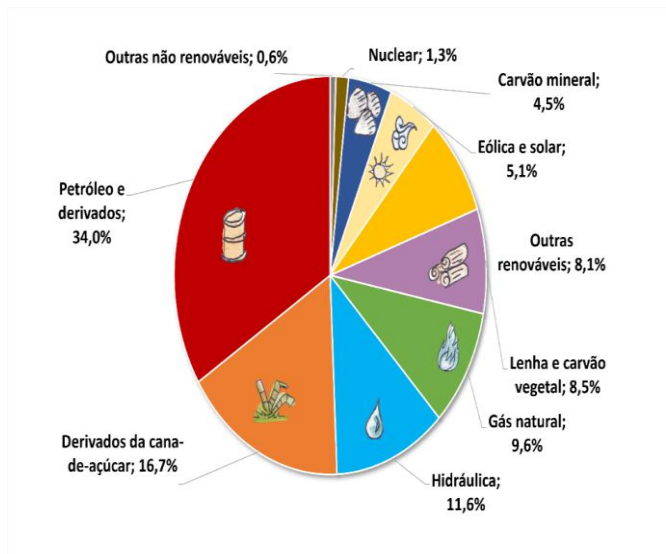
BRASIL: GRUPOS ETÁRIOS - 1980/2022



Com base nos dados, é correto afirmar que o Brasil vem passando por um processo de:

- a) aumento da natalidade e redução da expectativa de vida.
- b) redução da população economicamente ativa e expansão da base jovem.
- c) envelhecimento populacional e diminuição da proporção de jovens.
- d) rejuvenescimento populacional com ampliação da base infantil.
- e) estabilidade demográfica com equilíbrio entre todos os grupos etários.

45. Matriz energética brasileira - 2024



Fonte: <https://www.epe.gov.br/pt/abcdenergia/matriz-energetica-e-eletrica>

Com base nas informações do gráfico, assinale a alternativa que melhor expressa uma característica da matriz energética brasileira.

- a) Apesar da presença crescente de fontes renováveis, como a eólica e a solar, a matriz brasileira ainda depende majoritariamente de fontes não renováveis.
- b) A participação da energia nuclear e do carvão mineral é predominante no Brasil, resultado da forte industrialização e da escassez de recursos hídricos.
- c) A matriz energética nacional é essencialmente renovável, já que as fontes de origem fóssil representam frações inferiores a 10% do total consumido.
- d) A dependência do setor energético em relação à energia hidráulica é quase absoluta, revelando a baixa diversificação das fontes e a ausência de alternativas limpas.
- e) A forte presença da biomassa e dos derivados da cana-de-açúcar indica que o país abandonou quase completamente o uso de petróleo.

CONHECIMENTOS GERAIS - ATUALIDADES

Leandro Signori

46. De acordo com o Censo Demográfico de 2022, divulgado pelo Instituto Brasileiro de Geografia e Estatística (IBGE), os venezuelanos tornaram-se a maior comunidade estrangeira residente no Brasil. Esse crescimento é atribuído à crise humanitária na Venezuela, que levou milhares de cidadãos a buscar refúgio no Brasil nos últimos anos. A Operação Acolhida, iniciativa do governo brasileiro, facilitou a entrada e a interiorização desses imigrantes, especialmente através do estado de Roraima.

Assinale a alternativa que indica qual era, até então, a maior comunidade estrangeira residente no Brasil, os quais os venezuelanos acabaram de superar:

- a) japoneses.
- b) haitianos.
- c) argentinos.
- d) paraguaios.
- e) portugueses.

47. No dia 24 de setembro de 2025, a Organização Mundial da Saúde (OMS) afirmou que não há evidências científicas conclusivas que liguem o uso do medicamento durante a gravidez ao autismo. A declaração foi feita após o presidente dos Estados Unidos, Donald Trump, fazer esta relação.

O nome do medicamento mencionado pelo mandatário norte-americano é o (a):

- a) Paracetamol.
- b) Fomepizol.
- c) Risperidona.
- d) Rivotril.
- e) Aripiprazol.

48. Oscar 2026: 'O agente secreto' é o representante do Brasil em busca de vaga na premiação.

Academia Brasileira de Cinema anunciou que o longa dirigido por Kleber Mendonça Filho e estrelado por Wagner Moura tentará vaga como Melhor Filme Internacional.

G1, 15 de setembro de 2025. Acesso em: 11 out. 2025. Com adaptações. Disponível em <https://encurtador.com.br/SY6L9>.

O filme trata de um (uma):

- a) Mulher idosa que decide assumir o controle de sua existência mesmo diante das imposições da sociedade, desafiando normas rígidas que ameaçam sua autonomia.
- b) Professor universitário que volta para o Recife para reencontrar o filho caçula, apesar do risco que corre em plena ditadura militar.
- c) Drama real das meninas abusadas sexualmente na ilha de Marajó, no Pará.
- d) Mãe de cinco filhos, que precisa lidar com o desaparecimento de seu marido, um ex-deputado federal assassinado pela ditadura militar.
- e) Um jovem que, sem familiares próximos, assume os cuidados da avó com Alzheimer em estágio terminal, com o apoio de dois amigos.

49. Pelo testamento de Alfred Nobel, o Prêmio Nobel da Paz deve ser entregue à pessoa ou organização que tenha contribuído de forma significativa para a fraternidade entre as nações, a abolição ou redução de exércitos permanentes, e a promoção de congressos de paz.

G1, 10 de outubro de 2025. Acesso em: 05 nov. 2025. Com adaptações. Disponível em <https://encurtador.com.br/GXQtQ>.

No ano de 2025, o prêmio Nobel da Paz foi para o/a:

- a) Donald Trump, presidente norte-americano.
- b) Organização das Nações Unidas (ONU), que fez 80 anos em 2025, criada para promover a paz e a segurança internacional.

c) María Corina Machado, líder opositora venezuelana.

d) Comitê para a Proteção dos Jornalistas (CPJ), organização não governamental sediada em Nova Iorque, dedicada a defender a liberdade de imprensa e os direitos dos jornalistas ao redor do mundo.

e) Salas de Resposta de Emergência (ERRs) no Sudão, redes comunitárias, ligadas aos comitês de resistência, que prestam ajuda humanitária a civis desde o início da guerra civil no país.

50. A breve guerra entre Israel e Irã, ocorrida em junho de 2025, representou a mais grave escalada militar direta entre os dois países em décadas. O conflito foi desencadeado por uma ofensiva aérea israelense, que visou instalações nucleares e militares iranianas, incluindo os complexos de Natanz e Isfahan.

Em retaliação, o Irã disparou centenas de mísseis e drones contra alvos militares e civis em Israel, incluindo Tel Aviv e Haifa. O conflito resultou em mais de 600 mortos, sendo a maioria no Irã, e milhares de feridos.

A escalada levou os Estados Unidos a intervirem diretamente, bombardeando três instalações nucleares iranianas em 21 de junho. O cessar-fogo foi anunciado pelo presidente Donald Trump em 23 de junho e entrou em vigor no dia seguinte. Ambos os países declararam vitória: Israel por ter enfraquecido o programa nuclear iraniano e o Irã por ter resistido e imposto custos significativos ao adversário.

Apesar da trégua, a estabilidade regional permanece frágil, com tensões persistentes e incertezas sobre o futuro das negociações nucleares e das relações diplomáticas no Oriente Médio.

O termo cunhado pelo presidente norte-americano Donald Trump para essa guerra foi:

- a) Guerra da Anunciação da Vitória.
- b) Guerra do Golfo Pérsico.
- c) Guerra do Martelo da Meia-Noite.
- d) Guerra de 12 Dias.
- e) Guerra do Leão Ascendente.

NOÇÕES BÁSICAS DE INFORMÁTICA*Emannuelle Gouveia*

51. O Windows é um Sistema Operacional e, como tal, tem a função de gerenciar o hardware e o software em uma máquina. Nele temos uma funcionalidade que permite acompanhar o desempenho da memória, da CPU, ver os processos em execução, dentre outras atividades. Uma das formas de acessá-la é através da tecla de atalho:

- a) CTRL + ALT
- b) CTRL + ALT+ DEL
- c) CTRL + SHIFT + DEL
- d) CTRL + D
- e) ALTGR + P

52. Sobre o Teams, responda.

- a) A ferramenta de Tarefas possibilita visualizar todas as equipes das quais o usuário participa
- b) O chat é uma ferramenta desabilitada, só podendo ser utilizada quando a chamada de vídeo não estiver sendo usada.
- c) As videoconferências só são permitidas em classes com mais de 100 alunos.
- d) Durante a videoconferência é possível compartilhar telas abertas de outros aplicativos.
- e) O recurso de Equipes é utilizado para listar as tarefas pendentes do usuário.

53. Existe um recurso no Microsoft Office que permite dar uma aparência com qualidade de design a um documento e ainda criar ou personalizar um arquivo no PowerPoint e, em seguida, poder aplicar esse mesmo efeito a um documento do Word ou a uma planilha do Excel. Esse recurso é conhecido como:

- a) Estilo.
- b) Configurações
- c) Tema.
- d) Sumário.
- e) Notas.

54. No Microsoft Excel 2016, qual alternativa apresenta corretamente a função que retorna o menor valor entre os selecionados:

- a) =MÉDIA(A1:A10)
- b) =MAIOR(A1:A10;1)
- c) =SE(A1>10;"Sim";"Não")
- d) =MENOR(A1:A10;1)
- e) =CONT.SE(A1:A10;">10")

55. Em relação ao uso de navegadores modernos e correio eletrônico, assinale a alternativa incorreta:

- a) Navegadores como Chrome, Edge e Firefox suportam navegação com abas múltiplas.
- b) O modo anônimo em navegadores impede que o endereço IP do usuário seja rastreado.
- c) Anexos em e-mails podem conter arquivos executáveis e devem ser abertos com cautela.
- d) O uso de marcadores permite salvar endereços de páginas para acesso futuro.
- e) A barra de endereços dos navegadores permite digitar diretamente uma URL ou termo de busca.

**NOÇÕES DE ADMINISTRAÇÃO PÚBLICA -
CONSTITUIÇÃO DE SÃO PAULO***Adriane Fauth*

56. Gabriela, estrangeira que reside no Brasil temporariamente para realizar estudos acadêmicos, afirma estar sofrendo ameaça à sua liberdade de locomoção em razão de abuso de poder praticado por agentes públicos. Considerando a Constituição Federal, assinale a alternativa correta:

- a) Gabriela pode impetrar mandado de segurança contra o ato abusivo, independentemente de sua nacionalidade.
- b) A condição de estrangeira impede que ela seja beneficiada pelo habeas corpus, restando-lhe apenas o apoio diplomático de sua embaixada.
- c) Somente terá acesso ao habeas data se for nacional de país que mantenha acordo internacional específico com o Brasil.
- d) Gabriela somente poderá utilizar remédio constitucional se a coação à sua liberdade de locomoção se concretizar mediante violência física.
- e) Gabriela pode ser protegida por habeas corpus, ainda que estrangeira e mesmo que a ameaça de coação não tenha se consumado.

57. Segundo a Constituição da República, é possível contestar a validade de um mandato conquistado nas urnas. Essa ação deve ser apresentada:

- a) Perante a Justiça Eleitoral, no prazo de quinze dias contados da diplomação, acompanhada de provas de abuso do poder econômico, corrupção ou fraude.
- b) Perante a Justiça Federal, no prazo de quinze dias contados da data da eleição, com provas de abuso do poder econômico, corrupção ou fraude.
- c) Perante a Justiça Comum, no prazo de trinta dias após o pleito, com demonstração de abuso do poder econômico, corrupção ou fraude.
- d) Perante a Justiça Eleitoral, no prazo de trinta dias contados da votação, instruída com elementos que

indiquem abuso do poder econômico, corrupção ou fraude.

- e) Perante a Justiça Federal, no prazo de quinze dias a partir da diplomação, munida de provas de abuso do poder econômico, corrupção ou fraude.

58. De acordo com o que estabelece a Constituição Federal a respeito dos militares dos Estados (policiais militares e bombeiros militares), assinale a alternativa correta:

- a) É admissível habeas corpus contra punições disciplinares impostas a militares estaduais.
- b) As regras referentes a pensionistas de militares estaduais são definidas exclusivamente por legislação federal.
- c) As patentes dos oficiais das corporações estaduais são outorgadas diretamente pelos governadores.
- d) Para concorrer a cargo eletivo, o militar estadual com mais de dez anos de serviço deve desligar-se da atividade.
- e) O militar estadual pode filiar-se a partido político enquanto permanecer no serviço ativo.

59. À luz das normas constitucionais que tratam da Segurança Pública no Brasil, assinale a alternativa correta:

- a) A segurança pública constitui dever do Estado, sendo também direito e responsabilidade de todos.
- b) Cabe à polícia civil realizar a repressão aos crimes de contrabando e descaminho.
- c) Compete à Polícia Rodoviária Federal, órgão permanente e organizado em carreira, o policiamento ostensivo em rodovias e ferrovias estaduais.
- d) À polícia militar é atribuída a função de polícia judiciária.
- e) A guarda municipal deve ser instituída mediante lei complementar estadual.

**NOÇÕES DE ADMINISTRAÇÃO PÚBLICA - LAI
E DECRETO Nº 68.155/23 (SP)***Rodrigo Bet*

60. A transparência na gestão pública é um princípio essencial que fomenta a confiança da sociedade, assegurando o acesso às informações, promovendo a responsabilidade (accountability) e incentivando a participação cidadã na administração dos recursos públicos e no processo decisório governamental. Em consonância com a Lei nº 12.527/2011, também conhecida como Lei de Acesso à Informação (LAI), a qualidade da informação obtida diretamente na fonte, com o máximo de detalhamento possível e sem alterações, está vinculada ao conceito de:

- a) Disponibilidade.
- b) Integridade.
- c) Autenticidade.
- d) Primariedade.
- e) Atualidade.

Discursiva

TEXTO 1

A expansão do crime organizado no Brasil tem revelado um cenário complexo em que facções criminosas, milícias e redes ilícitas ampliam seu domínio territorial e econômico. Em diversas regiões metropolitanas, grupos armados impõem regras próprias, controlam serviços clandestinos, exploram populações vulneráveis e estabelecem redes de corrupção que atravessam instituições públicas. Esse fenômeno ocorre em paralelo à ausência estatal em áreas onde políticas de segurança, saúde, educação e infraestrutura chegam de forma tardia ou insuficiente. Nesse contexto, observa-se uma disputa desigual pela autoridade, em que o Estado enfrenta dificuldades para manter o monopólio legítimo da força e para garantir direitos fundamentais aos cidadãos residentes nesses territórios.

Fonte: Relatório do Fórum Brasileiro de Segurança Pública (2024)

TEXTO 2

Nos últimos anos, investigações federais e estaduais apontaram a crescente capacidade das organizações criminosas de articular operações sofisticadas, tanto no plano territorial quanto no digital. O avanço de atividades como tráfico de drogas, lavagem de dinheiro, extorsão e contrabando revela estruturas empresariais paralelas que movimentam bilhões de reais e comprometem a economia formal. Além disso, as facções têm se aproveitado da fragilidade do sistema prisional para expandir sua influência, recrutando novos integrantes e coordenando crimes de dentro das próprias unidades. Tal dinâmica evidencia que o enfrentamento ao crime organizado exige estratégias que combinem repressão qualificada e fortalecimento das políticas sociais.

Fonte: Ministério da Justiça e Segurança Pública – Relatório de Inteligência (2023)

TEXTO 3

A presença do crime organizado afeta diretamente a distribuição de oportunidades e aprofunda desigualdades sociais. Em comunidades marcadas por vulnerabilidade econômica, a ausência de serviços públicos eficazes cria um ambiente propício para que organizações criminosas ofereçam renda, proteção e resolução informal de conflitos. Embora ilegítimas, tais práticas acabam por substituir parcialmente funções estatais, contribuindo para a erosão da confiança nas instituições públicas e para o aumento da violência estrutural. Esse contexto reforça a necessidade de compreender o crime organizado não apenas como um problema de segurança, mas também como um fenômeno social que desafia a construção de justiça e cidadania.

Fonte: Instituto de Pesquisa Econômica Aplicada – IPEA (2024).

Com base no contexto apresentado nos textos motivadores acima, redija um texto dissertativo-argumentativo que responda ao seguinte questionamento: **“Como o avanço do crime organizado desafia a capacidade do Estado brasileiro de garantir segurança pública e justiça social?”**

Folha de Resposta

01	
02	
03	
04	
05	
06	
07	
08	
09	
10	
11	
12	
13	
14	
15	
16	
17	
18	
19	
20	
21	
22	
23	
24	
25	
26	
27	
28	
29	
30	

O QUE VOCÊ ACHOU DESTE SIMULADO?

Conte-nos como foi sua experiência ao fazer este simulado.

Sua opinião é muito importante para nós!

<https://forms.gle/3RC8pkHLNAnpSnxQ9>

NÃO É ASSINANTE?

Confira nossos planos, tenha acesso a milhares de cursos e participe gratuitamente dos projetos exclusivos. Clique no link!

<http://estrategi.ac/assinaturas>

CONHEÇA NOSSO SISTEMA DE QUESTÕES

Estratégia Questões nasceu maior do que todos os concorrentes, com mais questões cadastradas e mais soluções por professores. Clique no link e conheça!

<http://estrategi.ac/ok1zt0>