



Simulado Final

PMBA

Oficial

Pós-Edital

Simulado

Simulado PM-BA (Oficial)

Nome: _____

INFORMAÇÕES SOBRE O SIMULADO

- 1 - Este simulado conta com questões focadas no concurso para **Oficial do PM-BA**;
- 2 - A prova contém itens que abordam conhecimentos cobrados no edital do concurso;
- 3 - As questões são inéditas e foram elaboradas pelos nossos professores com base no perfil da banca organizadora;
- 4 - Os participantes têm das **8:00h às 13:30h** para responder às questões e preencher o Gabarito Eletrônico;
- 5 - O link para preencher o formulário com seu gabarito está localizado logo após estas instruções;

PREENCHA SEU GABARITO

Clique no link, ou copie e cole no seu navegador, para preencher seu gabarito.

<https://forms.gle/ovNHNwQo9YeDutHp7>

- | | | | | |
|----------------------|----------------------|----------------------|----------------------|----------------------|
| 01 - (A)(B)(C)(D)(E) | 17 - (A)(B)(C)(D)(E) | 33 - (A)(B)(C)(D)(E) | 49 - (A)(B)(C)(D)(E) | 65 - (A)(B)(C)(D)(E) |
| 02 - (A)(B)(C)(D)(E) | 18 - (A)(B)(C)(D)(E) | 34 - (A)(B)(C)(D)(E) | 50 - (A)(B)(C)(D)(E) | 66 - (A)(B)(C)(D)(E) |
| 03 - (A)(B)(C)(D)(E) | 19 - (A)(B)(C)(D)(E) | 35 - (A)(B)(C)(D)(E) | 51 - (A)(B)(C)(D)(E) | 67 - (A)(B)(C)(D)(E) |
| 04 - (A)(B)(C)(D)(E) | 20 - (A)(B)(C)(D)(E) | 36 - (A)(B)(C)(D)(E) | 52 - (A)(B)(C)(D)(E) | 68 - (A)(B)(C)(D)(E) |
| 05 - (A)(B)(C)(D)(E) | 21 - (A)(B)(C)(D)(E) | 37 - (A)(B)(C)(D)(E) | 53 - (A)(B)(C)(D)(E) | 69 - (A)(B)(C)(D)(E) |
| 06 - (A)(B)(C)(D)(E) | 22 - (A)(B)(C)(D)(E) | 38 - (A)(B)(C)(D)(E) | 54 - (A)(B)(C)(D)(E) | 70 - (A)(B)(C)(D)(E) |
| 07 - (A)(B)(C)(D)(E) | 23 - (A)(B)(C)(D)(E) | 39 - (A)(B)(C)(D)(E) | 55 - (A)(B)(C)(D)(E) | 71 - (A)(B)(C)(D)(E) |
| 08 - (A)(B)(C)(D)(E) | 24 - (A)(B)(C)(D)(E) | 40 - (A)(B)(C)(D)(E) | 56 - (A)(B)(C)(D)(E) | 72 - (A)(B)(C)(D)(E) |
| 09 - (A)(B)(C)(D)(E) | 25 - (A)(B)(C)(D)(E) | 41 - (A)(B)(C)(D)(E) | 57 - (A)(B)(C)(D)(E) | 73 - (A)(B)(C)(D)(E) |
| 10 - (A)(B)(C)(D)(E) | 26 - (A)(B)(C)(D)(E) | 42 - (A)(B)(C)(D)(E) | 58 - (A)(B)(C)(D)(E) | 74 - (A)(B)(C)(D)(E) |
| 11 - (A)(B)(C)(D)(E) | 27 - (A)(B)(C)(D)(E) | 43 - (A)(B)(C)(D)(E) | 59 - (A)(B)(C)(D)(E) | 75 - (A)(B)(C)(D)(E) |
| 12 - (A)(B)(C)(D)(E) | 28 - (A)(B)(C)(D)(E) | 44 - (A)(B)(C)(D)(E) | 60 - (A)(B)(C)(D)(E) | 76 - (A)(B)(C)(D)(E) |
| 13 - (A)(B)(C)(D)(E) | 29 - (A)(B)(C)(D)(E) | 45 - (A)(B)(C)(D)(E) | 61 - (A)(B)(C)(D)(E) | 77 - (A)(B)(C)(D)(E) |
| 14 - (A)(B)(C)(D)(E) | 30 - (A)(B)(C)(D)(E) | 46 - (A)(B)(C)(D)(E) | 62 - (A)(B)(C)(D)(E) | 78 - (A)(B)(C)(D)(E) |
| 15 - (A)(B)(C)(D)(E) | 31 - (A)(B)(C)(D)(E) | 47 - (A)(B)(C)(D)(E) | 63 - (A)(B)(C)(D)(E) | 79 - (A)(B)(C)(D)(E) |
| 16 - (A)(B)(C)(D)(E) | 32 - (A)(B)(C)(D)(E) | 48 - (A)(B)(C)(D)(E) | 64 - (A)(B)(C)(D)(E) | 80 - (A)(B)(C)(D)(E) |

LÍNGUA PORTUGUESA*Fabício Dutra***Texto 1****A importância dos livros físicos no processo de aprendizado escolar**

O governo de São Paulo optou por não aderir aos livros didáticos do PNLD, preferindo utilizar exclusivamente o conteúdo digital produzido pelo estado em formato impresso. A justificativa é que o material do PNLD é superficial e não atende às necessidades dos alunos.

No entanto, muitos especialistas sustentam que o livro didático em formato físico continua sendo uma ferramenta essencial para o aprendizado. Os livros físicos proporcionam uma experiência de leitura mais imersiva e envolvente, permitindo que os alunos interajam de forma mais ativa com o conteúdo. Além disso, esses livros podem ser consultados *offline*, o que é crucial para estudantes sem acesso à Internet ou que residem em áreas rurais.

Diversos argumentos reforçam a importância dos livros físicos para o aprendizado dos alunos. Em primeiro lugar, eles oferecem acesso rápido e intuitivo às informações. No contexto de um livro físico, os alunos conseguem localizar prontamente as informações necessárias, sem precisar navegar por menus ou por telas. Esse aspecto é especialmente valioso para estudantes em fase de alfabetização, que necessitam encontrar dados de maneira ágil e eficaz.

Além disso, os livros físicos possibilitam uma interação mais profunda com o conteúdo. A capacidade de fazer anotações, destacar pontos relevantes e, até mesmo, criar desenhos nas páginas contribui para um entendimento mais completo e para a memorização prolongada do material.

Os livros físicos também desempenham um papel fundamental no desenvolvimento das habilidades de leitura e de escrita. A leitura de livros físicos requer o uso simultâneo dessas habilidades, promovendo um aprimoramento mais eficaz em comparação à leitura digital.

Por último, a experiência de aprendizado com livros físicos cria um ambiente propício à concentração e ao

foco. A ausência de distrações digitais, como notificações, possibilita uma imersão mais profunda no conteúdo, o que resulta em uma aprendizagem mais efetiva.

A escolha do governo de São Paulo de não distribuir livros físicos do PNLD nas escolas pode ter consequências negativas para o aprendizado dos alunos. Especialistas apontam que a ausência desses materiais pode levar a um declínio no desempenho escolar, a uma redução do interesse pela leitura e a dificuldades no desenvolvimento das habilidades de leitura e de escrita.

Na Suécia, um exemplo notável de educação digital, o uso intensivo de telas nas salas de aula foi associado a um declínio no desempenho das crianças em leitura, conforme evidenciado pelo Pirls 2021. O governo sueco reconhece a importância da digitalização, mas ressalta os riscos cognitivos decorrentes do uso excessivo de dispositivos eletrônicos.

A Universidade de Harvard enfatiza os potenciais prejuízos da exposição prolongada às telas, incluindo problemas de comunicação, distúrbios do sono e atrasos no desenvolvimento cognitivo.

Estudos compilados pela Agência Nacional Sueca para a Educação destacam que a mera impressão de atividades em papel A4 não substitui a experiência proporcionada pelos livros físicos. Utilizar livros físicos auxilia os estudantes a desenvolver a habilidade de localizar informações ao explorar as páginas.

01. A partir da leitura do texto acima, julgue os itens a seguir:

() O texto destaca que os livros físicos são ferramentas fundamentais para a educação, especialmente para alunos que não possuem acesso contínuo à internet, como todos os residentes em áreas rurais.

() O tema central do texto são os prejuízos associados à exposição prolongada às telas no ambiente escolar.

() O texto ressalta que os livros físicos desempenham um papel insubstituível no aprimoramento das habilidades de leitura e escrita.

A sequência correta é:

a) V, F, V

b) F, V, V

c) F, F, V

d) V, V, V

e) F, V, F

02. Os livros físicos sussurram conhecimento aos alunos, guiando suas mãos e mentes pelo caminho da aprendizagem.

Na frase acima, ocorre:

a) Metonímia

b) Hipérbole

c) Catacrese

d) Antítese

e) Prosopopeia

03. De acordo com os preceitos gramaticais, julgue os itens a seguir:

() Na frase 'A justificativa é que o material do PNLD é superficial e não atende às necessidades dos alunos', o termo 'que' é um elemento expletivo.

() Na frase 'A justificativa é que o material do PNLD é superficial e não atende às necessidades dos alunos', o acento de crase poderia ser retirado sem prejuízo para a correção.

() Na frase 'A justificativa é que o material do PNLD é superficial e não atende às necessidades dos alunos', há período composto por subordinação e coordenação.

A sequência correta é:

a) V, F, V

b) F, V, V

c) F, F, V

d) V, V, V

e) F, V, F

04. Analise as afirmações contidas no trecho e, em seguida, assinale a alternativa correta.

a) No início do segundo parágrafo, o conectivo 'No entanto' poderia ser substituído por 'Mas', mantendo a correção gramatical.

b) No segundo parágrafo, no trecho 'o que é crucial para estudantes sem acesso à Internet ou que residem em áreas rurais', a expressão sublinhada poderia ser substituída correta por 'residente em áreas rurais'.

c) No segundo parágrafo, na expressão 'o que é crucial', o termo 'o' é um artigo definido masculino.

d) No segundo parágrafo, a expressão 'com o conteúdo' exerce a função de objeto indireto.

e) No segundo parágrafo, a expressão 'Além disso' tem valor de intensidade.

05. Analise as afirmações contidas no trecho e, em seguida, assinale a alternativa correta.

a) No terceiro parágrafo, a expressão 'em fase de alfabetização' funciona como adjunto adnominal.

b) No terceiro parágrafo, a expressão 'de maneira ágil e eficaz' poderia ser substituída por 'agilmente e eficazmente'.

c) No terceiro parágrafo, o pronome 'eles' retoma 'argumentos'.

d) No terceiro parágrafo, o termo 'às informações' funciona como objeto indireto.

e) No terceiro parágrafo, o termo 'dos livros físicos' funciona como complemento nominal.

06. Quanto aos aspectos de concordância, assinale a alternativa correta:

- a) No quarto parágrafo, o verbo 'contribui' está no singular porque concorda com: fazer anotações, destacar pontos relevantes e, até mesmo, criar desenhos.
- b) No oitavo parágrafo, a expressão verbal 'foi associado' concorda com 'um exemplo notável'.
- c) No quinto parágrafo, o verbo 'requer' poderia ser flexionado corretamente no plural: requerem.
- d) No último parágrafo, o verbo 'substitui' concorda com 'papel'.
- e) No último parágrafo, o verbo 'auxilia' está no singular porque tem sujeito oracional.

07. O governo de São Paulo optou por não aderir aos livros didáticos (1) do PNLD, preferindo utilizar exclusivamente o conteúdo digital (2) produzido pelo estado (3) em formato impresso.

Os termos (1), (2) e (3) são respectivamente:

- a) objeto indireto, sujeito e agente da passiva.
- b) objeto indireto, predicativo do sujeito, objeto indireto.
- c) complemento nominal, objeto direto, agente da passiva.
- d) objeto indireto, objeto direto, agente da passiva.
- e) objeto indireto, objeto direto, adjunto adverbial.

08. No trecho "permitindo que os alunos interajam de forma mais ativa com o conteúdo", um eventual uso de vírgula após o termo 'permitindo':

- a) é opcional, mas sua ausência tornaria a leitura mais fluida.
- b) é opcional, pois a oração em questão é adjetiva.
- c) deveria ter acontecido.
- d) é proibido, pois separa verbo de sujeito.
- e) é proibido, pois separa verbo de complemento.

09. Analise as afirmativas abaixo quanto aos aspectos gramaticais:

- () Na oração 'O governo sueco reconhece a importância da digitalização, mas ressalta os riscos cognitivos decorrentes do uso excessivo de dispositivos eletrônicos.', poderia ser inserido o acento de crase no 'a'.
- () Na oração 'O governo sueco reconhece a importância da digitalização, mas ressalta os riscos cognitivos decorrentes do uso excessivo de dispositivos eletrônicos.', o conectivo 'mas' tem valor de contraste.
- () Na oração 'O governo sueco reconhece a importância da digitalização, mas ressalta os riscos cognitivos decorrentes do uso excessivo de dispositivos eletrônicos.', a vírgula separa orações coordenadas assindéticas.

A sequência correta é:

- a) V, F, V
- b) F, V, V
- c) F, F, V
- d) V, V, V
- e) F, V, F

10. No trecho "ausência de distrações digitais, como notificações", o conectivo 'como' não poderia ser substituído por:

- a) por exemplo
- b) tais como
- c) a saber
- d) conforme
- e) especificamente

Texto 2

De acordo com a Organização Pan-Americana de Saúde, em todo o mundo há mais de 1 bilhão de pessoas afetadas por transtornos psicológicos. Entre os principais, estão a depressão, o transtorno afetivo bipolar, a demência e a esquizofrenia. A organização aponta, ainda, que cerca de oitocentas mil pessoas por ano cometem suicídio.

O médico psiquiatra e psicoterapeuta Guilherme Spadini, professor de psicologia médica na Faculdade de Medicina da USP, explica que o uso da palavra “transtorno” é indicado para doenças que não têm um mecanismo fisiopatológico claro, como é o caso dos transtornos mentais.

Todas as pessoas podem, em algum momento da vida, desenvolver um transtorno psicológico. As causas de transtornos mentais não são completamente conhecidas: existem predisposições genéticas, mas deve-se considerar também a importância do fator psicossocial, como a interação com o meio, com a cultura e com as experiências do dia a dia. A exposição a diversos tipos de violência e a traumas, assim como a má qualidade de vida, sem momentos de lazer e com estresse contínuo, pode servir de propulsor para um quadro de distúrbio psíquico.

O preconceito em relação a pessoas que sofrem de transtornos mentais é conhecido como “psicofobia”, termo utilizado pela Associação Brasileira de Psiquiatria em campanhas de conscientização da população a respeito do estigma em relação à doença mental. Spadini destaca que foi criada, em torno dos pacientes psiquiátricos, uma “aura de imprevisibilidade, como se a pessoa fosse fraca e, por isso, capaz de ações imprevisíveis”. Segundo o médico, o principal motivo para o estigma é a falta de conhecimento: “Não saber traz esse estranhamento e as pessoas tendem a evitar o que não conhecem”. Assim, o principal antídoto contra a psicofobia é popularizar informações sobre os transtornos mentais.

Por vezes, o estigma tem origem na família. Pais costumam ter dificuldade de aceitar que um filho ou filha seja paciente psicológico. Spadini trabalha com jovens estudantes universitários e conta que é recorrente que eles queiram esconder o tratamento dos pais: “É uma má notícia para os pais, como se houvesse algo errado. É difícil lidar com o fato de que seu filho possa estar em sofrimento. Vivemos em uma época em que precisamos

estar felizes o tempo todo e demonstrar essa felicidade. Não é fácil aceitar que a vida traz sofrimento e, para os pais, muitas vezes isso se traduz como culpa.” Amedrontadas pelo estigma, pessoas com transtornos mentais deixam de procurar a ajuda de que precisam.

O acompanhamento psicológico por meio da psicoterapia já é amplamente aceito e pode ser realizado sem diagnóstico de transtorno, apenas para melhorar a qualidade de vida do indivíduo. Entretanto, o tratamento psiquiátrico com medicamentos ainda é visto com preconceito. “Todos os médicos são consultados, sendo o psiquiatra o último”, diz o professor. O uso de medicamento é visto como um exagero, como indicativo de fraqueza do paciente ou necessidade de alienação da realidade. Segundo o psiquiatra, um tratamento com medicamentos não tem a função de cura ou de corrigir algo errado. O seu efeito é benéfico, diminui o sofrimento e aumenta a possibilidade de recuperação.

A combinação entre psicoterapia e medicação é o tratamento mais indicado para distúrbios psíquicos. Também é essencial desenvolver um estilo de vida saudável, com a prática regular de exercícios físicos, uma boa alimentação, sono reparador e relacionamentos satisfatórios.

11. A partir da leitura do texto acima, julgue os itens a seguir:

() O texto enfatiza que o preconceito em relação aos transtornos mentais, conhecido como "psicofobia", tem origem na falta de conhecimento.

() Além de predisposições genéticas, o texto aponta que fatores exclusivamente biológicos, como a ausência de interação com o meio, traumas, estresse contínuo e má qualidade de vida, são os únicos responsáveis pelo desenvolvimento de distúrbios psicológicos.

() O texto destaca as dificuldades das famílias em aceitar que seus membros enfrentem transtornos mentais.

A sequência correta é:

- a) V, F, V
- b) F, V, V
- c) F, F, V
- d) V, V, V
- e) F, V, F

12. De acordo com os preceitos gramaticais, julgue os itens a seguir:

() Na frase 'De acordo com a Organização Pan-Americana de Saúde, em todo o mundo há mais de 1 bilhão de pessoas afetadas por transtornos psicológicos', a expressão 'De acordo com' pode ser substituída por 'Consoante'.

() Na frase 'De acordo com a Organização Pan-Americana de Saúde, em todo o mundo há mais de 1 bilhão de pessoas afetadas por transtornos psicológicos', o verbo 'há' poderia ser corretamente substituído por 'existe'.

() Na frase 'De acordo com a Organização Pan-Americana de Saúde, em todo o mundo há mais de 1 bilhão de pessoas afetadas por transtornos psicológicos', a vírgula isola expressão explicativa.

A sequência correta é:

- a) V, F, V

b) F, V, V

c) F, F, V

d) V, V, V

e) V, V, F

13. O médico psiquiatra e psicoterapeuta (1) Guilherme Spadini (2), professor de psicologia médica (3) na Faculdade de Medicina da USP, explica:

Os termos destacados

(1) psiquiatra e psicoterapeuta,

(2) Guilherme Spadini e

(3) professor de psicologia médica

são respectivamente:

a) Núcleo do sujeito, aposto enumerativo, aposto explicativo.

b) Núcleo do sujeito, aposto especificativo, aposto explicativo.

c) Adjunto adnominal, aposto explicativo, aposto especificativo.

d) Aposto especificativo, aposto restritivo e adjunto adnominal.

e) Núcleo do sujeito, aposto explicativo e aposto restritivo.

14. De acordo com os preceitos gramaticais, julgue os itens a seguir:

- () Em “O preconceito em relação a pessoas que sofrem de transtornos mentais”, se fosse inserido o acento de crase no “a”, a correção seria prejudicada.
- () Em “O preconceito em relação a pessoas que sofrem de transtornos mentais”, o termo “que” exerce a função de sujeito.
- () Em “Spadini destaca que foi criada, em torno dos pacientes psiquiátricos, uma “aura de imprevisibilidade””, a expressão destacada exerce a função de complemento.

A sequência correta é:

- a) V, F, V
b) F, V, V
c) F, F, V
d) V, V, F
e) V, V, V

15. Assinale a alternativa que não contém um sinônimo do vocábulo “distúrbios”, empregado no contexto do último parágrafo:

- a) Transtornos
b) Alterações
c) Impedimentos
d) Disfunções
e) Desordens

16. De acordo com os preceitos gramaticais, julgue os itens a seguir:

- () No período ‘Pais costumam ter dificuldade de aceitar que um filho ou filha seja paciente psicológico.’, a preposição ‘de’ poderia ser substituída por ‘em’.
- () No período ‘Pais costumam ter dificuldade de aceitar que um filho ou filha seja paciente psicológico.’, o termo ‘que’ introduz uma oração que exerce a função de objeto direto.

() No período ‘É difícil lidar com o fato de que seu filho possa estar em sofrimento’, há três orações.

A sequência correta é:

- a) V, V, V
b) F, V, V
c) F, F, V
d) V, V, F
e) V, F, V

17. Também é essencial desenvolver um estilo de vida saudável, com a prática regular de exercícios físicos, uma boa alimentação, sono reparador e relacionamentos satisfatórios.

Sobre o uso de pontuação com base no fragmento acima, assinale a alternativa incorreta:

- a) O uso de uma vírgula após ‘essencial’ tornaria a frase incorreta.
- b) Todas as vírgulas foram utilizadas pelo mesmo motivo.
- c) A última vírgula separa itens de uma enumeração.
- d) Não há necessidade de empregar uma vírgula após ‘reparador’.
- e) A vírgula após ‘saudável’ poderia ser retirada.

ARROZ E FEIJÃO DEVEM SER OS VILÕES DA INFLAÇÃO EM 2024...



18. Sobre a charge acima, é correto afirmar que:

- a) A charge afirma que a inflação de 2024 não afetará o arroz e o feijão.
- b) O menino da charge entende corretamente a instrução do adulto.
- c) A charge utiliza o humor para criticar o impacto da inflação nos produtos básicos.
- d) O menino está confuso porque o adulto pede para ele comprar grãos além de arroz e feijão
- e) O adulto tem uma postura avarenta.

19. No contexto da charge, assinale a alternativa correta:

- a) O termo 'vilões' é um adjetivo que qualifica os substantivos 'arroz' e 'feijão'.
- b) A expressão 'no mercado' pertence a um contexto de registro coloquial que vai de encontro ao que prega a norma padrão.
- c) A expressão 'devem ser' indica uma obrigação.
- d) Os verbos 'vai' e 'compra' têm sujeito indeterminado.
- e) Os vocábulos 'grãos' e 'três' são acentuados pelo mesmo motivo.

20. Quanto à colocação pronominal, assinale a alternativa incorreta:

- a) Os alunos se dedicam muito aos estudos porque acreditam no futuro.
- b) O professor explicou tudo, mas ninguém se lembrou da regra específica.
- c) Os pais sempre incentivam-nos a buscar nossos sonhos, mesmo nas dificuldades.
- d) Durante a aula, os estudantes me perguntaram sobre o uso da próclise.
- e) As críticas que lhe fizeram não abalaram sua confiança.

LÍNGUA INGLESA*Adolfo Sá***What Is Behind Rising Violence in Bahia, Brazil?**

Rival criminal factions are targeting civilians as they battle for territorial control across Brazil's northeastern state of Bahia, with a heavy-handed government response further exacerbating the violence.

With nearly 1,700 reported deaths at the hands of organized crime and police, Bahia has suffered some of the deadliest organized violence of any of Brazil's 26 states so far this year, according to new data collected by the Armed Conflict Location & Event Data Project (ACLED) and shared exclusively with InSight Crime.

The violence has become so frequent in parts of Salvador, the state capital, that residents have been forced to put daily life on hold.

Reported Fatalities Involving Gangs and Authorities in Brazil

"Some areas of the city were paralyzed, including schools, health centers and buses – public transport not running in certain areas at certain times as a result of these conflicts," Gabriela Ashanti, project manager at the Odara Institute, a Bahia-based anti-discrimination and anti-violence organization, told InSight Crime.

To find out what is behind the outbreak of violence in Bahia, InSight Crime and ACLED analyzed the exclusive new dataset, which illustrates the role of organized crime dynamics and the government's response to the killings.

Fighting Fire With Fire

There are two primary factors driving violence in Bahia: criminal factions fighting to control local drug markets and the militarized state response.

Bahia suffers from extreme poverty concentrated in peripheral neighborhoods of urban centers and rural areas of the interior, creating vulnerable populations that can be exploited for recruitment. But it also features centers of wealth – especially Salvador, where there is strong demand for drugs.

The most active criminal groups in Bahia are the Rio de Janeiro-based Red Command ([Comando Vermelho – CV](#)) and the local Bonde do Maluco (BDM), which has allied with Brazil's most powerful crime group, the First Capital Command ([Primeiro Comando da Capital – PCC](#)).

The rivalry between the two groups has driven much of the violence seen this year. Gangs and militias have

been involved in 86% of all recorded violence so far in 2023, according to the data compiled by ACLED. The two groups clashed at least 40 times throughout the year, but the ACLED data found the CV was the most active, participating in an average of 16 violent incidents per month, which resulted in at least 194 total reported deaths.

At the same time, nearly half of the organized crime-related violence involved confrontations between gangs and police forces. As in other parts of Brazil, the government has responded to criminal violence with brutal tactics of its own, particularly involving the military police.

<https://insightcrime.org/news/what-is-behind-rising-violence-bahia-brazil/>

21. According to the text, what is one of the main reasons for rising violence in Bahia?

- a) An increase in international drug trafficking.
- b) The conflict between criminal factions..
- c) Lack of police presence in urban areas.
- d) A recent economic boom in Salvador.
- e) Collaboration between local gangs and foreign groups.

22. What has been one of the impacts of violence in Salvador, according to the text?

- a) Increased public transportation in violent areas.
- b) Closure of local businesses in affluent neighborhoods.
- c) Paralyzation of daily life in certain areas.
- d) Relocation of criminal groups to rural areas.
- e) Enhanced government funding for schools.

23. What is one factor that makes Bahia vulnerable to criminal recruitment?

- a) A growing tech industry.
- b) Extreme poverty in certain areas.
- c) Increasing investments in rural areas.
- d) Lack of interest in urban development.
- e) Collaboration between politicians and gangs.

24. In the sentence ““Some areas of the city were paralyzed, including schools, health centers and buses – public transport not **running** in certain areas at certain times as a result of these conflicts,””, the verb RUNNING could be replaced, without changing its meaning, by:

- a) operating
- b) stopping
- c) avoiding
- d) managing
- e) canceling

25. In the sentence “To **find out** what is behind the outbreak of violence in Bahia, InSight Crime and ACLED analyzed the exclusive new dataset, which illustrates the role of organized crime dynamics and the government’s response to the killings.”, the Phrasal Verb FIND OUT means:

- a) Discover
- b) Ignore
- c) Hide
- d) Analyze
- e) Eliminate

INFORMÁTICA

Emannuelle Gouveia

26. Uma das classificações dos monitores é baseada na qualidade da imagem exibida na tela. Essa imagem é formada por pequenos pontos chamados pixels e quanto melhor a qualidade, mais imperceptível os pixels ficarão. Essa grandeza que indica a qualidade da imagem exibida na tela é a:

- a) dot pitch
- b) VLB
- c) Resolução
- d) LCD
- e) TCP

27. O utilitário do Windows que pode ser acessado diretamente através do menu suspenso aberto ao clicar com o botão direito do mouse sobre o menu Iniciar e que pode ser usado para operações avançadas de armazenamento é o:

- a) Conexões de Rede.
- b) Power Shell.
- c) Gerenciador de Tarefas.
- d) Limpeza e Disco.
- e) Gerenciamento de Disco.

28. No CALC, podemos utilizar que combinação de teclas para formatar porcentagem:

- a) CTRL + SHIFT + 1.
- b) CTRL + SHIFT + 4.
- c) CTRL + ALT + 5.
- d) CTRL + SHIFT + 5.
- e) CTRL + ALT + 1.

29. No Writer, para utilizar a formatação Negrito, em um trecho de texto previamente selecionado, devemos utilizar que combinação de teclas, das citadas abaixo:

- a) CTRL + G.
- b) Ctrl + H.
- c) CTRL + J
- d) ALT + D
- e) CRL + B.

30. Caracteriza-se pelo envio de mensagens em massa de forma não autorizada. Essa é a definição do ataque conhecido como:

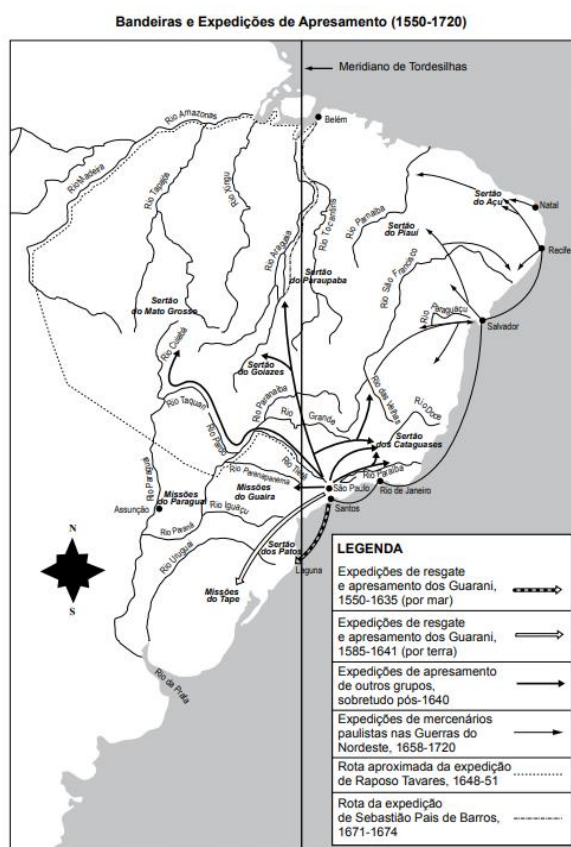
- a) spam
- b) pharming
- c) worm
- d) vírus
- e) trojan

HISTÓRIA GERAL E DO BRASIL

Ale Lopes

31. A expansão da economia mercantil global a partir da Europa, entre os séculos XVI e XVIII, e a busca por metais preciosos provocaram mudanças sociais nas civilizações americanas porque
- a) os povos originários foram inseridos na economia de mercado na condição de consumidores e se depararam com uma realidade até então não vivenciada.
 - b) eliminaram o modo de vida indígena na medida em que ele foi substituído pelo padrão ocidental da relação homem natureza.
 - c) o processo de exploração do trabalho dos povos colonizados na américa espanhola foi ressignificado a partir de elementos da própria cultura.
 - d) inseriu a cultura escravagista sustentada pela igreja católica e pelas monarquias da Península Ibérica durante todo o período colonial.
 - e) a partir da interação com brancos europeus, a miscigenação racial diluiu as diferenças e os choques civilizacionais a ponto de estabilizar uma sociedade de *crioulos*.

32.



MONTEIRO, John Manuel. *Negros da Terra: índios e bandeirantes nas origens de São Paulo*. São Paulo: Companhia das Letras, 1994, p. 13. (Adaptado).

A análise do mapa permite concluir que:

- a) os deslocamentos dos bandeirantes eram motivados pela necessidade de repressão de movimentos nativistas.
- b) a ação do bandeirantismo corroborou para redefinir o projeto de expansão territorial do Coroa portuguesa em função das viabilidades econômicas.
- c) o significativo deslocamento dos bandeirantes no território brasileiro demonstra que eles atuavam para repelir invasões estrangeiras.
- d) o limite geopolítico expressou uma permanente barreira à exploração econômica da colônia portuguesa, tendo sido superado a partir da formação do Reino Unido de Portugal e Algarves.
- e) a presença dos bandeirantes no Nordeste se deu, basicamente, para aprisionarem indígenas que escapavam dos engenhos.

33. A tensão política no Império do Brasil foi caracterizada por:

- a) um conflito em torno da definição jurídica do Estado, sintetizado no embate entre forças favoráveis a maior autonomia das províncias e outras que defendiam a centralização do poder.
- b) uma luta estimulada por princípios de igualdade e liberdade para que os direitos políticos pudessem valer plenamente.
- c) guerras contra outras nações motivadas por invasões estrangeiras ao longo do litoral brasileiro.
- d) debates institucionais limitados a assembleias constituintes que conseguiram conter o clamor das ruas dos centros urbanos.
- e) um equilíbrio entre os poderes executivo, legislativo e judiciário, sendo o primeiro representado pela monarquia constitucional.

34. A Balaiada foi uma revolta ocorrida no Norte brasileiro entre 1838 e 1841, no contexto do Período Regencial. Acerca desse movimento é correto afirmar que:

- a) ratificou a problemática central do Império em torno da persistência das disputas entre jesuítas e governantes sobre a exploração do trabalho escravo.
- b) foi liderada por negros mulçumanos que falavam árabe.
- c) contou com um processo conspiratório da elite do Partido Conservador que, motivada pelo processo restauracionista europeu, incitou a massa popular a defender a centralização do poder político.
- d) apesar do caráter violento na contensão da revolta, o Império foi obrigado a reconhecer reivindicações como o fim dos privilégios para os comerciantes portugueses.
- e) por mais que a elite dos cabanos e dos bem-te-vis estivessem em atrito por questões da política nacional expressas em disputas regionais, o estopim do movimento foi a condição de pobreza da população.

35. Nos seus discursos, Hitler afirmou, por vezes, que a Alemanha precisava de espaço vital, com urgência e a qualquer custo. Com esse propósito, em 1935, Hitler reintroduziu o serviço militar obrigatório, estreitou negócios com os grandes fabricantes de armas e de gasolina de seu país e começou a rearmar a Alemanha.

Alfredo Boulos Jr. História, Sociedade e Cidadania, 2015.

Frente a essa política expansionista, a reação dos países da Liga das Nações

- a) Foi de apaziguamento, que consistia em ceder territórios ocupados pela Alemanha em troca de um compromisso alemão de colocar fim nessa política.
- b) Foi estabelecer um grupo que ficou conhecido como Aliados a fim de impedir militarmente as ações de Hitler.
- c) Estabeleceram um pacto de não-agressão com a União Soviética para que pudessem vencer os alemães e seus aliados
- d) Foi uma inércia porque não tomaram atitudes de qualquer natureza para impedir o expansionismo alemão.
- e) Foi estabelecer um acordo militar para combater a Alemanha e seus aliados, conhecido como Eixo.

36. Em 05 de junho de 1922, cerca de 300 militares pegaram em armas, em quartéis do Rio de Janeiro e do Mato Grosso. Mas diante da repressão do governo, a maioria dos rebeldes se rendeu; 17 deles, porém, decidiram resistir e saíram por uma avenida do bairro de Copacabana dispostos a tudo. No caminho, receberam adesão de um civil. Era a Revolta do Forte de Copacabana. Baleados por tropas do governo, apenas dois escaparam com vida.

Sobre a revolta descrita, é correto afirmar

- a) Tornou público o movimento tenentista e marcou a volta dos militares à cena política.
- b) Foi uma verdadeira revolução nas forças armadas que, a partir desse momento, voltaram à cena da política nacional.
- c) Foi uma revolta sem maiores repercussões no contexto das décadas seguintes.
- d) Tornou-se a expressão pública dos conflitos entre civis e militares, já que o desfecho histórico foi o fortalecimento político do exército que tentou tomar o poder várias vezes até conseguir em 1964.
- e) Apesar de não ter tido sucesso, foi importante para o desenvolvimento do Movimento tenentista que tinha um bem elaborado plano para o Brasil.

37. A revolta dos Malês, ocorrida em Salvador em 1835,

- a) foi uma revolta organizada por escravizados e libertos, contra a escravidão e a imposição da religião católica.
- b) expressava as aspirações de liberdade dos escravos urbanos impedidos de comprar as suas cartas de alforria.
- c) externava a indignação da população urbana branca com as práticas da violência e dos castigos públicos.
- d) reivindicava mais autonomia para as províncias, contrapondo-se à política centralizadora empregada pelos gestores imperiais.

e) fracassou em decorrência das dificuldades encontradas na arregimentação de escravos dos engenhos do Recôncavo

38. Vós senhores, no dia 17 de outubro de 1822, na Igreja Matriz do Sacramento, dissestes: ‘Nós juramos perante Deus, seus sacerdotes e altares, adesão à causa geral do Brasil, e seu sistema atual, debaixo dos auspícios do senhor d. Pedro, príncipe regente constitucional e defensor perpétuo do Brasil, a quem obedecemos, e assim juramos reconhecer e obedecer às Cortes brasileiras Constituintes e Legislativas, e defender a nossa pátria, liberdade e direitos até vencer ou morrer’. Como agora podeis jurar uma carta constitucional, que não foi dada pela soberania da nação, que vos degrada da sociedade de um povo livre e brioso, para um valongo de escravos e curral de bestas de carga? Um projeto que destrói a vossa categoria no meio das nações livres do orbe?”

Frei Joaquim do Amor Divino Caneca. Voto sobre o juramento do projeto de Constituição oferecido por D. Pedro I [6 jun. 1824]. In: MELLO, E. C. de (orgs.). Frei Joaquim do Amor Divino Caneca. São Paulo: Editora 34, 2001, p. 566-565.

O manifesto de Frei Caneca expressava as motivações do movimento conhecido como

- a) Revolução Pernambucana.
- b) Confederação do Equador
- c) Conjuração Baiana.
- d) Inconfidência Mineira.
- e) Revolta de Vila Rica.

39. Assinale a alternativa que associa corretamente: a região do país, a atividade econômica que historicamente foi praticada na região, o período em que obteve maior êxito e qual foi a matriz da mão de obra utilizada.

- a) Região Sudeste; mineração; período imperial; trabalho escravo.
- b) Região Sul; drogas do sertão; período colonial; trabalho assalariado.
- c) Região Norte; lavoura de açúcar; período regencial; trabalho escravo indígena.
- d) Região Sudeste; lavoura de café; período imperial; trabalho escravo.
- e) Região Centro-Oeste; produção de algodão; período republicano; trabalho livre.

40. Tanto na 1ª Revolução Industrial, a partir de meados do século XVIII, quanto na 2ª, a partir de meados do século XIX, é inegável que as transformações tecnológicas dinamizaram a produção de mercadorias. Por um lado, o tear mecânico e a máquina a vapor ampliaram a escala produtiva, por outro, as ferrovias fizeram as mercadorias escoarem até os mais longínquos mercados consumidores. Contudo, para a humanidade ter atingido esse salto produtivo, além das inovações tecnológicas, os trabalhadores foram imprescindíveis. Nesse sentido, é correto afirmar que

- a) a título de racionalização do trabalho, condizente com o novo processo produtivo, as leis trabalhistas foram estabelecidas logo no início 1ª Revolução Industrial com o objetivo de moldar um novo contingente de trabalhadores.
- b) a ascensão do movimento operário, em parte, foi uma resposta às fatigantes condições de trabalho e, ao mesmo tempo, reflexo do surgimento de doutrinas críticas ao capitalismo.
- c) apesar da tensão entre capital e trabalho, as leis trabalhistas somente foram estabelecidas com a consolidação dos Estados de Bem-Estar Social, no século XX.

d) a primeira reivindicação do movimento operário ocorreu na Itália, sob o lema anarquista de auto-gestão das fábricas.

e) apesar do discurso social, a Igreja Católica não chegou a se posicionar favorável aos trabalhadores, pois, para manter sua influência, fez unidade com a burguesia industrial.

GEOGRAFIA GERAL E DO BRASIL

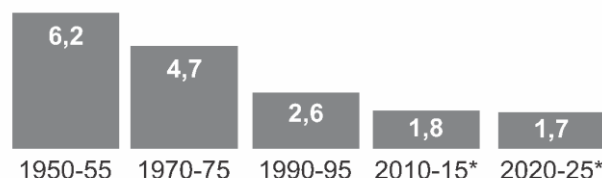
Sérgio Henrique

41. Analise o gráfico a seguir:

MENOS BEBÊS

Filhos por mulher

No Brasil



*estimativas para a taxa de fecundidade.

Fonte: Nações Unidas ("World Populations Prospects: the 2010 Revision.")

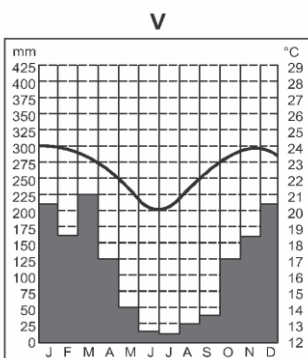
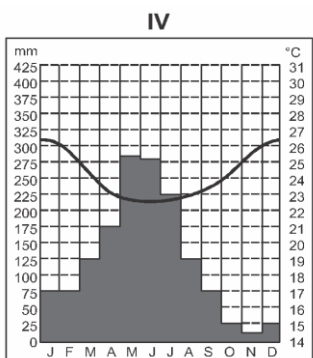
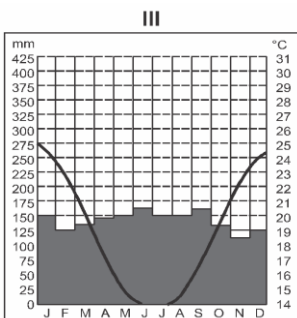
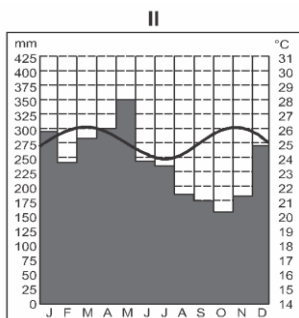
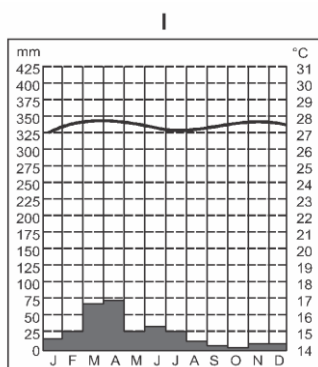
Disponível em: <https://linhaslivres.wordpress.com/category/liberdade-e-diversidade/page/334/?iframe=true&prevIEW=true%2Ffeed%2F>. Acesso em: 05 Ago. 2019.

Nas últimas décadas, a queda das taxas de fecundidade registradas no Brasil, conforme o gráfico acima, entre outras causas, deve(m)-se:

- a) A programas internacionais, atuantes no país, de combate à fome e a pobreza, principalmente os da Organização das Nações Unidas para a Alimentação e a Agricultura (FAO).
- b) A implantação da Revolução Verde no país, que possibilitou a segurança alimentar às camadas populares mais baixas.
- c) Ao controle de natalidade severo, imposto pelos governos nas últimas décadas.
- d) Ao grau de urbanização e inserção da mulher no mundo do trabalho, que resultaram em taxas de fecundidade abaixo da reposição populacional.
- e) À eliminação das desigualdades sociais, a partir da melhoria da qualidade de vida generalizada.

42. Os climogramas são gráficos que permitem a compreensão mais fácil do perfil climático de determinada região. Durante um período (geralmente um ano), são analisados dados de temperatura e de precipitação para se chegar a interpretações possíveis em relação aos biomas.

Observe-os a seguir:




Disponível em: <https://enem.estuda.com/questoes/?id=146622>. Acesso em 23 jul. 2019.

A partir da sua compreensão acerca dos climogramas acima, assinale a alternativa que representa a associação correta entre o climograma, a localidade no mapa e o respectivo bioma.

- a) III – A, área de Floresta Amazônica.
- b) V – D, área de Cerrados.
- c) I – C, área de Caatinga.

- d) II – E, área de Mata de Araucária.
- e) IV – B, área de Mata Atlântica.

43. Observe a charge abaixo para responder à questão.



Disponível em: <https://cantinholiterariososriosdobrasil.wordpress.com/2014/04/23/desmoronamentos-deslizamentos-catastrofe-natural/>. Acesso em: 29 jul. 2019.

Os conhecimentos acerca da apropriação do relevo nos permitem dizer que:

- a) A ocupação humana irregular tem pouca interferência nas catástrofes caracterizadas como deslizamentos, sendo este um fenômeno meramente natural.
- b) É muito difícil a defesa civil prever os riscos de deslizamentos, mesmo em áreas de ocupações irregulares bastante visíveis.
- c) A presença de vegetação em áreas íngremes ajuda a conservar o solo e reduz os riscos de erosões.
- d) O planejamento urbano deficiente pouco interfere nos movimentos de massa nas grandes cidades brasileiras, já que muitas vezes são as características dos solos aliadas aos altos índices de chuvas concentradas que levam a deslizamentos.
- e) Os deslizamentos de solos são mais frequentes em regiões de planícies por conta das possibilidades de alagamentos.

44. Analise as proposições abaixo acerca do espaço agrário brasileiro.

- I. Uma das características mais marcantes do espaço agrário brasileiro é a concentração de terras, herdadas desde o contexto colonial do país.
- II. As principais dificuldades para o desenvolvimento agrícola no Brasil são as condições climáticas tropicais, os tipos de solo e a disponibilidade hídrica, já que as maiorias dos rios estão poluídos.
- III. A modernização agrícola ainda se encontra fortemente concentrada na região Nordeste do país através do uso de tecnologias como sensoriamento remoto, melhoramento de sementes, irrigação e outras técnicas especializadas.
- IV. Um dos pressupostos da proposta de reforma agrária é a redistribuição de terras para famílias camponesas a partir da desapropriação de latifúndios improdutivos, justificado pela função social da terra.

Está correta, a alternativa:

- a) I e IV
- b) II e IV
- c) I e III
- d) III e IV
- e) I e II

45. Analise o mapa a seguir.



(Maria E. R. Simielli. *Geotlas*, 2013. Adaptado.)

Considerando a distribuição dos recursos energéticos brasileiros, as áreas indicadas por 1 e 2 correspondem, respectivamente,

- a) à energia eólica e às hidrelétricas. A maior produção de energia eólica é da Bahia.
- b) ao biocombustível e à energia eólica. As maiores produções da solar são da Bahia, Rio Grande do Norte e Ceará.
- c) ao biocombustível e às bacias petrolíferas. As maiores produções da eólica são da Bahia, Rio Grande do Norte e Ceará.
- d) às hidrelétricas e à energia solar. As maiores produções da eólica são da Bahia, Rio Grande do Norte e Ceará.
- e) à energia eólica e à energia solar. A maior produção de energia eólica é da Bahia.

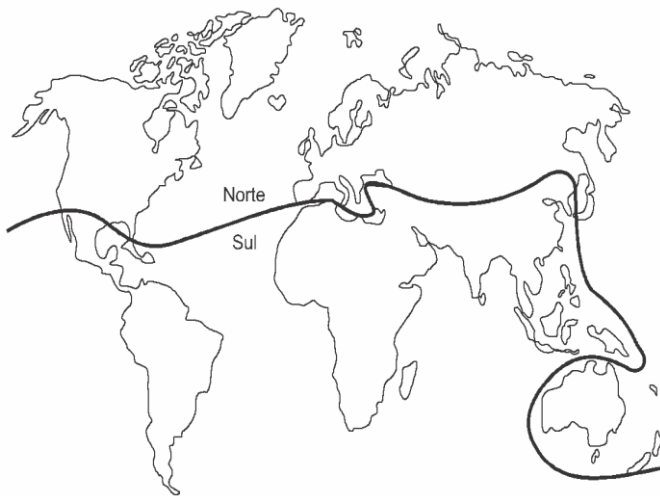
46. O arqueólogo e antropólogo baiano Altair Sales Barbosa há quase 50 anos estuda o papel desse bioma na regulação de grandes rios da América do Sul. Ele diz que a sua rápida destruição está golpeando um dos pilares do sistema: a gigantesca rede de raízes que atua como uma esponja, ajudando a recarregar os aquíferos que levam água a torneiras de todas as regiões do Brasil. Barbosa conta que a água que alimenta o São Francisco e as represas de São Paulo e Brasília vem de três grandes depósitos subterrâneos localizados nesse bioma: os aquíferos Guarani, Urucuia e Bambuí.

(www.bbc.com, 27.03.2017. Adaptado.)

O bioma abordado no excerto, importante para o equilíbrio hídrico brasileiro, é

- a) a Mata Atlântica.
- b) a Caatinga.
- c) o Cerrado.
- d) a Amazônia.
- e) o Pampa.

47. Divisão do mundo entre os países do Norte e Sul



Disponível em: HAESBAERT, Rogério; PORTO-GONÇALVES, Carlos Waller. *A Nova Des-Ordem Mundial*. São Paulo: Unesp, 2006. p.50. (adaptado)

A figura acima representa uma forma de regionalizar o mundo, entre os países do Norte e os países do Sul. A partir da análise da imagem, é correto afirmar que esse modelo de regionalização leva em consideração:

- a) A linha do equador que divide o mundo em dois hemisférios, o Norte e o Sul.
- b) As características climáticas e biogeográficas distintas entre o Norte e o Sul.
- c) As potencialidades paisagísticas e tecnológicas entre o Norte e o Sul.
- d) O nível de desenvolvimento socioeconômico entre os países do Norte e Sul.
- e) O nível de influência linguística entre os países emergentes do Sul.

48. A globalização é celebrada por eliminar fronteiras políticas e econômicas e por aproximar culturas de diferentes partes do mundo. Após a década de 90, do século XX, contudo, começou a sofrer um efeito reverso:

a multiplicação de muros e barreiras em fronteiras nacionais. Um terço dos países já ergueu ou está edificando quase quilômetros de muros ou cercas em torno de seu território, uma extensão quatro vezes superior à registrada em 1989, quando foi derrubado o Muro de Berlim, e suficiente para dar uma volta e meia em torno do Brasil.

WATKINS, Nathalia. A Multiplicação das Barreiras. *Veja*. São Paulo: Abril, e. 2441, a. 48, n. 35, 2 set. 2015, p. 69. Adaptado.

A situação descrita no texto, além de contradizer o processo de globalização relaciona-se também, agora, com

- a) a contradição entre o contexto de pobreza, conflitos políticos e étnico-religiosos que assolam as populações do Oriente Médio e da África e a situação de aparente estabilidade econômica dos países capitalistas da União Europeia.
- b) a atração produzida por centros culturais e científicos dos países desenvolvidos sobre populações pobres e em atraso educacional que buscam expandir sua formação técnica para o trabalho em seus países de origem.
- c) mudanças climáticas que produzem catástrofes naturais e empurram as populações de áreas desérticas para áreas de clima mais ameno.
- d) a disseminação de epidemias produzidas por agentes patológicos transmitidos por populações que cultivam hábitos ditos bizarros e desconhecidos de alimentação e de higiene.
- e) a retomada da separação entre países comunistas e capitalistas em razão da disputa pelas áreas produtoras de petróleo no mar do Norte e nos países da Escandinávia.

49. Os agricultores, com assistência técnica correta, vêm empregando práticas para que haja uma diminuição dos processos erosivos no uso dos solos. Todos saem ganhando com tais ações, sobretudo o meio ambiente.

Com relação a esse assunto, observe a fotografia a seguir:



Disponível em: <https://www.robustec.ind.br/blog/praticas-agricolas-para-conservacao-do-solo> Acesso em: 10 ago. 2021.

Assinale a alternativa que apresenta a prática agrícola empregada nessa propriedade rural.

- a) Cultivos hidropônicos
- b) Prática de rotação de cultivos
- c) Agricultura de cultivos em curvas isobáricas
- d) Sistema agrícola de rotação de terras
- e) Cultivos em curvas de níveis

50. A Geografia na atualidade tem dedicado uma particular atenção aos temas “A questão ambiental e o desenvolvimento sustentável”. Sobre esse assunto, assinale a afirmativa que NÃO corresponde à realidade.

- a) Inúmeros acidentes ocorridos e a crescente degradação ambiental, em face da utilização de inadequadas práticas de produção, foram fatos que colocaram a gravidade da problemática ambiental na agenda econômica e social mundial.
- b) A formulação teórica do conceito de Desenvolvimento Sustentável propõe a inclusão de critérios ambientais na atividade produtiva, objetivando assegurar o crescimento econômico, mas respeitando as condições de renovação, bem como a capacidade dos ecossistemas.
- c) O conceito de Desenvolvimento Sustentável surgiu em plena Guerra Fria, na década de 1950, como decorrência da intensa pressão promovida pela OTAN, com base em argumentos ambientalistas dos países do Leste Europeu que adotavam o Modelo Socialista.
- d) O Desenvolvimento Sustentável apoia-se, basicamente, nas três dimensões da sustentabilidade, ou seja, Econômica, Social e Ambiental.
- e) A realização de queimadas, independentemente da finalidade a que se destina, sendo causadas pela própria dinâmica da natureza ou de origem antrópica, gera impactos negativos ao meio ambiente, dentre os quais: aquecimento global, perda da biodiversidade e problemas de saúde para os humanos.

MATEMÁTICA*Carlos Henrique*

51. O quarto, o quinto e o sexto termos de uma progressão aritmética são expressos por $x + 1$, $x^2 + 4$ e $2x^2 + 3$, respectivamente.

A soma dos dez primeiros termos dessa progressão aritmética é igual a

- a) 260
- b) 265
- c) 270
- d) 275
- e) 280

52. O número de equipamentos vendidos por uma empresa vem aumentando a uma taxa de crescimento constante nos últimos anos, conforme mostra a Tabela a seguir.

Ano	Número de equipamentos vendidos por ano
2014	10.000
2015	12.000
2016	14.400
2017	17.280

A empresa precisa programar-se para que sua produção possa atender às demandas futuras, caso essa tendência se mantenha.

Assim, considerando-se 2,5 como aproximação para $1,2^5$, e mantida a taxa de crescimento observada, o número mais próximo para a previsão de vendas de todo o período de 2014 a 2023, em milhares de equipamentos, contando, inclusive, com as vendas de 2014 e 2023, é igual a

- a) 156,2
- b) 162,5
- c) 190,0
- d) 240,00

e) 262,5

53. Um grupo de amigos combinou comprar um presente para uma senhora que estava casando. O preço do presente é R\$ 120,00 e será dividido em partes iguais entre eles. No dia de comprar o presente, dois amigos desistiram de participar da compra, o que resultou em um aumento de R\$ 10,00 na parte de cada um dos amigos que restou no grupo. Podemos afirmar que a contribuição de cada um deles foi de:

- a) R\$ 25,00
- b) R\$ 30,00
- c) R\$ 35,00
- d) R\$ 40,00
- e) R\$ 50,00

54. Um campeonato de futebol é realizado com 10 times e cada time joga com cada um dos outros uma, e apenas uma, vez. A pontuação é a tradicional: em caso de vitória, o vencedor ganha 3 pontos e o perdedor nada ganha e, em caso de empate, os dois times ganham 1 ponto cada. No fim do torneio, a soma das pontuações de todos os times deu 120. O número de jogos que terminaram empatados foi

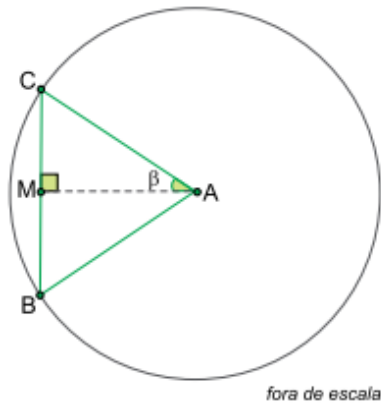
- a) 15.
- b) 66.
- c) 17.
- d) 18.
- e) 20

55. Em uma unidade do PM BA, estão de plantão doze policiais, sendo sete homens e cinco mulheres. Desse total de policiais, dois serão escolhidos ao acaso para compor uma equipe que atuará em uma missão.

Nessa situação hipotética, a probabilidade de que essa equipe tenha pelo menos uma mulher é de:

- a) 15/22.
- b) 5/33.
- c) 7/22.
- d) 35/66.
- e) 5/12

56. Sobre uma circunferência de centro A e raio 10 cm estão os vértices B e C de um triângulo ABC. O ponto M é médio do lado BC e $\beta = \widehat{M\hat{A}C}$, conforme mostra a figura.



Sabendo que $\sin \beta + \cos \beta = 1,2$, a área do triângulo ABC é

- a) 16 cm².
- b) 18 cm².
- c) 22 cm²
- d) 20 cm².
- e) 24 cm²

57. No plano cartesiano, os pontos (-1, 8), (2, 6) e (11, k) são colineares.

O valor de k é:

- a) -1
- b) 1
- c) 3
- d) 0
- e) 2

A tabela identifica a distribuição do número de colaboradores de uma instituição pelos respectivos salários que recebem:

DISTRIBUIÇÃO DE COLABORADORES PELOS SEUS RESPECTIVOS SALÁRIOS

SALÁRIO RECEBIDO	NÚMERO DE COLABORADORES
R\$ 3.600,00	20
R\$ 4.200,00	15
R\$ 5.000,00	10
R\$ 6.000,00	5

58. Dentre os colaboradores que recebem mais de R\$ 4.000,00, qual o percentual dos que recebem menos de R\$ 5.000,00.

- a) 70%
- b) 50%
- c) 90%
- d) 30%
- e) 40%

59. Sabendo-se que no próximo mês está previsto um aumento de 20% em todos os salários pagos, e que não haverá admissão de novos colaboradores, tampouco, demissão, assinale a alternativa que contém a soma da média aritmética simples, da mediana e da moda dos salários que essa instituição pagará aos seus colaboradores, após o aumento previsto:

- a) R\$ 14.520,00
- b) R\$ 14.400,00
- c) R\$ 14.360,00
- d) R\$ 14.240,00
- e) R\$ 14.000,00

60. Uma pessoa investiu o seu dinheiro na aquisição de dois imóveis, um na cidade e o outro na praia. O imóvel da cidade ela pagou R\$ 400.000,00, enquanto que o da praia foi adquirido por R\$ 300.000,00.

Ao analisar o mercado, essa pessoa percebeu que as taxas anuais de valorização dos imóveis eram, respectivamente, igual a 10% ao ano e 13% ao ano. Com as informações apresentadas, determine após quantos anos, aproximadamente, os imóveis terão o mesmo valor comercial.

(Use: $\log 2 = 0,301$, $\log 3 = 0,477$ e $\log 0,97 = - 0,01$)

- a) 10 anos
- b) 15 anos
- c) 9 anos
- d) 13 anos
- e) 17 anos

DIREITO CONSTITUCIONAL

Adriane Fauth

61. Carlos, após regular processo judicial, foi condenado em sentença penal transitada em julgado à pena privativa de liberdade de dois anos. No mesmo período, ele planejava ingressar com uma ação popular contra um contrato irregular

firmado pelo governador do estado Beta, que, segundo ele, causava prejuízo ao erário. Diante dessa situação, consultou seu advogado para saber se poderia ajuizar a demanda.

Foi corretamente esclarecido a Carlos que:

- a) a condenação penal transitada em julgado acarreta a suspensão de seus direitos políticos, impedindo-o de propor a ação popular;
- b) por não ter sido condenado à perda da nacionalidade brasileira, ele mantém o direito de ajuizar a ação popular;
- c) a suspensão dos direitos políticos não impede o ajuizamento da ação popular, pois esta visa à tutela do interesse coletivo;
- d) apenas a condenação superior a quatro anos impede o ajuizamento da ação popular, pois nesse caso há cassação automática da cidadania;
- e) mesmo com a condenação penal, Carlos mantém sua plena capacidade jurídica para ingressar com a ação popular.

62. No que tange a nacionalidade, analise as assertivas abaixo.

- I. A aquisição voluntária de outra nacionalidade não resulta mais na perda automática da nacionalidade brasileira.
- II. A perda da nacionalidade brasileira de forma voluntária somente ocorrerá se houver um pedido expresso do indivíduo nesse sentido.
- III. A Constituição não permite a readmissão da nacionalidade brasileira após sua perda voluntária.

Está correto o que se afirma em:

- a) I e II, apenas.
- b) I e III, apenas.
- c) II e III, apenas.
- d) I, II e III.
- e) Nenhuma das alternativas está correta.

63. Com relação aos militares dos estados, analise as afirmativas a seguir.

I - Cabe habeas corpus para discutir critérios de conveniência e oportunidade das punições disciplinares militares.

II – Lei federal disporá sobre os limites de idade para ingresso na Polícia Militar dentre outras condições.

III- O oficial só perderá o posto e a patente se for julgado indigno do oficialato ou com ele incompatível, por decisão de tribunal militar de caráter permanente, em tempo de paz, ou de tribunal especial, em tempo de guerra;

- a) Está correta apenas a assertiva I.
- b) Estão incorretas as assertivas I e II
- c) Estão corretas as assertivas II e III.
- d) Estão incorretas as assertivas I, II e III
- e) Estão corretas as assertivas I e III

DIREITO ADMINISTRATIVO

Rodrigo Bet

64. Qual das alternativas abaixo representa um atributo dos atos administrativos?

- a) Finalidade
- b) Forma
- c) Motivo
- d) Imperatividade
- e) Objeto

65. Durante uma fiscalização, um agente municipal determinou a remoção de um veículo estacionado irregularmente em uma calçada, aplicando ao proprietário uma multa conforme previsto no Código de Posturas do município. Esse ato, que impõe uma sanção administrativa a um particular por infração à lei, caracteriza o exercício de qual poder administrativo?

- a) Poder Regulamentar
- b) Poder Hierárquico

- c) Poder de Polícia
- d) Poder Vinculado
- e) Poder Disciplinar

66. O governo estadual celebrou um contrato de parceria público-privada (PPP) com uma concessionária para a administração de rodovias estaduais, incluindo manutenção e cobrança de pedágios. Além disso, no âmbito interno da Secretaria de Transportes, foi criada uma nova diretoria responsável exclusivamente pela fiscalização dessas concessões. Sobre as situações descritas, é correto afirmar que:

- a) A contratação da concessionária caracteriza desconcentração administrativa, enquanto a criação da diretoria configura descentralização administrativa.
- b) Ambas as situações caracterizam descentralização administrativa, pois envolvem a transferência de atribuições para outros entes.
- c) A contratação da concessionária configura descentralização administrativa, enquanto a criação da diretoria caracteriza desconcentração administrativa.
- d) Nenhuma das situações caracteriza descentralização ou desconcentração, pois ambas dizem respeito a delegações internas da Administração Pública.
- e) Ambas as situações caracterizam desconcentração administrativa, pois envolvem a criação de órgãos e delegação de atividades.

DIREITOS HUMANOS

Géssica Ehle

67. Conforme a Declaração Universal dos Direitos Humanos, proclamada pela Resolução nº 217ª (III) da Assembleia Geral das Nações Unidas, de 10 de dezembro de 1948, assinale a alternativa CORRETA.

- a) A Declaração afirma que deve haver igualdade de remuneração para homens que exerçam mesmas funções, podendo haver mitigação de tal comando quanto às retribuições pagas às mulheres durante sua gestação
- b) Deve-se respeitar à presunção de inocência, uma vez que a culpabilidade precisa ser provada nos termos da lei
- c) Ninguém pode ser arbitrariamente privado da sua propriedade, exceto nas situações que envolvam direitos de crianças e adolescentes
- d) Ninguém pode ser preso, detido ou exilado, contra sua vontade
- e) A Declaração é uma Resolução que apresenta direitos a todas as pessoas, não contendo deveres a serem perseguidos

68. Diante do que dispõe a Convenção Americana Sobre Direitos Humanos, sobretudo quanto ao direito à vida, tem-se que a pena de morte poderá ser imposta ou aplicada, cumpridos os requisitos legais, às (aos):

- a) que cometeram delitos comuns conexos com delitos políticos
- b) que no momento da perpetração do delito, forem menores de dezoito anos
- c) mulheres em estado de gravidez
- d) que tiverem 60 (sessenta) anos no momento da perpetração do delito
- e) aos que contarem com 70 (setenta) anos na data do fato

69. Sobre a Convenção Internacional sobre a Eliminação de todas as Formas de Discriminação Racial, julgue os itens a seguir.

- I. De forma expressa pelo texto da Convenção, restou evidente o compromisso dos Estados Partes especialmente condenarem a segregação racial e o *apartheid* e comprometem-se a proibir e a eliminar nos territórios sob sua jurisdição todas as práticas dessa natureza.
- II. Os Estados Partes comprometem-se a proibir e a eliminar a discriminação racial em todas suas formas e a garantir o direito de cada um à igualdade perante a lei sem distinção de raça, de cor ou de origem nacional ou étnica, também no gozo do direito de acesso a todos os lugares e serviços destinados ao uso do público, tais como, meios de transportes, hotéis, restaurantes, cafés, espetáculos e parques.
- III. A Convenção já prevê que as medidas de eliminação da discriminação racial não deverão, em caso algum, ter a finalidade de manter direitos desiguais ou distintos para os diversos grupos raciais, depois de alcançados os objetivos em razão dos quais foram tomadas.

Está correto o que se afirma em:

- a) Apenas a I.
- b) I e II.
- c) II e III.
- d) Todas as assertivas.
- e) Nenhuma das assertivas.

70. Nos termos da Convenção sobre a Eliminação de Todas as Formas de Discriminação contra a Mulher, de 1979, os Estados-Partes adotarão todas as medidas adequadas para eliminar a discriminação contra a mulher em todos os assuntos relativos ao casamento e às relações familiares e, em particular, com base na igualdade entre homens e mulheres. Dentre as alternativas abaixo, assinale aquela que não representa uma medida a ser adotada pelos Estados Partes.

- a) O mesmo direito de contrair matrimônio
- b) O mesmo direito de escolher livremente o cônjuge e de contrair matrimônio somente com livre e pleno consentimento
- c) Os mesmos direitos e responsabilidades durante o casamento, excetuada a ocasião de sua dissolução
- d) Os mesmos direitos e responsabilidades com respeito à tutela, curatela, guarda e adoção dos filhos
- e) Os mesmos direitos a ambos os cônjuges em matéria de propriedade, aquisição, gestão, administração, gozo e disposição dos bens, tanto a título gratuito quanto à título oneroso

DIREITO PENAL

Renan Araujo

71. Acerca da ilicitude e da culpabilidade, assinale a alternativa correta:

- a) O excesso nas excludentes de ilicitude é punível, quando constatado que houve dolo ou culpa por parte do agente.
- b) pela teoria da *actio libera in causa*, aquele que praticar conduta delituosa em situação de embriaguez voluntária não deverá ser responsabilizado criminalmente pelo fato.
- c) considera-se em estado de necessidade o agente de segurança pública que repele agressão ou risco de agressão a vítima mantida refém durante a prática de crimes.

- d) a legítima defesa real sucessiva não é possível em nosso ordenamento jurídico.
- e) é isento de pena aquele que pratica o fato em situação de embriaguez acidental, completa ou incompleta.

72. Ricardo, 21 anos, conheceu Maria, menina de 12 anos de idade, em uma festa de aniversário. Após conversarem, foram até o carro de Ricardo e, no banco de trás, começaram a trocar beijos e carícias em suas partes íntimas, tudo de forma absolutamente consensual. Quando Ricardo e Maria já estavam despidos e se preparavam para realizar a conjunção carnal (coito vaginal), o pai de Maria, Juvenal, apareceu e interrompeu a libidinagem.

Nesse caso, é correto afirmar que a conduta de Ricardo configura:

- a) Importunação sexual, consumada
- b) Estupro qualificado pela idade da vítima, consumado
- c) Estupro qualificado pela idade da vítima, tentado
- d) Estupro de vulnerável, consumado
- e) Estupro de vulnerável, tentado

73. Davi e Bruno, policiais militares da PMBA, prenderam Jefferson em flagrante delito, em razão da suposta prática do crime de tráfico ilícito de entorpecentes. No caminho para a delegacia de polícia, Jefferson ofereceu aos agentes policiais a quantia de R\$ 50.000,00 para que fosse liberado, o que foi prontamente recusado pelos agentes públicos.

Nesse caso, é correto afirmar que Jefferson praticou o crime de:

- a) corrupção ativa consumada
- b) tráfico de influência
- c) corrupção ativa tentada
- d) corrupção passiva consumada
- e) corrupção passiva tentada

DIREITO PROCESSUAL PENAL*Priscila Silveira*

74. A respeito do inquérito policial, assinale a alternativa correta.

- a) A polícia judiciária será exercida pelas autoridades policiais no território de suas respectivas circunscrições e terá a finalidade de apurar as infrações penais e da sua autoria.
- b) A competência definida neste artigo excluirá a de autoridades administrativas, a quem por lei seja cometida a mesma função.
- c) Do despacho que indeferir o requerimento de abertura de inquérito não caberá recurso.
- d) O inquérito, nos crimes em que a ação pública depender de representação, poderá sem ela ser iniciado.
- e) O Ministério Público poderá requerer a devolução do inquérito à autoridade policial, independentemente da requisição de novas diligências, imprescindíveis ou não ao oferecimento da denúncia.

75. Sobre o tema prova no processo penal, é INCORRETO afirmar que:

- a) o exame de corpo de delito poderá ser feito em qualquer dia e a qualquer hora.
- b) a autópsia será feita pelo menos seis horas depois do óbito, salvo se os peritos, pela evidência dos sinais de morte, julgarem que possa ser feita antes daquele prazo, o que declararão no auto.
- c) os cadáveres serão sempre fotografados na posição em que forem encontrados, bem como, na medida do possível, todas as lesões externas e vestígios deixados no local do crime.
- d) não sendo possível o exame de corpo de delito, por haverem desaparecido os vestígios, a prova testemunhal poderá suprir-lhe a falta.
- e) em caso de lesões corporais, se o primeiro exame pericial tiver sido incompleto, proceder-se-á exame complementar por determinação da autoridade policial ou judiciária, sempre de ofício.

76. Em relação ao tema prisões provisórias, assinale a alternativa correta.

- a) As pessoas comuns do povo não poderão efetuar prisão em flagrante, salvo se não houver autoridade policial no local do crime.
- b) Quando o autor do crime é encontrado em período superior a 24 horas após o crime, com instrumentos que façam presumir ser ele autor da infração não cabe a prisão em flagrante, mas caberá a temporária e a preventiva.
- c) Nas infrações permanentes não se admite a prisão em flagrante, sendo cabíveis a temporária e a preventiva.
- d) A falta de testemunhas da infração impedirá a prisão em flagrante, devendo a autoridade policial imediatamente representar pela prisão temporária.
- e) Quando o acusado se recusar a assinar, não souber ou não puder fazê-lo, o auto de prisão em flagrante será assinado por duas testemunhas, que tenham ouvido sua leitura na presença deste.

**DIREITO PENAL MILITAR E PROCESSUAL
MILITAR**

Antônio Pequeno

77. Sobre os crimes contra a autoridade ou a disciplina militar, assinale a afirmativa incorreta.

- a) O crime de motim não pode ser cometido por civil.
- b) A diferença entre motim e revolta é que, no crime de revolta, os agentes estão armados.
- c) É crime militar usar, indevidamente, uniforme, distintivo ou insígnia a que o militar não tenha direito.
- d) Recusar-se a obedecer a uma ordem do superior sobre assunto ou matéria de serviço, ou a dever imposto em lei, regulamento ou instrução, é crime previsto no CPM.
- e) Desrespeitar superior diante de outro militar é conduta considerada transgressão disciplinar, punida administrativamente, o que exclui a incidência da esfera penal.

78. Com relação aos crimes militares previstos no Código Penal Militar, é correto afirmar que o crime de

- a) embriaguez, em serviço, é tipificado apenas na hipótese de o militar se apresentar embriagado para o início do serviço, sendo apenado com reclusão.
- b) desacato a superior é apenado com reclusão e possui forma de agravação de pena na hipótese de o superior desacatado ser o comandante da unidade a que pertence o autor do crime.
- c) dormir em serviço possui modalidade culposa e poderá ser tipificado no momento em que o militar, estando na função de sentinela, abandona seu posto.
- d) desacato a militar possui forma de agravação de pena na hipótese da vítima se tratar de comandante da unidade
- e) o crime de motim é monossubjetivo.

79. Assinale a alternativa que preencha corretamente a lacuna. O inquérito policial militar é iniciado mediante portaria

- a) em virtude de requisição do Tribunal de Contas do Estado ou do Tribunal de Contas da União
- b) quando, de sindicância feita em âmbito de órgão público ou privado, resulte indício da existência de infração penal
- c) a requerimento da parte ofendida ou de quem legalmente a represente, ou em virtude de representação devidamente autorizada de quem tenha conhecimento de infração penal, cuja repressão caiba à Justiça Militar
- d) de ofício, pela autoridade militar em cujo âmbito de jurisdição ou comando haja ocorrido a infração penal, independente da hierarquia do infrator
- e) em virtude de requisição da Defensoria Pública

80. Ante o que dispõe o Código de Processo Penal Militar e suas alterações, assinale a alternativa que não pode ser considerada flagrante em delito.

- a) acaba de cometer o crime
- b) está cometendo o crime
- c) é encontrado, antes da prática delituosa, com instrumentos, objetos, material ou papéis que façam presumir a sua futura participação nela
- d) nas infrações permanentes, estiver praticando a conduta durante o período de permanência
- e) é perseguido logo após o fato delituoso em situação que faça acreditar ser ele o seu autor

O QUE VOCÊ ACHOU DESTE SIMULADO?

*Conte-nos como foi sua experiência ao fazer este simulado.
Sua opinião é muito importante para nós!*

<https://forms.gle/3RC8pkHLNAnpSnxQ9>

NÃO É ASSINANTE?

Confira nossos planos, tenha acesso a milhares de cursos e participe gratuitamente dos projetos exclusivos. Clique no link!

<http://estrategi.ac/assinaturas>

CONHEÇA NOSSO SISTEMA DE QUESTÕES

Estratégia Questões nasceu maior do que todos os concorrentes, com mais questões cadastradas e mais soluções por professores. Clique no link e conheça!

<http://estrategi.ac/ok1zt0>
