



2º Simulado

PM SP

**Soldado
Pós-Edital**

Simulado

2º Simulado Especial PM-SP (Soldado)

Nome: _____

INFORMAÇÕES SOBRE O SIMULADO

- 1 - Este simulado conta com questões focadas no concurso para **Soldado** da **PM-SP**;
- 2 - A prova contém itens que abordam conhecimentos cobrados no edital do concurso;
- 3 - As questões são inéditas e foram elaboradas pelos nossos professores com base no perfil da banca organizadora;
- 4 - Os participantes têm das **8:00h** às **13:30h** para responder às questões e preencher o Gabarito Eletrônico;
- 5 - O link para preencher o formulário com seu gabarito está localizado logo após estas instruções;

PREENCHA SEU GABARITO

Clique no link, ou copie e cole no seu navegador, para preencher seu gabarito.

<https://forms.gle/KGHZwxzTTZD19XQU7>

01 - (A)(B)(C)(D)(E)	13 - (A)(B)(C)(D)(E)	25 - (A)(B)(C)(D)(E)	37 - (A)(B)(C)(D)(E)	49 - (A)(B)(C)(D)(E)
02 - (A)(B)(C)(D)(E)	14 - (A)(B)(C)(D)(E)	26 - (A)(B)(C)(D)(E)	38 - (A)(B)(C)(D)(E)	50 - (A)(B)(C)(D)(E)
03 - (A)(B)(C)(D)(E)	15 - (A)(B)(C)(D)(E)	27 - (A)(B)(C)(D)(E)	39 - (A)(B)(C)(D)(E)	51 - (A)(B)(C)(D)(E)
04 - (A)(B)(C)(D)(E)	16 - (A)(B)(C)(D)(E)	28 - (A)(B)(C)(D)(E)	40 - (A)(B)(C)(D)(E)	52 - (A)(B)(C)(D)(E)
05 - (A)(B)(C)(D)(E)	17 - (A)(B)(C)(D)(E)	29 - (A)(B)(C)(D)(E)	41 - (A)(B)(C)(D)(E)	53 - (A)(B)(C)(D)(E)
06 - (A)(B)(C)(D)(E)	18 - (A)(B)(C)(D)(E)	30 - (A)(B)(C)(D)(E)	42 - (A)(B)(C)(D)(E)	54 - (A)(B)(C)(D)(E)
07 - (A)(B)(C)(D)(E)	19 - (A)(B)(C)(D)(E)	31 - (A)(B)(C)(D)(E)	43 - (A)(B)(C)(D)(E)	55 - (A)(B)(C)(D)(E)
08 - (A)(B)(C)(D)(E)	20 - (A)(B)(C)(D)(E)	32 - (A)(B)(C)(D)(E)	44 - (A)(B)(C)(D)(E)	56 - (A)(B)(C)(D)(E)
09 - (A)(B)(C)(D)(E)	21 - (A)(B)(C)(D)(E)	33 - (A)(B)(C)(D)(E)	45 - (A)(B)(C)(D)(E)	57 - (A)(B)(C)(D)(E)
10 - (A)(B)(C)(D)(E)	22 - (A)(B)(C)(D)(E)	34 - (A)(B)(C)(D)(E)	46 - (A)(B)(C)(D)(E)	58 - (A)(B)(C)(D)(E)
11 - (A)(B)(C)(D)(E)	23 - (A)(B)(C)(D)(E)	35 - (A)(B)(C)(D)(E)	47 - (A)(B)(C)(D)(E)	59 - (A)(B)(C)(D)(E)
12 - (A)(B)(C)(D)(E)	24 - (A)(B)(C)(D)(E)	36 - (A)(B)(C)(D)(E)	48 - (A)(B)(C)(D)(E)	60 - (A)(B)(C)(D)(E)

SIMULADO NO SISTEMA DE QUESTÕES

Clique no link, ou copie e cole no seu navegador, para fazer este simulado também no SQ!

<https://coruja.page.link/5rk2>

LÍNGUA PORTUGUESA*Fabício Dutra*

01. "Não há admiração mais deliciosa do que a do inimigo."

Sobre a frase citada, de Nelson Rodrigues, assinale a alternativa correta.

- a) O verbo 'há' está flexionado no singular para concordar com 'admiração', que também está no singular.
- b) O termo 'do' poderia ser retirado da frase sem qualquer prejuízo.
- c) A expressão 'mais deliciosa' poderia ser substituída por 'deliciosíssima'.
- d) A expressão 'Não' ... 'mais' forma um par correlato com ideia de tempo.
- e) O termo 'a' faz referência exofórica no trecho em questão.

02. Assinale a alternativa em que além de não ser possível encontrar o agente, também não é possível definir quem é o sujeito.

- a) Observam-se mudanças no país.
- b) Busca-se uma série de homens corajosos.
- c) Contrata-se de datilógrafo.
- d) Ainda se vive mal em muitas regiões brasileiras.
- e) Vive-se uma vida plena aqui.

03. "Pode existir punhalada sem lisonja, mas poucas vezes existe lisonja sem punhalada." Francisco de Quevedo y Villegas

Sobre a frase acima, é incorreto inferir que:

- a) A lisonja, ou elogio exagerado, muitas vezes é acompanhada de intenções ocultas ou prejudiciais, simbolizadas pela "punhalada".
- b) É mais comum encontrar falsidade ou traição camuflada em palavras agradáveis do que em ações diretas e violentas.
- c) O autor alerta para o perigo de confiar em elogios excessivos, pois eles podem esconder traições ou interesses mal-intencionados.
- d) A frase sugere que a lisonja é frequentemente usada como arma para manipular ou enganar alguém.
- e) A frase afirma que a punhalada é sempre justificada quando precedida por uma lisonja.

04. "Há três amigos fiéis: um velho amigo, um cão e um bom dinheiro." Benjamin Franklin

Sobre a frase acima, é correto afirmar que:

- a) A oração se encontra na ordem indireta, ou não canônica.
- b) O termo 'fiéis' segue a regra de acentuação das paroxítonas.
- c) O termo 'velho' é um adjetivo que expressa valor subjetivo.
- d) O termo 'bom' serve para intensificar.
- e) A oração não apresenta sujeito.

05. Assinale a opção em que o trecho narrativo recorre ao suspense em sua estrutura.

- a) João sempre caminhava pela mesma praça aos domingos. Naquele dia, ao dobrar a esquina, encontrou uma mulher idosa que vendia livros usados. Curioso, pegou um volume empoeirado. A mulher sorriu e disse: "Este foi o livro que mudou minha vida." Intrigado, João levou o livro para casa e passou a noite inteira lendo. Ao final, percebeu que o livro contava exatamente a história da sua própria vida, incluindo algo que ele ainda não havia vivido.
- b) Pedro encontrou uma pequena caixa de madeira na floresta enquanto caminhava. Era trancada com um cadeado enferrujado, e ao lado dela havia um bilhete que dizia: "Jamais abra". Levou a caixa para casa e, depois de muito esforço, conseguiu abri-la. Lá dentro havia um espelho estranho, mas quando ele olhou para seu reflexo, percebeu que não era ele mesmo. Uma sombra começou a emergir do espelho, e a última coisa que Pedro viu foi o quarto escurecendo.
- c) Sofia acordou animada para seu aniversário. A casa estava silenciosa, mas ela sentiu o cheiro de bolo vindo da cozinha. Seus pais estavam planejando uma festa surpresa, ela tinha certeza. Fingiu sair de casa, mas voltou uma hora depois. Ao abrir a porta, gritos e balões explodiram ao seu redor. Seu coração se encheu de felicidade.
- d) Pedro encontrou uma pequena caixa de madeira na floresta enquanto caminhava. Era trancada com um cadeado enferrujado, e ao lado dela havia um bilhete que dizia: "Jamais abra". A curiosidade o venceu. Levou a caixa para casa e, depois de muito esforço, conseguiu abri-la. Lá dentro havia um espelho estranho, mas quando ele olhou para seu reflexo, percebeu que não era ele mesmo. Uma sombra começou a emergir do espelho, e a última coisa que Pedro viu foi o quarto escurecendo.
- e) Dona Helena não gostava de gatos. Porém, um dia, um filhote cinza apareceu miando em sua varanda. Ela tentou espantá-lo, mas o gato era persistente. Todos os dias ele voltava e ficava sentado perto da

janela, olhando fixamente. Cansada, acabou deixando um prato de leite para ele. Um mês depois, Helena já não sabia como havia vivido tantos anos sem aquele pequeno amigo.

06. Assinale a alternativa em que o autor do texto tenha recorrido ao método dedutivo de argumentação.

- a) A preservação ambiental é responsabilidade de todos. Se cada indivíduo reduzir o consumo de plástico, os oceanos serão menos poluídos.
- b) Sem educação, não há desenvolvimento social. Países que priorizam a formação básica têm cidadãos mais capacitados.
- c) Políticas públicas são essenciais para combater desigualdades. Por exemplo, programas de renda mínima reduzem a pobreza.
- d) A leitura é um hábito transformador. Quem lê frequentemente melhora a escrita e o vocabulário.
- e) A tecnologia impacta toda a comunicação humana. Ferramentas como redes sociais permitem que pessoas de diferentes culturas se conectem instantaneamente.

07. Assinale a alternativa em que a preposição destacada tenha valor nocional, ou seja, não tenha sido exigida por elemento anterior.

- a) O livro de que você necessitava está comigo.
- b) Todos elogiaram a construção de cada jardim daquela região.
- c) Eles se arrependem de tudo o que foi dito.
- d) A pressão de um povo pode mudar uma realidade jurídica.
- e) A revelação de toda verdade será um processo longo.

08. Assinale a opção que apresenta uma comparação que não é explicada a seguir.

- a) Este carro é mais rápido do que aquele modelo antigo. Cheguei em duas horas ao destino.
- b) Mariana é tão dedicada quanto seu irmão mais velho. Por isso passou na prova.
- c) A nova casa é maior do que a antiga moradia, com tantos quartos amplos.
- d) Ele trabalha mais lentamente do que deveria, mande-o agilizar.
- e) Este livro é mais interessante que o que você indicou. Que autor fantástico!

09. Amigo certo se reconhece numa situação incerta.

Sobre a estruturação da frase acima, assinale a opção correta:

- a) A frase se encontra na voz reflexiva.
- b) O termo 'certo' poderia ser deslocado para antes do termo 'Amigo' sem alteração semântica.
- c) A expressão 'numa situação incerta' destaca que o contexto é determinante para avaliar a amizade.
- d) A partícula 'se' não poderia ser deslocada para depois do verbo.
- e) O termo 'incerta' é sinônimo de 'adversa'.

10. Quando eu morrer, morre comigo uma certa forma de ver." Carlos Drummond de Andrade.

- a) O verbo 'morrer', na primeira ocorrência, encontra-se na forma nominal infinitivo.
- b) O verbo 'morrer' apresenta como sujeito o mesmo referente nas duas ocorrências.
- c) O termo 'certa' poderia ser deslocado para depois do termo 'forma' sem alteração de sentido.
- d) A vírgula após o verbo 'morrer' é facultativa.
- e) A relação entre a primeira oração e a segunda é de dependência.

11. Assinale a única opção que não apresenta linguagem objetiva.

- a) Acredite em milagres, mas não dependa deles.
- b) Existe apenas um bem, o conhecimento, e um mal, a ignorância.
- c) A filosofia é o melhor remédio para a mente.
- d) A filosofia é composta de respostas incompreensíveis para questões insolúveis.
- e) O sábio nunca diz tudo o que pensa, mas pensa sempre tudo o que diz.

12. Assinale a opção em que ocorra o processo de formação chamado conversão no elemento destacado.

- a) O **caminhar** pelas trilhas é relaxante.
- b) O livro está em **cima** da mesa.
- c) A professora corrigiu as provas **rapidamente**.
- d) O **gato** dorme no sofá todas as tardes.
- e) A **escolha** dele foi inesperada.

13. "Se perguntarem por mim, digam que estou jogando bola."

Sobre a frase acima, assinale a alternativa correta.

- a) A conjunção 'Se', de valor condicional, poderia ser substituída pela conjunção 'Caso'.
- b) O verbo 'perguntarem' indica uma ação factual que expressa deliberação.
- c) A expressão 'jogando bola' configura um caso de metonímia.
- d) A expressão 'por mim' é agente da passiva.
- e) O período é composto por duas orações: uma oração subordinada e uma principal.

14. Assinale a opção em que a expressão 'de que' foi mal empregada.

- a) Aviso-lhes de que o problema será solucionado.
- b) Preciso de que discutamos um pouco sobre esse assunto.
- c) Sinto medo de que os pássaros escapem.
- d) A importância de que todos colaborem é inegável.
- e) Esse tópico de que tratamos hoje é complexo.

15. Assinale a única opção em que a frase foi construída com ironia.

- a) Não tenho interesse em ostentações. Prefiro passear de iate a viajar de cruzeiro.
- b) Não participo de maratonas por precaução – sou alto, forte e poderia derrubar alguém sem querer.
- c) Faço terapia há três anos. Sou tão confusa que sozinha não consigo me organizar.
- d) A maior surpresa que você pode vivenciar é ser pego de surpresa.
- e) Quando não se alcança o ideal, deve-se aceitar o possível.

16. Um parágrafo bem redigido deve mostrar unidade, coerência, variedade e harmonia.

O parágrafo abaixo que mostra todas essas qualidades é:

- a) A cidade cresceu rapidamente, mas os problemas de trânsito continuam insuportáveis.
- b) As crianças brincavam no parque; o sol brilhava e os pássaros cantavam alegremente.
- c) Ontem fui ao cinema, comprei pipoca e depois li um livro em casa.
- d) O gato correu para o quintal, mas o som da chuva ecoava pela sala.
- e) O progresso econômico traz benefícios, mas também desafios, como desigualdade e poluição, exigindo estratégias sustentáveis que conciliem crescimento e bem-estar.

17. Nas frases a seguir, os termos em destaque foram substituídos para evitar-se a repetição de palavras. Assinale a opção em que essa substituição foi feita por um hiperônimo (vocabulo de conteúdo geral).

- a) O cachorro correu pelo quintal, e o cão parecia extremamente animado.
- b) Ela ficou contente com a notícia e visivelmente feliz com a surpresa.
- c) O trabalho foi exaustivo, mas o esforço valeu a pena.
- d) O aluno resolveu o exercício com atenção. O estudante demonstrou habilidade.
- e) A mangueira estava carregada de frutos, e a árvore parecia pesada com tantos alimentos.

18. Assinale a única opção que se apresente sem paralelismo sintático.

- a) Ele gosta de leitura de livros, escrever poesias e assistir a filmes.
- b) Ela acordou cedo, preparou o café e saiu para o trabalho.
- c) João prefere estudar em casa, ouvir música e organizar o escritório.
- d) Eles chegaram ao parque, caminharam pelos trilhos e apreciaram o pôr do sol.
- e) O professor corrigiu as provas, deu feedback e vai entregar na próxima aula.

19. Assinale a única opção em que se nota a participação do narrador.

- a) O jovem caminhava pela estrada deserta, sem imaginar que a noite reservava surpresas.
- b) A chuva começou a cair de forma intensa, encharcando o campo em questão de minutos.
- c) Provavelmente, a decisão de partir tão cedo foi o que salvou Maria daquele desastre inesperado.
- d) Ao abrir a velha porta de madeira, o som estridente ecoou pela casa abandonada.
- e) Eles se aproximaram do lago com cuidado, atentos ao movimento que haviam notado na superfície.

20. Assinale a opção em que ocorre erro de pontuação.

- a) As chuvas intensas no Brasil, especialmente no verão, costumam causar enchentes em diversas regiões urbanas.
- b) No sertão nordestino, a chegada da chuva é celebrada como um evento que transforma a paisagem árida.
- c) No Sul do Brasil, as chuvas constantes trazem alívio ao campo, mas também podem provocar alagamentos inesperados.
- d) Infelizmente, as chuvas, muitas vezes evidenciam a precariedade das infraestruturas nas cidades brasileiras.
- e) Em algumas áreas da Amazônia, a chuva é tão frequente que os moradores ajustam suas rotinas ao ritmo das tempestades tropicais.

aconteceram em 2022, a próxima vez que os três voltarão a ocorrer num mesmo ano será em

- a) 2142
- b) 2082
- c) 2067
- d) 2052
- e) 2046

22. A soma das idades de dois irmãos é 29 anos. O valor da soma das idades dos dois irmãos mais a idade do mais velho é igual a idade da mãe deles, Josefina, que é de 47 anos. Nessas condições a idade do irmão mais novo é:

- a) 10 anos
- b) 11 anos
- c) 12 anos
- d) 13 anos
- e) 14 anos

23. Um pedreiro deseja construir um novo muro com 3m de altura e 30m de comprimento. Sabendo-se que em um serviço anterior foram utilizados 1.600 tijolos para construir um muro com 2m de altura e 20m de comprimento, a quantidade de tijolos necessária para a construção do novo muro é:

- a) 2.400
- b) 3.000
- c) 3.200
- d) 3.600
- e) 4.800

MATEMÁTICA

Eduardo Mocellin

21. A Copa do Mundo de Futebol ocorre de 4 em 4 anos, as eleições para presidente do Paraguai ocorrem de 5 em 5 anos e as eleições para juízes da Corte Interamericana de Direitos Humanos ocorrem de 6 em 6 anos. Se esses eventos

24. O valor de $\frac{2}{3}$ do número $0,3222\ldots + \frac{61}{90}$ é:

- a) 0,222...
- b) 0,333...
- c) 0,666...
- d) 0,2323...
- e) 0,3636...

25. Uma quantidade N de infratores estava depredando uma propriedade particular. Após alguns minutos, 5 infratores se juntaram aos iniciais. Quando a Polícia Militar de São Paulo chegou no local, os infratores foram separados em dois grupos: um grupo com $1/3$ do total e outro grupo com o restante. Sabendo-se que o maior grupo excedia o menor em 13 pessoas, o número inicial de infratores N era:

- a) 34
- b) 36
- c) 39
- d) 43
- e) 45

26. De uma caixa com 300 parafusos, Arnaldo retirou X parafusos. Após a retirada, ele reparou que poderia dividir esses X parafusos em grupos de 9, em grupos de 12 ou em grupos de 21 parafusos sem que nenhum parafuso restasse sem grupo.

O resto da divisão de X por 27 é:

- a) 9
- b) 11
- c) 13
- d) 15
- e) 17

27. Em um parque de diversões, uma criança sobe em um brinquedo sempre em exatos 3 minutos e 28 segundos. Essa criança desce desse brinquedo sempre em exatos 2 minutos e 43 segundos. Em um determinado momento do dia, ao aguardar a sua vez de descer, essa criança havia subido no brinquedo 5 vezes, tendo descido apenas 4 vezes. A diferença entre o tempo total gasto com as 5 subidas e o tempo total gasto com as 4 descidas é de:

- a) 6 minutos e 28 segundos
- b) 6 minutos e 52 segundos
- c) 5 minutos e 58 segundos

- d) 7 minutos e 32 segundos
- e) 7 minutos e 18 segundos

28. Sendo n um número natural, considere a operação $*$ definida por:

$$n^* = \frac{n \times (n + 1)}{2}$$

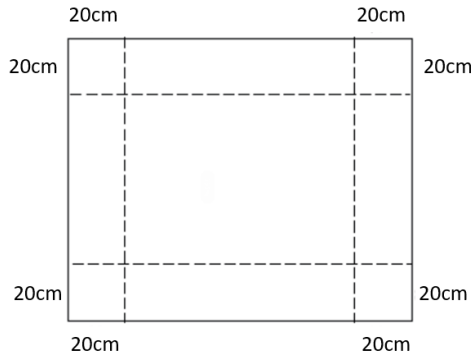
Nesse caso, o resultado da operação $(4^*)^* + (5^*)^*$ é um número:

- a) Menor do que 100
- b) Maior ou igual a 100 e menor do que 150
- c) Maior ou igual a 150 e menor do que 200
- d) Maior ou igual a 200 e menor do que 250
- e) Maior ou igual a 250

29. Um concurseiro fez uma prova com 168 questões. A razão do número de questões que ele acertou para o número de questões que ele errou foi $5/2$. O número de questões que esse concurseiro errou foi:

- a) 80
- b) 72
- c) 64
- d) 56
- e) 48

- 30.** A partir de um pedaço retangular de papelão de dimensões 120cm e 100cm, constitui-se uma caixa sem tampa cortando-se quadrados de lados de 20cm em cada canto para, na sequência, dobrar-se as laterais, conforme a figura a seguir.



O volume da caixa formada é:

- a) 160 dm³
- b) 96 dm³
- c) 16 dm³
- d) 9,6 dm³
- e) 1,6 dm³

- 31.** Em uma cidade existem n televisores, que captam somente os canais X e Y. Em um determinado dia, no horário nobre, verificou-se que 30% dos televisores ligados estavam sintonizados no canal X. Sabendo-se que 25% dos televisores estavam desligados, assinale a alternativa que indica a porcentagem do total n de televisores que estavam sintonizados no canal Y.

- a) 42,5%
- b) 45,0%
- c) 52,5%
- d) 65,5%
- e) 70,0%

- 32.** Uma locadora de carros aluga um total de 80 carros por dia, quando cobra uma diária de R\$ 130,00 por carro. Cobrando uma diária de R\$ 125,00, a locadora consegue alugar 86 carros por dia. Quando cobra R\$ 120,00 a diária, a locadora

aluga 92 carros por dia. Mantida essa relação entre a redução no valor da diária e o aumento no número de carros alugados, se o preço da diária fosse de R\$ 90,00, o número de carros alugados seria:

- a) 137
- b) 134
- c) 132
- d) 130
- e) 128

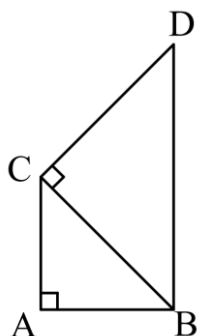
- 33.** Um caminhoneiro levou três dias de viagem para entregar uma carga. No primeiro dia, ele viajou 40% do total e, no segundo dia, 25% do restante. Se no terceiro dia ele viajou 54.000 dam, então a distância total percorrida foi:

- a) 1.000 km
- b) 1.100 km
- c) 1.200 km
- d) 1.500 km
- e) 1.600 km

- 34.** Em uma sala de aula, considerando a totalidade dos alunos, há 14 meninos a mais do que meninas. Se retirássemos 4 meninos da sala, a razão entre meninos e meninas passaria a ser $\frac{5}{3}$. O total original de alunos dessa sala, sem considerar a retirada dos 4 meninos, é:

- a) 36
- b) 40
- c) 42
- d) 44
- e) 48

35. Na figura a seguir, tem-se dois triângulos retângulos e isósceles: ABC e BCD.



A razão entre as áreas dos triângulos BCD e ABC, nessa ordem, é:

- a) $\frac{\sqrt{2}}{2}$
- b) $\sqrt{2}$
- c) $\sqrt{3}$
- d) 2
- e) $\frac{5}{2}$

INFORMÁTICA

Emannuelle Gouveia

36. No Microsoft Teams, os canais são onde o trabalho é feito, conversas de texto, áudio e vídeo são compartilhadas com toda a equipe, os arquivos são compartilhados e onde os aplicativos são adicionados. Os tipos básicos de canais oferecidos são:

- a) Padrão, Privado e Compartilhado
- b) Público e Privado
- c) De Equipe, Simples e Público
- d) Geral, Privado e Simples
- e) De Equipe e Particular.

37. No Windows, temos um utilitário responsável por gerenciar arquivos e diretórios, o Windows Explorer. Seu uso é essencial no trabalho cotidiano da maioria dos usuários. Para abri-lo, qual combinação de teclas deve ser utilizada?

- a) Windows + T.
- b) Windows + F.
- c) Windows + A.
- d) Windows + D.
- e) Windows + E.

38. Qual dos recursos do Word, listados abaixo, é o que permite a quebra correta de palavras, fazendo com que o espaçamento do texto fique mais uniforme e haja economia de espaço no documento:

- a) Alinhamento Justificado.
- b) Controle de Alterações
- c) Hifenização.
- d) Recuos
- e) Espaçamento.

39. No Excel a opção “Mesclar e centralizar” se encontra em que menu:

- a) Página Inicial
- b) Inserir
- c) Exibir
- d) Gráficos.
- e) Correspondência

40. Na URL <http://www.estrategiaconcursos.com.br>, o HTTP indica o:

- a) query.
- b) web.
- c) elemento de acesso.
- d) caminho.
- e) protocolo.

HISTÓRIA GERAL E DO BRASIL*Ale Lopes*

41. O Plano Schlieffen foi uma estratégia militar alemã desenvolvida no início do século XX, visando enfrentar a possibilidade de uma guerra em duas frentes, contra França e Rússia. Sobre os objetivos e a execução desse plano, assinale a afirmativa correta:

- a) O plano tinha como principal objetivo evitar qualquer tipo de conflito com a França, concentrando todas as forças alemãs em um ataque contra a Rússia, considerado o maior perigo estratégico.
- b) O plano previa uma rápida invasão ao território belga, como estratégia para flanquear as defesas francesas, conquistando rapidamente Paris antes de redirecionar forças para enfrentar a Rússia.
- c) O plano foi concebido para ser inteiramente defensivo, focando na construção de fortificações ao longo das fronteiras com a França e a Rússia, enquanto buscava a mediação diplomática do Reino Unido.
- d) A estratégia principal do plano Schlieffen era empregar ataques simultâneos às fronteiras francesas e russas, dividindo igualmente as forças militares alemãs para impedir contra-ataques.
- e) O plano tinha como objetivo atrasar os exércitos inimigos em ambas as frentes, apostando em uma guerra prolongada de trincheiras como forma de desgaste estratégico.

42. Na década de 1930, o Brasil vivia um contexto de instabilidade política e social que culminou na ruptura da Primeira República e na ascensão de Getúlio Vargas ao poder. O descontentamento de setores da sociedade com o domínio das oligarquias estaduais no cenário político, associado às transformações econômicas e sociais do período, pavimentou o caminho para mudanças profundas. A Revolução de 1930 representou um divisor de águas, marcando o fim do pacto

oligárquico e inaugurando um novo projeto político que enfatizava o fortalecimento do poder central.

A respeito das consequências da Revolução de 1930, assinale a afirmativa correta:

- a) A Revolução de 1930 consolidou a política do café com leite, permitindo que São Paulo e Minas Gerais continuassem a alternar o poder na presidência da República.
- b) A Revolução resultou na implementação imediata de uma nova Constituição, que aboliu o voto censitário e estabeleceu eleições diretas para todos os cargos públicos.
- c) A Revolução marcou o fim da República Oligárquica, levando à centralização do poder e à nomeação de interventores federais nos estados, enfraquecendo a autonomia estadual.
- d) A Revolução foi um movimento exclusivamente militar, liderado por generais descontentes com a submissão das Forças Armadas aos interesses das oligarquias estaduais.
- e) A Revolução resultou em uma ampla reforma agrária que atendeu às demandas dos camponeses e redistribuiu terras das elites cafeeiras.

43. "A Guerra Fria poderia ter sido evitada somente se a União Soviética não tivesse sido possuída por convicções tanto da infalibilidade da palavra comunista como da inevitabilidade do mundo comunista. Estas convicções transformaram um impasse entre Estados nacionais numa guerra religiosa, uma tragédia de possibilidade numa de necessidade. Poderíamos desejar que os Estados Unidos tivessem preservado o equilíbrio e a proporção dos primeiros anos da Guerra Fria e não tivesse sucumbido com o tempo às suas próprias formas de justiça própria. Mas a mais racional das políticas americanas dificilmente poderia ter evitado a Guerra Fria."

(Adaptado de: Schlesinger, Arthur. *Origins of the Cold War*, Foreign Affairs, Oct., 1967.)

Com base no texto e em seus conhecimentos sobre a Guerra Fria, assinale a afirmativa correta:

- a) A Guerra Fria foi inevitável, segundo o autor, devido à inflexibilidade ideológica tanto dos Estados Unidos quanto da União Soviética, embora a responsabilidade recaia exclusivamente sobre os soviéticos.
- b) A União Soviética considerava inevitável o colapso do capitalismo, mas o texto também sugere que a política americana foi irrepreensível durante todo o período da Guerra Fria.
- c) O autor atribui à União Soviética o papel principal na escalada da Guerra Fria, mas também reconhece que a atuação dos Estados Unidos contribuiu para agravar o conflito.
- d) Segundo o texto, a Guerra Fria foi predominantemente causada pela incapacidade dos Estados Unidos de preservar o equilíbrio estratégico durante o início do conflito.
- e) O texto argumenta que a Guerra Fria era evitável se ambos os lados tivessem adotado políticas mais racionais e conciliatórias em vez de sucumbirem a suas ideologias.

44. A Constituição de 1946, a quinta do Brasil, vigorou até 1967 e tinha um caráter liberal- democrático porque

- a) estabelecia a independência entre os poderes Executivo, Legislativo e Judiciário.
- b) foi a primeira constituição brasileira a estender o voto às mulheres e aos analfabetos.
- c) instituía uma democracia participativa, na qual todos os cidadãos tomariam parte nas decisões do governo.
- d) criou pela primeira vez um órgão responsável pela aplicação das leis trabalhistas.
- e) passou a considerar quilombolas e indígenas como sujeitos de direito.

45. Analise as afirmativas a seguir, que descrevem aspectos relacionados à resistência ao regime militar brasileiro, e assinale (V) para a verdadeira e (F) para a falsa:

- () O Movimento Nacionalista Revolucionário (MNR) foi um grupo político formado nos anos 1960 e focado exclusivamente em estratégias pacíficas para promover a transição democrática no Brasil.
- () A Guerrilha do Caparaó, organizada por ex-militares, foi uma tentativa frustrada de resistência ao regime militar, ocorrida na região da Serra do Caparaó, entre os estados de Minas Gerais e Espírito Santo.
- () A Vanguarda Popular Revolucionária (VPR) destacou-se por organizar ações armadas contra o regime militar, incluindo assaltos a bancos e sequestros de embaixadores, como forma de financiamento e pressão política.

As afirmativas são, respectivamente:

- a) V – V – F.
- b) F – V – V.
- c) V – F – V.
- d) F – F – V.
- e) F – V – F.

GEOGRAFIA GERAL E DO BRASIL*Sérgio Henrique*

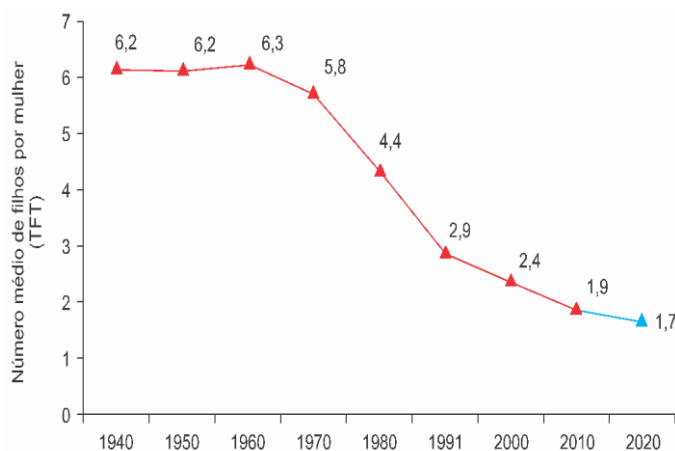
46. Compras no SoHo, martinis de café expresso e bares em coberturas ganharam papéis recorrentes nos vídeos do TikTok de influenciadores na cidade de Nova Iorque. Nos últimos meses, alguns acumularam centenas de milhares de curtidas e milhões de seguidores com vídeos glamorosos de “um dia comigo”. Um estudo do Instituto de Tecnologia de Massachusetts descobriu uma “correlação significativa entre o comportamento do influenciador on-line e os aluguéis efetivos de imóveis” na cidade de Nova Iorque. Os influenciadores também estão começando a conquistar parcerias mais diretas com a cidade: a NYC & Company, agência de turismo oficial da cidade, está trabalhando com os TikTokers “para levá-los para passear pela cidade e divulgar empresas de maneira segura”. A agência não divulgou se os criadores de conteúdo estavam sendo pagos, ou quais bairros eles estavam sendo solicitados a apoiar.

(<https://gothamist.com>, 23.12.2021. Adaptado.)

No contexto do espaço urbano, a estratégia percebida em Nova Iorque

- a) inaugura a apropriação do solo urbano motivada por diferentes interesses de uso e ocupação.
- b) redefine parcerias público-privadas que diminuem os gastos com o Estado de bem-estar social.
- c) induz o estabelecimento de novas centralidades capazes de originar uma megalópole.
- d) estimula a reprodução de um estilo de vida que culmina no processo de gentrificação.
- e) promove a conurbação entre bairros para dinamizar os fluxos de comércio e serviços.

47. Considere o gráfico a seguir:



Fonte: Censos demográficos do IBGE 1940 a 2010 e projeção em 2020

(Disponível em: <http://wiki.dpi.inpe.br/lib/exe/fetch.php?media=ser457-cst310:aulas-2014:poepa14_demografia_2.pdf> Acessado em: 19 mar 2024).

Da análise do gráfico acima é possível afirmar que

- a) a preocupação com a Previdência Social perde importância progressivamente.
- b) o percentual de brasileiros em idade produtiva deve aumentar nas próximas décadas.
- c) a expectativa de vida no Brasil permanecerá abaixo dos setenta anos ao longo do século XXI.
- d) a taxa de fecundidade no Brasil está abaixo do nível de reposição.
- e) em algumas décadas o Brasil entrará no chamado bônus demográfico.

48. "No mundo da globalização, o espaço geográfico ganha novos contornos, novas características, novas definições. E, também, uma nova importância, porque a eficácia das ações está estreitamente relacionada com a sua localização. Os atores mais poderosos se reservam os melhores pedaços do território e deixam o resto para os outros".

(SANTOS, Milton. Por uma outra globalização - do pensamento único à consciência universal. São Paulo: Record, 2001. p. 39).

Sobre a globalização, marque a alternativa correta.

- a) A globalização é um fenômeno que apresenta várias dimensões: econômica, social, política, entre outras, as quais se materializam somente em escala mundial.
- b) Os lugares estão conectados a uma rede de fluxos, controlados por muitos centros de poder econômico e político.
- c) A circulação global de capitais financeiros, cada vez mais livres de barreiras e regulamentações nacionais, não são capazes de gerar crises econômicas.
- d) A integração global dos mercados financeiros gerou crescente interdependência entre os países.
- e) A internet é um dos principais símbolos da Revolução Informacional com mais de 90% da população mundial conectada à rede.

49. Assinale a alternativa que indica corretamente uma transformação regional ocorrida no Brasil após 1970.

- a) As políticas públicas aplicadas pela Superintendência do Desenvolvimento do Nordeste (Sudene) fizeram com que a participação nordestina no PIB nacional dobrasse no período considerado.
- b) A participação do estado de São Paulo no PIB industrial do país diminuiu devido ao crescimento mais rápido da indústria em outros estados.
- c) A Grande Região Centro-Oeste manteve seu nível de participação no PIB nacional em um patamar

baixo, pois a agricultura é uma atividade que tende a perder importância na economia moderna.

- d) O crescimento econômico da Região Norte foi mais lento do que a média nacional, pois as legislações ambientais impuseram restrições crescentes à exploração dos recursos naturais da Amazônia.
- e) A construção de Brasília cumpriu o objetivo de reduzir a concentração populacional nos estados litorâneos, pois induziu a migração de população para os estados interiores.

50. O rio Tietê nasce na Serra do Mar, em Salesópolis, a 96 quilômetros de distância da Capital, e percorre 1.100 quilômetros até a sua desembocadura (foz). Na nascente, ele é limpo e puro, um pequeno filete. No seu trajeto, vai recebendo afluentes e se torna volumoso. Ao passar por Mogi das Cruzes, o Tietê ainda tem oxigênio, que permite a vida aquática. Mas, à medida que se aproxima da Capital, vai recebendo grande carga de detritos domésticos e industriais e se torna um dos rios mais poluídos do mundo. Só depois que sai da capital, a partir da cidade de Barra Bonita, o rio fica novamente limpo.

O pico de consumo de água para atender 16 milhões de pessoas na Grande São Paulo é de 69 mil litros por segundo. Atualmente, a SABESP consegue produzir 60 mil litros por segundo, em média. Metade dessa produção vem de fora da bacia do Alto Tietê. O fato de ter de buscar água longe da capital exigiu investimentos mais altos. Ainda assim, a cidade tem um déficit de 10% no abastecimento.

(www.tvcultura.com.br/aloescola/ciencias/agua-bemlimitado/index.htm e www.bibliotecavirtual.sp.gov.br/pdf/saopaulo-riotiete.pdf)

O principal rio do estado de São Paulo, o Tietê, pertence à bacia hidrográfica do rio

- a) Paranapanema.
- b) São Francisco.
- c) Paraná.
- d) Paranaíba.
- e) Doce.

ATUALIDADES*Rodolfo Gracioli*

51. “O Senado aprovou no início desta quarta-feira (11) uma reforma judicial abrangente que vai alterar o Judiciário, com eleição de juízes por voto popular – uma transformação profunda que os críticos temem que possa ameaçar o Estado de Direito e prejudicar a economia. Em uma sessão que durou mais de 12 horas e teve de ser interrompida e deslocada para outro lugar quando manifestantes invadiram o prédio do Senado, o partido governista e seus aliados obtiveram os dois terços de votos necessários para aprovar a reforma”. Adaptado. (Fonte: Agência Brasil, setembro de 2024).

O tema diz respeito:

- a) México
- b) Venezuela
- c) Chile
- d) Argentina
- e) Uruguai

52. “Começou nesta segunda-feira (21), o julgamento do processo movido por cerca de 620 mil atingidos pelo rompimento da barragem da Samarco em Mariana, na Região Central de Minas Gerais, contra a BHP Billiton, uma das controladoras da mineradora. Comunidades, municípios, igrejas e empresas reivindicam mais de R\$ 260 bilhões em indenizações. Nesta primeira audiência, o advogado que representa os autores da ação, afirmou à corte que as decisões na Samarco só podiam ser tomadas com acordo conjunto entre acionistas da BHP e da Vale”. Adaptado. (Fonte: G1, outubro de 2024).

O julgamento da tragédia de Mariana / MG aconteceu na justiça:

- a) Francesa
- b) Estadunidense
- c) Suíça
- d) Canadense

e) Inglesa

53. “O Brasil está, novamente, livre da doença. Nesta terça-feira (12), a Organização Pan-Americana da Saúde (OPAS) entregou ao Ministério da Saúde a recertificação de eliminação da doença. O país já havia sido classificado como zona livre em 2016. No entanto, acabou perdendo o certificado em 2019 após surtos da doença. Entre fevereiro de 2018 e fevereiro de 2019, o Brasil registrou 10.374 casos. O pico foi atingido em julho de 2018, com 3.950 casos”. Adaptado. (Fonte: G1, novembro de 2024).

A doença em questão é:

- a) Catapora
- b) Febre amarela
- c) Poliomielite
- d) Sarampo
- e) Dengue

54. Quatro dias depois do presidente sírio deposto, Bashar al-Assad, ter fugido do país para a Rússia, nem ele nem qualquer membro da sua comitiva foram vistos na capital. O grupo que liderou a campanha que levou à queda de Bashar al-Assad é conhecido como:

- a) Hamas
- b) Hezbollah
- c) Houthis
- d) HTS
- e) Boko Haram

55. “O Instituto Butantan submeteu nesta segunda-feira (16) à Agência Nacional de Vigilância Sanitária (Anvisa) o pedido de registro da vacina da dengue”. (Fonte: G1, dezembro de 2024).

Sobre a Butantan-DV está incorreto:

- a) Trata-se de uma vacina de dose única
- b) É tetravalente – protege contra os 4 tipos de dengue
- c) Indicada apenas para quem não teve dengue
- d) Recomendada para pessoas entre 2 e 60 anos (incompletos)
- e) Tem alcance etário maior que a Dengvaxia e Qdenga

DIREITO CONSTITUCIONAL

Adriane Fauth

56. Caio e Tício estavam discutindo a respeito de dois grandes direitos consagrados na Constituição Federal, o direito de reunião e o direito de associação, desse debate concluíram corretamente que:

- a) As associações só poderão ter suas atividades suspensas ou serem compulsoriamente dissolvidas por decisão judicial, exigindo-se, nos dois casos, o trânsito em julgado.
- b) A criação de associações independe de autorização, sendo necessário seu registro em órgão competente, vedada a interferência estatal em seu funcionamento.
- c) É possível o porte de armas em reuniões quando se tratar de manifestação de integrantes da área da segurança pública.
- d) O aviso prévio é requisito indispensável para o exercício do direito de reunião, a ausência do aviso implica na ilegalidade da manifestação.
- e) O direito de reunião pressupõe a união de pessoas em caráter temporário, enquanto a associação

pressupõe a união de pessoas em caráter permanente, com interesses em comum.

57. A garantia constitucional que protege o cidadão cuja liberdade de ir e vir seja cerceada por ato administrativo praticado sem a devida observância do princípio da legalidade é

- a) o mandado de segurança.
- b) a ação popular.
- c) o pedido de liminar.
- d) a antecipação de tutela.
- e) o habeas corpus.

58. Sérgio é policial militar há 17 anos em serviço ativo, tem 33 anos e pretende concorrer ao pleito de deputado estadual em seu estado nas próximas eleições. Diante das regras envolvendo a candidatura de militares, julgue os itens a seguir e marque a alternativa correta:

- a) Sérgio possui idade mínima para concorrer ao cargo de deputado estadual, mas deverá afastar-se da atividade.
- b) Sérgio possui idade mínima para concorrer ao cargo de deputado estadual, mas deverá filiar-se a partido político.
- c) Sérgio não poderá se candidatar porque não possui idade mínima para concorrer ao cargo de deputado estadual que é de 35 anos.
- d) Sérgio é inelegível por ser militar.
- e) Sérgio possui idade mínima para concorrer ao cargo de deputado estadual, ficará agregado pela autoridade superior e, se eleito, de forma automática vai para a inatividade, no ato da diplomação.

59. Assinale a alternativa que descreve as competências da polícia militar de acordo com o artigo 144 da Constituição Federal:

- a) apurar infrações penais contra a ordem política e social ou em detrimento de bens, serviços e interesses da União ou de suas entidades autárquicas e empresas públicas;
- b) prevenir e reprimir o tráfico ilícito de entorpecentes e drogas afins, o contrabando e o descaminho, sem prejuízo da ação fazendária e de outros órgãos públicos nas respectivas áreas de competência;
- c) exercer o patrulhamento ostensivo das rodovias federais.
- d) exercer as funções de polícia judiciária e a apuração de infrações penais, exceto as militares;
- e) exercer o policiamento ostensivo e a preservação da ordem pública.

e) Transcorrido o prazo de classificação, a informação tornar-se-á, automaticamente, de acesso público.

LEI Nº 12.527/11 – LEI DE ACESSO À INFORMAÇÃO

Antônio Daud

60. Considerando o disposto na Lei de Acesso à Informação (Lei 12.527/2011), é correto afirmar que:

- a) Não poderá ser negado acesso à informação necessária à tutela judicial de direitos fundamentais, mas pode ser negado acesso para a tutela administrativa destes direitos.
- b) As informações que versem sobre condutas que impliquem violação dos direitos humanos praticada por agentes públicos poderão ser objeto de restrição de acesso no grau reservado.
- c) informação que ofereça baixo risco à estabilidade financeira do país é passível de classificação como sigilosa.
- d) É de 25 anos o prazo máximo do sigilo para informações classificadas como secretas.

O QUE VOCÊ ACHOU DESTE SIMULADO?

Conte-nos como foi sua experiência ao fazer este simulado.

Sua opinião é muito importante para nós!

<https://forms.gle/3RC8pkHLNAnpSnxQ9>

NÃO É ASSINANTE?

Confira nossos planos, tenha acesso a milhares de cursos e participe gratuitamente dos projetos exclusivos. Clique no link!

<http://estrategi.ac/assinaturas>

CONHEÇA NOSSO SISTEMA DE QUESTÕES

Estratégia Questões nasceu maior do que todos os concorrentes, com mais questões cadastradas e mais soluções por professores. Clique no link e conheça!

<http://estrategi.ac/ok1zt0>