



Simulado Especial

PM SP

Soldado - Pós-Edital

Simulado

Simulado Especial PM-SP (Soldado)

Nome: _____

INFORMAÇÕES SOBRE O SIMULADO

- 1 - Este simulado conta com questões focadas no concurso para **Soldado** da **PM-SP**;
- 2 - A prova contém itens que abordam conhecimentos cobrados no edital do concurso;
- 3 - As questões são inéditas e foram elaboradas pelos nossos professores com base no perfil da banca organizadora;
- 4 - Os participantes têm das **8:00h** às **13:30h** para responder às questões e preencher o Gabarito Eletrônico;
- 5 - O link para preencher o formulário com seu gabarito está localizado logo após estas instruções;

PREENCHA SEU GABARITO

Clique no link, ou copie e cole no seu navegador, para preencher seu gabarito.

<https://forms.gle/s8gmzTBw6KXXBJv7>

01 - (A)(B)(C)(D)(E)	13 - (A)(B)(C)(D)(E)	25 - (A)(B)(C)(D)(E)	37 - (A)(B)(C)(D)(E)	49 - (A)(B)(C)(D)(E)
02 - (A)(B)(C)(D)(E)	14 - (A)(B)(C)(D)(E)	26 - (A)(B)(C)(D)(E)	38 - (A)(B)(C)(D)(E)	50 - (A)(B)(C)(D)(E)
03 - (A)(B)(C)(D)(E)	15 - (A)(B)(C)(D)(E)	27 - (A)(B)(C)(D)(E)	39 - (A)(B)(C)(D)(E)	51 - (A)(B)(C)(D)(E)
04 - (A)(B)(C)(D)(E)	16 - (A)(B)(C)(D)(E)	28 - (A)(B)(C)(D)(E)	40 - (A)(B)(C)(D)(E)	52 - (A)(B)(C)(D)(E)
05 - (A)(B)(C)(D)(E)	17 - (A)(B)(C)(D)(E)	29 - (A)(B)(C)(D)(E)	41 - (A)(B)(C)(D)(E)	53 - (A)(B)(C)(D)(E)
06 - (A)(B)(C)(D)(E)	18 - (A)(B)(C)(D)(E)	30 - (A)(B)(C)(D)(E)	42 - (A)(B)(C)(D)(E)	54 - (A)(B)(C)(D)(E)
07 - (A)(B)(C)(D)(E)	19 - (A)(B)(C)(D)(E)	31 - (A)(B)(C)(D)(E)	43 - (A)(B)(C)(D)(E)	55 - (A)(B)(C)(D)(E)
08 - (A)(B)(C)(D)(E)	20 - (A)(B)(C)(D)(E)	32 - (A)(B)(C)(D)(E)	44 - (A)(B)(C)(D)(E)	56 - (A)(B)(C)(D)(E)
09 - (A)(B)(C)(D)(E)	21 - (A)(B)(C)(D)(E)	33 - (A)(B)(C)(D)(E)	45 - (A)(B)(C)(D)(E)	57 - (A)(B)(C)(D)(E)
10 - (A)(B)(C)(D)(E)	22 - (A)(B)(C)(D)(E)	34 - (A)(B)(C)(D)(E)	46 - (A)(B)(C)(D)(E)	58 - (A)(B)(C)(D)(E)
11 - (A)(B)(C)(D)(E)	23 - (A)(B)(C)(D)(E)	35 - (A)(B)(C)(D)(E)	47 - (A)(B)(C)(D)(E)	59 - (A)(B)(C)(D)(E)
12 - (A)(B)(C)(D)(E)	24 - (A)(B)(C)(D)(E)	36 - (A)(B)(C)(D)(E)	48 - (A)(B)(C)(D)(E)	60 - (A)(B)(C)(D)(E)

SIMULADO NO SISTEMA DE QUESTÕES

Clique no link, ou copie e cole no seu navegador, para fazer este simulado também no SQ!

<https://coruja.page.link/QGJC>

LÍNGUA PORTUGUESA*Fabício Dutra*

01. "Qual o papel dos filhos no casamento? Educar os pais. Poucos o conseguem."

Sobre a frase acima, de Carlos Drummond de Andrade, é correto afirmar que:

- a) O termo 'Poucos' retoma, por coesão anafórica, o termo 'pais'.
- b) A conclusão da frase trata de um desafio.
- c) O humor da frase reside na obrigatoriedade de ter filhos em um casamento.
- d) Para se adequar a frase ao registro culto do português, seria necessário empregar o verbo 'é', após o termo 'Qual'.
- e) O pronome 'o' retoma o substantivo 'papel'.

02. "Os velhos estão sempre aconselhando os jovens a guardar dinheiro. É um mau conselho.

Não guardem um centavo; invistam em si mesmos. Eu nunca economizei um dólar antes dos 40 anos de idade."

Sobre a frase acima, de Henry Ford, é inadequado dizer que:

- a) O verbo 'guardar', no primeiro período, poderia ser flexionado no plural: 'guardarem'.
- b) O texto tem caráter predominantemente injuntivo.
- c) O contraste entre "guardar" e "investir" é explícito e reforça o argumento.
- d) Os termos 'velhos' e 'jovens' são adjetivos de origem que foram empregados como substantivos.
- e) O segundo período apresenta uma oração sem sujeito.

03. Assinale a alternativa em que o termo destacado se encontra bem empregado.

- a) Graças ao seu deslize, todos foram castigados.
- b) Ao invés de brigar, beba um suco de laranja.
- c) Daqui há vinte anos, todos estarão acabados.
- d) Não existe qualquer empecilho para o seu sucesso.
- e) Durante a seção terapêutica, procure abrir o coração e a alma.

04. "As grandes fortunas, chegadas de improviso, sempre trazem consigo alguma suspeita."

O termo sublinhado acima, foi empregado com sentido de:

- a) obtidas
- b) plenas
- c) repletas
- d) saturadas
- e) abundantes

05. Assinale a alternativa que apresenta traço de descrição subjetiva.

- a) A biblioteca tem três andares, com prateleiras organizadas por gênero literário e um espaço de leitura iluminado por luz natural.
- b) A praça possui 20 bancos de madeira, uma fonte central e um parquinho infantil cercado por grades de metal.
- c) O hospital conta com 100 leitos, três salas de cirurgia e equipamentos modernos para exames de imagem.
- d) A sala de aula mede 6 metros por 8 metros, possui quadros brancos e é equipada com um projetor fixado no teto.
- e) A praia parecia um paraíso intocado, com sua areia macia que abraçava os pés e o mar azul que convidava a sonhar.

06. Das frases a seguir, assinale a que apresenta uma defesa de uma tese.

- a) A educação é essencial para o desenvolvimento social e econômico de um país.
- b) O Brasil possui uma biodiversidade que o torna um dos países mais ricos em recursos naturais.
- c) A tecnologia tem transformado a forma como as pessoas trabalham e se comunicam.
- d) O investimento em saúde pública é crucial. Isso garante qualidade de vida e reduz desigualdades.
- e) A língua portuguesa é falada em diversos países, sendo considerada um idioma global.

07. Assinale uma frase em que não esteja presente a linguagem objetiva.

- a) A luta por direitos iguais para as mulheres é uma luta por justiça.
- b) Mulheres são fortes, corajosas e capazes de conquistar tudo o que desejam.
- c) Precisamos continuar lutando para que todas as mulheres tenham acesso aos mesmos direitos e oportunidades.
- d) Que o mundo exalte e brinde o poder das múltiplas faces e essências que as mulheres irradiam.
- e) A informática é o campo do conhecimento que abrange o estudo e a aplicação de tecnologias de processamento e armazenamento de informações.

08. Assinale a alternativa que apresente uma visão negativa sobre a fotografia.

- a) Fotografia é 1% de talento e 99% arrastar móveis."
- b) "Toda fotografia aparenta mais felicidade do que o momento real em que foi tirada."
- c) "A fotografia é bem melhor que a vida."
- d) "Nitidez é a correta distribuição de luz e sombra."
- e) "Uma câmera fotográfica é um instrumento que ensina as pessoas a verem sem a câmera."

09. Assinale a opção em que a regência do verbo se apresente em conformidade com o padrão normativo.

- a) Prefiro café a chá, especialmente nas manhãs frias.
- b) O professor chamou aos alunos para a reunião no final da aula.
- c) João aspira um cargo de liderança na empresa.
- d) É importante obedecer as regras da escola para evitar punições.
- e) Nunca esqueça de passar as suas roupas.

10. "A seleção brasileira é uma seleção sem vícios: não fuma, não bebe, nem joga."

José Simão

Sobre a frase acima, é o correto dizer que:

- a) O verbo 'jogar' foi empregado com sentido de 'apostar'.
- b) A frase coloca a virtude do time acima da capacidade técnica.
- c) O último verbo do período ironiza o desempenho da equipe.
- d) A seleção brasileira perde todos os jogos.
- e) A sequência "não fuma, não bebe, nem joga" contrasta com o que significa "sem vícios".

11. Assinale a opção em que não houve adequada troca da oração adjetiva por um adjetivo.

- a) Cozinhar é uma experiência que nunca acaba. / prolongada
- b) Ler é uma atividade que amplia a mente. / enriquecedora
- c) Ensinar é uma missão que transforma vidas. / transformadora
- d) Viajar é uma aventura que traz novos aprendizados. / educativa
- e) Estudar é um hábito que sempre gera frutos. / frutífero

12. Assinale a alternativa em que a frase tenha sido bem pontuada:

- a) A atividade policial é essencial para garantir a segurança pública, e a ordem social.
- b) Os policiais atuam, na investigação de crimes, na prevenção de delitos e na proteção da população.
- c) A rotina policial exige coragem, disciplina, e preparo físico para enfrentar situações adversas.
- d) A formação de um policial envolve treinamento rigoroso e conhecimento, em direitos humanos e legislação.
- e) O trabalho policial é desafiador, pois demanda tomadas de decisão rápidas e responsabilidade social.

13. "Ao entrar em um restaurante, todo cliente espera satisfazer desejos de ordem física e emocional. Os cardápios devem vir ao encontro dessas necessidades."

A oração sublinhada, no período acima, tem valor de:

- a) tempo
- b) condição
- c) conformidade
- d) conclusão
- e) adição

14. "Ao entrar em um restaurante, todo cliente espera satisfazer desejos de ordem física e emocional. Os cardápios devem vir ao encontro dessas necessidades."

Observe que na frase acima, a expressão 'ao encontro dessa' foi empregada corretamente. Assinale a opção em que esse uso não esteja correto.

- a) As novas políticas públicas vão ao encontro das expectativas da população.
- b) A decisão da empresa foi ao encontro do que os funcionários desejavam.
- c) O gesto de solidariedade veio ao encontro das necessidades dos desabrigados.

d) A reforma educacional vai ao encontro do que especialistas recomendam para melhorar o ensino.

e) As medidas anunciadas pelo governo foram ao encontro das reivindicações dos sindicatos, por isso, houve protesto.

15. Assinale a alternativa que apresenta inadequação do uso de verbo impessoal.

- a) Há muitas dúvidas sobre o tema que será discutido na reunião.
- b) Faz dois anos que nos mudamos para esta cidade.
- c) Vai fazer cinco meses que comecei a trabalhar nesta empresa.
- d) Devem haver explicações detalhadas para esclarecer as questões levantadas.
- e) Pode haver dificuldades no início de um novo projeto, mas elas serão superadas.

16. Assinale a única alternativa abaixo que não apresente linguagem objetiva e literal.

- a) O céu está limpo e azul nesta manhã de primavera.
- b) Ele comprou dois quilos de arroz no mercado ontem.
- c) A ponte foi construída para ligar as duas margens do rio.
- d) O relógio da sala marca exatamente dez horas da manhã.
- e) A amizade é a ponte que une os corações distantes.

17. Assinale a alternativa em que houve troca indevida de 'onde' e 'aonde'.

- a) Este é o restaurante **onde** sempre vamos aos domingos.
- b) O parque **onde** fizemos o piquenique está muito bem cuidado.
- c) Visitamos o museu **onde** há uma exposição sobre história antiga.
- d) Ele não sabia **onde** havia deixado os documentos importantes.
- e) A cidade **onde** nasci é conhecida por suas belas praias.

18. Assinale a alternativa em que o verbo destacado apresenta outra flexão correta.

- a) A família é o alicerce que nos sustenta nos momentos difíceis.
- b) Cada família tem suas próprias histórias, tradições e memórias únicas.
- c) Família é um grupo de pessoas que têm as chaves do mesmo lugar.
- d) Em uma família, os desafios são enfrentados juntos, e as alegrias são multiplicadas.
- e) A verdadeira riqueza de uma pessoa está no carinho e no apoio de sua família.

19. "Família é o grupo de pessoas unidas pelo sangue e o amor, mas separadas pelo dinheiro."

Sobre a frase acima, assinale a alternativa correta.

- a) A família é incapaz de superar suas diferenças financeiras, levando sempre à separação.
- b) O dinheiro é mais poderoso do que o sangue e o amor dentro de uma família.
- c) A família é definida exclusivamente por laços financeiros e materiais.
- d) Apesar dos laços de sangue e amor, questões financeiras frequentemente geram conflitos e distanciamento entre familiares.
- e) O dinheiro é irrelevante para as relações familiares, pois os laços emocionais são mais fortes.

20. Assinale a alternativa em que o termo 'apenas' tenha sido usado com valor semântico diferente dos demais.

- a) **Apenas** quero descansar depois de um dia tão cansativo.
- b) Ele falou tudo aquilo, mas foi **apenas** por impulso.
- c) **Apenas** as crianças menores podem participar da atividade especial.
- d) O filme foi **apenas** incrível! Nunca imaginei que seria tão bom.
- e) Ela foi ao encontro de todos, mas chegou **apenas** ao final.

MATEMÁTICA

Carlos Henrique


21. Em uma marcenaria, há um recipiente com 18 pregos e 22 arrebites. Todos os pregos têm o mesmo peso, todas os arrebites têm o mesmo peso e o peso total de todas as peças é de 214g. Sabendo-se que um arrebite e um prego pesam juntos 11g, concluímos que o peso de um prego é de:

- a) 4g
- b) 5g
- c) 6g
- d) 7g
- e) 8g

22. Em um belo dia de agosto, Carlos Henrique saiu de casa com apenas algum dinheiro físico e foi dar um passeio em Copacabana. Carlos Henrique gastou $\frac{1}{4}$ do que possuía e mais R\$ 60,00 no café da manhã; posteriormente, no almoço, $\frac{1}{3}$ do que restava e ainda ficou com R\$ 80,00. Com que valor Carlos Henrique saiu de casa?

- a) R\$ 150,00
- b) R\$ 175,00
- c) R\$ 200,00
- d) R\$ 240,00
- e) R\$ 300,00

23. O malévolo Silvio Sande, professor de Contabilidade do Estratégia Concursos, colocou o gatinho da aluna Li no alto de uma árvore. Li colocou uma escada junto à árvore para ajudar o gato a descer.



Sabendo que o gato estava a uma altura de 8 metros e a base da escada estava posicionada a 6 metros do pé da árvore, qual o comprimento da escada utilizada para salvar o gatinho?

- a) 15 metros.
- b) 10 metros.
- c) 13 metros.
- d) 20 metros.
- e) 25 metros

24. Em um jogo de pôquer, independentemente do valor das fichas, uma ficha preta equivale a 5 fichas verdes, uma verde equivale a duas azuis, uma azul equivale a 2 vermelhas e uma vermelha a 5 brancas. Dessa forma, 8 fichas verdes são equivalentes a

- a) 1 preta, 5 azuis e 2 vermelhas.
- b) 1 preta, 5 azuis e 5 brancas.
- c) 1 preta, 5 azuis e 15 brancas.
- d) 10 azuis, 10 vermelhas e 5 brancas.
- e) 10 azuis, 15 vermelhas e 10 brancas.

25. A professora Adriana possui um lindo aquário em seu apartamento e cria peixes coloridos nele. O aquário de Adriana tem a forma de um paralelepípedo e mede 0,60m de largura, 1,50m de comprimento e 0,95m de altura. Em um belo dia de verão, estando o aquário com certa quantidade de água, Adriana colocou um pedaço de madeira de enfeite. A madeira ficou totalmente coberta pela água e Adriana mediu o nível da água constatando que o nível subiu 0,3 cm. Então, Adriana calculou que o volume do pedaço de madeira era:

- a) 2700 cm³
- b) 2500 cm³
- c) 2400 cm³
- d) 2000 cm³
- e) 3000 cm³

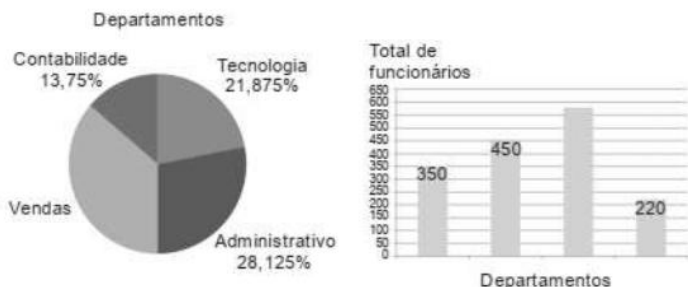
26. Sistemáticamente, Silvio Sande (sim, o mesmo professor que colocou o gatinho no alto da árvore) e CH vão a um mesmo restaurante: Silvio Sande a cada 15 dias e CH a cada 18 dias. Se em 10 de outubro de 2024 ambos estiveram em tal restaurante, outro provável encontro dos dois nesse restaurante ocorrerá em:

- a) 10 de janeiro de 2025
- b) 9 de janeiro de 2025
- c) 8 de janeiro de 2025
- d) 10 de dezembro de 2024
- e) 9 de dezembro de 2024

27. Para executar a tarefa de confecção de 111 vestidos, três costureiras dividiram o total de vestidos entre si, na razão inversa de suas respectivas idades: 24, 30 e 36 anos. Assim sendo, a costureira de 30 anos fez

- a) 2 vestidos a mais do que o de 24 anos.
- b) 4 vestidos a menos do que o de 36 anos.
- c) 4 vestidos a menos do que o de 24 anos.
- d) 6 vestidos a menos do que o de 36 anos.
- e) 9 vestidos a menos do que o de 24 anos.

O Estratégia concursos emprega vários funcionários distribuídos por quatro departamentos, que são: contabilidade, tecnologia, vendas e administrativo. Ambos os gráficos abaixo mostram a distribuição desses funcionários pelos departamentos da empresa.



28. A análise dos gráficos permite concluir corretamente que o total de funcionários do Estratégia Concursos que trabalham no setor de vendas é:

- a) 550
- b) 560
- c) 570
- d) 580
- e) 590

29. Em um gráfico de setores calcule o ângulo correspondente ao setor de Contabilidade

- a) 48°
- b) $49,5^\circ$
- c) 51°
- d) $52,5^\circ$
- e) 55°

30. Ronaldinho dividiu dois números inteiros positivos em sua calculadora e obteve como resultado a dízima periódica $0,454545\dots$. Se a divisão tivesse sido feita na ordem inversa, o resultado obtido por Ronaldinho teria sido igual a:

- a) 2,2222...
- b) 2,22
- c) 2,0
- d) 2,2
- e) 2,222

Baseado no texto abaixo, resolva as questões **31** e **32**.

O Estratégia Concursos promoveu uma reunião entre os professores. Em um certo intervalo, 20% das mulheres deixaram a sala de reunião e o número de professoras ficou igual a $\frac{3}{5}$ do número de professores homens. Se, com a saída das mulheres, o grupo passou a ser de 320 pessoas:

31. Depois da saída das mulheres, qual é nova porcentagem de homens?

- a) 62,5%
- b) 84%
- c) 60%
- d) 64,5%
- e) 37,5%

32. Qual é a quantidade original de pessoas na reunião?

- a) 340
- b) 350
- c) 360
- d) 370
- e) 380

33. Após vender um automóvel, João dividiu totalmente a quantia que recebeu em pagamento entre sua esposa, seus dois filhos e sua sobrinha. A divisão foi feita do seguinte modo:

- a filha e o filho receberam a metade do total na razão de 4 para 3, respectivamente;
- sua esposa Maria recebeu o dobro do valor recebido pelo filho;
- a sobrinha recebeu R\$ 15.000,00

Nessas condições, a quantia total recebida pela venda de tal imóvel foi:

- a) R\$ 140.000,00
- b) R\$ 154.000,00
- c) R\$ 210.000,00
- d) R\$ 224.000,00
- e) R\$ 280.000,00

34. Considere que a média do peso de 5 pessoas, juntas em um elevador, seja de 68 kg. Se, em determinado andar, mais um indivíduo entrar no elevador, sem que dele ninguém desça, e a média aritmética dos pesos dessas 6 pessoas passar a ser de 70 kg, esse sexto indivíduo pesa

- a) 68,3 kg.
- b) 69 kg
- c) 70 kg.
- d) 80 kg.
- e) 82 kg.

35. Em um órgão público A, há 360 canetas, algumas pretas, outras roxas e não há canetas com tinta de outra cor. Das canetas, 60% são de cor preta. Algumas canetas roxas são levadas para outro órgão público B o que faz com que a porcentagem de canetas pretas dentro órgão público A passe a ser de 90%. Quantas canetas roxas foram levadas para o órgão público B?

- a) 120.
- b) 110.
- c) 100.
- d) 90.
- e) 50.

INFORMÁTICA

Emannuelle Gouveia

36. Sobre a Agenda do Google, marque a alternativa correta:

- a) Permite o download de arquivos existentes no drive
- b) Ao ser acessada já exibe a data atual marcada e as respectivas tarefas existentes
- c) Possibilita a integração com chamadas de vídeo on-line
- d) Permite que o usuário corrente acesse a agenda de todos os usuários do computador.
- e) Permite a manipulação de compromissos de todos os seus subordinados.

37. Sobre o Teams, responda.

- a) É uma ferramenta de aplicativo de email oferecido pelo pacote da Microsoft.
- b) Foi desenvolvida pela Google e é uma ferramenta corporativa completa.
- c) O Microsoft Teams é o hub de trabalho em equipe no Microsoft 365.
- d) Realiza apenas videoconferência e atividades de vídeo
- e) Só pode ser utilizado em plataformas off-line

38. Das letras abaixo, marque aquela que representa um nome de arquivo válido no Windows.

- a) @relatorioteste.txt
- b) relatório:teste.txt
- c) *relatórioteste*.txt
- d) relatorioteste?.txt
- e) relatório>teste.txt

39. No Word, o texto abaixo recebeu que formatação

TESTANDO A FORMATAÇÃO Disponível

- a) tachado e sobrescrito
- b) todas em maiúscula e sobrescrito
- c) versalete e sobrescrito
- d) todas em maiúscula e subscrito
- e) versalete e subscrito

40. No Excel o usuário digitou a fórmula =F2+C\$5 na célula D2 e arrastou para a célula D5. O que aparecerá em D5?

- a) =F2+C\$5
- b) =F5+C\$5
- c) =\$F\$2+C\$5
- d) =I5+C\$5
- e) =I2+C\$5

HISTÓRIA GERAL E DO BRASIL

Alê Lopes

41. Sobre a Era Vargas (1930-1945) e os desdobramentos políticos e sociais do período, avalie as afirmativas a seguir e assinale (V) para a verdadeira e (F) para a falsa.

- () A Revolução de 1930 representou o fim da política do café com leite, consolidando o controle de Getúlio Vargas sobre o poder e iniciando um período de centralização política no Brasil.
- () Durante o Estado Novo, Vargas implementou medidas autoritárias, como o fechamento do Congresso, a censura à imprensa e a criação da CLT, demonstrando seu alinhamento exclusivo com ideais fascistas.
- () A política externa brasileira durante a Segunda Guerra Mundial foi marcada por sua adesão aos Aliados e pela participação da Força Expedicionária Brasileira (FEB) no teatro de guerra europeu.

As afirmativas são, na ordem apresentada, respectivamente:

- a) V – F – V.
- b) F – V – F.
- c) V – V – F.
- d) F – F – V.
- e) V – F – F.

42. Desde sua criação em 1889, a República no Brasil foi marcada pela alternância de poder entre elites regionais, com forte influência das oligarquias cafeicultoras. A Revolução de 1930 rompeu esse arranjo e introduziu um novo período na história política brasileira. No entanto, as mudanças anunciadas pelo novo governo nem sempre significaram rupturas totais com práticas anteriores.

Com base nesse contexto, assinale a afirmativa correta:

- a) A Revolução de 1930 promoveu a imediata democratização do sistema político brasileiro, com destaque para a incorporação das massas populares no processo eleitoral.
- b) Apesar de romper com a política do café com leite, a Revolução de 1930 consolidou Vargas no poder, mantendo alianças com setores das elites regionais e urbanas.
- c) A Revolução de 1930 foi liderada exclusivamente por movimentos de esquerda, que buscavam implantar um sistema socialista no Brasil.
- d) A Revolução de 1930 teve caráter exclusivamente econômico, com foco na superação da crise do café, sem alterações no campo político.
- e) A Revolução de 1930 contou com amplo apoio internacional, especialmente dos Estados Unidos, que buscavam influenciar o cenário político brasileiro.

43. “O voto direto, universal e secreto para todos os cidadãos brasileiros, independentemente de sexo, foi uma inovação incorporada em uma das Constituições brasileiras, marcando um avanço nos direitos políticos no país.”

O trecho descreve uma inovação trazida pela Constituição de

- a) 1891.
- b) 1934.
- c) 1946.
- d) 1967.

e) 1988.

44. Com base nos princípios de Wilson, a Liga das Nações seria um organismo internacional para promover a cooperação entre os povos e garantir a paz e a segurança. Entretanto, sua eficácia foi limitada, especialmente devido à ausência dos Estados Unidos e à incapacidade de lidar com as tensões que levaram à Segunda Guerra Mundial.

Sobre o contexto internacional no período pós-Primeira Guerra Mundial e as dificuldades enfrentadas pela Liga das Nações, assinale a alternativa correta:

- a) A Liga das Nações contou com a adesão imediata de todos os países vencedores da Primeira Guerra Mundial, incluindo os Estados Unidos, que lideraram suas ações diplomáticas.
- b) A Liga das Nações foi criada como parte dos Acordos de Munique, com o objetivo de evitar a expansão da Alemanha nazista.
- c) A eficácia da Liga das Nações foi limitada pela ausência dos Estados Unidos, que, apesar de terem proposto sua criação, não aderiram devido à política isolacionista.
- d) A Liga das Nações conseguiu evitar conflitos entre potências europeias ao longo da década de 1930, garantindo a estabilidade no continente.
- e) A Liga das Nações foi dissolvida após o Tratado de Versalhes, considerado obsoleto com a ascensão do nazismo na Alemanha.

45. Os anos após a Grande Guerra foram marcados por transformações econômicas, sociais e políticas profundas. O Tratado de Versalhes impôs à Alemanha pesadas sanções, que alimentaram ressentimentos e criaram as condições para o crescimento de movimentos extremistas. Enquanto isso, o colapso econômico global de 1929 aprofundou as tensões, abrindo caminho para governos autoritários em várias partes do mundo."

MAZOWER, Mark. Sombras do Século XX. São Paulo: Companhia das Letras

Sobre as transformações políticas e econômicas no período entre as duas guerras mundiais, assinale a alternativa correta:

- a) O Tratado de Versalhes proporcionou uma recuperação econômica imediata para os países europeus, incluindo a Alemanha, que aderiu pacificamente às suas cláusulas.
- b) A crise econômica de 1929 teve impacto limitado na Europa, permitindo que os regimes democráticos se consolidassem em países como Itália e Alemanha.
- c) O ressentimento gerado pelas condições do Tratado de Versalhes e a crise econômica global contribuíram para a ascensão de movimentos extremistas na Alemanha e na Itália.
- d) A Sociedade das Nações conseguiu evitar a disseminação de governos autoritários na Europa durante os anos 1930.
- e) O período entre guerras foi marcado pela completa estabilidade política e econômica, garantindo a paz na Europa até 1939.

GEOGRAFIA GERAL E DO BRASIL

Sérgio Henrique

46. Fases de Evolução do Capitalismo Industrial

No sistema capitalista, o processo de pesquisa e desenvolvimento que leva à inovação é desenvolvido dentro das próprias empresas. Nesse

processo permanente de criação, quando uma empresa cria um novo produto ou uma tecnologia mais eficiente, inicia-se o processo de destruição do velho ou da que está sendo usada.

Assim, é possível identificar, ao longo do tempo, os chamados ciclos da economia mundial, isto é, períodos dominados por determinadas tecnologias.

Sobre os grandes ciclos do capitalismo mundial, analise as afirmações a seguir.

- I. O primeiro ciclo (do final do século XVIII à segunda metade do XIX) é caracterizado pelas inovações da indústria têxtil, pelo uso do alto forno na metalurgia do ferro, pela ampliação do uso do vapor como força motriz das máquinas e pelo rápido crescimento das ferrovias.
- II. O segundo ciclo (da segunda metade do XIX até as últimas décadas do XX) é caracterizado pela ascensão do aço, da eletricidade e da indústria química. É a era do petróleo, dos automóveis, da produção e do consumo de massa, ou seja, da generalização do padrão fordista de produção, graças à expansão dos investimentos estrangeiros e das empresas multinacionais.
- III. O terceiro ciclo (últimas décadas do século XX em diante) tem início com a difusão das tecnologias da informação e comunicação (TICs), com o avanço e a generalização do uso da nanotecnologia, com a biotecnologia e a engenharia genética e com a emergência de outras fontes de energia (solar, eólica, hidroenergia marítima, fusão nuclear e hidrogênio).

Está correto o que se afirma em

- a) II, apenas.
- b) I e II, apenas.
- c) I e III, apenas.
- d) II e III, apenas.
- e) I, II e III.

47. Globalização

Globalização é uma nova palavra para um processo que remonta, em última análise, à expansão da civilização europeia desde o final do século XV. Muitos dos fenômenos apresentados para sugerir o advento de uma nova era constituem a reprodução, sob nova roupagem, de tendências antigas. Mesmo assim, as discussões sobre globalização ou mundialização da economia adquiriram, nas últimas décadas, uma importância estratégica.

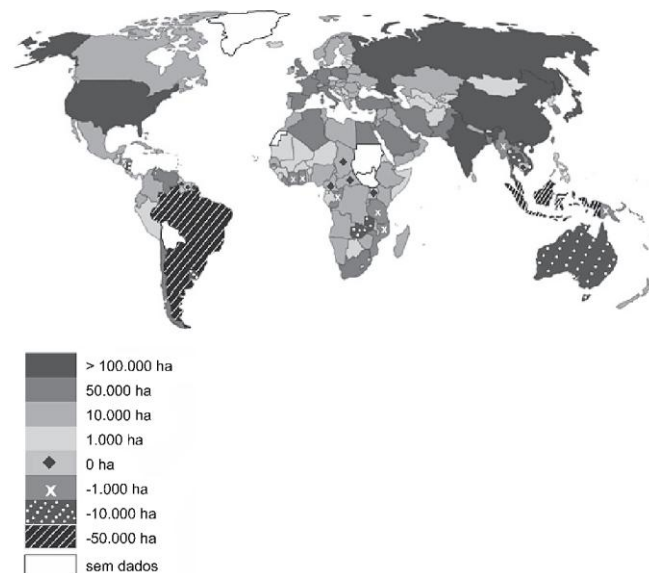
Sobre o processo contemporâneo de mundialização da economia, assinale a afirmação correta.

- a) Os Estados nacionais, em consequência do predomínio das políticas neoliberais, estão sendo compelidos a aumentar sua presença na economia.
- b) A economia globalizada vem sendo crescentemente dominada por empresas nacionais, que apresentam profunda identificação com seu país de origem.
- c) A globalização produziu um sistema econômico fortemente integrado, de caráter supranacional, que tende a enfraquecer as fronteiras nacionais.
- d) A mundialização da economia permitiu a formação de blocos econômicos regionais que conduziram a uma autonomia sem precedentes das economias nacionais.
- e) As transações financeiras internacionais criaram mercados regionais, diante dos quais a autonomia das políticas nacionais e a dos bancos centrais tendem a desaparecer.

48. Desmatamento e Atividades Econômicas

Analise o mapa.

Desmatamento líquido¹ no comércio de cada país, 2013



(<https://ourworldindata.org>. Adaptado.)

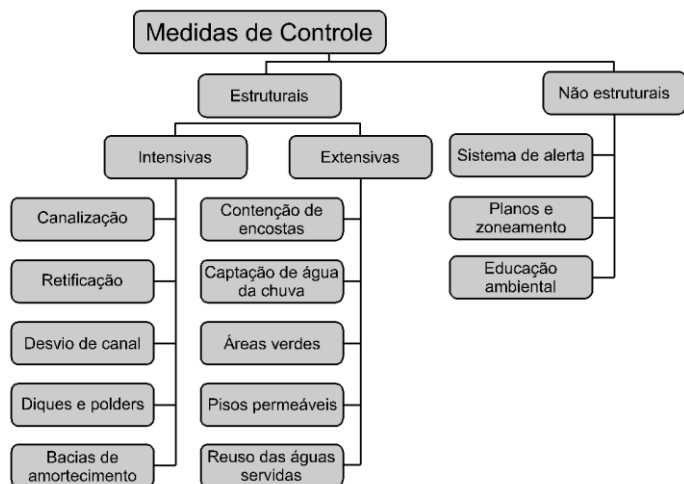
¹ desmatamento líquido: diferença entre o desmatamento importado e o desmatamento exportado.

Considerando conhecimentos sobre o comércio mundial e sabendo que, quanto maior o desmatamento líquido, maior é o desmatamento promovido em outros países, afirma-se que

- a) o alto índice de desmatamento líquido está relacionado com a importação de produtos biotecnológicos.
- b) o baixo índice de desmatamento líquido está relacionado com a exportação de produtos manufaturados.
- c) o alto índice de desmatamento líquido está relacionado com a importação de produtos agrícolas.
- d) o baixo índice de desmatamento líquido está relacionado com a importação de produtos minerais.
- e) o alto índice de desmatamento líquido está relacionado com a exportação de produtos bioenergéticos.

49. Problemas Socioambientais Urbanos e Ações de Mitigação

Examine o esquema, com medidas que auxiliam no controle de um dado evento.



(Antonio José T. Guerra. *Geomorfologia urbana*, 2011. Adaptado.)

O evento que envolve tais medidas de controle corresponde

- a) ao desmatamento em zonas periurbanas.
- b) à poluição de aquíferos em áreas de recarga.
- c) às enchentes em áreas urbanas.
- d) à intermitência de rios em regiões áridas.
- e) ao preparo dos solos para o cultivo em áreas rurais.

50. O Desmatamento da Mata Atlântica

Analise o mapa a seguir.



(Fonte: IBGE)

Em 2022, pouco mais de 10% do bioma Mata Atlântica original estão preservados.

Assinale a opção que apresenta, corretamente, uma razão para a afirmação acima.

- a) No século XVI, a produção de energia: a floresta, ao ser queimada, produz lenha para as vilas e núcleos urbanos e nutrientes para o solo.
- b) No século XVII, a economia canieira: a cana-de-açúcar precisa de certas condições ambientais para crescer, principalmente umidade.
- c) No século XXI, o crescimento das cidades: a especulação imobiliária incorpora as áreas florestadas ao espaço urbano como indicador de bem-estar e qualidade de vida.
- d) No século XX, o crescimento econômico: a exportação de madeira garante o acesso aos mercados internacionais de recursos naturais e estabilizava a balança comercial.
- e) No século XIX, a economia cafeeira: a expansão da cafeicultura, inicialmente no Vale do Paraíba e, depois, no Planalto Paulista, se dá pela incorporação de novas áreas florestais.

ATUALIDADES*Rodolfo Gracioli*

51. Em setembro de 2024, o presidente Luiz Inácio Lula da Silva sancionou um projeto de lei (PL) que prevê mudanças nas regras de concursos públicos federais. Dentre as mudanças, consta:

- a) Reserva de um percentual específico de 10% para pessoas idosas
- b) Permite que certames da União sejam realizados pela internet
- c) Apenas cargos com vacância de mais de 20% poderão abrir novos concursos
- d) As bancas examinadoras deverão passar por comissão de avaliação do governo
- e) Necessidade do candidato residir na unidade federativa em que pleiteia o cargo

52. "Ainda Estou Aqui" faturou R\$ 1 milhão no primeiro dia de exibição no Brasil. O filme brasileiro que consta na lista prévias de indicados ao Oscar retrata:

- a) O drama de famílias refugiadas da Venezuela e a importância da Operação Acolhida.
- b) A biografia de Maria da Penha, que inspira a lei de combate à violência doméstica.
- c) A luta de Eunice Paiva em busca de explicações sobre o desaparecimento do marido durante a Ditadura Militar.
- d) A trajetória política do ex-presidente Getúlio Vargas, conhecido como pai dos pobres.
- e) A história do surgimento do samba no Brasil, a partir da visão de Alcione.

53. Sobre o prêmio Nobel 2024, assinale a alternativa **incorreta**:

- a) O Nobel de Medicina coroou pesquisas sobre microRNA e seu papel na regulação genética.
- b) O Nobel de Física destacou o aprendizado de máquina com redes neurais artificiais
- c) O Nobel de Química premiou pesquisas que decifraram proteínas com uso de inteligência artificial e computação.
- d) O Nobel de Economia celebrou pesquisas sobre a diferença de prosperidade entre as nações.
- e) O Nobel da Paz foi concedido a instituição venezuelana que se opõe ao regime do atual presidente Nicolás Maduro.

54. A 29ª Conferência das Nações Unidas sobre Mudanças Climáticas (COP29), que aconteceu em Baku, no Azerbaijão, foi acompanhada de perto pela imprensa internacional. Diante da crise climática, a pressão com relação ao relatório final foi grande. O destaque do texto final foi:

- a) A meta de eliminar integralmente o uso de combustíveis fósseis até 2040, com destaque para a produção de veículos elétricos.
- b) O acordo que prevê US\$ 300 bilhões por ano que os países ricos deverão doar a países em desenvolvimento, até 2035.
- c) A obrigatoriedade dos países preverem plano de risco de desastres ambientais em ações legislativas federais.
- d) O estabelecimento do prazo de 2050 para que todos os países tenham reduzido em pelo menos 35% a emissão de carbono.
- e) A proibição ao uso de agrotóxicos em áreas próximas de cidades a fim de reduzir o risco de contaminação.

55. Em novembro de 2024, a cidade do Rio de Janeiro foi palco da cúpula do G20. Criado em 1999 em resposta à crise financeira global, o G20 é um fórum de cooperação econômica internacional que tem como objetivo debater temas para o fortalecimento da economia internacional e desenvolvimento socioeconômico global. Um dos feitos de tal evento foi idealizado pelo governo brasileiro. Trata-se de uma Aliança Global:

- a) Pela ampliação das campanhas de vacinação
- b) Pelo fim dos casos de racismo
- c) Contra a fome e a pobreza
- d) Contra a homofobia e transfobia
- e) Pela valorização da saúde mental

DIREITO CONSTITUCIONAL

Adriane Fauth

56. Ted estava regando as plantas no jardim de sua moradia, em uma manhã de domingo, quando começou a passar mal. Barney, que transitava na frente do imóvel, assistiu à cena e imediatamente adentrou na casa para prestar socorro a Ted. De acordo com o que estabelece a Constituição Federal, Barney

- a) não agiu corretamente, pois, durante o dia, apenas por determinação judicial é permitido penetrar na casa sem o consentimento do morador.
- b) não agiu corretamente, pois apenas em caso de desastre é permitido penetrar na casa sem o consentimento do morador.
- c) não agiu corretamente, pois a casa é asilo inviolável do indivíduo, ninguém nela podendo penetrar sem consentimento do morador.
- d) não agiu corretamente, pois apenas em caso de flagrante delito é permitido penetrar na casa sem o consentimento do morador.
- e) agiu corretamente, pois é permitido penetrar na casa sem o consentimento do morador para prestar socorro.

57. Soldado Geraldo da Cruz, policial militar da ativa, com 32 anos, ingressou na atividade militar aos 21 anos e pretende se candidatar ao cargo eletivo de deputado federal nas próximas eleições gerais. Com base na Constituição Federal e considerando as informações fornecidas, assinale a alternativa correta:

- a) O soldado poderá se candidatar ao referido cargo eletivo e ficará agregado a autoridade superior e se eleito, passará no ato da diplomação para a inatividade.
- b) O soldado não poderá se candidatar pois não possui idade mínima para disputar o referido cargo.
- c) O soldado não poderá se candidatar, pois aos militares é vedada a filiação partidária enquanto em serviço ativo.
- d) O soldado poderá se candidatar ao referido cargo eletivo, desde que se afaste da atividade.
- e) O soldado poderá se candidatar ao referido cargo eletivo e ficará agregado a autoridade superior e se eleito, passará no ato da diplomação para a inatividade, desde que haja procedimento administrativo instaurado e requerimento do militar.

58. Com relação as disposições constitucionais que versam sobre a Administração Pública, considere os seguintes itens.

- I- a investidura em cargo ou emprego público depende apenas de aprovação prévia em concurso público de provas.
- II- o prazo de validade do concurso público será de até três anos, prorrogável uma vez, por igual período.
- III- A aposentadoria concedida com a utilização de tempo de contribuição decorrente de cargo, emprego ou função pública, inclusive do Regime Geral de Previdência Social, não acarretará o rompimento do vínculo que gerou o referido tempo de contribuição

Está correto apenas o disposto em:

- a) I, II e III.
- b) II e III.
- c) apenas II.
- d) Apenas III.
- e) Nenhuma das assertivas.

59. Com relação aos militares dos estados, analise as afirmativas a seguir.

- I - Cabe habeas corpus para discutir critérios de conveniência e oportunidade das punições disciplinares militares.
 - II – Lei federal disporá sobre os limites de idade para ingresso na Polícia Militar dentre outras condições.
 - III- O oficial só perderá o posto e a patente se for julgado indigno do oficialato ou com ele incompatível, por decisão de tribunal militar de caráter permanente, em tempo de paz, ou de tribunal especial, em tempo de guerra;
- a) Está correta apenas a assertiva I.
 - b) Estão incorretas as assertivas I e II
 - c) Estão corretas as assertivas II e III.
 - d) Estão incorretas as assertivas I, II e III
 - e) Estão corretas as assertivas I e III

LEI Nº 12.527/11
LEI DE ACESSO À INFORMAÇÃO

Rodrigo Bet

60. De acordo com a Lei 12.527/2011, as informações em poder de órgãos e entidades públicas podem ser classificadas em graus de sigilo, considerando a imprescindibilidade de preservação da segurança da sociedade ou do Estado. Sobre essa classificação, é correto afirmar que:

- a) Informações classificadas como ultrassecretas permanecem restritas por 50 anos, em regra, contados da data de sua produção.
- b) Informações classificadas como reservadas ficam sob sigilo pelo prazo máximo de 10 anos, a contar da data de sua produção.
- c) Informações classificadas como secretas possuem prazo máximo de restrição de 20 anos, podendo ser reclassificadas indefinidamente.
- d) Informações que possam colocar em risco a segurança do Presidente e Vice-Presidente da República e de seus cônjuges e filhos(as) são classificadas como reservadas e ficam sob sigilo até o término do mandato em exercício ou do último mandato, em caso de reeleição.
- e) O prazo máximo de restrição para informações classificadas como ultrassecretas é de 20 anos, com possibilidade de prorrogação única por igual período.

O QUE VOCÊ ACHOU DESTE SIMULADO?

Conte-nos como foi sua experiência ao fazer este simulado.

Sua opinião é muito importante para nós!

<https://forms.gle/3RC8pkHLNAnpSnxQ9>

NÃO É ASSINANTE?

Confira nossos planos, tenha acesso a milhares de cursos e participe gratuitamente dos projetos exclusivos. Clique no link!

<http://estrategi.ac/assinaturas>

CONHEÇA NOSSO SISTEMA DE QUESTÕES

Estratégia Questões nasceu maior do que todos os concorrentes, com mais questões cadastradas e mais soluções por professores. Clique no link e conheça!

<http://estrategi.ac/ok1zt0>