



SIMULADO FINAL

TJ SP

Capital

Pós-Edital

Simulado

Simulado Final TJ-SP (Capital)

Nome: _____

INFORMAÇÕES SOBRE O SIMULADO

- 1 - Este simulado conta com questões focadas no concurso para **Capital do TJ-SP**;
- 2 - A prova contém itens que abordam conhecimentos cobrados no edital do concurso;
- 3 - As questões são inéditas e foram elaboradas pelos nossos professores com base no perfil da banca organizadora;
- 4 - Os participantes têm das **8:00h às 13:30h** para responder às questões e preencher o Gabarito Eletrônico;
- 5 - O link para preencher o formulário com seu gabarito está localizado logo após estas instruções;

PREENCHA SEU GABARITO

Clique no link, ou copie e cole no seu navegador, para preencher seu gabarito.

<https://forms.gle/fb4dRRmm6oA86MeDA>

- | | | | | |
|------------|------------|------------|------------|-------------|
| 01 - ABCDE | 21 - ABCDE | 41 - ABCDE | 61 - ABCDE | 81 - ABCDE |
| 02 - ABCDE | 22 - ABCDE | 42 - ABCDE | 62 - ABCDE | 82 - ABCDE |
| 03 - ABCDE | 23 - ABCDE | 43 - ABCDE | 63 - ABCDE | 83 - ABCDE |
| 04 - ABCDE | 24 - ABCDE | 44 - ABCDE | 64 - ABCDE | 84 - ABCDE |
| 05 - ABCDE | 25 - ABCDE | 45 - ABCDE | 65 - ABCDE | 85 - ABCDE |
| 06 - ABCDE | 26 - ABCDE | 46 - ABCDE | 66 - ABCDE | 86 - ABCDE |
| 07 - ABCDE | 27 - ABCDE | 47 - ABCDE | 67 - ABCDE | 87 - ABCDE |
| 08 - ABCDE | 28 - ABCDE | 48 - ABCDE | 68 - ABCDE | 88 - ABCDE |
| 09 - ABCDE | 29 - ABCDE | 49 - ABCDE | 69 - ABCDE | 89 - ABCDE |
| 10 - ABCDE | 30 - ABCDE | 50 - ABCDE | 70 - ABCDE | 90 - ABCDE |
| 11 - ABCDE | 31 - ABCDE | 51 - ABCDE | 71 - ABCDE | 91 - ABCDE |
| 12 - ABCDE | 32 - ABCDE | 52 - ABCDE | 72 - ABCDE | 92 - ABCDE |
| 13 - ABCDE | 33 - ABCDE | 53 - ABCDE | 73 - ABCDE | 93 - ABCDE |
| 14 - ABCDE | 34 - ABCDE | 54 - ABCDE | 74 - ABCDE | 94 - ABCDE |
| 15 - ABCDE | 35 - ABCDE | 55 - ABCDE | 75 - ABCDE | 95 - ABCDE |
| 16 - ABCDE | 36 - ABCDE | 56 - ABCDE | 76 - ABCDE | 96 - ABCDE |
| 17 - ABCDE | 37 - ABCDE | 57 - ABCDE | 77 - ABCDE | 97 - ABCDE |
| 18 - ABCDE | 38 - ABCDE | 58 - ABCDE | 78 - ABCDE | 98 - ABCDE |
| 19 - ABCDE | 39 - ABCDE | 59 - ABCDE | 79 - ABCDE | 99 - ABCDE |
| 20 - ABCDE | 40 - ABCDE | 60 - ABCDE | 80 - ABCDE | 100 - ABCDE |

SIMULADO NO SISTEMA DE QUESTÕES

Clique no link, ou copie e cole no seu navegador, para fazer este simulado também no SQ!

<https://coruja.page.link/uL9X>

LÍNGUA PORTUGUESA*Adriana Figueiredo*

TEXTO 1

A DISCIPLINA DO AMOR

Lygia Fagundes Telles

Foi na França, durante a Segunda Grande Guerra: um jovem tinha um cachorro que todos os dias, pontualmente, ia esperá-lo voltar do trabalho. Postava-se na esquina, um pouco antes das seis da tarde. Assim que via o dono, ia correndo ao seu encontro e na maior alegria acompanhava-o com seu passinho saltitante de volta à casa. A vila inteira já conhecia o cachorro e as pessoas que passavam faziam-lhe festinhas e ele correspondia, chegava até a correr todo animado atrás dos mais íntimos. Para logo voltar atento ao seu posto e ali ficar sentado até o momento em que seu dono apontava lá longe.

Mas eu avisei que o tempo era de guerra, o jovem foi convocado. Pensa que o cachorro deixou de esperá-lo? Continuou a ir diariamente até a esquina, fixo o olhar naquele único ponto, a orelha em pé, atenta ao menor ruído que pudesse indicar a presença do dono bem-amado. Assim que anoitecia, ele voltava para casa e levava sua vida normal de cachorro, até chegar o dia seguinte. Então, disciplinadamente, como se tivesse um relógio preso à pata, voltava ao posto de espera. O jovem morreu num bombardeio, mas no pequeno coração do cachorro, não morreu a esperança. Quiseram prendê-lo, distraí-lo. Tudo em vão. Quando ia chegando aquela hora, ele disparava para o compromisso assumido, todos os dias.

Todos os dias, com o passar dos anos (a memória dos homens!), as pessoas foram se esquecendo do jovem soldado que não voltou. Casou-se a noiva com um primo. Os familiares voltaram-se para outros familiares. Os amigos para outros amigos. Só o cachorro já velhíssimo (era jovem quando o jovem partiu) continuou a esperá-lo na sua esquina.

As pessoas estranhavam, mas quem esse cachorro está esperando? Uma tarde (era inverno), ele lá ficou, o focinho voltado para aquela direção.

TELLES, Lygia Fagundes. A disciplina do amor. Disponível em: <
<http://claricemenezes.com.br/2018/02/05/a-disciplina-doamor/>>. Acesso
em jan. 2019.

01. De acordo com o texto,

- a) O cão não se relacionava bem com as outras pessoas que moravam na vila.
- b) O jovem não cuidava bem do cachorro, e eram as pessoas da vila que tomavam conta do animal.
- c) O jovem chegava em casa sempre depois das seis da tarde.
- d) O cachorro sempre esperava seu dono no mesmo horário, mesmo quando este estava na guerra.
- e) O cão sentiu a morte do dono em seu coração, ainda que tivesse esperança de encontrá-lo.

02. Infere-se do texto que

- a) o cachorro morreu esperando o dono.
- b) o jovem pressentia que seu cachorro o estava esperando.
- c) as pessoas da vila também esperavam pelo retorno do jovem.
- d) o cachorro não gostava de receber os afagos das pessoas que passavam por ele.
- e) a família do jovem não queria que ele voltasse da guerra.

03. O narrador explora como assunto principal do texto

- a) as consequências da Segunda Grande Guerra.
- b) a pontualidade dos animais domésticos.
- c) a fidelidade de um cachorro a seu dono.
- d) a fugacidade das relações entre as pessoas.
- e) a jornada extenuante de trabalho do jovem.

04. No trecho “Assim que via o dono, ia correndo ao seu encontro e na maior alegria acompanhava-o com seu passinho saltitante de volta à casa” (1º parágrafo), os pronomes destacados se referem, respectivamente, a

- a) cachorro e cachorro
- b) jovem e dono
- c) dono e cachorro
- d) esquina e cachorro
- e) cachorro e dono

05. Assinale a alternativa em que o primeiro termo destacado é um adjetivo, e o segundo, um substantivo.

- a) “um pouco antes das **seis da tarde**” (1º parágrafo)
- b) “na maior **alegria** acompanhava-o com seu passinho **saltitante**” (1º parágrafo)
- c) “Continuou a ir **diariamente** até a **esquina**” (2º parágrafo)
- d) “levava sua **vida** normal de **cachorro**” (2º parágrafo)
- e) “era **jovem** quando o **jovem** partiu” (3º parágrafo)

06. Observe as preposições destacadas nas passagens.

- chegava até a correr todo animado atrás dos mais íntimos (1º parágrafo)
- Continuou a ir diariamente até a esquina (2º parágrafo)
- Assim que anoitecia, ele voltava para casa (2º parágrafo)

Essas preposições estabelecem, nos respectivos contextos, relações de sentido de

- a) Inclusão; limite; direção.
- b) Inclusão; inclusão; direção.
- c) Inclusão; limite; finalidade.
- d) limite; limite; finalidade.
- e) modo; limite; finalidade.

07. O trecho “Tudo em vão. Quando ia chegando aquela hora, ele disparava para o compromisso

assumido, todos os dias.” pode ser reescrito da seguinte forma, sem perda de sentido:

- a) Tudo em vão, no entanto, quando ia chegando aquela hora, ele disparava para o compromisso assumido, todos os dias.
- b) Embora fosse tudo em vão, quando ia chegando aquela hora, ele disparava para o compromisso assumido, todos os dias.
- c) Tudo em vão, à medida que, quando ia chegando aquela hora, ele disparava para o compromisso assumido, todos os dias.
- d) Tudo em vão, uma vez que, quando ia chegando aquela hora, ele disparava para o compromisso assumido, todos os dias.
- e) Tudo em vão, desde que, quando fosse chegando aquela hora, ele disparava para o compromisso assumido, todos os dias.

TEXTO 2

As crianças de hoje estão crescendo numa nova realidade, na qual estão conectadas mais a máquinas e menos a pessoas, de uma maneira que jamais aconteceu na história da humanidade. A nova safra de nativos do mundo digital pode ser muito hábil nos teclados, mas encontra dificuldades quando se trata de interpretar comportamentos alheios frente a frente, em tempo real.

Um estudante universitário observa a solidão e o isolamento que acompanham uma vida reclusa ao mundo virtual de atualizações de status e “postagens de fotos do meu jantar”. Ele lembra que seus colegas estão perdendo a habilidade de manter uma conversa, sem falar nas discussões profundas, capazes de enriquecer os anos de universidade. E acrescenta: “Nenhum aniversário, show, encontro ou festa pode ser desfrutado sem que você se distancie do que está fazendo”, para que aqueles no seu mundo virtual saibam instantaneamente como está se divertindo.

De algumas maneiras, as intermináveis horas que os jovens passam olhando fixamente para aparelhos eletrônicos podem ajudá-los a adquirir habilidades cognitivas específicas. Mas há preocupações e questões sobre como essas mesmas horas podem levar a déficits de habilidades emocionais, sociais e cognitivas essenciais.

(Adaptado de: GOLEMAN, Daniel. Foco: a atenção e seu papel fundamental para o sucesso. Trad. Cássia Zanon. Rio de Janeiro, Objetiva, 2013, p. 29-30)

08. De acordo com informações presentes no texto, é correto afirmar que

- a) A nova geração terá dificuldades para manter relacionamentos duradouros.
- b) A maior dificuldade enfrentada pelos nativos digitais são as interações pessoais.
- c) Estudantes universitários têm maior facilidade em sustentar uma conversa.
- d) Os jovens estão cada vez menos aptos a engajar em debates profundos
- e) O mundo virtual é mais divertido que o mundo real.

09. Na opinião do autor,

- a) a constante conexão aos aparelhos eletrônicos não tem relação com o desenvolvimento intelectual dos jovens.
- b) a atenção exagerada que se dá aos meios virtuais tem por efeito o surgimento de problemas na interação social.
- c) a superficialidade das interações nas redes sociais é fruto da redução da importância de eventos coletivos.
- d) o isolamento no mundo virtual se torna preocupante apenas quando o jovem deixa de frequentar eventos sociais.
- e) o ambiente virtual tornou-se mais atraente ao jovem na medida em que este se viu inábil para lidar com conflitos reais.

10. As palavras destacadas, nos segmentos acima, têm, correta e respectivamente, antônimo e sinônimo adequados aos contextos em:

- a) inepto; aproveitado
- b) capaz; curtido
- c) incapaz; desaprovado
- d) apto; detestado
- e) impróprio; debochado

11. No trecho “A nova safra de nativos do mundo digital pode ser muito hábil nos teclados, mas encontra dificuldades quando se trata de interpretar comportamentos alheios frente a

frente, em tempo real” (1º parágrafo), a expressão destacada pode ser substituída, sem prejuízo do sentido e da correção gramatical do trecho, por:

- a) embora
- b) ainda que
- c) entretanto
- d) portanto
- e) conquanto

12. Assinale a alternativa em que, na reescrita da passagem – Um estudante universitário observa a solidão e o isolamento que acompanham uma vida reclusa ao mundo virtual (2º parágrafo) –, a forma verbal destacada confere sentido de conjectura ao enunciado.

- a) Um estudante universitário observa a solidão e o isolamento que **têm acompanhado** uma vida reclusa ao mundo virtual.
- b) Um estudante universitário observa a solidão e o isolamento que **acompanhariam** uma vida reclusa ao mundo virtual.
- c) Um estudante universitário observa a solidão e o isolamento que **acompanharam** uma vida reclusa ao mundo virtual.
- d) Um estudante universitário observa a solidão e o isolamento que **acompanhavam** uma vida reclusa ao mundo virtual.
- e) Um estudante universitário observa a solidão e o isolamento que **tinham acompanhado** uma vida reclusa ao mundo virtual.

13. No trecho “De algumas maneiras, as intermináveis horas que os jovens passam olhando fixamente para aparelhos eletrônicos podem ajudá-los a adquirir habilidades cognitivas específicas” (3º parágrafo), é possível incluir uma vírgula antes e outra depois da expressão:

- a) intermináveis
- b) jovens
- c) fixamente
- d) aparelhos eletrônicos
- e) habilidades

14. Assinale a alternativa em que o vocábulo destacado foi empregado em sentido figurado.

- a) A nova safra de nativos do mundo digital (1º parágrafo)
- b) Um estudante universitário observa a solidão e o isolamento (2º parágrafo)
- c) seus colegas estão perdendo a habilidade de manter uma conversa (2º parágrafo)
- d) para que aqueles no seu mundo virtual saibam instantaneamente como está se divertindo (2º parágrafo)
- e) podem ajudá-los a adquirir habilidades cognitivas específicas (3º parágrafo)

15. A frase que segue a norma-padrão de regência e de emprego do sinal indicativo de crase se encontra em:

- a) Deves informar os engenheiros que a fiscalização verificará também a obediência à nova lei ambiental.
- b) O homem foi naquela plantação de eucaliptos na zona rural para verificar à biodiversidade local.
- c) O reconhecimento permite àquele que trabalha transformar o seu sofrimento em desenvolvimento.
- d) Muitos casais ficavam na igreja a espera da bênção do padre.
- e) O espetáculo leva o público à relacionar o abuso do poder com as falhas na aplicação da lei.

16. Assinale a alternativa em que a frase está em conformidade com a norma-padrão de concordância verbal.

- a) Já faziam dez anos que tinha saído de Roraima.
- b) Tudo estava bem, como se não houvessem ameaças.
- c) Cada uma das fotos podem se transformar em arte por bons fotógrafos.
- d) É comum que as fotografias da pessoa amada amenize a saudade.
- e) Em 1975, criaram-se as primeiras câmeras digitais.

17. A concordância nominal e a verbal estão em conformidade com a norma-padrão em:

- a) Segue anexa as propostas do nosso projeto.
- b) O diretor afirmou que é necessário reflexão neste caso.
- c) O grupo de alunas pareciam bastantes envergonhadas.
- d) Há bastante alunos na sala de aula.
- e) As candidatas chegaram meia cansadas.

18. Assinale a alternativa em que a forma verbal destacada está flexionada em conformidade com a norma-padrão.

- a) A polícia entreviu tardiamente no assalto.
- b) O autor estaria disposto a trabalhar no que lhe convisse.
- c) Se o governo propor mudanças, será possível melhorar sua imagem.
- d) Antes do jantar, a criançada se entretia com jogos eletrônicos.
- e) A velhinha remedeia seus problemas de saúde com uma alimentação saudável.

Considere as frases:

- Os dados publicados trazem elementos para refletirmos.
- João não perdoou a dívida ao amigo.

19. De acordo com a norma-padrão de emprego de pronomes e colocação pronominal, as passagens admitem, respectivamente, as reescritas:

- a) trazem-nos; lhe perdoou.
- b) trazem-lhes; o perdoou.
- c) os trazem; o perdoou.
- d) lhes trazem; lhe perdoou
- e) trazem-nos; perdoou-lhe.

20. Na frase – O jovem dizia ser o seu patrão como uma cobra: mordida e soprava. –, os dois-pontos foram empregados para

- a) mostrar uma concessão.
- b) explicar uma ideia.
- c) realçar um termo.
- d) retificar uma informação.
- e) generalizar o que será dito adiante.

Reprimir a violência de pais e educadores talvez quebre o círculo vicioso _____ tendemos a reproduzir a violência _____ fomos vítimas.

21. Assinale a alternativa que completa, correta e respectivamente, as lacunas do texto.

- a) do qual; da qual
- b) pelo qual; a qual
- c) pelo qual; da qual
- d) com o qual; que
- e) no qual; com a qual

22. A relação de causa e consequência, respectivamente, entre as informações está corretamente evidenciada na frase:

- a) Tomava muito remédio, mas vivia indo ao médico com problemas de pressão alta.
- b) Para mim, não há verdades indiscutíveis, embora acredite em determinados valores e princípios.
- c) Pediram para mudar a pauta do jornal, porque Tancredo não tomaria posse.
- d) É preciso equilibrar as contas públicas para evitar um colapso em setores importantes.
- e) A relação entre povo e futebol é tão profunda, que muitos brasileiros esquecem que o futebol foi inventado na Inglaterra.

23. Assinale a alternativa em que a pontuação está em conformidade com a norma-padrão.

- a) Nos últimos tempos, nota-se que, bens de consumo como celulares e computadores, que eram artigos de luxo estão ao alcance do povo.

b) É importante que, em todos os bairros das grandes e pequenas cidades a internet seja considerada o principal meio de comunicação.

c) As novas tecnologias da comunicação e da informação, já existem há algum tempo.

d) Ansiosos, os candidatos aguardavam, em fila, o resultado do concurso.

e) O prestígio da internet, é tão grande que, se ela desaparecesse muitas pessoas ficariam desempregadas pois empresas seriam fechadas.

24. Assinale a alternativa em que é possível substituir o vocábulo *lhe* por *o*, sem prejuízo da norma-padrão.

- a) Faltavam-lhe o carisma e a intensidade.
- b) A mídia chamou-lhe salvador da pátria.
- c) Uma vez *lhe* pediram que fosse júri de um concurso.
- d) Parece-lhe que a lei tem de ser acessível sempre a todos.
- e) Apertei-lhe a mão firmemente.

DIREITO PENAL

Renan Araújo

25. Sobre os crimes contra a fé pública, assinale a alternativa correta:

- a) A adulteração de testamento particular configura o crime de falsificação de documento particular.
- b) A inserção de informação falsa em documento público, com o fim de prejudicar direito, configura o crime de falsidade ideológica.
- c) No crime de supressão de documento, exige-se que o documento destruído, suprimido ou ocultado seja público e verdadeiro.
- d) A falsificação de selo destinado a controle tributário configura o crime de falsificação de documento público.
- e) O crime de petrechos de falsificação de papéis públicos é considerado um tipo misto cumulativo.

26. Acerca dos crimes contra a administração pública, assinale a alternativa **incorreta**:

- a) A conduta de extraviar livro oficial ou qualquer documento, de que tem a guarda em razão do cargo ou sonegá-lo ou inutilizá-lo, total ou parcialmente, somente é punida na forma dolosa.
- b) O crime de condescendência criminosa é um crime omissivo puro, que não admite a figura da tentativa.
- c) O crime de resistência também se caracteriza se a oposição à execução do ato legal se dá de forma passiva, sem emprego de violência ou ameaça, desde que importe prejuízo à execução do ato legal.
- d) O crime de abandono de função pressupõe que o agente seja ocupante de cargo público.
- e) O crime de modificação ou alteração não autorizada de sistema de informações não exige dolo específico para sua configuração.

27. Sobre o crime de desacato, assinale a alternativa correta:

- a) Trata-se de crime comum.
- b) Configura crime contra a administração da Justiça.
- c) Há causa de aumento de pena de um terço quando praticado contra funcionário da Justiça.
- d) Exige, para sua configuração, que o funcionário público esteja necessariamente no exercício das funções.
- e) A lei comina para tal crime as penas de detenção e multa, cumulativamente.

28. Josué era réu em determinado processo de execução fiscal, em razão de dívidas tributárias. No bojo do referido processo, o Juízo determinou a venda em hasta pública de um imóvel de propriedade de Josué, que havia sido penhorado para pagamento da dívida. No dia e hora agendados para o leilão, Josué compareceu ao local e perturbou a realização do ato, gritando que “não

havia Justiça nesse país”, bem como afirmando que aquilo era um grande “circo”.

Nesse caso, é correto afirmar que a conduta de Josué configura:

- a) crime de desobediência
- b) crime de desacato
- c) crime de resistência
- d) crime de violência ou fraude em arrematação judicial
- e) fato atípico, embora configure ato atentatório à dignidade da Justiça.

29. Danilo é perito grafotécnico, e recebeu de Ricardo, investigado em inquérito policial, a quantia de R\$ 5.000,00 para apresentar perícia falsa no bojo referido inquérito, de forma a atestar falsamente que a assinatura constante em certo documento não seria de Ricardo. Danilo, então, efetivamente apresentou perícia falsa no curso do inquérito. Porém, o delegado desconfiou da falsidade da perícia e desconsiderou o laudo apresentado por Danilo.

Nesse caso, é correto afirmar que:

- a) Danilo praticou o crime de falso testemunho ou falsa perícia, tentado, sem majoração.
- b) Ricardo deve ser considerado partícipe do crime praticado por Danilo.
- c) Danilo praticou crime de falso testemunho ou falsa perícia, consumado, sem majoração.
- d) Danilo praticou crime de falso testemunho ou falsa perícia, consumado, majorado de um sexto a um terço.
- e) Danilo praticou crime de falso testemunho ou falsa perícia, tentado, majorado de um sexto a um terço.

30. Acerca do crime de fraude processual, assinale a alternativa correta:

- a) Pode ser praticado no bojo de processo que tramita perante juízo arbitral.
- b) Se a conduta se destina a produzir efeito em processo penal, ainda que não iniciado, o crime é considerado qualificado.
- c) O tipo penal não exige a presença de qualquer elemento subjetivo específico.
- d) Há aumento de pena de um terço se o crime se destina a produzir efeito em processo que envolva crime contra a dignidade sexual.
- e) Trata-se de crime formal.

DIREITO PROCESSUAL PENAL

Priscila Silveira

31. O Código de Processo Penal brasileiro dispõe de causas de suspeição e impedimento do magistrado. Sobre o assunto suspeição, assinale a alternativa que não diz respeito a uma de suas hipóteses.

- a) Se o juiz for amigo íntimo ou inimigo capital de qualquer das partes.
- b) Se o juiz, seu cônjuge, ou parente, consanguíneo, ou afim, até o terceiro grau, inclusive, sustentar demanda ou responder a processo que tenha de ser julgado por qualquer das partes.
- c) Se o juiz tiver aconselhado qualquer das partes.
- d) Se o juiz tiver exercido defesa técnica de qualquer das partes.
- e) Se o juiz for sócio, acionista ou administrador de sociedade interessada no processo.

32. Em relação a atuação do Ministério Público, assinale a alternativa correta.

- a) Ao Ministério Público cabe promover a ação penal pública e a ação penal privada.
- b) O Ministério Público funcionará nos processos em que o juiz ou qualquer das partes for seu cônjuge.
- c) Ao Ministério Público cabe fiscalizar a execução da lei.
- d) O Ministério Público funcionará nos processos em que o juiz ou qualquer das partes for seu parente, consanguíneo ou afim, em linha reta ou colateral.
- e) Ao Ministério Público cabe promover, privativamente, a ação penal privada.

33. Acerca das citações e intimações no processo penal, assinale a alternativa INCORRETA.

- a) A citação inicial far-se-á por mandado, quando o réu estiver no território sujeito à jurisdição do juiz que a houver ordenado.
- b) A precatória será devolvida ao juiz deprecante, independentemente de traslado, depois de lançado o "cumpra-se" e de feita a citação por mandado do juiz deprecado.
- c) Verificado que o réu se encontra em território sujeito à jurisdição de outro juiz, a carta precatória deverá ser devolvida ao juiz deprecante, para que este expeça novamente ao juízo deprecado, para efetivação da diligência.
- d) A citação do militar far-se-á por intermédio do chefe do respectivo serviço.
- e) O dia designado para funcionário público comparecer em juízo, como acusado, será notificado assim a ele como ao chefe de sua repartição.

34. Acerca do procedimento especial do tribunal do júri, assinale a alternativa correta.

- a) Na primeira fase do júri, o CPP prevê uma réplica, que consiste na oitiva do Ministério Público ou querelante sobre preliminares e documentos, no prazo de cinco dias.
- b) Ao final da primeira fase do júri, as alegações finais serão orais, com prazo de 20 minutos para cada parte. Havendo mais de um acusado, o prazo deverá ser dividido entre eles.
- c) O prazo máximo da primeira fase do procedimento do júri será de 60 dias.
- d) O desaforamento também poderá ser determinado, em razão do comprovado excesso de serviço, ouvidos o juiz presidente e a parte contrária, se o julgamento não puder ser realizado no prazo de 3 meses, contado do trânsito em julgado da decisão de pronúncia.
- e) O serviço do júri é obrigatório. O alistamento compreenderá os cidadãos maiores de 21 anos de notória idoneidade.

35. De acordo com o processo sumário e as previsões contidas entre os artigos 531 a 538 do CPP, é correto afirmar que:

- a) na instrução do procedimento sumário, poderão ser inquiridas até 5 (cinco) testemunhas arroladas pela acusação e 5 (cinco) pela defesa.
- b) as alegações finais serão orais, concedendo-se a palavra, respectivamente, à acusação e à defesa, pelo prazo de 30 (trinta) minutos, prorrogáveis por mais 10 (dez), proferindo o juiz, a seguir, sentença.
- c) havendo mais de um acusado, o tempo previsto para a defesa de cada um será dividido de forma igualitária.
- d) ao assistente do Ministério Público, após a manifestação deste, serão concedidos 20 (vinte) minutos, prorrogando-se por igual período o tempo de manifestação da defesa.

e) nenhum ato será adiado, ainda que imprescindível a prova faltante, determinando o juiz a condução coercitiva de quem deva comparecer.

36. A respeito dos recursos, assinale a alternativa correta.

- a) Caberá recurso em sentido estrito da decisão do Tribunal do Júri quando ocorrer nulidade posterior à pronúncia.
- b) Na hipótese de o juiz recusar homologação à proposta de ANPP, caberá interposição de recurso em sentido estrito.
- c) Apresentado o termo de apelação de sentença condenatória dentro do prazo legal, a apresentação extemporânea das razões recursais importa em deserção.
- d) Os embargos de declaração têm como objetivo sanar obscuridade, contradição ou omissão, sendo cabíveis no prazo de 5 dias.
- e) Contra a sentença de impronúncia caberá recurso em sentido estrito.

37. De acordo com a Lei n. 9.099/1995 que dispõe sobre os juizados especiais criminais e prevê o recurso de apelação, que terá prazo de interposição de:

- a) 5 dias.
- b) 8 dias.
- c) 10 dias.
- d) 15 dias.
- e) 20 dias.

DIREITO PROCESSUAL CIVIL*Ricardo Torques*

38. Sobre as tutelas provisórias, assinale a alternativa correta.

- a) A tutela provisória cautelar somente pode ser concedida em caráter antecedente.
- b) Como regra, na ação de competência originária de tribunal e nos recursos a tutela provisória será requerida ao órgão jurisdicional competente para apreciar o mérito.
- c) A tutela provisória não conserva a sua eficácia durante o período de suspensão do processo.
- d) A tutela de evidência será concedida quando houver elementos que evidenciem a probabilidade do direito e o perigo de dano ou o risco ao resultado útil do processo.
- e) O indeferimento da tutela cautelar obsta a que a parte formule o pedido principal.

39. Carlos Antônio é Oficial de Justiça recém-empossado no Tribunal de Justiça de São Paulo. Já em sua primeira semana de atuação, deparou-se com situações peculiares na tentativa de citar determinadas pessoas. Dentre as alternativas abaixo, assinale a alternativa em que não será possível o cumprimento da citação:

- a) de quem estiver participando de ato de culto religioso
- b) quando se verificar que o citando é mentalmente incapaz ou está impossibilitado de recebê-la.
- c) do primo do morto, no dia do falecimento deste e nos 7 (sete) dias seguintes.
- d) de noivos, nos 3 (três) primeiros dias seguintes ao casamento.
- e) de doente, enquanto grave o seu estado.

40. Sobre a prova pericial, é correto afirmar que:

- a) É possível que o juiz, de ofício, determine a substituição da perícia por prova técnica

simplificada, quando o ponto controvertido for de menor complexidade.

- b) O prazo legalmente fixado para a apresentação do laudo pericial é de 30 (trinta) dias.
- c) Os assistentes técnicos, embora sejam de confiança da parte, estão sujeitos às causas de impedimento e suspeição.
- d) Por se tratar de profissional imparcial, os peritos não podem ser recusados por impedimento ou suspeição.
- e) A perícia consensual não substitui a que seria realizada por perito nomeado pelo juiz.

41. O Juizado Especial Cível tem competência para conciliação, processo e julgamento das causas cíveis de menor complexidade. Segundo a lei 9.099/1995, poderá ser parte no âmbito da referida lei:

- a) O incapaz, desde que seja autor.
- b) Os cessionários de direitos de pessoas jurídicas.
- c) As sociedades de crédito ao microempreendedor.
- d) O preso.
- e) O insolvente civil.

42. Sobre os embargos de declaração, é correto afirmar que:

- a) não possuem efeito suspensivo e não interrompem o prazo para a interposição de recurso.
- b) os embargos serão opostos, no prazo de 15 (quinze) dias.
- c) trata-se de recurso sujeito à preparo.
- d) não são admitidos para corrigir meros erros materiais.
- e) o juiz julgará os embargos em 5 (cinco) dias.

43. Em determinado processo judicial, o juízo condenou o réu à obrigação de entregar coisa. Transitada em julgado, a parte requereu o cumprimento de sentença, tendo sido a parte vencida intimada para que efetivamente entregasse a coisa. Ao receber a intimação, o executado pretende alegar direito de retenção sobre o bem em virtude de benfeitorias. Ao se deparar com a referida manifestação, é correto afirmar que o direito de retenção sobre o bem poderá ser alegado:

- a) Até a prolação de sentença.
- b) Na contestação, na fase de conhecimento.
- c) Até o trânsito em julgado.
- d) Na impugnação ao cumprimento de sentença.
- e) Em qualquer fase do processo judicial, evitando-se enriquecimento ilícito.

44. Sobre as audiências de conciliação e mediação no âmbito do Código de Processo Civil, assinale a alternativa correta:

- a) As partes não precisam estar acompanhadas por advogado.
- b) É vedado que a parte constitua representante para participar das referidas audiências.
- c) A intimação do autor para a audiência será feita na pessoa de seu advogado.
- d) O intervalo mínimo entre uma audiência e a próxima deverá ser de 30 (trinta) minutos.
- e) Não pode haver mais de uma sessão destinada à conciliação e à mediação.

DIREITO CONSTITUCIONAL

João Trindade

45. Acerca da Administração Pública na Constituição, assinale a alternativa correta:

- a) os cargos, empregos e funções públicas são acessíveis aos brasileiros que preencham os requisitos estabelecidos em atos administrativos;
- b) o prazo de validade do concurso público será de até três anos, prorrogável uma vez, por igual período
- c) é vedado ao servidor público o exercício da associação e da sindicalização
- d) o direito de greve será exercido nos termos e nos limites definidos em lei específica
- e) a lei reservará percentual dos cargos e empregos públicos para as pessoas portadoras de deficiência, limitados a dez por cento.

46. Considere que Marie nasceu na França, quando seus pais, brasileiros naturalizados, lá estavam em passeio de férias. Registrada na repartição brasileira competente, Marie foi também reconhecida com nacionalidade francesa, segundo as regras daquele país, ostentando, portanto, dupla nacionalidade.

Este ano, desiludida com a perda da Copa América pela seleção masculina de futebol, Marie decidiu renunciar à nacionalidade brasileira.

À luz da Constituição Federal e da jurisprudência do STF, pode-se afirmar corretamente que:

- a) Marie pode renunciar à nacionalidade brasileira, desde que o faça de maneira expressa.
- b) A nacionalidade, como direito fundamental que é, ostenta a característica da irrenunciabilidade.
- c) Marie apenas deixaria de ser brasileira se se naturalizasse em outro país.
- d) Marie poderia renunciar à nacionalidade brasileira, mediante pedido expresso, ainda que ostentasse somente essa nacionalidade
- e) Como Marie é brasileira naturalizada, poderia perder a nacionalidade em virtude de sentença judicial transitada em julgado.

47. A respeito da Administração Pública na Constituição, julgue os itens a seguir:

I - As administrações tributárias da União, dos Estados, do Distrito Federal e dos Municípios, atividades essenciais ao funcionamento do Estado, exercidas por servidores de carreiras específicas, terão recursos prioritários para a realização de suas atividades e atuarão de forma integrada, inclusive com o compartilhamento de cadastros e de informações fiscais, na forma da lei ou convênio.

II - Os atos de improbidade administrativa importarão a perda dos direitos políticos e da função pública, a indisponibilidade dos bens e o ressarcimento ao erário, na forma e gradação previstas em lei, sem prejuízo da ação penal cabível.

III - O teto constitucional de remuneração do funcionalismo aplica-se a todas as empresas públicas e sociedades de economia mista brasileiras.

Está correto o que se afirma apenas em:

- a) I
- b) I e II
- c) I e III
- d) II e III
- e) II

48. Os tratados e convenções internacionais sobre direitos humanos que forem aprovados em cada Casa do Congresso Nacional, por dois turnos, pelo voto favorável de 2/3 dos seus membros serão equivalentes a:

- a) leis complementares
- b) leis ordinárias
- c) decretos
- d) emendas constitucionais
- e) súmulas vinculantes.

49. Joaniclébson é vereador e deseja ajuizar uma ação para questionar um ato administrativo praticado pela Prefeita de seu município, o qual, no entender dele, atentava contra a moralidade administrativa. Ao procurar assistência jurídica, foi informado corretamente que a ação constitucionalmente adequada para tal finalidade é:

- a) ação popular
- b) ação civil pública
- c) habeas corpus
- d) habeas data
- e) mandado de segurança

50. É um direito individual expressamente previsto na Constituição Federal:

- a) a propriedade, desde que cumpra apenas sua função individual
- b) a liberdade, assegurado inclusive o anonimato
- c) a privacidade, inclusive com a proteção de dados pessoais
- d) a vida, sendo vedada em absoluto a pena de morte
- e) a segurança pública

51. A respeito dos direitos sociais, julgue os itens a seguir:

I - Os direitos sociais dos trabalhadores estão taxativamente previstos no art. 7º da Constituição.

II - É assegurada a participação dos sindicatos dos empregados nas negociações coletivas.

III - É assegurado o direito de greve, cabendo aos empresários definir quais os direitos que podem ser por meio dele defendidos.

É correto, apenas, o que consta do(s) item(ns):

- a) I, II e III
- b) II
- c) II e III
- d) I e III
- e) I

DIREITO ADMINISTRATIVO*Herbert Almeida*

52. João é servidor público no Tribunal de Justiça de São Paulo e observou que uma mudança administrativa recente resultou em uma alteração que ele considera incompatível com o serviço público. Com base no direito de petição, João apresentou uma reclamação formal ao setor competente, apontando o que ele considera ser um erro no novo procedimento. No entanto, o chefe do setor se recusou a protocolar a reclamação, afirmando que questões administrativas internas não precisam ser registradas quando não envolverem diretamente direitos ou deveres individuais do servidor. Diante dessa situação, assinale a alternativa correta sobre o direito de petição de João, conforme os princípios e dispositivos da n° 10.261/1968:

- a) o chefe do setor agiu corretamente, pois o direito de petição é restrito a reclamações que envolvem direitos individuais do servidor, e não questões administrativas gerais.
- b) João poderá recorrer da decisão do chefe do setor, mas deverá fazê-lo no prazo de 15 dias, conforme previsto na Lei Orgânica para servidores públicos.
- c) o direito de petição assegura a qualquer pessoa, incluindo servidores, o direito de apresentar reclamações sobre abuso, erro, omissão ou conduta incompatível, e a Administração não pode recusar-se a protocolar o documento.
- d) João só poderá exercer o direito de petição se comprovar que a alteração administrativa causou um prejuízo direto a ele.
- e) o chefe do setor está parcialmente correto, pois a Administração pode recusar a protocolar a reclamação, desde que justifique por escrito os motivos da recusa.

53. Carlos é servidor público estadual e, durante o exercício de suas funções, cometeu erro de cálculo que resultou em prejuízo para a Fazenda Estadual. Além disso, foi identificado que Carlos também adquiriu alguns materiais para o setor sem observar as normas e regulamentos vigentes. Considerando as disposições do Estatuto dos Servidores Cíveis do Estado de São Paulo (Lei 10.261/68), analise a situação de Carlos e assinale a alternativa correta.

- a) Carlos será responsável apenas pelo prejuízo decorrente da compra dos materiais fora das disposições legais, mas não pelo erro no cálculo, já que o erro foi sem dolo.
- b) Carlos poderá ser obrigado a indenizar a Fazenda Estadual pelo prejuízo causado pela compra dos materiais e também pelo erro de cálculo, aplicando-se, em qualquer caso, a reposição em uma só vez.
- c) a responsabilidade civil de Carlos pelo erro de cálculo se aplica apenas se ele agiu com dolo comprovado; caso contrário, ele receberá apenas uma repreensão.
- d) Carlos deverá indenizar a Fazenda Estadual pelo custo dos materiais adquiridos de forma irregular, sem prejuízo de outras penalidades disciplinares, podendo o custo ser descontado de seu vencimento.
- e) Carlos não poderá ser punido por ambos os atos, pois a legislação permite a responsabilização apenas por um prejuízo por vez, mediante apuração.

54. Ana, servidora pública estadual, foi recentemente advertida por escrito por não cumprir uma obrigação do cargo, mas reincidiu na mesma conduta. Diante da nova infração, a autoridade competente decidiu aplicar a penalidade de suspensão. No entanto, considerando a gravidade moderada da conduta e a necessidade do serviço, optou-se pela conversão da penalidade em multa, para que Ana pudesse continuar trabalhando. Com base no Estatuto dos Servidores Cíveis do Estado de São Paulo (Lei 10.261/68), assinale a alternativa correta quanto à situação de Ana:

- a) a suspensão de Ana poderia ser de até 120 dias, em razão da reincidência.
- b) a conversão da penalidade de suspensão em multa implica no desconto de 25 a 75% do valor do vencimento da servidora, por dia de suspensão, conforme a gravidade da infração.
- c) ao ter a pena de suspensão convertida em multa, Ana perceberá somente 50% do valor de seu vencimento por dia de suspensão, mas estará obrigada a permanecer em serviço.
- d) a conversão da pena de suspensão em multa somente pode ocorrer se a infração não for considerada falta grave.
- e) uma vez aplicada a suspensão, Ana perde os direitos e vantagens decorrentes do cargo, independentemente de qualquer conversão em multa.

55. Carlos, servidor público estadual, é investigado em sindicância por suposta irregularidade no exercício de suas funções. Durante o processo, a autoridade competente considerou viável propor uma prática autocompositiva para resolver o conflito, com a intenção de promover a reparação do dano e estimular a corresponsabilidade. No entanto, Carlos manifestou relutância em participar da sessão proposta. Com base no Estatuto dos Servidores Cíveis do Estado de São Paulo (Lei 10.261/68), assinale a alternativa correta sobre as práticas autocompositivas no contexto descrito:

- a) a recusa de Carlos em participar da prática autocompositiva poderá ser utilizada em seu desfavor no processo administrativo.
- b) a prática autocompositiva é uma medida obrigatória, independentemente da concordância do servidor, desde que seja autorizada pela autoridade competente.
- c) para que a prática autocompositiva ocorra, é necessário que as partes envolvidas reconheçam os fatos essenciais, mas sem que isso signifique admissão de culpa.
- d) o conteúdo das sessões restaurativas poderá ser utilizado como prova, caso a sindicância evolua para um processo judicial.
- e) somente a mediação e a conciliação podem ser propostas como práticas autocompositivas, conforme o Estatuto dos Servidores Cíveis do Estado de São Paulo.

56. João, servidor público responsável pela gestão de contratos de locação em uma autarquia, firmou um contrato de locação para um imóvel de propriedade da autarquia com uma empresa privada. Verificou-se, posteriormente, que o valor do contrato foi fixado abaixo do preço de mercado, sem justificativa plausível. Com efeito, as apurações indicaram que João atuou dolosamente para alcançar o resultado ilícito, a despeito de não ter recebido vantagem patrimonial indevida. Considerando o disposto na Lei de Improbidade Administrativa (Lei nº 8.429/92), João praticou ato de improbidade que gera:

- a) enriquecimento ilícito, pois João permitiu que a empresa privada se beneficiasse indevidamente do patrimônio público.
- b) violação aos princípios da Administração Pública, uma vez que o agente público não obteve vantagem patrimonial indevida.
- c) lesão ao erário, que também admite se configura no caso de erro grosseiro.
- d) enriquecimento ilícito, uma vez que permitiu que terceiro obtivesse a vantagem indevida.
- e) lesão ao erário, pois João permitiu que a locação ocorresse por valor inferior ao de mercado, causando prejuízo ao patrimônio público.

57. Laura, cidadã que identificou indícios de irregularidades em um contrato público de prestação de serviços, deseja reportar o caso para que seja investigado como ato de improbidade administrativa. Ela submeteu uma representação escrita à autoridade administrativa competente, mas não forneceu dados suficientes sobre a autoria e deixou de indicar as provas de que tinha conhecimento. Com base na Lei de Improbidade Administrativa (Lei nº 8.429/92), e considerando os dispositivos legais sobre o processo de apuração de atos de improbidade, assinale a opção correta

- a) a autoridade poderá rejeitar a representação, fundamentando o despacho com a ausência de informações essenciais, o que não impede Laura de representar também ao Ministério Público.
- b) a autoridade deverá aceitar a representação e iniciar a apuração dos fatos imediatamente, uma vez que qualquer pessoa pode denunciar a prática de atos de improbidade, independentemente dos demais requisitos legais.
- c) a autoridade deverá rejeitar a representação e arquivar o caso, encerrando qualquer possibilidade de investigação administrativa sobre o fato.
- d) a autoridade deverá encaminhar a representação diretamente ao Ministério Público, pois somente este órgão poderá apurar irregularidades que possam configurar improbidade administrativa.
- e) Laura não poderia representar, uma vez que somente o Ministério Público e a pessoa jurídica interessada possuem a prerrogativa de propor a ação de improbidade.

58. Durante uma investigação sobre atos de improbidade administrativa, o Ministério Público identificou indícios de irregularidade em contratos firmados entre uma empresa privada e um órgão público municipal. O promotor responsável decidiu considerar a possibilidade de celebrar um acordo de não persecução civil com a empresa, com o objetivo de alcançar uma rápida resolução do caso e evitar a judicialização. Com base nas disposições da Lei nº 8.429/1992, assinale a opção correta:

- a) o acordo de não persecução civil dispensa o ressarcimento integral do dano se a empresa adotar mecanismos internos de integridade e auditoria.
- b) a homologação judicial do acordo é exigida somente se ele for celebrado após o ajuizamento da ação de improbidade administrativa.
- c) a oitiva do ente federativo lesado é dispensável se o acordo contemplar a reversão da vantagem indevida obtida à pessoa jurídica lesada.
- d) a celebração do acordo poderá ocorrer até mesmo após o trânsito em julgado da condenação, se ainda estiver na fase de execução da sentença condenatória.
- e) o acordo de não persecução civil não pode incluir medidas de incentivo à denúncia de irregularidades no âmbito da pessoa jurídica envolvida.

59. O Ministério Público iniciou um inquérito civil para investigar a prática de atos de improbidade administrativa em um contrato firmado entre um ente público e uma empresa privada. Em relação à prescrição para aplicação das sanções previstas na Lei de Improbidade Administrativa (Lei nº 8.429/92), assinale a alternativa correta:

- a) a prescrição para a ação de improbidade administrativa ocorre em cinco anos, contados a partir do conhecimento do fato pelo Ministério Público, sem possibilidade de suspensão ou interrupção do prazo.
- b) o prazo prescricional para aplicação das sanções é de oito anos, contado da data do fato, podendo ser interrompido pelo ajuizamento da ação de improbidade e pelo julgamento de improcedência em segunda instância.
- c) a instauração de inquérito civil para apuração de atos de improbidade suspende o prazo prescricional por, no máximo, 180 dias corridos.
- d) a conclusão do inquérito civil deve ocorrer no prazo de 365 dias corridos, prorrogáveis por até mais 365 dias, desde que este prazo seja submetido à análise do Poder Judiciário.
- e) caso haja interrupção do prazo prescricional pelo ajuizamento da ação, o prazo para prescrição recomeça a contar da interrupção, sendo integralmente renovado por oito anos.

NORMAS DA CORREGEDORIA GERAL DA JUSTIÇA*Tiago Zanolla*

60. Em uma reunião na vara judicial do TJ-SP, os servidores discutiam sobre as regras do segredo de justiça no sistema de processamento eletrônico. Durante a conversa, surgiu uma dúvida sobre quem pode acessar esses processos e os procedimentos envolvidos na indicação de segredo de justiça.

De acordo com as Normas da Corregedoria do TJ-SP, sobre o processamento eletrônico de processos em segredo de justiça, é correto afirmar que:

- a) Qualquer pessoa pode consultar processos que tramitam em segredo de justiça, desde que solicite permissão ao juiz responsável pelo caso.
- b) A indicação de que um processo está em segredo de justiça pode ser feita pelo advogado no ato do ajuizamento ou por determinação do juiz.
- c) O segredo de justiça é aplicado automaticamente em todos os processos de família, independentemente de indicação no sistema.
- d) Os autos sob segredo de justiça só podem ser consultados por servidores do TJ-SP, independentemente de serem partes ou procuradores do processo.
- e) O juiz não tem autoridade para revisar a indicação de segredo de justiça feita pelo advogado ou procurador no ato do ajuizamento.

61. Durante uma capacitação sobre o acesso aos processos eletrônicos no TJ-SP, os servidores receberam orientações detalhadas sobre a segurança e o controle de acesso à íntegra dos processos.

Com base nas Normas da Corregedoria do TJ-SP, acerca das regras de consulta de processos eletrônicos, assinale a alternativa correta:

- a) Os advogados, mesmo sem certificação digital, podem consultar a íntegra de processos com segredo de justiça, bastando o login e senha cadastrados no Portal E-SAJ.
- b) Somente a parte interessada pode solicitar senha de acesso para consulta à íntegra de seu processo, não sendo permitido ao advogado constituído realizar esse pedido em seu nome.
- c) Nos processos de execução criminal, a vítima tem acesso à íntegra dos autos, inclusive em caso de segredo de justiça, sem necessidade de qualquer autorização judicial, desde que solicite a senha.
- d) Terceiros interessados em processos que tramitam em sigilo podem solicitar senha para consulta da íntegra, desde que tenham autorização do magistrado, conforme seu papel no processo, como peritos e assistentes.
- e) Após a confirmação da identidade do solicitante, a senha de acesso será enviada exclusivamente mediante deslocamento presencial à Unidade Judicial, onde o histórico de comunicações será registrado.

62. Na Vara Cível, os servidores estavam revisando os procedimentos de movimentação e controle de prazos dos processos judiciais, especialmente sobre os registros de conclusão e os cuidados com a paralisação dos autos.

De acordo com as Normas da Corregedoria do TJ-SP, que tratam da movimentação e controle dos processos, é correto afirmar que:

- a) Os termos de conclusão ou de vista podem ser assinados sem data, desde que o processo não permaneça no cartório após essa assinatura.
- b) Um processo pode ser entregue ao promotor de justiça ou advogado com termo de vista, sem a necessidade de assinatura no relatório de carga eletrônica.
- c) O juiz deve realizar conclusões diárias dos processos, independentemente da quantidade de processos acumulados.
- d) Se o processo estiver parado por mais de 30 dias aguardando diligências, o cartório deve reiterar a diligência repetidamente até que seja atendida.
- e) Caso o juiz se recuse a assinar a conclusão dos autos, o processo deve ser devolvido ao cartório para aguardar o despacho em outra ocasião.

63. Durante uma reunião na vara judicial, os servidores discutiam sobre a utilização e a conservação dos livros de registro, como o Livro Eletrônico de Visitas e Correições e o Livro de Carga de Mandados. Um dos servidores fez a seguinte pergunta para avaliar o conhecimento dos colegas sobre as normas da Corregedoria:

Com base nos artigos nas Normas da Corregedoria do TJ-SP, assinale a alternativa correta:

- a) O Livro Eletrônico de Visitas e Correições deverá ser mantido na Unidade Judicial indefinidamente, sem previsão de descarte do suporte físico.
- b) Sempre que houver alteração do Juiz Corregedor Permanente, o Livro Eletrônico de Visitas e Correições deverá ser digitalizado e reinserido no sistema.

c) Os livros de carga de mandados podem ser inutilizados imediatamente após o uso, sem a necessidade de autorização judicial.

d) O Livro de Carga de Mandados pode ser desdobrado para cada oficial de justiça em exercício, servindo também para o registro de petições que funcionem como mandados.

e) A distribuição das cargas para os usuários externos, como o Ministério Público e a Defensoria Pública, é realizada exclusivamente de forma manual, sem registro informatizado.

64. Em um treinamento sobre o acesso a informações sigilosas e o cumprimento de cartas precatórias, os servidores foram orientados a respeito das normas aplicáveis para o uso do sistema Infojud, o manuseio de documentos sigilosos e a juntada de peças essenciais aos autos. Para avaliar o entendimento sobre esses procedimentos, foi apresentada a seguinte questão:

Com base nas Normas da Corregedoria do TJ-SP, assinale a alternativa correta:

- a) A consulta ao sistema Infojud para obtenção de informações da Receita Federal pode ser realizada por qualquer servidor, desde que esteja autorizado pelo cartório.
- b) As informações sobre o endereço da parte em processo judicial devem ser tratadas com sigilo e tramitar obrigatoriamente sob segredo de justiça.
- c) A retirada de uma carta precatória cumprida no juízo deprecado para entrega ao juízo deprecante só é permitida quando o nome do advogado da parte interessada e sua inscrição na OAB estejam indicados na carta.
- d) Todas as peças recebidas de um juízo deprecado devem ser juntadas integralmente aos autos principais, independentemente de sua relevância para o caso.
- e) As certidões de publicação de atos no Diário da Justiça Eletrônico devem ser impressas e arquivadas fisicamente no cartório, sem necessidade de registro digital.

ATUALIDADES*Rodolfo Gracioli*

65. "Ainda Estou Aqui" faturou R\$ 1 milhão no primeiro dia de exibição no Brasil. O filme brasileiro que consta na lista prévias de indicados ao Oscar retrata:

- a) O drama de famílias refugiadas da Venezuela e a importância da Operação Acolhida.
- b) A biografia de Maria da Penha, que inspira a lei de combate à violência doméstica.
- c) A luta de Eunice Paiva em busca de explicações sobre o desaparecimento do marido durante a Ditadura Militar.
- d) A trajetória política do ex-presidente Getúlio Vargas, conhecido como pai dos pobres.
- e) A história do surgimento do samba no Brasil, a partir da visão de Alcione.

66. "Uma das pinturas mais conhecidas do artista de rua britânico Banksy foi encontrada após ter sido roubada de uma galeria de Londres na semana passada, com dois homens acusados, disse a polícia nesta sexta-feira. Banksy ganhou fama por grafites exteriores nitidamente irônicos com temas políticos. Outrora um pequeno grafiteiro da cidade inglesa de Bristol, seu trabalho artístico tornou-se extremamente popular e valioso". Adaptado. (Fonte: CNN Brasil, setembro de 2024).

Trata-se da obra:

- a) Parem a guerra
- b) Garota com Balão
- c) Prisão de Guantánamo
- d) Trabalho escravo
- e) Celebrando a vida

67. O massacre do Carandiru voltou à tona em 2024. O massacre ocorreu em outubro de 1992, quando a repressão policial a uma rebelião prisional resultou na morte 111 detentos e continua se desdobrando na justiça brasileira. Em outubro, o Tribunal de Justiça de São Paulo:

- a) Encaminhou o processo para o Supremo Tribunal Federal, sem decisão prévia, com decisão monocrática prevista.
- b) Convocou os policiais envolvidos para acareação com sobreviventes da tragédia, a fim de tratar determinados fatos ainda dúbios.
- c) Extinguiu a pena dos policiais envolvidos no massacre que marcou a década de 1990.
- d) Determinou cumprimento pena imediata, em regime fechado, para todos os policiais envolvidos.
- e) Absolveu os policiais que ocupavam a área de inteligência, responsabilizando apenas os policiais da parte operacional.

68. O Senado do México aprovou na madrugada de quarta-feira (11) uma polêmica reforma judicial, bancada pelo governo do presidente Andrés Manuel López Obrador. A votação, que terminou com 86 votos a favor e 41 contra, foi marcada por uma sessão conturbada com a invasão de funcionários do Judiciário em greve e estudantes contrários à medida. (Fonte: Nexo Jornal, setembro de 2024).

Sobre a reforma está correto:

- a) Os ministros da Suprema Corte receberão um reajuste de 43% na remuneração.
- b) Os ministros contarão com vice-ministros indicados por eles mesmos para alcançar as metas do Judiciário.
- c) Os ministros terão poder de tomar decisões monocráticas de aplicação imediata.
- d) Os ministros da Suprema Corte serão eleitos por voto popular, assim como os demais magistrados.
- e) Os ministros terão direito ao 14º e 15º salários, além de bonificação por produtividade.

ESTATUTO DA PESSOA COM DEFICIÊNCIA*Géssica Ehle*

69. De acordo com o Estatuto da Pessoa com Deficiência, Lei nº 13.146/2015, toda pessoa com deficiência

- a) deverá fruir de benefícios decorrentes de ação afirmativa criada para a promoção de sua igualdade material
- b) poderá adotar quando amparada por curador, ou pessoa de sua família
- c) receberá atendimento prioritário em instituições públicas, de modo que empresas privadas poderão seguir as mesmas premissas daquelas
- d) será atendida com prioridade em serviços de saúde, excepcionadas emergências que estão condicionadas ao protocolo médico de atendimento
- e) o consentimento da pessoa com deficiência em situação de curatela não poderá ser suprido

70. A pessoa com deficiência tem direito ao trabalho de sua livre escolha e aceitação, em ambiente acessível e inclusivo, em igualdade de oportunidades com as demais pessoas. Nesse sentido, sobre o direito ao trabalho no Estatuto da Pessoa com Deficiência, julgue os itens a seguir assinalando a resposta correta.

- I. Pessoas jurídicas de direito privado não são obrigadas a garantir ambientes de trabalho acessíveis e inclusivos nos termos do Estatuto, podendo elaborar suas próprias diretrizes de desenho universal.
- II. Todo trabalhador que tenha deficiência e desejar capacitar-se deverá ter tal direito alcançado pelo empregador, ou pela administração pública.
- III. A colocação competitiva é direito da pessoa com deficiência, não sendo prática nociva ou atentatória a sua condição, podendo ocorrer por meio de trabalho com apoio.

Dentre as assertivas acima, está correto o que se afirma em:

- a) Apenas a I
- b) I e II
- c) II e III
- d) I e III
- e) Todas as assertivas

MATEMÁTICA*Carlos Henrique*

71. Em um belo dia de agosto, Carlos Henrique saiu de casa com apenas algum dinheiro físico e foi dar um passeio em Copacabana. Carlos Henrique gastou $\frac{1}{4}$ do que possuía e mais R\$ 60,00 no café da manhã; posteriormente, no almoço, $\frac{1}{3}$ do que restava e ainda ficou com R\$ 80,00. Com que valor, Carlos Henrique saiu de casa?

- a) R\$ 150,00
- b) R\$ 175,00
- c) R\$ 200,00
- d) R\$ 240,00
- e) R\$ 300,00

72. Após vender um automóvel, João dividiu totalmente a quantia que recebeu em pagamento entre sua esposa, seus dois filhos e sua sobrinha. A divisão foi feita do seguinte modo:

- a filha e o filho receberam a metade do total na razão de 4 para 3, respectivamente;
- sua esposa Maria recebeu o dobro do valor recebido pelo filho;
- a sobrinha recebeu R\$ 15.000,00

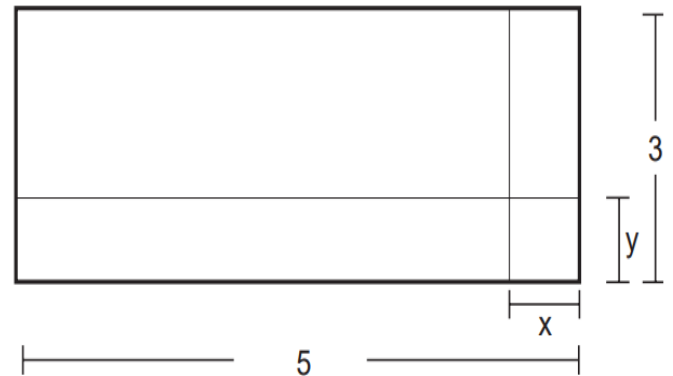
Nessas condições, a quantia total recebida pela venda de tal automóvel foi:

- a) R\$ 140.000,00
- b) R\$ 154.000,00
- c) R\$ 210.000,00
- d) R\$ 224.000,00
- e) R\$ 280.000,00

73. Em um órgão público A, há 360 canetas, algumas pretas, outras roxas e não há canetas com tinta de outra cor. Das canetas, 60% são de cor preta. Algumas canetas roxas são levadas para outro órgão público B o que faz com que a porcentagem de canetas pretas dentro órgão público A passe a ser de 90%. Quantas canetas roxas foram levadas para o órgão público B?

- a) 120.
- b) 150.
- c) 180.
- d) 200.
- e) 240.

74. Um forro retangular de tecido traz em sua etiqueta a informação de que encolherá após a primeira lavagem mantendo, entretanto, seu formato. A figura a seguir mostra as medidas originais do forro e o tamanho do encolhimento (x) no comprimento e (y) na largura.



Nessas condições, A expressão algébrica que representa a área do forro após ser lavado e a área perdida do forro, após a primeira lavagem, serão expressas por:

- a) $(5y + 3x - xy)$ e $(15 - 3x)$
- b) $(5y + 3x - xy)$ e $(15 - 5y)$
- c) $(xy - 3x - 5y + 15)$ e $(-5y - 3x)$
- d) $(xy - 3x - 5y + 15)$ e $(5y + 3x - xy)$
- e) $(3y + 5y - xy)$ e $(3y + 5y - xy)$

75. A professora Adriana possui um lindo aquário em seu apartamento e cria peixes coloridos nele. O aquário de Adriana tem a forma de um paralelepípedo e mede 0,60m de largura, 1,50m de comprimento e 0,95m de altura. Em um belo dia de verão, estando o aquário com certa quantidade de água, Adriana colocou um pedaço de madeira de enfeite. A madeira ficou totalmente coberta pela água e Adriana mediu o nível da água constatando que o nível subiu 0,3 cm. Então, Adriana calculou que o volume do pedaço de madeira era:

- a) 2700 cm^3
- b) 2500 cm^3
- c) 2400 cm^3
- d) 2000 cm^3
- e) 3000 cm^3

76. Para realizar uma excursão, um grupo de 128 pessoas alugou alguns ônibus, de modo que cada um deles transportará o mesmo número de pessoas. Sabendo que o número de pessoas por ônibus é 8 vezes o número de ônibus, então, o número de pessoas por ônibus será de:

- a) 16.
- b) 20.
- c) 24.
- d) 28.
- e) 32.

INFORMÁTICA

Emannuelle Gouveia

77. No Windows, temos a Central de Ações que é a área onde ficam as notificações de aplicativos e indicações de ações rápidas necessárias. Para acessar essa área podemos ativar a seguinte combinação de teclas:

- a) Windows + A.
- b) Windows + T.
- c) Windows + V.
- d) Windows + J.
- e) Windows + D.

78. No Windows, é possível configurar um recurso de acessibilidade que permite o pressionamento de um tecla inicial de um atalho (CTRL, ALT e etc) e depois o pressionamento do seu complemento e o computador entenda que foi digitado o atalho completo. Esse recurso se chama:

- a) Teclado pausado.
- b) Sombra.
- c) Tecla de aderência.
- d) Reprodução automática.
- e) Super teclas.

79. Programas que auxiliam a comunicação e interação do Sistema Operacional com os equipamentos em geral são os:

- a) aplicativos.
- b) utilitários.
- c) acessórios.
- d) drivers.
- e) drives.

80. Das letras abaixo, marque a alternativa que descreve a opção que não é exibida no menu propriedades ao selecionarmos um arquivo.

- a) O tamanho do arquivo.
- b) O local onde ele se encontra armazenado no disco.
- c) A data e a hora da sua criação.
- d) A quantidade de caracteres que o arquivo possui
- e) o nome do arquivo

81. No Windows temos uma funcionalidade que permite acompanhar o desempenho da memória, da CPU, ver os processos em execução, dentre outras atividades. Uma das formas de acessá-la é através da tecla de atalho:

- a) CTRL + ALT
- b) CTRL + ALT + DEL
- c) CTRL + SHIFT + DEL
- d) CTRL + D
- e) ALTGR + P

82. No Word, quando clicamos uma vez sobre uma determinada palavra, iremos:

- a) selecionar todo o parágrafo.
- b) selecionar a palavra.
- c) posicionar o cursor no local clicado.
- d) selecionar a linha.
- e) selecionar todo o texto.

83. No Word, para alinharmos um texto ou parte do texto à direita, devemos usar que tecla de atalho

- a) CTRL + G.
- b) Ctrl + E.
- c) CTRL + J
- d) ALT + D
- e) CRL + D

84. No Word, um conjunto de formatações já está pré-definido ao entrarmos no ambiente e todos os documentos desenvolvidos receberão essa formatação, caso não haja alguma mudança feita pelo usuário. Esse conjunto de formatações é definido por:

- a) Estilo.
- b) Configurações
- c) Tema.
- d) Sumário.
- e) Notas.

85. No Word, no menu Propriedades, localizado no lado direito da tela do menu Arquivo/Informações NÃO é possível:

- a) verificar o tamanho do documento.
- b) verificar a quantidade de palavras do documento.
- c) verificar a quantidade de páginas do documento
- d) verificar a quantidade de caracteres do documento.
- e) verificar o tempo total de edição do documento.

86. No Excel, temos os seguinte valores:

	A
1	30
2	40
3	25
4	16
5	19
6	28
7	41
8	26
9	25
10	60

O usuário digitou a fórmula =MENOR(A1:A10;4) na célula B1. Ao apertar enter, qual valor irá aparecer?

- a) 30
- b) 16
- c) 60
- d) 26
- e) 25

87. Uma planilha no Excel tem os valores

	A	B
1	10	15
2	20	25
3	30	40
4		

Ao digitarmos na célula D4 a seguinte fórmula =CONT.NUM(A1:B2)

O valor obtido será:

- a) 5
- b) 8
- c) 4
- d) 2
- e) 1

88. No Excel a opção “Mesclar e centralizar” se encontra em que menu:

- a) Página Inicial
- b) Inserir
- c) Exibir
- d) Gráficos.
- e) Correspondência

89. No Google Crhome o usuário digitou a opção “Tribunal de Justiça de São Paulo” filetype:pdf . Qual das opções indica o retorno que será exibido para ele:

- a) Serão exibidas apenas as páginas que possuem a expressão “pdf” no texto.
- b) Serão exibidos os arquivos pdf que tem exatamente a expressão “Tribunal de Justiça de São Paulo” escrita dessa forma e nessa sequência.
- c) Serão exibidas os arquivos pdf que tem qualquer uma das palavras contidas na expressão “Tribunal de Justiça de São Paulo”.
- d) Serão exibidas os arquivos pdf que não tem nenhuma das palavras contidas na expressão “Tribunal de Justiça de São Paulo”.
- e) Serão exibidos qualquer arquivo que tenha exatamente a expressão “Tribunal de Justiça de São Paulo” escrita dessa forma e nessa sequência.

90. No serviço de email é necessário utilizar um endereço que deve ser composto pelo Identificador e pelo nome do servidor de email, separados por um símbolo pré-definido. Um exemplo correto de endereço de email seria:

- a) servidor de email@Identificador.
- b) identificador%servidor de email.
- c) servidor de email&identificador
- d) identificador@servidor de email
- e) identificador,servidor de email

RACIOCÍNIO LÓGICO

Eduardo Mocellin

91. Uma proposição logicamente equivalente a “É falso que todo gato tem quatro patas” é:

- a) Nenhum gato tem quatro patas.
- b) Todo gato não tem quatro patas.
- c) Existe gato que tem quatro patas.
- d) Pelo menos um gato tem quatro patas.
- e) Algum gato não tem quatro patas.

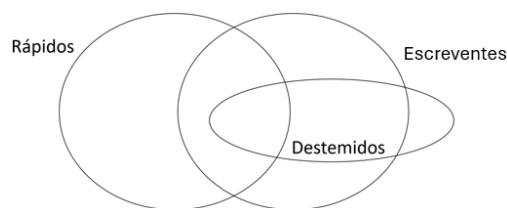
92. Considere a sentença:

“Se Joaquim é esforçado, então Ricardo não toma café”.

É correto concluir que

- a) “Joaquim é esforçado ou Ricardo não toma café”.
- b) “Joaquim é esforçado e Ricardo não toma café”.
- c) “Se Joaquim não é esforçado, então Ricardo toma café”.
- d) “Se Ricardo não toma café, então Joaquim é esforçado”.
- e) “Se Ricardo toma café, então Joaquim não é esforçado”.

93. Observe diagrama a seguir.



A partir do diagrama, pode-se afirmar que:

- a) todos os escreventes são rápidos.
- b) não há destemidos que são escreventes e rápidos.
- c) os destemidos que não são escreventes são rápidos.
- d) os rápidos que não são escreventes não são destemidos.
- e) qualquer escrevente rápido é destemido.

94. Considere verdadeiras as afirmações I, II e III.

I. Se Ferdinando é médico, então Gabriel é arquiteto.

II. Se Henrique é carpinteiro, então Gabriel não é arquiteto.

III. Se Henrique não é carpinteiro, então Joaquim é pedreiro.

Considere como falsa a afirmação a seguir.

IV. Se Leandro é eletricitista, então Joaquim é pedreiro.

A partir dessas informações, é correto concluir que

- a) Leandro não é eletricitista.
- b) Gabriel é arquiteto.
- c) Ferdinando não é médico.
- d) Joaquim é pedreiro.
- e) Henrique não é carpinteiro

95. Considere a seguinte afirmação:

“Se Joaquim é sábio, então é disciplinado”.

A negação dessa afirmação é

- a) Joaquim não é sábio ou é disciplinado.
- b) Joaquim é sábio ou não é disciplinado.
- c) Se Joaquim não é disciplinado, então não é sábio.
- d) Joaquim não é disciplinado e é sábio
- e) Joaquim é disciplinado e não é sábio.

96. Alguns patos são tigres. Todos os tigres são animais ferozes. Logo, é correto afirmar que:

- a) algum pato é um animal feroz.
- b) nenhum animal feroz é pato.
- c) nenhum pato não é um animal feroz.
- d) todo animal feroz é um tigre.
- e) todo tigre é pato.

97. Considere a sequência de infinitos termos a seguir, que segue uma lei de formação:

4; 6; **2**; 8; 9; **3**; 10; 12; **5**; 14; 15; **7**; 16; 18; **11**; 20; 21; **13**; 22; 24; **17**; ...

Sabe-se que cada número da sequência pode pertencer a apenas uma de duas categorias de números, e os números destacados em **negrito** e sublinhados são números de uma mesma categoria. O primeiro número, em **negrito**, maior que todos os anteriores da sequência até a sua posição é:

- a) 33.
- b) 37.
- c) 39.
- d) 41.
- e) 43.

98. Considere verdadeiras as afirmações.

I. Se Armando é rápido, então Bianca é graciosa.

II. Se Carolina é inteligente, então Armando não é rápido.

III. Se Armando não é rápido, então Débora é audaz.

IV. Débora não é audaz.

A partir dessas afirmações, é correto concluir que:

- a) Bianca não é graciosa ou Carolina é inteligente.
- b) Armando é rápido e Carolina é inteligente.
- c) Bianca não é graciosa ou Carolina não é inteligente.
- d) Carolina é inteligente ou Armando não é rápido.
- e) Bianca é graciosa e Armando não é rápido.

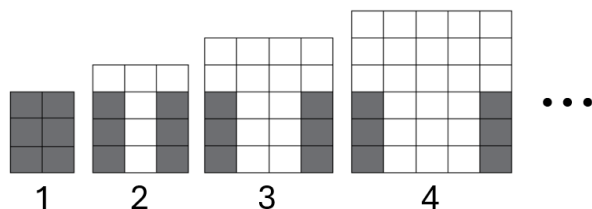
99. Os amigos Fernando, Victor e Marcos nasceram em estados diferentes: um é gaúcho, um é baiano e o outro é mineiro. Além disso, os três amigos apresentam profissões diferentes: um deles é engenheiro, um é enfermeiro e o outro é músico. Sabe-se que:

- I. O engenheiro é baiano;
- II. O mineiro não é enfermeiro;
- III. Victor não é gaúcho;
- IV. Marcos não é engenheiro.

Com base nessas informações, é correto afirmar que:

- a) o músico é mineiro.
- b) o enfermeiro não é gaúcho.
- c) Fernando é engenheiro.
- d) Victor é baiano.
- e) Marcos é gaúcho.

100. Considere a sequência infinita de figuras a seguir:



Considerando que a lei de formação das figuras seguintes permanece a mesma, é correto afirmar que o número de quadradinhos claros na figura de número n será

- a) $n^2 + 4n - 6$.
- b) $n^2 + 3n - 4$.
- c) $n^2 - 6$.
- d) $(n + 1)^2 - 6$.
- e) $(n - 6)^2$.

O QUE VOCÊ ACHOU DESTE SIMULADO?

*Conte-nos como foi sua experiência ao fazer este simulado.
Sua opinião é muito importante para nós!*

<https://forms.gle/3RC8pkHLNAnpSnxQ9>

NÃO É ASSINANTE?

Confira nossos planos, tenha acesso a milhares de cursos e participe gratuitamente dos projetos exclusivos. Clique no link!

<http://estrategi.ac/assinaturas>

CONHEÇA NOSSO SISTEMA DE QUESTÕES

Estratégia Questões nasceu maior do que todos os concorrentes, com mais questões cadastradas e mais soluções por professores. Clique no link e conheça!

<http://estrategi.ac/ok1zt0>