



Simulado Especial

Detran AC

**Agente da Autoridade
de Trânsito**

Simulado

Simulado Especial DETRAN-AC (Agente da Autoridade de Trânsito)

Nome: _____

INFORMAÇÕES SOBRE O SIMULADO

- 1 - Este simulado conta com questões focadas no concurso para **Agente de Autoridade de Trânsito do DETRAN-AC**;
- 2 - A prova contém itens que abordam conhecimentos cobrados no edital do concurso;
- 3 - As questões são inéditas e foram elaboradas pelos nossos professores com base no perfil da banca organizadora;
- 4 - Os participantes têm das **8:00h às 13:30h** para responder às questões e preencher o Gabarito Eletrônico;
- 5 - O link para preencher o formulário com seu gabarito está localizado logo após estas instruções;

PREENCHA SEU GABARITO

Clique no link, ou copie e cole no seu navegador, para preencher seu gabarito.

<https://forms.gle/5BSnHPkUdXVJkBWe6>

- | | | | | |
|----------------------|----------------------|----------------------|----------------------|----------------------|
| 01 - (A)(B)(C)(D)(E) | 11 - (A)(B)(C)(D)(E) | 21 - (A)(B)(C)(D)(E) | 31 - (A)(B)(C)(D)(E) | 41 - (A)(B)(C)(D)(E) |
| 02 - (A)(B)(C)(D)(E) | 12 - (A)(B)(C)(D)(E) | 22 - (A)(B)(C)(D)(E) | 32 - (A)(B)(C)(D)(E) | 42 - (A)(B)(C)(D)(E) |
| 03 - (A)(B)(C)(D)(E) | 13 - (A)(B)(C)(D)(E) | 23 - (A)(B)(C)(D)(E) | 33 - (A)(B)(C)(D)(E) | 43 - (A)(B)(C)(D)(E) |
| 04 - (A)(B)(C)(D)(E) | 14 - (A)(B)(C)(D)(E) | 24 - (A)(B)(C)(D)(E) | 34 - (A)(B)(C)(D)(E) | 44 - (A)(B)(C)(D)(E) |
| 05 - (A)(B)(C)(D)(E) | 15 - (A)(B)(C)(D)(E) | 25 - (A)(B)(C)(D)(E) | 35 - (A)(B)(C)(D)(E) | 45 - (A)(B)(C)(D)(E) |
| 06 - (A)(B)(C)(D)(E) | 16 - (A)(B)(C)(D)(E) | 26 - (A)(B)(C)(D)(E) | 36 - (A)(B)(C)(D)(E) | 46 - (A)(B)(C)(D)(E) |
| 07 - (A)(B)(C)(D)(E) | 17 - (A)(B)(C)(D)(E) | 27 - (A)(B)(C)(D)(E) | 37 - (A)(B)(C)(D)(E) | 47 - (A)(B)(C)(D)(E) |
| 08 - (A)(B)(C)(D)(E) | 18 - (A)(B)(C)(D)(E) | 28 - (A)(B)(C)(D)(E) | 38 - (A)(B)(C)(D)(E) | 48 - (A)(B)(C)(D)(E) |
| 09 - (A)(B)(C)(D)(E) | 19 - (A)(B)(C)(D)(E) | 29 - (A)(B)(C)(D)(E) | 39 - (A)(B)(C)(D)(E) | 49 - (A)(B)(C)(D)(E) |
| 10 - (A)(B)(C)(D)(E) | 20 - (A)(B)(C)(D)(E) | 30 - (A)(B)(C)(D)(E) | 40 - (A)(B)(C)(D)(E) | 50 - (A)(B)(C)(D)(E) |

SIMULADO NO SISTEMA DE QUESTÕES

Clique no link, ou copie e cole no seu navegador, para fazer este simulado também no SQ!

<https://coruja.page.link/eo5L>

CONHECIMENTOS GERAIS**LÍNGUA PORTUGUESA***Fabício Dutra*

Manaus, outrora conhecida como a "Paris dos Trópicos", viveu seu apogeu durante o Ciclo da Borracha no final do século XIX e início do século XX. A cidade floresceu com a riqueza gerada pela exploração da seringueira, que proporcionou a construção de edifícios imponentes e uma infraestrutura moderna para a época. O Teatro Amazonas, inaugurado em 1896, é um exemplo emblemático dessa era de prosperidade, refletindo a opulência e a ambição dos barões da borracha. As ruas de Manaus eram adornadas com luminárias importadas da Europa e bondes elétricos, tornando a cidade um centro urbano avançado no coração da Amazônia.

O Rio de Janeiro, capital do Brasil até 1960, sempre foi um ponto de convergência cultural e política. Durante o século XIX, a cidade passou por uma série de transformações urbanas e arquitetônicas. A construção do Theatro Municipal, inspirada na Ópera de Paris, e a abertura da Avenida Central (atual Avenida Rio Branco) são marcos desse período de modernização. As charretes que percorriam as ruas calçadas de paralelepípedos e as praças arborizadas, como a Praça XV e o Passeio Público, ofereciam um vislumbre do estilo de vida refinado da elite carioca. Além disso, a cidade era um vibrante centro de encontros intelectuais, onde figuras como Machado de Assis e João do Rio desempenhavam papéis fundamentais na vida cultural do país.

Belém, por sua vez, também conheceu seu período de esplendor durante o Ciclo da Borracha, especialmente na virada do século XX. Conhecida como a "Metrópole da Amazônia", Belém transformou-se com a construção de magníficos edifícios, como o Theatro da Paz e o Mercado Ver-o-Peso. As avenidas largas e arborizadas, como a Avenida Nazaré, eram locais de passeio para a elite local, que exibia suas riquezas e costumes europeus. O Círio de Nazaré, já então uma celebração de grande importância, atraía multidões e demonstrava a profunda religiosidade e o espírito comunitário dos belenenses. Assim, Manaus, Rio e Belém antigos são testemunhos de um Brasil que se modernizava, buscando inspiração na Europa, mas firmemente enraizado em suas próprias tradições culturais e sociais.

01. A respeito das informações do texto, assinale a alternativa incorreta:

- a) Manaus, Rio de Janeiro e Belém modernizaram-se inspiradas pela Europa, com edificações e infraestruturas que refletiam essa influência.
- b) As três cidades abordadas no texto viveram seu apogeu econômico influenciado diretamente pelo Ciclo da Borracha, especialmente no final do século XIX e início do século XX.
- c) Rio de Janeiro foi a capital do Brasil até 1960 e passou por transformações significativas durante o século XIX.
- d) O Círio de Nazaré e o Theatro da Paz destacam-se como símbolos culturais e religiosos de Belém.
- e) As três cidades destacaram-se como centros culturais e sociais, com construções icônicas e eventos significativos em suas histórias.

02. Sobre o seguinte fragmento:

As charretes que percorriam as ruas calçadas de paralelepípedos e as praças arborizadas, como a Praça XV e o Passeio Público, ofereciam um vislumbre do estilo de vida refinado da elite carioca. Além disso, a cidade era um vibrante centro de encontros intelectuais, onde figuras como Machado de Assis e João do Rio desempenhavam papéis fundamentais na vida cultural do país.

- I. O termo 'charretes' poderia ser corretamente substituído por 'carroças', mantendo o **mesmo** sentido.
- II. O termo 'como' – na primeira ocorrência – tem valor **comparativo**.
- III. O termo 'Além disso', apresenta valor de **acrescentamento**.

Julgue as afirmativas abaixo.

Está(ão) correta(s):

- a) I e II
- b) I e III
- c) Apenas a I

d) Apenas a III

e) Todas.

03. Assinale a alternativa em que o termo destacado não exerce função sintática.

a) A cidade floresceu com a riqueza gerada pela exploração da seringueira, **que** proporcionou a construção de edifícios imponentes e uma infraestrutura moderna para a época

b) As charretes **que** percorriam as ruas calçadas de paralelepípedos e as praças arborizadas, como a Praça XV e o Passeio Público, ofereciam um vislumbre do estilo de vida refinado

c) As praças arborizadas, **que** eram pontos de encontro da elite, abrigavam eventos culturais significativos para a sociedade carioca.

d) Além disso, a cidade era um vibrante centro de encontros intelectuais, **onde** figuras como Machado de Assis e João do Rio desempenhavam papéis fundamentais na vida cultural do país.

e) É importante notar **que** as charretes eram um símbolo do estilo de vida refinado da elite carioca na época.

04. Sobre as ocorrências de acento grave nas orações a seguir, assinale a alternativa correta.

I. As ruas da cidade eram adornadas com luminárias à moda europeia, refletindo a influência cultural da época.

II. A elite carioca costumava se reunir à noite nas praças arborizadas, como a Praça XV, para socializar e discutir ideias.

III. O acesso à cultura e aos eventos intelectuais no Rio de Janeiro antigo era um privilégio restrito àqueles que pertenciam à alta sociedade.

a) Em II, o acento de crase ocorreu por se tratar de uma locução adverbial feminina.

b) Em III, o acento grave em 'àqueles' está incorreto, por se tratar de palavra masculina.

c) Em I, é incorreto não empregar acento de crase no 'a' ante de 'influência'.

d) Em III, os dois acentos graves foram mal empregados.

e) Em I, se o termo 'moda' fosse retirado da frase, o acento de crase no 'a' também deveria ter sido suprimido.

05. De acordo com o texto, julgue as afirmações a seguir:

I. Manaus, Rio e Belém antigos são testemunhos de um Brasil que se modernizava à moda europeia, sem que houvesse influência da cultura local.

II. O Teatro Amazonas, inaugurado em 1896, é um símbolo marcante do período de prosperidade, demonstrando a riqueza e as aspirações dos magnatas da borracha.

III. Belém e Manaus prosperaram simultaneamente, dada a proximidade geográfica.

Está(ão) correta(s):

a) I e II

b) I e III

c) Apenas a II

d) Apenas a I

e) Todas.

06. À medida que o Ciclo da Borracha avançava, Manaus e Belém se transformavam em centros urbanos prósperos, refletindo a riqueza e o desenvolvimento da época.

O termo destacado acima poderia ser substituído corretamente, com manutenção de sentido por:

- a) Na medida que
- b) Na medida em que
- c) À proporção em que
- d) Sempre que
- e) Conforme

07. Impulsionado pela crescente demanda mundial por borracha...

Sobre o termo destacado acima, assinale a opção que aponta corretamente a sua função sintática:

- a) objeto indireto
- b) agente da passiva
- c) complemento nominal
- d) adjunto adnominal
- e) adjunto adverbial

08. Entretanto, a prosperidade trouxe desafios, como a exploração dos trabalhadores seringueiros e o impacto ambiental.

A conjunção acima:

- a) expressa adversidade e poderia ser substituída por 'no entretanto'.
- b) expressa concessão e equivale a 'Embora'
- c) expressa oposição e introduz oração subordinada sindética.
- d) expressa contraste e equivale a 'Contudo'.
- e) expressa oposição e pode ser substituída por 'Assim'.

09. Assinale a alternativa que apresenta erro de pontuação.

- a) O Ciclo da Borracha impulsionou a economia amazônica entre o final do século XIX e início do XX.
- b) Manaus e Belém prosperaram com a exportação de borracha para o mercado mundial.
- c) Luxuosos edifícios, como o Teatro Amazonas foram construídos durante esse período.
- d) A exploração dos seringueiros e o impacto ambiental foram desafios significativos.
- e) O ciclo declinou com a ascensão das plantações de borracha no Sudeste Asiático.

10. O declínio do ciclo ocorreu com a ascensão das plantações de borracha no Sudeste Asiático...

A expressão destacada é:

- a) um objeto indireto
- b) um complemento nominal
- c) um adjunto adverbial de tempo
- d) um adjunto adverbial de causa
- e) um agente da passiva.

RACIOCÍNIO LÓGICO*Carlos Henrique*

11. Se meu carro não é azul, então o meu leão ruge.
Se meu carro é azul, então Carlos não é professor.
Ora, Carlos é professor. Logo:

- a) o meu carro é azul e o meu leão não ruge
- b) o meu carro não é azul e o meu leão ruge
- c) o meu carro é azul e o meu leão ruge
- d) o meu carro não é azul e o meu leão não ruge
- e) se Carlos é professor, então o meu leão não ruge

12. Em um belo dia de agosto, Carlos Henrique saiu de casa com apenas algum dinheiro físico e foi dar um passeio em Copacabana. Carlos Henrique gastou $\frac{1}{4}$ do que possuía e mais R\$ 60,00 no café da manhã; posteriormente, no almoço, $\frac{1}{3}$ do que restava e ainda ficou com R\$ 80,00. Com que valor, Carlos Henrique saiu de casa?

- a) R\$ 150,00
- b) R\$ 175,00
- c) R\$ 200,00
- d) R\$ 240,00
- e) R\$ 300,00

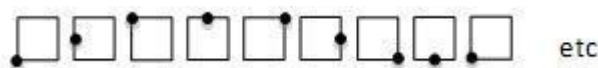
13. Em um órgão público A, há 360 canetas, algumas pretas, outras roxas e não há canetas com tinta de outra cor. Das canetas, 60% são de cor preta. Algumas canetas roxas são levadas para outro órgão público B o que faz com que a porcentagem de canetas pretas dentro órgão público A passe a ser de 90%. Quantas canetas roxas foram levadas para o órgão público B?

- a) 120.
- b) 150.
- c) 180.
- d) 200.
- e) 240.






14. Um HORTIFRUTTI vende tomates de dois tamanhos: pequenos e grandes. Esses tomates podem ser verdes ou vermelhos. No estoque do HORTIFRUTTI, há 155 tomates, dos quais 82 são vermelhos e 85 são pequenos. Sabendo que 33 dos tomates em estoque são pequenos e vermelhos, a porcentagem dos tomates grandes que são verdes é

- a) 10%.
- b) 20%.
- c) 27%.
- d) 30%.
- e) 40%.

15. Observe, na figura a seguir, a sequência de quadrados e numere-os, da esquerda para a direita, com os números 1, 2, 3, 4, etc. até 2015.



O quadrado de número 2015 é:

- a) 
- b) 
- c) 
- d) 
- e) 

INFORMÁTICA*Emannuelle Gouveia*

16. No LibreOffice Writer, a opção de “Numeração de Capítulos...” se encontra no menu:

- a) Ferramentas.
- b) Tabela
- c) Estilo.
- d) Formatação.
- e) Arquivo

17. No Excel existe a funcionalidade que pode ser usada para filtrar dados em uma planilha. Para acessá-la, através do teclado, devemos utilizar qual combinação de teclas:

- a) CTRL + SHIFT + P
- b) CTRL + SHIFT + A
- c) CTRL + P
- d) CTRL + SHIFT + L
- e) SHIFT + L

18. A URL é formada por várias partes. A que indica o domínio vem logo após o (a):

- a) protocolo
- b) caminho
- c) query
- d) elemento
- e) email

19. Ao utilizar o serviço de Busca, um usuário deseja pesquisar as páginas que contenham exatamente a expressão CONCURSOS NO ACRE. Para isso, ele deve usar que operador dentre os listados abaixo:

- a) -.
- b) ""
- c) E
- d) OU.
- e) site:

20. O token de certificado digital, que se encaixa na porta USB dos computadores, na maioria dos casos, é um periférico de:

- a) Entrada e saída.
- b) saída.
- c) Entrada
- d) Não é um periférico
- e) Flutuante

REALIDADE ÉTNICA, SOCIAL, GEOGRAFIA E CULTURA DO ACRE*Sérgio Henrique*

21. “O Estado do Acre é um dos 27 estados brasileiros e é o 15º em extensão territorial, com uma superfície

de 164.221,36 Km², correspondente a 4,26% da Região Norte, e a 1,92% do território nacional. O estado faz

divisa com o estado do Amazonas, e fronteiras internacionais com o Peru e a Bolívia.”

(adaptado de: GOVERNO DO ACRE, 2023)

Com base em seus conhecimentos sobre a geografia acreana, assinale corretamente o município que não faz

fronteira internacional com o Peru.

- a) Assis Brasil.
- b) Feijó.
- c) Sena Madureira.
- d) Tarauacá.
- e) Jordão.

22. Sobre os aspectos naturais do Estado do Acre, analise as afirmativas abaixo:

I- A Serra da Contamana ou do Divisor está localizada ao Oeste do estado, e é considerado o ponto mais alto

do território acreano com 609 metros de altitude.

II- A Serra do Divisor, localizada nas proximidades da fronteira como a Bolívia, é considerado o ponto mais

ocidental do Brasil.

III- Em relação ao clima do estado, temos o tipo equatorial úmido. Possui temperaturas bastante uniformes

ao longo do ano e estações que se distinguem pelas chuvas: Uma úmida e outra seca.

Assinale:

- a) se somente a afirmativa I estiver correta.
- b) se somente a afirmativa II estiver correta.
- c) se somente as afirmativas I e II estiverem corretas.
- d) se somente as afirmativas I e III estiverem corretas.
- e) se todas as afirmativas estiverem corretas.

23. Sobre o Estado do Acre, é correto afirmar:

I- O Estado do Acre possui 22 municípios ao todo, que são agrupados em duas mesorregiões e cinco microrregiões.

II- Da mesma forma, o estado acreano é dividido em duas Regiões Geográficas Intermediárias e cinco Regiões

Geográficas Imediatas.

III- Segundo dados de 2021, o IDH do estado acreano é de 0,710, considerado médio e menor que o do Brasil

que é 0.754.

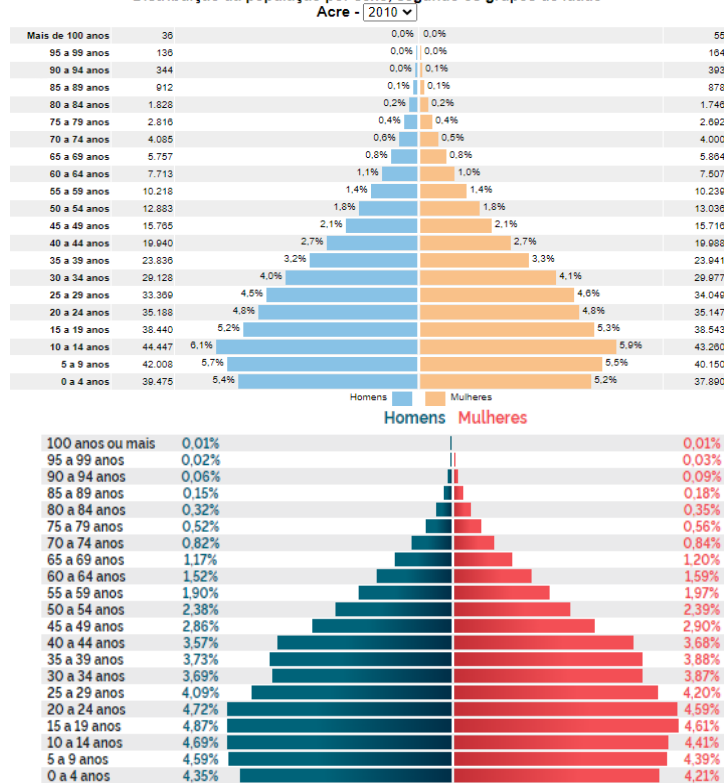
Assinale:

- a) se somente a afirmativa I estiver correta.
- b) se somente a afirmativa II estiver correta.
- c) se somente as afirmativas I e II estiverem corretas.
- d) se somente as afirmativas I e III estiverem corretas.

e) se todas as afirmativas estiverem corretas.

24.

Distribuição da população por sexo, segundo os grupos de idade



Sobre aspectos gerais da população acreana, e brasileira, assinale a alternativa correta sobre as transformações nas últimas décadas:

- a) a população acreana é predominantemente jovem, apresentando elevação nas taxas de natalidade.
- b) a população brasileira, assim como a do Acre passa por um processo de envelhecimento nas últimas décadas.
- c) o Brasil possui uma das maiores expectativas de vida do mundo atual, graças ao avanço da medicina.
- d) a taxa de natalidade no Brasil apresenta números elevados predominando a população jovem.
- e) a taxa de mortalidade é elevada, possuindo o brasileiro uma das mais altas expectativas de vida entre os países da América Latina.

25. Sobre o Estado do Acre, analise as afirmações abaixo:

I. O Estado do Acre possui um Produto Interno Bruto (PIB) de aproximadamente R\$ 21,3 bilhões, sendo o 25º

no ranking de estados brasileiros por PIB.

II. Sobre as atividades de rebanhos e culturas agrícolas do estado acreano, o rebanho bovino é o principal do

estado e o café é o maior cultivo permanente no último ano.

III. O Estado do Acre possui aproximadamente 74% do seu PIB contribuído pelo comércio e serviços, sendo um estado com forte participação do setor terciário.

Assinale a alternativa Correta.

- a) As afirmativas I e III estão corretas.
- b) As afirmativas II e III estão corretas.
- c) A afirmativa I está correta.
- d) A afirmativa III está correta.
- e) Todas as afirmativas estiverem corretas.

DIREITO CONSTITUCIONAL

Fábio Ramos

26. Acerca das normas constitucionais que regem os direitos políticos e os partidos políticos, assinale a opção correta, conforme a Constituição Federal de 1988 e o entendimento do Supremo Tribunal Federal.

- a) É inelegível para o cargo de vereador ex-cônjuge de governador do estado, ainda que se trate de reeleição e a dissolução do vínculo conjugal tenha ocorrido antes do início do mandato de governador.
- b) Não se aplica a regra da perda de mandato por infidelidade partidária a governador que, depois de eleito pelo sistema majoritário, resolva mudar de partido político.
- c) A condenação de servidor público federal por ato de improbidade administrativa não impede sua candidatura ao cargo de deputado federal, uma vez que tal situação não se inclui entre as hipóteses de suspensão de direitos políticos.
- d) O voto é obrigatório para o cidadão brasileiro naturalizado que seja analfabeto.
- e) Ação para impugnação do mandato de prefeito eleito graças a esquema de compra de votos deve ser ajuizada na justiça federal, dentro do prazo de seis meses, e instruída com provas do abuso do poder econômico.

27. Tibruço, policial militar de Minas, respondeu a processo administrativo disciplinar e recebeu, ao final, a sanção de suspensão de 20 (dez) dias, o que também lhe acarretou outros prejuízos estatutários, como a impossibilidade de ser promovido por merecimento nos dois anos seguintes. Apesar da gravidade das consequências, Tibruço não foi defendido por advogado. Considerando as garantias constitucionais asseguradas aos brasileiros em geral, a ausência de defesa por advogado:

- a) afronta a garantia constitucional do contraditório.
- b) não afronta a ordem constitucional, desde que Rosival tenha renunciado ao direito à defesa por advogado;
- c) afronta a garantia constitucional do devido processo legal;
- d) afronta a garantia constitucional da ampla defesa;
- e) não afronta a ordem constitucional, desde que tenham sido assegurados o contraditório e a ampla defesa;

28. De acordo com a Constituição Federal, todos são iguais perante a lei, sem distinção de qualquer natureza, garantindo-se aos brasileiros e aos estrangeiros residentes no País a inviolabilidade do direito à vida, à liberdade, à igualdade, à segurança e à propriedade, nos termos seguintes:

- a) É ilícita a prisão civil de depositário infiel, qualquer que seja a modalidade do depósito.
- b) as entidades associativas, não dependem de autorização expressa para representar seus filiados judicial ou extrajudicialmente.
- c) às presidiárias, serão asseguradas condições para que possam permanecer com seus filhos durante o período de amamentação, desde que apresentem bom comportamento.
- d) São gratuitas as ações de habeas data e o mandado de segurança, e, na forma da lei, os atos necessários ao exercício da cidadania.
- e) é assegurado, nos termos da lei, o direito à proteção dos dados pessoais, excluindo nos meios digitais.

29. Fábio Ramos em uma conversa informal com seu colega Antônio Pequeno sobre Segurança pública, comentou alguns dispositivos constitucionais. Analise as assertivas que Fábio comentou com Pequeno de acordo com a Constituição federal de 88, Levando em consideração os dispositivos que tratam da segurança pública. Analise-as com valores Verdadeiro (V) ou Falso(F).

- () As polícias militares e os corpos de bombeiros militares, forças auxiliares e reserva do Exército subordinam-se, juntamente com as polícias civis e as polícias penais estaduais e municipais, aos Governadores dos Estados, do Distrito Federal e dos Territórios.
- () Às polícias penais, vinculadas ao órgão administrador do sistema penal da unidade federativa a que pertencem, cabe a segurança dos estabelecimentos penais.
- () Os Municípios poderão constituir guardas municipais destinadas à proteção de seus bens, serviços e instalações, conforme dispuser a lei.
- () Às polícias civis, dirigidas por delegados de polícia de carreira, incumbem, ressalvada a competência dos Estados, as funções de polícia judiciária e a apuração de infrações penais, exceto as militares.
- () compete, no âmbito dos Estados, do Distrito Federal e dos Municípios, aos respectivos órgãos ou entidades executivos e seus agentes de trânsito, estruturados em Carreira, na forma da lei. Assinale a alternativa que apresenta a sequência correta de cima para baixo.

- a) V - F - F - V - V
- b) F - F - V - F - F
- c) F - V - F - F - V
- d) V - F - F - F - V
- e) F - V - V - F - V

30. Suponha que Ross e Val, casados, cidadãos americanos, estavam de férias no Brasil quando, devido a uma intercorrência médica, Val deu à luz prematuramente ao seu filho Tanaka. Considerando o disposto na Constituição Federal, é correto afirmar que Tanaka

- a) é brasileiro nato e poderá perder sua naturalização em virtude da prática de atividade nociva ao interesse nacional.
- b) Ele tem a Nacionalidade inata e no futuro poderá se candidatar para o cargo de Presidente e Vice-Presidente da República Federativa do Brasil.
- c) é brasileiro naturalizado e no futuro poderá ocupar o cargo de Presidente da Câmara dos Deputados.
- d) deve ser considerado como brasileiro nato, e poderá perder a nacionalidade se fizer pedido expresso de perda da nacionalidade brasileira perante autoridade brasileira competente, sem ressalvas.
- e) apenas será considerado brasileiro após residir por um ano ininterrupto no Brasil e comprovar que tem idoneidade moral.

DIREITO ADMINISTRATIVO

Antônio Daud

31. Uma autoridade de trânsito de determinado Estado, no exercício regular das atribuições de seu cargo, aplicou multa em condutor de veículo automotor em razão de ter excedido o limite de velocidade em via pública.

O ato administrativo relativo à aplicação da multa representa manifestação do poder

- a) hierárquico, sendo que o ato praticado possui autoexecutoriedade.
- b) de polícia, sendo que o ato praticado não possui autoexecutoriedade.
- c) disciplinar, sendo que o ato praticado não possui autoexecutoriedade.
- d) de polícia, sendo que o ato praticado possui autoexecutoriedade.
- e) normativo, sendo o ato praticado dotado de efeitos gerais e abstratos.

32. Em relação ao poder de polícia e suas etapas (ciclo de polícia), assinale a alternativa correta:

- a) a fase da legislação refere-se à expedição de decretos pelo chefe do Poder Executivo para permitir a fiel execução das leis.
- b) os atos de consentimento sempre estarão presentes no ciclo de polícia, resultando na expedição de licenças e autorizações em favor dos particulares.
- c) fiscalização consiste na verificação do cumprimento das ordens de polícia, a exemplo de uma blitz de trânsito.
- d) a etapa de sanção diz respeito à apuração de infrações e aplicação de penalidades àqueles sujeitos à disciplina interna da Administração.
- e) na fase de ordem, a administração pública distribui e escalona funções entre seus órgãos e estabelece a relação de subordinação entre os servidores de seu quadro.

33. Assinale uma característica dos órgãos públicos da Administração Direta:

- a) patrimônio próprio.
- b) incapacidade processual, em qualquer hipótese.
- c) estruturas jurídicas decorrentes da descentralização administrativa.
- d) impossibilidade de serem criados ou extintos mediante decreto.
- e) personalidade de direito público.

34. Em relação ao controle da Administração Pública, assinale a alternativa correta:

- a) O controle judicial decorre diretamente da autotutela exercida sobre os atos a administração pública.
- b) O controle administrativo se dá sobre aspectos de legalidade e de mérito, podendo ser exercido pelo Poder Executivo em caráter de exclusividade.
- c) O poder de fiscalização que um órgão da administração centralizada exerce sobre autarquia a ele vinculada caracteriza controle administrativo por subordinação vinculativa.
- d) Embora o controle judicial ocorra prioritariamente em caráter corretivo, há situações em que admite-se o controle prévio, a exemplo do Mandado de Segurança Preventivo.
- e) A fiscalização contábil, orçamentária, operacional e patrimonial da administração pública estadual integra o controle externo exercido pela Justiça Estadual com o auxílio das contadorias dos respectivos tribunais.

35. No tocante à discricionariedade e à vinculação dos atos administrativos, é correto afirmar que:

- a) O mérito administrativo representa o poder conferido ao administrador público para decidir sobre a oportunidade e a conveniência para prática de ato vinculado.
- b) Nos atos discricionários o gestor público terá liberdade para valorar o motivo e o objeto do ato administrativo, permitindo-se que ele vá além das disposições limitativas da lei.

c) Apenas os atos vinculados admitem controle judicial.

d) O juízo de mérito, quando houver, recairá sobre os elementos objeto e finalidade do ato administrativo.

e) Nos atos vinculados, a lei define de maneira exaustiva a conduta do gestor, inexistindo espaço para qualquer juízo de mérito por parte do administrador público.

CONHECIMENTOS ESPECÍFICOS

CONHECIMENTOS DE TRÂNSITO

Alexandre Herculano

36. O veículo só poderá transitar pela via quando atendidos os requisitos e condições de segurança estabelecidos no Código de Trânsito Brasileiro e em normas do

- a) CETRAN.
- b) DENATRAN.
- c) CONTRAN.
- d) DETRAN.
- e) SENATRAN

37. No artigo 59 do Código de Trânsito Brasileiro, estabelece que, desde que autorizado e devidamente sinalizado pelo órgão ou entidade com circunscrição sobre a via, se permite a circulação de bicicletas

- a) nas vias arteriais.
- b) nas praças públicas.
- c) nos acostamentos.
- d) nos passeios.
- e) nas esquinas

38. O exame toxicológico para a obtenção e a renovação da Carteira Nacional de Habilitação, que o artigo 148-A do CTB menciona, buscará aferir o consumo de substâncias psicoativas que, comprovadamente, comprometam a capacidade de direção e deverá ter, nos termos das normas do Contran, janelas de detecção mínima de

- a) 30 (trinta) dias.
- b) 60 (sessenta) dias.
- c) 90 (noventa) dias.
- d) 100 (cem) dias.
- e) 80 (oitenta) dias.

39. De acordo com o artigo 281 do CTB, a autoridade de trânsito, na esfera da competência estabelecida no CTB e dentro de sua circunscrição, julgará a consistência do auto de infração e aplicará a penalidade cabível, e o auto de infração será arquivado e seu registro julgado insubsistente se

- a) o infrator não for reincidente.
- b) considerado de outro município.
- c) considerado inconsistente ou irregular.
- d) considerado consistente, mas regular.
- e) considerado ilegal e reincidente

40. Assinale a alternativa correta no tocante à Lei no 9.503/97 (CTB).

- a) A conduta de dirigir veículo automotor em via pública, sem a devida permissão para dirigir ou habilitação, configura crime (art. 309), gerando ou não perigo de dano
- b) A única possibilidade de configuração do crime de embriaguez ao volante (art. 306) é por meio da constatação de concentração igual ou superior a 6 decigramas de álcool por litro de sangue, ou igual ou superior a 0,3 miligrama de álcool por litro de ar alveolar.
- c) Mesmo sem resultar dano potencial à incolumidade pública ou privada, é crime (art. 308) participar, na direção de veículo automotor, em via pública, de disputa ou competição automobilística

não autorizada pela autoridade competente ("racha")

- d) É crime (art. 311) trafegar em velocidade incompatível com a segurança nas proximidades de escolas, gerando perigo de dano.
- e) A condução de veículo automotor em via pública por motorista com a habilitação suspensa configurará crime apenas se a situação gerar perigo de dano.

41. De acordo com o artigo 51 do CTB, nas vias internas pertencentes a condomínios constituídos por unidades autônomas, na aprovação dos projetos pelo órgão ou entidade com circunscrição sobre a via, a sinalização de regulamentação da via será implantada e mantida

- a) por órgão indicado pelo CETRAN.
- b) às expensas do condomínio.
- c) às expensas da prefeitura.
- d) pela engenharia de tráfego.
- e) pelo DETRAN.

42. O ciclista desmontado empurrando a bicicleta equipara-se, em direitos e deveres, ao

- a) automóvel.
- b) motociclista.
- c) ciclomotor.
- d) pedestre.
- e) motorista

43. De acordo com o artigo 40, do Código de Trânsito Brasileiro (CTB), o condutor manterá acesos os faróis do veículo, por meio da utilização da luz baixa, mesmo durante o dia, quando trafegar em

- a) vias de trânsito rápido.
- b) estradas vicinais.
- c) túneis.
- d) via local.
- e) via permanente

44. De acordo com o artigo 47 do CTB, no seu parágrafo único, a operação de carga ou descarga será regulamentada pelo órgão ou entidade com circunscrição sobre a via, e é considerada

- a) movimentação de carga.
- b) parada.
- c) estacionamento.
- d) desembarque de carga.
- e) permanência na via

45. Quando veículos, transitando por fluxos que se cruzem, se aproximarem de local não sinalizado, terá preferência de passagem, de acordo com o artigo 29 do Código de Trânsito Brasileiro (CTB), no caso de apenas um fluxo ser proveniente de rodovia, aquele que estiver

- a) em maior velocidade.
- b) transportando produtos perigosos.
- c) rebocando outro veículo.
- d) circulando por ela.
- e) parado na via

NOÇÕES DE PRIMEIROS SOCORROS

Jonathan Roitman

46. De forma bem objetiva, podemos definir que o objetivo dos Primeiros Socorros é:

- a) Manter o paciente confortável ou até a chegada de socorro médico apropriado ou até que o ferido chegue até um local onde possa ser dado o devido atendimento.
- b) Manter o paciente consciente ou até a chegada de socorro médico apropriado ou até que o ferido chegue até um local onde possa ser dado o devido atendimento.
- c) Manter o paciente com vida ou até a chegada de socorro médico inapropriado ou até que o ferido chegue até um local onde possa ser dado o devido atendimento.
- d) Manter o paciente com vida ou até a chegada de socorro médico apropriado ou até que o ferido chegue até um local onde possa ser dado o devido atendimento.
- e) Manter o paciente deitado ou até a chegada dos enfermeiros ou até que o ferido chegue até um local onde possa ser dado o devido atendimento.

47. Diante de uma situação de acidente (trauma) a primeira prioridade para todos os envolvidos em um incidente é a avaliação geral da cena. A avaliação da cena significa:

- a) Determinar a segurança do local para que o serviço de emergência médica possa entrar; e com cuidado considerar a natureza da situação garantindo desta forma a segurança do socorrista e da vítima.
- b) Determinar a segurança do local para que o serviço de emergência médica não possa entrar; e apressadamente considerar a natureza da situação garantindo desta forma a segurança do socorrista e da vítima.
- c) Determinar o estado das vítimas, antes de se preocupar com os bens materiais ou com terceiros não vitimados.
- d) Determinar a segurança da cidade onde o incidente ocorreu; e com cuidado considerar a natureza da situação garantindo desta forma a segurança do socorrista e da vítima.
- e) Determinar a insegurança do local para que o serviço de emergência médica possa entrar; e com cuidado considerar a natureza da situação garantindo desta forma a segurança do socorrista e da vítima.

48. Vítimas de acidentes podem apresentar luxações, distensões, entorses e até fraturas. Sobre o tema, é correto que:

- a) A luxação consiste nos ossos saindo de sua posição e retornado ao seu lugar imediatamente, sem necessidade de intervenção.
- b) Nas entorses leves, ou de grau III, um ligamento se rompe por completo. A vítima provavelmente sentirá dor aguda com qualquer movimento da articulação e, por isso, pode não ser capaz de movimentá-la. Haverá também um inchaço generalizado na articulação (particularmente em entorses do tornozelo, cotovelo, dedos da mão, joelhos e dedos do pé).
- c) A distensão, também chamada de estiramento, é necessariamente o rompimento de um músculo ou de um tendão. Podemos ter diferentes graus de

lesão, podendo haver uma distensão leve, moderada e até grave.

- d) Em relação ao estiramento, os sintomas incluem a dor, inchaço, espasmos musculares e até limitação de movimento. O tratamento será basicamente a movimentação, quente no primeiro momento (num segundo, sem inflamação podemos usar o gelo) e abaixamento do membro afetado.
- e) Além de dor, outros sintomas de fratura são a crepitação, inchaço e rigidez.

49. Em relações às hemorragias externas, temos 3 tipos. Analise os tipos e suas características e assinale a alternativa que aponta a ordem correta.

- 1. A hemorragia capilar
- 2. A hemorragia venosa
- 3. A hemorragia arterial

() é causada por abrasões que lesionam pequenos capilares localizados abaixo da superfície da pele. Geralmente, uma hemorragia capilar é diminuída ou até mesmo interrompida antes da chegada da equipe do pré-hospitalar.

() provém de camadas mais profundas do tecido e é, em geral, controlada mediante uma pressão direta moderada no local. De modo geral, a hemorragia venosa não é uma ameaça à vida, a menos que a lesão seja grave ou a perda sanguínea não seja controlada.

() é causada por laceração de uma artéria. Esse é o tipo de perda sanguínea mais importante e mais difícil de ser controlada. É caracterizada por sangue na cor vermelho intenso que jorra da ferida. Mesmo uma ferida perfurante pequena e profunda em uma artéria pode produzir hemorragia com risco à vida.

- a) 1, 3 e 2
- b) 2, 3 e 1
- c) 2, 1 e 3
- d) 1, 2 e 3
- e) 3, 2 e 1

50. Sobre as convulsões, a alternativa que traz apenas informações corretas é:

- a) A principal característica de uma convulsão é a parada repentina do coração, normalmente seguida de abalos musculares, ou seja, a pessoa pode ficar como se estivesse desmaiada e ter tremores pelo corpo. Quando isso ocorre, o mais importante, num primeiro momento, é preservar o indivíduo contra acidentes, tais como queda, batidas de cabeça, braços, pernas, dentre outros. Por isso, deitar a pessoa de lado e retirar tudo aquilo que possa cair em cima dela ou que ela possa bater é recomendado. Depois disso basta aguardar, pois as crises convulsivas levam no máximo alguns minutos.
- b) A principal característica de uma convulsão é a perda repentina da consciência, jamais seguida de abalos musculares, ou seja, a pessoa fica como se estivesse totalmente desmaiada. Quando isso ocorre, o mais importante, num primeiro momento, é preservar o indivíduo contra acidentes, tais como queda, batidas de cabeça, braços, pernas, dentre outros. Por isso, deitar a pessoa de lado e retirar tudo aquilo que possa cair em cima dela ou que ela possa bater é recomendado. Depois disso basta aguardar, pois as crises convulsivas levam no máximo alguns minutos.
- c) A principal característica de uma convulsão é a perda repentina da consciência, normalmente seguida de abalos musculares, ou seja, a pessoa pode ficar como se estivesse desmaiada e ter tremores pelo corpo. Quando isso ocorre, o mais importante, num primeiro momento, é correr para o hospital ainda no meio da crise.
- d) A principal característica de uma convulsão é a perda repentina da consciência, normalmente seguida de abalos musculares, ou seja, a pessoa pode ficar como se estivesse desmaiada e ter tremores pelo corpo. Quando isso ocorre, o mais importante, num primeiro momento, é preservar o indivíduo contra acidentes, tais como queda, batidas de cabeça, braços, pernas, dentre outros.

Por isso, deitar a pessoa de lado e retirar tudo aquilo que possa cair em cima dela ou que ela possa bater é recomendado. Depois disso basta aguardar, pois as crises convulsivas levam no máximo alguns minutos.

- e) A principal característica de uma convulsão é a perda repentina da consciência, normalmente seguida de abalos musculares, ou seja, a pessoa pode ficar como se estivesse desmaiada e ter tremores pelo corpo. Quando isso ocorre, o mais importante, num primeiro momento, é preservar o indivíduo contra acidentes, tais como queda, batidas de cabeça, braços, pernas, dentre outros. Por isso, deitar a pessoa de bruços e retirar tudo aquilo que possa cair em cima dela ou que ela possa bater é recomendado. Depois disso basta aguardar, pois as crises convulsivas levam no máximo alguns minutos.

O QUE VOCÊ ACHOU DESTE SIMULADO?

Conte-nos como foi sua experiência ao fazer este simulado.

Sua opinião é muito importante para nós!

<https://forms.gle/3RC8pkHLNAnpSnxQ9>

NÃO É ASSINANTE?

Confira nossos planos, tenha acesso a milhares de cursos e participe gratuitamente dos projetos exclusivos. Clique no link!

<http://estrategi.ac/assinaturas>

CONHEÇA NOSSO SISTEMA DE QUESTÕES

Estratégia Questões nasceu maior do que todos os concorrentes, com mais questões cadastradas e mais soluções por professores. Clique no link e conheça!

<http://estrategi.ac/ok1zt0>