



MDHC

MPI
Ministério do Planejamento

IBGE

INMET

3º Simulado Especial

CONCURSO NACIONAL UNIFICADO

BLOCO 8

Nível Intermediário
Pós-Edital

PREVIC

MJSP

ANTAO

MinC

GESTÃO
gov.br

Simulado

Simulado CNU-BT8 (Nível Intermediário)

Nome: _____

INFORMAÇÕES SOBRE O SIMULADO

- 1 - Este simulado conta com questões focadas no concurso para **Bloco 8 - Nível Intermediário do CNU**;
- 2 - A prova contém itens que abordam conhecimentos cobrados no edital do concurso;
- 3 - As questões são inéditas e foram elaboradas pelos nossos professores com base no perfil da banca organizadora;
- 4 - Os participantes têm das **8:00h às 13:30h** para responder às questões e preencher o Gabarito Eletrônico;
- 5 - O link para preencher o formulário com seu gabarito está localizado logo após estas instruções;

PREENCHA SEU GABARITO

Clique no link, ou copie e cole no seu navegador, para preencher seu gabarito.

<https://forms.gle/mF6TexFruhmohAdS9>

01 - (A)(B)(C)(D)(E)	13 - (A)(B)(C)(D)(E)	25 - (A)(B)(C)(D)(E)	37 - (A)(B)(C)(D)(E)	49 - (A)(B)(C)(D)(E)
02 - (A)(B)(C)(D)(E)	14 - (A)(B)(C)(D)(E)	26 - (A)(B)(C)(D)(E)	38 - (A)(B)(C)(D)(E)	50 - (A)(B)(C)(D)(E)
03 - (A)(B)(C)(D)(E)	15 - (A)(B)(C)(D)(E)	27 - (A)(B)(C)(D)(E)	39 - (A)(B)(C)(D)(E)	51 - (A)(B)(C)(D)(E)
04 - (A)(B)(C)(D)(E)	16 - (A)(B)(C)(D)(E)	28 - (A)(B)(C)(D)(E)	40 - (A)(B)(C)(D)(E)	52 - (A)(B)(C)(D)(E)
05 - (A)(B)(C)(D)(E)	17 - (A)(B)(C)(D)(E)	29 - (A)(B)(C)(D)(E)	41 - (A)(B)(C)(D)(E)	53 - (A)(B)(C)(D)(E)
06 - (A)(B)(C)(D)(E)	18 - (A)(B)(C)(D)(E)	30 - (A)(B)(C)(D)(E)	42 - (A)(B)(C)(D)(E)	54 - (A)(B)(C)(D)(E)
07 - (A)(B)(C)(D)(E)	19 - (A)(B)(C)(D)(E)	31 - (A)(B)(C)(D)(E)	43 - (A)(B)(C)(D)(E)	55 - (A)(B)(C)(D)(E)
08 - (A)(B)(C)(D)(E)	20 - (A)(B)(C)(D)(E)	32 - (A)(B)(C)(D)(E)	44 - (A)(B)(C)(D)(E)	56 - (A)(B)(C)(D)(E)
09 - (A)(B)(C)(D)(E)	21 - (A)(B)(C)(D)(E)	33 - (A)(B)(C)(D)(E)	45 - (A)(B)(C)(D)(E)	57 - (A)(B)(C)(D)(E)
10 - (A)(B)(C)(D)(E)	22 - (A)(B)(C)(D)(E)	34 - (A)(B)(C)(D)(E)	46 - (A)(B)(C)(D)(E)	58 - (A)(B)(C)(D)(E)
11 - (A)(B)(C)(D)(E)	23 - (A)(B)(C)(D)(E)	35 - (A)(B)(C)(D)(E)	47 - (A)(B)(C)(D)(E)	59 - (A)(B)(C)(D)(E)
12 - (A)(B)(C)(D)(E)	24 - (A)(B)(C)(D)(E)	36 - (A)(B)(C)(D)(E)	48 - (A)(B)(C)(D)(E)	60 - (A)(B)(C)(D)(E)

LÍNGUA PORTUGUESA*Fabrizio Dutra*

O célebre pensamento da filósofa francesa Simone de Beauvoir, "O mais escandaloso dos escândalos é que nos habituamos a eles", se aplica perfeitamente ao contexto dos crimes de perseguição no Brasil. Mais alarmante que a frequência desses delitos é a complacência da população frente a essa realidade. Essa situação preocupante se deve não apenas à ineficácia na aplicação das leis, mas também à trivialização, por parte da sociedade, do assédio por intrusão (stalking) em ambientes virtuais. Frente a essa problemática persistente, torna-se urgente a busca por soluções efetivas.

Primeiramente, é crucial destacar que a ineficácia das leis advém da falta de ação efetiva por parte das autoridades governamentais, que falham em implementar medidas eficientes para deter tais crimes. Thomas Jefferson, o terceiro presidente dos Estados Unidos e principal autor da Declaração de Independência do país, enfatizava que a execução das leis é mais significativa que a sua criação. Dessa forma, a negligência do Estado na concretização das leis colabora para a perpetuação do assédio por intrusão, visto que há uma carência de vigilância, punição e canais de denúncia eficazes, criando uma falsa percepção de impunidade no espaço virtual.

Adicionalmente, é importante ressaltar que a trivialização do assédio por intrusão pela sociedade também fomenta essa questão. Segundo o conceito de "Atitude Blasé", introduzido pelo sociólogo alemão Georg Simmel em sua obra "The Metropolis and Mental Life", essa atitude ocorre quando as pessoas começam a tratar com indiferença situações que deveriam ser consideradas sérias. Em paralelo, a sociedade utiliza de maneira equivocada o termo "stalkear", equiparando-o erroneamente a "espiar". Essa distorção banaliza o verdadeiro significado do stalking, levando a perseguições que podem causar desconforto e ameaçar a integridade física e psicológica das vítimas, configurando-se assim como um crime de perseguição, uma realidade infelizmente comum no Brasil.

01. Sobre o texto acima, assinale a alternativa **incorreta**.

- a) O texto utiliza uma citação de Simone de Beauvoir para destacar como a sociedade se habitua aos crimes de perseguição no Brasil.
- b) O autor argumenta que a ineficácia das leis é um dos principais motivos para a persistência do crime de assédio por intrusão, também conhecido como stalking.
- c) O texto menciona Thomas Jefferson, apresentando sua crença na importância da aplicação das leis, mas enfatizando a sua elaboração.
- d) A banalização do termo "stalkear" pela sociedade é criticada no texto, argumentando que isso contribui para a trivialização do stalking real e suas consequências sérias.
- e) O conceito de "Atitude Blasé", proposto por Georg Simmel, é usado para explicar como a indiferença social contribui para a negligência em relação à gravidade do stalking.

02. Essa situação preocupante se deve não apenas à ineficácia na aplicação das leis, mas também à trivialização.

O **conectivo** acima apresenta valor de:

- a) concessão
- b) adversidade
- c) conclusiva
- d) adição
- e) alternância.

03. Assinale a opção que apresenta a **correta** referência (entre colchetes) do elemento textual.

- a) Mais alarmante que a frequência desses delitos é a complacência da população frente a essa realidade. 1º parágrafo. [complacência]
- b) Frente a essa problemática persistente, torna-se urgente a busca por soluções efetivas. 1º parágrafo [ineficácia na aplicação das leis]
- c) que falham em implementar medidas eficientes para deter tais crimes. 2º parágrafo. [leis]
- d) enfatizava que a execução das leis é mais significativa que a sua criação. 2º parágrafo [Declaração de Independência]
- e) em sua obra "The Metropolis and Mental Life", essa atitude ocorre quando as pessoas começam a tratar com indiferença situações que deveriam ser consideradas sérias. 3º parágrafo [trivialização do assédio]

04. Sobre a ocorrência do acento grave de crase, assinale a alternativa **incorreta**.

- a) O stalking, ou perseguição persistente, é um crime que pode causar danos psicológicos profundos às vítimas, afetando sua sensação de segurança e bem-estar.
- b) A legislação contra o stalking no Brasil busca dar proteção às vítimas, mas a eficácia destas leis depende de uma aplicação rigorosa e de uma maior conscientização pública.
- c) As redes sociais tornaram-se um terreno fértil à prática do stalking, permitindo que agressores monitorem e assediem suas vítimas com relativa facilidade e anonimato.
- d) A educação sobre o que constitui stalking é crucial para desencorajar esse comportamento e apoiar às vítimas em seu direito de viver sem medo e perseguição.
- e) É fundamental que as vítimas de stalking busquem ajuda e denunciem os casos às autoridades, para que medidas legais possam ser tomadas contra os agressores.

05. Assinale a alternativa em que o pronome relativo 'que' exerça função sintática diferente dos demais.

- a) Stalking é um comportamento obsessivo que pode levar a sérias consequências legais para aqueles que o praticam.
- b) A perseguição, que é frequentemente caracterizada por uma obsessão não desejada, pode deixar as vítimas em um estado constante de medo e ansiedade.
- c) As vítimas de stalking, que muitas vezes se sentem impotentes, precisam de um sistema de apoio robusto para superar as dificuldades enfrentadas.
- d) As leis contra o stalking, que foram criadas para proteger as pessoas de assédio contínuo, ainda necessitam de implementação mais efetiva.
- e) Os comportamentos que identificamos com stalking incluem seguir alguém, enviar mensagens excessivas e monitorar atividades on-line.

06. Assinale a alternativa em que a oração destacada apresente valor condicional.

- a) Não fosse a perseverança, jamais teria conseguido.
- b) Há aproximadamente dez anos que não viajo para a Europa
- c) Só falam sobre quantas mulheres irão ao evento.
- d) Desde que essas explicações chegaram à minha vida, nunca mais fui o mesmo estudante.
- e) Depois que ela adormecer, iremos fugir deste lugar.

07. Assinale a alternativa em que a colocação pronominal apresenta **incorreção**.

- a) De tudo o que **me** difere de você, o ciúme é o sentimento mais relevante.
- b) Não arrepender-**se** não é uma opção, que isso fique claro.
- c) Formaria-**se** uma verdadeira guerra, não fosse o seu jeito pacifista.
- d) Os meus alunos **se** têm mostrado muito dedicados.
- e) Nada **me** atinge a esta altura.

08. Assinale a alternativa que apresenta **incorrecção** gramatical quanto à concordância.

- a) Flores me são os teus lábios
- b) Hão de existir novos investidores.
- c) Haverá oportunidades para todos.
- d) Foram chamar o vizinho em cima da hora da festa.
- e) Grande parte daquela turma têm métodos contestáveis.

09. Quanto à concordância nominal, assinale a alternativa **correta**.

- a) Todos puderam observar que a professora e a aluna estavam dedicados ao trabalho.
- b) O total de alunos e a quantidade de provas assinadas foram verificadas de forma incorreta.
- c) A obtenção de lucro com o comércio e a venda de pacotes promocionais são muito visados nesse período.
- d) Após a perícia, confirmou-se que o motorista e a guia estavam atentos ao celular na hora do acidente.
- e) O jardineiro e a bióloga são versadas em plantas tropicais.

10. Assinale o trecho que apresenta **erro** de regência.

- a) Os clássicos literários os quais o professor se referia tem inspirado seus alunos a desenvolverem um amor profundo pela leitura.
- b) A criança, que sempre obedece aos pais mesmo quando as instruções são difíceis, tem demonstrado uma maturidade notável para sua idade.
- c) Nem é preciso olhar os exemplos da China, Índia e Rússia, com crescimento acima desses patamares. Ao conjunto inteiro da América Latina, o organismo internacional está atribuindo um crescimento enorme.
- d) Ela sempre escolhe o caminho do parque, que prefere por ser mais tranquilo e repleto de árvores, para fazer sua caminhada matinal.

- e) O jovem atleta, que almeja conquistar uma medalha olímpica, dedica várias horas por dia ao treinamento intenso, mantendo o foco em seu objetivo a longo prazo.

11. Está **incorreto** o emprego do elemento sublinhado em:

- a) O Príncipe é um símbolo recorrente, de cujo nome pessoal talvez nem mesmo a Branca de Neve nem tenha conhecimento.
- b) A necessidade de bajular o poder é um vício do qual muita gente da imprensa não consegue se esquivar.
- c) A trama na qual o personagem anônimo participa jamais seria a mesma sem sua contribuição.
- d) Em dois segundos, o lenhador tomou uma decisão que determinaria todo o curso da trama já conhecida de Branca de Neve.
- e) Os figurantes anônimos muitas vezes são responsáveis por uma ação em que todos acreditam.

12. Assinale a alternativa em que o termo destacado pertença à classe diferente dos demais.

- a) Era uma vez um reino distante onde a magia era parte da vida diária.
- b) A casa era grande e arejada, com janelas que davam para o mar.
- c) Ele não era mais o mesmo depois daquela viagem pelo deserto.
- d) O sol já se punha quando ela finalmente reconheceu que a felicidade não era um destino, mas uma jornada.
- e) Estendeu-se por milhões de anos antes de chegar ao fim abruptamente a era dos dinossauros.

13. Assinale a alternativa em que a análise do conectivo sublinhado esteja **correta**.

- a) Embora estivesse cansado, ele decidiu continuar a caminhada, pois queria alcançar o topo da montanha antes do pôr do sol. (condição)
- b) Ela comprou flores e chocolates, porque queria fazer uma surpresa para sua mãe no aniversário dela. (finalidade)
- c) Você pode escolher entre ficar em casa ou sair para jantar com seus amigos, mas decida logo para que possamos nos organizar. (adição)
- d) Ele não apenas estudou durante todo o semestre, como também participou de várias atividades extracurriculares, demonstrando grande dedicação. (comparação)
- e) Quando chove, as ruas ficam alagadas, e, por isso, é recomendável evitar dirigir nesse tempo. (conclusão)

14. Assinale a alternativa em que ocorra **problema** no emprego de pontuação.

- a) Com o avanço da tecnologia, os crimes virtuais tornaram-se mais sofisticados, envolvendo roubo de identidades e dados pessoais que muitas vezes, resultam em grandes prejuízos, financeiros para as vítimas.
- b) A disseminação de vírus e malwares por meio de e-mails e sites maliciosos é uma prática comum em crimes virtuais, que pode comprometer sistemas inteiros e resultar na perda irreparável de informações importantes.
- c) Muitas empresas têm investido pesadamente em segurança cibernética para combater crimes virtuais, implementando firewalls avançados e sistemas de detecção de intrusos para proteger suas redes e dados sensíveis.

d) O cyberbullying é uma forma de crime virtual que afeta principalmente adolescentes e jovens adultos, manifestando-se através de ameaças, humilhações e outros tipos de abuso online, que podem ter consequências psicológicas sérias.

e) Autoridades ao redor do mundo estão buscando aprimorar as legislações para lidar com crimes virtuais, mas enfrentam desafios significativos devido à natureza global da internet e à dificuldade em rastrear criminosos que operam de diferentes jurisdições internacionais.

15. Assinale a única opção que **não** apresenta valor semântico de oposição entre as orações.

- a) Ela sorria livremente, embora se tornasse tímida na presença do pai.
- b) Ele cumpriu todos os requisitos, porém não foi selecionado ao final do processo.
- c) Ele não se considerava um professor, mas sim um mero transmissor de informações.
- d) Não participarei da aula, visto que não gosto deste professor
- e) O livro é ruim, ainda assim preciso comprá-lo.

DIREITO CONSTITUCIONAL*João Trindade*

16. A respeito dos direitos e deveres individuais e coletivos, assinale a alternativa correta:

- a) nenhum brasileiro será extraditado, salvo o nato, em virtude da prática de crime comum ou de tráfico ilícito de entorpecentes e drogas afins
- b) nenhuma pena passará da pessoa do condenado, podendo a obrigação de reparar o dano e a decretação do perdimento de bens ser, nos termos da lei, estendidas aos sucessores e contra eles executadas, até o limite do valor do patrimônio transferido
- c) a prática do racismo constitui crime inafiançável e prescritível, sujeito à pena de detenção, nos termos da lei
- d) não haverá júízo ou tribunal de exceção, exceto em relação aos crimes hediondos
- e) ninguém será preso senão em flagrante delito ou por ordem escrita e fundamentada de autoridade policial competente

17. Sobre os direitos sociais, a Constituição Federal determina que:

- a) Todo brasileiro em situação de vulnerabilidade social terá direito a uma renda básica familiar, garantida pelo poder público em programa permanente de transferência de renda, cujas normas e requisitos de acesso serão determinados em lei, observada a legislação fiscal e orçamentária
- b) os direitos dos trabalhadores aplicam-se aos que labutam na área urbana, já que, em relação aos trabalhadores rurais, os direitos trabalhistas são extensíveis apenas em algumas situações
- c) é assegurado aos trabalhadores salário mínimo, fixado em decreto, nacionalmente unificado, capaz de atender a suas necessidades vitais básicas e às de sua família com moradia, alimentação, educação, saúde, lazer, vestuário, higiene, transporte e previdência social, com reajustes

periódicos que lhe preservem o poder aquisitivo, sendo vedada sua vinculação para qualquer fim

- d) a lei poderá exigir autorização do Estado para a fundação de sindicato, além do o registro no órgão competente
- e) é assegurado o direito de greve, competindo aos empregadores decidir sobre a oportunidade de exercê-lo e sobre os interesses que devam por meio dele defender.

18. Considere que Sinforosa nasceu na França, quando seus pais, brasileiros natos, lá se encontravam a serviço de empresa privada, sendo certo que Sinforosa foi registrada na repartição brasileira na França, mas nunca veio a conhecer o Brasil. Nesse contexto, à luz das disposições constitucionais, Sinforosa pode ser considerada:

- a) brasileira naturalizada
- b) estrangeira
- c) brasileira sob regime especial transitório
- d) brasileira nata
- e) francesa equiparada

19. É privativo de brasileiro nato o cargo de:

- a) Oficial da Polícia Militar do Estado de Minas Gerais
- b) Vice-Presidente da Câmara dos Deputados
- c) Ministro do Supremo Tribunal Federal
- d) Presidente de Assembleia Legislativa
- e) Ministro de Estado da Fazenda

20. Considere as seguintes situações hipotéticas:

I – Gustavsson tem 16 anos.

II – Janicleia tem 33 anos.

III – Wandercleidson tem 76 anos.

IV – Ivanosvska tem 22 anos.

Levando-se em consideração apenas essas informações, pode-se afirmar que, nas eleições realizadas neste mesmo ano em que foram verificadas essas idades:

- a) Ivanovska pode concorrer ao cargo de Deputada Federal
- b) Wandercleidson não pode concorrer ao cargo de Presidente da República
- c) Janicleia pode concorrer ao cargo de Senadora
- d) Gustavsson pode concorrer ao cargo de vereador
- e) Janicleia não pode concorrer ao cargo de governadora

21. É causa de perda ou suspensão dos direitos políticos, conforme a Constituição:

- a) condenação criminal recorrível
- b) condenação por ato de improbidade administrativa
- c) cancelamento da naturalização, por ato administrativo do Ministro de Estado das Relações Exteriores
- d) incapacidade civil relativa
- e) recusa em cumprir obrigação regulamentar específica

22. Elvira, vereadora, descobriu que, num córrego próximo à sua residência, uma fábrica, mancomunada com fiscais da Prefeitura, estava despejando resíduos de sua produção, assim poluindo o meio ambiente.

Diante desse quadro, a ação constitucional que Elvira pode manejar para fazer cessar essa situação é:

- a) mandado de segurança
- b) *habeas corpus*

c) *habeas data*

d) ação popular

e) ação civil pública

DIREITO ADMINISTRATIVO

Antônio Daud

23. No que se refere à responsabilidade civil do Estado, assinale a alternativa INCORRETA:

- a) A responsabilidade objetiva do Estado não se aplica a todas as empresas públicas e sociedades de economia mista.
- b) A responsabilidade objetiva do Estado requer demonstração da existência de vínculo específico entre o poder público e a vítima.
- c) A responsabilidade civil das pessoas jurídicas de direito privado prestadoras de serviço público é objetiva relativamente a terceiros usuários e a não-usuários do serviço.
- d) É prescritível a ação de reparação de danos à Fazenda Pública decorrente de ilícito civil.
- e) São imprescritíveis as ações de ressarcimento ao erário fundadas na prática de ato intencional tipificado na Lei de Improbidade Administrativa.

24. Segundo dispõe a Lei 8.112/1990, a demissão NÃO será aplicada ao servidor no seguinte caso:

- a) crime contra a administração pública.
- b) incontinência pública.
- c) conduta escandalosa na repartição.
- d) ausência do serviço durante o expediente, sem prévia autorização do chefe imediato.
- e) insubordinação grave em serviço.

25. Em relação às regras legais sobre o processo administrativo disciplinar (PAD), assinale a alternativa correta:

- a) A portaria de instauração do PAD exige exposição detalhada dos fatos a serem apurados.
- b) A revisão do PAD poderá se dar a pedido do interessado, desde que obedecido o prazo prescricional de três anos.
- c) A autoridade instauradora do PAD poderá determinar o afastamento preventivo do servidor do exercício do cargo, pelo prazo de até 90 dias, prorrogáveis por igual período, sem prejuízo da remuneração.
- d) A falta de defesa técnica por advogado no PAD é considerada vício insanável.
- e) É assegurado ao servidor o direito de acompanhar o processo pessoalmente ou por intermédio de procurador, arrolar e reinquirir testemunhas, produzir provas e contraprovas e formular quesitos, quando se tratar de prova pericial.

26. Tomando por base as regras da Lei 9.784/1999, analise os itens a seguir e assinale a alternativa correta.

- a) É cabível agravamento da sanção da revisão do processo administrativo.
- b) A desistência do interessado prejudica o prosseguimento do processo administrativo.
- c) Após o término da etapa de instrução, a Administração tem o prazo de até trinta dias para decidir sobre o processo administrativo, salvo prorrogação por igual período expressamente motivada.
- d) É impedida de atuar em processo administrativo autoridade que tenha inimizado notória com algum dos interessados ou com os respectivos cônjuges.
- e) O comparecimento do administrado não convalida as irregularidades de intimação nula.

27. Marque a alternativa correta acerca do poder de polícia:

- a) o poder de polícia permite a aplicação de sanções a servidores públicos que desrespeitarem as proibições constantes da Lei 8.112/1990.
- b) o poder de polícia não possui definição legal, de sorte que seus parâmetros originam-se exclusivamente da doutrina e jurisprudência.
- c) manifesta-se sempre mediante autoexecutoriedade.
- d) permite a aplicação de sanções criminais a pessoas que descumprirem restrições e condições que lhes são impostas.
- e) autoriza a cobrança de taxa pelos entes federativos.

28. Em relação às espécies e classificações dos atos administrativos, assinale a alternativa correta:

- a) atos enunciativos contêm uma declaração da Administração quanto a um fato ou uma situação, como autorizações e licenças.
- b) atos complexos resultam da manifestação de um único órgão, requerendo a vontade instrumental de outro órgão para se aperfeiçoarem.
- c) atos simples são aqueles que resultam da declaração de vontade de um único órgão, seja este singular ou colegiado.
- d) nos atos compostos a manifestação de vontade de dois ou mais órgãos se fundem para formação de um único ato.
- e) atos negociais são marcados pela existência de um alinhamento entre o interesse público e o privado, a exemplo das apostilas.

29. Considerando a redação atualizada da Lei 8.429/1992, trata-se de ato de improbidade que atenta contra os princípios da Administração Pública:

- a) frustrar a licitude de processo licitatório causando perda patrimonial efetiva.
- b) facilitar para que terceiro se enriqueça ilicitamente.
- c) realizar operação financeira sem observância das normas legais.
- d) perceber vantagem econômica para intermediar a liberação de verba pública.
- e) permitir que chegue ao conhecimento de terceiro, antes da respectiva divulgação oficial, teor de medida econômica capaz de afetar o preço de mercadoria.

30. Considerando o disposto na Lei 8.987/1995, trata-se de instrumento contratual que materializa a prestação indireta de serviços públicos por pessoa jurídica ou consórcio de empresas, sempre precedido de licitação, na modalidade concorrência ou diálogo competitivo:

- a) permissão de serviço público.
- b) concessão de uso de bem público.
- c) concessão de serviço público.
- d) contrato de empreitada por preço global.
- e) autorização de serviço público.

MATEMÁTICA

Eduardo Mocellin

31. Em um escritório, a razão entre homens e mulheres é de 3 para 7, nesta ordem. Em um determinado mês, três homens foram contratados e uma mulher pediu demissão, e isso fez com que a razão entre homens e mulheres passasse a ser de 3 para 5. O número total de pessoas desse escritório, após as contratações e demissões, passou a ser de

- a) 28
- b) 30
- c) 32
- d) 34
- e) 38

32. Em um espaço de diversão de um shopping, Armando e Bruno brincaram em máquinas que soltavam alguns tíquetes de acordo com a pontuação obtida. Após se divertirem bastante, Armando disse para Bruno: "Se você me der um de seus tíquetes, eu ficarei com o dobro do número de tíquetes com que você vai ficar". Bruno respondeu: "E se, em vez disso, eu rasgasse um de seus tíquetes, ficaríamos com o mesmo número". O total de tíquetes ganho pelos dois foi:

- a) 11
- b) 9
- c) 7
- d) 8
- e) 5

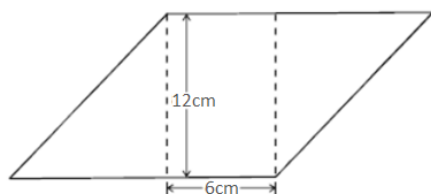
33. Um reservatório em formato de cubo tem a capacidade de 1.728.000 litros. Nesse caso, a aresta do reservatório deve medir:

- a) 12dm
- b) 144dm
- c) 12m
- d) 144m
- e) 12dam

34. João comprou um relógio na Rua Vinte e Cinco de Março que atrasa 11 segundos a cada 18 horas. O número de dias necessários para que esse relógio atrase 308 segundos é:

- a) 18
- b) 19
- c) 20
- d) 21
- e) 22

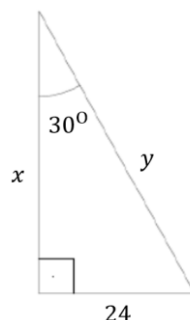
35. A figura a seguir mostra um paralelogramo em que duas medidas são apresentadas, dentre as quais a altura do paralelogramo, que mede 12cm.



Se a área do paralelogramo é 132cm^2 , então o seu perímetro é:

- a) 70cm
- b) 64cm
- c) 56cm
- d) 52cm
- e) 48cm

36. Considere o triângulo retângulo a seguir.



A alternativa que apresenta corretamente os valores para x e y , respectivamente, é:

- a) 12; $12\sqrt{3}$
- b) $8\sqrt{3}$; $12\sqrt{3}$
- c) $12\sqrt{2}$; 48
- d) 24; $24\sqrt{2}$
- e) $24\sqrt{3}$; 48

37. Uma empresa que oferece viagens de ônibus interestaduais verificou que o custo individual de uma passagem, em reais, deveria ser representado pela função $C(p) = 200 - 5p$, em que p corresponde ao número de passageiros no ônibus. O número de passageiros que corresponde ao maior custo por viagem é:

- a) 10
- b) 15
- c) 20
- d) 25
- e) 30

38. Um restaurante oferece as seguintes sugestões de almoço:

Sugestão	Preço
Salada e filé	R\$ 34
Salada e macarrão	R\$ 28
Macarrão e filé	R\$ 42

Sabendo-se que o preço de cada sugestão foi obtido somando-se os valores individuais de cada prato que compõe a respectiva sugestão, o preço a ser pago por uma pessoa que queira comer salada, macarrão e filé nesse restaurante deverá ser:

- a) R\$ 52
- b) R\$ 56
- c) R\$ 66
- d) R\$ 70
- e) R\$ 78

39. Considerando que $\ln x$ é o logaritmo natural de x , o tempo necessário para que um capital de R\$ 20.000,00, aplicado a uma taxa de 100% ao ano, produza um montante de R\$ 100.000,00 pelo regime de capitalização composta é:

- a) 3 anos
- b) 4 anos
- c) $\frac{\ln 3}{\ln 2}$ anos
- d) $\frac{\ln 4}{\ln 3}$ anos
- e) $\frac{\ln 5}{\ln 2}$ anos

40. Cinco crianças de uma escola possuem alturas diferentes e devem formar uma fila. A professora diz que a mais alta e a mais baixa das crianças não podem ocupar os extremos da fila, ou seja, nenhuma das duas pode ser nem a primeira nem a última da fila.

O número de maneiras diferentes que essa fila pode ser organizada é:

- a) 12

- b) 18
- c) 24
- d) 36
- e) 48

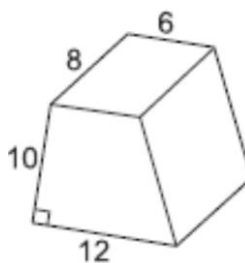
41. José, servidor público federal em estágio probatório, anotou ao longo de 13 dias o número de e-mails recebidos:

9, 12, 11, 6, 17, 5, 11, 6, 5, 12, 9, 18, 9

A diferença entre a mediana e a média dos números anotados por José é:

- a) 1
- b) 2
- c) 3
- d) 4
- e) 5

42. O prisma a seguir apresenta seis faces: quatro retângulos e dois trapézios retângulos.



Sabendo-se que as medidas da figura estão expressas em centímetros, o volume desse prisma é:

- a) 360 cm³.
- b) 396 cm³.
- c) 480 cm³.
- d) 576 cm³.
- e) 720 cm³.

43. Em uma população, a probabilidade de que um indivíduo já tenha dirigido sob efeito de álcool é de 0,043, e a probabilidade de que um indivíduo já tenha dirigido sob efeito de drogas ilícitas é de 0,024. Além disso, a probabilidade de que um indivíduo já tenha praticado as duas condutas é de 0,018. Considerando-se essa situação hipotética, a probabilidade de que um indivíduo tenha praticado ao menos uma das condutas é de:

- a) 0,025
- b) 0,049
- c) 0,061
- d) 0,067
- e) 0,085

44. Considere que x é o número de divisores naturais de 800 e que y é o número de divisores naturais de 11.025. O valor de $y - x$ é:

- a) 5
- b) 6
- c) 7
- d) 8
- e) 9

45. Um hexágono não regular apresenta ângulos internos de medidas diferentes, sendo o menor deles igual a 100° . Sabendo-se que os ângulos internos formam uma progressão aritmética crescente, a medida do maior desses ângulos é:

- a) 140°
- b) 142°
- c) 144°
- d) 146°
- e) 148°

REALIDADE BRASILEIRA

Alê Lopes

46.

Observe a imagem abaixo e responda o que se pede:



(Foto de Renato Pinheiro. Disponível em: <
<https://acervo.oglobo.globo.com/fatos-historicos/campanha-petroleo-nosso-mobilizou-brasil-no-final-da-decada-de-40-10401791>>. Acessado em 06/09/2023.)

A foto, tirada em 1952 no contexto da campanha do “Petróleo é Nosso”, foi realizada um ano antes da promulgação da lei que cria a Petrobras.

Levando em consideração o contexto e o registro dele, é corretor afirmar que:

- a) a imagem simboliza a autonomia e a nacionalização do petróleo brasileiro, destacando a importância desse recurso para a soberania nacional e a política de Getúlio Vargas de nacionalizar os recursos naturais do país.
- b) a foto representa o apoio de Getúlio Vargas às empresas multinacionais de petróleo, indicando sua intenção de abrir o mercado brasileiro para investimentos estrangeiros, apoiando as mesmas a entrarem no mercado nacional.
- c) o registro fotográfico destaca o desconhecimento de Vargas sobre as riquezas naturais do Brasil, ao lidar diretamente com o petróleo, um produto

altamente tóxico e que deve passar por toda uma preparação química antes de ser manipulado.

- d) a campanha "Petróleo é Nosso" foi uma iniciativa da oposição para desafiar a figura de Getúlio Vargas num contexto no qual o mesmo passava por atribulações políticas, e a foto ilustra a tentativa do presidente de se apropriar do movimento.
- e) a imagem demonstra a preocupação de Getúlio Vargas em diversificar as fontes de energia do país, que à época dependia da energia produzida por Itaipu, o que levava a conflitos com o Paraguai.

47.

O evento da abolição, tratado ainda nas primeiras décadas deste século como "onda avassaladora que invadiu corações e mentes", passou, nos últimos tempos, a ser abordado como mera coroação da vitória dos projetos mais reacionários, num fortemente controlado processo social, sob a liderança dos setores mais dinâmicos da cafeicultura paulista. Desprezada pela historiografia, a fermentação social que caracterizou a década de 1880 foi esquecida.

MACHADO, M. H. P. T. O Plano e o Pânico: os movimentos sociais na década da Abolição. 2 ed. rev. São Paulo: Editora da Universidade de São Paulo, 2010, p. 28.

A fermentação mencionada no texto se refere:

- a) às revoltas e protestos dos imigrantes europeus que chegaram ao Brasil para trabalhar nas lavouras de café.
- b) à resistência organizada e movimentos sociais dos escravizados e seus aliados que lutaram pela abolição da escravatura.
- c) às tensões e conflitos entre os fazendeiros paulistas e o governo imperial sobre a política de imigração.
- d) ao surgimento de movimentos sindicais urbanos que reivindicavam melhores condições de trabalho para os operários industriais.
- e) ao desenvolvimento de novas técnicas agrícolas e à modernização das fazendas de café em São Paulo.

REALIDADE BRASILEIRA

Leandro Signori

48. Considere o texto a seguir a respeito da agricultura brasileira:

"O Instituto de Pesquisa Econômica Aplicada (Ipea) divulgou nesta quinta-feira (02) um estudo que analisa a produtividade total dos fatores (PTF) na agricultura brasileira. A produção nacional apresentou, de 1975 a 2020, um aumento de cerca de 400% nesse indicador para a agricultura no país. O texto foi elaborado em parceria com o Ministério da Agricultura, Pecuária e Abastecimento (Mapa) e o Centro de Estudos Avançados em Economia Aplicada (Cepea-USP). De acordo com os autores, o crescimento médio da PTF nesse período foi de 3,3% ao ano.

A PTF é a relação entre o índice de produto total e o índice de insumos. Pode-se dizer, também, que a PTF é calculada pela diferença entre as taxas de crescimento do produto total e dos insumos. A PTF explicou 87% do aumento do produto no período estudado, enquanto os insumos corresponderam apenas a 13%."

Produtividade na agricultura brasileira cresceu 400% entre 1975 e 2020. Disponível em: https://portalantigo.ipea.gov.br/portal/index.php?option=com_content&view=article&id=39310. Adaptado.

O contínuo crescimento da produtividade agrícola brasileira, exposto no enunciado, tem como uma de suas características

- a) os investimentos exteriores no setor, sobretudo da União Europeia, que já não possui mais terras disponíveis e tem no Brasil um importante parceiro comercial.
- b) a simplificação das regras de regularização fundiária, facilitando a conversão de áreas de vegetação natural em áreas destinadas à agricultura.

c) a produção cada vez mais intensiva em ciência e tecnologia e cada vez menos intensiva em fatores tradicionais.

d) a expansão da rede logística, sobretudo de ferrovias e terminais portuários na região Norte e Nordeste, próximos às regiões de grande produção agropecuária.

e) o crescimento da mão de obra no setor primário, relacionado principalmente aos melhores salários pagos aos trabalhadores subsidiados por programas governamentais.

49. Considerando os conceitos de estratificação social, classes sociais e mobilidade social no Brasil, assinale a alternativa que descreve corretamente uma das formas de classificação das classes sociais segundo o Critério de Classificação Econômica Brasil (CCEB), adotado pela Associação Brasileira de Empresas de Pesquisa (ABEP).

a) As classes são definidas com base em características socioculturais, excluindo critérios econômicos ou de renda.

b) A classificação dos indivíduos em grupos hierárquicos com base em critérios econômicos, baseada exclusivamente na renda mensal dos indivíduos.

c) A classificação é realizada de acordo com a ocupação profissional dos indivíduos, sem considerar outros aspectos socioeconômicos.

d) As classes são definidas com base na posse de bens materiais, nível de instrução do chefe da família e acesso a serviços públicos, resultando em estratos sociais.

e) A classificação é feita de acordo com a renda transversa da família, dividindo os estratos em números específicos de salários-mínimos.

50. O desmatamento na Amazônia é uma preocupação crescente tanto nacional quanto internacionalmente. Devido à sua importância ambiental, a Amazônia tem sido alvo de intensos debates e ações para conter a degradação ambiental. Entre os principais motivos do desmatamento na região estão a expansão agrícola, a pecuária extensiva, a exploração madeireira ilegal e a construção de infraestrutura, como estradas e hidrelétricas. Essas atividades têm impactos significativos no ecossistema amazônico, comprometendo a biodiversidade e contribuindo para as mudanças climáticas globais.

Considerando a problemática do desmatamento na Amazônia, assinale a alternativa que apresenta uma medida eficaz para combater esse problema.

a) Aumentar os incentivos fiscais para empresas que realizam desmatamento controlado.

b) Ampliar a liberação de áreas para exploração madeireira como forma de gerar empregos na região.

c) Reforçar a fiscalização e aplicar multas mais severas para quem pratica atividades extrativistas de modo sustentável.

d) Autorizar a conversão de áreas de floresta em pastagens naturais como forma de estimular o desenvolvimento agropecuário.

e) Aumentar as áreas de unidades de conservação para frear o avanço da fronteira agrícola.

51. Considere o texto a seguir, sobre os impactos do ser humano ao meio ambiente e suas consequências:

"Embora os eventos extremos acarretados ou intensificados pelo aquecimento global também afetem as camadas mais ricas da população, estas possuem condições materiais capazes de promover alternativas de adaptação e de resistência a seus impactos. A capacidade de promover a execução de obras de infraestrutura, maior renda para enfrentar a provável escassez e o consequente aumento de preços dos recursos naturais e dos alimentos, bem como o maior acesso à tecnologia e à assistência à saúde são fatores que tornam aqueles grupos com maior renda menos vulneráveis às mudanças climáticas do que os grupos com menor índice socioeconômico."

MILANEZ, B.; FONSECA, I.F. Justiça climática e eventos climáticos extremos: o caso das enchentes no Brasil. Boletim Regional, Urbano e Ambiental. Brasília, DF: Ipea, n.4, 2010, p. 96. Adaptado.

A ideia de que pessoas submetidas a diferentes formas de desigualdades (econômica, social, de gênero, de raça e etnia) são as mais afetadas pelas consequências negativas das alterações do clima e com menor acesso às alternativas de adaptação, ainda que tenham menor participação nas emissões de CO₂, tem sido resumida com um conceito que aos poucos têm se popularizado no âmbito internacional. É o conceito de:

- a) capitalismo ambiental.
- b) justiça climática.
- c) racismo climático.
- d) equidade socioambiental.
- e) direitos socioecológicos.

52. Ao longo dos anos recentes, o desmatamento do Cerrado, segundo maior bioma brasileiro, tem aumentado constantemente e causado preocupação de ambientalistas, uma vez que este bioma possui grande biodiversidade e um importante papel na regulação do clima regional, tanto do Brasil, quanto de toda a América do Sul, além do fato de que grandes rios brasileiros possuem suas nascentes em áreas do bioma. Em relação ao crescimento do desmatamento do Cerrado, é correto afirmar que as maiores taxas de desmatamento na atualidade estão

- a) no Matopiba, região que abrange os estados do Maranhão, Tocantins, Piauí e Bahia.
- b) no Arco do Desmatamento, região de transição entre outras áreas naturais e a floresta amazônica.
- c) nos estados do Mato Grosso e de Mato Grosso do Sul, principais responsáveis pelo agronegócio no país.
- d) no estado do Pará, que registra vertiginoso crescimento agropecuário nos últimos anos.
- e) na Chapada dos Veadeiros no Planalto Central, que apresenta terrenos planos e propícios à atividade agropecuária.

53. Ao analisar as relações entre as cidades e suas áreas circundantes, o estudo das Regiões de Influência das Cidades (Regic), conduzido pelo Instituto Brasileiro de Geografia e Estatística (IBGE), traz resultados valiosos sobre o desenvolvimento urbano no Brasil, revelando padrões de hierarquia urbana e dinâmicas regionais significativas.

A respeito dos processos urbanos brasileiros, assinale a alternativa que apresenta corretamente uma característica comum da rede urbana brasileira.

- a) Desenvolvimento homogêneo, com boa parte das cidades apresentando níveis semelhantes de infraestrutura e serviços.
- b) Hierarquia urbana rígida, onde apenas as capitais estaduais exercem influência sobre as áreas circundantes.
- c) Polarização econômica, com um pequeno número de cidades exercendo domínio sobre uma vasta extensão territorial.
- d) Dispersão populacional, com a maioria das cidades brasileiras localizadas em áreas rurais e distantes umas das outras.
- e) Integração regional, onde as cidades menores desempenham um papel significativo no desenvolvimento econômico e social.

54. A desigualdade social é um tema complexo e multifacetado que afeta profundamente a realidade brasileira, influenciando o desenvolvimento socioeconômico do país. Diante desse cenário, é fundamental compreender as diversas dimensões dessa desigualdade, suas causas e consequências. A análise das medidas utilizadas para auferir a desigualdade revela a complexidade do problema, exigindo um olhar crítico e aprofundado.

Nesse contexto, considere as alternativas a seguir e assinale aquela que **não** representa uma causa significativa da desigualdade no Brasil.

- a) Persistência de padrões históricos de exploração e discriminação étnico-racial, que geram um ciclo de exclusão e marginalização de determinados grupos sociais.
- b) Estrutura fundiária concentrada, com grandes latifúndios controlados por uma minoria, que contribui para a manutenção da pobreza e da exclusão no campo.
- c) Deficiências estruturais no sistema educacional e de saúde, que resultam em disparidades no acesso a serviços básicos e oportunidades de desenvolvimento.
- d) Ausência de políticas públicas eficazes voltadas para a redução das desigualdades socioeconômicas, deixando milhões de brasileiros à margem do progresso social.
- e) Rápido crescimento econômico e industrialização, que historicamente tem gerado um aumento na oferta de empregos e na distribuição de renda, reduzindo as disparidades sociais.

55. Considerando a estrutura produtiva brasileira e suas mudanças recentes, assinale a afirmação correta sobre a abertura econômica do Brasil na década de 1990.

- a) A abertura econômica, ao reduzir as tarifas de importação, resultou na reindustrialização do país, com um aumento significativo da participação da indústria no PIB nacional.
- b) As medidas neoliberais adotadas na década de 1990 deslocaram a concentração industrial da região tradicional em detrimento do Nordeste do Brasil.
- c) A abertura econômica não teve impacto significativo na estrutura produtiva brasileira, pois as empresas nacionais conseguiram competir de forma eficaz com os produtos importados que chegaram ao país.
- d) A desconcentração industrial, resultado da abertura econômica, promoveu uma redistribuição equitativa das indústrias pelo território nacional, diminuindo a disparidade econômica entre as diferentes regiões do Brasil.
- e) Com a privatização de empresas estatais e a entrada de multinacionais, a abertura econômica possibilitou uma modernização da indústria brasileira, aumentando sua competitividade global, embora tenha gerado um aumento da dependência externa em relação a tecnologias e investimentos estrangeiros.

56. Considerando a importância da matriz energética para o desenvolvimento sustentável e os desafios relacionados à transição energética no contexto das mudanças climáticas, analise as afirmativas a seguir e assinale a correta.

- a) Apesar dos avanços no uso de energias renováveis, cerca de metade da matriz energética ainda depende de combustíveis fósseis, o que dificulta uma diminuição mais rápida das emissões de gases do efeito estufa.
 - b) A implantação de usinas hidrelétricas tem sido a estratégia central para diversificar a matriz energética brasileira, contudo, o elevado custo e os riscos ambientais associados têm limitado seu impacto na redução das emissões de gases de efeito estufa.
 - c) A implementação de tecnologias de captura e armazenamento de carbono tem sido amplamente adotada pelo Brasil como medida para diversificar sua matriz energética e mitigar os impactos das mudanças climáticas.
 - d) A crescente utilização de biocombustíveis, como o etanol de cana-de-açúcar, tem sido amplamente adotada pelo Brasil, pois além de não emitirem gases do efeito estufa, contribuem para o sustento dos pequenos produtores agrícolas.
 - e) A diversificação da matriz energética brasileira tem sido comprometida pela falta de investimento em energias renováveis, resultando em um aumento contínuo nas emissões de gases de efeito estufa.
-

57. O Brasil desempenha um papel central no cenário global do desenvolvimento sustentável e na luta contra as mudanças climáticas. Com sua vasta extensão territorial e riqueza natural, o país possui uma responsabilidade significativa na preservação da biodiversidade e na redução das emissões de gases de efeito estufa. Sua contribuição vai além das fronteiras nacionais, influenciando acordos internacionais, como o Acordo de Paris, e assumindo compromissos para a proteção da Amazônia, uma peça-chave no equilíbrio climático mundial. No entanto, desafios persistem, e é fundamental encontrar um equilíbrio entre desenvolvimento econômico e a conservação ambiental para garantir um futuro sustentável.

A respeito desse assunto são feitas as seguintes afirmativas:

- I. Apesar da elevada participação de fontes de energia renováveis e não poluentes em sua matriz energética, caracterizando-o como um dos países com a matriz mais renovável do mundo, o Brasil se posiciona entre os maiores emissores de gases do efeito estufa no mundo.
- II. O setor que mais contribuiu nos últimos anos para a emissão de poluentes na atmosfera no país é a mudança do uso da terra, seguida pelo setor de energia.
- III. A redução do desmatamento na Amazônia não se encontra entre os principais desafios do Brasil no cumprimento das metas apresentadas perante o Acordo de Paris, uma vez que esse tratado enfatiza a redução das emissões de carbono por meio da queima de combustíveis fósseis.
- IV. As mudanças climáticas tem o potencial de afetar com mais intensidade as populações de áreas periféricas dos centros urbanos, onde há menos infraestrutura e assistência para lidar com eventos climáticos extremos, como chuvas torrenciais ou calor extremo.

Está correto o que se afirma em:

- a) I, II e III.
- b) I, II e IV.

- c) I, III e IV.
- d) II, III e IV.
- e) Todas estão corretas.

58. O Brasil, como país emergente e de dimensões continentais, desenvolve uma política externa que busca afirmar sua posição global, promover seus interesses e contribuir para a solução de desafios internacionais. Sua inserção no sistema internacional envolve a participação em organizações multilaterais, a cooperação em questões ambientais, o fomento ao comércio internacional e a mediação de conflitos em diversas regiões do mundo.

Sobre a inserção do Brasil no sistema internacional, assinale alternativa correta.

- a) O Brasil participa do Grupo dos Vinte (G20), atuando como mediador em conflitos geopolíticos e promovendo a cooperação econômica e financeira entre os países membros.
- b) O Brasil participa ativamente do Tratado Transpacífico (TPP), colaborando com países da Ásia-Pacífico para promover o desenvolvimento econômico e a segurança regional.
- c) O Brasil integra o Conselho de Segurança da ONU como membro permanente, contribuindo para a mediação de conflitos e a manutenção da paz internacional.
- d) O Brasil é um dos países que não assinaram o Acordo de Paris sobre mudanças climáticas, optando por desenvolver políticas ambientais internas mais rígidas do que as propostas pelo acordo.
- e) O Brasil participa associativamente da Organização para Cooperação e Desenvolvimento Econômico (OCDE), contribuindo com políticas e diretrizes para o desenvolvimento econômico sustentável em nível global.

59. Considerando o contexto demográfico brasileiro e com base nos resultados já divulgados do Censo Demográfico de 2022, assinale a alternativa correta.

- a) O censo de 2022 revelou que a maior taxa de crescimento da população brasileira ocorreu no Nordeste, razão pela qual essa região apresenta também as maiores taxas de natalidade.
- b) O aumento da expectativa de vida no Brasil, conforme indicado pelo censo de 2022, é uma consequência direta da redução da população jovem no país.
- c) Segundo o censo de 2022, a taxa de fecundidade das mulheres brasileiras aumentou significativamente, contribuindo para o crescimento populacional do país.
- d) O envelhecimento da população brasileira e o aumento da idade média, destacado no censo de 2022, é resultado da combinação entre o declínio da taxa de fecundidade e do aumento da expectativa de vida.
- e) O censo de 2022 mostrou que a maioria dos estados brasileiros apresentou um aumento uniforme na taxa de crescimento populacional entre 2010 e 2022, que também reduziu em relação ao ano de 2010.

60. Ainda com base nos dados do Censo Demográfico de 2022 divulgados, a respeito da distribuição geográfica da população pelo território, são feitas as seguintes afirmativas:

- I - A população branca está mais concentrada na região Sul, sendo o maior percentual no estado do Rio Grande do Sul.
- II - O grupo étnico-racial predominante no Norte do Brasil é o indígena, representando cerca de 30% de sua população.
- III - A região com maior percentual de população preta é o Nordeste, mas o grupo étnico-racial predominante na região é o de pardos.

Está correto o que se afirma em:

- a) Apenas I.
- b) Apenas II.
- c) Apenas III.
- d) I e II.
- e) I e III.

Discursiva

O problema do modelo econômico tradicional é o fato de não considerar o meio ambiente, baseando-se apenas em ganhos com a produtividade e ignorando que nenhuma atividade econômica será viável se a natureza fornecedora dos recursos materiais e energéticos estiver comprometida. Contudo, o crescimento econômico não pode sensatamente ser considerado um fim em si mesmo, tendo de estar relacionado sobretudo com a melhoria da qualidade de vida e da própria vida, afinal a vida é o maior de todos os valores.

De fato, a única porta de saída para a crise ambiental é a economia, que deve ser rediscutida e redesenhada no intuito de levar em consideração o meio ambiente e suas complexas relações. A despeito de uma ou outra análise pontual, o fato é que por muito tempo a economia ignorou a ecologia, como se esta não fosse o pano de fundo daquela. Um bom exemplo disso é o Produto Interno Bruto (PIB), que, além de ignorar a dimensão ambiental, pode considerar a degradação como algo positivo.

A Constituição Federal de 1988 consagrou o desenvolvimento sustentável ao afirmar no artigo 225 que "todos têm direito ao meio ambiente ecologicamente equilibrado, bem de uso comum do povo e essencial à sadia qualidade de vida, impondo-se ao Poder Público e à coletividade o dever de defendê-lo e de preservá-lo para as presentes e futuras gerações". O mesmo ocorre com a Lei 6.938/81, que dispõe no inciso I do artigo 4º que a Política Nacional do Meio Ambiente visará à compatibilização do desenvolvimento econômico-social com a preservação da qualidade do meio ambiente e do equilíbrio ecológico. O meio ambiente é tão importante que foi transformado pelo inciso VI do artigo 170 da Constituição Federal em um princípio da ordem econômica, passando a se compatibilizar com ele os princípios da livre-iniciativa e da livre concorrência.

É um reconhecimento de que não se pode tratar a problemática econômica sem lidar com a questão ambiental, pois, se o Estado tem a obrigação de promover o desenvolvimento, esse desenvolvimento tem a obrigação de ser ecologicamente correto.

Disponível em: <https://www.ecodebate.com.br/2014/08/25/desenvolvimento-economico-x-crise-ambiental-a-superacao-da-dicotomia-entrevista-com-sergio-besserman-vianna/>. Acesso em 14 de julho de 2021.

Considerando o caráter meramente motivador do fragmento de texto acima, redija um texto dissertativo-argumentativo que responda ao seguinte questionamento: **é possível aliar crescimento econômico e preservação ambiental?**

Folha de Resposta

01	
02	
03	
04	
05	
06	
07	
08	
09	
10	
11	
12	
13	
14	
15	
16	
17	
18	
19	
20	
21	
22	
23	
24	
25	
26	
27	
28	
29	
30	

Folha de Resposta

31	
32	
33	
34	
35	
36	
37	
38	
39	
40	
41	
42	
43	
44	
45	
46	
47	
48	
49	
50	
51	
52	
53	
54	
55	
56	
57	
58	
59	
60	

O QUE VOCÊ ACHOU DESTE SIMULADO?

*Conte-nos como foi sua experiência ao fazer este simulado.
Sua opinião é muito importante para nós!*

<https://forms.gle/3RC8pkHLNAnpSnxQ9>

NÃO É ASSINANTE?

Confira nossos planos, tenha acesso a milhares de cursos e participe gratuitamente dos projetos exclusivos. Clique no link!

<http://estrategi.ac/assinaturas>

CONHEÇA NOSSO SISTEMA DE QUESTÕES

Estratégia Questões nasceu maior do que todos os concorrentes, com mais questões cadastradas e mais soluções por professores. Clique no link e conheça!

<http://estrategi.ac/ok1zt0>