



Simulado Final

# Câmara Municipal de São Paulo

**Cargo:** Técnico Legislativo

(sem especialidade)

**Pós-Edital**

# Simulado

Simulado – Câmara Municipal de São Paulo – Técnico Legislativo

Nome: \_\_\_\_\_

## INFORMAÇÕES SOBRE O SIMULADO

- 1 - Este simulado conta com questões focadas no concurso – Câmara Municipal de São Paulo – Técnico Legislativo);
- 2 - A prova contém itens que abordam conhecimentos cobrados no edital do concurso;
- 3 - As questões são inéditas e foram elaboradas pelos nossos professores com base no perfil da banca organizadora;
- 4 - Os participantes têm das **8:00** às **13:30** para responder às questões e preencher o Gabarito Eletrônico;
- 5 - O link para preencher o formulário com seu gabarito está localizado logo abaixo destas informações;

## PREENCHA SEU GABARITO

<https://bit.ly/Simulado-câmara-municipal-06-01>

01 – (A) (B) (C) (D) (E)  
02 – (A) (B) (C) (D) (E)  
03 – (A) (B) (C) (D) (E)  
04 – (A) (B) (C) (D) (E)  
05 – (A) (B) (C) (D) (E)  
06 – (A) (B) (C) (D) (E)  
07 – (A) (B) (C) (D) (E)  
08 – (A) (B) (C) (D) (E)  
09 – (A) (B) (C) (D) (E)  
10 – (A) (B) (C) (D) (E)  
11 – (A) (B) (C) (D) (E)  
12 – (A) (B) (C) (D) (E)  
13 – (A) (B) (C) (D) (E)  
14 – (A) (B) (C) (D) (E)  
15 – (A) (B) (C) (D) (E)  
16 – (A) (B) (C) (D) (E)  
17 – (A) (B) (C) (D) (E)  
18 – (A) (B) (C) (D) (E)  
19 – (A) (B) (C) (D) (E)  
20 – (A) (B) (C) (D) (E)

20 – (A) (B) (C) (D) (E)  
21 – (A) (B) (C) (D) (E)  
22 – (A) (B) (C) (D) (E)  
23 – (A) (B) (C) (D) (E)  
24 – (A) (B) (C) (D) (E)  
25 – (A) (B) (C) (D) (E)  
26 – (A) (B) (C) (D) (E)  
27 – (A) (B) (C) (D) (E)  
28 – (A) (B) (C) (D) (E)  
29 – (A) (B) (C) (D) (E)  
30 – (A) (B) (C) (D) (E)  
31 – (A) (B) (C) (D) (E)  
32 – (A) (B) (C) (D) (E)  
33 – (A) (B) (C) (D) (E)  
34 – (A) (B) (C) (D) (E)  
35 – (A) (B) (C) (D) (E)  
36 – (A) (B) (C) (D) (E)  
37 – (A) (B) (C) (D) (E)  
38 – (A) (B) (C) (D) (E)  
39 – (A) (B) (C) (D) (E)  
40 – (A) (B) (C) (D) (E)

41 – (A) (B) (C) (D) (E)  
42 – (A) (B) (C) (D) (E)  
43 – (A) (B) (C) (D) (E)  
44 – (A) (B) (C) (D) (E)  
45 – (A) (B) (C) (D) (E)  
46 – (A) (B) (C) (D) (E)  
47 – (A) (B) (C) (D) (E)  
48 – (A) (B) (C) (D) (E)  
49 – (A) (B) (C) (D) (E)  
50 – (A) (B) (C) (D) (E)  
51 – (A) (B) (C) (D) (E)  
52 – (A) (B) (C) (D) (E)  
53 – (A) (B) (C) (D) (E)  
54 – (A) (B) (C) (D) (E)  
55 – (A) (B) (C) (D) (E)  
56 – (A) (B) (C) (D) (E)  
57 – (A) (B) (C) (D) (E)  
58 – (A) (B) (C) (D) (E)  
59 – (A) (B) (C) (D) (E)  
60 – (A) (B) (C) (D) (E)

61 – (A) (B) (C) (D) (E)  
62 – (A) (B) (C) (D) (E)  
63 – (A) (B) (C) (D) (E)  
64 – (A) (B) (C) (D) (E)  
65 – (A) (B) (C) (D) (E)  
66 – (A) (B) (C) (D) (E)  
67 – (A) (B) (C) (D) (E)  
68 – (A) (B) (C) (D) (E)  
69 – (A) (B) (C) (D) (E)  
70 – (A) (B) (C) (D) (E)  
71 – (A) (B) (C) (D) (E)  
72 – (A) (B) (C) (D) (E)  
73 – (A) (B) (C) (D) (E)  
74 – (A) (B) (C) (D) (E)  
75 – (A) (B) (C) (D) (E)  
76 – (A) (B) (C) (D) (E)  
77 – (A) (B) (C) (D) (E)  
78 – (A) (B) (C) (D) (E)  
79 – (A) (B) (C) (D) (E)  
80 – (A) (B) (C) (D) (E)

## LÍNGUA PORTUGUESA

Luiz Felipe

### TEXTO PARA A QUESTÃO 01



(Bill Watterson/Acervo O Estado de S. Paulo)

01. Assinale a alternativa que sintetiza a ideia central do texto

- a) Uma ressalva ao desenvolvimento tecnológico acelerado.
- b) Um alerta para os perigos do sedentarismo.
- c) Uma síntese do sistema capitalista que desperdiça tempos preciosos.
- d) Uma crítica à dependência da humanidade em relação à tecnologia.
- e) Um diálogo sobre vida e amizade

02. Na língua portuguesa, as preposições (combinadas ou não com artigos) podem ser exigidas por termos anteriores. Entre as preposições destacadas abaixo, aquela que é exigida sintaticamente pelo termo anterior é:

- a) Aquelas pessoas sabiam da necessidade de se combater o preconceito.
- b) O carro do jogador foi encontrado em uma rua sem saída.
- c) A panela de arroz foi o item mais caro pedido pelos noivos.
- d) Após o atraso, as crianças foram de ônibus para a escola.
- e) Todos estavam preocupados com as eleições estaduais do próximo ano.

03. A frase em que a palavra ou expressão destacada respeita as regras ortográficas e gramaticais da norma-padrão é:

- a) Não entendemos **por que** ele não investiu nesse sistema.
- b) Todos se perguntavam **aonde** o pai escondeu o tesouro.
- c) **Ao invés de** reclamar, ela foi se exercitar.
- d) A **sessão** do documento em que se encontra essa regra foi retirada.
- e) **A** dias que merecem ser repetidos.

04. Assinale a opção que apresenta a frase que não contém em seu interior uma estrutura comparativa.

- a) “A ciência ajuda a entender a realidade, a fé ensina a conviver com o incompreensível”
- b) “A gentileza, bem como o amor, transforma uma vida”
- c) “O amor consiste em doação permanente, como uma fonte de águas na nascente”
- d) “Quando a festa acontecia anualmente, todos ajudavam na organização”
- e) “A vida na infância passava lentamente; agora falta-nos tempo para apreciá-la”.

05. A frase abaixo que foi construída exclusivamente por linguagem formal é:

- a) Nos sentíamos incomodados com tanta pressão.
- b) As repetidas falhas implicaram em sua demissão.
- c) Os empreendedores contaram-me uma história no qual acredito.
- d) Lembro aquela música como quem lembra os áureos tempos de juventude.
- e) Discordavam todos com aquela atitude.



**06.** Assinale a opção que apresenta a dedução correta da frase abaixo

"Sou amigo de Platão, mas sou mais amigo da verdade."

Aristóteles

- a) Platão não falava a verdade.
- b) Platão e Aristóteles seguiam linhas filosóficas distintas.
- c) Aristóteles se colocaria, pela verdade, contra Platão
- d) As ideias de Platão são opostas ao conceito de verdade.
- e) Aristóteles intermediava sua existência pelo sentimento de amizade.

**07.** A palavra que foge a qualquer regra de formação do plural de "vulcão" é:

- a) escrivão.
- b) estação.
- c) restrição
- d) coração
- e) doação

**08.** A frase abaixo em que o significado da palavra sublinhada foi trocado é:

- a) O emigrante carrega a saudade do lugar a que pertence.
- b) Na manhã de hoje, os policiais cumpriram o mandado de prisão.
- c) O surgimento de uma nova forma de governo era iminente.
- d) Com o ato praticado, o grupo de manifestantes infligiu diversas leis estaduais.
- e) Houve diversos atrasos devido ao tráfego intenso de veículos.

**09.** "Vote no candidato X. Ele exercerá seu mandato com honestidade e transparência". Esse texto representa, respectivamente, o seguinte modo de organização discursiva e a finalidade do tipo textual:

- a) dissertativo / informar
- b) injuntivo / instruir
- c) dissertativo / argumentar
- d) descritivo / explicar
- e) injuntivo / convencer

**10.** Assinale a alternativa que apresenta o vocábulo destacado em "Não importa o grau de consciência política que o indivíduo possui" com o mesmo comportamento morfossintático.

- a) É fácil de constatar que as ideias não eram boas.
- b) Deve conseguir que cada indivíduo se torne autônomo.
- c) Ele se preocupa tanto com as decisões pessoais quanto com as que terão consequências coletivas.
- d) É o caminho que devemos construir.
- e) Essa é a lista de preocupações que atormentam o homem.

**11.** Todas as frases abaixo mostram linguagem figurada; a que mostra uma expansão da figura inicial, com o emprego de outra expressão figurada, é:

- a) A esperança é como um vento: sopra o barco em direção ao norte.
- b) A esperança é uma luz no fim do túnel.
- c) A esperança é o instrumento que move a vida, um trampolim para alcançar o inalcançável.
- d) A esperança é o bem que todos admiram, mas que poucos possuem.
- e) A esperança é uma fábrica com alta produtividade e com poucos funcionários.

**TEXTO PARA AS QUESTÕES 12 E 13**

São inaceitáveis as ameaças apócrifas dirigidas a diretores e servidores da Agência Nacional de Vigilância Sanitária (Anvisa) contra a liberação da vacinação anti-Covid-19 para crianças — que ainda nem é objeto de análise. De concreto, existe o anúncio de que a Pfizer submeterá à Anvisa o pedido para aplicar sua vacina em crianças de 5 a 11 anos. Na terça-feira, houve uma reunião preliminar entre técnicos da agência e representantes da farmacêutica. O Instituto Butantan também informou que pleiteará o uso da CoronaVac em crianças e adolescentes de 3 a 17 anos. Pelo excelente papel que desempenhou até agora em mais de um ano e oito meses de pandemia, não há por que duvidar da capacidade técnica da Anvisa para analisar os pedidos que recebe.

(O Globo. Editorial 11/11/2021. Adaptado)

**12.** O principal objetivo desse trecho é

- a) informar sobre o pedido da Pfizer para aplicação de sua vacina em crianças.
- b) opinar sobre a reação contra a Anvisa no que tange à vacinação infantil
- c) contrapor a ciência e a opinião pública em relação ao processo de vacinação.
- d) mostrar a competição das indústrias na ampliação de público apto à vacina.
- e) alertar sobre os ataques que a Anvisa tem sofrido devido à liberação de vacinas.

**13.** A palavra "apócrifas" (primeiro período do texto) pode ser substituída, no texto, por:

- a) incertas
- b) falsas
- c) ilegítimas
- d) forjadas
- e) genuínas

**14.** Assinale a frase que mostra certo grau de incerteza (modalização).

- a) Ninguém comemorou o resultado
- b) Sem dúvida, não saberíamos como reagir.
- c) O orientador disse que o trabalho tinha contemplado objetivos iniciais.
- d) Acreditava-se nas melhores intenções dos candidatos.
- e) As atrações confirmadas atrairiam todo tipo de público.

**15.** As opções a seguir apresentam frases que se apoiam basicamente num dos sentidos humanos. Assinale aquela em que há a indicação adequada do sentido predominante no texto.

- a) A vida estava doce como o mel / olfato.
- b) As faíscas queimavam o braço do churrasqueiro / tato.
- c) Aquele aroma me trazia lembranças da infância / audição.
- d) Sua voz soava como cantos angelicais / visão.
- e) Era alva como a mais limpa neve / paladar.

**16.** Todas as frases abaixo foram passadas para a voz passiva; a frase em que essa passagem foi feita de forma adequada (com respeito à estrutura original) é:

- a) A nova política inaugurou essa forma de sociabilidade. / Essa forma de sociabilidade foi inaugurada por uma nova política.
- b) Os candidatos, que estavam nervosos, iniciaram a prova. / A prova foi iniciada pelos candidatos que estavam nervosos.
- c) Governos de vários países firmaram contrato com a iniciativa privada. / Contrato com a iniciativa privada foi firmado por governos de vários países.
- d) Para inaugurar o novo espaço, os empresários garantiram a presença de diversos artistas / A presença de diversos artistas foi garantida pelos empresários para a inauguração do novo espaço.
- e) As fábricas canadenses estabeleceram novas regras de contratação. / Novas regras de contratação foi estabelecida pelas fábricas canadenses.

**17.** "A verdade aparece sempre nas ações daquele que é verdadeiro". A relação semântico-gramatical que existe entre verdade / verdadeiro se repete em:

- a) cantar / canto
- b) fidelidade / fiel
- c) equívoco / equivocadamente
- d) covardemente / covardia
- e) iluminar / iluminação

**18.** O segmento textual abaixo que deve ser classificado como argumentativo, é:

- a) Como dizia o filósofo, estamos neste mundo das coisas visíveis só de passagem.
- b) Crescer é abrir mão do que um dia fomos.
- c) Numerosos são aqueles para quem a arte não passa de uma distração;
- d) Tenha sempre em mãos o melhor a oferecer.
- e) Os idosos são professores da vida que já viveram.

**19.** "Os encantos da cidade não deixavam a solidão predominar. 'Eram dias de alegria que contagiavam os habitantes dali', dizia um certo historiador, ressaltando que o estilo de vida era o principal atrativo de Sertãozinho".

Abaixo propomos uma série de modificações para os componentes desse segmento do texto.

A única modificação que se mostra adequada é:

- a) dizia um certo historiador / dizia um historiador certo.
- b) a solidão predominar / que a solidão predominasse.
- c) ressaltando que o estilo de vida / quando ressaltou que o estilo de vida
- d) que contagiavam os habitantes dali / que dali contagiavam os habitantes
- e) Eram dias de alegria que contagiavam os habitantes dali / os habitantes dali eram contagiados pelos dias de alegria

**20.** "Não é coisa reprovável, mas altamente louvável, tomar emprestadas de uma língua estrangeira as sentenças e palavras e incorporá-las na própria".

A frase abaixo em que o estrangeirismo sublinhado mostra uma incorporação completa ao nosso idioma é:

- a) O hamburger se popularizou como fast-food.
- b) Há diferentes mecanismos de alívio do stress.
- c) A inscrição será realizada somente através do site da instituição.
- d) Um renomado chefe de cozinha virá ao Brasil.
- e) Não há empresa sem marketing.

21. Assinale a opção que indica a frase que não expressa qualquer espécie de distanciamento do enunciador em face do assunto tratado.

- a) Estatísticas mostram que haverá um crescimento econômico nacional.
- b) Haverá um crescimento econômico, afirmam especialistas.
- c) De acordo com publicações especializadas, a economia tende a crescer até 2025.
- d) Penso que haverá crescimento econômico nos próximos anos.
- e) Algumas pessoas falam em crescimento econômico nos próximos anos.

22. Assinale a alternativa cuja frase apresenta linguagem com sentido figurado.

- a) A mãe repreendeu o filho **com serenidade**.
- b) Na hora da prova, aquele grupo **saiu pela tangente**.
- c) A **luz amarelada** dos postes iluminava as ruas vazias.
- d) Todo profissional tem alguma  **vaidade**.
- e) Além dos jovens, os idosos também podem **se apaixonar**.

23. Um dos problemas muito comuns na estruturação de um texto é a presença de ambiguidade sintática, ou seja, a possibilidade de mais de um entendimento para uma só frase. A frase abaixo que está livre de qualquer ambiguidade é:

- a) Os gerentes informaram aos administradores que não poderiam dar descontos.
- b) Após a esposa passar mal, João ligou para sua mãe.
- c) Chegaram ao local e instalaram um sistema rápido.
- d) Maria pegou o suporte do relógio que estava em seu quarto.
- e) Todos chegaram no horário que estava marcado.

24. "Daria tudo que sei pela metade do que ignoro."

Esse pensamento deve ser entendido do seguinte modo:

- a) Desconhecemos muito mais do que sabemos.
- b) Podemos desprezar todo conhecimento que acumulamos.
- c) Tem mais valor o ignorante do que o sábio.
- d) Qualquer conhecimento pode ser superado.
- e) Devemos estar em constante busca por mais conhecimento.

25. "Como sofreram com a falta de chuva, os habitantes daquele vilarejo criaram um sistema para armazenar água"

Nesse trecho, os termos "como" e "para" indicam, respectivamente:

- a) modo e finalidade
- b) finalidade e causa
- c) Conformidade e modo
- d) Explicação e conformidade
- e) causa e finalidade

26. Assinale a alternativa em que todas as palavras são acentuadas pelo mesmo motivo.

- a) sofá - pá - relógio
- b) evidência - característica - lâmpada
- c) metrópoles - capítulo - oráculo
- d) vigência - exigência - ipê
- e) jiló - anônimo - artístico

27. "Nesse sistema não apenas a polícia é a responsável, o Judiciário, o Ministério Público e a sociedade em geral têm que participar do debate".

A substituição proposta para o segmento destacado que se mostra adequada é:

- a) "Embora, nesse sistema, não apenas a polícia tenha responsabilidade, o Judiciário, o Ministério Público e a sociedade em geral têm que participar do debate"
- b) "Nesse sistema, a polícia é também a responsável, mas o Judiciário, o Ministério Público e a sociedade em geral têm de participar do debate"
- c) "Nesse sistema não apenas a polícia é a responsável, pois o Judiciário, o Ministério Público e a sociedade em geral têm que participar do debate"
- d) "Nesse sistema, não só a polícia, mas também o Judiciário, o Ministério Público e a sociedade em geral são responsáveis e têm de participar do debate"
- e) "Nesse sistema a polícia não é a responsável caso o Judiciário, o Ministério Público e a sociedade em geral participem debate"

#### TEXTO PARA AS QUESTÕES 28 e 29

Marina foi, no fim de semana, almoçar em um restaurante e lá foi picada por mosquito. Em outro dia, almoçando na própria casa, no terraço, 16º andar, foi picada por mosquito. Da sua família de quatro pessoas, duas já tiveram dengue. Os mosquitos reinam em toda parte.

Muitas pessoas não acreditam nas epidemias. Será esse modo de pensar que faz com que joguem lixo no terreno atrás da própria casa ou usem o próprio quintal para desovar qualquer tranqueira? Na luta contra o mosquito, Oswaldo Cruz retirou 36 carroças de lixo de casas e terrenos! Mas isso foi no século passado. De lá para cá, a cidade só cresceu, e o lixo com ela.

O combate a um mosquito não pode ter início quando ele começa a plantar bebês microcéfalos nas estatísticas do país. Aí já é tarde. Uma guerra que se pretende ganhar teria que ter começado dotando de esgoto as moradias, recolhendo o lixo regularmente, e tornando cada cidadão moralmente consciente da sua importância numa luta que é de todos.

(Marina Colasanti. Disponível em: <http://www.marinacolasanti.com>.

Acesso em: 03.10.2017. Adaptado)

28. A partir da leitura do texto, é correto afirmar que

- a) Marina não toma atitudes preventivas para deter o mosquito.
- b) A ação de Oswaldo Cruz foi inútil para a contenção do mosquito.
- c) A atitude das pessoas favorece o surgimento dos mosquitos.
- d) Marina frequenta lugares que deixam água parada.
- e) Fazer a gestão correta do lixo não traz impactos positivos para conter o mosquito.



29. Depreende-se, a partir da leitura do primeiro período do último parágrafo do texto, que:

- a) o mosquito oferece risco apenas para os bebês.
- b) casos de microcefalia são decorrentes de doenças causadas pelo mosquito.
- c) o primeiro sintoma epidêmico ocasionado pelo mosquito é a microcefalia.
- d) após casos de microcefalia é ineficaz o combate ao mosquito.
- e) o mosquito pode interferir na fertilidade feminina.

30. De acordo com a norma-padrão da língua portuguesa, o sinal grave indicativo da crase deve ser empregado na palavra destacada em:

- a) Parece que as principais economias do mundo são favoráveis a questão da sustentabilidade.
- b) A pandemia mostrou que as lideranças mundiais estão obrigadas a trabalhar em conjunto
- c) O auxílio financeiro governamental deve ser direcionado a quem mais foi atingido pela crise da Covid.
- d) O problema da mudança climática é anterior a debates sobre crise econômica.
- e) Por razões geoclimáticas, o Brasil é um dos países habilitados a investir em geração de energia limpa.

## **RACIOCÍNIO LÓGICO MATEMÁTICO**

*Eduardo Mocellin*

31. Considere cinco números naturais pares consecutivos cuja soma é 900. Nesse caso, a soma dos algarismos do maior dos cinco números é:

- a) 11
- b) 12
- c) 13
- d) 14
- e) 15

32. Uma loja anunciou uma Smart TV por R\$ 2.100,00 e um smartphone por R\$ 1.250,00. Arnaldo, interessado nos dois produtos, conseguiu um desconto de 5% no valor da Smart TV e pagou, pelos dois produtos, R\$ 3.145,00. Nesse caso, no preço anunciado do smartphone, Arnaldo conseguiu um desconto de

- a) 7%
- b) 8%
- c) 9%
- d) 10%
- e) 11%

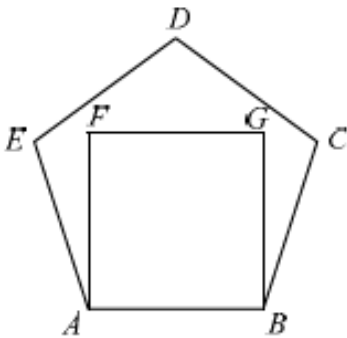
33. Sabe-se que a sentença “Se Jacinto não é vendedor, então Manuela é topógrafa ou Márcio não é biomédico.” é falsa. É correto concluir que

- a) Jacinto é vendedor e Manuela não é topógrafa.
- b) Se Márcio é biomédico, então Manuela é topógrafa.
- c) Se Manuela não é topógrafa, então Márcio não é biomédico.
- d) Jacinto é vendedor ou Márcio não é biomédico.
- e) Se Manuela não é topógrafa, então Márcio é biomédico.

**34.** Para manter por 120 dias o funcionamento de uma obra com 100 operários, é necessária certa quantidade de tijolos. Mantidas as proporções, por quantos dias um terço da quantidade de tijolos original manteria a obra funcionando com 80 operários?

- a) 20
- b) 40
- c) 50
- d) 60
- e) 80

**35.** Considere que ABCDE é um pentágono regular e ABGF é um quadrado em seu interior, conforme a figura a seguir.



O valor do ângulo  $\widehat{BGC}$  é:

- a)  $80^\circ$
- b)  $81^\circ$
- c)  $82^\circ$
- d)  $83^\circ$
- e)  $84^\circ$

**36.** Arnaldo é professor de Matemática e dá aula de 16 em 16 dias, Bernaldo é professor de Raciocínio Lógico e dá aulas de 4 em 4 dias, e Cernaldo é professor de Estatística e dá aulas de 6 em 6 dias. Os três dão aulas no mesmo cursinho presencial. Sabendo-se que os três professores deram aula no dia 15 de março de 2023, a próxima data em que os professores se encontraram no cursinho para dar aula é

- a) 08 de abril de 2023.
- b) 14 de abril de 2023.
- c) 20 de abril de 2023.
- d) 02 de maio de 2023.
- e) 08 de maio de 2023.

**37.** Os amigos Arnaldo, Bernaldo e Cernaldo participaram de uma corrida. Arnaldo chegou 2 minutos e 19 segundos antes de Bernaldo e 2 minutos e 57 segundos depois de Cernaldo. Sabendo-se que Bernaldo fez o percurso todo em 1h07min15s, Cernaldo fez o percurso todo em

- a) 1h02min38s.
- b) 1h02min45s.
- c) 1h01min59s.
- d) 1h01min56s.
- e) 1h01min34s.

**38.** Considere a afirmação:

Ontem João comeu jabuticaba e Eduardo não comeu espinafre.

Uma afirmação que corresponde à negação lógica desta afirmação é

- a) se ontem João não comeu jabuticaba, então Eduardo não comeu espinafre.
- b) ontem João comeu jabuticaba e Eduardo comeu espinafre.
- c) ontem João não comeu jabuticaba e Eduardo comeu espinafre.
- d) ontem João comeu jabuticaba ou Eduardo não comeu espinafre.
- e) ontem João não comeu jabuticaba ou Eduardo comeu espinafre.

**39.** Um rapaz vai a uma loja de roupas onde tem à sua disposição 6 tipos de camisetas e 4 tipos de calças.

De quantas maneiras diferentes o rapaz pode montar sua compra, consistindo em 3 camisetas de tipos distintos e 2 calças de tipos distintos?

- a) mais de 110
- b) mais de 80 e menos de 110
- c) mais de 50 e menos de 80
- d) mais de 30 e menos 50
- e) menos de 30

**40.** Em um concurso público, 40% dos candidatos foram eliminados na prova de conhecimentos básicos e, dos candidatos restantes, 40% foram eliminados na prova de conhecimentos específicos. Considerando as duas provas e a totalidade dos candidatos, o percentual de candidatos eliminados é:

- a) 84%
- b) 80%
- c) 72%
- d) 64%
- e) 58%

**41.** Em uma entrevista com 900 pessoas sobre a preferência entre dois produtos A e B, verificou-se que: 460 gostam do produto A, 660 gostam do produto B e 60 não opinaram. Pode-se concluir que o número de pessoas que gostam somente de um dos produtos é:

- a) 140
- b) 280
- c) 320
- d) 400
- e) 560

**42.** Em um curso Matemática,  $\frac{2}{5}$  dos alunos matriculados são homens. Em um determinado dia de aula,  $\frac{1}{3}$  dos homens matriculados e  $\frac{4}{5}$  das mulheres matriculadas compareceram, totalizando 230 alunos presentes.

O total de mulheres matriculadas é:

- a) 75
- b) 150
- c) 225
- d) 350
- e) 375

**43.** Joaquim aplicou um capital que rendia juros simples de 4% ao mês. Ao final de um ano, Joaquim recebeu juros de R\$ 9.000,00. O capital inicial aplicado foi:

- a) R\$ 17.125,00
- b) R\$ 18.750,00
- c) R\$ 18.955,00
- d) R\$ 19.500,00
- e) R\$ 20.000,00

44. Considere a sequência de números e figuras a seguir:

3♥5♣7♦3♥5♣7♦3♥5♣7♦...

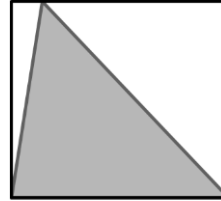
O 2024º termo da sequência é:

- a) ♥
- b) ♣
- c) ♦
- d) 3
- e) 5

45. Arnaldo possui uma gaveta com 6 meias verdes, 7 meias amarelas e 11 meias roxas. O menor número de meias que Arnaldo precisará retirar da gaveta, de maneira aleatória e sem saber quais meias estão saindo, para ter certeza de ter retirado pelo menos uma meia verde e pelo menos uma meia roxa, é

- a) 14
- b) 16
- c) 18
- d) 19
- e) 20

46. Um ladrilho quadrado com lado de 15cm apresenta o desenho de um triângulo, conforme mostrado na figura a seguir.



15cm

Sabendo-se foram pintados triângulos conforme mostrado na figura em 510 ladrilhos, a área total pintada é:

- a) Menor do que  $5,2m^2$ .
- b) Maior ou igual a  $5,2m^2$  e menor do que  $5,4m^2$ .
- c) Maior ou igual a  $5,4m^2$  e menor do que  $5,6m^2$ .
- d) Maior ou igual a  $5,6m^2$  e menor do que  $5,8m^2$ .
- e) Maior ou igual a  $5,8m^2$ .

47. Uma confeitaria prepara todo dia a mesma quantidade de massa para fazer croissants. Todos os dias são usados 60g de massa para cada croissant. Certo dia, utilizou-se 50g de massa para cada croissant, e foram feitos 40 croissants a mais do que nos outros dias. Quantos croissants foram feitos neste dia?

- a) 240
- b) 360
- c) 300
- d) 100
- e) 120



48. Sabe-se que a água do mar apresenta 2,8% da sua massa em sal. Para obter 700g de sal, são necessários quantos quilogramas de água do mar?

- a) 14
- b) 18
- c) 23
- d) 25
- e) 28

49. Considere a proposição categórica “Algum concursado não é esforçado”. A alternativa que apresenta uma negação dessa proposição é:

- a) Nenhum concursado é esforçado
- b) Existe um concursado que é esforçado
- c) Todo concursado é esforçado
- d) Todo concursado não é esforçado
- e) Pelo menos um concursado é esforçado

50. Em uma gaveta existem três meias azuis, duas brancas, cinco vermelhas e duas amarelas. Retirando-se consecutivamente três dessas meias, sem as repor na gaveta, a probabilidade de obtermos três meias vermelhas é de, aproximadamente:

- a) 4,5%
- b) 6,0%
- c) 7,5%
- d) 9,2%
- e) 10,0%

## **CONHECIMENTOS GERAIS - INFORMÁTICA**

*Emannuelle Gouveia*

51. O utilitário do Windows que pode ser acessado diretamente através do menu suspenso aberto ao clicar com o botão direito do mouse sobre o menu Iniciar e que pode ser usado para operações avançadas de armazenamento é o:

- a) Conexões de Rede.
- b) Power Shell.
- c) Gerenciador de Tarefas.
- d) Limpeza e Disco.
- e) Gerenciamento de Disco.

52. Ao clicar na Área de Trabalho do Windows, com o botão direito do mouse, qual das opções abaixo é encontrada:

- a) Configurações da Barra de Tarefas.
- b) Sincronização de Pastas Compartilhadas.
- c) Janela em Cascata.
- d) Bloquear a Barra de Tarefas.
- e) Desligar

53. Programas que auxiliam a comunicação e interação do Sistema Operacional com os equipamentos em geral são os:

- a) aplicativos.
- b) utilitários.
- c) acessórios.
- d) drivers.
- e) drives.

54. Das letras abaixo, marque a alternativa que descreve a opção que não é exibida no menu propriedades ao selecionarmos um arquivo.

- a) O tamanho do arquivo.
- b) O local onde ele se encontra armazenado no disco.
- c) A data e a hora da sua criação.
- d) Os atributos do arquivo
- e) A quantidade de caracteres que o arquivo possui

**55.** Leia as assertivas abaixo sobre o Windows e identifique a correta:

- a) O Windows utiliza o item Aplicativos e Recursos, existente no menu configurações, para realizar a exclusão correta de programas, visto que apaga apenas os itens possíveis e desinstala o programa.
- b) Nele, a Cortana já traz todas as possibilidades de diálogos com o usuário pré-definidas.
- c) O registro do Windows é um programa utilizado para o controle de usuários cadastrado.
- d) A lixeira do Windows possui tamanho limitado e tempo definido para a permanência dos arquivos em seu escopo.
- e) A exclusão de itens permanentemente impede qualquer chance de recuperação desses dados.

**56.** No Word, temos o recurso de Quebra de Seção que é utilizado para a criação de áreas de edição independentes no texto. Das letras abaixo, marque aquela que contem tipos de quebra de seção válidos:

- a) Contínuo; Página Par.
- b) Página Impar; Página Dupla.
- c) Contínuo; Duplo.
- d) Próxima Página; Mesclado.
- e) Página Dupla; Próxima Seção.

**57.** No Word, quando clicamos uma vez sobre uma determinada palavra, iremos:

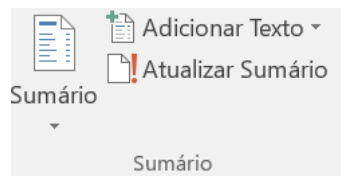
- a) selecionar todo o parágrafo.
- b) selecionar a palavra.
- c) posicionar o cursor no local clicado.
- d) selecionar a linha.
- e) selecionar todo o texto.

**58.** O Texto abaixo, feito no Word, pode ter sido feito utilizando que recurso de formatação:

*Câmara*

- a) o efeito tachado existente na guia Página Inicial
- b) o efeito de texto horizontal existente na guia Página Inicial.
- c) o efeito WordArt existente na guia Página Inicial.
- d) o efeito WordArt existente na guia Inserir
- e) o efeito Quebra de Página existente na guia Inserir

**59.** No Word, os menus abaixo se encontram em que guia:



- a) Página Inicial.
- b) Revisão.
- c) Design
- d) Inserir.
- e) Referências.

**60.** No Word, temos dois tipos de notas: a Nota de Fim e a Nota de rodapé. A Nota de Fim vem no fim do documento e a nota de Rodapé vem no:

- a) Rodapé.
- b) Fim da página, acima do rodapé.
- c) No canto inferior direito da página obrigatoriamente
- d) Comentário.
- e) Macros.

**61.** Uma planilha no Excel tem os valores

	A	B
1	10	15
2	20	25
3	30	40
4		

Ao digitarmos na célula D4 a seguinte fórmula

=CONT.NUM(A1:B3)

O valor obtido será:

- a) 5
- b) 8
- c) 6
- d) 2
- e) 1

**62.** No Excel o usuário digitou a função =Agora() . O que será apresentado na mesma célula quando ele apertar enter:

- a) Nada. O Excel não reconhece essa função e ignora o comando
- b) A data e a hora do sistema.
- c) A data e a hora do sistema atualizadas
- d) A data atual apenas
- e) Uma mensagem de erro.

**63.** No Excel a opção “Mesclar e centralizar” se encontra em que menu:

- a) Página Inicial
- b) Inserir
- c) Exibir
- d) Gráficos.
- e) Correspondência

**64.** Sobre o Google Chrome é incorreto afirmar:

- a) Utiliza a busca case sensitive por padrão.
- b) Possibilita a busca de elementos por cores.
- c) Permite ativar ferramentas de proteção a navegação como antiphishing.
- d) Possibilita o armazenamento de senhas.
- e) Disponibiliza operadores que podem ser usados para reduzir a busca ao mais próximo possível do que o usuário deseja.

**65.** Das letras abaixo, marque aquela que exibe protocolo que podem ser utilizados para a troca de arquivos entre computadores:

- a) SMTP.
- b) HTTP.
- c) IMAP.
- d) FTP.
- e) IRC

**66.** Não poderia ser considerada uma característica da implementação de uma nuvem:

- a) diminuição do custo com aquisição de licença de software
- b) independência de plataforma de hardware.
- c) independência de plataforma de software.
- d) facilidade de atualização de versão.
- e) obrigatoriedade do cliente de não poder fazer alterações em seus projetos após a contratação do serviço.

**67.** O ataque também conhecido como “envenenamento de cache DNS” é o:

- a) Ransoware
- b) Adware.
- c) Phishing
- d) spyware.
- e) Pharming.

68. O SSL é um certificado digital que garante a transmissão de dados criptografados em uma rede. Um protocolo que o utiliza é:

- a) STMP
- b) IMAP
- c) HTTP
- d) HTTPS
- e) POP

69. O ataque que fareja pacotes na rede e que pode ser dos tipos: interno (colocado pelo próprio administrador da rede) ou externo (colocado pelo atacante) é o:

- a) Virus
- b) Sniffer.
- c) Worm
- d) spyware.
- e) Backdoor.

70. Com o Google Meet não é possível:

- a) Realizar reuniões on-line
- b) Bloquear o microfone de participantes
- c) Utilizar o recurso de chat
- d) Editar textos em um editor próprio e integrado direta e exclusivamente à ferramenta
- e) bloquear a câmera durante uma transmissão.

### **CONHECIMENTOS GERAIS – LEI ORGÂNICA DE SÃO PAULO E REGIMENTO INTERNO DE SÃO PAULO**

*Emerson Bruno*

71. Bertoldo, estudante em visita à Câmara Municipal de São Paulo, se interessa pelo estudo do Processo Legislativo. Conforme o previsto na Lei Orgânica, o Processo Legislativo compreende a elaboração de, EXCETO

- a) emendas à Lei Orgânica.
- b) leis.
- c) medidas provisórias.
- d) resoluções.
- e) decretos legislativos.

72. Priscila, estagiária da Prefeitura de São Paulo, prepara uma minuta de artigo sobre a iniciativa legislativa junto à Câmara Municipal. De acordo com o seus estudos, a Lei Orgânica poderá ser emendada mediante proposta:

- a) de 2/3 (dois terços), no mínimo, dos membros da Câmara Municipal.
- b) de cidadãos, mediante iniciativa popular assinada por, no mínimo 15% (quinze por cento) dos eleitores do Município.
- c) do Vice-Prefeito.
- d) do líder de bancada na Câmara Municipal.
- e) de 1/3 (um terço), no mínimo, dos membros da Câmara Municipal.



**73.** Conforme previsão da Lei Orgânica do Município, as questões relevantes aos destinos do Município poderão ser submetidas a plebiscito ou referendo por proposta do Executivo:

- a) por 2/3 (dois terços) dos vereadores ou por pelo menos 5% (cinco por cento) do eleitorado, decidido pelo Plenário da Câmara Municipal.
- b) por 1/3 (um terço) dos vereadores ou por pelo menos 2% (dois por cento) do eleitorado, decidido pelo Plenário da Câmara Municipal.
- c) por 1/3 (um terço) dos vereadores ou por pelo menos 5% (cinco por cento) do eleitorado, decidido pelo Plenário da Câmara Municipal.
- d) por 2/3 (dois terços) dos vereadores ou por pelo menos 1% (um por cento) do eleitorado, decidido pelo Plenário da Câmara Municipal.
- e) por maioria absoluta dos vereadores ou por pelo menos 2% (dois por cento) do eleitorado, decidido pelo Plenário da Câmara Municipal.

**74.** A Câmara Municipal reunir-se-á anualmente em sua sede, em sessão legislativa ordinária:

- a) de 1º de fevereiro a 17 de junho, e de 1º de agosto a 22 de dezembro.
- b) de 2 de fevereiro a 17 de junho, e de 1º de agosto a 22 de dezembro.
- c) de 1º de fevereiro a 30 de junho, e de 1º de agosto a 15 de dezembro.
- d) de 1º de fevereiro a 17 de junho, e de 1º de agosto a 20 de dezembro.
- e) de 1º de fevereiro a 30 de junho, e de 1º de agosto a 20 de dezembro.

**75.** De acordo com a Lei Orgânica do Municípios de São Paulo, o Poder Legislativo é exercido pela Câmara Municipal, composta de:

- a) 25 (vinte e cinco) Vereadores.
- b) 55 (cinquenta e cinco) Vereadores.
- c) 45 (quarenta e cinco) Vereadores.
- d) 65 (sessenta e cinco) Vereadores.
- e) 50 (cinquenta) Vereadores.

**76.** Conforme previsão da Lei Orgânica do Município e o Regimento Interno da Câmara Municipal de São Paulo, a eleição para renovação da Mesa realizar-se-á:

- a) no dia 10 de dezembro e a posse dos eleitos dar-se-á no dia 1º de fevereiro do ano subsequente.
- b) no dia 15 de dezembro e a posse dos eleitos dar-se-á no dia 1º de janeiro do ano subsequente.
- c) no dia 15 de novembro e a posse dos eleitos dar-se-á no dia 10 de janeiro do ano subsequente.
- d) no dia 15 de dezembro e a posse dos eleitos dar-se-á no dia 5 de janeiro do ano subsequente.
- e) no dia 20 de dezembro e a posse dos eleitos dar-se-á no dia 1º de fevereiro do ano subsequente.

**77.** Conforme previsto na LOMSP, a Câmara Municipal, através de suas Comissões Permanentes, na forma regimental e mediante prévia e ampla publicidade, convocará obrigatoriamente pelo menos 2 (duas) audiências públicas durante a tramitação de determinados projetos de leis. Dentre as proposições sujeitas à essa regra, NÃO se encontra.

- a) a disciplina do Parcelamento, Uso e Ocupação do Solo e zoneamento ambiental.
- b) o Plano Diretor.
- c) a política municipal de meio-ambiente.
- d) o Código de Obras e Edificações.
- e) o Plano Municipal de Educação.

**78.** Conforme o Regimento Interno da Câmara Municipal de São Paulo, a mesa diretora é composta:

- a) do Presidente, do 1º Vice-Presidente, do 2º Vice-Presidente, do 1º Secretário e do 2º Secretário.
- b) do Presidente, do 1º Vice-Presidente, do 2º Vice-Presidente, do 3º Vice-Presidente, do 1º Secretário, do 2º Secretário e do 3º Secretário.
- c) do Presidente, do Vice-Presidente, do 1º Secretário e do 2º Secretário.
- d) do Presidente, do 1º Vice-Presidente, do 2º Vice-Presidente, do 1º Secretário, do 2º Secretário e do 3º Secretário.
- e) do Presidente, do 1º Vice-Presidente, do 2º Vice-Presidente, do 1º Secretário, do 2º Secretário, do 3º Secretário e do 4º Secretário.

**79.** De acordo com o Regimento Interno, a Comissão de Constituição, Justiça e Legislação Participativa é composta por:

- a) 9 (nove) membros.
- b) 7 (sete) membros.
- c) 11 (onze) membros.
- d) 10 (dez) membros.
- e) 8 (oito) membros.

**80.** De acordo com o Regimento Interno da Câmara Municipal de São Paulo, as Comissões Temporárias são:

- a) Comissão Parlamentar de Inquérito; Comissão de Regimento Interno; Comissão de Estudos.
  - b) Comissão Parlamentar de Inquérito; Comissão Especial; Comissão de Estudos.
  - c) Comissão Parlamentar de Inquérito; Comissão Representativa; Comissão Especial.
  - d) Comissão Parlamentar de Inquérito; Comissão de Representação; Comissão de Estudos.
  - e) Comissão Parlamentar de Inquérito; Comissão de Representativa; Comissão de Redação Final.
-

## NÃO É ASSINANTE?

*Confira nossos planos, tenha acesso a milhares de cursos e participe gratuitamente dos projetos exclusivos. Clique no link!*

<https://bit.ly/Estrategia-Assinaturas>

## CONHEÇA NOSSO SISTEMA DE QUESTÕES

*Estratégia Questões nasceu maior do que todos os concorrentes, com mais questões cadastradas e mais soluções por professores. Clique no link e conheça!*

<https://bit.ly/Sistemas-de-Questões>

---