



Simulado Final

PM SP

Soldado
Pós-Edital

Simulado

Simulado Final Polícia Militar de São Paulo

Nome: _____

INFORMAÇÕES SOBRE O SIMULADO

- 1 - Este simulado conta com questões focadas no concurso Polícia Militar de São Paulo;
- 2 - A prova contém itens que abordam conhecimentos cobrados no edital do concurso;
- 3 - As questões são inéditas e foram elaboradas pelos nossos professores com base no perfil da banca organizadora;
- 4 - Os participantes têm das **8:00** às **13:30** para responder às questões e preencher o Gabarito Eletrônico;
- 5 - O link para preencher o formulário com seu gabarito está localizado logo abaixo destas informações;

PREENCHA SEU GABARITO

<https://bit.ly/Simulado-PM-SP-10-09>

- | | | |
|--------------------------|--------------------------|--------------------------|
| 01 – (A) (B) (C) (D) (E) | 20 – (A) (B) (C) (D) (E) | 41 – (A) (B) (C) (D) (E) |
| 02 – (A) (B) (C) (D) (E) | 21 – (A) (B) (C) (D) (E) | 42 – (A) (B) (C) (D) (E) |
| 03 – (A) (B) (C) (D) (E) | 22 – (A) (B) (C) (D) (E) | 43 – (A) (B) (C) (D) (E) |
| 04 – (A) (B) (C) (D) (E) | 23 – (A) (B) (C) (D) (E) | 44 – (A) (B) (C) (D) (E) |
| 05 – (A) (B) (C) (D) (E) | 24 – (A) (B) (C) (D) (E) | 45 – (A) (B) (C) (D) (E) |
| 06 – (A) (B) (C) (D) (E) | 25 – (A) (B) (C) (D) (E) | 46 – (A) (B) (C) (D) (E) |
| 07 – (A) (B) (C) (D) (E) | 26 – (A) (B) (C) (D) (E) | 47 – (A) (B) (C) (D) (E) |
| 08 – (A) (B) (C) (D) (E) | 27 – (A) (B) (C) (D) (E) | 48 – (A) (B) (C) (D) (E) |
| 09 – (A) (B) (C) (D) (E) | 28 – (A) (B) (C) (D) (E) | 49 – (A) (B) (C) (D) (E) |
| 10 – (A) (B) (C) (D) (E) | 29 – (A) (B) (C) (D) (E) | 50 – (A) (B) (C) (D) (E) |
| 11 – (A) (B) (C) (D) (E) | 30 – (A) (B) (C) (D) (E) | 51 – (A) (B) (C) (D) (E) |
| 12 – (A) (B) (C) (D) (E) | 31 – (A) (B) (C) (D) (E) | 52 – (A) (B) (C) (D) (E) |
| 13 – (A) (B) (C) (D) (E) | 32 – (A) (B) (C) (D) (E) | 53 – (A) (B) (C) (D) (E) |
| 14 – (A) (B) (C) (D) (E) | 33 – (A) (B) (C) (D) (E) | 54 – (A) (B) (C) (D) (E) |
| 15 – (A) (B) (C) (D) (E) | 34 – (A) (B) (C) (D) (E) | 55 – (A) (B) (C) (D) (E) |
| 16 – (A) (B) (C) (D) (E) | 35 – (A) (B) (C) (D) (E) | 56 – (A) (B) (C) (D) (E) |
| 17 – (A) (B) (C) (D) (E) | 36 – (A) (B) (C) (D) (E) | 57 – (A) (B) (C) (D) (E) |
| 18 – (A) (B) (C) (D) (E) | 37 – (A) (B) (C) (D) (E) | 58 – (A) (B) (C) (D) (E) |
| 19 – (A) (B) (C) (D) (E) | 38 – (A) (B) (C) (D) (E) | 59 – (A) (B) (C) (D) (E) |
| 20 – (A) (B) (C) (D) (E) | 39 – (A) (B) (C) (D) (E) | 60 – (A) (B) (C) (D) (E) |
| | 40 – (A) (B) (C) (D) (E) | |

**LÍNGUA PORTUGUESA E INTERPRETAÇÃO
DE TEXTO***Fabrizio Dutra***A Complexa Questão da Violência nas Grandes
Cidades: Desafios e Perspectivas**

A violência nas grandes cidades é um problema que persiste e desafia as sociedades urbanas em todo o mundo. Trata-se de um fenômeno multifacetado e complexo que envolve uma série de fatores interconectados, tornando sua solução uma tarefa hercúlea. Neste contexto, é essencial analisar as razões subjacentes à persistência da violência urbana e as dificuldades associadas à sua resolução.

Primeiramente, a urbanização crescente tem contribuído para a concentração de pessoas em áreas urbanas densamente povoadas. Esse processo, embora traga consigo muitos benefícios, também pode criar condições propícias para o aumento da violência. A competição por recursos, oportunidades limitadas de emprego, segregação socioeconômica e a formação de áreas marginalizadas são algumas das consequências da urbanização desordenada que alimentam a violência nas cidades.

Além disso, a presença de organizações criminosas é um fator significativo na perpetuação da violência urbana. Essas organizações muitas vezes exploram a vulnerabilidade de áreas carentes de recursos e exercem controle sobre territórios urbanos, perpetuando um ciclo de criminalidade difícil de quebrar. As estratégias para lidar com essas organizações variam em complexidade e requerem cooperação entre as autoridades policiais e judiciais.

Outro desafio é a falta de acesso a serviços públicos de qualidade, como educação, saúde e habitação. A desigualdade social nas grandes cidades pode criar um ambiente propício ao desespero e à criminalidade, já que indivíduos em situações precárias podem se sentir excluídos e desamparados. Resolver a violência urbana envolve, portanto, investimentos em programas sociais que promovam a inclusão e o bem-estar nas comunidades mais afetadas.

A corrupção dentro das instituições públicas também é um obstáculo à solução do problema da violência urbana. Quando a confiança nas autoridades é minada pela corrupção, as comunidades podem ser menos propensas a cooperar com a aplicação da lei, o que dificulta a prevenção e a resolução de crimes.

Em relação às soluções, é importante reconhecer que não existe uma abordagem única e universalmente eficaz para lidar com a violência nas grandes cidades. Em vez disso, é necessário um esforço multifacetado que combine políticas de segurança pública, investimentos em educação, criação de oportunidades de emprego, programas de reabilitação para infratores e uma abordagem holística que considere a raiz socioeconômica da violência.

Em conclusão, o problema da violência nas grandes cidades é um desafio complexo e persistente que afeta comunidades em todo o mundo. A urbanização desordenada, a presença de organizações criminosas, a desigualdade social, a corrupção e a falta de acesso a serviços públicos de qualidade são alguns dos fatores que contribuem para esse fenômeno. No entanto, com abordagens abrangentes que envolvam a sociedade, o governo e as instituições, é possível enfrentar e reduzir a violência nas grandes cidades, promovendo um ambiente mais seguro e próspero para todos os seus habitantes.

01. Qual dos seguintes fatores NÃO é mencionado no texto como uma das razões subjacentes à persistência da violência nas grandes cidades?

- a) Urbanização desordenada.
- b) Corrupção dentro das instituições públicas.
- c) Investimentos em programas sociais.
- d) Presença de organizações criminosas.
- e) Falta de acesso a serviços públicos de qualidade.

02. Assinale o elemento abaixo que exige uma inferência por parte do leitor para que seja interpretado.

- a) A corrupção dentro das instituições públicas também é um obstáculo à solução do problema da violência urbana
- b) As estratégias para lidar com essas organizações variam em complexidade e requerem cooperação entre as autoridades policiais e judiciais.
- c) Em relação às soluções, é importante reconhecer que não existe uma abordagem única e universalmente eficaz para lidar com a violência
- d) Resolver a violência urbana envolve, portanto, investimentos em programas sociais
- e) Outro desafio é a falta de acesso a serviços públicos de qualidade, como educação, saúde e habitação.

03. Assinale a opção em que o elemento abaixo exerce a função de complemento nominal.

- a) Resolver a violência urbana envolve, portanto, investimentos em programas
- b) A corrupção dentro das instituições públicas também é um obstáculo
- c) o problema da violência nas grandes cidades é um desafio complexo
- d) Outro desafio é a falta de acesso a serviços públicos de qualidade.
- e) promovendo um ambiente mais seguro e próspero para todos os seus habitantes

04. No entanto, com abordagens abrangentes que envolvam a sociedade, o governo e as instituições, é possível enfrentar e reduzir a violência nas grandes cidades, promovendo um ambiente mais seguro e próspero para todos os seus habitantes.

Sobre o trecho acima, julgue os itens abaixo e assinale a opção correta:

I. A vírgula, após o termo 'No entanto', é facultativo.

II. O termo 'No entanto' admite ser substituído por 'Contudo'.

III. A oração 'enfrentar e reduzir a violência nas grandes cidades' exerce a função de sujeito.

Está(ão) correto(s):

- a) I, II.
- b) I, II e III
- c) II e III
- d) I e II
- e) apenas III

05. No entanto, com abordagens abrangentes que envolvam a sociedade...

Não pode substituir o termo acima:

- a) extensivas
- b) irrestritas
- c) globalizantes
- d) inclusivas
- e) exíguas

06. Assinale a alternativa em que o vocábulo destacado tem valor de posse.

A frase em que o pronome pessoal **lhe** tem valor possessivo é:

- a) Nunca prive alguém da esperança. Pode ser tudo o que lhe resta.
- b) Não é que ele não possa ver a solução. É que não lhe é possível ver o problema.
- c) Você está certo, se assim lhe parece.
- d) Eu posso explicar-lhes isso, mas eu não posso entender isso por eles.
- e) O certo não é priorizar o que lhe está na agenda, mas agendar suas prioridades.

07. Em conclusão, o problema da violência nas grandes cidades é um desafio complexo e persistente que afeta comunidades em todo o mundo.

O vocábulo 'complexo' pertence à mesma classe de palavras,

no contexto em que se encontra, que o vocábulo destacado em:

- a) Não podemos tentar deixar de fazer escolhas ao não fazer nada, mas mesmo isso é uma decisão.
- b) Se você pode ler isso, agradeça a um professor.
- c) Como é que as crianças pequenas são tão espertas e os homens tão estúpidos? Deve ser a educação que faz isso.
- d) Suponho que a única razão da estrada para a ruína ser larga é acomodar o grande número de viajantes nessa direção.
- e) Há dois objetivos na vida: primeiro conseguir o que se deseja e segundo, ser capaz de se aproveitar disso.

08. Os méritos e as fragrâncias são oriundos da natureza; _____ duram pouco e _____ perduram por longo tempo, porém ambos perdem a essência quando expostos.

As formas dos demonstrativos que preenchem corretamente as

lacunas são:

- a) estes / aqueles.
- b) aqueles / estas.
- c) essas / aqueles.
- d) estas / aqueles.
- e) essas / aquelas.

09. A norma-padrão de regência verbal e nominal foi observada em:

- a) Assistimos um belo espetáculo de dança a semana passada.

- b) Visando apenas os seus próprios interesses, ele, involuntariamente, prejudicou toda uma família.

- c) Como era orgulhoso, preferiu declarar falida a firma a aceitar qualquer ajuda do sogro.

- d) Desde criança sempre aspirava uma posição de destaque, embora fosse tão humilde.

- e) Lembrou de que precisava voltar ao trabalho.

10. Assinale a alternativa em que o termo entre parênteses substitui corretamente a expressão.

- a) Essas organizações muitas vezes exploram a vulnerabilidade (a exploram)

- b) embora traga consigo muitos benefícios. (lhes traga)

- c) é possível enfrentar e reduzir a violência nas grandes cidades... (reduzir-la)

- d) promovendo um ambiente mais seguro e próspero para todos os seus habitantes. (promovendo-lhe)

- e) holística que considere a raiz socioeconômica da violência. (lhe considere)

11. Assinale a alternativa em que ocorre o uso de alguma expressão em sentido figurado:

- a) Uma analogia frequentemente usada para falar de divulgação científica descreve o cientista como um ser enclausurado em uma torre de marfim isolada do resto da sociedade.

- b) É óbvio que cientistas sabem algumas coisas com um grau muito alto de certeza.

- c) Ao mesmo tempo, porém, quase um século de estudos sobre nutrição não conseguiu responder a questões básicas.

- d) Em relação às soluções, é importante reconhecer que não existe uma abordagem única e universalmente eficaz para lidar com a violência nas grandes cidades.

- e) A desigualdade social nas grandes cidades pode criar um ambiente propício ao desespero e à criminalidade.

12. Assinale a opção em que a análise sintática do termo destacado está feita corretamente.

a) Alguns problemas são simplesmente difíceis. (predicativo do objeto)

b) Que ninguém pense, porém, que estou descendo da torre de

marfim para fazê-lo. (objeto direto)

c) É óbvio que cientistas sabem algumas coisas com um

grau muito alto de certeza. (Complemento nominal)

d) Computadores, celulares e bombas atômicas estão aí para provar o sucesso acachapante das leis da física. (predicativo do objeto)

e) Ao mesmo tempo, porém, quase um século de estudos

sobre nutrição não conseguiu responder a questões básicas. (objeto direto)

13. Assinale a alternativa em que a frase está correta quanto à concordância.

a) O problema de atrasos nas construções governamentais no Brasil vêm preocupando os especialistas.

b) Tudo o que esses participantes dos projetos fazem estão ao nosso alcance.

c) Vem acontecendo a cada dia novas tentativas de interferência.

d) Nunca se ouviu tanta história desse tipo.

e) Sempre houveram eleitores descontentes com a situação do país.

14. Assinale a alternativa em que a frase está correta quanto à colocação pronominal.

a) Os jovens não dedicam-se suficientemente à leitura.

b) O que lembrou-lhe o estojo escolar foi o novo notebook.

c) E Conforme abria-o, sentia seu cheiro agradável cada vez mais forte.

d) Não se perde nem o dinheiro nem o amigo.

e) Perderia-se o dinheiro e o amigo.

15. Resolver a violência urbana envolve, portanto, investimentos em programas sociais que promovam a inclusão.

Assinale a alternativa em que o conectivo não pode substituir o elemento destacado acima:

a) por isso

b) pois

c) assim sendo

d) posto que

e) desse modo

16. Assinale a opção em que esteja correta a grafia de todas as palavras:

a) interrelação, humanóide, micro-ondas.

b) intra-auricular, super-homem, neo-holandês

c) mini-saia, ideia, voo

d) anti-racista, antebrço, passatempo

e) superaula, ultra-higiênico, manda-chuva

17. segregação socioeconômica e a formação de áreas marginalizadas são algumas das consequências da urbanização desordenada que alimentam a violência nas cidades.

O termo acima pertence à seguinte classe gramatical:

a) preposição

b) pronome relativo

c) conjunção integrante

d) sujeito

e) advérbio

18. Outro fator importante é o acesso a condições de vida melhores.

Sobre o termo sublinhado, assinale a opção correta:

- a) Ele é um artigo definido e feminino, que aponta para um substantivo.
- b) Deveria ter sido empregado o acento de crase neste elemento.
- c) O acento de crase não ocorreu por falta de preposição.
- d) Ele representa uma preposição, fruto de regência verbal.
- e) O acento grave não foi empregado em virtude de não ter sido empregado o artigo.

19. Assinale a alternativa correta quanto ao emprego do pronome 'onde'.

- a) Não me diga onde você pretende ir.
- b) Hoje nós vivemos uma época moderna onde o contato pessoal diminuiu bastante.
- c) Nunca entendi onde você quer chegar.
- d) O Brasil é o país onde você adora viver.
- e) Os anos de 2009 a 2011 correspondem ao período onde a pesquisa foi realizada por meio de entrevistas em vários estados do Nordeste.

20. Quando a confiança nas autoridades é minada pela corrupção, as comunidades podem ser menos propensas a cooperar com a aplicação da lei, o que dificulta a prevenção e a resolução de crimes.

Sobre o trecho acima, julgue os itens a seguir e assinale a alternativa correta.

- I. O conectivo 'Quando' poderia ser substituído por 'Sempre que'.
- II. Se a vírgula após o termo 'corrupção', fosse retirada, a correção seria prejudicada.
- III. O termo 'o' é um artigo definido.

Está(ão) correto(s)

- a) Apenas o III.
- b) Todos.

c) I e III

d) II e III

e) I e II

MATEMÁTICA

Eduardo Mocellin

21. Uma companhia da PM SP é composta por três grupamentos de soldados. Durante o desfile do dia da independência do Brasil, os três grupamentos foram formados, cada um deles em forma retangular com 6 colunas de 8 soldados.

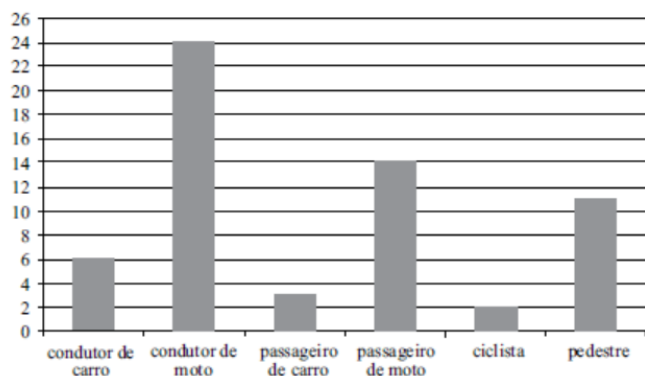
Caso fosse necessário realizar uma formação com todos os soldados dessa companhia em uma forma retangular única, uma formação possível seria:

- a) 8 colunas, cada uma delas com 20 soldados.
- b) 9 colunas, cada uma delas com 18 soldados.
- c) 10 colunas, cada uma delas com 15 soldados.
- d) 12 colunas, cada uma delas com 13 soldados.
- e) 16 colunas, cada uma delas com 9 soldados.

22. Em uma sala de aula com 80 alunos, um professor resolveu fazer uma enquete para descobrir a matéria preferida dos alunos. Desses alunos, metade prefere matemática, um quarto prefere física e 10% prefere química. Os demais alunos preferem história. O número de alunos que preferem história é:

- a) 12
- b) 14
- c) 16
- d) 18
- e) 20

23. O gráfico a seguir apresenta o número de vítimas de trânsito de uma cidade no ano de 2022.



O grupo que representa aproximadamente 18,33% das vítimas é o de:


- a) passageiro de carro
- b) condutor de carro
- c) passageiro de moto
- d) pedestre
- e) condutor de moto

24. Arnaldo, Bernaldo e Cernaldo são advogados de um mesmo escritório. Em uma determinada semana, a razão entre o número de clientes atendidos por Arnaldo e por Bernaldo foi de 2:3 e a razão entre a quantidade de clientes atendidos por Bernaldo e por Cernaldo foi de 6:5. Na citada semana, Arnaldo atendeu 36 clientes.

A quantidade de clientes atendidos por Cernaldo nessa semana foi

- a) 40
- b) 45
- c) 50
- d) 55
- e) 60

25. A figura a seguir mostra a participação percentual de cada um dos três principais modais de transporte utilizados por certa empresa no escoamento da sua produção total referente ao ano de 2020 e a respectiva projeção para 2030.



Sabe-se que em 2020 foram transportadas 416 toneladas pelo modal aquaviário, e para 2030 está previsto o transporte de 1.320 toneladas pelo modal rodoviário. Nessas condições, é correto afirmar que, pela projeção feita, o número de toneladas transportadas pelo modal ferroviário em 2030 terá, em relação ao de 2020, um acréscimo de:

- a) 60%.
- b) 40%.
- c) 28%.
- d) 15%.
- e) 7%.

26. Considere dois relógios defeituosos. Um deles adianta um segundo a cada 20 minutos, e o outro atrasa um segundo a cada 15 minutos. Suponha que, às 11 horas de um determinado dia, os dois relógios foram acertados com o horário oficial. Quando o horário oficial nesse dia for 19 horas, a diferença entre os horários marcados pelos relógios será de

- a) 42 segundos
- b) 45 segundos
- c) 49 segundos
- d) 52 segundos
- e) 56 segundos

27. Joaquim revestiu totalmente o piso da sua sala com 6400 peças quadradas de cerâmica de 12 centímetros de lado cada uma. Caso essas peças de cerâmica fossem substituídas por outras peças quadradas com 4 centímetros de lado, o número de peças necessárias para revestir totalmente o piso da sala seria:

- a) 12.800
- b) 19.200
- c) 25.600
- d) 38.400
- e) 57.600

28. Arnaldo, Bernaldo e Cernaldo se encontraram em um mesmo dia em uma clínica de nutrição. Para fins de acompanhamento da dieta por parte da nutricionista, as três pessoas deverão retornar à clínica a cada 40 dias, 36 dias e 30 dias, respectivamente. Quando essas três pessoas se encontrarem novamente na clínica em um mesmo dia, terá sido o

- a) nono retorno do Arnaldo.
- b) décimo segundo retorno do Bernaldo.
- c) décimo quarto retorno do Arnaldo.
- d) décimo quinto retorno do Bernaldo.
- e) décimo quinto retorno do Cernaldo.

29. Três pessoas precisam pintar o meio-fio de uma rua. A primeira pessoa a trabalhar realizou $\frac{3}{10}$ da atividade. A segunda pessoa a trabalhar pintou $\frac{5}{3}$ do que havia pintado a primeira pessoa. Já a última das três pessoas executou $\frac{1}{5}$ do que a segunda pessoa havia executado. A porcentagem da tarefa que ainda falta ser realizada é

- a) 5%
- b) 7,5%
- c) 10%
- d) 12,5%
- e) 15%

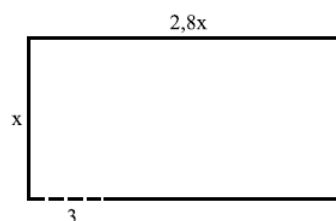
30. Um restaurante oferece as seguintes sugestões de almoço:

Sugestão	Preço
Salada e filé	R\$ 34
Salada e macarrão	R\$ 28
Macarrão e filé	R\$ 42

Sabendo-se que o preço de cada sugestão foi obtido somando-se os valores individuais de cada prato que compõe a respectiva sugestão, o preço a ser pago por uma pessoa que queira comer salada, macarrão e filé nesse restaurante deverá ser:

- a) R\$ 52
- b) R\$ 56
- c) R\$ 66
- d) R\$ 70
- e) R\$ 78

31. Joaquim comprou um terreno retangular conforme a figura a seguir, em que as dimensões estão indicadas em metros.



Antes de começar a construir uma casa nesse terreno, Joaquim pretende cercá-lo com três voltas de arame farpado, deixando uma passagem livre de 3 metros para entrada e saída de veículos, conforme mostrado na figura. Sabendo-se que Joaquim utilizou 333m de arame, a medida indicada por x na figura, em metros, é:

- a) 15
- b) 14
- c) 12
- d) 10
- e) 9

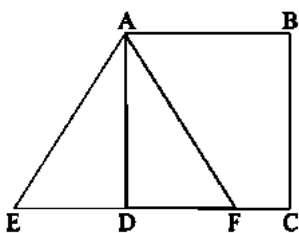
32. Um reservatório de água em formato de cubo tem a capacidade de 1.728.000 litros. Nesse caso, a aresta do reservatório deve medir:

- a) 12dm
- b) 144dm
- c) 12m
- d) 144m
- e) 12dam

33. Ao iniciar seus estudos para concursos públicos, João resolveu entrar em um grupo de estudos que originalmente contava com 4 concurseiros. Sabendo-se que a idade de João é 31 anos e que, com a sua entrada no grupo, a média de idade das 5 pessoas do grupo passou a ser 33 anos, a média de idade original, antes da entrada de João, era:

- a) 30,5 anos
- b) 33,5 anos
- c) 35,5 anos
- d) 36,5 anos
- e) 37,5 anos

34. Considere o triângulo equilátero AEF e o quadrado ABCD da figura a seguir:



Sabendo-se que a área do quadrado ABCD é 75cm^2 , a área do triângulo AEF, em cm^2 , é:

- a) 25
- b) 50
- c) $25\sqrt{3}$
- d) $50\sqrt{3}$
- e) $100\sqrt{3}$

35. Considere que a frase a seguir é falsa: “Se estudei, então serei aprovado.”

Com base nisso, é correto afirmar que:

- a) Não estudei
- b) Serei aprovado
- c) Não estudei ou serei aprovado
- d) Estudei e não serei aprovado
- e) Se não serei aprovado, então não estudei

HISTÓRIA GERAL E DO BRASIL

Alessandra Lopes

36. “De meados da década de 60 até o final da de 70 do século passado, o Brasil ascendeu rapidamente na escala global de distribuição de poder econômico relativo, e, com isso, suas ambições e seu padrão de relacionamento com a economia mundial mudaram. Essas transformações, que ocorreram de forma mais complexa durante a presidência de Ernesto Geisel (1974-1979), inserem-se em um contexto de declínio relativo dos EUA e de distensão da Guerra Fria, os quais proporcionaram as condições para a adoção de uma política econômica externa cuja tônica era a diversificação de parcerias sob o signo da promoção do desenvolvimento econômico.”

(CUNHA, Raphael Coutinho da. FARIAS, Rogério de Souza. As relações econômicas internacionais do governo Geisel (1974-1979). In: Revista Brasileira de Política Internacional, Brasília: IBRI, jul.-dez./2011, p. 46.)

Com base no contexto do Regime Militar (1964-1985) e no trecho fornecido, é correto afirmar que a política econômica do governo de Ernesto Geisel (1974-1979)

- a) focou na estatização e planificação da economia.
- b) provocou forte inflação, fato que provocou a falência do “milagre econômico.”
- c) expressou uma tendência diferenciada dos demais militares ao buscar relações comerciais bilaterais.

d) fez com que os EUA retiraram o apoio que concediam aos Regimes Militares da América Latina.

e) representava a linha dura dos militares, fato que inviabilizou qualquer tipo de aliança com países fora do eixo da parceria norte-americana.

37. Corresponde ao Plano Econômico do Governo do Juscelino Kubitschek

a) Plano SALTE

b) Plano de Metas

c) Plano Trienal

d) Plano Nacionalista

e) Plano Verão

38. A Guerra do Vietnã, um dos conflitos mais significativos do século XX deixou marcas profundas na história global e na geopolítica da época da Guerra Fria. Sobre esse conflito, avalie as afirmações a seguir:

a) Foi uma guerra civil entre o Norte e o Sul do Vietnã, com envolvimento direto de potências externas.

b) A estratégia de guerrilha foi amplamente adotada por ambos os lados, evitando a utilização de trincheiras.

c) A guerra terminou com a vitória decisiva dos Estados Unidos, que conseguiram impor seu modelo de governo no Vietnã.

d) O conflito não teve relação com a Guerra Fria, sendo uma disputa interna de natureza étnica.

e) Foi um conflito de curta duração, encerrando-se em menos de um ano após o seu início.

39. A economia mundial deixara totalmente de ser, como fora em meados do século XIX, um sistema solar girando em torno de uma estrela única, a Grã-Bretanha. [...] Um certo número de economias industriais nacionais agora se enfrentavam mutuamente. Sob tais circunstâncias a concorrência econômica passou a estar entrelaçada com as ações políticas, ou mesmo militares do Estado. [...] Do ponto de vista do capital, o apoio político passaria a ser essencial para manter a concorrência estrangeira à distância. [...] Do ponto de vista dos Estados, a economia passou a ser desde então tanto a base mesma do poder internacional como seu critério.

(Eric J. Hobsbawm. A era dos Impérios, 1988. p. 437-438)

Qual fator mencionado no texto contribuiu significativamente para o desencadeamento da Primeira Guerra Mundial?

a) A independência das nações colonizadas na África e na Ásia.

b) A formação de alianças sólidas entre os países industrializados.

c) A ascensão de regimes democráticos nas nações desenvolvidas.

d) A cooperação internacional para a resolução pacífica de disputas.

e) A competição econômica entre Estados industrializados por recursos e mercados.

40. A história constitucional do Brasil é marcada por mudanças significativas na forma como a participação popular foi incorporada às suas Constituições. Desde a República de 1891 até a Constituição de 1988, houve um processo de ampliação gradual dos direitos e da participação do povo nas decisões políticas do país.

Com base no texto e em seus conhecimentos sobre a evolução das constituições brasileiras, assinale a alternativa que melhor descreve a ampliação da participação popular no período mencionado.

- a) A Constituição de 1891 representou um avanço significativo na participação popular, instituindo o voto direto e universal para todos os cidadãos, independentemente de gênero, raça ou classe social.
- b) Durante o período de 1891 a 1988, houve uma constante diminuição da participação popular nas decisões políticas, com o estabelecimento de regimes autoritários que restringiram os direitos democráticos.
- c) A Constituição de 1934 marcou o início da ampliação da participação popular, introduzindo o voto feminino e estendendo os direitos políticos a um número maior de cidadãos.
- d) A Constituição de 1967 consolidou os avanços na participação popular, permitindo a organização de partidos políticos e a realização de eleições diretas para todos os cargos públicos.
- e) A Constituição de 1988, também conhecida como "Constituição Cidadã", representou um marco na história do país, ampliando os direitos e a participação popular, reconhecendo, por exemplo, a autonomia dos municípios e garantindo uma série de direitos sociais.

GEOGRAFIA GERAL E DO BRASIL

Sérgio Henrique

41. Considere o trecho de uma reportagem sobre a recente crise hídrica em alguns estados brasileiros:

Cinco estados brasileiros, entre eles São Paulo, enfrentam o que já é considerada a pior seca em 91 anos, de acordo com um comitê de órgãos do governo federal, que emitiu pela primeira vez na história um alerta de emergência hídrica para o período de junho a setembro de 2021. Mas por que tem chovido menos?

De acordo com especialistas, três fenômenos explicam a falta de chuvas no Brasil:

- O desmatamento da Amazônia;
- O aquecimento global causado por queima de combustíveis fósseis;
- O fenômeno natural La Niña.

(<https://g1.globo.com>)

Sobre os fenômenos que explicam a falta de chuvas no Brasil, citados na reportagem, pode-se afirmar que

- a) o aquecimento global acelera o ressecamento do solo nas regiões Sudeste e Sul do Brasil, comprometendo o desenvolvimento da vegetação nas matas de galeria, as quais garantem o volume das águas dos córregos, que por evaporação levam à formação de nuvens na região.
- b) o desmatamento da Amazônia expõe grandes áreas de solo antes cobertas por vegetação, o que resulta no escoamento superficial das águas das chuvas em direção aos rios e, conseqüentemente, em menor volume de água evaporada para a formação de nuvens, que seriam transportadas pelos ventos para as regiões Sudeste e Sul.
- c) o aquecimento global acelera a evaporação de água dos oceanos, intensificando a formação de nuvens que se precipitam como fortes chuvas nas regiões litorâneas do Brasil, o que reduz o volume de massas úmidas que chegam ao interior do país, diminuindo a pluviosidade.

d) o desmatamento da Amazônia resulta em menor volume de água devolvida para a atmosfera pela transpiração das árvores, alterando a umidade trazida pelos ventos vindos da região Norte para as regiões Sudeste e Sul do Brasil, os quais levam à formação de nuvens de chuva nessas regiões.

e) o fenômeno La Niña resulta do resfriamento das águas do oceano Atlântico e da temperatura atmosférica média na região equatorial do Brasil, o que diminui a taxa de transpiração pelas árvores e a consequente formação de nuvens que chegariam às regiões Sudeste e Sul do país.

42. Pertinente às ações de controle dos impactos da atividade humana e à preservação do meio ambiente, a compensação ambiental caracteriza-se como

a) um fundo privado utilizado para suprir as obrigações financeiras legais, respondendo aos registros, cadastros, serviços, infrações e multas em órgãos ambientais.

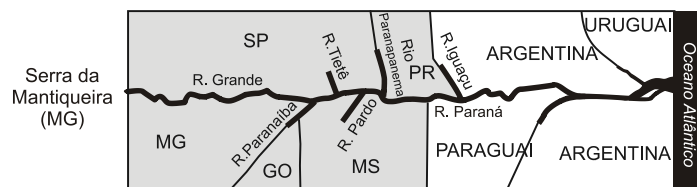
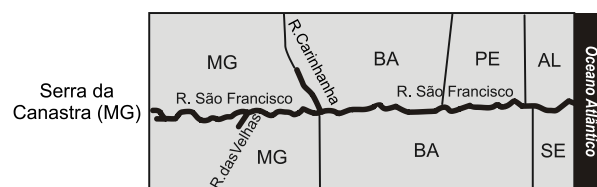
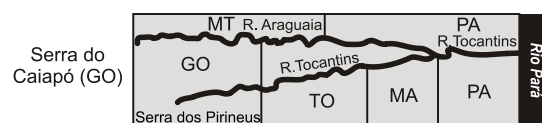
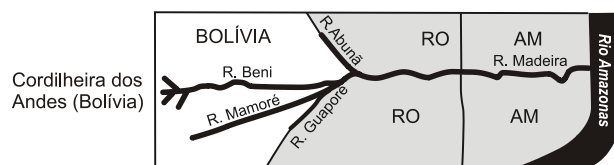
b) um inventário que antecede a realização das construções, focado em identificar, quantificar e minimizar as consequências negativas ao meio ambiente.

c) uma metodologia para identificar, averiguar e avaliar problemas ambientais, produzindo documentos sobre a operação e a manutenção de um agente poluidor.

d) um instrumento financeiro associado ao processo de licenciamento ambiental de construções, empregado para amenizar os impactos irreversíveis sofridos pelo meio ambiente.

e) uma garantia econômica perante a ocorrência de imprevistos, utilizada para custear o reparo de danos materiais, pessoais ou ambientais ocorridos

43. Observe os perfis longitudinais de importantes rios de algumas das bacias hidrográficas brasileiras.



(IBGE. Atlas Geográfico Escolar, 2009. Adaptado.)

As bacias hidrográficas identificadas nos perfis são, respectivamente,

a) Amazônica, Tocantins-Araguaia, Uruguai e Atlântico Nordeste Oriental.

b) Tocantins-Araguaia, Paraguai, Parnaíba e Atlântico Leste.

c) Atlântico Sudeste, Uruguai, Paraguai e Amazônica.

d) Amazônica, Tocantins-Araguaia, São Francisco e Paraná.

e) Atlântico Nordeste Oriental, Parnaíba, São Francisco e Paraná.

44. Pesquisadores da Universidade Federal do Paraná vêm testando o emprego de uma substância que impede a formação de óxido nitroso (N₂O). A dicianodiamida (DCD) bloqueia as reações que levam à formação desse gás ao inibir o processo de nitrificação que age sobre o amônio liberado no solo pela urina. Além de minimizar a formação do gás, o inibidor ainda apresenta outra vantagem: impede a formação de nitrato no solo.

(<https://cienciahoje.org.br>, 08.12.2014. Adaptado.)

Ao inibir a formação do gás N₂O e do nitrato no solo, o emprego da DCD poderá reduzir, respectivamente,

- a) a geada e a salinização.
- b) a chuva ácida e a calagem.
- c) o efeito estufa e a poluição de mananciais.
- d) o albedo e a ressurgência.
- e) a evapotranspiração e a laterização.

45. Com o fim da Guerra Fria, os EUA formalizaram sua posição hegemônica. Sem concorrência e se expandindo para as antigas áreas de predomínio socialista, o capitalismo conheceu uma nova fase de expansão: tornou-se mundializado, globalizado. O processo de globalização criou uma nova divisão internacional do trabalho, baseado numa redistribuição pelo mundo de fábricas, bancos e empresas de comércio, serviços e mídias.

Loriza L. de Almeida e Maria da Graça M. Magnoni (orgs.). *Ciências*

humanas: filosofia, geografia, história e sociologia, 2016. Adaptado.

Dentre as consequências do processo de globalização, é correto citar

- a) o nascimento do governo universal e democrático.
- b) a pacificação das relações internacionais.
- c) o enfraquecimento dos estados-nações.
- d) a abolição da exploração social do trabalho.
- e) o nivelamento econômico dos países.

ATUALIDADES

Rodolfo Gracioli

46. Escrita há mais de 60 anos, a música soma 442 versões, sendo assim a canção brasileira mais gravada de todos os tempos, segundo ranking divulgado pelo Ecad, entidade brasileira responsável pela arrecadação e distribuição de direitos autorais. Adaptado. (Fonte: Istoé, abril de 2023).

A música em questão é:

- a) “Aquarela do Brasil”, de Ary Barroso
- b) “Carinhoso”, de Braguinha e Pixinguinha
- c) “Asa Branca”, de Humberto Teixeira e Gonzagão
- d) “Manhã de Carnaval”, de Luiz Bonfá e Antonio Maria
- e) “Garota de Ipanema”, de Tom Jobim e Vinicius de Moraes

47. O órgão abriu um processo ético contra a Volkswagen e a AlmapBBDO, agência de publicitária responsável pela ação. O fato de ampla repercussão esteve entre os assuntos mais comentados das redes sociais. Sobre a polêmica propaganda, assinale a alternativa correta:

- a) A propaganda utilizou a estratégia do embranquecimento do corpo de atores e atrizes.
- b) A propaganda acabou por utilizar termos de caráter capacitista que atualmente não são mais toleráveis.
- c) A propaganda apresentou uma visão negacionista com relação às vacinas, com destaque para a covid-19.
- d) A propaganda defendeu movimentos climáticos negacionistas afastando a responsabilidade humana no aquecimento global.
- e) A propaganda utilizou inteligência artificial para reviver Elis Regina que contracenava com sua filha Maria Rita.

48. “Foi sancionada a lei (Lei 14.624) que formaliza o uso nacional da fita com desenhos como identificação de pessoas com deficiências ocultas, ou seja, aquelas que podem não ser percebidas de imediato. De acordo com a legislação, o uso do símbolo será opcional, mas não substitui a apresentação de documentos comprobatórios. O exercício dos direitos da pessoa com deficiência não estará condicionado ao acessório”. Adaptado. (Fonte: Senado, julho de 2023).

Trata-se de fita com desenhos de:

- a) Rosas
- b) Girassóis
- c) Magnólias
- d) Lírios
- e) Margaridas

49. “Trinta e cinco anos após promulgada, a Constituição brasileira foi traduzida pela primeira vez para uma língua indígena. Patrocinada pelo Supremo Tribunal Federal (STF) e pelo Conselho Nacional de Justiça (CNJ), a nova versão da Carta Magna foi lançada nesta quarta-feira (19) no município de São Gabriel da Cachoeira (AM), em uma cerimônia na maloca da Federação das Organizações Indígenas do Rio Negro (FOIRN)”. Adaptado. (Fonte: Agência Brasil, julho de 2023).

A língua indígena em questão é:

- a) Nheengatu
- b) Terena
- c) Xavante
- d) Yanomami
- e) Mawé

50. Atletas transexuais femininas que fizeram a transição após a puberdade masculina não poderão mais competir na modalidade. A decisão veio depois que Austin Killips se tornou a primeira mulher abertamente transgênero a vencer um evento oficial. A modalidade em questão que avançou no veto é:

- a) Natação
- b) Surfe
- c) Ciclismo
- d) Halterofilismo
- e) Automobilismo

NOÇÕES BÁSICAS DE INFORMÁTICA

Emannuelle Gouveia

51. No Windows existe uma nova funcionalidade chamada Cortana. A sua tarefa é:

- a) Atualizar a data e a hora do sistema.
- b) Manter o Sistema Operacional atualizado.
- c) Ativar os recursos de defesa de rede quando necessário.
- d) É a assistente virtual do Windows e utiliza tecnologia de Inteligência Artificial Cognitiva.
- e) Controla as notificações

52. No Word, temos o recurso de Quebra de Seção que é utilizado para a criação de áreas de edição independentes no texto. Das letras abaixo, marque aquela que contem tipos de quebra de seção válidos:

- a) Contínuo; Página Par.
- b) Página Impar; Página Dupla.
- c) Contínuo; Duplo.
- d) Próxima Página; Mesclado.
- e) Página Dupla; Próxima Seção.

53. Para exibir macros, no Excel, devemos pressionar a tecla:

- a) ALT + F8
- b) F3.
- c) CTRL + F2
- d) F1.
- e) F6

54. O protocolo responsável por o envio de mensagens de email é o:

- a) SMTP.
- b) POP
- c) HTTP
- d) IRC.
- e) FTP

55. No Google Chrome para abrir uma nova guia devemos usar que combinação de teclas:

- a) CTRL + A
- b) CTRL + T.
- c) Shift + N.
- d) CTRL + F
- e) Alt + T.

ADMINISTRAÇÃO PÚBLICA

Emerson Bruno

56. Belmiro está sendo investigado pela prática de tortura, tráfico e terrorismo simultaneamente. De acordo com a CF88, os referidos crimes são:

- a) inafiançáveis e insuscetíveis de graça ou anistia.
- b) inafiançáveis e imprescritíveis.
- c) insuscetíveis de graça ou anistia e imprescritíveis.
- d) afiançáveis e suscetíveis de graça ou anistia.
- e) afiançáveis e prescritíveis.

57. Manuela, moradora de Botucatu, deseja provocar o controle judicial da Administração Pública em razão de irregularidades ocorridas no município. Ao escolher a Ação Popular como instrumento de combate às supostas lesões contratou um advogado que lhe informou que a ação popular NÃO pode ser proposta:

- a) contra ato lesivo ao meio ambiente.
- b) contra ato lesivo à moralidade administrativa.
- c) contra a falta de elaboração de norma regulamentadora dos direitos fundamentais.
- d) contra ato lesivo ao patrimônio histórico.
- e) contra ato lesivo às instituições de que o Estado participe.

58. De acordo com a Constituição Federal, assinale a alternativa correta.

- a) Ninguém será preso senão em flagrante delito ou por ordem escrita e fundamentada de autoridade judiciária competente, salvo nos casos de transgressão militar ou crimes hediondos, assim definidos em lei.
- b) São gratuitos para os reconhecidamente pobres, na forma da lei, o registro civil de nascimento e a certidão de óbito.
- c) Com fundamento na soberania, o Brasil não se submete à jurisdição do Tribunal Penal Internacional.
- d) Ninguém será levado à prisão ou nela mantido, quando a lei admitir a liberdade provisória, desde que com fiança.
- e) A prisão ilegal será imediatamente revogada pela autoridade judiciária.

59. Maria Helena, 35 anos de idade, é brasileira naturalizada, brilhante advogada com seis livros publicados e mais de quinze anos de efetiva atividade profissional, com notável saber jurídico e reputação ilibada. De acordo com a Constituição Federal, Maria poderá ocupar cargo de

- a) Ministra de Estado da Defesa.
- b) Oficial das Forças Armadas.
- c) Ministra do Supremo Tribunal Federal.
- d) Ministra do Superior Tribunal de Justiça.
- e) Presidente do Senado Federal.

LEI DE ACESSO À INFORMAÇÃO

Fabiano Pereira

60. Considere as seguintes afirmações acerca da Lei n.º 12.527/2011 - Acesso à Informação:

- I. Cabe aos órgãos e entidades do poder público, observadas as normas e procedimentos específicos aplicáveis, assegurar a proteção da informação sigilosa e da informação pessoal, observada a sua disponibilidade, autenticidade, integridade e eventual restrição de acesso;
- II. O acesso à informação de que trata esta Lei compreende, entre outros, os direitos de obter informações contidas em registros ou documentos, produzidos ou acumulados por seus órgãos ou entidades, desde que tenham sido recolhidas a arquivos públicos;
- III. Qualquer interessado poderá requerer o acesso a informações aos órgãos e entidades referidos no art. 1º da Lei Federal nº 12.527/2011, devendo o pedido conter a identificação do requerente, a especificação da informação requerida e os motivos determinantes da solicitação de informações de interesse público;
- IV. As entidades privadas sem fins lucrativos que recebem recursos públicos diretamente do orçamento ou mediante subvenções sociais têm o dever de garantir o acesso a informações

relacionadas à parcela dos recursos públicos recebidos e à sua destinação;

- V. No caso de indeferimento de acesso a informações ou às razões da negativa do acesso, poderá o interessado interpor recurso contra a decisão no prazo de 5 (cinco) dias a contar da sua ciência.

Dentre as afirmativas apresentadas quais estão corretas em seu inteiro teor?

- a) I
- b) II e III
- c) II, III e IV
- d) II, III e V
- e) I e IV

NÃO É ASSINANTE?

Confira nossos planos, tenha acesso a milhares de cursos e participe gratuitamente dos projetos exclusivos. Clique no link!

<https://bit.ly/Estrategia-Assinaturas>

CONHEÇA NOSSO SISTEMA DE QUESTÕES

Estratégia Questões nasceu maior do que todos os concorrentes, com mais questões cadastradas e mais soluções por professores. Clique no link e conheça!

<https://bit.ly/Sistemas-de-Questões>
