



Simulado Especial

Soldado da Polícia Militar de São Paulo

Simulado

Simulado Polícia Militar de São Paulo

Nome: _____

INFORMAÇÕES SOBRE O SIMULADO

- 1 - Este simulado conta com questões focadas no concurso Polícia Militar de São Paulo;
- 2 - A prova contém itens que abordam conhecimentos cobrados no edital do concurso;
- 3 - As questões são inéditas e foram elaboradas pelos nossos professores com base no perfil da banca organizadora;
- 4 - Os participantes têm das **8:00** às **13:30** para responder às questões e preencher o Gabarito Eletrônico;
- 5 - O link para preencher o formulário com seu gabarito está localizado logo abaixo destas informações;

PREENCHA SEU GABARITO

<https://bit.ly/Simulado-PM-SP-26-08>

- | | | |
|--------------------------|--------------------------|--------------------------|
| 01 – (A) (B) (C) (D) (E) | 20 – (A) (B) (C) (D) (E) | 41 – (A) (B) (C) (D) (E) |
| 02 – (A) (B) (C) (D) (E) | 21 – (A) (B) (C) (D) (E) | 42 – (A) (B) (C) (D) (E) |
| 03 – (A) (B) (C) (D) (E) | 22 – (A) (B) (C) (D) (E) | 43 – (A) (B) (C) (D) (E) |
| 04 – (A) (B) (C) (D) (E) | 23 – (A) (B) (C) (D) (E) | 44 – (A) (B) (C) (D) (E) |
| 05 – (A) (B) (C) (D) (E) | 24 – (A) (B) (C) (D) (E) | 45 – (A) (B) (C) (D) (E) |
| 06 – (A) (B) (C) (D) (E) | 25 – (A) (B) (C) (D) (E) | 46 – (A) (B) (C) (D) (E) |
| 07 – (A) (B) (C) (D) (E) | 26 – (A) (B) (C) (D) (E) | 47 – (A) (B) (C) (D) (E) |
| 08 – (A) (B) (C) (D) (E) | 27 – (A) (B) (C) (D) (E) | 48 – (A) (B) (C) (D) (E) |
| 09 – (A) (B) (C) (D) (E) | 28 – (A) (B) (C) (D) (E) | 49 – (A) (B) (C) (D) (E) |
| 10 – (A) (B) (C) (D) (E) | 29 – (A) (B) (C) (D) (E) | 50 – (A) (B) (C) (D) (E) |
| 11 – (A) (B) (C) (D) (E) | 30 – (A) (B) (C) (D) (E) | 51 – (A) (B) (C) (D) (E) |
| 12 – (A) (B) (C) (D) (E) | 31 – (A) (B) (C) (D) (E) | 52 – (A) (B) (C) (D) (E) |
| 13 – (A) (B) (C) (D) (E) | 32 – (A) (B) (C) (D) (E) | 53 – (A) (B) (C) (D) (E) |
| 14 – (A) (B) (C) (D) (E) | 33 – (A) (B) (C) (D) (E) | 54 – (A) (B) (C) (D) (E) |
| 15 – (A) (B) (C) (D) (E) | 34 – (A) (B) (C) (D) (E) | 55 – (A) (B) (C) (D) (E) |
| 16 – (A) (B) (C) (D) (E) | 35 – (A) (B) (C) (D) (E) | 56 – (A) (B) (C) (D) (E) |
| 17 – (A) (B) (C) (D) (E) | 36 – (A) (B) (C) (D) (E) | 57 – (A) (B) (C) (D) (E) |
| 18 – (A) (B) (C) (D) (E) | 37 – (A) (B) (C) (D) (E) | 58 – (A) (B) (C) (D) (E) |
| 19 – (A) (B) (C) (D) (E) | 38 – (A) (B) (C) (D) (E) | 59 – (A) (B) (C) (D) (E) |
| 20 – (A) (B) (C) (D) (E) | 39 – (A) (B) (C) (D) (E) | 60 – (A) (B) (C) (D) (E) |
| | 40 – (A) (B) (C) (D) (E) | |

**LÍNGUA PORTUGUESA E INTERPRETAÇÃO
DE TEXTO**

Janaina Arruda

“Eram de mármore branco as escadarias que subíamos e descíamos correndo, na casa-grande onde nascemos – o nosso mundo, cercado de jardins e, aos fundos, o imenso quintal. As escadas brancas nos levavam para outro país, para a rua, aquela pacata rua chamada Benjamim Constant, em Belém do Pará, que para nós parecia apenas um trecho sem importância, diante de nosso mundo povoado de tanta gente, muita árvores.”

(Eneida de Moraes, “Muitas Árvores”)

01. Como se explica a afirmação da narradora de que as escadas brancas os levavam para outro país?

- a) Belém era um mundo desconhecido pela narradora, que nunca havia viajado para o exterior.
- b) O mármore branco das escadarias impressionava a narradora, que sonhava em conhecer outros países.
- c) Os jardins e o imenso quintal da casa-grande lembravam os suntuosos cenários dos palácios europeus.
- d) As escadas separavam o mundo da narradora do mundo exterior, tratado conotativamente como um outro país.
- e) A rua ficava na fronteira entre a cidade e o exterior, o que levou a narradora a surpreender-se ao sair de casa.

“Estou de volta a Belém, cidade que elegi como a número um do país. Desta vez vim com Mércia, minha irmã. E antes que me censurem, quero dizer que sei que a cidade tem problemas. Mas as cidades são como as pessoas. Algumas nos provocam amor à primeira vista, outras só percebemos que amamos com o passar do tempo, há ainda aquelas que serão amadas por toda a vida, desde o primeiro instante. Pessoas e cidades existem que, mesmo tendo defeitos, são amadas por nós. Não fosse assim, e o que seria de nossa vida? Só conviveríamos com seres perfeitos? Seria uma chatice viver no céu em vida.”

(Risomar Fasanaro, “De Volta a Belém do Pará”)

02. O cronista refuta antecipadamente qualquer censura que lhe possam fazer quanto ao fato de

- a) estar de volta a Belém.
- b) ter viajado com sua irmã.
- c) reconhecer que a cidade tem problemas.
- d) gostar de cidades e pessoas com defeitos.
- e) ter escolhido Belém como a cidade número um do país.

“Passeio ciclístico de Mojuí a Santarém. O percurso do passeio até a cidade de Santarém será longo, e os participantes vão passar por dois ramais. Iniciarão pelo Ramal do Cupu, cortando pelo Me Leva, indo em direção à Rodovia BR-163, descendo para a Avenida Cuiabá, em seguida a Avenida Tapajós, finalizando na Praça do Pescador, onde haverá um acolhimento dos familiares e amigos, que vão distribuir lanche aos esportistas.”

(GAZETA DE SANTARÉM, 11 de janeiro de 2014)

03. Considerando exclusivamente as informações contidas na notícia acima, é possível afirmar que o passeio ciclístico

- a) começa numa cidade afastada de Santarém, às margens da BR-163.
- b) tem um percurso extenso e é promovido pelas autoridades municipais.
- c) percorrerá vias públicas, estradas e atalhos abertos no meio das plantações.
- d) será encerrado com um lanche, oferecido por amigos e familiares aos participantes.
- e) oferecerá aos vencedores um farto lanche preparado por amigos e familiares.

“Os solavancos que os mercados de câmbio e ações da China estão sofrendo são um reflexo do pessimismo que está se consolidando em todos os lados da segunda maior economia do mundo. Empresas nos centros manufatureiros no sul e no leste do país, que produzem de tudo, de dispositivos eletrônicos a produtos têxteis e móveis, reclamam da falta de pedidos e de pagamentos atrasados. Enquanto isso, os fabricantes de aço, cimento e vidro, motores da indústria pesada chinesa, permanecem sobrecarregados com excesso de capacidade acumulado durante os anos do boom.”

(VALOR ECONÔMICO, 08 de janeiro de 2016)

04. A notícia acima mostra que há um descompasso entre

- a) o mercado de câmbio e o mercado de ações.
- b) os centros manufatureiros do sul e do leste do país.
- c) os fabricantes de aço, cimento e vidro e os fabricantes de motores.
- d) os fabricantes de motores da indústria pesada e os centros manufatureiros.
- e) as empresas dos centros manufatureiros e os fabricantes de aço, cimento e vidro.

05. De acordo com as regras ortográficas em vigor, a única dupla de palavras corretamente hifenizadas é

- a) limpa-trilhos & lambe-lambe.
- b) mão-cheia & ama-de-leite.
- c) bico-de-gás & boca-de-ouro.
- d) dedo-duro & dedo-anular.
- e) agro-negócio & hidro-avião.

06. Assinale a única alternativa que mostra uma frase escrita inteiramente de acordo com as regras de acentuação gráfica vigentes.

- a) É pessimista o diagnostico do professor Alain Touraine da Escola de Altos Estudos da França sobre o estado do mundo.
 - b) Típico intelectual francês, Touraine engaja-se nos grandes temas contemporaneos e diz que o clima está ruim na Europa.
 - c) Ele acusa o presidente francês de só se preocupar com a própria reeleição e de viver uma situação de grande fragilidade.
 - d) A seu juízo, é nefasto o tratamento dado aos refugiados, com a volta das fronteiras no espaço de circulação europeu.
 - e) Diz que não há comunidade européia nenhuma, que há falta de interesse e de vontade, em vez de uma política forte.
-

07. As alternativas abaixo mostram trechos de uma notícia publicada no Valor Econômico transcritos com pontuações diferentes. Assinale a única que está rigorosamente correta quanto ao uso dos sinais de pontuação.

- a) Por ser majoritariamente exportadora, a indústria brasileira de celulose escapou dos efeitos negativos, da crise doméstica.
- b) E ao que tudo indica, também passará ao largo da desaceleração do crescimento da economia chinesa.
- c) Embora a Europa ainda seja o principal mercado, a China já é o maior comprador individual da celulose do país.
- d) Essa blindagem à celulose, deve-se ao fato de o consumo interno chinês permanecer em trajetória ascendente.
- e) A celulose brasileira é usada, principalmente para a produção de papéis para fins sanitários na China.

08. “ATENÇÃO! Rodovia em obras a frente. Saída a direita a 3 km. A Concessionária.”

Para essa mensagem ser escrita numa placa a ser colocada num trecho da estrada, só faltava verificar quantos acentos de crase tinham de ser adicionados, de acordo com as normas da língua-padrão. Feita a consulta a um especialista, foram colocados os acentos corretos, a saber:

- a) nenhum acento.
- b) um acento.
- c) dois acentos.
- d) três acentos.
- e) quatro acentos.

09. “HORÓSCOPO. É possível que você esteja inclinado a agir com tolerância e paciência, movido pela vontade de proporcionar o bem-estar. É tempo de se colocar no lugar do outro e compreender suas necessidades.”

Qual o papel sintático dos dois termos sublinhados no trecho acima. “com tolerância e paciência” e “pela vontade”?

- a) Ambos são objetos indiretos.
- b) Ambos são adjuntos adverbiais.
- c) Um é adjunto adverbial; outro é objeto indireto.
- d) Um é predicativo; outro é complemento nominal.
- e) Um é adjunto adverbial; outro é agente da passiva.

10. “O presidente do Fed de Richmond, Jeffrey Lacker, afirmou ontem que a inflação será o fator essencial para determinar quão agressivamente o banco central americano aumentará os juros nos próximos anos.”

A oração que termina o parágrafo acima é classificada sintaticamente como

- a) subordinada adverbial final.
 - b) subordinada adjetiva restritiva.
 - c) subordinada adverbial comparativa.
 - d) subordinada adverbial proporcional.
 - e) subordinada substantiva objetiva direta.
-

RESSUSCITE UM COMPUTADOR VELHO

Todo computador chega a esse dia. Você percebe que tem um calhambeque no colo, que leva 5 minutos para carregar a página da empresa, que é a mesma desde 1997. Mas um calhambeque ainda é capaz de levar você de A a B. Basta uma reforma.

MÉTODO 1

Restaure a configuração de fábrica. Lerdeza pode ser causada pelo zilhão de aplicativos que foram parar no computador e você nem sabe mais para (10) que instalou. Eles carregam a si próprios automaticamente e devoram memória e recursos do processador – que são preciosidades em computadores velhos. A opção para recuperar os padrões de fábrica geralmente aparece quando você (15) reinicia o computador e deixa apertada a tecla F8 enquanto ele começa a carregar. Se não funcionar, procure no manual. E não se esqueça: isso apaga todos seus arquivos. Copie aquilo que quer preservar para outro computador ou para a (20) internet antes de começar.

MÉTODO 2

Instale outro sistema operacional. Leva um tempo para se adaptar, mas o Linux pega muito mais leve com seu processador matusalém que o Windows. Baixe uma imagem de DVD (arquivo.iso) em (25) Ubuntu.com – o Ubuntu é a melhor versão para iniciantes. Grave um DVD com essa imagem, coloque no drive e reinicie o computador. A instalação deve começar automaticamente. Se você não quer aprender Linux, a opção é o Remix OS. (30) Ele é um sistema operacional leve, baseado em Android. Mesmo que seu computador seja da época de amarrar cachorro com linguiça, ele roda bem. É só baixar em jide.com/remixos. Em ambos os casos, você pode optar por dual boot, que mantém (35) o sistema antigo. É só escolher por não reformatar na instalação. Ressuscite um computador velho.

In: Dossiê Superinteressante. Faça você mesmo – 165 dicas, truques e macetes infalíveis. São Paulo. Abril. Edição 362-A, Junho/2016.

11. A ideia principal do texto é:

- a) a recuperação de computadores velhos.
- b) a inutilidade de computadores obsoletos.
- c) a indústria de reciclagem de computadores.
- d) o mau desempenho de computadores velhos.
- e) a destinação de computadores velhos para sucata.

12. As características do texto lido revelam que sua natureza é predominantemente:

- a) emotiva.
- b) dialogal.
- c) narrativa.
- d) descritiva.
- e) instrucional.

13. O propósito central do texto é:

- a) orientar o leitor para o descarte de tecnologias digitais obsoletas.
- b) alertar o leitor para o risco de perda de dados em máquinas antigas.
- c) convencer o leitor a fazer uma doação de seu computador desatualizado.
- d) dar dicas ao leitor para melhorar o desempenho de um computador velho.
- e) convencer o leitor a comprar um novo sistema operacional para seu computador.

14. Em Todo computador chega a esse dia. (linha 01), a expressão **esse dia** faz referência ao tempo em que todo computador:

- a) deixa de ligar.
- b) fica muito lento.
- c) deve ser descartado
- d) contrai inúmeros vírus.
- e) não atende os comandos.

15. Em: A opção para recuperar os padrões de fábrica geralmente aparece quando você reinicia o computador e deixa apertada a tecla F8 **enquanto** ele começa a carregar, o vocábulo **enquanto** explicita uma relação de:

- a) causalidade.
- b) comparação.
- c) consequência.
- d) simultaneidade.
- e) condicionalidade.

16. Após recomendar uma sequência de procedimentos, o autor afirma: A instalação **deve** começar automaticamente.. Com a forma verbal **deve**, o autor prevê o início da instalação automática como algo:

- a) provável.
- b) desejável.
- c) garantido.
- d) permitido.
- e) obrigatório.

17. A oração em destaque em: **Se você não quer aprender Linux**, a opção é o Remix OS. classifica-se como adverbial:

- a) final.
- b) causal.
- c) concessiva.
- d) condicional.
- e) consecutiva.

18. A função sintática do termo destacado na frase: O Ubuntu é **a melhor versão para iniciantes** é:

- a) objeto direto.
- b) adjunto adverbial.
- c) adjunto adnominal.
- d) predicativo do objeto.
- e) predicativo do sujeito.

19. Assinale a alternativa em que todas as palavras estão corretamente grafadas.

- a) Alguns computadores velhos não têm mais conserto.
- b) É excessivo o número de aplicativos desnecessários.
- c) O calhambeque é uma excessão entre os carros antigos.
- d) Parece possível fazer a ressurreição de um computador.
- e) É fácil instalar assessórios de Informática no computador.

20. Nas frases: ...o Linux pega muito mais **leve** com seu processador matusalém... e Ele é um sistema operacional **leve**..., o vocábulo leve é classificado, respectivamente, como:

- a) verbo e advérbio.
- b) adjetivo e advérbio.
- c) advérbio e adjetivo.
- d) substantivo e verbo.
- e) preposição e conjunção.

MATEMÁTICA

Eduardo Mocellin

21. Em maio de 2023, uma loja em liquidação decidiu reduzir os preços dos seus produtos em 20%. No mês seguinte, por conta da alta demanda, a loja decidiu reajustar os preços em 20%. Com relação aos preços praticados antes da liquidação de maio, pode-se afirmar que, nos dois meses considerados, houve:

- a) uma queda de 4%
- b) uma queda de 2,5%
- c) um aumento de 4%
- d) um aumento de 2,5%
- e) um aumento de 1,5%

22. Para numerar as páginas de um livro a partir da primeira página até a última, foram utilizados 411 algarismos. O número de páginas desse livro é:

- a) 166
- b) 173
- c) 178
- d) 183
- e) 186

23. Em um curso para formação de especialistas em coaching quântico, $\frac{2}{5}$ dos alunos matriculados são homens. Em um determinado dia de aula, $\frac{1}{3}$ dos homens matriculados e $\frac{4}{5}$ das mulheres matriculadas compareceram, totalizando 230 alunos presentes.

O total de mulheres matriculadas é:

- a) 75
- b) 150
- c) 225
- d) 375
- e) 400

24. Em um batalhão da PM SP, 220 militares são oficiais ou praças. São 3 oficiais para cada 17 praças. Após a realização de concurso público, a vinda de 7 oficiais e de 13 praças para o batalhão fez com que a razão de oficiais para praças se tornasse:

- a) $\frac{1}{5}$
- b) $\frac{3}{11}$
- c) $\frac{1}{6}$
- d) $\frac{4}{13}$
- e) $\frac{3}{17}$

25. O consumo de vinho no Brasil tem crescido nos últimos anos, mas ainda é relativamente baixo em comparação com outros países produtores de vinho. De acordo com dados da Associação Brasileira de Sommeliers (ABS), o consumo médio per capita de vinho no Brasil é de cerca de 2 litros por ano, o que representa uma pequena fração do consumo de países como França, Itália e Portugal.

(Fonte:

<https://oqlobo.globo.com/patrocinado/dino/noticia/2023/04/brasileiro-consome-em-media-dois-litros-de-vinho-por-ano.ghtml>)

Considere que no ano de 2022 os brasileiros consumiram 380 milhões de litros de vinho de origem nacional e 47 milhões de litros de vinhos importados. Considere, ainda, que a procedência dos vinhos importados é a seguinte:

País	Percentual	País	Percentual
Itália	23%	Alemanha	13%
Portugal	20%	Argentina	6%
Chile	16%	Outros	6%
França	16%	-	-

O valor aproximado do número de litros de vinho consumidos que foram importados do Chile, da França e da Alemanha, com relação ao total de litros de vinho consumidos pelos brasileiros, corresponde ao seguinte percentual:

- a) 2,2%
- b) 2,5%
- c) 3,8%
- d) 4,2%
- e) 5,0%

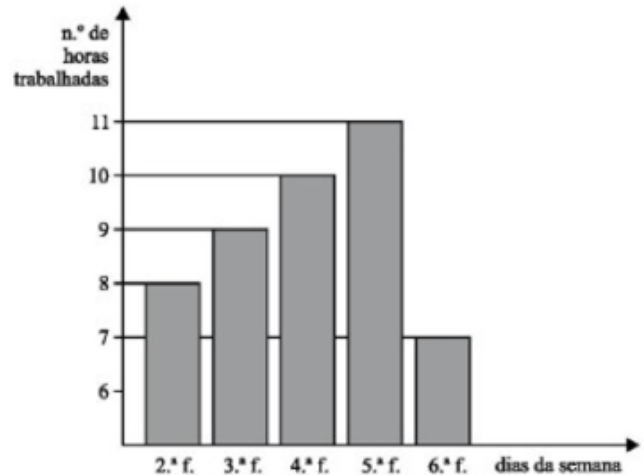
26. Um reservatório de água no formato de paralelepípedo reto-retângulo apresenta as seguintes dimensões: 160 centímetros, 0,12 decâmetro e $\frac{4}{5}$ do metro. O número de litros de água necessários para ocupar 75% da capacidade desse reservatório é

- a) 115,2
- b) 153,6
- c) 1152
- d) 1536
- e) 11520

27. Arnaldo corta a grama de um terreno de 154,50 m² em 4 horas. Nas mesmas condições, Arnaldo cortaria 212,438 m² de grama em, aproximadamente:

- a) 4h 30min
- b) 4h 45mn
- c) 5h
- d) 5h 15min
- e) 5h 30min

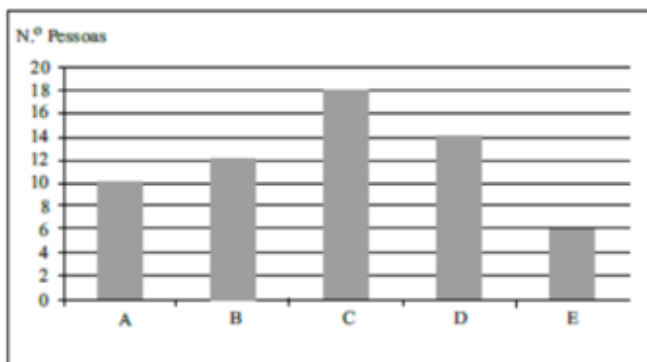
28. O número de horas trabalhadas por um Policial Militar que trabalha no setor administrativo está registrado no gráfico a seguir:



A média aritmética de horas diárias trabalhadas pelo Policial Militar, de 2ª a 6ª feira, é:

- a) 9,25
- b) 9,00
- c) 8,75
- d) 8,50
- e) 8,25

29. Em determinado cinema, o gerente do local anotou durante uma tarde de segunda-feira o número de pessoas que foram assistir a um determinado filme por tipo de sala, e os dados foram representados no gráfico a seguir. Além disso, tabela a seguir mostra o preço do ingresso para cada tipo de sala.

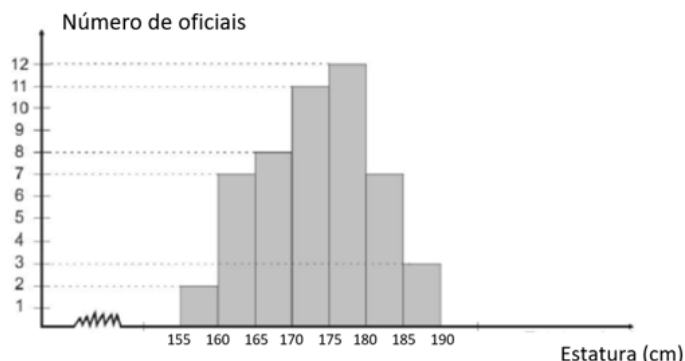


Tipo de Sala	Descrição	Preço
A	Super premium 3D	R\$ 125,00
B	Super premium 2D	R\$ 100,00
C	Premium 3D	R\$ 62,50
D	Premium 2D	R\$ 50,00
E	Comum 2D	R\$ 37,50

Analisando os dados apresentados, conclui-se que o total arrecadado nas salas A, C e E, juntas, supera o valor arrecadado pelas salas B e D juntas em:

- a) R\$ 650,00
- b) R\$ 662,50
- c) R\$ 675,00
- d) R\$ 687,50
- e) R\$ 700,00

30. Em um dos comandos da PM SP, elaborou-se o seguinte gráfico relativo à estatura dos oficiais.



A partir do gráfico apresentado, é correto concluir que:

- a) Aproximadamente 53,48% dos oficiais estão com altura entre 170 e 180cm.
- b) Esse comando da PM SP é composto por 44 oficiais.
- c) 30% dos oficiais têm menos de 1,70 metro de altura
- d) Temos o mesmo número de oficiais enquadrados nas faixas de altura de: 165 a 170cm; 160 a 165cm e 180 a 185cm.
- e) 1/5 dos oficiais desse comando medem mais de 1,80 metro.

31. Tenho três éguas: Elizabeth, Xi Jinpingha e Pavlova. A Elizabeth consome o dobro da ração que a Xi Jinpingha consome e esta, por sua vez, o triplo da ração da Pavlova. Se a Pavlova consome 910 gramas de ração por semana (sete dias), pode-se concluir que, num mês de 31 dias, eu gasto, em ração:

- a) 40,30 kg
- b) 12,09 kg
- c) 41,21 kg
- d) 24,18 kg
- e) 36,12 kg

32. De uma caixa que continha 200 bombons, Arnaldo retirou B bombons. Ele reparou então que dividindo esses B bombons em grupos de 9 ou em grupos de 12 ou em grupos de 15 bombons, sempre sobrava 1 bombom.

A soma dos algarismos desse número B é:

- a) 8
- b) 10
- c) 12
- d) 13
- e) 14

33. Joaquim, ao renovar o estoque de sua livraria, dispôs 48 livros iguais em pilhas, formando originalmente um cubo de aresta igual a 0,5m. Para formar um cubo de 1m de aresta a partir do cubo original, a quantidade de livros adicionais que serão necessários é:

- a) 144
- b) 240
- c) 288
- d) 336
- e) 384

34. A compra de 7 bolas de futebol, sendo 3 da marca A e 4 da marca B, ficou em R\$ 468,00. Sabendo-se que a bola da marca A custa R\$ 12,00 a menos que a bola da marca B, se tivessem sido compradas somente bolas da marca B, o total gasto teria sido de

- a) R\$ 252,00.
- b) R\$ 228,00.
- c) R\$ 204,00.
- d) R\$ 288,00.
- e) R\$ 284,00.

35. Um triângulo retângulo apresenta catetos de medidas b e c e hipotenusa de medida a . Sabe-se que a razão entre o b e a é $12/13$. Além disso, a soma dos valores a e b é 75. Nesse caso, c vale:

- a) 13
- b) 14
- c) 15
- d) 16
- e) 17

HISTÓRIA GERAL E DO BRASIL

Alessandra Lopes

36. Após o período de Getúlio Vargas, a Constituição Brasileira de 1946 representou um marco na história política do Brasil. Ela trouxe importantes mudanças e definições para o país.

Sobre a Constituição Brasileira de 1946, afirma-se corretamente que

- a) A Constituição de 1946 manteve o Estado Novo, um regime autoritário, que perpetuou o governo de Vargas por mais uma década.
 - b) Ela restringiu o direito de voto apenas a homens maiores de 30 anos, excluindo mulheres do processo eleitoral.
 - c) A Constituição de 1946 estabeleceu o presidencialismo como forma de governo, substituindo o parlamentarismo adotado anteriormente.
 - d) A Constituição de 1946 garantiu a liberdade de expressão e de imprensa.
 - e) Ela consolidou a centralização do poder nas mãos do presidente, enfraquecendo o Congresso Nacional.
-

37. O governo Vargas instituiu pela primeira vez no Brasil uma legislação trabalhista, ao mesmo tempo, ele procurou estabelecer um controle sobre a ação dos sindicatos, criando em 1931 a Lei de Sindicalização, que ganhou novas regras a partir de 1937 com a criação do Estado Novo. Sobre as regras para os sindicatos podemos afirmar que

(ARRUDA, José Jobson de A. PILETTI, Nelson. Toda a História: História geral e História do Brasil. 13. ed. São Paulo: Ática, 2007.p.502)

- a) havia liberdade de criação e administração dos sindicatos por parte dos trabalhadores, sem interferência do Estado
- b) o objetivo era transformar os sindicatos em colaboradores do Estado
- c) atividades políticas eram permitidas nos sindicatos
- d) funcionários públicos também podiam se sindicalizar
- e) era permitida a ligação entre categorias sindicais para fortalecê-los

38. Sobre o período do chamado "milagre" econômico, ocorrido durante a ditadura militar no Brasil, é correto afirmar que:

(SERIACOPI, Reinaldo. AZEVEDO, Gislaine. História: Série Brasil. São Paulo: Ática, 2005.p.483-484)

- a) Constituiu um período de crescimento econômico sustentável que posicionou o Brasil como uma grande potência.
- b) Fundamentou-se na abertura do mercado ao capital estrangeiro e às multinacionais, adotando uma política contrária ao desenvolvimento de empresas estatais.
- c) Teve um papel crucial na realização de grandes obras monumentais, como a hidrelétrica de Itaipu, a Petrobrás e a Ponte Rio-Niterói.
- d) Se viabilizou por meio de empréstimos obtidos a taxas de juros baixas em instituições financeiras estrangeiras.
- e) Além de impulsionar o progresso econômico, também promoveu avanços sociais, elevando o poder de compra das camadas mais desfavorecidas por meio de uma distribuição de renda mais equitativa.

39. Em março de 1983, foi apresentado à Câmara dos Deputados projeto de emenda à Constituição que restabelecia as eleições diretas para presidente da República. O projeto ficou conhecido como

(ARRUDA, Jose Jobson de. PILETTI, Nelson. Toda a História. História Geral e História do Brasil. pag.603)

- a) Movimento pelas Diretas Já
 - b) Projeto de Emenda Constitucional Dante de Oliveira
 - c) Política do Pacote de abril
 - d) Grande Passeata dos Cem Mil
 - e) Grupo Bandeirantes
-

40. Em julho de 1945, com a rendição alemã, realizou-se na Alemanha a Conferência de Potsdam, que contou com a participação de representantes das potências vitoriosas na guerra. Nessa conferência, decidiu-se que o território alemão seria dividido em quatro zonas de ocupação. Posteriormente, em 1949, o mesmo território foi dividido em dois países.

(COTRIM, Gilberto. História Global: Brasil e geral. 10. ed. São Paulo: Saraiva, 2012. p.611-612)

Sobre o contexto histórico da divisão da Alemanha após a Segunda Guerra Mundial, podemos afirmar que:

- a) O Muro de Berlim foi construído pelos Estados Unidos para dividir a Alemanha em duas zonas de ocupação.
- b) A Conferência de Potsdam resultou na ocupação da Alemanha por cinco zonas de influência.
- c) A Alemanha Oriental, sob influência dos Estados Unidos, tornou-se um país independente em 1949.
- d) O Muro de Berlim foi inicialmente construído para conter uma invasão russa.
- e) A divisão da Alemanha em dois países, a RDA e a RFA, ocorreu em 1949, sob influência da União Soviética e dos Estados Unidos.

GEOGRAFIA GERAL E DO BRASIL

Sérgio Henrique

41. Considere o excerto e a imagem.

Com as chuvas, o solo é lavado, ou seja, sua camada superficial é removida, e os sedimentos (partículas de solo e rochas) são transportados por escoamento em direção aos rios, onde são depositados no fundo das redes de drenagem.

(<https://saae.sp.gov.br>. Adaptado.)



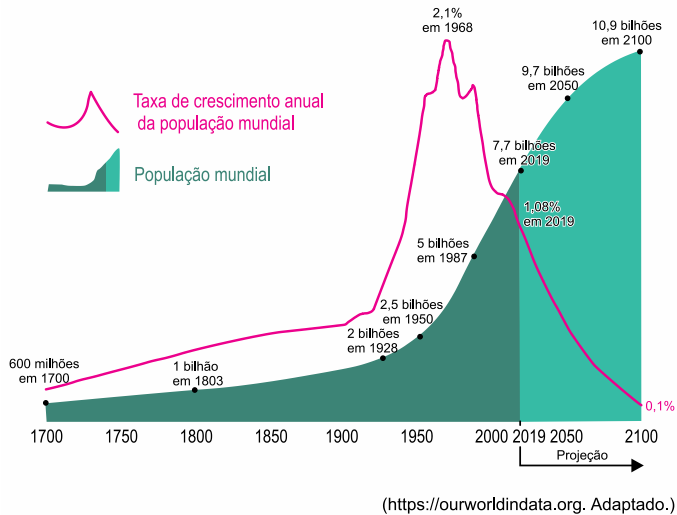
(<https://ecoa.org.br>)

O processo descrito no excerto e uma de suas consequências são, respectivamente:

- a) calagem e formação de curvas de nível.
- b) dessalinização e controle da escassez hídrica.
- c) salinização e proliferação de algas no rio.
- d) eutrofização e carência de oxigênio no rio.
- e) assoreamento e obstrução parcial do curso do rio.

42. Analise o gráfico.

Crescimento populacional mundial, 1700-2100



A análise do gráfico mostra que o período de

- a) transição demográfica está em processo de encerramento.
- b) crescimento migratório está em processo de decréscimo.
- c) explosão demográfica está em processo de estabilização.
- d) crescimento vegetativo está em processo de intensificação.
- e) bônus demográfico está em processo de diminuição.

43. Analise o mapa que se refere a um índice global.



(<https://knoema.fr>. Adaptado.)

Considerando a espacialização dos dados e conhecimentos sobre a globalização, o índice medido em 2017 e um dos fatores mensurados por ele em cada país são, respectivamente:

- a) competitividade global e produtividade.
- b) desenvolvimento humano e distribuição de renda.
- c) desenvolvimento sustentável e biodiversidade.
- d) Gini e concentração de renda.
- e) consumo de recursos naturais e padrões de consumo.

44. Nas atividades cotidianas de indústrias, de empresas ou de pessoas em suas residências, o empenho pelo aumento da eficiência energética pode contribuir para

- a) reestruturar sistemas de produção e reduzir as possibilidades de as sociedades usufruírem de seus bens.
- b) ampliar a dependência global por petróleo e redesenhar as alianças políticas alinhadas ao seu consumo.
- c) contornar o déficit global por energia e redistribuir os recursos entre os países de maneira igualitária.
- d) valorizar a oferta de fontes renováveis e extinguir gastos com subsídios públicos ao setor energético.
- e) otimizar os recursos energéticos e reduzir os impactos ambientais relacionados à sua produção.

45. O advento de chefes de **Estado-empresa** marca uma transição sistêmica entre o enfraquecimento do **Estado-nação** e o fortalecimento da corporação apoiada em sua **racionalidade técnico-econômica e gerencial**. Essa transferência leva, por um lado, ao esvaziamento do Estado, reduzido à administração e à gestão, e, de outro, à politização da empresa, que expande sua esfera de poder muito além de sua atividade tradicional de produção. A corporação tende a se tornar o novo poder político-cultural.

(Pierre Musso. “Na era do Estado-empresa”. <http://diplomatie.org.br>, 30.04.2019. Adaptado.)

Coerentes com o neoliberalismo, as propostas do Estado-empresa convergem para

- a) a apropriação das forças produtivas pelo Estado e a defesa da igualdade social.
- b) o pluralismo democrático e a redistribuição de renda por programas de assistência social.
- c) a regulamentação da força de trabalho e a defesa da produção flexível.
- d) o protecionismo econômico e a implantação de políticas fiscais contra a inflação.
- e) a adoção de privatizações e a mínima intervenção do Estado na economia.

ATUALIDADES

Leandro Signori

46. Os itens I e II descrevem duas grandes artistas brasileiras que faleceram no ano de 2023.

I. Uma das maiores cantoras e compositoras da história do Brasil morreu na segunda-feira, 8 de março. Enquanto artista, ela ajudou a incorporar a revolução do rock à explosão criativa do tropicalismo, formou a banda brasileira de rock mais cultuada no mundo, os Mutantes, e criou canções na carreira solo com enorme apelo popular sem perder a liberdade e a irreverência.

II. Morreu no dia 6 de junho a cantora e compositora ícone da Bossa Nova, aos 83 anos. A artista fez sucesso logo na sua primeira gravação, a versão em inglês para 'Garota de Ipanema' — e foi justamente sua 'Girl from Ipanema' que tornou o movimento conhecido internacionalmente.

As descrições referem-se, respectivamente, à:

- a) Gal Costa e Astrud Gilberto.
 - b) Nara Leão e Rita Lee.
 - c) Rita Lee e Gal Costa.
 - d) Rita Lee e Astrud Gilberto.
 - e) Gal Costa e Nara Leão.
-

47. O presidente do Equador, Guillermo Lasso, lançou mão de um mecanismo constitucional e dissolveu a Assembleia Nacional do Equador na quarta-feira, 17 de maio, como uma forma de evitar que o processo de impeachment que ele respondia fosse adiante.

Além de dissolver a Assembleia Nacional do Equador, o mecanismo invocado pelo presidente também prevê que

- a) novas eleições para presidente sejam realizadas dentro de um prazo de 90 dias.
- b) uma assembleia constituinte seja convocada no país.
- c) o presidente deixará o cargo e escolherá o sucessor dentro de um ano.
- d) o poder Executivo possua poderes absolutos, podendo governar por decreto e sem interferência da Justiça.
- e) um referendo de consulta à população decidirá se a medida se mantém ou será descontinuada.

48. “A cidade de Campinas, no interior de São Paulo, registra um surto de febre maculosa. Os casos foram registrados na Fazenda Santa Margarida, no distrito de Joaquim Egídio, região leste da cidade, área com risco de transmissão da doença.”

Disponível em: <https://tinyurl.com/3rjpde46>.
Publicado em 14/06/2023. Acesso em 21/08/2023.

A febre maculosa é uma doença transmitida por:

- a) Mosquitos.
- b) Pulgas.
- c) Ácaros.
- d) Carrapatos.
- e) Abelhas.

49. A Rússia viveu horas tensas entre os dias 23 e 24 de junho, quando um motim da milícia de mercenários do grupo Wagner tomou as instalações militares em Rostov, no sul do país, e avançou em direção a Moscou.

A respeito do grupo Wagner e do motim de mercenários na Rússia, assinale a opção correta:

- a) O estopim do motim foi a quebra de contrato entre o grupo mercenário e o governo russo promovido por Vladimir.
 - b) O presidente de Belarus, Alexander Lukashenko, mediou um acordo entre o governo russo e o grupo Wagner para conter a ofensiva dos mercenários.
 - c) O grupo Wagner é composto exclusivamente por ex-militares das forças armadas da Rússia e de países aliados.
 - d) A Rússia é o único país a utilizar mercenários em conflitos armados pelo mundo.
 - e) O grupo Wagner surgiu em 2022, fundado por Yevgeny Prigozhin, para apoiar a invasão russa na Ucrânia.
-

50. “Depois de 30 anos de discussão, a Câmara dos Deputados deu um passo histórico e aprovou, na tarde desta sexta-feira (7/07), a primeira fase da reforma tributária, que reformula a tributação sobre o consumo. O texto segue para o Senado, onde precisa ser aprovado em dois turnos por, pelo menos, três quintos dos parlamentares (49 senadores) para ser promulgado.”

Disponível em: <https://tinyurl.com/5n93bzhz>. Acesso em 21/08/2023.

Assinale a alternativa que apresenta corretamente uma das principais mudanças propostas pela PEC 45/19, aprovada pela Câmara dos Deputados em relação à reforma tributária no Brasil:

- a) Criação do Imposto sobre Bens e Serviços (IBS) federal e da Contribuição sobre Bens e Serviços (CBS), de responsabilidade compartilhada estadual e municipal.
- b) Substituição do Imposto de Renda Pessoa Física (IRPF) por um Imposto de Renda Progressivo sobre Consumo (IRPC).
- c) Instituição de um Imposto sobre o Valor Agregado (IVA) dual, substituindo PIS, Cofins, IPI, ICMS e ISS.
- d) Eliminação dos impostos municipais e estaduais, centralizando a arrecadação na esfera federal.
- e) Isenção total de impostos para produtos importados, visando estimular o comércio exterior.

NOÇÕES BÁSICAS DE INFORMÁTICA

Emanuelle Gouveia

51. No Explorador de Arquivos do Windows é possível manipular arquivos e pastas. Sobre os modos de exibição disponíveis, marque aquele que exibe, por padrão, o nome, tipo, tamanho e data da criação ou última modificação do arquivo.

- a) Ícones Grandes
- b) Ícones Extra Grandes.
- c) Lista.
- d) Detalhes
- e) Ícones Médios

52. No Word, para alinharmos um texto ou parte à direita, devemos usar que tecla de atalho

- a) CTRL + G.
- b) Ctrl + E.
- c) CTRL + J
- d) ALT + D
- e) CRL + D.

53. No Excel existe a funcionalidade que pode ser usada para filtrar dados em uma planilha. Para acessá-la, através do teclado, devemos utilizar qual combinação de teclas:

- a) CTRL + SHIFT + P
- b) CTRL + SHIFT + A
- c) CTRL + P
- d) CTRL + SHIFT + L
- e) SHIFT + L

54. A URL é formada por várias partes e é iniciada pelo:

- a) query
 - b) caminho
 - c) esquema
 - d) elemento
 - e) email
-

55. Ao utilizar o serviço de Busca, um usuário deseja pesquisar as páginas que contenham exatamente a expressão CONCURSOS EM SÃO PAULO. Para isso, ele deve usar que operador dentre os listados abaixo:

- a) -.
- b) ""
- c) E
- d) OU.
- e) site:

ADMINISTRAÇÃO PÚBLICA

Emerson Bruno

56. Conforme previsto na CF 88, a tortura, o tráfico e terrorismo são crimes:

- a) inafiançáveis e insuscetíveis de graça ou anistia.
- b) inafiançáveis e imprescritíveis.
- c) insuscetíveis de graça ou anistia e imprescritíveis.
- d) afiançáveis e suscetíveis de graça ou anistia.
- e) afiançáveis e prescritíveis.

57. De acordo com a CF 88, a Ação Popular NÃO pode ser proposta:

- a) contra ato lesivo ao meio ambiente.
- b) contra ato lesivo à moralidade administrativa.
- c) contra a falta de elaboração de norma regulamentadora dos direitos fundamentais.
- d) contra ato lesivo ao patrimônio histórico.
- e) contra ato lesivo às instituições de que o Estado participe.

58. Dispõe o art. 144 da CF 88 e a jurisprudência do Supremo Tribunal Federal sobre o tema, NÃO pode ser considerado órgão de segurança pública:

- a) a Polícia Ferroviária Federal
- b) a Polícia Rodoviária Federal
- c) as Polícias Penais da União, dos Estados e do Distrito Federal.
- d) as Guardas Municipais.
- e) as Polícias Militares e os Corpos de Bombeiros Militares.

59. De acordo com o art. 30 da CF 88, compete aos municípios manter, com a cooperação técnica e financeira da União e do Estado, programas de educação:

- a) de nível superior e ensino técnico profissionalizante.
 - b) de nível médio e para a educação de jovens e adultos.
 - c) exclusivamente de nível médio.
 - d) infantil e de ensino fundamental.
 - e) poliesportiva e de ensino médio e superior.
-

LEI DE ACESSO À INFORMAÇÃO

Fabiano Pereira

60. Conforme estipulado pela Lei n.º 12.527/2011, ao categorizar as informações como reservadas, a autoridade pública competente precisar considerar os critérios estabelecidos e, dentro desse contexto, o prazo

- a) máximo de restrição de acesso é de 10 anos a partir de sua produção, podendo ser reduzido;
 - b) mínimo de restrição de acesso é de 5 anos a partir de sua divulgação, podendo ser reduzido;
 - c) mínimo de restrição de acesso é de 10 anos a partir de sua divulgação, não podendo ser reduzido;
 - d) mínimo de restrição de acesso é de 5 anos a partir de sua divulgação, não podendo ser reduzido;
 - e) máximo de restrição de acesso é de 5 anos a partir de sua produção, podendo ser reduzido.
-

NÃO É ASSINANTE?

Confira nossos planos, tenha acesso a milhares de cursos e participe gratuitamente dos projetos exclusivos. Clique no link!

<https://bit.ly/Estrategia-Assinaturas>

CONHEÇA NOSSO SISTEMA DE QUESTÕES

Estratégia Questões nasceu maior do que todos os concorrentes, com mais questões cadastradas e mais soluções por professores. Clique no link e conheça!

<https://bit.ly/Sistemas-de-Questões>
