

The background of the entire page is a photograph of several police officers in uniform marching in a parade. They are wearing dark uniforms and peaked caps. The image is tinted with a purple color. A white curved shape is on the left side of the page.

Simulado Final

PM SP

SOLDADO

Pós-Edital

Simulado

Simulado PM-SP (Soldado)

Nome: _____

INFORMAÇÕES SOBRE O SIMULADO

- 1 - Este simulado conta com questões focadas no concurso PM-SP (Soldado);
- 2 - A prova contém itens que abordam conhecimentos cobrados no edital do concurso;
- 3 - As questões são inéditas e foram elaboradas pelos nossos professores com base no perfil da banca organizadora;
- 4 - Os participantes têm das **8:00** às **12:00** para responder às questões e preencher o Gabarito Eletrônico;
- 5 - O link para preencher o formulário com seu gabarito está localizado logo abaixo destas informações;

PREENCHA SEU GABARITO

<https://bit.ly/Simulado-PMSP-Soldado-04-02-23>

01 - ABCDE	13 - ABCDE	25 - ABCDE	37 - ABCDE	49 - ABCDE
02 - ABCDE	14 - ABCDE	26 - ABCDE	38 - ABCDE	50 - ABCDE
03 - ABCDE	15 - ABCDE	27 - ABCDE	39 - ABCDE	51 - ABCDE
04 - ABCDE	16 - ABCDE	28 - ABCDE	40 - ABCDE	52 - ABCDE
05 - ABCDE	17 - ABCDE	29 - ABCDE	41 - ABCDE	53 - ABCDE
06 - ABCDE	18 - ABCDE	30 - ABCDE	42 - ABCDE	54 - ABCDE
07 - ABCDE	19 - ABCDE	31 - ABCDE	43 - ABCDE	55 - ABCDE
08 - ABCDE	20 - ABCDE	32 - ABCDE	44 - ABCDE	56 - ABCDE
09 - ABCDE	21 - ABCDE	33 - ABCDE	45 - ABCDE	57 - ABCDE
10 - ABCDE	22 - ABCDE	34 - ABCDE	46 - ABCDE	58 - ABCDE
11 - ABCDE	23 - ABCDE	35 - ABCDE	47 - ABCDE	59 - ABCDE
12 - ABCDE	24 - ABCDE	36 - ABCDE	48 - ABCDE	60 - ABCDE

**LÍNGUA PORTUGUESA E
INTERPRETAÇÃO DE TEXTO***Suellen Borges*

Leia o texto para responder às questões de 01 a 10.

FABIANO tinha ido à feira da cidade comprar mantimentos. Precisava sal, farinha, feijão e rapaduras. Sinha Vitória pedira além disso uma garrafa de querosene e um corte de chita vermelha. Mas o querosene de seu Inácio estava misturado com água, e a chita da amostra era cara demais.

Fabiano percorreu as lojas, escolhendo o pano regateando um tostão em côvado, receoso de ser enganado. Andava irresoluto, uma longa desconfiança dava-lhe gestos oblíquos. A tarde puxou o dinheiro, meio tentado, e logo se arrependeu, certo de que todos os caixeiros furtavam no preço e na medida: amarrou as notas na ponta do lenço, meteu-as na algibeira, dirigiu-se à bodega de seu Inácio, onde guardara os picuás.

Aí certificou-se novamente de que o querosene estava batizado e decidiu beber uma pinga, pois sentia calor. Seu Inácio trouxe a garrafa de aguardente. Fabiano virou o copo de um trago, cuspiu, limpou os beiços à manga, contraiu o rosto. Ia jurar que a cachaça tinha água. Por que seria que seu Inácio botava água em tudo? perguntou mentalmente. Animou-se e interrogou o bodegueiro:

- Por que é que vossemecê bota água em tudo?

Seu Inácio fingiu não ouvir. E Fabiano foi sentar-se na calçada, resolvido a conversar. O vocabulário dele era pequeno, mas em horas de comunicabilidade enriquecia-se com algumas expressões de seu Tomás da bolandeira. Pobre de seu Tomás. Um homem tão direito sumir-se como cambembe, andar por este mundo de trouxa nas costas. Seu Tomás era pessoa de consideração e votava. Quem diria?

Nesse ponto um soldado amarelo aproximou-se e bateu familiarmente no ombro de Fabiano:

- Como é, camarada? Vamos jogar um trinta-e-um lá dentro?

Fabiano atentou na farda com respeito e gaguejou, procurando as palavras de seu Tomás da bolandeira:

- Isto é. Vamos e não vamos. Quer dizer Enfim, contanto, etc. É conforme.

Levantou-se e caminhou atrás do amarelo, que era autoridade e mandava. Fabiano sempre havia obedecido. Tinha muque e substância, mas pensava pouco, desejava pouco e obedecia.

Atravessaram a bodega, a corredor, desembocaram numa sala onde vários tipos jogavam cartas em cima de uma esteira.

- Desafasta, ordenou o polícia. Aqui tem gente.

Os jogadores apertaram-se, os dois homens sentaram-se, o soldado amarelo pegou o baralho. Mas com tanta infelicidade que em pouco tempo se enrascou. Fabiano encalacrou-se também. Sinha Vitória ia danar-se, e com razão.

- Bem feito.

Ergueu-se furioso, saiu da sala, trombudo.

- Espera aí, paisano, gritou o amarelo.

Fabiano, as orelhas ardendo, não se virou. Foi pedir a seu Inácio os troços que ele havia guardado, vestiu o gibão, passou as correias dos alforjes no ombro, ganhou a rua.

(Trecho retirado da obra "Vidas Secas", de autoria de Graciliano Ramos, capítulo III - Cadeia)

01. O trecho apresenta traços das relações de poder entre o protagonista Fabiano e demais sujeitos do contexto narrado. Há certo destaque para o nível de instrução de Fabiano. A partir da leitura atenta do trecho, pode-se concluir que:

- a) A figura de Seu Tomás da bolandeira inspirava Fabiano, que procurava falar como o outro em escassos momentos de comunicabilidade.
- b) Fabiano decidiu beber pinga devido ao fato de as demais bebidas não serem puras, exceto justamente a pinga.
- c) Fabiano sentia que poderia conversar de igual para igual com o soldado amarelo.
- d) Fabiano e sua família moravam na cidade onde ele comprava os mantimentos.
- e) O jogo de baralho teve resultados positivos para Fabiano, que ganhou muito dinheiro.

02. No trecho a seguir, o elemento coesivo em destaque pode ser substituído, sem prejuízo na relação de sentido trazida na frase, por:

“O vocabulário dele era pequeno, mas em horas de comunicabilidade enriquecia-se com algumas expressões de seu Tomás da bolandeira.”

- a) e
- b) ainda
- c) então
- d) conforme
- e) no entanto

03. Na frase abaixo ocorre uma inadequação de regência verbal. Sobre isso, é correto afirmar que:

Precisava sal, farinha, feijão e rapaduras.

- a) é um caso facultativo em que o verbo “precisar” aceita a ausência da preposição.
- b) se trata de um regionalismo típico de um estado do nordeste.
- c) é marca de oralidade bastante comum na fala do brasileiro.
- d) se trata de um reflexo da oralidade.
- e) se trata de um equívoco do autor na obra ao escrevê-la.

04. No trecho de “Vidas Secas”, nota-se o emprego predominante de um tempo verbal. Seu uso, nesse trecho, remete a ações

- a) futuras que seriam realizadas com certeza.
- b) pontuais, ocorridas em um momento passado.
- c) situadas no momento da enunciação da narrativa.
- d) habituais, recorrentes em um momento do passado.
- e) marcadas por um tom imperativo do enunciador.

05. Na passagem abaixo, o vocábulo em destaque poderia ser substituído pelo seguinte sinônimo:

Ergueu-se furioso, saiu da sala, trombudo.

- a) sorridente.
- b) carrancudo.
- c) emocionado.
- d) choroso.
- e) traumatizado.

06. O pronome “se”, destacado no trecho abaixo, foi empregado em função de:

Sinha Vitória ia danar-se, e com razão.

- a) ser uma parte integrante da forma verbal.
- b) atuar como pronome apassivador.
- c) apontar para sujeito constante na oração anterior.
- d) atuar como partícula expletiva.
- e) atuar como índice de indeterminação do sujeito.

07. Na passagem abaixo, ao se observar o emprego das vírgulas, conclui-se que foram usadas para:

[...] amarrou as notas na ponta do lenço, meteu-as na algibeira, dirigiu-se à bodega de seu Inácio [...]

- a) indicar o caráter explicativo do aposto.
- b) isolar um termo deslocado na oração.
- c) sinalizar a antecipação de uma oração.
- d) explicitar uma enumeração de termos de caráter semelhante.
- e) destacar o sentido figurado dos vocábulos.

08. No começo do primeiro parágrafo, a oração abaixo destacada estabelece, com a oração principal, relação de sentido expressa pela alternativa:

FABIANO tinha ido à feira da cidade comprar mantimentos

- a) concessão
- b) adição
- c) finalidade
- d) dúvida
- e) inclusão

09. A ausência de conectivos para relacionar orações em grande parte das frases que expressam os pensamentos de Fabiano

- a) tem o objetivo de tornar a linguagem crua e simples, coerente com o modo de pensar do matuto.
- b) visa a facilitar a leitura da obra.
- c) demonstra pouco domínio linguístico e gramatical do autor da obra.
- d) expressa uma variante informal da Língua Portuguesa, próxima da oralidade.
- e) deseja transmitir ao leitor uma sensação de identificação com o modo de falar representado na obra.

10. Considerando o modo como as ideias foram estruturadas no texto, pode-se compreender como os fatos são apresentados ao leitor através do narrador, mas também há momentos em que os pensamentos das personagens se misturam à narração. Assinale a alternativa INCORRETA:

a) O trecho *“Fabiano percorreu as lojas, escolhendo o pano regateando um tostão em côvado, receoso de ser enganado.”* está sendo contado pelo narrador onisciente.

b) O trecho *“Pobre de seu Tomás. Um homem tão direito sumir-se como cambembe, andar por este mundo de trouxa nas costas. Seu Tomás era pessoa de consideração e votava. Quem diria?”* exemplifica discurso indireto livre.

c) Os dois trechos abaixo trazem discurso direto:

- *Como é, camarada? Vamos jogar um trinta-e-um lá dentro?*

[...]

- *Isto é. Vamos e não vamos. Quer dizer Enfim, contanto, etc. É conforme.*

d) O final do trecho *“Fabiano percorreu as lojas, escolhendo o pano regateando um tostão em côvado, receoso de ser enganado”*, em que o narrador fala dos sentimentos de Fabiano, demonstra que a obra traz um narrador onisciente.

e) Para transformar o trecho *“Sinha Vitória pedira além disso uma garrafa de querosene e um corte de chita vermelha.”*, que está em discurso indireto, adequadamente em discurso direto, a única modificação seria no tempo verbal do verbo “pedir”: “pedira” viraria “pediu”.

Para responder às questões de 11 a 16, considere o texto abaixo.

“Quando se fala de aumento – e, na verdade, não é aumento, e sim reajuste, pois não alcança a inflação – não se trata apenas de auditores da Receita Federal, policiais federais, [servidores do] Banco Central. É de toda a categoria não só no âmbito federal, mas também no municipal e estadual, que tiveram os salários congelados nos últimos cinco anos e agora se veem com a ameaça da ‘deforma administrativa’.”

BARONOVSKY, Ricardo. Liberdade de Opinião. In <
<https://www.cnnbrasil.com.br/politica/baronovsky-a-quem-interessa-demonizar-o-servidor-publico-brasileiro/>> (adaptado)

11. De acordo com a leitura do texto, assinale a alternativa INCORRETA.

- a) O autor defende reajuste salarial ao servidor público dos três âmbitos da Administração, fazendo uma ressalva no tocante à expressão “aumento salarial”.
- b) As aspas no início e no fim do fragmento sinalizam à fala direta de alguém tal qual ela assim se pronunciou no discurso.
- c) São destacados os servidores de três órgãos (Receita Federal, Polícia Federal e Banco Central), mas o receio da reforma administrativa pode estar presente entre os demais órgãos da Administração.
- d) Os salários congelados constituem um óbice ao servidor público que pretende permanecer no órgão, ainda que a remuneração esteja aquém da inflação.
- e) Nenhuma das alternativas anteriores.

12. Em relação ao uso de aspas duplas no texto, assinale a alternativa correta:

- a) Ressalta o que está sendo escrito pelo autor do texto.
- b) Exprime uma ironia.
- c) Destaca uma expressão usada fora do contexto habitual.
- d) Delimita uma citação direta.

e) Nenhuma das alternativas anteriores.

13. A palavra “Quando”, no início do texto, pode ser substituída, sem prejuízo da correção e do sentido do texto, por:

- a) No momento em que
- b) Porquanto
- c) Desde que
- d) Uma vez que
- e) Nenhuma das alternativas anteriores.

14. Leia o trecho abaixo e assinale a alternativa INCORRETA:

“É de toda a categoria não só no âmbito federal, mas também no municipal e estadual, que tiveram os salários congelados nos últimos cinco anos (...)”

- a) Há presença de conjunção adversativa no trecho “mas também no municipal e estadual”.
- b) A vírgula após a palavra “estadual” destaca uma oração adjetiva.
- c) A vírgula após a palavra “estadual” inicia oração de valor explicativo.
- d) As palavras “municipal, estadual, federal” são oxítonas.
- e) Nenhuma das alternativas anteriores.

15. O único enunciado abaixo cujo termo sublinhado expressa sentido próprio é:

- a) O serviço público é osso.
- b) Os salários estão congelados há cinco anos.
- c) O Governo não pretende reajustar os salários.
- d) O servidor está cansado.
- e) Nenhuma das alternativas anteriores.

16. Acerca do trecho “É de toda a categoria não só no âmbito federal, mas também no municipal e estadual, que tiveram os salários congelados nos últimos cinco anos”, é correto afirmar que:

- a) a estrutura gramatical do fragmento permite dele inferir que todos os servidores mencionados no trecho tiveram os salários congelados nos últimos cinco anos.
- b) de acordo com esse trecho, apenas alguns servidores tiveram os salários congelados – indivíduos pertencentes aos âmbitos municipal, estadual e federal da Administração Pública.
- c) da forma como a frase está construída, é possível deduzir que somente algumas categorias de servidores são consideradas na fala do autor, ou seja, aqueles que tiveram os salários congelados.
- d) há maior ênfase aos servidores do âmbito federal, em que pese terem sido mencionadas as esferas municipal e estadual.
- e) há total falta de esperança quanto ao reajuste salarial das categorias mencionadas.

17. Assinale a alternativa que preencha correta e respectivamente as cinco lacunas.

Em situação _____, indivíduos que se _____ diante de uma licitação superfaturada não _____ de contrariar seu empregador, já que eles não _____ estabilidade no cargo.

- a) hipotética, vêem, têm, coragem, têm
- b) hipotética, vêem, tem, corajem, tem
- c) hipotética, veem, têm, corajem, têm
- d) hipotética, veem, têm, coragem, têm
- e) Nenhuma das alternativas anteriores.

18. Assinale a alternativa que apresenta enunciado redigido FORA da norma-padrão de regência relativa à crase:

- a) O servidor foi embora às pressas.
- b) A viatura da ROTA virou repentinamente à esquerda.
- c) O chefe do setor entregou o documento à todos os responsáveis.
- d) Servidores da Secretaria de Segurança chegaram cedo àquele município.
- e) Viso à aprovação em concurso de carreiras policiais.

Considere o fragmento abaixo para responder às questões 19 e 20.

“Infelizmente, essa intempérie mundial que nos causa toda uma mudança de vida e de circulação social faz com que tenhamos que ter muita parcimônia e tranquilidade no dia a dia. A vacina não foi feita da melhor forma que poderia ser feita, tinha que se tomar uma atitude emergencial.”

HORTA, Pedro. Liberdade de Opinião. 06/01/2022 In <
<https://www.cnnbrasil.com.br/politica/horta-vacinacao-de-criancas-nao-pode-se-tornar-guerra-judicial-entre-pais/>> (adaptado)

19. De acordo com esse pequeno texto, é correto afirmar que

- a) o autor recomenda perseverança para lidar com as novas mudanças instaladas na humanidade graças à pandemia.
- b) para o autor, convém ter calma, mas também consciência quanto à importância da vacinação contra a Covid-19.
- c) porque foi desenvolvida em caráter emergencial, a vacina da Covid-19 não foi elaborada da melhor maneira possível.
- d) “essa intempérie” mencionada pelo autor faz referência à dificuldade em se criar uma vacina em caráter emergencial contra a Covid-19.
- e) “parcimônia” é antônimo de “moderação”.

20. Assinale a alternativa em que as palavras extraídas do texto são acentuadas tonicamente em atendimento à mesma regra, de acordo com a norma-padrão da língua portuguesa.

- a) intempérie, mundial
- b) circulação, parcimônia
- c) vacina, tenhamos
- d) emergencial, poderia
- e) social, atitude

MATEMÁTICA

Carlos Henrique

21. Maria está em uma fila que tem, ao todo, 37 pessoas. O número de pessoas à frente de Maria é o triplo do número de pessoas atrás dela. O tempo máximo de atendimento de cada pessoa da fila é de 3 minutos.

Tomando como referência o início do atendimento, Maria será atendida, no máximo, em

- a) 1h15min.
- b) 1h20min.
- c) 1h21min.
- d) 1h30min.
- e) 1h37min.

22. O malévolo Rosental, diretor de marketing do Estratégia Concursos, colocou o gatinho da aluna Coruja no alto de uma árvore. Coruja colocou uma escada junto a árvore para ajudar o gato a descer.



Sabendo que o gato estava a uma altura de 8 metros e a base da escada estava posicionada a 6 metros do pé da árvore, qual o comprimento da escada utilizada para salvar o gatinho?

- a) 15 metros.
- b) 10 metros.
- c) 13 metros.
- d) 20 metros.
- e) 25 metros

23. Numa divisão com números inteiros, o resto vale 5, o divisor é igual ao resto somado a 3 unidades e o quociente é igual ao dobro do divisor. Assim, é correto afirmar que o valor do dividendo é igual a:

- a) 145
- b) 133
- c) 127
- d) 118
- e) 102

24. Um reservatório tem a forma de um paralelepípedo reto-retângulo e mede 0,50m de largura, 1,20 m de comprimento e 0,70m de altura. Estando o reservatório com certa quantidade de água, coloca-se dentro dele uma pedra com forma irregular, que fica totalmente coberta pela água. Observa-se, então, que o nível de água sobe 1cm. Isto significa que o volume da pedra mede, em centímetros cúbicos:

- a) 0,42
- b) 60
- c) 600
- d) 6000
- e) 420.000

25. Sistemáticamente, Brunno Lima e CH vão a um mesmo restaurante: Brunno Lima a cada 15 dias e CH a cada 18 dias. Se em 10 de outubro de 2024 ambos estiveram em tal restaurante, outro provável encontro dos dois nesse restaurante ocorrerá em:

- a) 10 de janeiro de 2025
- b) 9 de janeiro de 2025
- c) 8 de janeiro de 2025
- d) 10 de dezembro de 2024
- e) 9 de dezembro de 2024

26. Três policiais militares André, Beto e Caio, ganharam R\$ 40.000,00 como premiação. André tem 2 filhos, Beto, 3 filhos e Caio, 5 filhos.

Se a divisão da premiação for feita de forma diretamente proporcional ao número de filhos, então a diferença entre as partes de Caio e André é igual a:

- a) R\$ 8.000,00
- b) R\$ 9.000,00
- c) R\$ 10.000,00
- d) R\$ 15.000,00
- e) R\$ 12.000,00

27. Moranguinho dividiu dois números inteiros positivos em sua calculadora e obteve como resultado a dízima periódica 0,454545... . Se a divisão tivesse sido feita na ordem inversa, o resultado obtido por Moranguinho teria sido igual a:

- a) 2,2222...
- b) 2,22
- c) 2,0
- d) 2,2
- e) 2,222

Baseado no texto abaixo, resolva as questões 28 e 29

O Estratégia Concursos promoveu uma reunião entre os professores. Em um certo intervalo, 20% das mulheres deixaram a sala de reunião e o número de professoras ficou igual a $\frac{3}{5}$ do número de professores homens. Se, com a saída das mulheres, o grupo passou a ser de 320 pessoas, julgue os itens seguintes:

28. Depois da saída das mulheres, qual é nova porcentagem de homens?

- a) 62,5%
- b) 84%
- c) 60%
- d) 64,5%
- e) 37,5%

29. Qual é a quantidade original de pessoas na reunião?

- a) 340
- b) 350
- c) 360
- d) 370
- e) 380

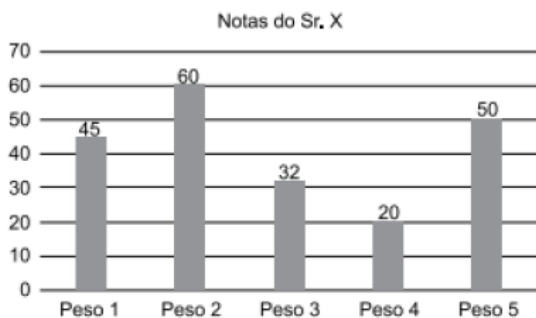
30. Ao receber a visita de uma pequena quantidade de alunos, a coordenadora Dani do Estratégia Concursos resolveu distribuir uma certa quantidade de camisas personalizadas entre os alunos. Dani percebeu que se desse três camisas a cada aluno, sobrariam 13 camisas, e que, dando 5 camisas a cada aluno, no final da distribuição, 3 alunos não receberiam nada. O número de camisas que Dani pretende distribuir é igual a:

- a) 52
- b) 55
- c) 56
- d) 60
- e) 64

31. A coordenadora Dani do Estratégia Concursos recebe a incumbência de enviar pelos Correios x camisas para alunos do Estratégia. Ela percebe que x é maior que 150 e menor que 200. Separando as camisas em grupo de 7 camisas, ela percebeu que sobravam 3 camisas e separando em grupos de 12 camisas, também sobravam 3 camisas. Portanto, a soma dos algarismos de x é igual a:

- a) 6
- b) 7
- c) 8
- d) 9
- e) 10

32. O gráfico a seguir mostra as cinco notas do Sr. X e os respectivos pesos atribuídos a cada uma das provas.



Para ser aprovado, o Sr. X precisava que sua média aritmética ponderada por esses pesos fosse maior ou igual a 48 pontos. Com essas notas, o Sr. X não foi aprovado e sua média ficou abaixo de 48, em uma quantidade de pontos igual a

- a) 6,6.
- b) 7,9.
- c) 8,6.
- d) 9,5.
- e) 10,8.

33. O vencedor de uma prova de Marcha Atlética completou o percurso após 1 hora e 30 minutos. Após 30 minutos de prova, Roberto, um dos competidores, está na 13ª colocação. Na segunda meia hora de prova, Roberto ultrapassa 3 e é ultrapassado por 7 competidores. Na terceira meia hora de prova, Roberto ultrapassa 15 e é ultrapassado por 2 competidores. No momento em que o vencedor completa a prova, Roberto é o

- a) 8º colocado
- b) 5º colocado
- c) 4º colocado
- d) 2º colocado
- e) 1º colocado

34. Três rapazes Arthur, Beto e Carlos que pesam, respectivamente, 50 kg, 100 kg e 120 kg, querem atravessar um rio em uma canoa cuja capacidade é de 150 kg. Cada travessia em qualquer sentido demora 19 minutos e a canoa deve sempre ser conduzida por uma dessas três pessoas. O tempo mínimo necessário para que os três rapazes atravessem o rio é:

- a) 38 minutos
- b) 57 minutos
- c) 1 hora e 16 minutos
- d) 1 hora e 35 minutos
- e) 1 hora e 54 minutos

35. Em um ponto distante da nossa galáxia Via Láctea há um peculiar planetoide onde moram apenas dois habitantes: os irmãos ZAG e ZUG. Quando são perguntados sobre qualquer assunto, os habitantes desse planetoide sempre respondem com uma única dentre as duas seguintes palavras: sim ou não. Sabe-se que ZAG sempre diz a verdade e ZUG sempre mente. Dentre as perguntas a seguir, qual é a única que, se for feita tanto para ZAG quanto para ZUG, gerará respostas diferentes?

- a) Seu irmão é mentiroso?
- b) Você é mentiroso?
- c) Você é o ZAG?
- d) ZUG é mentiroso?
- e) Seu irmão chama-se ZAG?

HISTÓRIAS E GEOGRAFIA

Sérgio Henrique

36. Em março de 1988, o modelo sindical levado por Lindolfo Collor para o Ministério do Trabalho completou 57 anos de idade. Em todos estes anos foi olhado com suspeita pelos empresários e com bastante desconfiança pelos grupos socialistas, comunistas e pela esquerda em geral. Atribuía-se sua criação, na década de 30, à influência das doutrinas autoritárias e fascistas então na moda.

(Letícia Bicalho Canêdo. A classe operária vai ao sindicato, 1988.)

Entre as características do modelo citado no texto, sobressaíam

- a) o direito de greve e a valorização da luta de classes, inspirados no movimento dos trabalhadores alemães.
- b) a unicidade sindical por categoria e o corporativismo, inspirados no corporativismo italiano.
- c) a liberdade de organização sindical e a conscientização política dos trabalhadores através da imprensa.

- d) o predomínio de lideranças de esquerda e a autonomia de atuação dos sindicatos pelegos.
- e) o controle governamental e a sindicalização obrigatória dos trabalhadores urbanos e rurais.

37. Durante o governo Vargas (1930-1945), surgiram no Brasil duas agremiações políticas, a Aliança Nacional Libertadora (ANL) e a Ação Integralista Brasileira (AIB).

Leia as afirmações abaixo.

- I. A ANL era de tendência fascista e a AIB tinha tendência socialista.
- II. Após a instituição do Estado Novo o único partido permitido foi a AIB, a base de apoio de Vargas.
- III. O líder da AIB era Plínio Salgado.
- IV. O “Plano Cohen” foi a causa do fechamento do congresso pela Revolução de 1930.
- V. Em novembro de 1935, a ANL fracassou na tentativa de tomar o poder através de um golpe (Intentona Comunista).

Assinale a alternativa que apresenta apenas afirmações corretas.

- a) I e III
- b) II e IV
- c) III e V
- d) II e V
- e) I e IV

38. Leia o fragmento.

Na transição brasileira para a democracia, os setores conservadores, que sempre temem que a mobilização popular fuja ao seu controle, acabaram por dar a tônica. A passagem da ditadura [militar, 1964-1985] à democracia político-eleitoral deveria ser feita “por cima”, sem a participação como sujeitos dos que estavam “embaixo”.

Chico Alencar et al, História da sociedade brasileira.

Pode-se verificar a transição conservadora, comentada no trecho,

- a) no isolamento político ao qual foi submetido o candidato à presidência do PMDB, Tancredo Neves, que não contou com o apoio das outras forças de oposição ao regime autoritário nas eleições indiretas de janeiro de 1985.
- b) na derrota da emenda constitucional que preconizava eleições diretas para a presidência da República e na constituição do primeiro governo pós-regime autoritário com a presença de liberais moderados e de antigos partidários do regime anterior.
- c) no completo descaso do governo eleito em 1985 com a prometida convocação imediata de uma Assembleia Nacional Constituinte, que só se tornou possível após a intervenção de entidades da sociedade civil, como a OAB e a CNBB.
- d) no compromisso da chapa de oposição ao regime militar, sob a liderança de José Sarney, que se apresentou nas eleições diretas de 1985 garantindo que as práticas autoritárias do regime ditatorial não seriam investigadas.
- e) na exigência explícita dos ministros militares do governo Figueiredo de que o candidato às eleições diretas em 1985 viesse do grupo dos peemedebistas autênticos e que a lei de Anistia não fosse revista.

39. Durante muito tempo existiu uma aliança invisível, envolvendo os dirigentes da Austrália, Estados Unidos, Canadá, Reino Unido e Nova Zelândia, intimamente chamada “fiveeyes” — os cinco gigantes da espionagem. A origem dessa rede remonta à Segunda Guerra Mundial: Washington e Londres trocavam informações, segundo um acordo assinado em 1943 e oficialmente promulgado em 1946. Esse acordo ligava diretamente os sistemas de interceptação de sinais da Agência de Segurança Nacional estadunidense (NSA) aos de seu equivalente britânico, o “Government Communications Headquarters” (GCHQ). O Canadá uniu-se a esses países em 1948 e a Austrália e a Nova Zelândia, em 1956.

(<https://diplomatie.org.br>, 03.03.2022. Adaptado.)

Considerado em seu contexto histórico e geopolítico, o acordo tratado no excerto objetivava

- a) impedir a entrada de armas no Leste Europeu e na China, pois a URSS apoiava seu programa nuclear
- b) garantir a execução do Plano Marshall pelos países europeus e a irradiação do liberalismo.
- c) identificar movimentos anticapitalistas na Ásia, América Latina e África.
- d) controlar as fronteiras dos países pertencentes à União Soviética, assim como Cuba.
- e) auxiliar o expansionismo territorial do povo árabe no Oriente Médio, para conter o socialismo.

40. O alistamento militar, para todo jovem do sexo masculino, com o objetivo de torná-lo capaz de lutar, tornou-se um “rito de passagem” obrigatório na Europa do século XIX. Segundo o historiador Keegan: “Quando os regimentos de recrutas da Europa marcharam para a guerra, em 1914, carregando sua retaguarda de reservistas, a guerra que os enredou foi, de longe, a pior que os cidadãos pudessem esperar. [...]. Os objetivos políticos da guerra – já difíceis de definir, desde o início – foram esquecidos, as restrições políticas foram atropeladas, os políticos que apelavam para a razão foram execrados[...]”

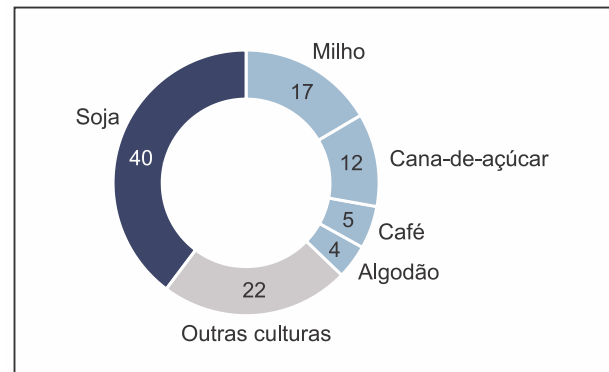
(KEEGAN, John. Uma história da Guerra. Edição de Bolso. São Paulo: Companhia das Letras, 2006, p. 28. Adaptado.)

Considerando que os motivos políticos imediatos da Primeira Guerra Mundial foram “difíceis de definir”, marque a única alternativa correta a apontar o que levou tantos países a entrarem em conflito:

- a) A intensificação do nacionalismo e os conflitos surgidos com o avanço do imperialismo na África e na Ásia.
- b) A Revolução Russa e a política diplomática de Bismarck, que equilibrou a geopolítica da Europa.
- c) O Fascismo italiano e a crise das monarquias Europeias, que combateram as Democracias Liberais.
- d) A fragilidade dos exércitos mantidos pelos Estados Democráticos e a consolidação do capitalismo na América, na África e na Ásia.

41.

Lavouras que mais utilizam fertilizantes no Brasil (%)

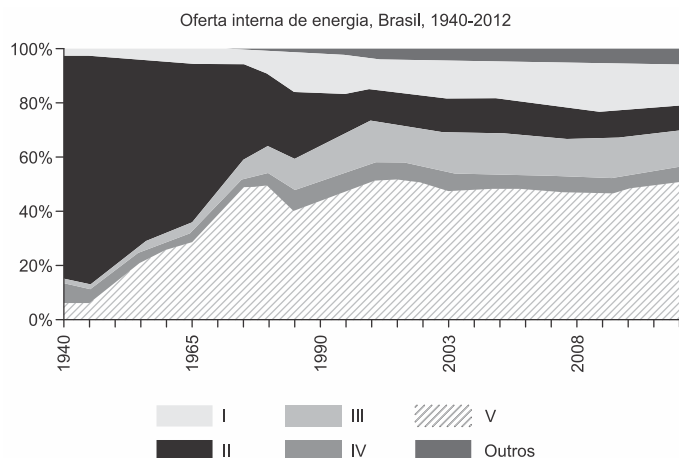


O Estado de São Paulo, março de 2022.

A partir do gráfico e de seus conhecimentos sobre a dinâmica do espaço agrário brasileiro, é correto afirmar que o uso de fertilizantes no Brasil ocorre, majoritariamente,

- a) em lavouras extensivas, em pequenas propriedades, com baixa produtividade e pouco emprego de tecnologia, direcionadas ao mercado internacional de commodities, principalmente no Sul do país.
- b) em lavouras intensivas, com elevado emprego de mão de obra, altíssima mecanização, com predomínio de adoção de práticas conservacionistas e baixo impacto ambiental, principalmente na região Norte do país.
- c) em lavouras destinadas ao abastecimento do mercado interno, intensamente mecanizadas, com predomínio de grandes propriedades e com baixo impacto ambiental, hoje, em todas as regiões.
- d) em lavouras mecanizadas, destinadas ao mercado internacional, com predomínio do emprego de mão de obra especializada, principalmente no Centro-Sul do país.
- e) em lavouras extensivas, destinadas ao mercado interno, com alta mecanização e emprego de mão de obra especializada, principalmente no Nordeste do país.

42.



(Empresa de Pesquisa Energética (Brasil). *Balanco energético nacional* 2013, 2013. Adaptado.)

Considerando as características da matriz energética brasileira, no gráfico,

- IV corresponde a lenha e carvão vegetal, que a partir de 1985 voltaram a ser empregados por famílias com baixo poder aquisitivo.
- I corresponde aos produtos da cana-de-açúcar, que em 1975 teve o crescimento de sua oferta incentivado com a instituição do Proálcool.
- V corresponde à hidráulica, que desde 1945 mantém crescimento acelerado pelos incentivos do Procel para a construção de usinas.
- III corresponde ao carvão mineral, que alcançou estabilidade no início dos anos 2000 com a proibição de novas termoeletricas.
- II corresponde a petróleo, gás e derivados, que a partir de 1980 tiveram uma queda gradual na participação, devido à escassez desses recursos.

43. A disponibilidade de água no Brasil é elevada, se comparada à de outras regiões do mundo. No entanto, quando se consideram o potencial hídrico no território e a distribuição da população brasileira por regiões, notam-se:

- a distribuição desigual do recurso e a possibilidade de escassez hídrica especialmente nas metrópoles.

- a homogeneidade da matriz energética nacional e o predomínio de assentamentos litorâneos.
- a transposição do recurso e a criação artificial de demandas habitacionais.
- a valorização de áreas bem abastecidas e os fluxos migratórios de transumância nas metrópoles.
- a perda do recurso por mau uso e o desequilíbrio na ocupação de bacias hidrográficas do Norte e Nordeste.

44. Analise o mapa.

Áreas de atuação das Frentes de Proteção (FP)



(<https://amazonianativa.org.br>. Adaptado.)

É uma ação das Frentes de Proteção

- o monitoramento das reservas extrativistas.
- a fiscalização dos territórios de povos isolados.
- a fiscalização da biopirataria florestal.
- a vigilância das áreas de conservação ambiental.
- a promoção de pesquisa científica.

45. O Instituto Brasileiro de Geografia e Estatística (IBGE) realiza periodicamente censos para analisar a distribuição da população brasileira segundo a cor da pele. Nesse contexto, as informações obtidas pelos censos permitem a

- a) apresentação de planos de contingência à entrada de imigrantes, grupos constituídos por indivíduos com potencial de descaracterizar o perfil demográfico nacional.
- b) construção de políticas afirmativas articuladas à hegemonia populacional, assegurando o combate aos preconceitos no Brasil.
- c) reestruturação da territorialidade das comunidades tradicionais, deslocando populações segundo sua participação no todo nacional.
- d) elaboração de políticas públicas que busquem reduzir desigualdades sociais, especialmente aos grupos minoritários.
- e) reavaliação da definição dos grupos formadores da população brasileira, minimizando a participação de populações pouco expressivas.

ATUALIDADES

Leandro Signori

46. “A Proposta de Emenda à Constituição (PEC) da Transição foi promulgada na noite desta quarta-feira (21 dez.) pelo Congresso Nacional em sessão solene semipresencial realizada no plenário do Senado, cerca de 15 minutos após a aprovação da PEC no Senado. Com a promulgação, as mudanças propostas no texto passam a fazer parte da Constituição por meio da Emenda Constitucional 126/2022.”

Disponível em: <https://tinyurl.com/mrxxz8jn>.
Adaptado. Acesso em 30/01/2022.

A PEC da transição

- a) determina que o governo federal apresente emenda constitucional com o objetivo de instituir um novo regime fiscal sustentável.

- b) estabelece um aumento ao Auxílio Brasil (que voltará a se chamar Bolsa Família) mediante a redução do orçamento nas áreas da segurança pública e seguridade social.

- c) permite que o governo federal tenha mais de R\$ 100 bilhões para além do teto de gastos, que serão usados para custear programas sociais.

- d) recria ministérios que haviam sido extintos durante o governo de Jair Bolsonaro e cria novos ministérios, secretarias e órgãos da administração pública.

- e) estipula que a validade dos gastos extra-teto aprovados será de dois anos, até o final de 2024.

47. Nélida Piñon, importante personalidade do meio cultural brasileiro faleceu em dezembro de 2022. Entre outras referências, destacou-se por:

- a) ser considerada a “voz brasileira do milênio” pela BBC de Londres em 1999.

- b) ter recebido o Prêmio Camões 2022, um dos maiores reconhecimentos da literatura em língua portuguesa.

- c) ser uma das precursoras do movimento cultural Tropicália.

- d) ser a primeira mulher a presidir a Academia Brasileira de Letras.

- e) ter sido a grande vencedora do Prêmio Jabuti 2022, a mais importante premiação literária brasileira.

48. No primeiro dia do ano de 2023, um novo país passou a integrar a Zona do Euro. Com isso, a zona da moeda única da União Europeia passa a ser integrada por 20 dos seus 27 estados-membros. No mesmo dia que abandonou a Kuna, sua moeda nacional, o país também passou a integrar o Espaço Schengen de livre circulação de pessoas, que é composto por países do bloco europeu, Suíça, Noruega, Islândia e Liechtenstein.

O país mencionado pelo enunciado é a:

- a) Croácia.
- b) Eslovênia.
- c) República Tcheca.
- d) Romênia.
- e) Sérvia.

49. *Congresso do Peru aprova impeachment de Pedro Castillo.*

Disponível em: encurtador.com.br/gPS09. Publicado em 07/12/2022. Acesso em 30/01/2022.

Um fato que antecedeu à aprovação do *impeachment* e contribuiu para a destituição de Pedro Castillo foi a sua tentativa de:

- a) ordenar a prisão dos relatores do processo de *impeachment*, sob acusação de traição contra a pátria.
- b) subornar membros do congresso nacional para cassar o mandato de juízes da suprema corte peruana.
- c) convocar a população para um plebiscito, perguntando se era a favor ou contra a realização de novas eleições.
- d) suspender temporariamente a assembleia nacional e outorgar a capacidade legislativa máxima para si.
- e) dissolver os poderes Legislativo e Judiciário e convocar eleições para uma assembleia constituinte.

50. “O presidente da Rússia, Vladimir Putin, oficializou nesta 6ª feira (30.set.2022) a anexação de territórios ucranianos à Rússia. Juntas, as regiões representam 15% da Ucrânia.”

Disponível em: <https://tinyurl.com/4tvvtzm2>. Acesso em 30/01/2022.

Além de Donetsk e Luhansk, regiões onde o movimento separatista russo é bastante presente, Putin anunciou a anexação das regiões de:

- a) Dnipro e Kharkiv.
- b) Kherson e Zaporizhzhia.
- c) Odessa e Mariupol.
- d) Kharviv e Mariupol.
- e) Criméia e Kherson.

NOÇÕES BÁSICAS DE INFORMÁTICA

Emannuelle Gouveia

51. No Windows, a funcionalidade chamada “Limpeza de Disco” tem por função:

- a) Remover arquivos temporários do Sistema operacional e arquivos considerados inúteis para o sistema.
- b) Oferecer um sistema de limpeza interna para retirar impurezas do disco.
- c) Limpar todos os malwares existentes no sistema.
- d) Tentar, ao máximo, juntar partes de um mesmo arquivo.
- e) Apagar imagens repetidas ou que não tenham sido marcadas como preferidas pelo usuário.

52. O usuário deseja desativar a reprodução automática no Windows. Para isso deve acessar o menu:

- a) Aplicativos e Recursos.
- b) Dispositivos
- c) Cortana
- d) Área de Trabalho.
- e) Barra de Tarefas

53. No Word, a opção exibida abaixo se refere a que funcionalidade:



- a) Formatar Fonte
- b) Estilo
- c) Formatar Parágrafo.
- d) Sumário.
- e) Tipo de Letra

54. Das letras abaixo, marque a que indica uma referência em que a coluna está relativa e a linha absoluta:

- a) \$D\$2.
- b) \$D2.
- c) D2
- d) D\$2.
- e) 2D.

55. No Powerpoint para iniciar a apresentação do slide atual devemos usar a seguinte combinação de teclas:

- a) shift + F5
- b) shift + F3
- c) ctrl + F5
- d) shift + ctrl + F5
- e) shift + F2

**DIREITO CONSTITUCIONAL E
CONSTITUIÇÃO DO ESTADO DE SÃO PAULO
E LEI FEDERAL Nº 12.527/11 –
LEI DE ACESSO À INFORMAÇÃO**

Emerson Bruno

56. De acordo com a Constituição Federal, assinale a alternativa correta.

- a) a prática do racismo constitui crime inafiançável e imprescritível, sujeito à pena de reclusão, nos termos da lei.
- b) São gratuitos para os reconhecidamente pobres, na forma da lei, o registro civil de nascimento, mas não a certidão de óbito.
- c) O Brasil se submete à jurisdição do Tribunal Penal Latinoamericano.
- d) Ninguém será levado à prisão ou nela mantido, quando a lei admitir a liberdade provisória, exceto quando o crime for inafiançável.
- e) A prisão ilegal será imediatamente relaxada pela autoridade policial.

57. De acordo com as disposições da Constituição Federal, uma associação em funcionamento há pelo menos um ano poderá impetrar a seguinte ação constitucional:

- a) Mandado de Injunção
- b) Mandado de Segurança Coletivo
- c) “Habeas Data”
- d) Ação Civil Pública
- e) Ação Popular

58. São cargos privativos de brasileiro nato, EXCETO.

- a) Presidente do Supremo Tribunal Federal.
- b) Presidente do Senado Federal.
- c) Presidente da Comissão de Constituição e Justiça da Câmara.
- d) Ministro de Estado da Defesa.
- e) Membros da carreira diplomática.

59. Em relação às atribuições dos órgãos de segurança pública, constitucionalmente previstas no art. 144, é correto afirmar que as funções de polícia marítima, aeroportuária e de fronteiras serão exercidas:

- a) pelas Polícias Cíveis competentes.
- b) pelas Forças Armadas.
- c) pela Guarda Nacional de Segurança.
- d) pelas Polícias Militares competentes.
- e) pela Polícia Federal.

60. De acordo com a Lei de Acesso à Informação (LEI FEDERAL Nº 12.527/11), as informações pessoais, relativas à intimidade, vida privada, honra e imagem terão seu acesso restrito pelo prazo máximo de:

- a) 25 (vinte e cinco) anos a contar da sua data de produção.
 - b) 50 (cinquenta) anos a contar da sua data de produção.
 - c) 30 (trinta) anos a contar da sua data de produção.
 - d) 15 (quinze) anos a contar da sua data de produção.
 - e) 100 (cem) anos a contar da sua data de produção.
-

NÃO É ASSINANTE?

Confira nossos planos, tenha acesso a milhares de cursos e participe gratuitamente dos projetos exclusivos. Clique no link!

<https://bit.ly/Estrategia-Assinaturas>

CONHEÇA NOSSO SISTEMA DE QUESTÕES

Estratégia Questões nasceu maior do que todos os concorrentes, com mais questões cadastradas e mais soluções por professores. Clique no link e conheça!

<https://bit.ly/Sistemas-de-Questões>
