

Módulo I

Língua Portuguesa

1B *

Assinale a opção que apresenta a frase que contém uma interrogação de forma indireta.

- ~~(A) Desconhecemos quem fez esse negócio lucrativo.~~
 (B) Conhecemos o investimento que eles fizeram.
 (C) Vimos onde ela trabalha com criptomoedas.
~~(D) Sabemos quando eles voltaram do leilão.~~
~~(E) Aplicamos nosso capital porque ele não pode ficar parado.~~

2C

O pensamento a seguir utiliza-se de advérbios que se referem a determinados significados.

"As pessoas que sabem 'como' sempre terão um emprego. As que sabem 'por que' serão sempre seu chefe."

Assinale a opção que apresenta o significado correto de um dos advérbios.

- ~~(A) Onde você mora? – localização temporal.~~
~~(B) Quando você chega? – modalização.~~
 (C) De que você vai viajar? – meio.
~~(D) Como você está? – comparação.~~
~~(E) Com que você abriu a porta? – companhia.~~

3C

"Disseram-me que metade dos sócios estaria ansiosa para envolver-se e a outra metade seria apática. Depois de quatro anos descobri que é exatamente o contrário."

Em sua estruturação, essa frase mostra

- (A) uma comparação entre os dois períodos.
~~(B) dois períodos: um em linguagem lógica e outro, figurada.~~
 (C) uma ambiguidade no primeiro período.
~~(D) uma redundância, dizendo a mesma coisa nos dois períodos.~~
~~(E) um erro gramatical no segundo período.~~

4

chute

Assinale a opção que apresenta a frase que tem estrutura passiva.

- ~~(A) Viaja-se muito no verão.~~
~~(B) Fez-se uma obra grande naquela padaria.~~
 (C) Pensa-se muito em investimentos a longo prazo.
 (D) Luta-se muito por pequenas causas.
 (E) Trabalha-se muito por nada.

5

Assinale a opção que apresenta a frase em que o gerúndio está bem empregado.

- (A) O policial viu o assaltante correndo pela ponte. ✓
~~(B) O professor entrou em sala abrindo o livro de chamada.~~ ✓
~~(C) O turista saiu do museu sorrindo.~~ ✓
 (D) Tirou o dinheiro do bolso, comprando o livro a seguir.
 (E) Pensou um pouco sobre o assunto, decidindo fugir.

6E

Abaixo estão cinco gêneros textuais. Assinale a opção que indica o gênero cujo exemplo de texto é adequado.

- ~~(A) Normativo / livro escolar.~~
~~(B) Didático / oração.~~
~~(C) Informativo / requerimento.~~
~~(D) Publicitário / conto folclórico.~~
 (E) Preditivo / horóscopo.

7D

Assinale a frase abaixo que não se apoia, como as demais, num ditado popular.

- ~~(A) Mais valem duas abelhas voando do que duas na mão.~~
 (B) Todo homem tem seu preço e, alguns, até dão desconto.
~~(C) Nos negócios não existem amigos, apenas fregueses.~~
 (D) Não há segurança nessa terra, apenas oportunidades.
~~(E) A ocasião não só faz o ladrão como, também, os grandes homens.~~

8B

"Nenhum cliente pode ser pior do que cliente nenhum."

Essa frase joga com o sentido modificado de um termo, pela posição anteposta ou posposta de "nenhum".

Assinale a opção que indica a dupla que tem seu sentido modificado pela mesma razão.

- (A) Tempo bom / bom tempo.
 (B) Homem pobre / pobre homem.
 (C) Livro valioso / valioso livro.
 (D) Prova difícil / difícil prova.
 (E) Comida saborosa / saborosa comida.

9E

"Trabalhamos com o propósito de tornar nossos produtos obsoletos, antes que nossos concorrentes o façam."

Nesse caso, a melhor qualidade do produto seria a(o)

- (A) adequação ao público. *Obsoleto*
~~(B) ornamentação delicada.~~ *N serve mais ultrapassado*
~~(C) preço acessível.~~
~~(D) embalagem prática.~~
 (E) atendimento de necessidades.

10A

"Antigamente a questão era de 'ser ou não ser'. Hoje é de 'ter ou não ter'. Dinheiro, principalmente."

Esse pensamento

- (A) critica o momento atual por substituir valores morais por riqueza material.
 (B) mostra que a situação econômica das pessoas indica a sua qualidade moral.
~~(C) opõe os verbos ser e ter, como, respectivamente, valores de riqueza e de qualidades culturais.~~
~~(D) observa que a história da humanidade sempre comprova a má condição moral do homem.~~
~~(E) indica que a modernidade mostra valores mais importantes para o homem do que os tempos passados.~~

Raciocínio Lógico-matemático

11 E

Rafael possui no bolso exatamente 16 notas, umas de 2 reais, as outras de 5 reais, totalizando a quantia de 53 reais. O número de notas de 2 reais que Rafael tem no bolso é

- ~~10 (A) 5.~~
- ~~12 (B) 6.~~
- ~~14 (C) 7.~~
- ~~16 (D) 8.~~
- 18 (E) 9.

12

Em um evento esportivo de uma empresa, 30 funcionários vestiam camiseta branca, 20 vestiam camiseta preta e, os demais, camiseta amarela. Nesse grupo, havia 12 membros da diretoria. Sabe-se, ainda, que 42 funcionários vestiam camisetas brancas ou pretas e não eram da diretoria. O número de funcionários da diretoria com camiseta amarela era

- (A) 4.
- (B) 5.
- (C) 6.
- (D) 8.
- (E) 10.

13

Um grupo formado por 2 homens e 3 mulheres formará uma fila. Essa fila deverá começar por um homem ou terminar por um homem.

O número de filas distintas possíveis é:

- (A) 36.
- (B) 48.
- (C) 84.
- (D) 96.
- (E) 120.

14 A

O diretor de uma empresa fez ao funcionário Miguel, do departamento financeiro, uma pergunta que foi prontamente respondida:

Diretor: — João disse que todos os funcionários receberam gratificação.

Miguel: — Não é verdade o que João disse.

Se o diretor considerou que Miguel falou a verdade, é correto concluir que

- (A) pelo menos um funcionário não recebeu gratificação.
- (B) nenhum funcionário recebeu gratificação.
- (C) um único funcionário não recebeu gratificação.
- (D) mais da metade dos funcionários não receberam gratificação.
- (E) somente um funcionário recebeu gratificação.

15

Em uma urna há 5 bolas iguais, cada uma com uma letra da sigla SEFAZ. Todas as bolas têm letras diferentes entre si.

Retiram-se, aleatoriamente, 2 bolas da urna.

A probabilidade de que tenham sido retiradas as 2 vogais é de

- (A) $\frac{1}{5}$.
- (B) $\frac{2}{5}$.
- (C) $\frac{3}{5}$.
- (D) $\frac{3}{10}$.
- (E) $\frac{1}{10}$.

16 B

Em certa quinta-feira o gerente de uma loja pediu ao seu funcionário para, com sua calculadora, multiplicar os preços de todos os produtos por 0,78, pois o dia seguinte seria a sexta-feira dos descontos.

O desconto que a loja estava oferecendo era de

- (A) 0,78%.
- (B) 78%.
- (C) 0,22%.
- (D) 22%.
- (E) 2,2%.

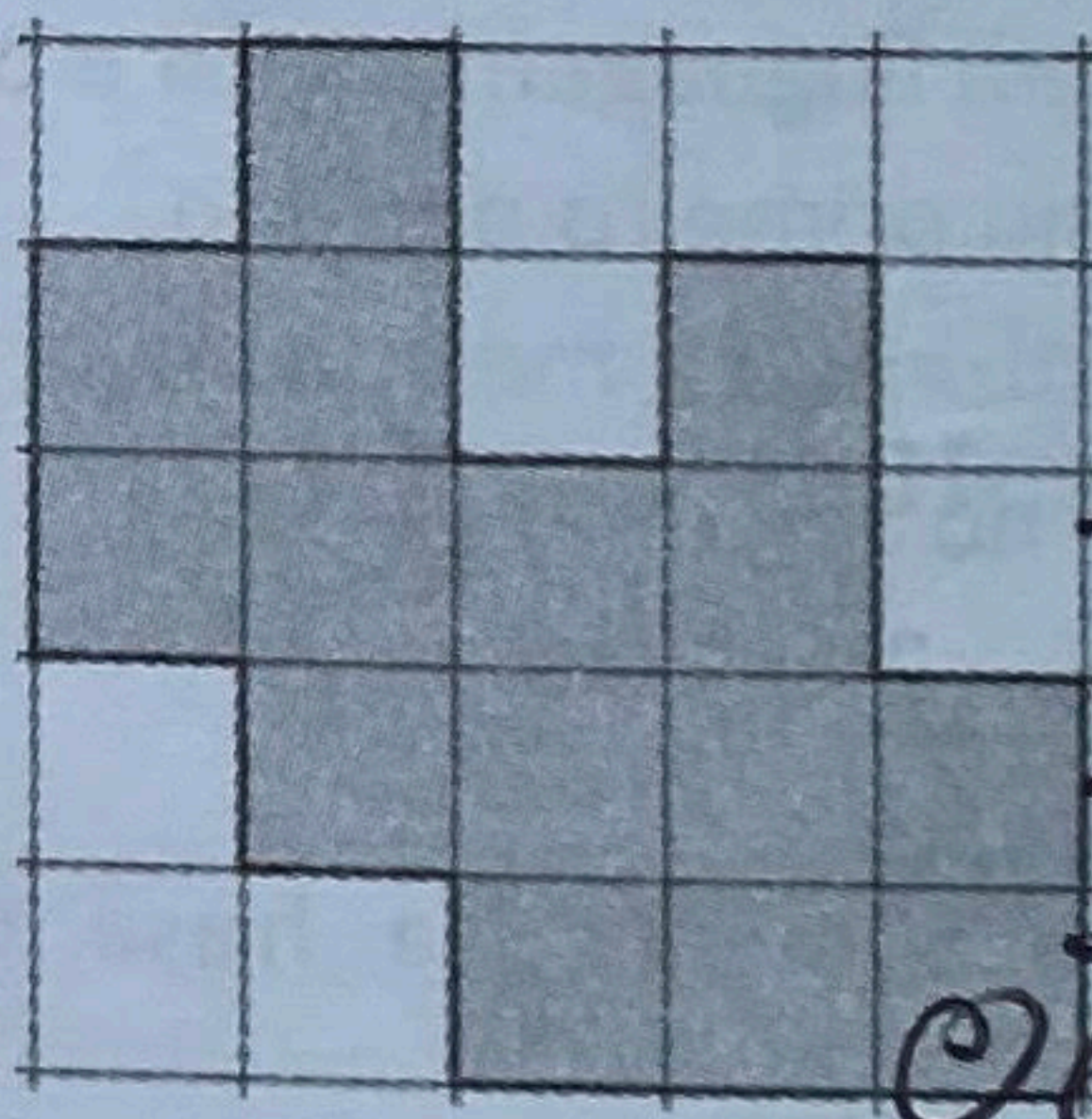
P. 0,78
100
~~0,78~~

10,00 - 20
15 - 30
40 -

17

A figura abaixo mostra um polígono sombreado desenhado sobre um quadriculado (papel coberto com linhas horizontais e verticais formando pequenos quadrados iguais).

5 - 10
5 - 10



50
x 0,78
400
350 -
0000

O perímetro do polígono é de 132 cm.

A área desse polígono, em cm², é igual a

- (A) 468.
- (B) 504.
- (C) 540.
- (D) 576.
- (E) 612.

18 E

Ana arruma o seu armário toda segunda sexta-feira de cada mês. Se Ana arrumou o seu armário no dia 11 de março, a arrumação seguinte ocorreu no dia

- (A) 6 de abril.
- (B) 7 de abril.
- (C) 8 de abril.
- (D) 9 de abril.
- (E) 10 de abril.

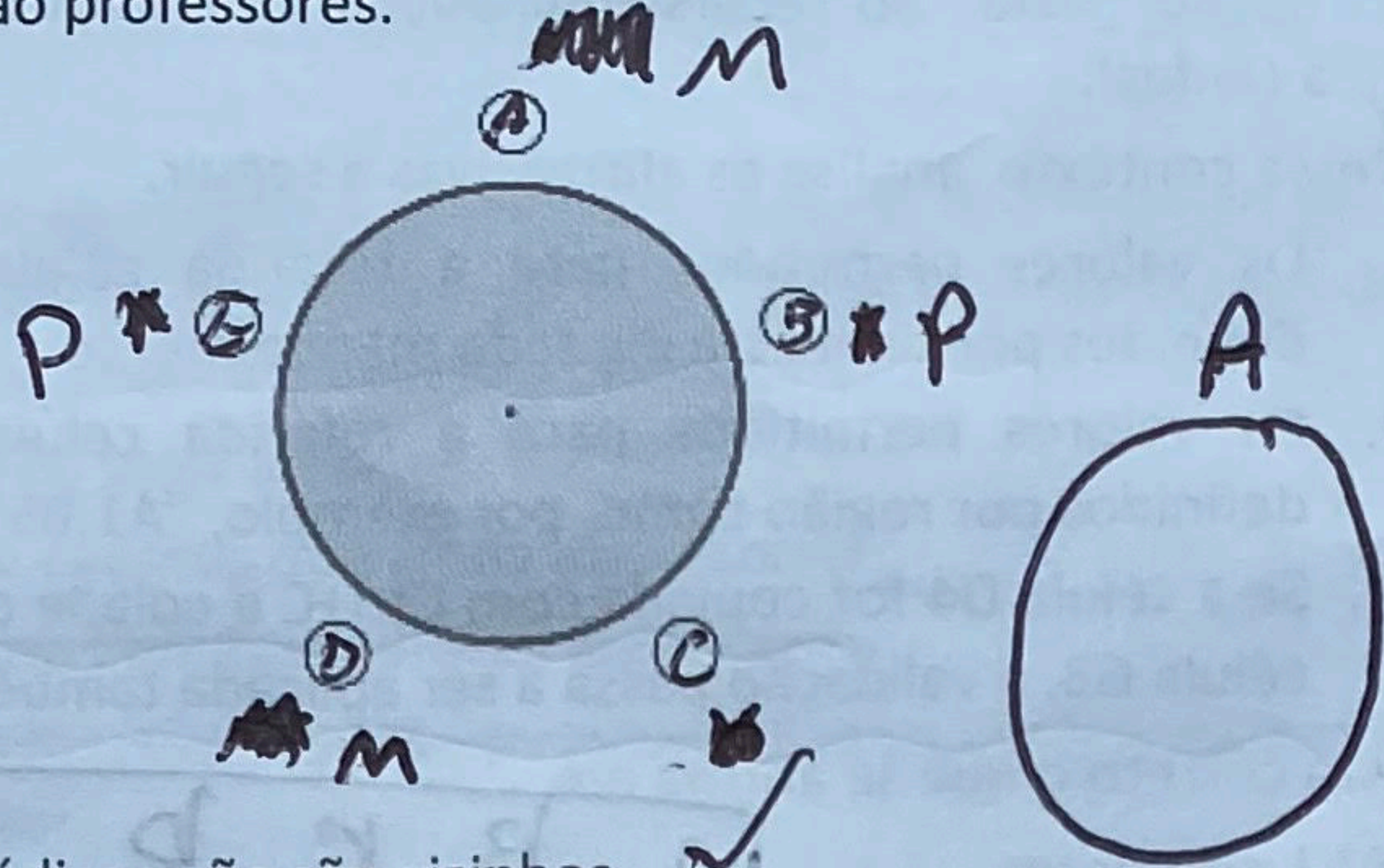
11 12 13 14 15 16 17 18
19 20 21 22 23 24 25
26 27 28 29 30 31

1 2 3 4 5 6 7 8 9

19 B

Há 5 pessoas sentadas em volta de uma mesa circular, e as iniciais de seus nomes são A, B, C, D e E. Dessas pessoas, 2 são médicos e 3 são professores.

D = M



Sabe-se que:

- Os dois médicos não são vizinhos.
- C tem um médico à esquerda e um professor à direita.
- A tem vizinhos da mesma profissão.
- B tem médico à direita.
- C e D não são vizinhos.

A partir de A, a sequência das pessoas no sentido anti-horário é:

- A B C D E
- ~~(A) ADBEC~~
 - ~~(B) AECBD~~
 - ~~(C) AFBDC~~
 - ~~(D) ABDCE~~
 - ~~(E) ABCDE~~

20 D

x e y são tais que $4x + 5y = 80$ e $6x + 7y = 116$.

O valor de $2x + 3y$ é

- (A) 38.
- (B) 40.
- (C) 42.
- (D) 44.
- (E) 46.

$$\begin{aligned} 4x + 5y &= 80 \\ 6x + 7y &= 116 \end{aligned} \quad x = \frac{560 - 570}{28 - 30}$$

$$x = \frac{-20}{-2} = 10$$

Noções de Tecnologia da Informação

21 A

No Word 2010, é possível trabalhar com diferentes Modos de Exibição de Documento.

Assinale a lista completa oferecida na guia Exibição.

- (A) Estrutura de Tópicos, Layout da Web, Layout de Impressão, Leitura em Tela Inteira.
- (B) Estrutura de Tópicos, Layout da Web, Layout de Impressão, Leitura em Tela Inteira, Rascunho.
- (C) Estrutura de Tópicos, Layout da Web, Layout de Impressão, Nova Janela.
- (D) Estrutura de Tópicos, Layout de Impressão, Leitura em Tela Inteira, Rascunho.
- (E) Layout da Web, Layout de Impressão, Leitura em Tela Inteira, Rascunho.

$$\begin{array}{r} 80 \\ \times 7 \\ \hline 560 \end{array} \quad \begin{array}{r} 116 \\ \times 5 \\ \hline 580 \end{array}$$

$$\begin{aligned} 4 \cdot 10 + 5y &= 80 \\ 40 + 5y &= 80 \\ 5y &= 80 - 40 \\ y &= 40 \end{aligned}$$

$$y = 8$$

22

João trabalha com muitas planilhas do Excel, e costuma imprimir certas páginas que são anexadas a relatórios ou arquivos históricos. Assim sendo, é importante que no ato da impressão sejam incluídos no cabeçalho, ou no rodapé, itens como:

- (1) data e hora,
- (2) nome do arquivo,
- (3) caminho completo (path) do arquivo e
- (4) número de páginas,

de modo que cada relatório seja claramente identificado.

Na guia Design, isso pode ser feito automaticamente pelo Excel para os itens

- (A) 1, 2, 3 e 4.
- (B) 1, 2 e 3, somente.
- (C) 1, 2 e 4, somente.
- (D) 1, 3 e 4, somente.
- (E) 3, 3 e 4, somente.

23 B

No contexto dos navegadores de Internet (browsers), tais como o Google Chrome, o cache "lembra" partes de páginas, como imagens, por exemplo, com o intuito de abri-las mais rapidamente numa próxima visita.

A respeito dessa prática, assinale a opção que indica um ponto desfavorável.

- (A) A impossibilidade de limpar (zerar) o cache.
- (B) A possibilidade de mostrar páginas e/ou imagens desatualizadas.
- (C) O retardo no processo de carga de uma página recentemente visitada.
- (D) O aumento do risco de vazamentos de dados críticos.
- (E) O aumento do risco de existência de vírus infiltrados no cache.

24 C

Sobre o comando Substituir, disponível na guia Página Inicial do Word 2010, considere as ações a seguir.

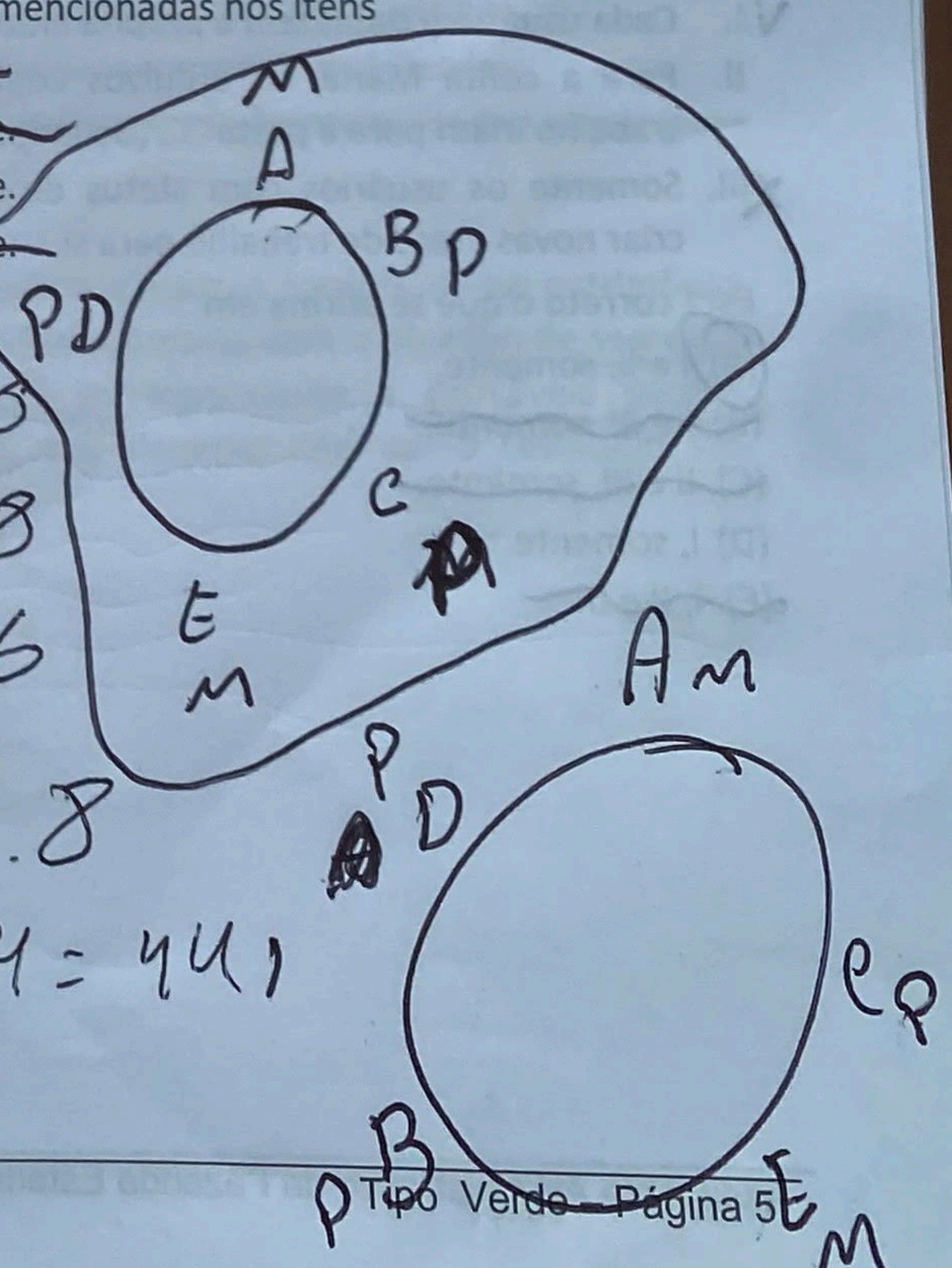
- (1) Usar caracteres "curinga".
- (2) Incluir o tipo de fonte no critério de localização.
- (3) Localizar uma quebra de linha manual.
- (4) Ignorar caracteres de pontuação.
- (5) Diferenciar maiúsculas e minúsculas.

São possíveis as ações mencionadas nos itens

- (A) 1, 3 e 5, somente.
- (B) 1, 2, 3 e 5, somente.
- (C) 1, 2, 4 e 5, somente.
- (D) 1, 3, 4 e 5, somente.
- (E) 1, 2, 3, 4 e 5.

$$\begin{aligned} 8 \times 5 &= 40 \\ 8 \times 6 &= 48 \\ 8 \times 7 &= 56 \end{aligned}$$

$$\begin{aligned} 2 \cdot 10 + 3 \cdot 8 \\ 20 + 24 &= 44 \end{aligned}$$



25 D ★

A respeito dos mecanismos de proteção do Excel 2010 para planilhas, pastas de trabalho e arquivos, analise as afirmativas a seguir.

Analisar essa

- I. A proteção que impede que outras pessoas abram um arquivo pode ser feita por meio da *senha de proteção*, digitada no curso dos procedimentos para "salvar" o arquivo.
- II. No caso da proteção de *Pastas de Trabalho*, proteger a *Estrutura* significa impedir a movimentação, exclusão e adição de planilhas.
- III. A proteção de planilhas objetiva a proteção de células, isoladamente ou em conjunto, de certas operações como, por exemplo, alterar uma fórmula ou usar o comando *Classificar* na guia *Dados*.

Está correto o que se afirma em

- (A) I e II, somente. ~~X~~
- (B) I e III, somente. ~~X~~
- (C) I e II, somente. ~~X~~
- (D) II e III, somente. ~~X~~
- (E) I, somente. ~~X~~

26 C

Análise a imagem de uma planilha Excel 2010, na qual foi acionado o rastreamento de precedentes das fórmulas.

	A	B	C	D
1	10			
2	20		64	2
3	34			
4			98	4
5				

Assinale a dependência entre células, total ou parcial, que não pode ser inferida da imagem

- (A) C4 depende de A1. ✓
- (B) C4 depende de C2. ✓
- (C) A3 depende de A1. ~~X~~
- (D) C4 depende de A2. ✓
- (E) C2 depende de A3. ✓

27 A

A respeito da *Área de Trabalho (Desktop)* no Windows 10, analise as afirmativas a seguir.

- I. Cada usuário (conta) tem a própria área de trabalho.
- II. Para a conta Maria, os arquivos copiados para a área de trabalho iriam para a pasta "C:\Usuários\Maria\".
- III. Somente os usuários com status de *administrador* podem criar novas áreas de trabalho para si.

Está correto o que se afirma em

- (A) I e II, somente. ✓
- (B) I e III, somente. ~~X~~
- (C) II e III, somente. ~~X~~
- (D) I, somente. ~~X~~
- (E) I, II e III. ~~X~~

28 B

Numa planilha nova do Excel 2010, foi aplicado à célula D4 um critério de validação na forma de um menu suspenso, por meio da opção "Lista" do recurso *Validação de Dados* (disponível na guia *Dados*).

Nesse contexto, analise as afirmativas a seguir.

- I. Os valores permitidos para a referida célula podem ser definidos por uma lista digitada manualmente.
- II. Os valores permitidos para a referida célula podem ser definidos por região como, por exemplo, "A1:B5".
- III. Se a célula D4 for copiada com Ctrl+C e colada com Ctrl+V na célula G3, a validação passa a ser aplicada também para G3.

Está correto o que se afirma em

- (A) I, somente. ~~X~~
- (B) I e II, somente. ✓
- (C) II e III, somente. ~~X~~
- (D) I e III, somente. ~~X~~
- (E) I, II e III. ~~X~~

	A	B	C	D	E	F	G
1							
2							
3							
4							
5							

29 E

A identificação de um dispositivo na Internet pode ser feita por um endereço IP.

Assinale a opção que indica o endereço IP válido.

- (A) @gov.br ~~X~~
- (B) http:// ~~X~~
- (C) #192/158/1/38:80 ~~X~~
- (D) x@y.com ~~X~~
- (E) 192.158.1.38 ✓

IPV4 0255
D4 63
63

30 D

No contexto do acesso às redes sociais, a conexão de celulares com computadores de mesa ou notebooks tem sido largamente empregada, como no caso do *WhatsApp*.

Nesse caso, o processo de reconhecimento e autenticação entre o computador e o celular está baseado

- (A) na senha do WhatsApp. ~~X~~
- (B) num cabo USB que conecta os dois aparelhos. ~~X~~
- (C) num código numérico que é enviado via e-mail. ~~X~~
- (D) num QR code exibido no computador e lido pela câmera do celular. ✓
- (E) numa conexão *Bluetooth* entre os dois aparelhos. ~~X~~

500/mês

X 1 = 6k / Sobrou 6k

<i>50.000</i>	<i>50.000</i>
<i>6.000</i>	<i>6.000</i>
<i>19.000</i>	<i>80.000</i>
<i>+ 80.000</i>	<i>136.000</i>
<i>151.000</i>	<i>- 54.000</i>
<i>- 54.000</i>	<i>82.000</i>
<i>97.000</i>	<i>- 5.000</i>
<i>- 5.000</i>	<i>77.000</i>
<i>92.000</i>	

J - Salários a pagar

$$\begin{array}{r} 500 \\ \times 12 \\ \hline 1000 \\ +500 \\ \hline 1500 \end{array}$$

1 ano = 365 / 12 = 30,4166... (handwritten as 30,4)

Módulo II
Contabilidade Geral

FGV

31A

Em relação às provisões, de acordo com o Pronunciamento Técnico CPC 25 - Provisões, Passivos Contingentes e Ativos Contingentes, assinale a afirmativa correta.

- (A) Têm prazo ou valor incertos.
- (B) Derivam de eventos que ainda irão ocorrer.
- (C) ~~Representam contas redutoras do ativo.~~
- (D) ~~Representam obrigações possíveis cuja existência será confirmada.~~
- (E) ~~Não são contabilizadas nas demonstrações contábeis, mas evidenciadas em notas explicativas.~~

32B

Uma sociedade empresária paga o salário de seus empregados no quinto dia do mês seguinte ao trabalhado.

O valor pago em fevereiro foi de R\$30.000.

Assinale a opção que indica os lançamentos contábeis realizados no dia do pagamento.

- (A) D- Despesa de salários: R\$30.000;
C- Caixa: R\$30.000.
 - (B) D- Salários a pagar: 30.000;
C- Caixa: R\$30.000.
 - (C) ~~D- Despesa de salários: R\$30.000;
C- Salários a pagar: R\$30.000.~~
 - (D) ~~D- Caixa: R\$30.000;
C- Salários a pagar: R\$30.000.~~
 - (E) ~~D- Salários a pagar: R\$30.000;
C- Despesa de salários: R\$30.000.~~
- Handwritten notes:* C - Caixa 30K, D - Salários a pagar, D - Despesa de salário

33E

Uma indústria vendeu uma de suas máquinas por R\$50.000, com o intuito de adquirir maquinário mais moderno.

Assinale a opção que indica a contabilização da receita com a venda na Demonstração do Resultado do Exercício da indústria.

- (A) Receitas comerciais.
 - (B) ~~Receitas financeiras.~~
 - (C) ~~Receitas operacionais.~~
 - (D) ~~Outras receitas operacionais.~~
 - (E) ~~Receitas não operacionais.~~
- Handwritten note:* NA DRE

34B

Uma sociedade empresária tinha um terreno, utilizado em seus negócios, que estava contabilizado por R\$100.000 em seu balanço patrimonial.

No final do exercício, a sociedade empresária realizou uma avaliação do teste de recuperabilidade em seus ativos imobilizados. Ela constatou que o valor justo líquido de despesas diretas de venda do terreno era de R\$90.000, enquanto seu valor em uso era de R\$110.000.

Assinale a opção que indica o impacto do teste nas contas patrimoniais da sociedade empresária.

- (A) Aumento no ativo. X
 - (B) Diminuição no ativo.
 - (C) Aumento no passivo. X
 - (D) Diminuição no passivo. X
 - (E) Não há impacto.
- Handwritten note:* 110

35D

Uma sociedade empresária apresentava os seguintes saldos em seu balanço patrimonial, em 31/12/X0.

- Caixa: R\$20.000;
- Estoque previsto para ser vendido em 90 dias: R\$50.000;
- Despesa de seguros dos veículos paga antecipadamente em 31/12/X0 e que será apropriada mensalmente de forma linear por dois anos: R\$12.000;
- Contas a receber em 120 dias: R\$60.000;
- Empréstimo a acionista com prazo de recebimento de 180 dias: R\$15.000;
- Veículos utilizados no transporte de funcionários com vida útil estimada em 5 anos: R\$80.000;
- Depreciação acumulada dos veículos: R\$54.000; ✓
- Perdas estimadas nos estoques: R\$5.000; e ✓
- ~~Perdas estimadas com crédito de liquidação duvidosa: R\$3.000.~~

Assinale a opção que indica o ativo realizável a longo prazo da sociedade empresária, em 31/12/X0:

- (A) R\$51.000.
 - (B) R\$66.000.
 - (C) R\$72.000.
 - (D) R\$77.000.
 - (E) R\$92.000.
- Handwritten calculations:* AÑC = 50.000, 6.000, 15.000, 30.000, (-) 54.000

36E

Uma sociedade empresária reconheceu de modo equivocado a baixa de estoque no ano de X0. No ano, todo o estoque foi vendido, no entanto, só metade do valor foi baixado de seu ativo.

Assinale a opção que indica o efeito do erro nas demonstrações contábeis da sociedade empresária.

- (A) ~~Subavaliação do ativo.~~
 - (B) ~~Subavaliação do patrimônio líquido.~~
 - (C) ~~Superavaliação das receitas de venda.~~
 - (D) ~~Superavaliação das despesas operacionais.~~
 - (E) ~~Superavaliação da despesa com imposto sobre a renda.~~
- Handwritten notes:* X0 ENT = 10K, C - 5K, Sobrou 5K

37C

Assinale a opção que indica o reconhecimento de um passivo no balanço patrimonial de uma entidade.

- (A) ~~Pagamento antecipado de despesa.~~
- (B) ~~Pagamento de um empréstimo bancário.~~
- (C) Reconhecimento de provisão para contingência.
- (D) ~~Reconhecimento do uso de um ativo imobilizado.~~
- (E) ~~Venda de estoque, sendo metade à vista e o restante a prazo.~~

38C

Assinale a opção que indica a reserva constituída no patrimônio líquido de uma sociedade empresária com o objetivo de segregar uma parcela de lucros, correspondente a prováveis perdas extraordinárias futuras, que deverão diminuir o resultado em exercícios futuros.

- (A) Legal.
- (B) ~~Estatutárias.~~
- (C) Para contingências.
- (D) ~~De lucros a realizar.~~
- (E) ~~De lucros para expansão.~~

Recebeu em FEV 800,00

Jan e - Obrigação

FEV - D - Obrigação
D - Caixa

39 D

Em janeiro de X0, uma loja de roupas recebeu a encomenda de um terno por R\$800,00. O termo deverá ser entregue ao cliente em fevereiro de X0 e seu custo total é de R\$300,00. O pagamento foi feito em duas parcelas de R\$400,00, a primeira em janeiro e a segunda em fevereiro.

Assinale a opção que indica a variação dos elementos patrimoniais, em fevereiro de X0, considerando que a sociedade empresária segue o Regime de Competência.

- ~~(A) Aumento no ativo, no passivo e no patrimônio líquido.~~
- ~~(B) Diminuição no ativo, no passivo e no patrimônio líquido.~~
- ~~(C) Aumento no ativo e no passivo e diminuição no patrimônio líquido.~~
- (D) Aumento no ativo e no patrimônio líquido e diminuição no passivo.
- (E) Diminuição no ativo e no passivo e aumento no patrimônio líquido.

Administração Geral

40 A

A qualidade das interações em um ambiente organizacional está diretamente relacionada com os tipos de rede de comunicação existentes, pelos quais são passadas as informações entre os colaboradores, tendo como exemplo tanto as ordens quanto os boatos.

Sobre os tipos de comunicação, assinale a afirmativa correta.

- (A) A comunicação informal utiliza canais que podem fluir em qualquer direção.
- (B) A comunicação informal utiliza canais que fluem apenas na direção horizontal.
- X(C) A comunicação formal utiliza canais que fluem essencialmente por meio de boatos.
- X(D) A comunicação formal utiliza canais que só podem ser percorridos por meio verbal.
- X(E) Tanto a comunicação formal quanto a informal devem ser estruturadas de forma explícita pelas autoridades da organização.

41 D

Análise o trecho a seguir, retirado do sítio oficial da SEFAZ-AM.

"Prover e controlar os recursos financeiros para o atendimento da função social do Estado, utilizando tecnologia de ponta, promovendo o comprometimento e a capacitação de seus colaboradores, buscando a satisfação e a integração consciente da sociedade, com transparência e observância dos princípios legais."

Com base no referencial estratégico do órgão, é correto afirmar que o trecho apresentado é um exemplo de

- (A) visão. X
- (B) valores. X
- (C) princípios. X
- (D) missão.
- (E) orientação. X

42 C

O tipo de abordagem que conceitua a qualidade como um aspecto semelhante à excelência, sendo vista como algo absoluto e universalmente reconhecível, é

- (A) baseada no usuário.
- (B) baseada no produto.
- (C) transcendente.
- (D) específica.
- (E) de conformidade.

43 C

Acho que não tem resposta

As teorias da administração desenvolvidas por estudiosos americanos tiveram um papel decisivo na economia mundial, estabelecendo métodos mais sofisticados para a produção e extinguindo práticas rudimentares baseadas em meras tradições.

Acerca do processo administrativo, analise as afirmativas a seguir.

- X I. A teoria da administração científica previa um modelo administrativo com aspectos mais orgânicos, valorizando e incentivando a autonomia decisória de cada colaborador.
- X II. A teoria da burocracia incentivava a impessoalidade nas relações e a padronização dos procedimentos.
- III. A teoria comportamental baseava seus métodos no estudo de tempos e movimentos de cada atividade.

Está correto o que se afirma em

- (A) I, apenas. X
- X (B) II, apenas. X
- X (C) III, apenas. X
- X (D) I e II, apenas. X
- (E) I e III, apenas. X

44

chute

Um novo gerente de projetos de uma empresa da Zona Franca de Manaus, ao realizar seu primeiro empreendimento, tem dúvidas sobre a definição de custos, riscos e custos de mudança de cada uma das fases do ciclo de vida de um projeto.

Em função disso, ele realiza uma pesquisa no seu guia PMBOK, chegando à conclusão de que

- (A) os custos de mudança do projeto vão crescendo com o andamento do projeto, mas decaem rapidamente ao chegar na fase de avaliação.
- X (B) os riscos de um projeto aumentam consideravelmente à medida que o projeto vai percorrendo as fases de seu ciclo de vida.
- (C) os custos de execução aumentam até o final da fase de organização e preparação, iniciando seu processo de queda a partir daí, até atingir seu nível mínimo no encerramento.
- X (D) os riscos relacionados a um projeto, por serem incontornáveis, permanecem constantes até chegar ao seu final.
- X (E) a fase de execução é o momento do ciclo de vida no qual os custos e o nível de pessoal atingem seu nível máximo.

45

Acerca dos tipos de planejamento de uma organização, avalie as assertivas a seguir.

- I. Ênfase em aspectos orientados para acontecimentos do momento presente, utilizando um horizonte temporal de médio prazo.
- II. Direcionamento para questões relacionadas ao "como" executar as atividades, pautando-se pela implementação prática dos planos.
- III. Determinações elaboradas de forma abrangente e com pouca especificação, assumindo um caráter, por vezes, demasiadamente genérico.

A respeito do planejamento estratégico, está correto o que se afirma em

- ~~(A) I, apenas.~~
- (B) II, apenas.
- (C) III, apenas.
- ~~(D) I e II, apenas.~~
- ~~(E) I e III, apenas.~~

46

A SEFAZ-AM estabeleceu, como meta de início do ano, o aumento da motivação de seus servidores. Em virtude disso, o Secretário de Fazenda contratou uma consultoria especializada para desenvolver mecanismos motivacionais a serem implementados no órgão, utilizando, para isso, a fundamentação da teoria dos dois fatores.

Com base no apresentado, segundo a *teoria dos dois fatores*, assinale a opção que apresenta uma medida motivacional.

- (A) Um aumento salarial dos servidores em índice superior à inflação.
- (B) Uma melhora nas condições físicas do ambiente de trabalho, por meio da instalação de ar condicionado.
- (C) Uma ampliação do pacote de benefícios mensais, com a garantia de descontos em estabelecimentos parceiros.
- (D) Um programa de metas de arrecadação mais desafiadoras, priorizando o reconhecimento pelos resultados.
- (E) Um cronograma de solenidades sociais mensais, visando estimular as interações entre os colegas de trabalho.

47

Considere que Aline, servidora da Secretaria de Fazenda do Amazonas (SEFAZ-AM) e ocupante de cargo comissionado de chefia, é a responsável pelas principais ideias de melhoria dos processos do órgão, recebendo, por isso, grande reconhecimento por parte de seus colegas de trabalho.

Analisando a questão à luz dos papéis exercidos pela administradora, Aline assume um papel de

- (A) negociadora, do tipo símbolo.
- (B) monitora, do tipo informacional.
- (C) elemento de ligação, do tipo interpessoal.
- (D) porta-voz, do tipo disseminador.
- (E) empreendedora, do tipo decisório.

Informacional x
Interpessoal x
Decisório

48

De acordo com as diferentes teorias desenvolvidas para explicar o processo de liderança, é correto afirmar que a teoria dos traços

- (A) está focada na análise das características pessoais e inatas do líder.
- (B) considera o comportamento dos subordinados como fator preponderante.
- (C) avalia o peso dos aspectos ambientais e sua influência na direção.
- (D) estabelece um conjunto de qualidades a serem aprendidas para a aquisição de autoridade.
- (E) admite apenas regras legais para a atribuição do poder.

Noções de Administração Financeira e Orçamentária

49

De acordo com a Constituição Federal de 1988, nenhum investimento cuja execução ultrapasse um exercício financeiro, poderá ser iniciado sem lei que autorize a inclusão, ou sem prévia inclusão, no(a)

- (A) Plano Plurianual.
- (B) Lei de Diretrizes Orçamentárias.
- (C) Lei Orçamentária Anual.
- (D) Orçamento Federal.
- (E) Orçamento de Capital.

50

Em relação aos estágios da despesa pública, o empenho, a liquidação e o pagamento fazem parte do estágio de

- ~~(A) planejamento.~~
- (B) execução.
- ~~(C) apropriação.~~
- ~~(D) lançamento.~~
- ~~(E) reconhecimento.~~

Fixação
Empenho
Liquidação
Pagamento

51

Assinale a opção que indica o estágio da receita pública que corresponde à entrega dos recursos devidos ao Tesouro.

- (A) Previsão.
- (B) Lançamento.
- (C) Arrecadação.
- (D) Recolhimento.
- (E) Recebimento.

52

De acordo com a Constituição Federal de 1988, as emendas ao projeto de lei do orçamento anual ou aos projetos que o modificam somente podem ser aprovadas nos casos apresentados a seguir, à exceção de um. Assinale-o.

- (A) Quando se relacionam com o serviço da dívida.
- ~~(B) Quando se relacionam com os dispositivos do texto do projeto de lei.~~
- ~~(C) Quando se relacionam com a correção de erros ou omissões.~~
- ~~(D) Quando são compatíveis com o plano plurianual e com a lei de diretrizes orçamentárias.~~
- (E) Quando indicam os recursos necessários, admitidos apenas os provenientes de anulação de despesas, excluídas as que incidam sobre dotações para pessoal e seus encargos, serviço da dívida e transferências tributárias constitucionais para os Estados, os Municípios e o Distrito Federal.

53 D

Assinale a opção que indica o princípio orçamentário segundo o qual a lei orçamentária não poderá conter matéria estranha à fixação das despesas e à previsão das receitas.

- (A) Anualidade.
- (B) Clareza.
- (C) Equilíbrio.
- (D) Exclusividade.
- (E) Legalidade.

54 C

Segundo a Lei nº 4.320/1964, assinale a opção que apresenta as duas categorias econômicas em que as receitas orçamentárias são classificadas.

- (A) Públicas e privadas.
- (B) Originárias e derivadas.
- (C) Correntes e de capital.
- (D) Ordinárias e extraordinárias.
- (E) Operacionais e patrimoniais.

Despesas
Corrente } *Capital*
• Custo } *• Invest*
• Te } *• Amort*
• Imerso

55 B

Assinale a opção que indica uma diferença entre despesas correntes e despesas de capital.

- (A) As despesas de capital não são contempladas no orçamento, enquanto as despesas correntes são.
- (B) As despesas de capital contribuem diretamente para a formação ou aquisição de um bem de capital, enquanto as despesas correntes não.
- (C) As despesas de capital são aquelas sobre as quais incorrem juros, enquanto as despesas correntes não.
- (D) As despesas de capital são incorridas com terceiros, enquanto as despesas correntes são realizadas com órgãos e demais entidades da Administração Pública integrantes do orçamento do mesmo ente federativo.
- (E) As despesas de capital são liquidadas após o exercício financeiro enquanto, as correntes, durante o exercício.

56 E

De acordo com o princípio orçamentário do Orçamento Bruto

- (A) as receitas e as despesas não podem estar vinculadas à entidade específica.
- (B) as informações sobre todas as receitas e as despesas brutas devem ser divulgadas amplamente para a sociedade.
- (C) a apresentação das receitas e das despesas brutas deve ser clara e de fácil compreensão para a população.
- (D) a lei orçamentária de cada ente federado deverá conter as receitas e as despesas de todos os poderes, órgãos, entidades, fundos e fundações.
- (E) as receitas e as despesas devem ser registradas na lei orçamentária pelo valor total e bruto, sem deduções.

Módulo III

Noções de Direito Administrativo

57 C

Em matéria de controle externo da Administração Pública, de acordo com o texto da Constituição da República, ao Tribunal de Contas compete apreciar, para fins de registro, a legalidade dos atos de admissão de pessoal, a qualquer título, na administração

- (A) direta, incluídas as nomeações para cargo de provimento em comissão, bem como a das concessões de aposentadorias, reformas, pensões e as melhorias posteriores, ainda que não alterem o fundamento legal do ato concessório.
- (B) direta, incluídas as fundações públicas, bem como a das concessões de aposentadorias, reformas e pensões, incluindo as melhorias posteriores que não alterem o fundamento legal do ato concessório.
- (C) direta e indireta, bem como a das concessões de aposentadorias, reformas e pensões, incluindo as melhorias posteriores que não alterem o fundamento legal do ato concessório.
- (D) direta e indireta, incluídas as nomeações para cargo de provimento em comissão, bem como a das concessões de aposentadorias, reformas e pensões, ressalvadas as melhorias posteriores que não alterem o fundamento legal do ato concessório.
- (E) direta e indireta, incluídas as fundações instituídas e mantidas pelo Poder Público, excetuadas as nomeações para cargo de provimento em comissão, bem como a das concessões de aposentadorias, reformas e pensões, ressalvadas as melhorias posteriores que não alterem o fundamento legal do ato concessório.

58 C

Marcelo é servidor público estável, ocupante de cargo efetivo da administração direta e acaba de se eleger para o cargo eletivo de Prefeito municipal.

De acordo com as disposições da Constituição da República sobre o tema, Marcelo, no exercício de mandato eletivo,

- (A) receberá as vantagens de seu cargo efetivo, se houver compatibilidade de horários para acumulação, sem prejuízo da remuneração do cargo eletivo.
- (B) poderá acumular as funções do cargo eletivo com o cargo efetivo, se houver compatibilidade de horário, mas deverá auferir exclusivamente o subsídio de Prefeito.
- (C) será afastado do cargo efetivo e terá seu tempo de serviço contado para todos os efeitos legais, exceto para promoção por merecimento.
- (D) deverá ser exonerado do cargo efetivo, sob pena de cassação de sua diplomação e responsabilização por improbidade administrativa em razão de acumulação ilícita de cargos.
- (E) será afastado do cargo efetivo e, na hipótese de ser segurado de regime próprio de previdência social, será extinta sua filiação a esse regime, no ente federativo de origem.

59D

chute

De acordo com a Lei Geral de Proteção de Dados Pessoais (LGPD), o tratamento de dados pessoais sensíveis somente poderá ocorrer em algumas situações, como sem fornecimento de consentimento do titular, nas hipóteses em que for indispensável para

- (A) a proteção da vida ou da incolumidade física do titular, mas não de terceiro.
- X(B) o exercício regular de direitos em processo judicial, vedada a utilização em processo administrativo e arbitral.
- (C) a realização de estudos por órgão de pesquisa, vedada a anonimização dos dados pessoais sensíveis.
- (D) o tratamento compartilhado de dados necessários à execução, pela administração pública, de políticas públicas previstas em leis ou regulamentos.
- (E) a tutela da saúde, exclusivamente, em procedimento realizado por autoridade sanitária, excluídos os demais profissionais e serviços de saúde.

60C

José estacionou sua moto em local proibido, de maneira que o agente público competente lhe aplicou uma multa, prevista na legislação de regência.

De acordo com a doutrina de Direito Administrativo, no caso em tela, a multa aplicada a José está baseada na prerrogativa da Administração Pública que decorre do exercício do poder administrativo

- (A) hierárquico.
- (B) disciplinar.
- (C) de polícia.
- (D) normativo.
- (E) regulamentar.

61E chute / dúvida

A empresa pública X, do Estado Beta tem por finalidade prestar determinado serviço público. De acordo com o regime jurídico que lhe aplicável, é correto afirmar que a empresa pública X

- X(A) é constituída, necessariamente, na forma de sociedade anônima e integra a Administração Indireta.
- X(B) ostenta personalidade jurídica de direito público e integra a Administração Indireta.
- (C) goza das prerrogativas processuais aplicadas ao Estado e integra a Administração Indireta.
- (D) está sujeita ao regime da responsabilidade civil subjetiva pelos danos que seus agentes, nessa qualidade, causarem a terceiros, assegurado o direito de regresso contra o responsável nos casos de dolo ou culpa.
- (E) pode efetivar pagamento de remuneração acima do teto remuneratório do serviço público aos seus empregados, caso não receba recursos do Estados para pagamento de despesas de pessoal ou de custeio em geral.

FGV

62E

chute

De acordo com a Lei de acesso à informação (Lei nº 12.527/2011), qualquer interessado poderá apresentar pedido de acesso a informações aos órgãos e entidades sujeitos a tal lei, por qualquer meio legítimo, devendo o pedido conter a identificação do requerente e a especificação da informação requerida.

- Nesse contexto, o citado diploma legal estabelece que
- X(A) pode a identificação do requerente conter exigências que eventualmente inviabilizem a solicitação para o acesso a informações de interesse público.
 - X(B) são vedadas quaisquer exigências relativas aos motivos determinantes da solicitação de informações de interesse público.
 - (C) deve o órgão ou entidade pública autorizar ou conceder o acesso à informação de sua competência no prazo máximo de 5 (cinco) dias, sob pena de responsabilidade.
 - (D) não pode o órgão ou entidade oferecer meios para que o próprio requerente possa pesquisar a informação de que necessitar, pois tal conduta equivale à negativa de acesso à informação e enseja responsabilização administrativa.
 - (E) devem os órgãos e entidades do poder público atender aos pedidos de informação apresentados pessoalmente, sendo-lhes facultado viabilizar alternativa de encaminhamento de pedidos de acesso por meio de seus sítios oficiais na internet.

63B

chute

De acordo com a nova Lei de Licitações (Lei nº 14.133/2021), o planejamento de compras deverá considerar a expectativa de consumo anual e observar alguns requisitos, como o seguinte:

- X(A) condições de aquisição e pagamento semelhantes às do setor privado.
- (B) processamento sempre por meio de sistema de registro de preços.
- X(C) condições de guarda e armazenamento que viabilizem o menor preço, ainda que tais condições permitam a deterioração do material.
- X(D) economicidade, vedado o atendimento ao princípio do parcelamento, ainda que seja tecnicamente viável e economicamente vantajoso;
- (E) determinação de unidades e quantidades a serem adquiridas em função de consumo e utilização, tendo como referência o exercício anterior, com estimativa que será obtida mediante adequadas técnicas quantitativas, vedado o fornecimento contínuo.

64B

O empresário João obteve do poder público licença para funcionamento de um hotel. Seis meses após o início das atividades de seu estabelecimento, João mudou a finalidade do empreendimento, que passou a ser um misto de casa de show e de motel, sem qualquer comunicação ou ciência do poder público.

Tendo em vista que, de forma superveniente à concessão da licença, João, por sua culpa, descumpriu os requisitos do ato de sua concessão, haverá a extinção do ato administrativo de licença por meio da

- (A) caducidade.
- X(B) cassação.
- (C) contraposição.
- (D) revogação.
- (E) convalidação.

Noções de Direito Constitucional

65 D

Maria, servidora pública municipal ocupante de cargo de provimento efetivo e com ampla atuação nas questões afetas à sua categoria, conclamou os seus colegas a criar um sindicato visando à defesa dos seus interesses.

À luz da sistemática constitucional, é correto afirmar que Maria e seus colegas

- (A) não podem criar um sindicato, pois somente os servidores públicos federais possuem o direito de associação sindical.
- (B) não podem criar um sindicato, pois é vedado aos servidores públicos a associação sindical.
- (C) somente podem criar um sindicato a partir de autorização do regime jurídico da categoria.
- (D) podem criar um sindicato, pois é assegurado aos servidores o direito à associação sindical.
- (E) somente podem criar um sindicato a partir de autorização do seu superior hierárquico.

66 A

Joana, servidora pública federal, por ter preenchido os requisitos exigidos, requereu ao setor competente da Administração Pública Federal a sua aposentadoria voluntária por tempo de contribuição.

Nesse caso, de acordo com a ordem constitucional,

- (A) deve ser deferido o ato de aposentadoria, que estará sujeito ao posterior registro no Tribunal de Contas.
- (B) deve ser deferido o ato de aposentadoria, o qual, em virtude da separação dos poderes, não está sujeito à análise de outro órgão.
- (C) deve ser colhido o parecer prévio do Tribunal de Contas e, uma vez sanadas as pendências, deferido o ato de aposentadoria.
- (D) deve ser apresentada manifestação favorável ao ato de aposentadoria, que estará sujeito à posterior aprovação do Tribunal de Contas.
- (E) deve ser deferido o ato de aposentadoria, que está sujeito a parecer do Tribunal de Contas e posterior aprovação do Congresso Nacional.

67 D

João questionou sua professora de Direito Constitucional a respeito da classificação, quanto à aplicabilidade e à eficácia, da norma obtida a partir da interpretação do Art. 91, § 2º, da Constituição da República de 1988, preceito que tem o seguinte teor: "a lei regulará a organização e o funcionamento do Conselho de Defesa Nacional".

A professora respondeu corretamente que se trata de norma de eficácia

- (A) contida e aplicabilidade direta. ✗
- (B) plena e aplicabilidade imediata. ✗
- (C) plena e de aplicabilidade direta. ✗
- (D) limitada e de aplicabilidade indireta, de princípio institutivo.
- (E) limitada e de aplicabilidade indireta, de natureza programática. ✗

68 B

Pedro possuía uma dívida e tinha receio de ser preso caso não realizasse o respectivo pagamento. Por essa razão, procurou um advogado e o consultou sobre a possibilidade de o seu temor se concretizar e, conseqüentemente, vir a ser preso.

O advogado respondeu corretamente que, de acordo com a ordem constitucional brasileira, Pedro

- (A) não poderia ser preso por dívida, qualquer que seja a origem da obrigação jurídica.
- (B) poderia ser preso apenas se deixasse de pagar, de modo voluntário e inescusável, dívida de obrigação alimentícia.
- (C) poderia ser preso apenas se não pagasse dívida de obrigação alimentícia, de modo voluntário e inescusável, ou fosse depositário infiel.
- (D) poderia ser preso por dívida caso a condenação fosse imposta por autoridade jurisdicional e não fosse pago o respectivo valor no prazo estipulado.
- (E) poderia ser preso apenas se deixasse de pagar, de modo voluntário e inescusável, dívida tributária ou qualquer outra que tenha como credor criança, adolescente ou idoso.

69 B

Ivan, brasileiro nato, durante o período de serviço militar obrigatório para o qual fora convocado, decidiu concorrer ao cargo eletivo de vereador nas eleições que se realizariam em pouco menos de um ano.

À luz da sistemática constitucional, é correto afirmar que Ivan

- (A) pode se alistar como eleitor, mas, por ser conscrito, não pode concorrer a qualquer cargo eletivo.
- (B) não pode se alistar como eleitor, por ser conscrito, o que o impede de concorrer a um cargo eletivo.
- (C) não pode se alistar como eleitor, vedação que alcança todos os militares, o que o impede de concorrer a um cargo eletivo.
- (D) pode se alistar como eleitor, mas, a exemplo de todos os militares, não pode concorrer a um cargo eletivo.
- (E) pode se alistar como eleitor, por ser brasileiro nato e maior de dezoito anos, e pode se candidatar a um cargo eletivo.

70 C

★

John, de nacionalidade norte-americana, devidamente autorizado pela autoridade competente, reside há mais de vinte anos no território brasileiro.

Interessado em obter a nacionalidade brasileira, procurou um(a) advogado(a) e o(a) questionou sobre os requisitos estabelecidos pela ordem constitucional para que isto viesse a ocorrer.

O advogado respondeu, corretamente, que John

- (A) adquirirá tacitamente a nacionalidade brasileira pelo decurso do tempo.
- (B) ao completar vinte e cinco anos residindo no território brasileiro, terá reconhecida tacitamente a nacionalidade brasileira.
- (C) irá adquirir a nacionalidade brasileira quando preenchidos os demais requisitos objetivos previstos na Constituição Federal de 1988.
- (D) é brasileiro nato, desde que não tenha saído do território brasileiro nesse período e não tenha condenação penal.
- (E) pode requerer a nacionalidade brasileira, desde que não tenha condenação penal.

71 **C** *

Determinado grupo político defendia que o aperfeiçoamento da Federação passava pela adoção de medidas administrativas visando ao aprimoramento da situação dos Territórios Federais, que teriam tido sua importância minimizada pela Constituição de 1988.

Um grupo de oposição respondeu, corretamente, que esses entes (A) têm as mesmas competências legislativas dos Estados e do Distrito Federal, logo, não há o que aprimorar.

X(B) têm as mesmas competências legislativas dos Municípios, logo, não há o que aprimorar.

(C) não integram a Federação Brasileira.

X(D) caso estejam constituídos na atualidade, somente podem ter a sua situação alterada por Lei complementar.

X(E) não podem ter a sua situação jurídica alterada, sob pena de afronta ao pacto federativo, que é uma cláusula pétrea.

72 **A**

O Presidente da República foi comunicado por um de seus assessores a respeito da vacância de diversos cargos no âmbito dos Poderes (1) Legislativo e (2) Judiciário da União, bem como do (3) ~~Ministério Público~~ e do (4) ~~Ministério da Economia~~. O assessor ainda ressaltou que não havia vacâncias no âmbito do Tribunal de Contas da União.

À luz da sistemática constitucional, é correto afirmar que o Presidente da República tem competência, ainda que de caráter restrito, limitada a um ou a alguns cargos, para nomear agentes para as estruturas de poder referidas apenas em

(A) 2, 3 e 4.

(B) 3 e 4.

(C) 3. X

(D) 4. X

(E) 1, 2 e 4. X

Noções de Direito Tributário

73 **L**

Um tributo muito recente no nosso ordenamento jurídico é a Contribuição de Iluminação Pública, sendo que o Supremo Tribunal Federal declarou inconstitucional a Taxa de Iluminação Pública.

Sobre a Contribuição de Iluminação Pública, assinale a afirmativa correta.

X(A) Pode ser instituída por Municípios e Estados.

(B) Deve ser cobrada apenas das pessoas jurídicas com sede no município.

(C) Pode ser cobrada na fatura de consumo de energia elétrica.

(D) Não precisa respeitar o princípio da anterioridade nonagesimal.

(E) Pode ser cobrada no mesmo exercício em que for instituída.

74 **E**

Determinado Estado da Federação, preocupado com a falta de moradias populares, que geram grande favelização, criou contribuição social num valor fixo mensal de R\$500,00 (quinhentos reais) por imóvel, das pessoas que tenham mais de dois imóveis registrados em seus nomes.

A criação de tal tributo (A) é possível, desde que não incida sobre os dois primeiros imóveis da pessoa.

X(B) não é possível, por ser um *bis in idem* com o IPTU.

X(C) não é possível, pela vedação ao confisco.

X(D) é possível para a criação de casas populares ou aquisição de imóveis, apenas para pessoas de baixa renda.

(E) não é possível, pois os Estados não podem criar contribuições sociais.

75 **A**

Determinado Estado da Federação cria uma universidade estadual, como uma autarquia, e passa a oferecer alguns cursos pagos.

Sobre esses cursos, haverá incidência do Imposto sobre a Renda?

(A) Não. A autarquia estadual goza da mesma imunidade dos Estados em relação ao seu patrimônio e renda.

X(B) Sim, pois a autarquia estadual não tem imunidade dos Estados.

X(C) Não, pois o ensino universitário está isento de Imposto sobre a Renda.

X(D) Sim. Haverá incidência se houver convênio com particulares.

(E) Sim, pois há contraprestação ou pagamento de preços ou tarifas pelo usuário.

76

chutar

Na Constituição Federal de 1988, muitos princípios em matéria tributária garantem que os contribuintes não serão surpreendidos pelo Fisco com novas cobranças e venham a ter problemas com seu planejamento financeiro.

Assim, o princípio da anterioridade nonagesimal ou noventa não se aplica

(A) ao Imposto sobre Propriedade Predial e Territorial Urbana, ao Imposto sobre a Renda e ao Imposto de Importação.

(B) ao Imposto de Propriedade Territorial Rural, ao Imposto sobre a Renda e ao Imposto de Exportação.

(C) ao Imposto de Importação, ao Imposto sobre a Renda e ao Imposto de Exportação.

X(D) aos Impostos Extraordinários no caso de guerra externa, ao Imposto de Propriedade Territorial Rural e ao Imposto de Importação.

X(E) ao Imposto sobre Produtos Industrializados, ao Imposto sobre a Renda e ao Imposto sobre Propriedade Predial e Territorial Urbana.

77A

João dos Santos, entrou com uma ação na Justiça Estadual do Amazonas requerendo que possa parar de pagar o Imposto sobre Propriedade de Veículos Automotores (IPVA), além da devolução dos últimos 5 anos, pois na estrada que usa para chegar ao trabalho, apesar das inúmeras reclamações, há um buraco no asfalto que danifica todos os veículos.

Sobre a pretensão de João, assinale a afirmativa correta.

- (A) Não assiste razão a João, pois não se pode cobrar a destinação legal de imposto.
- (B) Sim, assiste razão a João, desde que comprovados os danos.
- (C) Sim, assiste razão a João, desde que comprovadas as reclamações na Secretaria competente.
- (D) Não assiste razão a João, pois só a Associação de Moradores teria legitimidade para entrar com a ação.
- (E) Sim, assiste razão a João, desde que não tenha recebido multas no período.

78D

Nosso sistema tributário caracteriza-se por tributos específicos que devem ser recolhidos por cada ente federativo.

Tratando apenas de impostos, assinale a opção que indica os que são de competência dos Estados.

- (A) O ITBI, o ICMS e o IPVA.
- (B) O ITCMD, o IPI e o ICMS.
- (C) O ITBI, o ICMS e o IPTU.
- (D) O ITCMD, o ICMS e o IPVA.
- (E) O ICMS, o IPVA e a COSIP.

79

Os regimes próprios de previdência dos servidores públicos são custeados também por contribuições destes.

Sobre as contribuições previdenciárias dos servidores públicos dos Estados, é correto afirmar que

- (A) têm que ter alíquotas iguais ou maiores que a dos servidores da União.
- (B) incidem sobre o valor das aposentadorias e não das pensões.
- (C) têm alíquotas fixas.
- (D) incidem sobre o valor das aposentadorias e pensões, em valor que extrapola o teto do regime geral da Previdência Social.
- (E) não precisam respeitar o princípio da anterioridade nonagesimal.

80B

Uma loja de roupas femininas estava transportando produtos de uma de suas filias para outra, tendo sido autuada e multada pela Receita Estadual pela ausência de nota fiscal.

Sobre a cobrança da multa, assinale a afirmativa correta.

- (A) Não está correta, por não incidir ICMS na transferência de mercadorias entre estabelecimentos do mesmo titular.
- (B) Está correta por se tratar de obrigação acessória, que pode acarretar multa em caso de descumprimento.
- (C) Não está correta, pois a atitude correta seria a apreensão das mercadorias.
- (D) Não está correta, pois não é necessária nota fiscal para tal transferência.
- (E) Só seria possível se houvesse cobrança de ICMS.