



# **1º Simulado** **IBGE**

**Agente Censitário de  
Pesquisas por Telefone**

93

# Simulado

1º Simulado IBGE – Cargo Agente Censitário de Pesquisas por Telefone - Pós-Edital

Nome: \_\_\_\_\_

## INFORMAÇÕES SOBRE O SIMULADO EXCLUSIVO

- 1 – Este provão conta com questões focadas no concurso do IBGE;
- 2 – A prova contém **60 questões** que abordam conhecimentos cobrados nos últimos editais do concurso;
- 3 – As questões são inéditas e foram elaboradas pelos nossos professores com base no perfil dos últimos concursos do IBGE;
- 4 – Este PDF foi enviado por e-mail, disponibilizado na área do aluno e em um artigo publicado no blog do Estratégia Concursos;
- 5 – Os participantes têm das **8:00 às 12:00** para responder às questões e preencher o Gabarito Eletrônico;
- 6 – O link para preencher o formulário com seu gabarito está localizado na última página deste PDF;
- 7 – O Gabarito do Simulado e o Ranking Classificatório com nota serão divulgados no blog do Estratégia Concursos.

**PREENCHA SEU GABARITO NO LINK - <https://bit.ly/Simulado-IBGE-ACPT-06-02>**

- |                |                |                |
|----------------|----------------|----------------|
| 01 – A B C D E | 20 – A B C D E | 41 – A B C D E |
| 02 – A B C D E | 21 – A B C D E | 42 – A B C D E |
| 03 – A B C D E | 22 – A B C D E | 43 – A B C D E |
| 04 – A B C D E | 23 – A B C D E | 44 – A B C D E |
| 05 – A B C D E | 24 – A B C D E | 45 – A B C D E |
| 06 – A B C D E | 25 – A B C D E | 46 – A B C D E |
| 07 – A B C D E | 26 – A B C D E | 47 – A B C D E |
| 08 – A B C D E | 27 – A B C D E | 48 – A B C D E |
| 09 – A B C D E | 28 – A B C D E | 49 – A B C D E |
| 10 – A B C D E | 29 – A B C D E | 50 – A B C D E |
| 11 – A B C D E | 30 – A B C D E | 51 – A B C D E |
| 12 – A B C D E | 31 – A B C D E | 52 – A B C D E |
| 13 – A B C D E | 32 – A B C D E | 53 – A B C D E |
| 14 – A B C D E | 33 – A B C D E | 54 – A B C D E |
| 15 – A B C D E | 34 – A B C D E | 55 – A B C D E |
| 16 – A B C D E | 35 – A B C D E | 56 – A B C D E |
| 17 – A B C D E | 36 – A B C D E | 57 – A B C D E |
| 18 – A B C D E | 37 – A B C D E | 58 – A B C D E |
| 19 – A B C D E | 38 – A B C D E | 59 – A B C D E |
| 20 – A B C D E | 39 – A B C D E | 60 – A B C D E |

**PORTUGUÊS**

Fabrício Dutra

**01.** Em todas as frases abaixo há uma expressão formada pelo advérbio não + forma verbal. Assinale a opção em que a expressão destacada foi destacada por um só verbo de significado equivalente.

- a) Não comprou a casa / Vendeu a casa.
- b) Não gostou do cantor. / Difamou o cantor.
- c) Não revelou a verdade. / Ocultou a verdade.
- d) Não assistiu ao filme. / Ignorou o filme.
- e) Não obedeceu a lei. / Discordou da lei.

**02.** Assinale a alternativa em que o acento grave de crase foi empregado por um motivo diferente dos demais.

- a) A construção da casa obedece às especificações da Prefeitura.
- b) Perdi uma caneta semelhante à sua.
- c) Ele incrivelmente foi contrário à campanha que propus.
- d) Os professores estão à disposição da turma.
- e) Há cursos no exterior destinados às mais diversas necessidades dos estudantes.

**03.** Todas as frases abaixo mostram linguagem figurada. Assinale a opção em que há expansão da figura inicial devido ao emprego de outra expressão figurada.

- a) Ele veio aqui e me fez mil perguntas. Fiz questão de dar-lhe atenção.
- b) Meu pensamento é um rio subterrâneo, e assim será.
- c) Eu devo ser um palhaço mesmo, pois é nítido que ela está omitindo a verdade.
- d) Não existiria som, se não houvesse o silêncio.
- e) Eu vivo do meu trabalho. Sou autônomo.

**04.** Todas as frases abaixo foram reescritas na forma negativa. Assinale a forma que apresenta a reescrita adequada.

- a) Ele soltou o assassino. / Ele não prendeu o assassino.
- b) Ela abandonou o curso. / Ela não concluiu o curso.
- c) Ela descobriu o nome do suspeito. / Ela não desprezou o nome do suspeito.
- d) O advogado se aposentou. / O advogado não descansou.
- e) Eles infligiram a regra. / Eles não respeitaram a regra.

**05.** Observe o segmento abaixo retirado de uma notícia de jornal:

“Essas *fake news* começaram a se espalhar a partir da associação de que uma grande parte dos cânceres de mama ocorrem próximos a axila, onde é usado o desodorante.”

Nele, há um estrangeirismo, ou seja, um empréstimo de vocábulo oriundo de uma língua estrangeira, assim como todos os vocábulos abaixo, que podem inclusive ser observados em registros informais. Assinale a opção em que o estrangeirismo destacado tem o substituto adequado.

- a) Promotor quer proibir festas *open bar* em Bauru, após morte de universitário. / gratuitas
- b) Uso dos *drones* tornará entregas mais rápidas. / aeronave não tripulada.
- c) Eu não quero *spoiler*. Por favor, não me conte nada! / mentira.
- d) Britânico é considerado culpado por *stalkear* tenista americana. / pesquisar.
- e) Marquei um *date* hoje com aquele menino e não foi tão agradável... / relacionamento.

06. Observe a frase:

“Compra-se bastante neste período do ano.”

Assinale a opção em que a partícula ‘se’ receba a mesma classificação que a da frase anterior.

- a) São as mulheres que se destacam nesse quesito.
- b) Neste clube, não se aceitam mais sócios.
- c) Chegou o momento de se introduzir o novo conceito.
- d) Estima-se que existam hoje 500 mil catadores de lixo no Brasil.
- e) Embora se dispusesse de recursos, não houve a compra de terreno.

07. Assinale a alternativa que, quanto às regras de concordância, apresenta um verbo que foi empregado de forma inadequada.

- a) Chegou cedo a maioria dos alunos
- b) 1,9% das crianças já recebeu a vacina.
- c) Já está provado que um terço do time fizeram o exame.
- d) Um milhão de pessoas votaram nele.
- e) Grande parte dessa frota de navios afundou.

08. Cada uma das frases abaixo foi reescrita de outro modo, conservando-se o sentido original; a frase em que a modificação traz alteração de sentido é:

- a) Só os operários sabem o preço do tempo. / Só os trabalhadores é que sabem qual é o valor do tempo.
- b) Os jovens foram chamados para a reunião. / Os jovens participaram da reunião.
- c) Acreditamos com facilidade no que desejamos. / Acredita-se facilmente naquilo que é objeto do nosso desejo.

d) A melhor maneira de começar a sonhar é mediante livros. / Os livros são responsáveis pela melhor maneira de começar a sonhar.

e) O sexo alivia as tensões. O amor as provoca. / O sexo alivia as tensões provocadas pelo amor.

09. A frase abaixo em que o conectivo como mostra valor de causa é:

- a) Como a previsão havia revelado, choveu a noite toda.
- b) Como um louco, ele se pôs a gritar.
- c) Não só estudo para concursos como trabalho durante a madrugada.
- d) Como chove nesta cidade!
- e) Como está chovendo, decidi ficar em casa.

10. “Mesmo que esteja chovendo, haverá a final do campeonato.”

Mantendo-se exatamente o mesmo sentido original, a frase sublinhada pode ser adequadamente substituída por:

- a) Porque está chovendo, haverá a final do campeonato.
- b) Quando estiver chovendo, haverá a final do campeonato.
- c) Embora esteja chovendo, haverá a final do campeonato.
- d) Como está chovendo, haverá a final do campeonato.
- e) Ainda que esteja chovendo, haverá a final do campeonato.

11. Em qual dos períodos abaixo, a troca de posição entre a palavra sublinhada e o substantivo a que se refere mantém o sentido?

- a) Algum aluno desejava a minha opinião sobre o seu trabalho.
- b) O mesmo funcionário me entregou o pacote na recepção do hotel.
- c) Meu amigo procurou uma certa pessoa para me entregar o embrulho.
- d) Conversar é uma prazerosa forma de aproximar os indivíduos.
- e) Grandes obras épicas servem para perpetuar a cultura de um povo.

12. Talvez tivéssemos que voltar para Brasília, o tempo tinha fechado subitamente nesta cidade litorânea.

As duas orações do período acima estabelecem entre si uma relação. Expressam, respectivamente,

- a) A causa e consequência.
- b) B consequência e causa.
- c) C causa e condição.
- d) D tempo e lugar.
- e) E lugar e modo.

13. A frase que apresenta todas as vírgulas corretamente empregadas, de acordo com a norma-padrão da língua portuguesa, é:

- a) Os olhos, e os ouvidos são maus testemunhos, quando a alma não presta.
- b) Pense em toda a beleza que, ainda resta ao seu redor, e seja feliz.
- c) Não é o trabalho, mas o excesso dele, sem períodos de descanso, o que faz desfalecer, as pessoas, pondo em perigo as forças vitais.
- d) Os que se excedem no trabalho logo chegam, ao ponto em que trabalham, como quem não tem esperança.

e) O povo de Deus, observador dos mandamentos, deve mostrar que está acima de todas essas coisas.

14. Considere-se o emprego da primeira vírgula do Texto I, no trecho transcrito abaixo.

*'Apesar das fortes chuvas, o trânsito segue tranquilo.'*

A vírgula é empregada pelo mesmo motivo em:

- a) A falta não foi dentro da área, porém o juiz confirmou pênalti.
- b) O atacante passou pelo zagueiro, passou pelo goleiro e fez o gol.
- c) Nélcio, atrase a bola para o goleiro!
- d) O juiz verificou as balizas, a bola, as marcações do campo e deu início à partida.
- e) Naquele espaço dentro de campo, o jogador se sentiu em casa.

15. A frase "A camisa foi rasgada para que o salvamento acontecesse" está escrita na voz passiva com o verbo ser; se transformássemos essa frase para a voz ativa, a forma correta seria:

- a) Rasgou-se a camisa para o salvamento.
- b) Tinha rasgado a camisa para o salvamento.
- c) Rasgaram a camisa para o salvamento.
- d) A camisa rasgou para o salvamento.
- e) A camisa será rasgada para o salvamento.

16. Assinale a opção que apresenta ambiguidade.

- a) Beatriz e Paulo desejam noivar-se.
- b) O Botafogo enfrenta o Palmeiras nesta quarta.
- c) A vida sem luta é um mar morto no centro do organismo universal.
- d) Não tive filhos, não transmiti a nenhuma criatura o legado de nossa miséria.
- e) Não levante a espada sobre a cabeça de quem te pediu perdão.]



17. “Rubião é um modesto habitante do interior de Minas Gerais, que recebe uma fortuna deixada por seu amigo Quincas Borba e decide ir viver no Rio de Janeiro. Quando chega de trem à cidade em que sonhava “fartar-se do banquete da vida”, traz na bagagem sua ingenuidade, sua inexperiência, e a disposição para pôr à prova a filosofia ensinada por Quincas Borba: o Humanitismo.”

O trecho acima é predominantemente:

- a) injuntivo
- b) expositivo
- c) argumentativo
- d) narrativo
- e) descritivo

18. Se hoje as lideranças do futebol brasileiro estão enroscadas em denúncias e mais denúncias de corrupção, inclusive com um dos ex-presidentes da confederação brasileira preso por uma operação da polícia federal norte-americana, o passado reserva, pelo menos, um nome mais ilustre entre as fileiras de dirigentes: José Lins do Rego. Pois é, o escritor paraibano de Menino de Engenho (1932) e Bangüê (1934), era verdadeiro fanático pelo ludopédio e chegou a ser cartola do rubro-negro carioca, depois de se mudar a trabalho para o Rio de Janeiro.

Sobre o trecho acima, é correto afirmar que:

- a) O escritor se mudou para o Rio para assumir a função de dirigente de futebol.
- b) Os bastidores do futebol sempre foram difíceis no Brasil..
- c) Os clubes eram mais organizados antes do que são hoje.
- d) O autor se mostra contra a influência da polícia americana na justiça brasileira.
- e) O termo ‘ludopédio’foi o nome original do que hoje é conhecido como ‘futebol’.

19. Na comunicação linguística, ocorrem circunstâncias em que os interlocutores esperam cortesia mútua. As palavras e expressões corteses apresentam valor positivo, mas também podem ter conotações negativas.

- a) Faça-me o favor de trazer a sopa que está no balcão.
- b) Faça-me o favor de corrigir essa questão.
- c) Faça-me o favor de permanecer em silêncio.
- d) Faça-me o favor de assinar aqui.
- e) Faça-me o favor de me convidar para essa festa.

20. Assinale a opção em que o termo destacado exerce função diferente dos demais.

- a) Admiro a coragem do jovem.
- b) A casa de vidro já foi reformada.
- c) A plantação de milho pegou fogo.
- d) Foi feito um investimento de capital em tecnologia.
- e) Os três aparecem no documentário de abril.

21. Observe a seguinte campanha publicitária de um medicamento dos anos 90 e assinale a afirmação correta.

“Emulsão de Scott, uma fonte de vitaminas A, D e K, além de ácidos graxos e minerais.

Para todas as idades.

Para todas as épocas.

O melhor óleo de fígado de bacalhau, combinado com cálcio e sódio. Tonifica e nutre. ”

- a) mostrar a superioridade de Emulsão de Scott sobre todos os concorrentes;
- b) destacar a eficiência do tratamento com Emulsão de Scott;
- c) revelar o processo de tratamento utilizado;
- d) convencer o leitor a comprar o medicamento;
- e) indicar a necessidade de conviver harmoniosamente com as moléstias.

22. A conjunção E apresenta predominantemente o valor de adição, mas pode mostrar ainda o valor adversativo (ou concessivo), consequência ou conclusão, finalidade, valor consecutivo, introduzir uma explicação enfática, iniciar frases de alta intensidade afetiva (= interjeição), facilitar a passagem de uma ideia a outra.

A frase abaixo em que ela mostra valor adversativo, equivalente à ideia de oposição, é:

- a) Choveu intensamente, e a cidade ficou inundada.
- b) Cumpra suas obrigações e será recompensado.
- c) Depois de ontem, vou chamar-lhe e dar-lhe uma bronca
- d) Nós acordamos cedo, e chegamos, infelizmente, atrasados.
- e) Estudo e trabalho.

23. A frase abaixo em que a oração adjetiva destacada foi substituída adequadamente por um adjetivo é:

- a) O rapaz contou uma história em que não acreditei. / incrédula
- b) A prova de que tenho mais receio é a de Matemática./ receosa
- c) Nós assistimos ao filme que vocês perderam. / imperdível
- d) A Polícia Federal investiga vacinação ilegal que teria acontecido na garagem da Saritur. / ocorrida
- e) Acendeu uma luz para a situação calamitosa que está nosso país. / nacional

24. Sobre os aspectos gramaticais do trecho abaixo, assinale a opção incorreta.

Uma companhia aérea da Europa decidiu “inovar”. Devido à crise econômica provocada pela pandemia do novo coronavírus, ela encerrou o contrato de toda a equipe de comissários de bordo e avisou que os pilotos é que vão fazer o

serviço de cabine a partir de segunda-feira. As informações são do site da Business Insider.

- a) A expressão ‘da Europa’ apresenta uma preposição que não é exigida por termo anterior.
- b) O verbo inovar é intransitivo.
- c) Se fosse inserido o termo ‘grande’, antes do termo ‘crise’, o acento grave passaria a ser proibido.
- d) A expressão ‘é que’, após pilotos, poderia ser retirada da frase, sem prejuízo.
- e) A inserção do acento grave de crase no ‘a’, após ‘cabine’, tornaria o texto incorreto.

25. Assinale a opção correta quanto ao emprego de preposição antes do pronome relativo.

- a) Artistas mais tocados do Brasil têm músicas a que os jovens ouvem todos os dias.
- b) Tem o ritmo dos Barões, de que todos têm identificação.
- c) Quando estava na estrada, a gente tinha nosso ritmo e quatro viradas com que íamos trocando.
- d) Acendeu uma luz para a situação calamitosa de que está nosso país.
- e) O exercício de que eu preciso está disponível.

**RACIOCÍNIO LÓGICO**

Vinícius Silva

26. Vinícius possui três cartões com as seguintes cores:

1. Cartão 1 é preto e o contrário dele é branco.
2. Cartão 2 é preta e o oposto dele é azul.
3. Cartão 3 é preto e o contrário dele é branco.

Podemos afirmar que o avesso do avesso dos três cartões é

- a) branco e azul.
- b) branco ou azul.
- c) branco.
- d) azul.
- e) preto.

27. Se todos os corintianos são brasileiros, alguns brasileiros são corintianos e todos os corintianos são loucos, então:

- a) Todas os brasileiros são loucos.
- b) Alguns corintianos não são brasileiros.
- c) Alguns brasileiros não são corintianos.
- d) Nenhum brasileiro é louco.
- e) Alguns corintianos não são loucos.

28. A sentença "Hoje não fez sol, então Vinícius não foi trabalhar e Jardel não foi treinar" é corretamente representada por

- a)  $\sim p \vee (\sim r \wedge \sim q)$
- b)  $\sim p \wedge (\sim r \vee \sim q)$
- c)  $\sim p \rightarrow (\sim r \wedge \sim q)$
- d)  $p \rightarrow (\sim r \wedge \sim q)$
- e)  $p \rightarrow (r \wedge q)$

29. A proposição "Vinícius faltou ontem então ele não recebeu as orientações" será considerada falsa, se e somente se, Vinícius

- a) faltou ontem e recebeu as orientações.
- b) não faltou ontem.
- c) faltou ontem.
- d) faltou e não recebeu as orientações.
- e) recebeu as orientações.

30. Das sentenças abaixo, a única que é logicamente falsa é

- a) Se 3 é primo, então 4 é par.
- b) Se 4 é múltiplo de 2, então 1 é par.
- c) Se 4 é primo, então 1 é ímpar.
- d) Se 1 é par, então 4 é ímpar.
- e) Se 2 não é primo, então 1 é par.

31. Seja A o quociente da divisão de 8 por 3. Seja B o resto da divisão de 15 por 7. Seja C o maior divisor positivo de 14.

O valor da expressão:  $A - 2.(B - C)$  é igual a

- a) 13
- b) 18
- c) 15
- d) 20
- e) 26



32. Uma seringa utilizada para aplicação de vacinas tem capacidade para 8ml. Qual a quantidade de seringas que devem ser utilizadas para que um reservatório contendo 1L de vacinas possa ser esvaziado usando as seringas, sabendo que apenas  $\frac{1}{4}$  da capacidade delas pode ser usada em cada aplicação.

- a) 250;
- b) 200;
- c) 150;
- d) 500;
- e) 50.

33. Cíntia quer comprar um carro no valor de R\$ 200.000,00, porém seu valor é dividido em uma entrada de 65% do valor total mais 28 parcelas fixas e sem juros. Com base nessas informações, é CORRETO afirmar que o valor da parcela é igual a:

- a) R\$ 3.600,00
- b) R\$ 3.900,00
- c) R\$ 4.400,00
- d) R\$ 2.500,00
- e) R\$ 1.500,00

34. Sabendo-se que 8% de um número é igual a 12, assinalar a alternativa que apresenta, aproximadamente, 24% desse número:

- a) 18
- b) 24
- c) 30
- d) 36
- e) 150

35. Sabe-se que, no mês de janeiro de 2022, o valor do litro da gasolina em determinado posto de combustível era de R\$ 7,00. Nesse mesmo posto de combustível, no mês de fevereiro de 2022, o litro da gasolina sofre um aumento de 10%. Sabendo que Vinícius possui 200 reais para realizar o abastecimento de seu carro, e que o tanque de combustível do seu veículo tem volume total de 50 litros, podemos afirmar que em fevereiro, Vinícius conseguirá abastecer um volume correspondente a

- a) 27%
- b) 50%
- c) 30%
- d) 54%
- e) 100%

#### ÉTICA NO SERVIÇO PÚBLICO

Antônio Daud

36. De acordo com o Código de Ética do IBGE, é dever fundamental do servidor do instituto:

- a) utilizar de suas simpatias e caprichos no trato com colegas hierarquicamente superiores, mas não com aqueles hierarquicamente inferiores.
- b) apresentar, nas análises estatísticas e geográficas, informações que estejam de acordo com as normas científicas sobre fontes, métodos e procedimentos.
- c) ter respeito à hierarquia, razão pela qual deve temer representar contra qualquer comprometimento indevido da estrutura em que se funda o Poder Estatal.
- d) comunicar a seus superiores, dentro do prazo de 180 dias, todo e qualquer ato ou fato contrário ao interesse público.
- e) ser conivente com erro, em função de seu espírito de solidariedade.

**37.** Segundo o Código de Ética do IBGE:

- a) A pena aplicável ao servidor público pela Comissão de Ética do IBGE é a de reprimenda.
- b) A pena aplicável ao servidor público pela Comissão de Ética do IBGE é a de admoestação.
- c) Não se considera servidor público aquele que, por força de contrato, esteja ligado a órgão do poder estatal por meio de vínculo indireto.
- d) Não se considera servidor público aquele que, por força de contrato, preste serviços sem retribuição financeira.
- e) O trabalho desenvolvido pelo servidor público perante a comunidade deve ser entendido como acréscimo ao seu próprio bem-estar, na medida em que o êxito desse trabalho pode ser considerado como seu maior patrimônio.

**38.** Em relação às responsabilidades do servidor público, assinale, de acordo com a Lei 8.112/1990, a alternativa INCORRETA:

- a) A responsabilidade administrativa do servidor será afastada no caso de absolvição criminal em razão da inexistência do fato ou da negativa de autoria.
- b) As sanções civis, penais e administrativas poderão cumular-se, sendo dependentes entre si.
- c) A responsabilidade penal abrange contravenções imputadas ao servidor, agindo nessa qualidade.
- d) A responsabilidade civil-administrativa resulta de ato praticado no desempenho do cargo.
- e) A responsabilidade civil do servidor decorre de ato, doloso ou culposo, que resulte em prejuízo ao erário, bem como a terceiros.

**39.** A ação disciplinar, nos termos previstos na Lei 8.112/1990, prescreverá em:

- a) 5 anos, a partir da data em que o fato se tornou conhecido, quanto às infrações puníveis com demissão.
- b) 180 dias, a partir da prática da infração, quanto às infrações puníveis com advertência.
- c) 3 anos, a partir da data em que o fato se tornou conhecido, quanto às infrações puníveis com suspensão.
- d) 5 anos, a partir da prática da infração, quanto às infrações puníveis com demissão.
- e) 2 anos, a partir da data em que o fato se tornou conhecido, quanto às infrações puníveis com advertência.

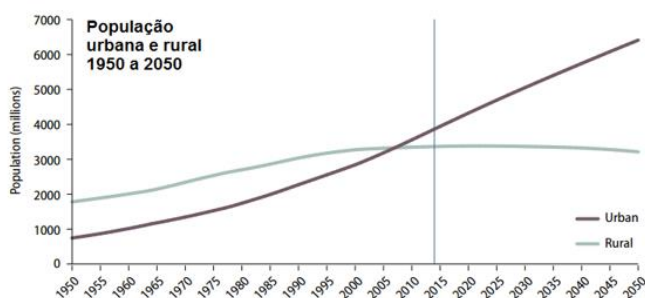
**40.** Representa dever do servidor público expressamente previsto na Lei 8.112/1990:

- a) guardar sigilo sobre assunto da repartição.
- b) cumprir as ordens superiores, sejam legais ou não.
- c) recusar fé a documentos públicos.
- d) promover manifestação de apreço ou desapreço no recinto da repartição.
- e) atender com presteza ao público em geral, prestando todas as informações requeridas, inclusive aquelas sigilosas.

**CONHECIMENTOS GERAIS**

Alexandre Vastella

41. No gráfico a seguir, é apresentada a evolução da população urbana no mundo durante a segunda metade do século XX e sua projeção para a primeira metade do século XXI:



Adaptado de: World Urbanization Prospects, Nações Unidas.

Apesar de as primeiras cidades terem surgido há mais de três mil anos, ainda durante a Antiguidade, foi somente partir de 2008 que, em contexto mundial, a população urbana ultrapassou a rural, fato justificado pelo:

- a) Crescimento das cidades do mundo desenvolvido, em especial na América do Norte e na Europa Ocidental.
- b) Crescimento das cidades em países emergentes, como China, Índia e continente africano.
- c) Crescimento das cidades do Oriente Médio, por conta de políticas de incentivo à natalidade em países islâmicos.
- d) Crescimento das cidades somente em países subdesenvolvidos, já que não dispõem de métodos contraceptivos.
- e) Crescimento das cidades em todo o mundo, tanto no mundo desenvolvido quanto no mundo subdesenvolvido, por conta das facilidades tecnológicas contemporâneas.

42. Segundo dados do Pesquisa Nacional por Amostra de Domicílios (PNAD) 2015, a população urbana brasileira é de 84,72%. Dentre os fatores abaixo, aponte quais **não** foram relevantes para a urbanização do país nos séculos XX e XXI.

- a) êxodo rural e migração interna.
- b) industrialização e rodoviarização.
- c) migração e transição demográfica.
- d) agronegócio e crescimento das cidades médias.
- e) escolarização e expansão do setor quaternário.

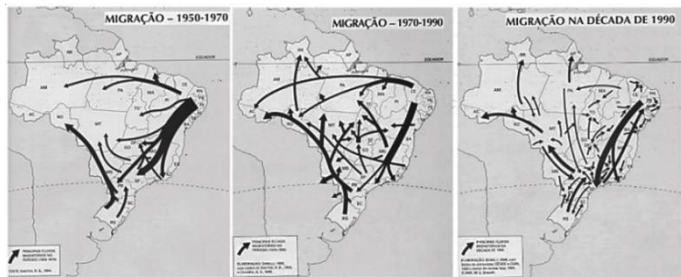
43. População de moradores de rua cresce 31% em São Paulo na pandemia. Segundo censo, quantidade só de famílias sem-teto quase dobrou em relação a 2019.

Disponível em: <<https://www1.folha.uol.com.br/cotidiano/2022/01/na-pandemia-quase-dobra-o-numero-de-familias-que-vivem-nas-ruas-de-sao-paulo.shtml>>

No Brasil, o problema habitacional está relacionado a todos os fatores abaixo, **exceto**:

- a) Desigualdades espaciais, como segregação residencial e gentrificação.
- b) Violência urbana e problema das drogas.
- c) Falta de visão de futuro da população.
- d) Falta de políticas públicas adequadas.
- e) Existência de áreas de risco sujeitas a deslizamentos ou inundações.

44. Os mapas abaixo mostram os principais fluxos migratórios no Brasil entre as décadas de 1950 e 1990:



Os maiores fluxos migratórios do período citado, do Nordeste para o Sudeste, ocorreram em razão de qual motivo?

- Condições climáticas desfavoráveis do sertão nordestino, fadado à estagnação.
- Falta de políticas públicas adequadas, fuga da seca e do desemprego.
- Melhores oportunidades no Sudeste, região que absorveu toda a mão de obra imigrante.
- Expansão agrícola do Sul-Sudeste, em especial às plantações de soja para exportação.
- Políticas de atração migratória em São Paulo e Rio de Janeiro, as duas maiores cidades do país.

45. O mapa a seguir mostra a urbanização brasileira, por população municipal, de acordo com dados do Censo Demográfico de 2010:



Adaptado de: Instituto Brasileiro de Geografia e Estatística (IBGE).  
Censo Demográfico (2010).

Sobre o padrão de concentração espacial da população brasileira, o mapa revela que:

- Por abrigar a Amazônia, a maior floresta tropical do mundo, a Região Norte carece de grandes centros urbano-industriais.
- Construída artificialmente no interior do país, Brasília não induziu o crescimento urbano da região Centro-Oeste, que é predominantemente agrícola.
- Colonizada por europeus, a Região Sul possui um padrão diferente de urbanização, inspirado nas colônias agrícolas sustentáveis da Europa Ocidental.
- Por questões históricas, o litoral brasileiro — ou a proximidade com este — abriga a maior parte da população e das grandes capitais.
- O Brasil é um país populoso, mas também povoado, já que todo o território é densamente ocupado.

46. "A carência de um órgão capacitado a articular e coordenar as pesquisas estatísticas, unificando a ação dos serviços especializados em funcionamento no País, favoreceu a criação, em 1934, do Instituto Nacional de Estatística - INE, que iniciou suas atividades em 29 de maio de 1936. No ano seguinte, foi instituído o Conselho Brasileiro de Geografia, incorporado ao INE, que passou a se chamar, então, Instituto Brasileiro de Geografia e Estatística. Desde então, o IBGE cumpre a sua missão: identifica e analisa o território, conta a população, mostra como a economia evolui através do trabalho e da produção das pessoas, revelando ainda como elas vivem."

Disponível em: <<https://www.ibge.gov.br/aceso-informacao/institucional/o-ibge.html>>

O texto mostra, dentre outros aspectos, que o IBGE surgiu no contexto político, econômico e social brasileiro das décadas de 1930 e 1940, marcado pelas transformações da Era Vargas (1930-1945). Qual era este contexto?

- a) Industrialização, êxodo rural e formação de unidade política nacional, com adoção de estatal para planejamento territorial.
- b) Participação ativa e ideológica do Brasil na Segunda Guerra Mundial, o que obrigou o governo a resguardar melhor os recursos do país.
- c) Ciclo do café, que originou a famosa política do "café com leite" com manutenção das oligarquias estaduais e a necessidade de ordenar o território para fins agrícolas.
- d) Planejamento territorial do Brasil para a sustentabilidade da floresta amazônica, cobijada pelos países centrais.
- e) Regionalização do Brasil de acordo com aspectos naturais, para melhor explorar economicamente o território.

47. O mapa abaixo mostra a regionalização oficial do Brasil, adotada pelo IBGE, durante a década de 1970, com as regiões Norte, Nordeste, Centro-Oeste, Sul e Sudeste:

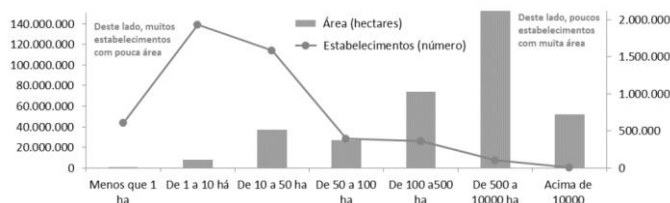


Sobre as mudanças na regionalização do Brasil ocorridas entre as décadas de 1970 e 2020, assinale o fator **incorreto**:

- a) Extinção dos territórios federais do Acre e Roraima, incorporados como Estados.
- b) Desmembramento de Goiás, no Centro-Oeste e criação de Tocantins, na Região Norte.
- c) Independência de Mato Grosso do Sul, outrora parte de Mato Grosso.
- d) Mudanças na Região Nordeste com a incorporação do Maranhão.
- e) Manutenção dos contornos das regiões Sul e Sudeste.



48. O gráfico abaixo relaciona a área (eixo horizontal) pela quantidade de estabelecimentos rurais (eixo vertical), de acordo com o Censo Agropecuário de 2017.



Adaptado de: Censo Agropecuário, IBGE, 2017.

O gráfico acima denuncia uma característica negativa muito presente do campo brasileiro. Qual?

- a) Desmatamento.
- b) Grilagem de terras.
- c) Concentração fundiária.
- d) Exportação de commodities.
- e) Pobreza e marginalização.

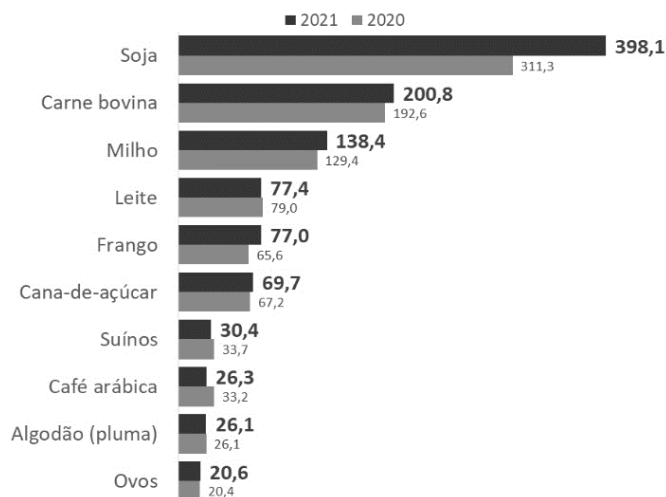
49. "O agronegócio tem sido reconhecido como um vetor crucial do crescimento econômico brasileiro. Em 2020, a soma de bens e serviços gerados no agronegócio chegou a R\$ 1,98 trilhão ou 27% do PIB brasileiro. Dentre os segmentos, a maior parcela é do ramo agrícola, que corresponde a 70% desse valor (R\$ 1,38 trilhão), a pecuária corresponde a 30%, ou R\$ 602,3 bilhões".

Disponível em: <  
<https://www.cnabrazil.org.br/cna/panorama-do-agro>>

A situação retratada acima diz respeito à/ao:

- a) Papel do Brasil como um grande player do agronegócio mundial.
- b) Desindustrialização da economia brasileira.
- c) Crescimento das cidades médias e a desmetropolização do Brasil.
- d) Nova posição do Brasil como país agroexportador de commodities;
- e) Crescimento da qualidade de vida no Brasil.

50. O gráfico abaixo mostra o Valor Bruto da Produção no Brasil em 2020 e 2021 (em R\$ bilhões):



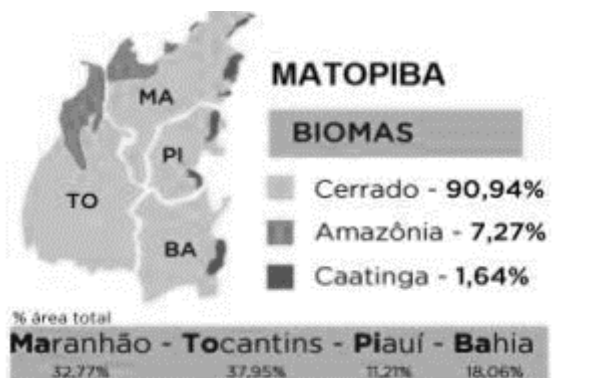
Adaptado de: Confederação Nacional da Agropecuária, 2022.

Os dados mostram que a maior parte da produção agropecuária nacional, em valor, é composta por soja, carne bovina e milho. A respeito deste cenário, assinale a alternativa **incorreta**:

- a) A cana de açúcar serve para diversos fins, como etanol, biomassa, fabricação de bebidas e alimentos.
- b) A soja é majoritariamente produzida no Centro-Oeste e destinada à exportação, especialmente para a China.
- c) O Brasil sempre foi um grande produtor de carne bovina, mas as normas fitossanitárias da União Europeia impedem o crescimento do setor.
- d) O Brasil é um dos maiores produtores de carnes de frango, exportando grande parte para países do Oriente Médio.
- e) O milho faz parte da culinária local de indígenas e sertanejos, mas também é destinado à exportação.



51. Analise o texto e a imagem abaixo:



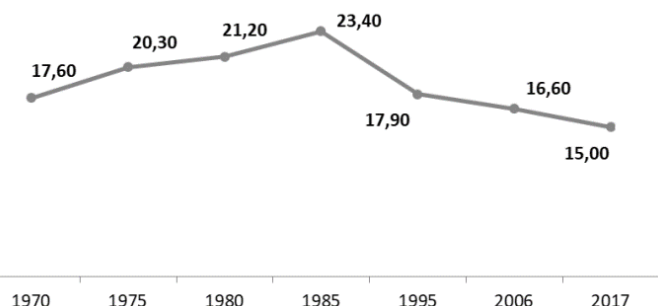
“Região compreendida por parte dos estados de Maranhão, Tocantins, Piauí e Bahia. Trata-se de uma região altamente promissora no aspecto agrícola, que deverá produzir cerca de 24,4 milhões de toneladas de grãos em 2025/26 (aumento de 91,3% em relação a 2015/16) e uma área plantada de grãos entre 7,8 milhões e 10,3 milhões de hectares ao final do período das projeções”

*Adaptado de: Projeções do Agronegócio,  
Ministério da Agricultura.*

A prosperidade agrícola do acrônimo MATOPIBA se deve ao cultivo de:

- a) Cana-de-açúcar.
- b) Soja.
- c) Milho.
- d) Algodão.

52. O gráfico abaixo mostra a população empregada no campo (em milhões) entre 1970 e 2017.

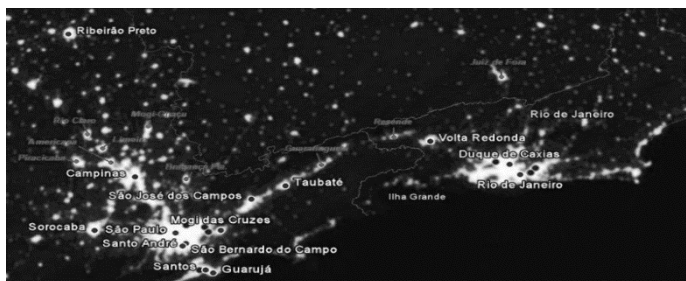


*Adaptado de: Censo Agropecuário (2017).*

Apesar do aumento da população entre 1985 (135 milhões) e 2017 (208 milhões), a população empregada no campo caiu de 23,4 para 15 milhões. Qual o principal fator que motivou esta diminuição?

- a) Plano Collor e inflação das décadas de 1980 e 1990.
- b) Desinteresse das novas gerações em trabalhos agrícolas.
- c) Mudança da legislação trabalhista no fim do governo militar.
- d) Surgimento do Movimento dos Trabalhadores Rurais sem Terra (MST).
- e) Mecanização e novas tecnologias no campo.

53. A imagem abaixo, tirada por satélite, durante a noite, mostra as luzes existentes entre as duas maiores regiões metropolitanas do país, a de São Paulo e a do Rio de Janeiro, revelando nítido grau de conexão urbana entre as duas.



Adaptado de: Wikipedia e Google Earth.

O principal fenômeno acima retratado é o de:

- a) Metropolização.
- b) Formação de conurbação.
- c) Formação de megalópole.
- d) Rodoviarização
- e) Integração em cidades globais.

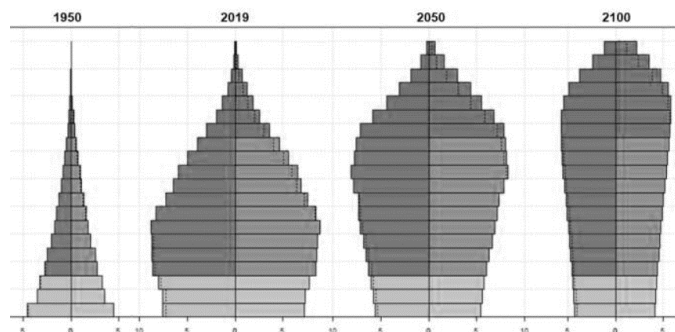
54. "O/A \_\_\_\_\_ no Brasil ocorreu, de forma mais intensa, em apenas duas décadas: entre 1960 e 1980, mantendo patamares relativamente elevados nas décadas seguintes e perdendo força total na entrada dos anos 2000. Segundo estudos publicados pela Embrapa (Empresa Brasileira de Pesquisa Agropecuária), o/a \_\_\_\_\_, nas duas primeiras décadas citadas, contribuiu com quase 20% de toda a urbanização do país, passando para 3,5% entre os anos 2000 e 2010".

Adaptado de Mundo Educação/UOL.

O texto se refere a/ao:

- a) êxodo rural.
- b) crescimento das cidades.
- c) formação da rede urbana.
- d) industrialização das cidades
- e) migração de retorno.

55. A imagem a seguir mostra as pirâmides etárias do Brasil em 1950, 2019, 2050 (projetada) e 2100 (projetada).



Os dados evidenciam a necessidade de o poder público:

- a) Construir creches e escolas.
- b) Atrair mão de obra jovem de outros países.
- c) Investir em qualificação profissional e reformar a legislação trabalhista.
- d) Reformar a previdência e investir em saúde para terceira idade.
- e) Investir em parto humanizado e políticas de saúde da mulher.

56. Elaborado pelo Observatório de Complexidade Econômica (OCE), o gráfico abaixo mostra as principais exportações do Brasil atual, em valores percentuais:



Fonte: Observatório de Complexidade Econômica (OCE).

O Brasil, conforme exposto, é um típico exportador de commodities, sendo o minério de ferro, o petróleo e a soja, os principais produtos que compõem a nossa pauta de exportações. Sobre o assunto, assinale a alternativa correta:

- a) O Brasil apenas exporta commodities, fato que agrava a dependência dos Estados Unidos e da China.
- b) O fato de o petróleo representar um baixo percentual das exportações, torna o Brasil pouco susceptível às oscilações do preço desta commodity no cenário internacional.
- c) Apesar da predominância de commodities, o Brasil também exporta industrializados — como automóveis e máquinas — para outros países, como os vizinhos do MERCOSUL.
- d) A soja e o minério de ferro são exportados principalmente para a União Europeia, sendo a Ásia e a África pouco relevantes neste processo.
- e) Como o Brasil não exporta produtos industrializados, o país ainda tem dificuldades para se tornar desenvolvido.

57. De dimensões continentais, o Brasil tem uma grande diversidade de características naturais, o que reflete diretamente na agropecuária praticada no país. Indique, dentre os itens abaixo, a alternativa **incorreta** sobre as regiões e o tipo **predominante** de produção agropecuária.

- a) Sertão nordestino — produção de frutas.
- b) Centro-oeste — rebanho bovino.
- c) Pará e Minas Gerais — mineração de ferro.
- d) São Paulo — cana-de-açúcar e laranja.
- e) Amazônia — produção de algodão.

58. "A importância das cidades médias reside no fato de que elas possuem uma dinâmica econômica e demográfica própria, permitindo atender às expectativas de empreendedores e cidadãos, manifestadas na qualidade de equipamentos urbanos e na prestação de serviços públicos, evitando as deseconomias das grandes cidades e metrópoles. Dessa forma, as cidades médias se revelam como locais privilegiados pela oferta de serviços qualificados e bem-estar que oferecem."

Disponível em: < <https://www.ipea.gov.br> >

Nos últimos anos, observa-se um crescimento intenso das cidades médias no Brasil. Os principais fatores que explicam essa nova dinâmica são:

- a) Desconcentração industrial, expansão do agronegócio e fuga das grandes cidades.
- b) Crise econômica, alto preço dos combustíveis e desconcentração industrial.
- c) Industrialização do Brasil, expansão do agronegócio e investimento em ferrovias.
- d) Fuga das grandes cidades, epidemia de COVID-19 e exportação de commodities.
- e) Crescimento da economia, retomada do emprego e busca de oportunidades no campo.

59. A respeito do transporte no Brasil, o gráfico abaixo mostra a relação entre distância e carga transportada, mostrando as situações pelas quais os modais rodoviário ou ferroviário são mais vantajosos.

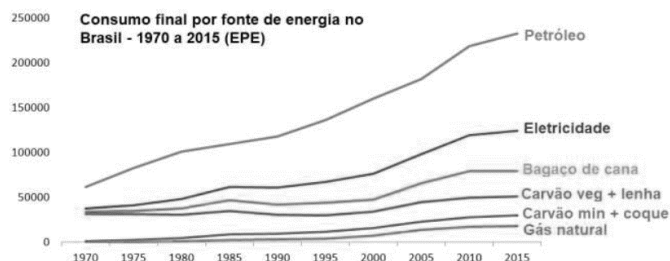


Disponível em: <www.cnt.org.br>

Tendo em vista as necessidades de inserção do Brasil no mundo globalizado, os gargalos de infraestrutura do território nacional e seu conhecimento prévio sobre o assunto, é correto dizer que:

- a) O transporte ferroviário é sempre mais vantajoso, mas o Brasil investe pouco em ferrovias.
- b) O transporte rodoviário é apenas vantajoso em longas distâncias, por isso é muito usado no Brasil.
- c) O transporte ferroviário e o transporte rodoviário devem ser usados conjuntamente.
- d) O transporte rodoviário e o transporte ferroviário competem de igual para igual na maioria das situações.
- e) Quanto maior a carga transportada, mais vantajoso o transporte rodoviário se torna.

60. O gráfico abaixo mostra o consumo final por fonte de energia entre as décadas de 1970 e 2010 no Brasil:



Adaptado de: <www.epe.com.br>

Nas últimas décadas, o aumento no uso de petróleo e eletricidade no Brasil estão relacionados com quais fatores?

- a) Nova legislação ambiental e novos padrões de sustentabilidade.
- b) Aumento da utilização de biomassa e etanol como fontes de energia.
- c) Transição energética com a descarbonização da matriz.
- d) Desmatamento desenfreado da Amazônia e do Cerrado.
- e) Crescimento da população, urbanização e industrialização

# Preencha o gabarito!

<https://bit.ly/Simulado-IBGE-ACPT-06-02>

NÃO É ASSINANTE?

<https://bit.ly/Estrategia-Assinaturas>

CONHEÇA NOSSO SISTEMA DE QUESTÕES!

<https://bit.ly/Sistemas-de-Questões>