



3º Simulado PM SP

Soldado - Pós-Edital

Simulado PM-SP

Nome: _____

INFORMAÇÕES SOBRE O SIMULADO EXCLUSIVO

- 1 – Este simulado conta com questões focadas no concurso da PM-SP;
- 2 – A prova contém **60 itens** que abordam conhecimentos cobrados nos últimos editais do concurso;
- 3 – As questões são inéditas e foram elaboradas pelos nossos professores com base no conteúdo programático do edital.
- 4 – Este PDF foi enviado por e-mail, disponibilizado na área do aluno e em um artigo publicado no blog do Estratégia Concursos;
- 5 – Os participantes têm das **8:30 às 12:30** para responder às questões e preencher o Gabarito Eletrônico;
- 6 – O link para preencher o formulário com seu gabarito está localizado na última página deste PDF;
- 7 – O Gabarito do Simulado e o Ranking Classificatório com nota serão divulgados no blog do Estratégia Concursos.
- 8 – Esse simulado é uma autoavaliação! Você mesmo(a) vai corrigir, a partir do padrão de respostas disponível na área do aluno.

PREENCHA SEU GABARITO NO LINK

<https://bit.ly/Simulado-PMSP-09-01-2022>

- | | | | | |
|------------|------------|------------|------------|------------|
| 01 - ABCDE | 13 - ABCDE | 25 - ABCDE | 37 - ABCDE | 49 - ABCDE |
| 02 - ABCDE | 14 - ABCDE | 26 - ABCDE | 38 - ABCDE | 50 - ABCDE |
| 03 - ABCDE | 15 - ABCDE | 27 - ABCDE | 39 - ABCDE | 51 - ABCDE |
| 04 - ABCDE | 16 - ABCDE | 28 - ABCDE | 40 - ABCDE | 52 - ABCDE |
| 05 - ABCDE | 17 - ABCDE | 29 - ABCDE | 41 - ABCDE | 53 - ABCDE |
| 06 - ABCDE | 18 - ABCDE | 30 - ABCDE | 42 - ABCDE | 54 - ABCDE |
| 07 - ABCDE | 19 - ABCDE | 31 - ABCDE | 43 - ABCDE | 55 - ABCDE |
| 08 - ABCDE | 20 - ABCDE | 32 - ABCDE | 44 - ABCDE | 56 - ABCDE |
| 09 - ABCDE | 21 - ABCDE | 33 - ABCDE | 45 - ABCDE | 57 - ABCDE |
| 10 - ABCDE | 22 - ABCDE | 34 - ABCDE | 46 - ABCDE | 58 - ABCDE |
| 11 - ABCDE | 23 - ABCDE | 35 - ABCDE | 47 - ABCDE | 59 - ABCDE |
| 12 - ABCDE | 24 - ABCDE | 36 - ABCDE | 48 - ABCDE | 60 - ABCDE |

PORTUGUÊS / INTERPRETAÇÃO DE TEXTO

Luiz Felipe

TEXTO I - ESTÁ NA HORA DA ECONOMIA VERDE?

Por que será que, num momento em que a pandemia da Covid ainda está longe de ser superada globalmente, o presidente americano, Joe Biden, chama 40 chefes de Estado, incluindo o do Brasil, para tratar do aquecimento global? Por que o tema não foi o enfrentamento à pandemia, que ainda está longe de ser uma crise resolvida?

Quando olhamos para os atuais pacotes de recuperação pós-Covid dos países ricos, percebemos que todos centram fortemente na revisão dos modelos de desenvolvimento e colocam a sustentabilidade ambiental como elemento-chave. Programas para impulsionar a economia lançados em crises passadas jamais colocaram a questão ambiental entre os setores prioritários. Neste novo modelo, a questão principal é a mudança do clima global. Este modelo tem sido chamado de nova economia, ou economia verde.

O filósofo alemão Hegel, que viveu no começo dos anos 1800, sugeriu que “o que aprendemos da história é que não aprendemos com a história”. É difícil discordar do filósofo. A pandemia e a mudança climática têm mais em comum do que se enxerga à primeira vista. Ambas são ameaças globais. O vírus não respeita fronteiras e, portanto, só será plenamente controlado quando todos os países estiverem imunizados.

A mudança climática tem como principal vilão a emissão de gases de efeito estufa. Tanto faz em que continente a emissão ocorre. Portanto, as respostas a ambas as ameaças terão que ser globais e sincronizadas. Não é de hoje que se sabe que a mudança climática terá efeitos devastadores se não debelada a tempo. As chocantes lições da pandemia parecem ter acordado a consciência coletiva do planeta quanto aos limites de resistência a abusos.

Os custos da pandemia são intoleráveis. Os custos projetados das mudanças do clima não são apenas maiores — são muitíssimo maiores. Com um agravante: são permanentes. Uma vez que a cadeia de

eventos iniciar, não vai parar. O momento em que o Brasil perder o grande potencial de produzir soja no cerrado porque ele ficou demasiadamente quente e seco, o custo será para sempre, uma vez que as condições climáticas que permitiram o cultivo de soja na região não mais existirão. A pandemia é um “trailer” do que está por vir com o aquecimento global. Nada disso é jogo de cena.

(Arminio Fraga e Sergio Margulis. O Globo. Adaptado)

01. Depreende-se do texto que a economia verde

- a) sempre ocupou um lugar de destaque nas medidas de recuperação pós-crises
- b) caracteriza-se pela centralidade de questões ambientais em modelos de desenvolvimento
- c) teve como precursor o filósofo alemão Hegel
- d) é voltada para o desenvolvimento da agricultura nacional, principalmente para o cultivo da soja
- e) é responsável por monitorar dados climáticos e propor soluções para redução do efeito estufa

02. De acordo com o texto, a semelhança entre a pandemia e a mudança climática está

- a) na origem de ambas as ameaças.
- b) no alcance e no método de enfrentamento.
- c) somente na necessidade de uma resposta global.
- d) no modo como as autoridades as enfrentam.
- e) nas consequências trazidas por ambas.

03. De acordo com a norma-padrão da língua portuguesa, o sinal grave indicativo da crase deve ser empregado na palavra destacada em:

- a) Parece que as principais economias do mundo são favoráveis a questão da sustentabilidade.
- b) A pandemia mostrou que as lideranças mundiais estão obrigadas a trabalhar em conjunto

- c) O auxílio financeiro governamental deve ser direcionado a quem mais foi atingido pela crise da Covid.
- d) O problema da mudança climática é anterior a debates sobre crise econômica.
- e) Por razões geoclimáticas, o Brasil é um dos países habilitados a investir em geração de energia limpa.

04. Assinale a alternativa em que há correção gramatical no que tange à regência.

- a) A paciente avisou o médico que não estava se sentindo bem.
- b) O grupo lembrou o aniversário de chegada dos componentes mais novos.
- c) Os professores discordavam com a atitude do diretor.
- d) As autoridades estavam convictas que a educação é o melhor caminho.
- e) Todos confiaram da ação tomada pelas forças de segurança.

05. Assinale a alternativa em que a concordância está correta de acordo com a norma-padrão da língua portuguesa.

- a) Construiu-se casas à margem do rio.
- b) Devem haver crianças no local do acidente.
- c) Trata-se de assuntos que devem ser amplamente discutidos.
- d) Precisam-se de pessoas dispostas a mudar a relação entre o homem e a natureza.
- e) Fazem anos que a mudança climática está na pauta de encontros internacionais.

06. Assinale a alternativa em que a pontuação está usada de acordo com a norma-padrão da língua portuguesa.

- a) A imprecisão, dos acontecimentos, revela em tempos atuais a fragilidade do ser.
- b) A imprecisão dos acontecimentos revela, em tempos atuais, a fragilidade do ser.
- c) A imprecisão dos acontecimentos, revela em tempos atuais a fragilidade do ser.
- d) A imprecisão dos acontecimentos revela em, tempos atuais, a fragilidade do ser.
- e) A imprecisão dos acontecimentos revela em tempos atuais, a fragilidade, do ser.

07. Assinale a alternativa em que a forma verbal está flexionada incorretamente de acordo com a norma-padrão da língua portuguesa.

- a) Quando eu o vir, direi que desejas conversar.
- b) Os presentes chegaram antes do que eu previra.
- c) Se eu impuser as novas regras, todos ficarão contra mim.
- d) Requeiro os documentos comprobatórios.
- e) Os guardas deteram os ladrões.

08. Considere o texto a seguir:

O jovem, embora conte mentiras a seu respeito, parece ter um currículo realmente invejável, no entanto possui pouca experiência.

As expressões em destaque podem ser substituídas, preservando o sentido em que se encontram no contexto, respectivamente, por:

- a) visto que, conforme.
- b) mesmo que, portanto.
- c) conforme, enquanto.
- d) a não ser que, porque.
- e) conquanto, contudo.

TEXTO II - APRENDA A CHAMAR A POLÍCIA

Eu tenho o sono muito leve, e numa noite dessas notei que havia alguém andando sorrateiramente no quintal de casa. Ao levantar, em silêncio, fiquei acompanhando os leves ruídos que vinham lá de fora, até ver uma silhueta passando pela janela do banheiro. Como minha casa era muito segura, com grades nas janelas e trancas internas nas portas, não fiquei muito preocupado, mas era claro que eu não ia deixar um ladrão ali, espiando tranquilamente.

Liguei baixinho para a polícia, informei a situação e o meu endereço.

Perguntaram-me se o ladrão estava armado ou se já estava no interior da casa.

Esclareci que não e disseram-me que não havia nenhuma viatura por perto para ajudar, mas que iriam mandar alguém assim que fosse possível.

Um minuto depois, liguei de novo e disse com a voz calma:

— Oi, eu liguei há pouco porque tinha alguém no meu quintal. Não precisa mais ter pressa. Eu já matei o ladrão com um tiro da escopeta calibre 12 que tenho guardada em casa para estas situações. O tiro fez um estrago danado no cara!

Passados menos de três minutos, estavam na minha rua cinco carros da polícia, um helicóptero, uma unidade do resgate e uma equipe de TV.

Eles prenderam o ladrão em flagrante, que ficava olhando tudo com cara de assombrado. Talvez ele estivesse pensando que aquela era a casa do Comandante da Polícia.

No meio do tumulto, um tenente se aproximou de mim e disse:

— Pensei que tivesse dito que tinha matado o ladrão.

Eu respondi:

— Pensei que tivesse dito que não havia ninguém disponível.

(Luís Fernando Veríssimo. Adaptado)

09. No trecho "Ao levantar, em silêncio, fiquei acompanhando os leves ruídos que vinham lá de fora" (1º parágrafo), a oração reduzida em negrito apresenta, em relação à oração seguinte, o valor semântico de

- a) modo
- b) causa
- c) consequência
- d) tempo
- e) concessão

10. Considerando a função, a estrutura e a linguagem do texto apresentado, é correto afirmar que se trata de

- a) uma crônica, trazendo uma situação do cotidiano de forma descontraída e com uma linguagem simples que carrega uma certa crítica.
- b) um artigo de opinião, uma vez que o texto apresenta um posicionamento acerca do trabalho de forças de segurança.
- c) uma notícia, em que se predomina o uso denotativo da linguagem e tem a função de informar com clareza sobre determinado fato.
- d) uma fábula, gênero textual marcado pela narração de fatos fictícios.
- e) uma resenha, ou seja, um texto opinativo caracterizado pela brevidade de seus relatos através do uso da norma-padrão da língua.

11. A colocação do pronome destacado respeita a norma-padrão da língua portuguesa em:

- a) Nos trata como se não nos conhecêssemos.
- b) Doaria-lhe todas as melhores roupas.
- c) O trabalho não poupou-nos do ócio.
- d) As crianças se interessam pelos objetos coloridos.

e) Aqueles que preocupam-se com o próximo serão recompensados.

12. Assinale a alternativa cuja frase apresenta apenas linguagem com sentido próprio.

a) Gastamos nosso precioso tempo com aplicativos inúteis.

b) Aquele candidato despencou nas pesquisas.

c) O excesso de sentimento pode ser evidenciado nas ações exageradas.

d) Com a espera, estavam todos mortos de cansaço.

e) Os laços que uniram o casal não foram suficientes.

13. Considere as passagens:

Se não for possível prorrogar, perderemos bons candidatos.

Pela previsão, todos devem ir se adaptando ao novo cenário.

Os vocábulos em destaque podem, respectivamente, ser classificados como

a) conjunção e conjunção

b) pronome e conjunção

c) conjunção e pronome reflexivo

d) parte integrante do verbo e pronome reflexivo

e) conjunção e parte integrante do verbo

14. Considere os trechos:

"Mas, apesar dos avanços, há desafios"

"hoje são ativos e vivem plenamente"

As expressões destacadas apresentam, correta e respectivamente, as circunstâncias de:

a) concessão e modo

b) consequência e ênfase

c) ressalva e afirmação

d) ressalva e modo

e) oposição e ênfase

TEXTO III

Hipólito e Tasca (2012) retratam o papel da Polícia Militar no Estado Democrática de Direito, como sendo uma instituição que representa o principal braço do Estado na segurança pública. Destacam ainda que o papel executado pela Polícia Militar vai para além do combate à criminalidade, atuando em uma série de situações que não estão elencadas em normas criminais. Citam-se como exemplo: desastre, incêndios, realização de partos, prestação de socorro, organização de trânsito das cidades, segurança em eventos públicos e privados e vigilância de preso.

A Polícia Militar tem sua principal atuação na segurança pública, mas, essa atuação foi ampliada, saindo de uma atuação eminentemente de manutenção da ordem para uma atuação de preservação da ordem pública, ampliando suas competências. Com isso, atualmente, quando se fala no papel da Polícia Militar frente à ordem pública estabelecida no artigo 144 da Constituição Federal de 1988, deve-se entender ordem pública em sentido amplo, ou seja, envolvendo segurança pública, saúde pública e tranquilidade pública.

(Joaquim Soares de Lima Neto. Adaptado)

15. No Texto III, o leitor encontra informações que esclarecem e justificam principalmente:

a) a importância das forças de segurança

b) a atuação da Polícia Militar

c) a ampliação dos direitos policiais

d) o enfrentamento da criminalidade

e) a necessidade de ampliação de recurso para as forças policiais.

16. O texto III pode ser classificado, levando em consideração a tipologia, como predominantemente

- a) expositivo
- b) argumentativo
- c) narrativo
- d) injuntivo
- e) descritivo

17. A partir da leitura do texto, pode-se concluir que

- a) *manutenção* e *preservação* da ordem são termos sinônimos
- b) as competências da Polícia Militar sempre abrangeram diferentes frentes
- c) a Polícia Militar pode ser acionada em casos específicos de desastres.
- d) houve uma reinterpretação do artigo 144 da Constituição Federal.
- e) o termo 'manutenção da ordem' é mais genérico do que 'preservação da ordem'.

18. Na frase – Viver bem deve ser prioridade, principalmente em um momento ____ tudo parece ser uma ilusão. – a alternativa que preenche adequadamente a lacuna é:

- a) onde
- b) cujo
- c) em que
- d) do qual
- e) que

19. Um vocábulo em destaque empregado no texto com ideia de finalidade é:

- a) "A arte existe porque a vida não basta"

b) Para o autor, a literatura tem a capacidade de simular a realidade.

c) As crianças, para se tornarem adultos leitores, precisam ser incentivadas pela escola e pela família.

d) Todos que leram foram marcados pela obra de Fernando Pessoa

e) Quando descobriu as artes, aquele jovem foi para um outro lugar.

20. A mesma regra para o emprego da vírgula em "O Presidente, que foi eleito democraticamente, será novamente candidato" pode ser observada em

- a) Assim que anoiteceu, todos foram dormir.
- b) A chegada da encomenda, quando estávamos em tempos normais, não demorava muito.
- c) Os carros, as motos, as bicicletas e as pessoas lotam o centro da cidade.
- d) Os alunos, muito inteligentes e atentos, foram aprovados.
- e) Se todos fossem iguais, sobrariam talentos desperdiçados.

MATEMÁTICA

Carlos Henrique

21. Cinco amigos, Júlio, Karla, Lorena, Mauro e Olavo, combinaram de se encontrar no cinema. Sabe-se que Júlio chegou ao cinema antes de Mauro e Lorena, Mauro chegou ao cinema antes de Olavo, Karla chegou ao cinema antes de Júlio, e Olavo não foi o último a chegar ao cinema. Dessa forma, entre os cinco amigos citados, o quarto a chegar no cinema foi

- a) Júlio
- b) Karla
- c) Lorena
- d) Mauro
- e) Olavo

22. Dos 36 servidores públicos de um setor do TJ SP, sabe-se que: apenas 7 são advogados, 22 são do sexo masculino e 11 são mulheres que não são advogadas.

O número de homens que não são advogados é igual a

- a) 15
- b) 16
- c) 17
- d) 18
- e) 19

23. A quantidade máxima de papiloscopistas desse grupo que não gosta de nenhuma das duas atividades é igual a

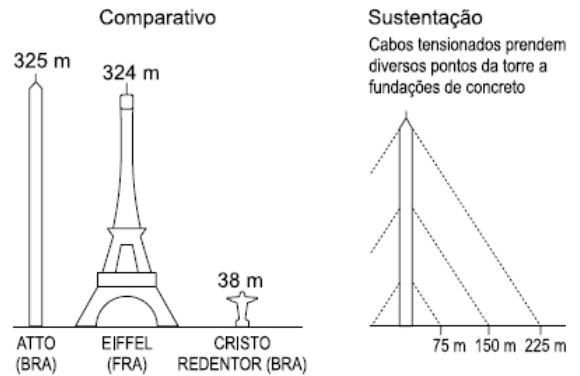
- a) 5
- b) 6
- c) 7
- d) 8
- e) 9.

24. Infere-se dos dados que a quantidade mínima de papiloscopistas desse grupo que gostam das duas atividades é igual a

- a) 22
- b) 21
- c) 20
- d) 19
- e) 18.

25. Inaugurado em agosto de 2015, o Observatório da Torre Alta da Amazônia (Atto, em inglês) é um projeto binacional Brasil-Alemanha que busca

entender o papel da Amazônia no clima do planeta e os efeitos das mudanças climáticas no funcionamento da floresta. Construída numa região de mata preservada, dentro da Reserva de Desenvolvimento Sustentável do Uamatã, a torre Atto tem 325 m de altura e é a maior estrutura de pesquisa desse tipo em florestas tropicais no mundo.



(O Estado de S.Paulo, 16.10.2017. Adaptado)

Considere a torre posicionada perpendicularmente ao solo e admita que o cabo tensionado fixado no solo a uma distância de 75 m da base da torre esteja preso à torre em um determinado ponto, cuja altura, em relação ao solo, seja igual a 100 m.

Nesse caso, o comprimento desse cabo é igual a:

- a) 120 m
- b) 125 m
- c) 130 m
- d) 140 m
- e) 150 m

26. Na mesa de um bar estão cinco amigos: Arnaldo, Belarmino, Cleocimar, Dionésio e Ercílio. Na hora de pagar a conta, eles decidem dividi-la em partes iguais. Cada um deles deve pagar uma quota. O garçom confere o valor entregue por eles e nota que um deles não entregou sua parte, consegue detê-los antes que deixem o bar e os interroga, ouvindo as seguintes alegações:

I. Não fui eu nem o Cleocimar, disse Arnaldo;

II. Foi o Cleocimar ou o Belarmino, disse Dionésio;

III. Foi o Ercílio, disse Cleocimar;

IV. O Dionésio está mentindo, disse Ercílio;

V. Foi o Ercílio ou o Arnaldo, disse Belarmino.

Considerando-se que apenas um dos cinco amigos mentiu, pode-se concluir que quem não pagou a conta foi?

- a) Arnaldo.
- b) Belarmino.
- c) Cleocimar.
- d) Dionésio.
- e) Ercílio.

27. O vencedor de uma prova de Marcha Atlética completou o percurso após 1 hora e 30 minutos. Após 30 minutos de prova, Roberto, um dos competidores, está na 13ª colocação. Na segunda meia hora de prova, Roberto ultrapassa 3 e é ultrapassado por 7 competidores. Na terceira meia hora de prova, Roberto ultrapassa 15 e é ultrapassado por 2 competidores. No momento em que o vencedor completa a prova, Roberto é o

- a) 8º colocado
- b) 5º colocado
- c) 4º colocado
- d) 2º colocado
- e) 1º colocado

28. CANCELADO

29. Anteontem, Carlinha tinha 18 anos e ano que vem fará 21 anos. Que dia do ano será daqui a uma semana?

- a) 1 de janeiro

b) 31 de dezembro

c) 8 de janeiro

d) 25 de dezembro

e) 29 de fevereiro

30. Quatro amigas estão em um mesmo lado de um rio que precisam atravessar. Elas dispõem de apenas um bote, que suporta somente duas pessoas por vez; logo, cada vez que uma dupla atravessa o rio, uma das amigas que já atravessou deve trazer o barco de volta para o outro lado. Essas amigas, quando sozinhas, conseguem atravessar o rio respectivamente em 2, 3, 5 e 7 minutos. Quando estão em dupla, o tempo para atravessar o rio é a da amiga mais lenta. O menor tempo, em minutos, para que todas as amigas cruzem esse rio é igual a

- a) 14.
- b) 15.
- c) 17.
- d) 18.
- e) 19.

31. Em um órgão público com 1000 servidores, 40% são policiais. O quadro de servidores é formado por 480 homens, sendo que 200 mulheres não são policiais.

Dentre os homens, a fração daqueles que não são policiais é igual a:

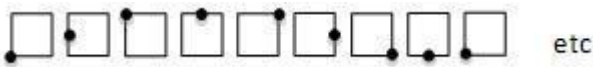
- a) $1/3$
- b) $2/5$
- c) $5/6$
- d) $7/8$
- e) $8/9$

32. Em um torneio de jogo de DAMAS, há 40 mulheres e 27 homens inscritos. As mulheres só jogam entre si e os homens também só jogam entre si. Em cada partida, o(a.) perdedor(a.) é eliminado(a.) do torneio. Não há empates. Ao final do torneio, tem-se uma campeã e um campeão.

Não havendo desistências, o número total de partidas para que sejam definidos o campeão e a campeã é:

- a) 62;
- b) 65;
- c) 66;
- d) 68;
- e) 80.

33. Observe, na figura a seguir, a sequência de quadrados e numere-os, da esquerda para a direita, com os números 1, 2, 3, 4, etc. até 2015.



O quadrado de número 2015 é:

- a)
- b)
- c)
- d)
- e)

34. Uma papelaria adquiriu um determinado número de folhas de papel A4, embaladas em pacotes de mesma quantidade para facilitar a sua distribuição entre os diversos setores. O material deverá ser entregue pelo vendedor acondicionado em caixas, sem que haja sobras. Se o vendedor colocar 25 pacotes por caixa, usará 16 caixas a mais do que se

colocar 30 pacotes por caixa. Calcule o número total de pacotes adquiridos:

- a) 2 200.
- b) 2 000.
- c) 1 800.
- d) 2 400.
- e) 2 500.

35. Em um órgão com 10 servidores, dois têm 40 anos, quatro têm 21 anos, um tem 25 anos e três têm a mesma idade. Sabendo-se que a média aritmética das idades desses 10 servidores é 30 anos, a idade desconhecida é igual a:

- a) 30
- b) 32
- c) 35
- d) 37
- e) 40

HISTÓRIA E GEOGRAFIA

Sérgio Henrique

36. A África é o lugar em que a China mais investe. Segundo um porta-voz do Ministério do Exterior chinês, somente no primeiro semestre de 2016, Pequim fechou 245 novos acordos no valor de 50 bilhões de dólares no continente africano, superando, há muito, os EUA e as antigas potências coloniais europeias.

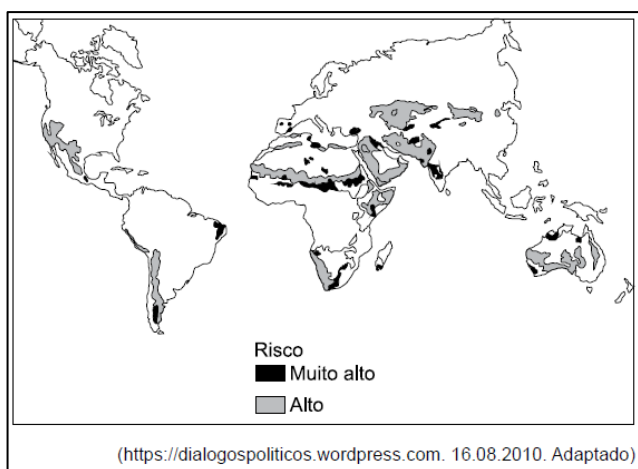
(<https://bit.ly/2ORguZ4>. Acesso em: 20.08.2018.
Adaptado)

A presença chinesa no continente africano

- a) objetiva criar novos polos de países emergentes como contraofensiva às políticas protecionistas europeias.
- b) faz parte de um plano geopolítico voltado à busca de matérias-primas e de novos parceiros comerciais.

- c) tem como interesse a extração e o comércio de carvão mineral, principal fonte de energia para os chineses.
- d) tem razões políticas e humanitárias, pois grande parte da África é formada por países muito pobres.
- e) é a nova estratégia de Pequim, que busca estender sua área de influência econômica, ampliando os países dos Brics.

37. Observe o mapa para responder à questão.



O fenômeno destacado no mapa corresponde

- a) ao processo de desertificação que tem como uma das causas o uso intensivo do solo.
- b) às regiões de recuperação da biodiversidade devido à expansão das políticas ambientais.
- c) às principais áreas inundáveis do globo com grandes prejuízos materiais.
- d) ao desmatamento de cerrados e savanas cujas madeiras são utilizadas como lenha.
- e) às áreas de ocorrência de queimadas das florestas tropicais provocadas pelas secas periódicas.

38. Leia os textos para responder à questão.

I. Fortalecido com a irrigação, o Vale do Rio se tornou um importante produtor de frutas e hortaliças. Nos 120 mil hectares que abrangem os perímetros irrigados, anualmente são produzidos mais de um

milhão de toneladas de frutas, com destaque para uva de mesa e manga.

(<http://mi.gov.br>)

II. O rio possui um trecho navegável formando uma hidrovia que está integrada a rodovias, ferrovias e dutovias regionais e federais, em um sistema multimodal de escoamento da produção agrícola da região, onde é gerada quase a metade do PIB brasileiro.

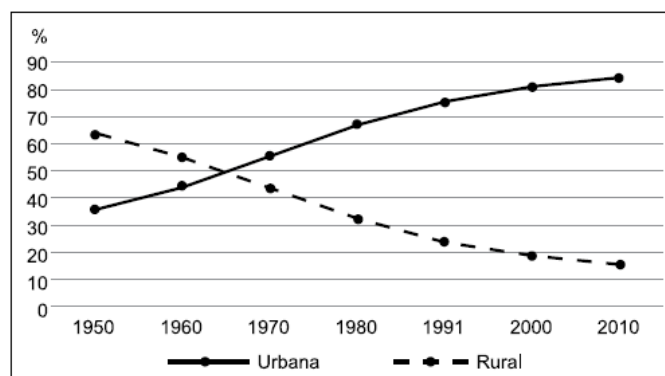
(<http://www.dnit.gov.br>)

Os textos I e II destacam a importância de dois rios brasileiros. São eles, respectivamente,

- a) São Francisco e Paraná.
- b) Amazonas e Paraguai.
- c) Paraguai e Parnaíba.
- d) São Francisco e Tocantins
- e) Amazonas e Paraguai.

39. Observe o gráfico para responder à questão.

BRASIL: POPULAÇÃO RURAL E URBANA (EM %)



(Instituto Brasileiro de Geografia e Estatística – IBGE)

A leitura do gráfico e os conhecimentos sobre a população brasileira permitem afirmar que

- a) entre as décadas de 1950 e 1990, ocorreu forte migração de sulistas para as zonas rurais do Nordeste.

- b) desde a década de 1991, a população rural deixou de diminuir, mantendo-se estável.
- c) desde a década de 1970, a redução da população rural esteve associada às baixas taxas de natalidade.
- d) entre as décadas de 1960 e 1980, o êxodo rural foi um fator importante para o aumento da população urbana.
- e) a partir da década de 2000, a maior parte da população urbana passou a viver em áreas metropolitanas.

40. Pelas estradas e caminhos brasileiros, é comum se encontrar paisagens como a apresentada a seguir.



O processo mostrado na imagem é

- a) a consequência das queimadas, comuns durante os meses de inverno.
- b) o resultado da exploração irracional de areia para a construção civil.
- c) o trabalho de movimentação do solo resultante de abalos sísmicos.
- d) o desaparecimento do lençol freático nos meses mais secos do ano.
- e) a erosão que se torna acentuada com o desmatamento.

41. Depois da Segunda Guerra Mundial, mas principalmente a partir da década de 1990, a

economia que passou progressivamente a prevalecer internacionalmente no mundo foi

- a) o fim dos incentivos dados ao setor financeiro.
- b) a implantação do Estado de bem-estar social.
- c) a abertura plena das fronteiras econômicas.
- d) a criação de blocos econômicos.
- e) o controle da economia pelo Estado nacional.

42. Leia a canção a seguir.

Pode ir armando o coreto

E preparando aquele feijão preto

Eu tô voltando (...)

Leva o chinelo pra sala de jantar

Que é lá mesmo que a mala eu vou largar

Quero te abraçar, pode se perfumar

Porque eu tô voltando (...)

(Tô Voltando. Maurício Tapajós/Paulo César Pinheiro)

Essa canção simbolizou um determinado momento da história brasileira, que foi

- a) a concessão de perdão político pelo governo militar, em março de 1964, aos 283 marinheiros e fuzileiros navais acusados de rebelião.
- b) a regularização da situação dos estrangeiros que entraram no país até 1o de fevereiro de 1990, por meio da Lei da Anistia Imigratória.
- c) a luta pela democracia e contra a ditadura, com o retorno dos exilados a partir do movimento pela anistia, nos anos de 1978 e 1979.
- d) a aprovação do perdão, em 1930, concedida aos militares dos levantes de 1922 e 1924, conhecidos como Revolta dos Tenentes.
- e) o decreto de anistia assinado pelo presidente Getúlio Vargas em 1945 libertando 563 militantes mantidos na prisão pelo Estado Novo.

43. A seguir estão trechos de Constituições brasileiras.

I. Art. 14 A soberania popular será exercida pelo sufrágio universal e pelo voto direto e secreto, com valor igual para todos (...).

II. Art. 70 São eleitores os cidadãos maiores de 21 anos, que se alistarem na forma da lei.

§ 1º Não podem alistar-se eleitores para as eleições federais, ou para as dos Estados:

(...) 2º Os analfabetos; (...).

III. Art. 131 São eleitores os brasileiros maiores de dezoito anos que se alistarem na forma da lei.

Art. 132 Não podem alistar-se eleitores:

I – os analfabetos; (...).

Art. 133 O alistamento e o voto são obrigatórios para os brasileiros de ambos os sexos, salvo as exceções previstas em lei.

É correto afirmar que os trechos das Constituições citados correspondem, na ordem I, II e III, aos contextos históricos:

- a) 1954 – Retorno de Getúlio Vargas ao poder; 1964 – Golpe Militar; 1891 – República Oligárquica.
- b) 1935 – Intentona Comunista; 1932 – Revolução Constitucionalista; 1969 – Ato Institucional nº 5.
- c) 1996 – Governo neoliberal; 1930 – Golpe de Estado; 1989 – Abertura Política.
- d) 1934 – Estado Novo; 1957 – Governo Populista; 1967 – Governo Militar.
- e) 1988 – Redemocratização; 1891 – Início da República; 1946 – Fim do Estado Novo.

44. (...) foi o primeiro veículo de comunicação a chegar às residências e aos locais de trabalho. Por causa de seu enorme impacto no dia a dia dos brasileiros, Getúlio impôs o controle das informações transmitidas (...) durante o Estado Novo. Nem tudo podia ser dito, e a forma de dar a notícia também era pensada com cuidado, para evitar que a voz da

oposição chegasse aos brasileiros. Interesses políticos e comerciais sempre interferiram nos meios de comunicação.

(Disponível em:
<http://memorialdademocracia.com.br>. Acesso em:
14.08.2018. Adaptado)

A qual meio de comunicação o texto faz referência?

- a) Rádio.
- b) Televisão.
- c) Jornal.
- d) Revista.
- e) Telefone.

45. Observe a figura.



Na década de 1970, durante o regime militar, ocorreram manifestações da população negra em importantes cidades do Brasil. Entre essas manifestações, havia a do Movimento Negro Unificado que tinha como principal foco de sua luta

- a) a implantação progressiva e gradual da democracia racial no Brasil.
- b) igualar os direitos dos negros brasileiros às conquistas dos negros dos EUA.
- c) o fim da marginalização social, segregação econômica e violência racial.

- d) a reprovação das guerrilhas dos negros no Apartheid na África do Sul.
- e) a revisão histórica para diferenciar as raças e suas contribuições à nação.

ATUALIDADES

Leandro Signori

46. "A tensão entre a União Europeia e Belarus aumenta dia após dia desde a chegada, na última segunda-feira (8 nov.), de centenas de imigrantes à fronteira do país com a Polônia. Desde esse dia, a Guarda de Fronteira polonesa registrou mais de 30.000 tentativas de cruzar a cerca de arame farpado que separa os dois países."

Disponível em: <https://tinyurl.com/yckkrsxu>. Acesso em 03/01/2021.

Segundo autoridades europeias, Belarus está orquestrando a migração para pressionar o bloco europeu em retaliação

- a) à tentativa de interferência europeia nas eleições realizadas em agosto de 2020.
- b) à suspensão de fornecimento de gás europeu para o país.
- c) às sanções econômicas impostas à Belarus pelas graves violações dos direitos humanos no país
- d) à prisão de um funcionário do alto escalão bielorrusso após o pouso forçado de um voo comercial na Grécia.
- e) à suspensão por tempo indefinido de Belarus do bloco econômico europeu.

47. "Reino Unido e União Europeia chegaram a um acordo para impor uma trégua na chamada "guerra das linguças", a um dia do prazo final para que fosse proibida a entrada de carnes resfriadas britânicas na Irlanda do Norte."

Disponível em: <https://tinyurl.com/56n4wxvf>. Acesso em 03/01/2021.

A proibição estava relacionada

- a) ao estabelecimento de uma fronteira dura, com fiscalização e aduanas, entre a Irlanda do Norte e a República da Irlanda.
- b) a inconclusão dos termos comerciais finais entre o Reino Unido e a União Europeia.
- c) a uma lei norte-irlandesa que visava incentivar os produtores locais de carnes resfriadas.
- d) as regras de vigilância sanitária da Irlanda do Norte, que foram recentemente atualizadas para não permitir a entrada de carnes resfriadas no país devido ao seu potencial risco à saúde.
- e) a uma regra da União Europeia que estabelece que carnes resfriadas devem estar congeladas para entrar no mercado comum europeu.

48. Observe o gráfico abaixo, publicado pelo G1:



Disponível em: <https://tinyurl.com/yc49pbt2>. Acesso em 06/12/2021.

O aumento do desmatamento no ano de 2021 é reflexo, principalmente

- a) da redução de metas apresentadas pelo Brasil para o combate ao desmatamento, na COP26.
- b) da intensificação na fiscalização e no monitoramento do desmatamento.
- c) do período úmido e quente pelo qual passa o país, aumentando os focos de incêndio.

- d) da conversão de áreas naturais em grandes projetos agropecuários.
- e) da construção de hidrelétricas, sobretudo à finalização da última parte das obras da Usina Hidrelétrica de Belo Monte.

49. "O presidente Jair Bolsonaro sancionou, nesta segunda-feira (22 nov.), a Lei 14.245/ 2021. Conhecida como Lei Mariana Ferrer. O texto foi publicado no Diário Oficial da União desta terça-feira e entra em vigor imediatamente."

Disponível em: <https://tinyurl.com/53ute6mu>.
Acesso em 03/01/2021.

Essa lei tem como objetivo:

- a) proibir que vítimas de crimes sexuais e testemunhas sejam constrangidas durante audiências e julgamentos.
- b) criar mecanismos para coibir a violência doméstica e familiar contra a mulher.
- c) permitir que mulheres desçam fora do ponto de ônibus no período que vai das 22h às 5h, para sua segurança.
- d) tornar crime o compartilhamento de fotos íntimas sem o consentimento da vítima.
- e) oferecer garantias a vítimas de violência sexual, como atendimento imediato pelo SUS, amparo médico, psicológico e social, exames preventivos e o fornecimento de informações sobre os direitos legais das vítimas.

50. O longa-metragem brasileiro não passou pela fase de seleção feita pela Academia de Artes e Ciências Cinematográficas de Hollywood para concorrer ao Oscar 2022 de melhor filme internacional. O resultado foi divulgado no mês de dezembro de 2021. Em outubro, a Academia Brasileira de Cinema e Artes Visuais fez a indicação para os organizadores da premiação do Oscar.

Trata-se do filme:

- a) Babenco - Alguém Tem Que Ouvir o Coração e Dizer: Parou.
- b) Deserto Particular.
- c) A Nuvem Rosa.
- d) A Última Floresta.
- e) Por Quê Você Não Chora?

NOÇÕES BÁSICA DE INFORMÁTICA

Emannuelle Gouveia

51. No menu "Configurações" do Windows é possível realizar diversas tarefas de personalização e configuração da máquina e da rede. Das letras abaixo, marque a opção que permite apagar corretamente programas no Windows, pois além de apagar apenas o que deve ser apagado ainda atualiza o registro do Windows.

- a) Lixeira
- b) Aplicativos e Recursos
- c) Windows Update
- d) Windows Defacer
- e) Dispositivos

52. No Word, ao clicar duas vezes com o mouse sobre uma palavra, que ação será realizada:

- a) será selecionada a palavra em questão.
- b) o curso será posicionado na palavra
- c) o parágrafo inteiro será selecionado.
- d) todo o texto será selecionado
- e) nada acontecerá.

53. Uma planilha no Excel tem os valores

	A	B
1	10	15
2	20	25
3	30	40
4		

Ao digitarmos na célula D4 a seguinte fórmula

=CONT.NUM(A1:B3)

O valor obtido será:

- a) 5
- b) 8
- c) 6
- d) 2
- e) 1

54. Um soldado está preparando uma mensagem natalina que será enviada pelo seu escalão. Para isso está escrevendo a mensagem paulatinamente. Esse email que ainda está sendo preparado deve estar armazenado na caixa:

- a) Entrada.
- b) Saída
- c) Itens Enviados
- d) Rascunho
- e) Lixeira

55. Um usuário apagou os dados de navegação no google Chrome. Podemos então concluir que ele apagou:

- a) Apenas o seu histórico.
- b) Os formulários e senhas.
- c) Os Favoritos.
- d) os arquivos baixados pelo usuário.
- e) O histórico, os cookies, os arquivos temporários, os formulários e as senhas..

DIREITO CONSTITUCIONAL E CONSTITUIÇÃO DO ESTADO DE SÃO PAULO E LEI Nº 12.527/11 – LEI DE ACESSO À INFORMAÇÃO

Emerson Bruno

56. Segundo a Constituição Federal, poderá ter direito à fiança aquele que cometer, dentre outros, o crime

- a) de racismo.
- b) de tráfico ilícito de entorpecentes.
- c) de terrorismo.

d) hediondo.

e) culposo contra a vida.

57. Maria, por falta de norma regulamentadora, precisa que se torne viável a sua prerrogativa inerente à sua nacionalidade e cidadania. Para garantia desse direito, e conforme a Constituição Federal, Maria poderá impetrar *

- a) mandado de injunção.
- b) mandado de segurança.
- c) habeas data.
- d) ação civil pública.
- e) ação popular.

58. As idades mínimas de: dezoito anos, vinte e um anos; e trinta anos são condições de elegibilidade, respectivamente, para

- a) Vereador, Deputado Federal e Presidente da República.
- b) Vereador, juiz de paz e Governador de Estado.
- c) Vereador, Deputado Federal e Senador.
- d) Deputado Estadual, Prefeito e Presidente da República.
- e) Deputado Estadual, Prefeito e Senador.

59. De acordo com a Constituição do Estado, marque a afirmativa incorreta.

- a) A polícia do Estado será integrada pela Polícia Civil, Polícia Militar e Corpo de Bombeiros.
- b) A Polícia Militar, integrada pelo Corpo de Bombeiros é força auxiliar, reserva do Exército.
- c) O Estado manterá a Segurança Pública por meio de sua polícia, subordinada ao Governador do Estado.
- d) O Comandante-Geral da Polícia Militar será nomeado pelo Governador do Estado dentre oficiais

da ativa ou da reserva remunerada, ocupantes do último posto do Quadro de Oficiais Policiais Militares, conforme dispuser a lei, devendo fazer declaração pública de bens no ato da posse e de sua exoneração.

e) À Polícia Militar, órgão permanente, incumbe, além das atribuições definidas em lei, a polícia ostensiva e a preservação da ordem pública.

60. De acordo com a Lei de Acesso à Informação, o prazo máximo de restrição de acesso para uma informação classificada como secreta é:

- a) 35 anos.
- b) 20 anos.
- c) 25 anos.
- d) 15 anos.
- e) 5 anos.

Gabarito!

NÃO É ASSINANTE?

<https://bit.ly/Estrategia-Assinaturas>

CONHEÇA NOSSO SISTEMA DE QUESTÕES!

<https://bit.ly/Sistemas-de-Questões>