



1º Simulado PM SP

Soldado - Pós-Edital

Simulado PM-SP

Nome: _____

INFORMAÇÕES SOBRE O SIMULADO EXCLUSIVO

- 1 – Este simulado conta com questões focadas no concurso da PM-SP;
- 2 – A prova contém **60 itens** que abordam conhecimentos cobrados nos últimos editais do concurso;
- 3 – As questões são inéditas e foram elaboradas pelos nossos professores com base no conteúdo programático do edital.
- 4 – Este PDF foi enviado por e-mail, disponibilizado na área do aluno e em um artigo publicado no blog do Estratégia Concursos;
- 5 – Os participantes têm das **8:30 às 12:30** para responder às questões e preencher o Gabarito Eletrônico;
- 6 – O link para preencher o formulário com seu gabarito está localizado na última página deste PDF;
- 7 – O Gabarito do Simulado e o Ranking Classificatório com nota serão divulgados no blog do Estratégia Concursos.
- 8 – Esse simulado é uma autoavaliação! Você mesmo(a) vai corrigir, a partir do padrão de respostas disponível na área do aluno.

PREENCHA SEU GABARITO NO LINK

<https://bit.ly/Simulado-PMSP-Soldado-28-11>

01 - ABCDE	13 - ABCDE	25 - ABCDE	37 - ABCDE	49 - ABCDE
02 - ABCDE	14 - ABCDE	26 - ABCDE	38 - ABCDE	50 - ABCDE
03 - ABCDE	15 - ABCDE	27 - ABCDE	39 - ABCDE	51 - ABCDE
04 - ABCDE	16 - ABCDE	28 - ABCDE	40 - ABCDE	52 - ABCDE
05 - ABCDE	17 - ABCDE	29 - ABCDE	41 - ABCDE	53 - ABCDE
06 - ABCDE	18 - ABCDE	30 - ABCDE	42 - ABCDE	54 - ABCDE
07 - ABCDE	19 - ABCDE	31 - ABCDE	43 - ABCDE	55 - ABCDE
08 - ABCDE	20 - ABCDE	32 - ABCDE	44 - ABCDE	56 - ABCDE
09 - ABCDE	21 - ABCDE	33 - ABCDE	45 - ABCDE	57 - ABCDE
10 - ABCDE	22 - ABCDE	34 - ABCDE	46 - ABCDE	58 - ABCDE
11 - ABCDE	23 - ABCDE	35 - ABCDE	47 - ABCDE	59 - ABCDE
12 - ABCDE	24 - ABCDE	36 - ABCDE	48 - ABCDE	60 - ABCDE

PORTUGUÊS / INTERPRETAÇÃO DE TEXTO

Suellen Borges

TEXTO I**Desastres climáticos aumentaram cinco vezes nos últimos 50 anos, aponta relatório da ONU**

O número de desastres, como inundações e ondas de calor, causados pela mudança climática aumentou cinco vezes nos últimos 50 anos, matando mais de 2 milhões de pessoas e custando US\$ 3,64 trilhões em perdas totais, informou a ONU em relatório divulgado. A Organização Meteorológica Mundial (OMM) afirma que seu "Atlas" é a análise mais abrangente de mortalidade e perdas econômicas causadas por clima, água e extremos climáticos já produzida.

O relatório mostra uma tendência de aceleração, com o número de desastres aumentando quase cinco vezes da década de 1970 até a década mais recente, reforçando os sinais de que eventos climáticos extremos estão se tornando mais frequentes devido ao aquecimento global. "O número de fenômenos extremos está aumentando. Devido à mudança climática, estes serão mais frequentes e severos em muitas partes do mundo", afirmou em comunicado o secretário-geral da OMM.

Apesar de os eventos serem mais caros e frequentes, o número anual de mortes caiu de mais de 50 mil na década de 1970 para cerca de 18 mil na década de 2010, sugerindo que "sistemas aprimorados de alerta precoce levaram a uma redução significativa na mortalidade", acrescentou o secretário-geral. "A diferença é a prevenção", destacou em comunicado Mami Mizutori, que dirige a Agência da ONU para Redução de Risco de Desastres (UNDRR, na sigla em inglês). Ele recordou que, após o Katrina, Nova Orleans investiu US\$ 14,5 bilhões em dispositivos de combate às inundações.

De acordo com a OMM, é possível afirmar que, em média, aconteceu um desastre vinculado ao clima a cada dia dos últimos 50 anos, provocando o equivalente à morte de 115 pessoas e perdas materiais de US\$ 202 milhões por dia. As secas foram responsáveis pelas perdas humanas mais graves durante o período, com quase 650 mil vítimas fatais, enquanto as tempestades tiraram a vida de mais de 577 mil pessoas. Já as inundações mataram 59 mil pessoas e as temperaturas extremas quase 56 mil, segundo o relatório.

A organização também explica que mais de 91% das 2 milhões de mortes ocorreram em países em desenvolvimento, observando que apenas metade dos 193 membros da OMM têm sistemas de alerta precoce. Nesse sentido, Mizutori exortou as principais economias do mundo a ajudarem os países em desenvolvimento a investirem em sistemas de alerta e modelagem de risco, alertando para a necessidade de

melhorar as redes de observação meteorológica em países da África, em certas áreas da América Latina e nas ilhas do Pacífico e Caribe.

Ele celebrou no comunicado as vidas que foram salvas graças aos sistemas de alerta, mas advertiu que "o número de pessoas expostas a riscos aumenta devido ao crescimento da população em áreas que podem sofrer catástrofes e a uma intensidade e frequência crescentes dos fenômenos" extremos.

(O GLOBO - Agências internacionais. Adaptado)

01. De acordo com a leitura do texto, os desastres

- a) Foram menos frequentes devido aos sistemas de alerta.
- b) Aconteceram predominantemente em países em desenvolvimento.
- c) Não puderam ser monitorados devido à ausência de sistemas em países subdesenvolvidos.
- d) Vitimaram menos pessoas devido aos sistemas de alerta.
- e) Nenhuma das anteriores.

02. O texto é predominantemente

- a) expositivo
- b) narrativo
- c) argumentativo
- d) descritivo
- e) Nenhuma das anteriores.

03. No 3º parágrafo, o trecho "um desastre vinculado ao clima" exerce a função de

- a) objeto direto
- b) adjunto adverbial
- c) adjunto adnominal
- d) sujeito
- e) Nenhuma das anteriores.

04. Em "Apesar de os eventos serem mais caros e frequentes, o número anual de mortes caiu de mais de 50 mil na década de 1970 para cerca de 18 mil na década de 2010" (2º parágrafo) há uma relação de

- a) concessão
- b) adversidade
- c) consequência
- d) comparação
- e) Nenhuma das anteriores.

05. Em "Não são apenas fatores externos que impulsionam o preconceito. A necessidade de autoafirmação, de controlar frustrações subjetivas acarretam atitudes preconceituosas", o ponto poderia ser substituído por

- a) conquanto
- b) pois
- c) entretanto
- d) portanto
- e) Nenhuma das anteriores.

06. A vírgula foi empregada pelo mesmo motivo que se observa no trecho "Vagarosamente, os efeitos das mudanças climáticas eram percebidos" em:

- a) Pelos homens, a vida é construída diariamente
- b) Caros amigos, devo meu sucesso a todos vocês.
- c) Amazon, Netflix, Disney e HBO lutam por espaço entre consumidores brasileiros.
- d) O rei, quando não havia mais saída, apelava para seus súditos.
- e) Nenhuma das anteriores.

07. A palavra que foge a qualquer regra de formação do plural de "vulcão" é:

- a) escrivão.
- b) estação.
- c) restrição
- d) coração
- e) Nenhuma das anteriores.

08. A classificação SINTÁTICA dos termos sublinhados é RESPECTIVAMENTE:

A maior dificuldade de acesso à internet foi identificada na rede municipal de ensino, em que apenas 2% das escolas afirmaram que os estudantes tiveram acesso gratuito ou subsidiado à internet em casa.

- a) adjunto adnominal, objeto indireto, objeto direto.
- b) complemento nominal, adjunto adverbial, objeto direto.
- c) complemento nominal, objeto indireto, oração adjetiva.
- d) adjunto adnominal, adjunto adverbial, oração adjetiva.
- e) Nenhuma das anteriores.

TEXTO II

PLANEJAMENTO URBANO PODE COMBATER O SEDENTARISMO

Qual seria a melhor campanha para garantir a saúde da população? De vacinação, alimentação de qualidade, contra o fumo? Todas são importantes, mas o escritor Peter Walker afirma que o planejamento urbano é fundamental para resolver a equação. O motivo: as cidades têm que ser repensadas para estimular a atividade física, já que o sedentarismo é, atualmente, a quarta causa de mortes no mundo.

Mesmo reconhecendo que, com frequência, é difícil vencer a inércia, não se pode afirmar que não se exercitar é uma escolha pessoal. Se as cidades fossem mais convidativas, talvez o cenário fosse outro. Essa é a tese de Walker, que é comentarista político e ciclista, em seu livro recém-lançado: "A pílula milagrosa: por que um mundo sedentário está entendendo tudo errado".

Ele diz que cerca de 1.5 bilhão de pessoas no planeta estão pondo em risco sua saúde a longo prazo. Todo ano, estima-se que 5.3 milhões morram por questões relacionadas ao estilo de vida sedentário – o equivalente à população da Noruega. No Reino Unido, 80% das crianças se exercitam tão pouco que há um risco grande de terem comprometimento do sistema cardiovascular, ossos frágeis e outras doenças crônicas.

Há mais estatísticas no livro, mas a intenção não é fazer com que ninguém se sinta culpado. Seu objetivo é o oposto: mostrar que tais padrões podem ser quebrados e que nunca é tarde para começar a se movimentar. Principalmente, é necessário cobrar do poder público políticas urbanas que estimulem a atividade física. O título dá o mapa da mina: a pílula milagrosa se refere a uma pesquisa realizada na Dinamarca que, ao longo de 15 anos, acompanhou 30 mil pessoas. Aquelas que

pedalavam indo e vindo do trabalho apresentaram 40% a menos de chances de morrer no período do estudo.

No mundo inteiro, houve um enorme declínio na movimentação natural, que foi sendo removida das nossas vidas – do controle remoto dos aparelhos de TV aos comandos elétricos dos carros, das escadas rolantes ao trabalho em regime de home office. Deveriam as políticas públicas municipais apostar em cidades com menos carros e mais ruas de pedestres e ciclovias; em mais parques e áreas de lazer dotadas de equipamentos – e, claro, em segurança para esses locais. Superar a inércia não seria tão complicado.

(Por Mariza Tavares. Disponível em <https://g1.globo.com/bemestar/blog/longevidade-modo-de-usar/post/2021/06/08/planejamento-urbano-pode-combater-o-sedentarismo.ghml>. Adaptado)

09. O texto começa por uma sequência de perguntas cuja finalidade básica é

- a) testar os conhecimentos prévios do leitor, a fim de estimular seu interesse.
- b) direcionar a leitura do texto para um público específico.
- c) indicar o teor político do texto, que possui um caráter persuasivo.
- d) provocar uma reflexão no leitor, que possa ligá-lo à temática do texto.
- e) Nenhuma das anteriores.

10. A presença de dados estatísticos no texto tem a função de

- a) corroborar a tese defendida pelo autor do livro
- b) dar mais autoridade às informações prestadas no texto.
- c) demonstrar que atualmente as crianças estão mais propícias ao sedentarismo.
- d) indicar a preocupação de especialistas no assunto.
- e) Nenhuma das anteriores.

11. Assinale a opção que apresenta o conector que tem seu significado indicado incorretamente.

- a) "Todas são importantes, **mas** o escritor Peter Walker afirma que o planejamento urbano é fundamental" (1º parágrafo) / oposição
- b) "**Mesmo** reconhecendo que, com frequência, é difícil vencer a inércia, não se pode afirmar" (2º parágrafo) / proporcionalidade
- c) "as cidades têm que ser repensadas **para** estimular a atividade física" (1º parágrafo) / finalidade
- d) "80% das crianças se exercitam tão pouco **que** há um risco grande" (3º parágrafo) / consequência
- e) Nenhuma das anteriores.

TEXTO III



(Disponível em <https://revistagalileu.globo.com/Cultura/noticia/2020/09/7-tirinhas-de-mafalda-para-refletir-sobre-os-tempos-atuais.html>)

12. Depreende-se do texto III que:

- a) pelo emprego dos verbos no imperativo, a televisão é capaz de ensinar quando não se sabe quem é.
- b) "eles", no primeiro quadrinho, refere-se aos apresentadores de algum programa culinário.
- c) a personagem está insatisfeita com a programação disponível na televisão.
- d) a mídia possui um apelo consumista demonstrado na tirinha pelos verbos no imperativo.
- e) Nenhuma das anteriores.

13. Em relação ao texto III, assinale a opção correta.

- a) Os vocábulos 'que' em "e o que nós somos" e "que nós ainda não sabemos" pertencem à mesma classe gramatical.
- b) O termo "ainda", no último quadrinho, exerce a função de adjunto adnominal de "não".
- c) O vocábulo 'que' em "que nós ainda não sabemos" introduz um objeto direto.
- d) As formas verbais no primeiro quadrinho estão entre aspas para indicar uma mudança em seus sentidos usuais.
- e) Nenhuma das anteriores.

14. Assinale a alternativa que apresenta a concordância adequada referente aos verbos e pronomes possessivos, de tratamento e adjetivos em documentos oficiais.

- a) Vossa Excelência será responsabilizado.
- b) Vossa Excelência sereis responsabilizada.
- c) Vossa Excelência serás responsabilizada.
- d) Vossa Excelência nomeará teu substituto.
- e) Nenhuma das anteriores.

15. Ainda de acordo com o texto III, o vocábulo "malditos", no último quadrinho, tem como sinônimo no contexto em que se encontra:

- a) perversos
- b) cruentos
- c) sangrentos
- d) irascíveis
- e) indômitos

16. A frase que está em conformidade com a norma-padrão da língua portuguesa em termos de regência e concordância é:

- a) O risco global da variante Ômicron, detectada na África do Sul, é "muito alto", alertam a Organização Mundial da Saúde (OMS) em documentos enviados aos governos.
- b) A entidade destaca que as principais preocupações residem na transmissibilidade, na capacidade de escape imunológico das vacinas existente e no perfil de gravidade da nova cepa.
- c) A depender da resposta à essas dúvidas, a organização internacional aponta que podem haver outros picos da covid-19 com "consequências graves".
- d) A OMS, porém, destaca haver poucas evidências substanciais sobre a variante de preocupação.
- e) Por isso, a OMS diz que a avaliação de risco global têm "incerteza considerável" e deve ser atualizada conforme novas informações surgirem.

17. Assinale a alternativa em que a frase entre parênteses NÃO substitui corretamente a expressão:

- a) Encontrar a saída (encontrá-la)
- b) Darei a resposta a ele (dar-lhe-ei a resposta)
- c) Entregar um documento ao chefe (entregar-lhe ao chefe)
- d) Realizar o concurso (realizá-lo)
- e) Idealizar um projeto (idealizá-lo)

18. Das frases abaixo, a que NÃO contém sentido figurado encontra-se em:

- a) Moradores de São Paulo desmaiam de fome em postos de saúde.
- b) A viatura cantou pneu na pista de rolamento.
- c) O policial trocou ideias com o cidadão durante o trabalho.
- d) O Governo de São Paulo contratou profissionais da segurança.
- e) A regra é clara.

19. Assinale a frase do texto que foi reescrita em conformidade com a norma-padrão da língua portuguesa quanto ao emprego da crase:

- a) PSG anuncia: brasileiro teve grave contusão ontem a noite.
- b) Os jogadores do PSG se apressaram à chamar os médicos.
- c) À dois meses de completar 30 anos, ele sabia que a lesão havia sido grave.
- d) A preocupação do PSG é em relação à Champions.
- e) A lesão do jogador começa a atrapalhar os planos de Tite para à Copa.

20. De acordo com a norma-padrão de pontuação, concordância, ortografia e acentuação, está corretamente redigida a seguinte frase:

- a) Duas farmaceuticas americanas anunciaram nesta sexta-feira (26), que encaminharam para a Anvisa um pedido de autorização para uso emergencial no Brasil da pilula para tratamento da Covid-19, o Molnupiravir.
- b) Esse é o primeiro medicamento antiviral oral com eficácia contra o coronavirus. O molnupiravir trabalha tentando prevenir a replicação do virus.
- c) Ele é eficaz para diversas variantes virais, incluindo as principais Gamma, Delta e Mu.
- d) Segundo o laboratório responsável, os resultados da análise preliminar do estudo de fase 3 mostrou que o remédio reduziu significativamente o risco de hospitalização e morte pela Covid-19.
- e) O estudo incluiu pacientes brasileiros de São Paulo (SP), São José do Rio Preto (SP), Brasília (DF), Belo Horizonte (MG), Curitiba (PR) e Bento Gonçalves (RS).

MATEMÁTICA

Carlos Henrique

21. O malévolo Roserval, diretor de marketing do Estratégia Concursos, colocou o gatinho da aluna Coruja no alto de uma árvore. Coruja colocou uma escada junto à árvore para ajudar o gato a descer.



Sabendo que o gato estava a uma altura de 8 metros e a base da escada estava posicionada a 6 metros do pé da árvore, qual o comprimento da escada utilizada para salvar o gatinho?

- a) 15 metros.
- b) 10 metros.
- c) 13 metros.
- d) 20 metros.
- e) 25 metros

22. Numa divisão com números inteiros, o resto vale 5, o divisor é igual ao resto somado a 3 unidades e o quociente é igual ao dobro do divisor. Assim, é correto afirmar que o valor do dividendo é igual a:

- a) 145
- b) 133
- c) 127
- d) 118
- e) 102

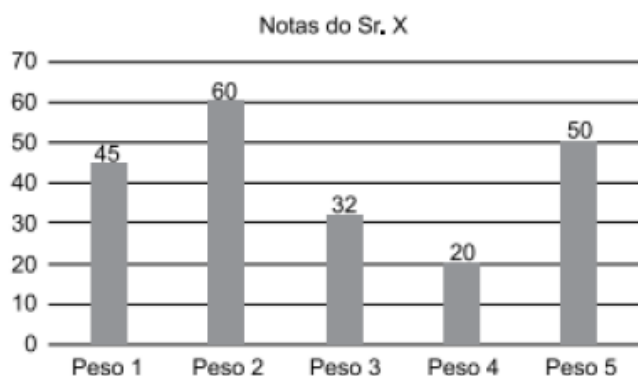
23. Um reservatório tem a forma de um paralelepípedo reto-retângulo e mede 0,50m de largura, 1,20 m de comprimento e 0,70m de altura. Estando o reservatório com certa quantidade de água, coloca-se dentro dele uma pedra com forma irregular, que fica totalmente coberta pela água. Observa-se, então, que o nível de água sobe 1cm. Isto significa que o volume da pedra mede, em centímetros cúbicos:

- a) 0,42
- b) 60
- c) 600
- d) 6000
- e) 420.000

24. Coruja machucou seu braço treinando para as próximas olimpíadas e precisa tomar um anti-inflamatório de 8 em 8 horas, colocar gelo a cada 6 horas e passar uma pomada de 4 em 4 horas. No dia 10 de setembro deste ano às 10 horas, ela colocou gelo, tomou o anti-inflamatório e passou a pomada. Cumprindo os horários prescritos, ela tornou a fazer os três procedimentos juntos novamente no dia 11 de setembro deste ano às

- a) 10 horas.
- b) 12 horas.
- c) 14 horas.
- d) 18 horas.
- e) 20 horas.

25. O gráfico a seguir mostra as cinco notas do Sr. X e os respectivos pesos atribuídos a cada uma das provas.



Para ser aprovado, o Sr. X precisava que sua média aritmética ponderada por esses pesos fosse maior ou igual a 48 pontos. Com essas notas, o Sr. X não foi aprovado e sua média ficou abaixo de 48, em uma quantidade de pontos igual a

- a) 6,6.
- b) 7,9.
- c) 8,6.
- d) 9,5.
- e) 10,8.

26. Uma urna contém 12 bolas roxas, 10 amarelas, 7 vermelhas e 11 brancas. Retirando-se ao acaso uma bola por vez dessa urna, o número mínimo de retiradas para se ter certeza que uma bola amarela esteja entre as que foram retiradas é

- a) 26
- b) 20
- c) 31
- d) 41
- e) 40

27. De acordo com as informações do texto acima, o volume diário de petróleo produzido no País, em milhares de barris, é:

- a) 1000
- b) 1200
- c) 1500
- d) 1800
- e) 2000

28. Considere que, dos 22 tanques citados na reportagem, 10 sejam do tipo A e os restantes, do tipo B. Se os tanques do tipo B podem armazenar, cada um, 5 mil barris a mais do que os do tipo A, a capacidade de armazenamento de cada tanque do tipo B, em milhares de barris, é:

- a) 50
- b) 55
- c) 60
- d) 70
- e) 75

29. Vilma, Marta e Cláudia trabalham em uma mesma agência bancária. Vilma está nesse emprego há 5 anos, Marta, há 7 anos e Cláudia, há 12 anos. Para premiar a eficiência dessas funcionárias, a direção do banco concedeu-lhes uma bonificação de R\$ 12.000, que deverão ser divididos entre as três, de forma diretamente proporcional aos respectivos tempos de serviço.

Nesse caso, quanto Vilma receberá de bonificação?

- a) 2500
- b) 2700
- c) 3000
- d) 3500
- e) 6000

30. Em uma filial do Estratégia Concursos, 65% dos funcionários trabalham na edição, 23% trabalham no marketing e os 24 funcionários restantes trabalham no telemarketing.

A quantidade de funcionários que trabalham na edição é:

- a) 100
- b) 110
- c) 120
- d) 130
- e) 140

31. Considere que, com a aquisição de novos equipamentos, o tempo para se digitalizar uma página, que era de 22 segundos, passou a ser de $[22 - 22 \times P]$ segundos, em que P correspondente à dízima periódica 0,27272727.... Nessa situação, com os novos equipamentos, a digitalização de uma página passou a ser feita em:

- a) 14 segundos
- b) 15 segundos
- c) 16 segundos
- d) 17 segundos
- e) 18 segundos

32. Três pessoas A, B e C que pesam, respectivamente, 30 kg, 80 kg e 100 kg, querem atravessar um grande lago num bote cuja capacidade é de 120 kg. Cada travessia em qualquer sentido demora 17 minutos e o bote deve sempre ser conduzido por uma dessas três pessoas. O tempo mínimo, em minutos, necessário para que as três pessoas atravessem o lago é:

- a) 34
- b) 51
- c) 68
- d) 85
- e) 102

33. Em certo prédio comercial, devido a um problema de abastecimento de água, foi decidida, em uma reunião do condomínio, a construção de uma nova cisterna. A nova cisterna deve ter formato cilíndrico, com 3 m de altura, e estimou-se que a nova cisterna deverá comportar 81.000 litros de água (Utilize 3,0 como aproximação para π .)

Qual deve ser, em metros, o raio da cisterna para atingir o volume desejado?

- a) 0,5
- b) 1,0
- c) 2,0
- d) 3,5
- e) 3,0

34. Arnaldo, Beatriz, Carlos, Denise e Evaldo chegaram a uma reunião em momentos diferentes. Sabe-se que:

- Beatriz e Denise chegaram depois de Arnaldo;
- Carlos e Evaldo não chegaram antes de Beatriz;
- Beatriz e Carlos chegaram antes de Denise;
- apenas uma dessas pessoas chegou depois de Carlos.

Assinale a opção que apresenta a correta ordem de chegada dessas pessoas a essa reunião, da primeira até a última.

- a) Arnaldo / Evaldo / Beatriz / Carlos / Denise
- b) Arnaldo / Beatriz / Evaldo / Carlos / Denise
- c) Beatriz / Arnaldo / Evaldo / Carlos / Denise
- d) Carlos / Arnaldo / Evaldo / Denise / Beatriz
- e) Arnaldo / Beatriz / Denise / Carlos / Evaldo

35. Maria está em uma fila que tem, ao todo, 37 pessoas.

O número de pessoas à frente de Maria é o triplo do número de pessoas atrás dela. O tempo máximo de atendimento de cada pessoa da fila é de 3 minutos.

Tomando como referência o início do atendimento, Maria será atendida, no máximo, em

- a) 1h15min.
- b) 1h20min.
- c) 1h21min.
- d) 1h30min.
- e) 1h37min.

HISTÓRIA E GEOGRAFIA

Sérgio Henrique

36. A disponibilidade de água no Brasil é elevada, se comparada à de outras regiões do mundo. No entanto, quando se consideram o potencial hídrico no território e a distribuição da população brasileira por regiões, notam-se

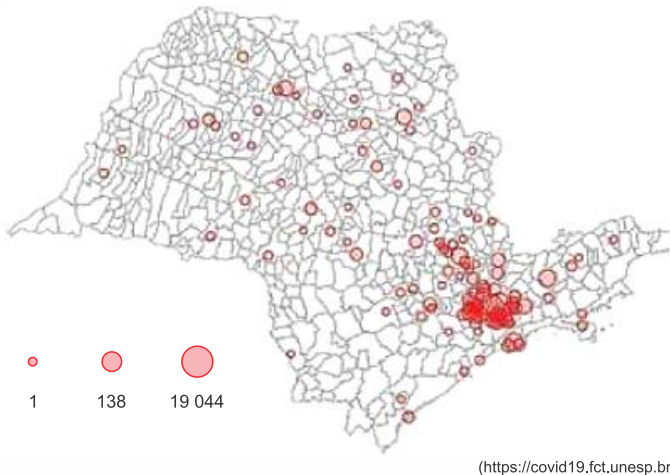
- a) a distribuição desigual do recurso e a possibilidade de escassez hídrica.
- b) a homogeneidade da matriz energética nacional e o predomínio de assentamentos litorâneos.
- c) a transposição do recurso e a criação artificial de demandas.
- d) a valorização de áreas bem abastecidas e os fluxos migratórios de transumância.
- e) a perda do recurso por mau uso e o desequilíbrio na ocupação de bacias hidrográficas.

37. O crescimento horizontal, conceito demográfico importante para a compreensão do processo de formação da população brasileira, caracteriza-se

- a) pela manutenção no território de povos dele originários, especificamente comunidades indígenas estabelecidas antes do século XVI.
- b) pelo saldo positivo na participação de imigrantes na população, sobretudo de portugueses entre os séculos XVI e XX.
- c) pelo espriamento na base da pirâmide etária nacional, fato que possibilitou a ocupação e a posse territorial entre os séculos XVI e XVIII.
- d) pela ampliação da longevidade, que aumentou em números absolutos a densidade demográfica nacional no século XX.
- e) pela disparidade entre as taxas de natalidade e de mortalidade, condição que contribuiu para o bônus demográfico no século XX.

38. Analise o mapa.

Casos confirmados de covid-19 por município no estado de São Paulo no dia 7 de abril de 2020



(<https://covid19.fct.unesp.br>)

De acordo com as informações do mapa, a dispersão da covid-19 no estado de São Paulo acompanhou

- a) o padrão pedológico regional.
- b) os grandes eixos rodoviários.
- c) as isolinhas de fatores climáticos.
- d) as zonas econômicas especiais.
- e) os centros urbanos metropolitanos.

39. A revolução das telecomunicações, iniciada no Brasil dos anos 70, foi um marco no processo de reticulação do território. Novos recortes espaciais, estruturados a partir de forças centrípetas e centrífugas, decorriam de uma nova ordem, de uma divisão territorial do trabalho em processo de realização. Do telégrafo ao telefone e ao telex, do fax e do computador ao satélite, à fibra óptica e à internet, o desenvolvimento das telecomunicações participou vigorosamente do jogo entre separação material das atividades e unificação organizacional dos comandos.

(Milton Santos e María Laura Silveira. *O Brasil*, 2006.)

No Brasil, a revolução das telecomunicações possibilitou

- a) o avanço de indicadores sociais, uma vez que facilitou o contato entre pessoas que habitam regiões remotas.
- b) o anonimato em mensagens eletrônicas, ainda que informações pessoais alimentem bancos de dados de empresas privadas.

- c) a participação das cidades na globalização, o que uniformizou as possibilidades de apropriação dos espaços pelo capital.
- d) a desconcentração industrial paulista, embora os centros corporativos estratégicos tenham permanecido centralizados.
- e) o rompimento do paradigma técnico-científico-informacional, o que contribuiu para democratizar a troca de mensagens entre as pessoas.

40. A agricultura 4.0 é a conexão em tempo real dos dados coletados pelas tecnologias digitais com o objetivo de otimizar a produção em todas as suas etapas. Representará a chegada da Internet das Coisas ao campo. “No futuro, a agricultura será autônoma, independente. Os equipamentos conectados, com apoio de inteligência artificial e aprendizado de máquina, irão analisar os dados da cadeia produtiva e tomar as decisões. Caberá ao agricultor acompanhar, monitorar e endossar os processos em curso”, diz Fernando Martins, conselheiro de empresas de tecnologia voltadas ao agronegócio.

(Domingos Zapparoli. “Agricultura 4.0”. *Pesquisa Fapesp*, janeiro de 2020.)

Caso se concretize no cenário brasileiro, a agricultura 4.0 tem potencial para promover

- a) a qualificação profissional da mão de obra, ainda que possa promover mudanças na estrutura fundiária.
- b) a superação do campesinato, embora deva permanecer ligada às práticas de cultivo tradicionais.
- c) a ampliação dos cultivos, a despeito dos baixos recursos comumente destinados aos insumos.
- d) o aumento da produtividade, embora tenda a reforçar as desigualdades no campo.
- e) o aumento das exportações, ainda que possa desabastecer o mercado interno.

41. Observe a charge de Ziraldo, originalmente publicada em 1968.



O diálogo entre o elefante e as cobras, associado à decretação do Ato Institucional número 5, sugere

- a) a alienação de parte expressiva da sociedade ante o cenário político e a difusão de notícias falsas.
- b) a solidez das instituições políticas republicanas e a disseminação do medo por traidores dos interesses nacionais.
- c) o contraste entre o esforço militar de corrigir os rumos do país e a desconfiança da sociedade civil.
- d) o poder dos grupos sociais e políticos fortes e consolidados e a incerteza entre os setores populares.
- e) o distanciamento entre a sociedade e o regime político e a dissolução das garantias e dos direitos democráticos.

42. A construção de Brasília pode ser considerada a principal meta do Plano de Metas [...]. Para alguns analistas, a nova capital seria o elemento propulsor de um projeto de identidade nacional comprometido com a modernidade, cuja face mais visível seria a arquitetura modernista de Oscar Niemeyer e Lúcio Costa. Ao mesmo tempo, no entanto, a interiorização da capital faria parte de um antigo projeto de organização espacial do território brasileiro, que visava ampliar as fronteiras econômicas rumo ao Oeste e alavancar a expansão capitalista nacional.

(Marly Motta. "Um presidente bossa-nova". In: Luciano Figueiredo (org.). *História do Brasil para ocupados*, 2013.)

O texto expõe dois significados da construção de Brasília durante o governo de Juscelino Kubitschek. Esses dois significados relacionam-se, pois

- a) denotam o esforço de construção de um espaço geográfico brasileiro com o intuito de assegurar o equilíbrio econômico e político entre as várias regiões do país.
- b) demonstram o nacionalismo xenófobo do governo Kubitschek e sua disposição de isolar o Brasil dos demais países do continente americano.
- c) revelam a importância da redefinição do espaço territorial para a implantação de um projeto de restrições à entrada de capitais e investimentos estrangeiros.
- d) explicitam a postura antiliberal do governo Kubitschek e sua intenção de implantar um regime de igualdade social no país.
- e) indicam o surgimento de uma expressão arquitetônica original e baseada no modelo de edificação predominante entre os primeiros habitantes do atual Brasil.

43. Leia o poema “Pobre alimária”, de Oswald de Andrade, publicado originalmente em 1925.

O cavalo e a carroça

Estavam atravancados no trilho

E como o motorneiro se impacientasse

Porque levava os advogados para os escritórios

Desatravancaram o veículo

E o animal disparou

Mas o lesto carroceiro

Trepou na boleia

E castigou o fugitivo atrelado

Com um grandioso chicote

(*Pau-Brasil*, 1990.)

Considerando o momento de sua produção, o poema

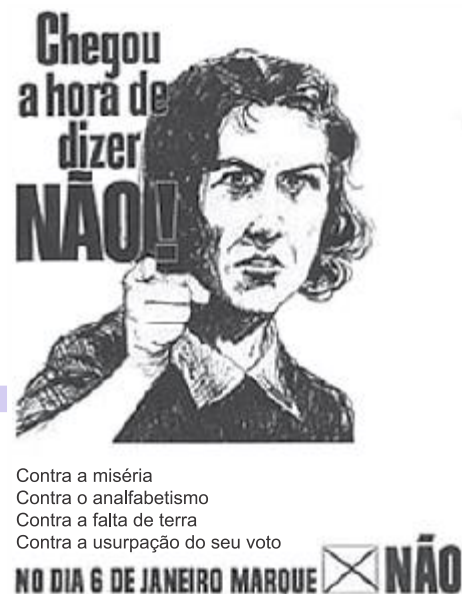
- a) celebra a persistência das tradições rurais brasileiras, que inviabilizaram o avanço do processo de industrialização de São Paulo.
- b) valoriza a variedade e a eficácia dos meios de transporte, que contribuíam para impulsionar a economia brasileira.
- c) critica a recorrência das práticas de exploração e maus tratos aos animais nos principais centros urbanos brasileiros.
- d) registra uma rápida cena urbana, que expõe tensões e ambiguidades no processo de modernização da cidade de São Paulo.
- e) exemplifica o choque social constante entre as elites enriquecidas e a população pobre da cidade de São Paulo.

44. Na passagem dos anos 1920 para a década seguinte, a política de valorização do café no Brasil

- a) impediu o avanço da produção de cacau, algodão e borracha, devido à concentração de recursos econômicos no Nordeste.
- b) facilitou o deslocamento de capitais do setor industrial para o agrário, que aproveitava a estabilidade dos mercados externos para se desenvolver.
- c) agravou a crise econômica, devido ao alto volume de café estocado e à redução significativa dos mercados estrangeiros para a mercadoria.

- d) sustentou a hegemonia financeira da região Nordeste, que prolongou sua liderança e comando político por mais duas décadas.
- e) foi compensada pela estratégia governamental de supervalorização do câmbio, o que permitiu o aumento significativo das exportações de café.

45. Observe o cartaz, relativo ao plebiscito realizado em janeiro de 1963.



(www.projetomemoria.art.br)

O cartaz alude à situação histórica brasileira marcada por

- a) estabilidade política, crescimento da economia agroindustrial e baixas taxas de inflação.
- b) renúncia presidencial, debates sobre sistema de governo e projetos de reforma social.
- c) ascensão de governos conservadores, despolitização da sociedade e abolição de leis trabalhistas.
- d) deposição do presidente da República, privatizações de empresas estatais e adoção do neoliberalismo.
- e) autoritarismos governamentais, restrições à liberdade de expressão e cassações de mandatos de parlamentares.

ATUALIDADES

Leandro Signori

46. “O Haiti vive dias desoladores. Depois que um terremoto atingiu a ilha caribenha no último sábado (14/08) — deixando pelo menos 2,1 mil mortos —, outro desastre natural fustigou mais uma vez seus habitantes: a tempestade tropical Grace.

Chuvas intensas e ventos fortes têm dificultado o complexo trabalho de resgate entre os escombros deixados pelo tremor de magnitude 7,2.”

Disponível em: <https://tinyurl.com/3me3332h>. Acesso em: 23/11/2021.

Considerando os acontecimentos recentes no Haiti, assinale a opção correta:

- a) Apesar da relativa distância entre os países, o Brasil tem recebido, ao longo das duas últimas décadas, importantes fluxos migratórios de haitianos que buscam melhores condições de vida.
- b) Os sucessivos desastres naturais no país têm impedido a estabilidade política no Haiti, marcada por um sistema democrático ao longo da sua história.
- c) O Brasil colocou suas tropas à disposição para ajudar em uma eventual missão humanitária no país, assim como fez em 2004.
- d) O fato de o país ser sucessivamente atingido por terremotos e furacões está relacionado à sua posição geográfica no Círculo de Fogo do Atlântico e Caribe.
- e) Desde o assassinato do então presidente haitiano Jovenel Moise, o país é governado por um alto Comissário da Organização das Nações Unidas.

47. “O desfecho da conferência climática COP26, que se encerrou no sábado (13/11) em Glasgow (Reino Unido) com um acordo assinado por quase 200 países, colocou a Índia e a China sob os holofotes.”

Disponível em: <https://tinyurl.com/4f4pp6dc>. Acesso em 23/11/2021.

O motivo mencionado pelo texto dos dois países estarem sob os holofotes está relacionado ao fato de:

- a) serem os únicos países do G20, grupo dos principais países desenvolvidos e em desenvolvimento do mundo, a recusarem-se a assinar o acordo.

b) não estipularem metas de combate ao desmatamento, mesmo possuindo grandes áreas florestais.

c) pressionarem por uma mudança-chave no texto, no trecho que falava em abandono gradual do uso de carvão e subsídios a combustíveis fósseis.

d) deixarem a conferência antes do seu término, por não concordarem com certas posições que lhes foram atribuídas.

e) apresentarem ambiciosas metas de desenvolvimento e pesquisa na área de energias renováveis e comprometerem-se a subsidiar a implementação dessas em países subdesenvolvidos.

48. “Abdulrazak Gurnah, romancista tanzaniano, ganhou o Prêmio Nobel de Literatura 2021. O anúncio foi feito na manhã desta quinta-feira (7) pela Academia Sueca.”

Disponível em: <https://tinyurl.com/4afpn7mv>. Acesso em 23/11/2021.

Segundo a Academia, o prêmio foi concedido

- a) por sua inconfundível voz poética, que, com uma beleza austera, torna universal a existência individual.
- b) por sua narrativa imaginativa que com paixão enciclopédica representa o cruzar de fronteiras como forma de vida.
- c) por seu influente trabalho que com engenhosidade linguística explorou a periferia e a especificidade da experiência humana.
- d) por sua penetração intransigente e compassiva dos efeitos do colonialismo e do destino do refugiado no abismo entre culturas e continentes.
- e) porque em seus romances de grande força emocional, revelou o abismo sob nossa sensação ilusória de conexão com o mundo.

49. “Por 6 votos a 1, o TSE (Tribunal Superior Eleitoral) cassou nesta quinta-feira (28 out.) o mandato do deputado estadual, do Paraná. Ele é acusado de espalhar fake news no dia da votação da eleição de 2018. Essa é a primeira vez que uma pessoa eleita perde o mandato por causa de fake news, abrindo precedente para casos semelhantes. Com a decisão, ele fica inelegível por oito anos.”

Disponível em: <https://tinyurl.com/nrr46mwm>. Acesso em: 23/11/2021. Adaptado.

O deputado cassado é:

- a) Alexandre Curi.
- b) Tião Medeiros.
- c) Alexandre Amaro.
- d) Adelino Ribeiro.
- e) Fernando Francischini.

50. “Sete juízas e seus familiares, que receberam vistos humanitários, chegaram ao Brasil nesta semana (out. 2021) após pedido de ajuda.

Autoridades e entidades de classe vinham se mobilizando pelo acolhimento das magistradas no Brasil, desde agosto, quando o regime extremista tomou o poder no país de origem.

Disponível em: <https://tinyurl.com/r9vckbkw>. Acesso em: 23/11/2021. Adaptado.

As magistradas buscaram refúgio fugindo

- a) da Síria.
- b) do Iraque.
- c) da Arábia Saudita.
- d) de Belarus.
- e) do Afeganistão.

NOÇÕES BÁSICA DE INFORMÁTICA

Emannuelle Gouveia

51. O usuário selecionou um arquivo no disco C, chamado PMSP.txt e a seguir apertou a tecla DEL, em seguida selecionou um arquivo localizado no pen drive chamado SOLDADOPMSP.txt e apertou a tecla DEL. Podemos deduzir então que:

- a) Ambos os arquivos foram enviados para a Lixeira do Windows.
- b) Apenas o primeiro arquivo, PMSP.txt foi enviado para a Lixeira do Windows
- c) Apenas o segundo arquivo, SOLDADOPMSP.txt foi enviado para a Lixeira do Windows
- d) Nenhum arquivo foi enviado para a Lixeira do Windows.
- e) A Lixeira do Windows não existe mais nas versões atuais do sistema.

52. Observando o texto abaixo, ao clicar no botão existente na barra de ferramentas do Word, o usuário irá ter que resultado no texto.


Teste-de-digitação·teste-de-digitação·teste-de-digitação·Teste-de-digitação·teste-de-digitação·teste-de-digitação·Teste-de-digitação·teste-de-digitação·teste-de-digitação·teste-de-digitação·teste-de-digitação·Teste-de-digitação·teste-de-digitação·teste-de-digitação¶

¶

Teste-de-digitação·teste-de-digitação·teste-de-digitação·Teste-de-digitação·teste-de-digitação·teste-de-digitação·Teste-de-digitação·teste-de-digitação·teste-de-digitação·teste-de-digitação·teste-de-digitação·Teste-de-digitação·teste-de-digitação·teste-de-digitação¶

¶

Teste-de-digitação·teste-de-digitação·teste-de-digitação·Teste-de-digitação·teste-de-digitação·teste-de-digitação·Teste-de-digitação·teste-de-digitação·teste-de-digitação·teste-de-digitação·teste-de-digitação·Teste-de-digitação·teste-de-digitação·teste-de-digitação¶

- a) irão ser exibidos no texto os caracteres não imprimíveis.
- b) irão ser impressos automaticamente todo o conteúdo que contém os caracteres não imprimíveis
- c) os caracteres não imprimíveis serão ocultados.
- d) o valor do número  aparecerá no texto.
- e) serão exibidas as notas de rodapé.

53. Uma planilha no Excel tem os valores

	A	B
1	10	15
2	20	25
3	30	40
4		

Ao digitarmos na célula D4 a seguinte fórmula

=SE(B1<10;C2/2;A1/2),

O valor obtido será:

- a) 5
- b) 4
- c) 3
- d) 2
- e) 1

54. Um soldado recebeu uma mensagem de email que continha um anexo e encaminhou para um outro escalão, para que o mesmo tivesse acesso ao conteúdo completo da mensagem. Podemos afirmar que ao apertar no menu para encaminhar:

- a) A nova mensagem aparece já com o campo assunto em branco.
- b) A nova mensagem já vai ter o campo "Para" preenchido como sugestão.
- c) O anexo fica bloqueado para envio para evitar a contaminação da máquina e da rede.
- d) O Assunto deve ser o mesmo da mensagem original, ficando bloqueado para edição.
- e) O anexo pode ser mantido na nova mensagem e pode também ser enviado na mesma.

55. Um usuário no Google Chrome ativou o modo de navegação anônimo. Isso significa dizer que:

- a) Apenas o seu histórico será apagado.
- b) Os seus dados de navegação serão apagados quando ele encerrar a sessão de navegação.
- c) Não significa nada, porque a navegação acontecerá da mesma forma.
- d) Todos os dados de personalização do seu navegador serão apagados.
- e) Ele não deixará rastro nenhum para impedir futuras perícias e investigações.

DIREITO CONSTITUCIONAL E CONSTITUIÇÃO DO ESTADO DE SÃO PAULO

Fábio Ramos

56. De acordo com a Constituição Federal, todos são iguais perante a lei, sem distinção de qualquer natureza, garantindo-se aos brasileiros e aos estrangeiros residentes no País a inviolabilidade do direito à vida, à liberdade, à igualdade, à segurança e à propriedade, nos termos seguintes:

- a) O exercício de qualquer trabalho depende de autorização da repartição competente.
- b) as entidades associativas, não dependem de autorização expressa para representar seus filiados judicial ou extrajudicialmente.
- c) às presidiárias, serão asseguradas condições para que possam permanecer com seus filhos durante o período de amamentação, desde que apresentem bom comportamento.
- d) São gratuitas as ações de habeas data e o mandado de segurança, e, na forma da lei, os atos necessários ao exercício da cidadania.
- e) É ilícita a prisão civil de depositário infiel, qualquer que seja a modalidade do depósito.

57. Acerca da repartição constitucional de competências, analise as afirmativas a seguir.

- I. Os estados podem incorporar-se entre si, mediante a aprovação da população diretamente interessada, por meio de plebiscito, e do Congresso Nacional, por lei complementar.
- II. No campo das competências privativa a competência da União limita-se ao estabelecimento de normas gerais.
- III. Os Estados poderão, mediante lei, instituir regiões metropolitanas, aglomerações urbanas e microrregiões, constituídas por agrupamentos de municípios limítrofes, para integrar a organização, o planejamento e a execução de funções públicas de interesse comum.

Assinale:

- a) Apenas o item I está certo.
- b) Apenas o item II está certo.
- c) Apenas os itens I e III estão certos.
- d) Apenas os itens II e III estão certos.
- e) Todos os itens estão certos.

58. Com relação a Constituição Estadual de SP julgue. O Poder Executivo é exercido pelo Governador do Estado, eleito para um mandato de quatro anos, podendo ser reeleito para um único período subsequente, na forma estabelecida na Constituição Federal.

Em caso de impedimento do Governador e do Vice-Governador, ou vacância dos respectivos cargos, será sucessivamente chamado ao exercício da Governança

- a) O Presidente da Câmara dos Deputados.
- b) O Presidente do Tribunal de Justiça.
- c) O Presidente da Assembleia Legislativa.
- d) O Presidente do Senado.
- e) O Procurador de Justiça.

LEI FEDERAL Nº 12.527/11 – LEI DE ACESSO À INFORMAÇÃO

Thállius Moraes

59. Antônio, proprietário de uma padaria, deseja apresentar pedido de acesso a informações à Secretaria de Finanças de sua cidade. Conforme trata a Lei nº 12.527/11 (Lei de Acesso à Informação), é correto afirmar que

- a) o pedido de Antônio deve ser deferido, independentemente de conter a sua identificação, bastando a especificação da informação requerida.
- b) a Secretaria de Finanças pode fazer exigências relativas aos motivos determinantes da solicitação de informações de interesse público.
- c) em decorrência do formalismo que a Administração está sujeita, o órgão público é impedido de viabilizar alternativa de encaminhamento de pedido de acesso por meio de seus sítios oficiais na internet.
- d) a Secretaria de Finanças deverá conceder o acesso integral à informação requerida em até trinta dias, sob pena de responsabilização do servidor responsável pela demora.
- e) caso a Secretaria de Finanças indefira o acesso a informações, Antônio poderá interpor recurso contra a decisão no prazo de dez dias a contar da sua ciência.

60. De acordo com as disposições da Lei nº 12.527/11 (Lei de Acesso à Informação), no que concerne ao pedido de acesso a informações dos órgãos públicos, analise os próximos itens.

- I - É vedado o acesso a informações do Poder Judiciário.
- II - Para o acesso a informações de interesse público, a identificação do requerente não poderá conter exigências que inviabilizem a solicitação.
- III - A informação armazenada em formato digital será fornecida nesse formato, caso haja anuência do requerente.

Está correto apenas o disposto em:

- a) I, II e III.
- b) I e II.
- c) I e III.
- d) II e III.
- e) nenhuma das alternativas.

Preencha seu Gabarito!

<https://bit.ly/Simulado-PMSP-Soldado-28-11>

NÃO É ASSINANTE?

<https://bit.ly/Estrategia-Assinaturas>



Estratégia

5 CONHEÇA NOSSO SISTEMA DE QUESTÕES!

<https://bit.ly/Sistemas-de-Questões>