



1º Simulado

TJ RO

Técnico Judiciário – Pós- edital

Simulado

TJ-RO Técnico Judiciário – Pós edital

Nome: _____

INFORMAÇÕES SOBRE O SIMULADO EXCLUSIVO

- 1 – Este provão conta com questões focadas no concurso do TJ-RO;
- 2 – A prova contém **70 questões** que abordam conhecimentos cobrados nos últimos editais do concurso;
- 3 – As questões são inéditas e foram elaboradas pelos nossos professores com base no perfil dos últimos concursos do TJ-RO.
- 4 – Este PDF foi enviado por e-mail, disponibilizado na área do aluno e em um artigo publicado no blog do Estratégia Concursos;
- 5 – Os participantes têm das **8:30 às 13:30** para responder às questões e preencher o Gabarito Eletrônico;
- 6 – O link para preencher o formulário com seu gabarito está localizado na última página deste PDF;
- 7 – O Gabarito do Simulado e o Ranking Classificatório com nota serão divulgados no [blog do Estratégia Concursos](#).

PREENCHA SEU GABARITO NO LINK - <https://bit.ly/Simulado-TJRO-02-10>

- | | | |
|----------------|----------------|----------------|
| 01 – A B C D E | 26 – A B C D E | 51 – A B C D E |
| 02 – A B C D E | 27 – A B C D E | 52 – A B C D E |
| 03 – A B C D E | 28 – A B C D E | 53 – A B C D E |
| 04 – A B C D E | 29 – A B C D E | 54 – A B C D E |
| 05 – A B C D E | 30 – A B C D E | 55 – A B C D E |
| 06 – A B C D E | 31 – A B C D E | 56 – A B C D E |
| 07 – A B C D E | 32 – A B C D E | 57 – A B C D E |
| 08 – A B C D E | 33 – A B C D E | 58 – A B C D E |
| 09 – A B C D E | 34 – A B C D E | 59 – A B C D E |
| 10 – A B C D E | 35 – A B C D E | 60 – A B C D E |
| 11 – A B C D E | 36 – A B C D E | 61 – A B C D E |
| 12 – A B C D E | 37 – A B C D E | 62 – A B C D E |
| 13 – A B C D E | 38 – A B C D E | 63 – A B C D E |
| 14 – A B C D E | 39 – A B C D E | 64 – A B C D E |
| 15 – A B C D E | 40 – A B C D E | 65 – A B C D E |
| 16 – A B C D E | 41 – A B C D E | 66 – A B C D E |
| 17 – A B C D E | 42 – A B C D E | 67 – A B C D E |
| 18 – A B C D E | 43 – A B C D E | 68 – A B C D E |
| 19 – A B C D E | 44 – A B C D E | 69 – A B C D E |
| 20 – A B C D E | 45 – A B C D E | 70 – A B C D E |
| 21 – A B C D E | 46 – A B C D E | |
| 22 – A B C D E | 47 – A B C D E | |
| 23 – A B C D E | 48 – A B C D E | |
| 24 – A B C D E | 49 – A B C D E | |
| 25 – A B C D E | 50 – A B C D E | |

PORTUGUÊS

Suellen / Luciana

Leia o texto e responda às questões 1 a 5.

Texto 1**O que os bons amigos podem fazer**

É difícil prestar atenção ao mal-estar de um amigo de quem gostamos de verdade e muitas vezes nos sentimos impotentes ao não saber como ajudá-lo, porque não nos ensinaram como fazê-lo em uma sociedade cada vez mais individualista e virtual. Escutar não é fácil, mas podemos aprender a fazê-lo melhor.

A Real Academia Espanhola (RAE) define a amizade como o afeto pessoal, puro e desinteressado que nasce e se fortalece com o convívio. E esse convívio inevitavelmente está cheio de momentos em que é preciso estar à altura. Os verdadeiros amigos são os que se alegram por suas conquistas, mas também te acompanham e sabem escutar suas angústias, medos, frustrações e fracassos. Essa é a amizade virtuosa explicada por Aristóteles em seu livro *Ética A Nicômaco*. Para o autor há mais dois tipos de amizade: por interesse e utilidade e por prazer, que também são válidos, mas sobrevivem pior com a passagem do tempo.

Os comportamentos virtuosos consistem em dizer ao nosso amigo que é válido o que ele sente. Que não está sozinho. Que vamos ouvi-lo com empatia. Que vamos escutar o que o preocupa sem ser exigentes demais com os detalhes. Perguntar a ele o que precisa. Se notamos que tem dificuldades em se abrir, não insistiremos. Vamos manter a calma. Podemos ser mais ativos oferecendo-o ajuda com as coisas básicas da vida sem ser invasivos. Até mesmo propor a ele algum plano agradável para que se distraia e se sinta melhor; mas, ao mesmo tempo, dar espaço. É conveniente transmitir esperança em relação à possibilidade de se sentir melhor com o passar do tempo, e reconectá-lo com momentos agradáveis do passado em que superou circunstâncias adversas.

Mas cada pessoa tem seu limite na capacidade de ajudar. Nunca devemos nos responsabilizar completamente pela saúde mental de outra pessoa. Não somos adivinhos e não sabemos se o sofrimento psíquico de nosso amigo é um mal-estar psicológico temporário próprio desses tempos ou é um verdadeiro transtorno mental. O melhor que podemos fazer se notamos que o tempo passa e não há melhoria, é ajudá-lo a procurar um profissional.

A pandemia mostrou a importância das redes de apoio saudáveis no momento de enfrentarmos a incerteza e a adversidade. E essas redes vão muito mais além dos papéis de cuidador, designados tradicionalmente à família. O cérebro precisa dos outros para sobreviver. As amizades virtuosas ganharam mais protagonismo do que nunca e seu

cultivo trará como consequência uma sociedade mais livre de preconceitos à saúde mental.

(MARTÍN, P. F. O que os bons amigos podem fazer. *El País*, 28 set. 2021. Disponível em: <https://brasil.elpais.com/eps/2021-09-28/o-que-os-bons-amigos-podem-fazer.html>. Acesso em: 29 set. 2021. Adaptado).

01. O objetivo mais importante do texto 1, segundo o que se pode depreender de sua estrutura, é:

- a) indicar o tratamento mais adequado para pessoas que sofrem de depressão.
- b) mostrar como os amigos podem prestar ajuda em tempos de crise.
- c) exemplificar como são as amizades virtuosas.
- d) criticar o comportamento de quem deseja ajudar um amigo a todo custo.
- e) comprovar os malefícios causados pelas pessoas que interferem nas vidas dos amigos.

02. *"É difícil prestar atenção ao mal-estar de um amigo de quem gostamos de verdade e muitas vezes nos sentimos impotentes ao não saber como ajudá-lo, porque não nos ensinaram como fazê-lo em uma sociedade cada vez mais individualista e virtual."*

O comentário adequado sobre os componentes desse período inicial do texto 1 é:

- a) todos os substantivos utilizados no trecho são abstratos, o que indica que o texto é baseado em conceitos e não em realidades factíveis.
- b) a preposição "de" em "*de quem gostamos*" é um elemento expletivo, ou seja, não exerce qualquer função sintática e, por isso, pode ser retirada do texto.
- c) o pronome "lo" em "*ajudá-lo*" retoma o conceito de "mal-estar" exposto na primeira linha do texto, o que o caracteriza como um elemento de coesão.
- d) a forma verbal "*ensinaram*", flexionada na terceira pessoa do plural, indica um sujeito indeterminado, pois não há como definir quem deixou de ensinar a como ajudar um amigo.
- e) verbos e expressões na primeira pessoa do plural (ex. "*gostamos*", "*nos sentimos*", "*não nos ensinaram*") indicam proximidade com o leitor, mas um afastamento do autor em relação ao assunto tratado.

03. "E essas redes vão muito mais além dos papéis de cuidador, designados tradicionalmente à família". O acento indicativo de crase presente no trecho:

- a) é facultativo e pode ser retirado do texto sem causar qualquer prejuízo.
- b) é obrigatório e se relaciona à regência do vocábulo "designar".
- c) é obrigatório e se relaciona à regência do vocábulo "família".
- d) é facultativo, mas foi utilizado para evitar ambiguidades no trecho.
- e) é obrigatório, mas o correto seria usar a forma plural "às".

04. O significado do termo destacado que está corretamente indicado é:

- a) "Que vamos ouvi-lo com empatia" / simpatia.
- b) "A Real Academia Espanhola (RAE) define a amizade como o afeto pessoal, puro e desinteressado" / alegria.
- c) "Os comportamentos virtuosos consistem em dizer ao nosso amigo que é válido o que ele sente" / mais indicados.
- d) "esse convívio inevitavelmente está cheio de momentos em que é preciso estar à altura" / no topo.
- e) "Podemos ser mais ativos oferecendo-o ajuda com as coisas básicas da vida sem ser invasivos" / agressivos.

05. "Os comportamentos virtuosos consistem em dizer ao nosso amigo que é válido o que ele sente. Que não está sozinho. Que vamos ouvi-lo com empatia. Que vamos escutar o que o preocupa sem ser exigentes demais com os detalhes. Perguntar a ele o que precisa. Se notamos que tem dificuldades em se abrir, não insistiremos. Vamos manter a calma. Podemos ser mais ativos oferecendo-o ajuda com as coisas básicas da vida sem ser invasivos. Até mesmo propor a ele algum plano agradável para que se distraia e se sinta melhor; mas, ao mesmo tempo, dar espaço." O termo sublinhado que NÃO apresenta antecedente no texto é:

- a) -lo.
- b) o.

- c) algum.
- d) ele.
- e) se.

Leia o texto e responda às questões 6 a 10.

Texto 2

Fale consigo mesmo como faria com um amigo

Enfrentamos algo difícil. Estamos sozinhos e começamos a nos preparar, seja para uma prova, uma nova receita culinária para alguns convidados ou para apresentar o resultado de um trabalho. Na antessala não paramos de escutar uma voz silenciosa que nos acompanha furtivamente desde que fazemos uso da memória. É nossa voz interior.

A voz interior tem uma grande presença em nossa vida. Tanto que se calcula que a escutamos entre um terço e metade do tempo que passamos acordados. E o mais

importante: a qualidade da conversa influenciará nosso estado de ânimo e o resultado do que fazemos.

As pesquisas mostram que nosso discurso interior é muito mais desorganizado do que quando falamos em voz alta. Em 1990 determinou-se que, diante da resolução de um problema, chegamos a dizer silenciosamente a nós mesmos o equivalente a 4.000 palavras faladas por minuto. Para colocar em perspectiva, a maior parte das pessoas não consegue ler mais do que 600 por minuto, então podemos concluir que carregamos um verdadeiro tagarela na cabeça. No entanto, a voz interior é necessária.

Muitas vezes se insiste em viver o presente, mas nosso cérebro tem um modo automático base para a sobrevivência que nos leva ao passado ou ao futuro para aprender ou controlar situações. Uma habilidade humana imprescindível que também configura nossa identidade.

Se quisermos melhorar nossa vida, precisamos melhorar a qualidade da nossa voz interior. Principalmente quando enfrentamos problemas, momentos estressantes ou aqueles em que precisamos de mais apoio. Nessas circunstâncias, nosso treinador ou coach interno pode despertar: "Vamos, eu posso conseguir". Ou então tomar o timão crítico, ruminante ou catastrofista: "Vai dar tudo errado".

(JERICÓ, P. Fale consigo mesmo como faria com um amigo. **El País**, 22 jul. 2021. Disponível em: <https://brasil.elpais.com/eps/2021-07-23/fale-consigo-mesmo-como-faria-com-um-amigo.html?rel=mas>. Acesso em: 29 set. 2021.. Adaptado).

06. "[...] a qualidade da conversa influenciará nosso estado de ânimo e o resultado do que fazemos". A forma verbal "influenciará" foi empregada com o seguinte valor:

- a) marcar um fato que acontecerá no futuro.
- b) indicar uma situação hipotética.
- c) expressar uma incerteza acerca dos fatos relatados.
- d) designar fatos que ocorrem cotidianamente.
- e) relacionar um fato passado a um acontecimento futuro.

07. A estruturação do texto 2 pode ser definida como:

- a) argumentativa, pois apresenta uma tese e argumentos.
- b) publicitária, pois faz propaganda clara de um produto.
- c) informativa, pois esclarece detalhes sobre o tema do texto.
- d) narrativa, pois mostra uma sequência cronológica de ações.
- e) didática, pois se dedica à organização de conhecimentos.

08. "Em 1990 determinou-se que, diante da resolução de um problema, chegamos a dizer silenciosamente a nós mesmos o equivalente a 4.000 palavras faladas por minuto." No trecho, as vírgulas foram utilizadas para:

- a) isolar um vocativo.
- b) separar uma oração restritiva.
- c) indicar um adjunto adverbial deslocado.
- d) isolar uma expressão explicativa.
- e) destacar uma oração independente.

09. "Muitas vezes se insiste em viver o presente, mas nosso cérebro tem um modo automático base para a sobrevivência que nos leva ao passado ou ao futuro para aprender ou controlar situações. Uma habilidade humana imprescindível que também configura nossa identidade." Sobre as palavras acentuadas no trecho, pode-se afirmar que há:

- a) duas proparoxítonas, duas paroxítonas e uma oxítona.
- b) três paroxítonas e duas oxítonas.
- c) quatro proparoxítonas e uma oxítona.
- d) uma proparoxítona, duas paroxítonas e duas oxítonas.
- e) quatro paroxítonas e uma proparoxítona.

10. "Vamos, eu posso conseguir" [...]. "Vai dar tudo errado". No trecho, as aspas foram utilizadas para:

- a) indicar a citação da fala de um especialista.
- b) destacar estrangeirismo.
- c) revelar ironia por parte do autor.
- d) introduzir citação de obra de referência.
- e) indicar a fala interior de cada um de nós.

Leia o texto e responda às questões **11 a 15**.

Texto 3

Na verdade, só temos cinco amigos. A pandemia nos ajudou a ver isso

Durante a pandemia, um dos experimentos sociais mais chocantes ocorreu bem debaixo de nosso nariz. O coronavírus nos forçou a desenhar o mapa de nossas conexões. Neste novo atlas, a noção de amizade resplandece como uma pedra antiga. Sabemos que é muito importante e também sabemos que é um mistério. Por isso, já faz alguns anos que a antropologia, a sociologia, a psicologia e também a zoologia, a biologia e a neurociência vêm estudando o funcionamento e o efeito das relações de amizade em nossa jornada de vida. E, repetidamente, a conclusão é que, se tivermos as necessidades básicas atendidas, o vigor e o número de nossos relacionamentos pessoais são decisivos para viver uma vida boa. Neste mundo irremediavelmente materialista, essa descoberta é um tsunami científico que deveria nos levar a repensar muitas coisas.

O zoólogo, antropólogo e psicólogo Robin Dunbar, da Universidade Oxford, em seu novo estudo, *Friends: understanding the power of our most important relationships* (amigos: compreendendo o poder de nossos relacionamentos mais importantes), conclui que os humanos têm a capacidade de manter uma média de cinco amizades íntimas. "São os amigos mais próximos, mas esse número também pode incluir parentes de quem nos sentimos muito próximos. Pode até haver a circunstância em que essas cinco pessoas sejam todas da família".

As amizades permanecem estáveis enquanto vemos a pessoa com a frequência necessária", diz ele. Podemos ter feito novos amigos, mas eles provavelmente não substituirão nossos melhores amigos. Poderiam, sim, deslocar os amigos de "segundo nível", aqueles que não são tão próximos.

A amizade é benéfica, mesmo do ponto de vista biológico. Um encontro entre amigos pode alterar a pressão arterial, a secreção de adrenalina, o sistema imunológico e os padrões de sono. A amizade está associada a todo tipo de substâncias químicas em nosso corpo que nos fazem sentir bem, como a serotonina e a dopamina, que são a forma como nosso cérebro nos recompensa por comportamentos que são bons para nós. São relações de reciprocidade positivas

para nossa saúde, nosso bem-estar e nossa longevidade. É por isso que dói tanto perder alguém próximo e querido.

É claro que a família e os amigos — se a relação for positiva — nos ajudam a viver mais e melhor. Com uns e outros temos um compromisso social e pessoal, um contrato de reciprocidade assinado em tinta invisível. É por isso que é complexo navegar nos meandros das regras não escritas de uma amizade.

(PADILLA, M. Na verdade, só temos cinco amigos. A pandemia nos ajudou a ver isso. **El País**, 16 maio 2021. Disponível em: <https://brasil.elpais.com/estilo/2021-05-16/na-verdade-so-temos-cinco-amigos-a-pandemia-nos-ajudou-a-ver-isso.html?rel=mas>. Acesso em: 29 set. 2021. Adaptado).

11. "[...] a noção de amizade resplandece como uma pedra antiga". Nesse segmento do texto 3, o vocábulo "como" introduz uma:

- a) enumeração.
- b) exemplificação.
- c) comparação.
- d) explicação.
- e) interrogação.

12. "Sabemos que é muito importante e também sabemos que é um mistério. Por isso, já faz alguns anos que a antropologia, a sociologia, a psicologia e também a zoologia, a biologia e a neurociência vêm estudando o funcionamento e o efeito das relações de amizade em nossa jornada de vida. E, repetidamente, a conclusão é que, se tivermos as necessidades básicas atendidas, o vigor e o número de nossos relacionamentos pessoais são decisivos para viver uma vida boa. Neste mundo irremediavelmente materialista, essa descoberta é um tsunami científico que deveria nos levar a repensar muitas coisas". Sobre os pronomes demonstrativos destacados é correto afirmar que:

- a) "isso" é pronome que não retoma informações prévias do texto.
- b) "essa" se refere às necessidades básicas atendidas.
- c) "isso" é elemento coesivo catafórico, ou seja, antecipa uma informação a ser divulgada no texto.
- d) "neste" é um elemento de coesão que se refere ao momento atual em que o texto é produzido.
- e) "neste" é elemento coesivo que retoma o termo "materialista".

13. Ao utilizar a expressão "[...] contrato de reciprocidade assinado em tinta invisível", o autor expressa que:

- a) as relações humanas devem ser baseadas em contratos que definem o envolvimento das partes.
- b) os compromissos pessoais se baseiam em relações solidárias de envolvimento.
- c) família e amigos exercem funções diferentes na construção de amizades ao longo da vida.
- d) o compromisso estabelecido entre amigos é algo que pode ser estabelecido em contratos.
- e) os contratos invisíveis indicam que a relação entre pessoas é sempre efêmera.

14. *"Por isso, já faz alguns anos que a antropologia, a sociologia, a psicologia e também a zoologia, a biologia e a neurociência vêm estudando o funcionamento e o efeito das relações de amizade em nossa jornada de vida. E, repetidamente, a conclusão é que, se tivermos as necessidades básicas atendidas, o vigor e o número de nossos relacionamentos pessoais são decisivos para viver uma vida boa. Neste mundo irremediavelmente materialista, essa descoberta é um tsunami científico que deveria nos levar a repensar muitas coisas."* Sobre a concordância verbal do trecho apresentado é correto afirmar que:

- a) a forma correta seria "já fazem alguns anos", pois o verbo "fazer", neste contexto, concorda com o objeto.
- b) o verbo "vêm" está flexionado no plural para concordar com "relações de amizade".
- c) em "são decisivos" o verbo "ser" está flexionado no plural para concordar com o sujeito elíptico "nós".
- d) o sujeito do verbo "vêm" é simples e flexionado no plural.
- e) a forma "já faz alguns anos" poderia ser substituída por "há alguns anos" sem causar prejuízo gramatical ao trecho.

15. Os três textos desta prova têm em comum:

- a) assuntos que giram em torno de relações humanas.
- b) determinações sobre como viver mais e melhor.
- c) indicações para manter relacionamentos saudáveis.
- d) conselhos para as novas gerações.
- e) constatações pós-pandemia sobre desenvolvimento humano.

HISTÓRIA E GEOGRAFIA DE RONDÔNIA

Sérgio Henrique

16. A ocupação e a exploração da região norte, durante a 1ª metade do século XX, pode ser explicada pelo grande fluxo de mão de obra migrante. Entre 1939 e 1945, com o Brasil envolvido, direta ou indiretamente, na II Guerra Mundial, ocorreu um forte afluxo de migrantes para a região norte, devido à necessidade da ampliação da extração de borracha.

Em relação aos migrantes responsáveis pelo desenvolvimento da produção da borracha, é correto afirmar que:

- a) os gaúchos formaram a grande maioria dos migrantes da região norte;
- b) os paulistas buscaram um novo eldorado com a ocupação da região norte;
- c) a presença de nordestinos foi a marca desse processo em função da seca no nordeste;
- d) os catarinenses em busca de terras baratas formaram o grupo majoritário;
- e) a população mestiça prevaleceu, oriunda da região centro-oeste.

17. “Rondônia passou (...) a representar novamente uma fronteira de expansão da produção de soja, e os atores econômicos devem dar o devido destaque para esse espaço juntamente com o Estado do Mato Grosso.”

(EGLER, Claudio. A Pré-Amazônia Mato-Grossense no Contexto Nacional e Sul Americano. In: Expansão da Soja na Pré-Amazônia Mato-Grossense: Impactos Socioambientais. Cuiabá-MT: Entrelinhas: EdUFMT, p. 15-34, 2007)

A expansão da produção de soja no Estado de Rondônia ocorreu, principalmente:

- a) na porção norte do território, em razão da presença da hidrovia do Madeira;
- b) na porção oeste do território, pela facilidade de escoamento da produção pela Bolívia;
- c) na porção central do território, onde houve fixação de muitos migrantes nordestinos;
- d) na porção sudeste do estado, em razão da política territorial dos Eixos Nacionais de Integração;
- e) na porção sul do estado, pela proximidade com a capital, que polarizou o poder político do estado.

18. Entre as lavouras temporárias a seguir, a que apresentou em 2020, ano em que foram divulgados os dados do último recenseamento realizado pelo IBGE, a maior área colhida no Estado de Rondônia foi:

- a) soja.
- b) milho.
- c) arroz.
- d) feijão.
- e) mandioca.

19. “A hidrovia do Madeira é uma das mais importantes vias de transporte localizadas no chamado Corredor Logístico Norte. É, também, a segunda hidrovia mais importante do Norte, atrás apenas da hidrovia do Amazonas, da qual é um dos principais afluentes da margem direita.

Entre suas características está o fato de ser o principal meio de escoamento da produção de grãos, como soja, milho e açúcar proveniente das plantações de Mato Grosso. Esses grãos chegam ao porto de Porto Velho (RO), depois de um percurso de 800 km pela BR-364. Na hidrovia são realizados os deslocamentos de passageiros e o transporte de carga que tem como destino os grandes centros da região Centro-Oeste.

A hidrovia permite a navegação de grandes comboios, com até 18 mil toneladas, mesmo durante a estiagem. A largura varia entre 440 metros e 9.900 metros, e a profundidade oscila de acordo com as estações seca e chuvosa, e pode chegar a 13 metros.”

A importância do investimento na implementação da hidrovia mencionada no texto está relacionada principalmente:

- a) à exploração do turismo nos principais rios da região amazônica;
- b) ao escoamento da soja para os mercados consumidores do exterior;
- c) ao transporte de madeira para abastecer as indústrias da região sudeste;
- d) às reivindicações de povos indígenas no que diz respeito à circulação no estado;
- e) à facilitação da circulação de passageiros entre Rondônia e a Bolívia.

20. “Tratado de permuta de territórios e outras compensações entre o Brasil e a Bolívia assinado na cidade de Petrópolis em 17 de novembro de 1903, aprovado pelo Congresso Nacional em 12 de fevereiro de 1904, sancionado pelo presidente Rodrigues Alves em decreto de 18 de fevereiro, com troca mútua de ratificações em 10 de março, pelo qual se estabeleceram os limites entre Brasil e Bolívia e a incorporação definitiva do Acre ao território nacional.

”(Disponível em <http://cpdoc.fgv.br/sites/default/files/verbetes/pri-meira-republica/TRATADO%20DE%20PETR%C3%93POLIS.pdf>)

O tratado descrito no texto e a principal razão para sua sanção por parte do governo brasileiro são, respectivamente:

- a) Tratado de Madri - expansão do território nacional;
- b) Tratado de Petrópolis - interesse em explorar as seringueiras no território anexado;
- c) Tratado de Ayacucho - riquezas minerais descobertas no território acreano;
- d) Tratado de Petrópolis - alto valor indenizatório a ser pago pelo governo boliviano;
- e) Tratado de Ayacucho - construção da ferrovia Madeira-Mamoré.

21. Ao longo dos séculos XVI e XVII, durante o período da União Ibérica (1580/1640), verificamos o principal momento na expansão territorial brasileira. O país saiu de uma faixa litorânea para um tamanho continental e tal processo levou à incorporação do território correspondente à atual região norte.

Sobre o processo de desbravamento da região norte, incluindo a área do estado de Rondônia, pode-se destacar dois grupos essenciais para o sucesso da ampliação territorial brasileira, que foram:

- a) os produtores de açúcar e os comerciantes brasileiros denominados tropeiros;
- b) os produtores de soja e os pecuaristas que expandiram suas atividades para a região norte;
- c) os produtores de borracha e os missionários que catequizavam os indígenas;
- d) os bandeirantes que visavam escravizar os indígenas e as missões jesuítas;
- e) os bandeirantes de sertanismo de contrato e os grandes pecuaristas que serviam aos engenhos.

22. Marechal Cândido Mariano da Silva Rondon é uma das personalidades icônicas no processo de interiorização do território brasileiro e no processo de integração nacional. Entre as alternativas a seguir, assinale a que indica a principal relação do Marechal Cândido Rondon no processo de interiorização, principalmente nas áreas onde hoje são os estados de Mato Grosso e Rondônia.

- a) Instalação de linhas telegráficas.
- b) Assinatura do Tratado de Petrópolis.
- c) Mineração da cassiterita.
- d) Conflito contra o Peru e a Bolívia.
- e) Criação de unidades de conservação.

23.



O Forte Príncipe da Beira está localizado no município de Costa Marques.



O Forte Príncipe da Beira foi edificado à margem direita do rio Guaporé, entre 1776 e 1783, sendo considerada a maior fortificação portuguesa erguida no período colonial.

Assinale a opção que descreve corretamente os motivos da Coroa portuguesa para a construção desse forte.

- a) Defender a América Portuguesa, durante a Guerra do Paraguai.
- b) Capturar e escravizar os índios das missões hispânicas fronteiriças.
- c) Garantir a soberania da Coroa portuguesa na região.
- d) Abrir um caminho para o escoamento do ouro da América Espanhola.
- e) Escoar a borracha pelas vias fluviais da região.

24.



Henry Alexander Wickham, botânico inglês, em Santarém, Pará, em 1876.

Sob o pretexto de buscar penas de cores vibrantes para os chapéus das inglesas da Era Vitoriana, Henry Wickham desembarcou na Amazônia, em 1876, com outro plano em mente: furtar sementes de

seringueira para serem entregues ao Jardim Botânico Real da Inglaterra. Foi assim que a árvore nativa da Amazônia foi retirada de seu habitat natural e algumas sementes (cerca de 3 mil das 70 mil furtadas) germinaram e foram enviadas para colônias da Inglaterra, como Malásia e Ceilão. Em 1916, as plantations britânicas iriam produzir *Hevea Brasiliensis* suficiente para abastecer 95% da demanda mundial por borracha de alta qualidade.

Adaptado de <http://www.gazetadopovo.com.br/vida-e-cidadania/trafico-de-semente-fez-ruir-ciclo-da-borracha>

A respeito da disputa pela borracha no mercado internacional e seu impacto para a economia brasileira, assinale V para a afirmativa verdadeira e F para a falsa.

- () A produção de látex na região amazônica, entre 1840 e 1920, contou com uma mão de obra por seringueiros nativos e migrantes cearenses, conhecidos como “soldados da borracha”.
- () O método extrativista usado na Amazônia não permitiu o aumento rápido da produtividade para atender à demanda crescente da indústria automobilística europeia e norte-americana, no início do século XX.
- () O declínio da economia gomífera brasileira, no início do século XX, deveu-se à queda dos preços da borracha no mercado internacional, em função da produção de látex de boa qualidade, a custos mais baixos, na Ásia.

As afirmativas são, respectivamente,

- a) F-V-F.
- b) F-V-V.
- c) V-F-F.
- d) V-V-F.
- e) F-F-V.

25.



<http://www.gentedeopiniao.com.br/fotos/image/getulioVargas600>

Em outubro de 1940, o presidente Getúlio Vargas chegava a Porto Velho, então Estado do Amazonas. Esta visita explicitava o interesse do Estado Novo em promover uma política de integração territorial que resultaria no Decreto-Lei nº 5.812 de 13 de setembro de 1943, com o qual era criado o Território Federal do Guaporé.

Assinale a opção que caracteriza corretamente o contexto de criação do Território Federal do Guaporé.

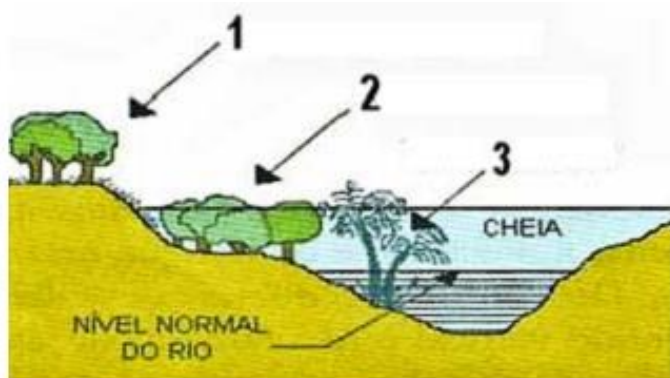
- a) A instituição do Território do Guaporé está inserida na política de criação de mais quatro territórios federais: Iguazu, Ponta Porã, Porto Velho e Guajará-Mirim.
- b) A criação de territórios federais em regiões de interesse geopolítico e pouco povoadas visava a promover o controle e defesa do território nacional.
- c) O Território do Guaporé foi criado no contexto da ação varguista da “Grande Marcha para o Oeste”, com o fim de redirecionar a industrialização centrada historicamente no Sudeste.
- d) O Decreto-Lei nº 5.812 foi assinado no período das negociações entre o governo Vargas, a Bolívia e os Estados Unidos para redefinir as fronteiras brasileiras, conhecidas como Acordos de Washington.

- e) A elevação do Guaporé a território federal objetivou facilitar a nacionalização da Madeira-Mamoré Railway Co., com vistas ao controle do escoamento da produção de borracha utilizada no esforço de guerra aliado.

26. As opções a seguir descrevem corretamente a importância da BR-364 para o desenvolvimento da Amazônia Ocidental, à exceção de uma. Assinale-a.

- a) A construção da BR-29 a partir dos anos 1960, depois chamada de BR-364, ligando Brasília ao Acre, contribuiu para a colonização dessa região, em função do desenvolvimento de atividades agropecuárias.
- b) Com a abertura da BR-364 surgiram pequenos núcleos às margens da nova estrada, promovendo, a partir da década de 1980, a ocupação da região e o surgimento de novos municípios.
- c) As ações de colonização do INCRA, a partir dos anos 1970, promoveram assentamentos e contribuíram para a abertura de fronteiras agrícolas em Rondônia, favorecendo o desmatamento para a formação de pastagens.
- d) A rodovia estimulou processos migratórios associados à exploração mineral e vegetal e à produção agropecuária, com predomínio de um modelo de agricultura familiar de alta produtividade.
- e) A BR-364 continua sendo o principal elo de ligação entre a Amazônia Ocidental e o resto do Brasil, passando a ser também um caminho de integração em direção aos países andinos.

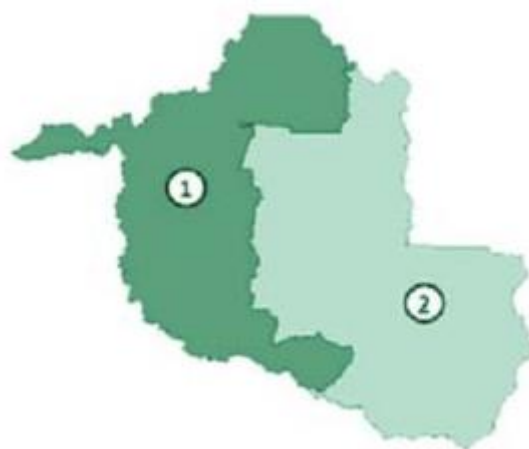
27.



As formações vegetais do ambiente amazônico variam em função dos tipos de solo e de sua localização em relação aos rios. Com base na imagem, assinale a afirmativa correta sobre os tipos de vegetação da Amazônia.

- a) O tipo 1 corresponde a uma vegetação diversificada, combinando a floresta de árvores de grande porte, como castanheiras e ipês, com a floresta de igapó.
- b) O tipo 2 corresponde à floresta de terra firme, predominantemente composta por floresta ombrófila aberta e manchas de campinaranas.
- c) O tipo 3 é característico das regiões de alagamento, em áreas próximas aos rios, banhadas por águas claras ou barrentas de acordo com o período de cheia ou vazante.
- d) Os tipos 1 e 2 se desenvolvem em solos argilosos, bem drenados, em relevo plano ou com inclinação suave, sujeitos a inundação periódica.
- e) O tipo 2 corresponde à floresta inundável conhecida como mata de várzea, que se beneficia dos nutrientes, sedimentos e matéria orgânica trazidos pelas cheias sazonais.

28.



Mapa Representativo do Estado de Rondônia

Região 1. O Madeira-Guaporé: Onde se localiza a capital, Porto Velho, e se concentram 85% dos investimentos privados previstos para o Estado.

Região 2. Leste Rondoniense: Abriga as cinco cidades com os maiores PIB per capita de Rondônia.

A respeito da produção econômica regional do Estado de Rondônia, analise as afirmativas a seguir.

- I. A região 1 é menor em população e extensão territorial, mas atrai a maior parte dos investimentos privados pela presença das hidrelétricas de Jirau e Santo Antônio e pela estimativa de expansão comercial, imobiliária e dos serviços.
- II. A região 2, no Leste rondoniense, é mais populosa e com maior extensão territorial, contribuindo fortemente para o PIB do Estado, em função do agronegócio, com destaque para a pecuária bovina e o cultivo de soja.
- III. Tanto na região 1 quanto na 2, têm crescido a indústria extrativa mineral de cassiterita, a indústria de laticínios e os frigoríficos, em razão da proximidade do mercado andino, tornado acessível pela Rodovia Transoceânica.

Está correto o que se afirma em

- a) I, somente.
- b) II, somente.
- c) III, somente.
- d) I e II, somente.
- e) I, II e III.

29. Ao longo do período republicano, a Amazônia foi considerada a última fronteira a ser integrada e ocupada pelo Estado brasileiro. Apesar dos esforços de ordenamento territorial, a política agrária e a criação de Terras Indígenas e de Unidades de Conservação não têm sido suficientes para conter os diversos conflitos socioambientais e fundiários.

A respeito da relação entre a expansão das frentes de colonização agrícola e os conflitos sociais no Estado de Rondônia, assinale V para a afirmativa verdadeira e F para a falsa.

() A agricultura itinerante praticada comumente pelos colonos gerou uma pressão sobre as áreas de floresta, na medida em que eles, após um período de uso, deixam a terra em pousio ou a transformam em pastagem, abrindo uma nova área.

() A constituição das áreas protegidas, cuja implementação foi tardia ou incompleta, não foi suficiente para impedir a ocupação irregular das mesmas, inclusive pela precária fiscalização dos órgãos públicos federais, estaduais e municipais.

() No final da década de 1990, em um contexto de pressão internacional pela preservação da biodiversidade e das populações tradicionais, a opinião pública brasileira denunciou a ocupação das Terras Indígenas e das Unidades de Conservação.

As afirmativas são, respectivamente,

- a) F - V - F.
- b) F - V - V.
- c) V - F - F.
- d) V - V - F.
- e) V - V - V.

30. Leia o fragmento a seguir.

Na Amazônia rondoniense, a construção de usinas hidrelétricas, na última década, tem colocado em cena atores e interesses diversos, cuja resultante, entre outros, é a intensificação de conflitos sobre o uso da terra e seus recursos, como, por exemplo, a ação de _____, que fazem sua atividade avançar sobre novas áreas, pressionando as Unidades de Conservação e Terras Indígenas. As atividades de _____, por sua vez, se beneficiam da especulação fundiária, o que acaba por dar ímpeto à grilagem e à concentração de terras. Outro é o modo de uso do

território e dos recursos naturais por parte de _____, que, por explorar a agricultura de várzea, o extrativismo e a pesca, veem suas atividades prejudicadas pela formação de reservatórios, que tendem a manter o rio em sua cota máxima, comprometendo o ciclo de cheia e vazante necessário à biota. A construção de usinas tem restringido as atividades de _____, responsáveis por uma das principais atividades desenvolvidas na região, em que pesem os danos ambientais que trazem à biota e às populações humanas.

Assinale a opção cujos itens completam corretamente as lacunas do fragmento.

- a) madeireiros - pecuaristas - ribeirinhos - garimpeiros.
- b) pecuaristas - garimpeiros - madeireiros - ribeirinhos.
- c) ribeirinhos - garimpeiros - madeireiros - pecuaristas.
- d) madeireiros - ribeirinhos - pecuaristas - garimpeiros.
- e) garimpeiros - madeireiros - pecuaristas - ribeirinhos.

DIREITO ADMINISTRATIVO

Antônio Daud

31. Julgue os itens a seguir sobre o processo administrativo, de acordo com a Lei estadual 3.830/2016, e assinale a alternativa correta.

- a) Da revisão do processo administrativo poderá resultar agravamento da sanção.
- b) A desistência ou renúncia do interessado prejudica o prosseguimento do processo administrativo.
- c) Após o término da etapa de instrução, a Administração tem o prazo de até trinta dias para decidir sobre o processo administrativo, salvo prorrogação por igual período expressamente motivada.
- d) É impedido de atuar em processo administrativo o servidor ou autoridade que tenha amizade íntima ou inimizade notória com algum dos interessados ou com os respectivos cônjuges.
- e) O comparecimento do administrado não supre as irregularidades de intimação nula.

32. No tocante às disposições constantes da Lei 8.429/1992, é correto afirmar que trata-se de ato de improbidade que atenta contra os princípios da Administração Pública:

- a) perceber vantagem econômica para intermediar a liberação de verba pública.
- b) deixar de cumprir requisitos de acessibilidade previstos na legislação.
- c) frustrar a licitude de processo seletivo para celebração de parcerias com entidades sem fins lucrativos.
- d) concorrer para que terceiro se enriqueça ilicitamente.
- e) realizar operação financeira sem observância das normas legais.

33. João, agente público da autarquia estadual alfa, no exercício de suas funções, causou prejuízos a José. A este respeito, considerando a responsabilidade civil do Estado e dos servidores públicos e o entendimento consolidado do Supremo Tribunal Federal, é correto afirmar que:

- a) José tem o prazo de cinco anos para promover a cobrança perante o Estado.
- b) É imprescritível o direito de José cobrar a reparação de danos.
- c) João poderá responder perante o Estado, independentemente da comprovação de dolo ou culpa.
- d) João poderá responder perante o Estado, desde que comprovado seu dolo.
- e) José poderá cobrar a indenização diretamente de João.

34. João, empresário do ramo farmacêutico no município do Porto Velho, ao conversar com seu advogado, tomou ciência de que deveria obter um alvará como condição para funcionamento de um novo estabelecimento comercial, o qual visa proteger o interesse da coletividade quanto à saúde pública.

Pode-se afirmar que tal exigência é manifestação do poder

- a) de polícia, especificamente da etapa de consentimento.
- b) jurisdicional, que é conferido às autoridades sanitárias.
- c) disciplinar, visto que a Administração detém o poder-dever de atuar para resguardar a saúde pública.
- d) de polícia, suscitando a prática de ato discricionário, consistente no alvará.
- e) hierárquico, pois o ordenamento jurídico é lastreado na ordem e disciplina.

35. Trata-se de hipótese de dispensa de licitação prevista na nova lei de licitações e contratos (Lei 14.133/2021):

- a) aquisição ou locação de imóvel cujas características de instalações e de localização tornem necessária sua escolha.
- b) objetos que devam ou possam ser contratados por meio de credenciamento.
- c) construção de estabelecimentos penais.
- d) aquisição de medicamentos destinados ao tratamento de doenças raras.
- e) contratação de remanescente de obra, serviço ou fornecimento, em consequência de rescisão contratual.

36. Considerando o que dispõe a nova lei de licitações e contratos (Lei 14.133/2021), é correto afirmar que a sanção de declaração de inidoneidade para licitar ou contratar pode vigorar pelo prazo máximo de

- a) 2 anos.
- b) 3 anos.
- c) 4 anos.
- d) 5 anos.
- e) 6 anos.

DREITO CONSTITUCIONAL

Nelma Fontana

37. A República Federativa do Brasil rege-se em suas relações internacionais, dentre outros, pelos seguintes princípios, exceto:

- a) concessão de asilo político.
- b) independência nacional.
- c) não-intervenção.
- d) dignidade da pessoa humana.
- e) autodeterminação dos povos.

38. O Sindicato de Servidores do Poder Judiciário do estado de Rondônia ajuizou ação anulatória de ato administrativo praticado pelo Conselho Nacional de Justiça. Consoante redação da Constituição Federal e segundo posicionamento do Supremo Tribunal, a competência para processar e julgar a ação anulatória é

- a) de juiz federal.
- b) do Superior Tribunal de Justiça.
- c) do Tribunal de Justiça de Goiás.
- d) do Supremo Tribunal Federal.
- e) de Juiz do Trabalho.

39. São direitos sociais elencados expressamente na Constituição Federal:

- a) Educação, saúde, moradia e propriedade.
- b) Lazer, trabalho, transporte e alimentação.
- c) Previdência social, assistência aos desamparados, educação e liberdade de crença religiosa.
- d) Trabalho, segurança, propriedade e liberdade de associação.
- e) Proteção à maternidade e à infância, lazer, moradia e liberdade de reunião.

40. João, grande produtor de soja, influente politicamente, foi denunciado por diversos crimes contra a ordem econômica. Em sessão plenária, mais da metade dos membros do Tribunal de Justiça se declarou em condição de suspeição, por foro íntimo, para atuação no feito. Diante do caso narrado, à luz da jurisprudência do Supremo Tribunal Federal e consoante redação expressa da Constituição Federal, a competência para julgar João é

- a) do Superior Tribunal de Justiça
- b) do próprio Tribunal de Justiça, que deverá convocar desembargadores substitutos.
- c) do Tribunal Regional Federal da respectiva região.
- d) do Supremo Tribunal Federal.
- e) Juiz de Direito.

41. Mário é prefeito de Ariquemes-RO, no exercício de seu primeiro mandato. Maria é esposa de Mário e não possui mandato eletivo. Márcio, neto de Mário, é vereador de Ariquemes-RO, no exercício de seu segundo mandato consecutivo. A respeito da história narrada, indique a alternativa correta.

- a) Mário, nas próximas eleições, só poderá concorrer a prefeito de Ariquemes se renunciar ao seu mandato com pelo menos seis meses de antecedência das eleições.
- b) Márcio é inelegível prefeito de Ariquemes, em razão do parentesco com Mário, mas poderá concorrer a prefeito de Buritis-RO, caso preencha os demais requisitos legais, como por exemplo, o domicílio eleitoral na circunscrição para a qual pretende se candidatar.
- c) Maria é inelegível a qualquer cargo dentro do estado de Rondônia.
- d) Maria poderá concorrer ao cargo de vereadora de Ariquemes, mas não poderá concorrer ao cargo de prefeita da mesma localidade, uma vez que seu esposo é o prefeito, salvo se este renunciar ao seu mandato com mais de seis meses de antecedência das eleições.
- e) Márcio é elegível prefeito de Ariquemes, uma vez que o grau de parentesco com Mário não está alcançado pela inelegibilidade estabelecida pela Constituição Federal.

42. A respeito dos direitos e garantias fundamentais, aponte a alternativa correta.

- a) A enumeração dos direitos fundamentais no texto constitucional não é exaustiva, de forma que há também direitos e garantias fundamentais nas leis infraconstitucionais e nos tratados internacionais.
- b) A lei não poderá exigir autorização do Estado para a fundação de sindicato e nem o registro no órgão competente, uma vez que o direito é decorrente de liberdade.
- c) O brasileiro que adquirir outra nacionalidade perderá, automaticamente, a nacionalidade brasileira.
- d) Uma das características dos direitos e garantias fundamentais é a ilimitabilidade.
- e) Os direitos e garantias fundamentais enumerados na Constituição Federal são assegurados apenas aos brasileiros e aos estrangeiros residentes no Brasil.

DIREITO CIVIL

Paulo Sousa

43. De acordo com a Lei de Introdução às normas do Direito Brasileiro (LINDB), é correto afirmar que:

- a) Sendo a lei omissa, o juiz deverá decidir o caso concreto de acordo com a analogia apenas, caso contrário, resta prejudicada a decisão.
- b) A ignorância a respeito da lei justifica o seu descumprimento.
- c) Ao entrar em vigor, a lei tem efeito imediato, porém, deve respeitar o ato jurídico perfeito, o direito adquirido e a coisa julgada.
- d) A lei nova, quando incompatível com a anterior, perde sua vigência, uma vez que prevalece o princípio da antiguidade das leis.
- e) Em regra, ao ser publicada uma lei, seu período de *vacatio legis* será de 30 dias, contados da data da publicação.

44. Marcos, ao completar 18 anos de idade, resolveu vender alguns pertences que não considerava mais apropriados para a sua idade. Um desses itens era um videogame que alienou para seu vizinho Caio, menor impúbere. O contrato de compra e venda foi realizado sem o conhecimento dos pais de Caio. Neste caso, de acordo com o Código Civil, o negócio jurídico celebrado é:

- a) Nulo, porque Caio é reputado absolutamente incapaz.
- b) Anulável, porque Caio é reputado relativamente incapaz.
- c) Válido, uma vez que não houve má-fé na celebração do negócio, nem prejuízo para qualquer das partes.
- d) Válido, pois não havia qualquer óbice para o contrato celebrado entre as partes.
- e) Anulável, mas, pode ser convalidado se os pais de Caio confirmarem seu ato.

45. Conforme disposição do Código Civil de 2002:

- a) As janelas de um prédio, por terem integrado bem imóvel, quando destinadas à destruição em razão de reforma, não perdem o caráter de imóvel.
- b) Aqueles bens, passíveis de serem substituídos por outros na mesma quantidade, qualidade e espécie são considerados fungíveis.
- c) Os bens naturalmente divisíveis, em razão deste caráter, não podem, em hipótese alguma, tornar-se indivisíveis.
- d) Dentre os bens que são considerados imóveis, estão o solo e tudo o que lhe incorpora, o direito à sucessão aberta e as energias que tenham valor econômico.
- e) Os bens públicos quais sejam, os rios, as praças, os mares, ruas e estradas, podem ser alienados, porém, desde que em conformidade com a lei.

46. Em se tratando do instituto da emancipação, de acordo com o Código Civil de 2002, é correto afirmar que:

- a) É indispensável a homologação judicial no caso da emancipação voluntária.
- b) O CC/2002, no que diz respeito à emancipação pela idade, ainda segue a mesma regra do CC/1916, ou seja, somente é considerado apto à prática dos atos da vida civil, o maior de 21 anos de idade.
- c) No caso da emancipação judicial, basta que seja ouvido o menor, sendo dispensável que se ouça o tutor.
- d) O casamento é ato capaz de fazer cessar a incapacidade, no caso dos maiores de dezesseis anos e menores de dezoito.
- e) A maioridade é a única forma de se alcançar a emancipação, pois, as leis em geral devem ter por base a imputabilidade penal, que se dá aos 18 anos de idade.

DIREITO PROCESSUAL CIVIL

Ricardo Torques

47. A respeito das normas fundamentais do processo civil, assinale a alternativa correta:

- a) Quem de qualquer forma participa do processo deve comportar-se de acordo com a boa-fé objetiva, exceto o juiz, que tem poder de livre fundamentação.
- b) A princípio, as decisões do Poder Judiciário são públicas, mas há situações em que cabe sigilo ou segredo de justiça. Nesses casos, caso o escrivão forneça certidão de um ato processual a pessoa que não tem qualquer interesse no processo, ele estará sujeito a penalidade disciplinar, pois o ato é ilícito.
- c) O juiz não pode proferir decisão contra uma das partes sem que ela tenha sido ouvida. A única exceção é a tutela de evidência, quando for evidente o propósito protelatório da parte prejudicada.
- d) A decisão do juiz deve ser justa, mas não é necessário que seja efetiva. A efetividade é ônus do interessado, que deve assumir os custos pertinentes.
- e) Nenhum processo pode ser excluído de apreciação jurisdicional e, por isso mesmo, é vedada a arbitragem, que configura hipótese de exercício privado da justiça.

48. Em algumas hipóteses, o juiz extingue o processo sem fazer análise do mérito, quer dizer, o juiz vai extinguir o processo sem resolver a causa porque existe algum vício que impede a tramitação processual. A respeito dessas situações, assinale a alternativa correta:

- a) A desistência da ação é hipótese de extinção sem julgamento do mérito, mas o pedido de desistência só pode ser apresentado até a contestação.
- b) No caso de desistência da ação, o processo estará automaticamente extinto com o protocolo do pedido de desistência, sendo desnecessário qualquer ato posterior do juiz.
- c) Decisão que reconhecer a existência de perempção, litispendência, coisa julgada, prescrição ou decadência extingue o processo sem julgamento de mérito.
- d) Se for interposta apelação contra decisão de extinção sem julgamento de mérito, o juiz poderá se retratar no prazo de 5 dias.
- e) O abandono da causa pelo autor ocorre quando ele não promover os atos e diligências que lhe incumbir por mais de 1 ano.

DIREITO PENAL

Priscila Silveira

49. Tício, funcionário público do Tribunal do Justiça de Rondônia, ao descobrir que determinado computador pertencente a repartição pública era avaliado em R\$ 4.500,00, resolve subtraí-lo, no período noturno, utilizando de sua facilidade como funcionário para adentrar no prédio. Diante disso, precisando de ajuda para impedir que alguém o avistasse ingressando no local, Tício revela seu plano ao seu cunhado Caio, o qual tinha conhecimento de que Tício era funcionário público, aceitando participar da empreitada criminosa. Logo após subtraírem o equipamento, ao lado de fora do Tribunal de Justiça, Tício e Caio são presos em flagrante.

Considerando apenas as informações narradas, é correto afirmar que:

- a) Tício praticou o crime de peculato, enquanto a conduta de Caio seria tipificada como furto qualificado com a majorante de repouso noturno, tendo em vista que o peculato é crime próprio, não podendo ser praticado por particular.
- b) Tanto Tício, quanto Caio, responderão pelo crime de peculato, mesmo se tratando de crime próprio.
- c) Tício e Caio responderão pelo crime de furto qualificado com a causa de aumento do repouso noturno, tendo em vista que o delito foi cometido em concurso de agentes, devendo os autores responderem pelo mesmo crime.
- d) Caio e Tício responderão por furto qualificado, sem a majorante do repouso do noturno, diante do fato do delito ter sido praticado por Tício na condição de particular;
- e) Tício responderá pelo crime de peculato, enquanto Caio por furto simples.

50. Consoante a Lei nº 8.072/90, assinale a alternativa que NÃO contém um delito previsto no rol de crimes hediondos:

- a) epidemia com resultado morte.
- b) homicídio, quando praticado em atividade típica de grupo de extermínio, ainda que cometido por um só agente, e homicídio qualificado.
- c) furto qualificado pelo emprego de explosivo ou de artefato análogo que cause perigo comum.
- d) extorsão.
- e) lesão corporal dolosa de natureza gravíssima e lesão corporal seguida de morte, quando praticadas contra autoridade ou agente descrito nos arts. 142 e 144 da Constituição Federal, integrantes do sistema prisional e da Força Nacional de Segurança Pública, no exercício da função ou em decorrência dela, ou contra seu cônjuge, companheiro ou parente consanguíneo até terceiro grau, em razão dessa condição.

51. A respeito da lei penal no tempo, assinale a alternativa correta.

- a) A abolitio criminis consiste em causa de extinção da punibilidade, cessando os efeitos penais e extrapenais da sentença condenatória.
- b) Novatio legis in melius é um fenômeno em que a lei nova é mais benéfica, de alguma forma, à situação da vítima, deve ser aplicada com retroatividade ainda que já tenha ocorrido o trânsito em julgado da sentença penal condenatória.
- c) Cessado o estado de guerra, as leis excepcionais editadas para valer durante o referido período tornam-se ineficazes, devido à abolitio criminis.
- d) a regra é a aplicação da lei apenas durante o seu período de vigência; a exceção é a extratividade da lei penal mais benéfica, que comporta duas espécies: a retroatividade e a ultratividade
- e) A lei penal mais grave não é aplicável ao crime continuado ou ao crime permanente, mesmo se a sua vigência é anterior à cessação da continuidade ou da permanência.

52. Sobre os crimes contra a pessoa, assinale a opção correta.

Maria, após uma briga com seu namorado, tentou se suicidar por meio de medicamentos, no entanto, se arrependeu em seguida e chamou a ambulância. Ana, que tinha conhecimento da intenção de Maria de se suicidar, impediu dolosamente que o socorro chegasse e, em decorrência desta conduta, Maria veio a falecer.

Na situação hipotética, Ana responderia por:

- a) instigação ao suicídio.
- b) homicídio culposo.
- c) induzimento ao suicídio.
- d) homicídio doloso.
- e) auxílio ao suicídio.

DIREITO PROCESSUAL PENAL

Priscila Silveira

53. Luigi, Oficial de Justiça, precisa realizar a citação de Bento, que está preso privativamente, e de Juca, que não foi localizado para a citação. Realizadas várias diligências, não foi possível localizar Juca, apenas o endereço de seus familiares, sendo certificado que este se encontrava em local incerto e não sabido. Considerando as informações narradas, de acordo com o Código de Processo Penal e com o Superior Tribunal de Justiça, é correto afirmar que:

- a) Bento deverá ser citado por intermédio do diretor do estabelecimento penitenciário; e Juca deverá ser citado por hora certa, mas, para isso, é necessário que José diligencie três vezes no endereço de seus familiares e haverá a suspensão do processo e do curso do prazo prescricional.
- b) Bento deverá ser citado por intermédio do diretor do estabelecimento penitenciário; e Juca deverá ser citado por edital, e, caso haja a suspensão do processo e do curso do prazo prescricional, não poderá o juiz determinar a produção antecipada de provas, tendo em vista que se presume que o denunciado não tenha conhecimento da acusação;
- c) Bento deverá ser citado pessoalmente por Luigi; e Juca deverá ser citado por hora certa, não havendo suspensão do processo e do curso prazo

prescricional, caso o acusado não compareça aos autos.

d) Bento deverá ser citado pessoalmente por Luigi; e Juca deverá ser citado por edital, e, caso haja suspensão do processo e do curso do prazo prescricional, o período de suspensão desse prazo será regulado pelo máximo da pena cominada.

e) Bento deverá ser citado por intermédio do diretor do estabelecimento penitenciário; e não será possível efetuar a citação de Juca, devendo apenas notificar a família e suspender o processo e o curso do prazo prescricional até ele compareça aos autos.

54. Consoante a Lei nº 9.099/1995, em relação aos Juizados Especiais Criminais, assinale a afirmativa correta.

a) Nas infrações que deixarem vestígios, prescinde do exame do corpo de delito, quando a materialidade do crime estiver aferida por boletim médico ou prova equivalente.

b) Quando a autoridade policial tomar conhecimento da ocorrência, deverá lavrar o termo circunstanciado e o encaminhará imediatamente a Delegacia de Polícia, com autor do fato e a vítima, devendo providenciar as requisições dos exames periciais necessários.

c) O termo circunstanciado será lavrado pelo Delegado de Polícia ou seus agentes, dependendo de quem primeiro tomar conhecimento da ocorrência.

d) A transação penal não será admitida se ficar comprovado ter sido o autor da infração, pela prática de crime ou contravenção penal, à pena privativa de liberdade, por sentença transitada em julgado.

e) Os atos processuais serão públicos e poderão realizar-se em horário noturno e em qualquer dia da semana, incabível, no entanto, a prática em outras comarcas.

NOÇÕES DE ADMINISTRAÇÃO DE RECURSOS HUMANOS E GESTÃO PÚBLICA

Elisabete Moreira

55. A criação do Departamento Administrativo do Serviço Público (DASP), que tinha entre seus objetivos o implemento dos princípios da estrutura burocrática, em particular do Governo Federal, que surgiu com o intuito de eliminar os aspectos patrimonialistas da Administração Pública brasileira, por meio de uma lógica racional-legal. Embora a implantação deste modelo de gestão tenha trazido algumas mudanças positivas para a Administração Pública brasileira, o modelo de Administração Pública Burocrática também se caracterizou por trazer consigo algumas disfunções, como:

- a) dificuldade de respostas às mudanças do meio externo, dando prioridade às questões internas do sistema
- b) preocupação com o resultado, deixando de seguir as regras procedimentais
- c) perda de controle sobre o funcionário, em função da autoridade horizontal
- d) Aumento das práticas clientelistas, resultante da restrição de tratamentos isonômicos apenas aos indivíduos pertencentes à estrutura pública ou política
- d) diminuição no nível de profissionalização, decorrente da valorização maior da promoção por antiguidade em detrimento do merecimento

56. O gestor de um órgão público solicitou a dois servidores – João e José que cada um comprasse 06 pilhas e 10 lâmpadas para alguns equipamentos utilizados no órgão. O gestor informou que o valor limite para a compra de cada lote de 06 pilhas e 10 lâmpadas, conforme especificação fornecida, seria de R\$ 1.500,00. João comprou as lâmpadas por R\$ 1.390,00 e José por R\$ 1.500,00. Ambas as compras foram entregues em perfeitas condições, porém o lote adquirido pelo servidor José foi entregue um dia antes do prazo. Considerando a situação exposta, é correto afirmar que:

- a) ambos os servidores foram igualmente eficientes;
- b) apenas o servidor Alfa foi eficaz na aquisição;
- c) apenas o servidor Alfa foi eficiente na aquisição;
- d) o servidor Beta foi mais efetivo na aquisição;

e) o conceito de eficácia foi atendido por ambos os servidores.

57. Na elaboração do planejamento estratégico de um órgão público, os responsáveis pela condução do trabalho estão desempenhando a etapa conhecida por definição da visão. Assinale a opção que apresenta as características dessa etapa.

- a) Apresentação dos princípios e crenças basilares do órgão.
- b) Panorama dos desafios e oportunidades vigentes no setor.
- c) Exposição das forças e fraquezas valorizadas pelo órgão.
- d) Declaração da posição almejada pelo órgão no futuro.
- e) Descrição da razão de existência do órgão.

58. Na Era da Informação, a administração de recursos humanos cedeu lugar a uma nova abordagem, a Gestão de Pessoas, onde as pessoas são vistas como

- a) recursos da organização.
- b) fornecedoras de conhecimento e competências.
- c) fornecedoras de mão de obra.
- d) previsíveis e flexíveis.
- e) dependentes da organização.

ORÇAMENTO PÚBLICO

Luciana Marinho

59. Conforme a Lei 4.320/64, a Lei Orçamentária Anual (LOA) não consignará dotações globais destinadas a atender, sem a discriminação necessária, a despesas de pessoal, material e serviços de terceiras. Tal mandamento refere-se ao princípio do(a):

- a) unidade
- b) especificação
- c) não vinculação
- d) universalidade
- e) orçamento bruto

60. Em relação à receita pública, a Lei 4.320/64 afirma que a receita, cuja arrecadação se origina de concessões e permissões de serviços de transporte, é considerada como:

- a) receitas de transferências.
- b) receitas de serviços.
- c) receitas de operações de créditos.
- d) receitas patrimoniais.
- e) outras receitas correntes.

61. Segundo o Manual Técnico do Orçamento (MTO) e a Lei 4.320/64, o estágio de execução da receita que identifica o sujeito passivo da obrigação tributária e ocorrência do fato gerador é:

- a) Arrecadação
- b) Empenho
- c) Lançamento
- d) Liquidação
- e) Previsão.

MATEMÁTICA

Carlos Henrique

O enunciado abaixo refere-se às questões 62 e 63.

Lúcia, uma estudiosa moça, passou para a PM SP em primeiro lugar. Resolveu, então, fazer um jantar de comemoração para seus amigos. Sabe-se que Lúcia possui 12 amigos e oferecerá um jantar para 4 amigos. Entre os seus amigos estão Karina e Mauro (o namorado da Karina).

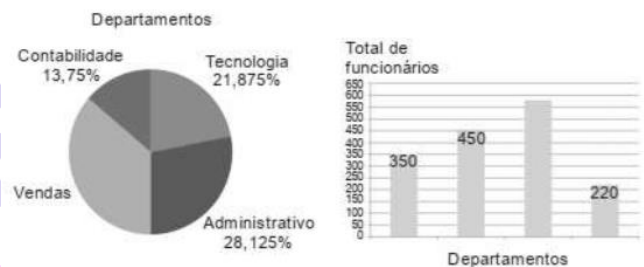
62. Certa noite, supondo-se que Karina e Mauro só comparecerão ao jantar juntos, caso sejam convidados, o número máximo de possibilidades para o jantar de Lúcia é:

- a) 120
- b) 180
- c) 215
- d) 240
- e) 255

63. Outra noite, supondo-se que Karina e Mauro tenham brigado e, portanto, não possam ser convidados juntos, o total de jantares que Lúcia pode oferecer nessas condições é:

- a) 420
- b) 450
- c) 480
- d) 495
- e) 500

64. O Estratégia concursos emprega vários funcionários distribuídos por quatro departamentos, que são: contabilidade, tecnologia, vendas e administrativo. Ambos os gráficos abaixo mostram a distribuição desses funcionários pelos departamentos da empresa.



A análise dos gráficos permite concluir corretamente que o total de funcionários do Estratégia Concursos que trabalham no setor de vendas é:

- a) 550
- b) 560
- c) 570
- d) 580
- e) 590

65. Um reservatório tem a forma de um paralelepípedo reto-retângulo e mede 0,50m de largura, 1,20 m de comprimento e 0,70m de altura. Estando o reservatório com certa quantidade de água, coloca-se dentro dele uma pedra com forma irregular, que fica totalmente coberta pela água. Observa-se, então, que o nível de água sobe 1cm. Isto significa que o volume da pedra mede, em centímetros cúbicos:

- a) 0,42
- b) 60
- c) 600
- d) 6000
- e) 420.000

LEGISLAÇÃO ESPECÍFICA

Tiago Zanolla

66. À luz do Regime Jurídico dos Servidores Públicos Civis do Estado de Rondônia, não é requisito básico para investidura em cargo público

- a) ser brasileiro nato
- b) gozo dos direitos políticos
- c) quitação das obrigações militares
- d) idade mínima de 18 anos
- e) aptidão física

67. À luz do Regime Jurídico dos Servidores Públicos Civis do Estado de Rondônia, a posse ocorrerá no prazo de

- a) 30 dias improrrogáveis
- b) 30 dias prorrogáveis mais 30.
- c) 30 dias a partir da homologação do resultado final.
- d) 30 dias do exercício.
- e) 60 dias prorrogáveis mais 30.

68. À luz do Regime Jurídico dos Servidores Públicos Civis do Estado de Rondônia, são formas de provimento, exceto

- a) Nomeação
- b) Promoção
- c) Readaptação

- d) Recondução
- e) Reaproveitamento

69. Segundo o Regimento Interno do TJ-RO, as Câmaras Isoladas compor-se-ão de

- a) No máximo 5 Desembargadores
- b) No mínimo 5 Desembargadores
- c) No máximo 3 Desembargadores
- d) No mínimo 3 Desembargadores
- e) N.D.A.

70. Segundo o Regimento Interno do TJ-RO, o Tribunal Pleno reunir-se-á, ordinariamente, como órgão julgante;

- a) na primeira e na terceira segundas-feiras;
- b) na terceira e quarta segundas-feiras
- c) na primeira e na terceira quarta-feiras
- d) na terceira e quarta quarta-feiras
- e) N.D.A.

Preencha o Gabarito!

<https://bit.ly/Simulado-TJRO-02-10>

NÃO É ASSINANTE?

<https://bit.ly/Estrategia-Assinaturas>

CONHEÇA NOSSO SISTEMA DE QUESTÕES!

<https://bit.ly/Sistemas-de-Questões>