



Simulado Final

PCSE

Agente

Simulado Especial

Simulado Final PC SE – Agente

Nome: _____

INFORMAÇÕES SOBRE O SIMULADO EXCLUSIVO

- 1 – Este simulado conta com questões focadas no concurso da PC-SE;
- 2 – A prova contém **100 itens** que abordam conhecimentos cobrados no edital do concurso;
- 3 – As questões são inéditas e foram elaboradas pelos nossos professores com base no perfil da banca organizadora CESPE/CEBRASPE, com assertivas para serem valoradas como “certo” ou “errado”.
- 4 – Este PDF foi enviado por e-mail, disponibilizado na área do aluno e em um artigo publicado no blog do Estratégia Concursos;
- 5 – Os participantes têm das **8:00 às 12:00** para responder às questões e preencher o Gabarito Eletrônico;
- 6 – O link para preencher o formulário com seu gabarito está localizado na última página deste PDF;
- 7 – O Gabarito do Simulado e o Ranking Classificatório com nota serão divulgados no blog do Estratégia Concursos.
- 8 – Esse simulado é uma autoavaliação! Você mesmo(a) vai corrigir, a partir do padrão de respostas disponível na área do aluno.

PREENCHA SEU GABARITO NO LINK – <https://bit.ly/Simulado-PC-SE-Agente-11-09-21>

01 – <input type="radio"/> C <input type="radio"/> E	25 – <input type="radio"/> C <input type="radio"/> E	49 – <input type="radio"/> C <input type="radio"/> E	73 – <input type="radio"/> C <input type="radio"/> E	97 – <input type="radio"/> C <input type="radio"/> E
02 – <input type="radio"/> C <input type="radio"/> E	26 – <input type="radio"/> C <input type="radio"/> E	50 – <input type="radio"/> C <input type="radio"/> E	74 – <input type="radio"/> C <input type="radio"/> E	98 – <input type="radio"/> C <input type="radio"/> E
03 – <input type="radio"/> C <input type="radio"/> E	27 – <input type="radio"/> C <input type="radio"/> E	51 – <input type="radio"/> C <input type="radio"/> E	75 – <input type="radio"/> C <input type="radio"/> E	99 – <input type="radio"/> C <input type="radio"/> E
04 – <input type="radio"/> C <input type="radio"/> E	28 – <input type="radio"/> C <input type="radio"/> E	52 – <input type="radio"/> C <input type="radio"/> E	76 – <input type="radio"/> C <input type="radio"/> E	100 – <input type="radio"/> C <input type="radio"/> E
05 – <input type="radio"/> C <input type="radio"/> E	29 – <input type="radio"/> C <input type="radio"/> E	53 – <input type="radio"/> C <input type="radio"/> E	77 – <input type="radio"/> C <input type="radio"/> E	
06 – <input type="radio"/> C <input type="radio"/> E	30 – <input type="radio"/> C <input type="radio"/> E	54 – <input type="radio"/> C <input type="radio"/> E	78 – <input type="radio"/> C <input type="radio"/> E	
07 – <input type="radio"/> C <input type="radio"/> E	31 – <input type="radio"/> C <input type="radio"/> E	55 – <input type="radio"/> C <input type="radio"/> E	79 – <input type="radio"/> C <input type="radio"/> E	
08 – <input type="radio"/> C <input type="radio"/> E	32 – <input type="radio"/> C <input type="radio"/> E	56 – <input type="radio"/> C <input type="radio"/> E	80 – <input type="radio"/> C <input type="radio"/> E	
09 – <input type="radio"/> C <input type="radio"/> E	33 – <input type="radio"/> C <input type="radio"/> E	57 – <input type="radio"/> C <input type="radio"/> E	81 – <input type="radio"/> C <input type="radio"/> E	
10 – <input type="radio"/> C <input type="radio"/> E	34 – <input type="radio"/> C <input type="radio"/> E	58 – <input type="radio"/> C <input type="radio"/> E	82 – <input type="radio"/> C <input type="radio"/> E	
11 – <input type="radio"/> C <input type="radio"/> E	35 – <input type="radio"/> C <input type="radio"/> E	59 – <input type="radio"/> C <input type="radio"/> E	83 – <input type="radio"/> C <input type="radio"/> E	
12 – <input type="radio"/> C <input type="radio"/> E	36 – <input type="radio"/> C <input type="radio"/> E	60 – <input type="radio"/> C <input type="radio"/> E	84 – <input type="radio"/> C <input type="radio"/> E	
13 – <input type="radio"/> C <input type="radio"/> E	37 – <input type="radio"/> C <input type="radio"/> E	61 – <input type="radio"/> C <input type="radio"/> E	85 – <input type="radio"/> C <input type="radio"/> E	
14 – <input type="radio"/> C <input type="radio"/> E	38 – <input type="radio"/> C <input type="radio"/> E	62 – <input type="radio"/> C <input type="radio"/> E	86 – <input type="radio"/> C <input type="radio"/> E	
15 – <input type="radio"/> C <input type="radio"/> E	39 – <input type="radio"/> C <input type="radio"/> E	63 – <input type="radio"/> C <input type="radio"/> E	87 – <input type="radio"/> C <input type="radio"/> E	
16 – <input type="radio"/> C <input type="radio"/> E	40 – <input type="radio"/> C <input type="radio"/> E	64 – <input type="radio"/> C <input type="radio"/> E	88 – <input type="radio"/> C <input type="radio"/> E	
17 – <input type="radio"/> C <input type="radio"/> E	41 – <input type="radio"/> C <input type="radio"/> E	65 – <input type="radio"/> C <input type="radio"/> E	89 – <input type="radio"/> C <input type="radio"/> E	
18 – <input type="radio"/> C <input type="radio"/> E	42 – <input type="radio"/> C <input type="radio"/> E	66 – <input type="radio"/> C <input type="radio"/> E	90 – <input type="radio"/> C <input type="radio"/> E	
19 – <input type="radio"/> C <input type="radio"/> E	43 – <input type="radio"/> C <input type="radio"/> E	67 – <input type="radio"/> C <input type="radio"/> E	91 – <input type="radio"/> C <input type="radio"/> E	
20 – <input type="radio"/> C <input type="radio"/> E	44 – <input type="radio"/> C <input type="radio"/> E	68 – <input type="radio"/> C <input type="radio"/> E	92 – <input type="radio"/> C <input type="radio"/> E	
21 – <input type="radio"/> C <input type="radio"/> E	45 – <input type="radio"/> C <input type="radio"/> E	69 – <input type="radio"/> C <input type="radio"/> E	93 – <input type="radio"/> C <input type="radio"/> E	
22 – <input type="radio"/> C <input type="radio"/> E	46 – <input type="radio"/> C <input type="radio"/> E	70 – <input type="radio"/> C <input type="radio"/> E	94 – <input type="radio"/> C <input type="radio"/> E	
23 – <input type="radio"/> C <input type="radio"/> E	47 – <input type="radio"/> C <input type="radio"/> E	71 – <input type="radio"/> C <input type="radio"/> E	95 – <input type="radio"/> C <input type="radio"/> E	
24 – <input type="radio"/> C <input type="radio"/> E	48 – <input type="radio"/> C <input type="radio"/> E	72 – <input type="radio"/> C <input type="radio"/> E	96 – <input type="radio"/> C <input type="radio"/> E	

PORTUGUÊS

Janaína Arruda / Patrícia Manzato

Leia o texto para responder os itens 01 a 09:

Chegamos a Arezzo pouco antes do meio-dia, e perdemos mais de duas horas buscando o castelo renascentista que o escritor venezuelano Miguel Otero Silva havia comprado naquele rincão idílico da planície toscana. Era um domingo de princípios de agosto, ardente e buliçoso, e não era fácil encontrar alguém que soubesse alguma coisa nas ruas abarrotadas de turistas.

Após muitas tentativas inúteis, voltamos ao automóvel, abandonamos a cidade por uma trilha de ciprestes sem indicações viárias, e uma velha pastora de gansos indicounos com precisão onde estava o castelo. Antes de se despedir, perguntou-nos se pensávamos dormir por lá, e respondemos, pois era o que tínhamos planejado, que só íamos almoçar.

- Ainda bem - disse ela -, porque a casa é assombrada. Minha esposa e eu, que não acreditamos em aparições de meio-dia, debochamos de sua credulidade. Mas nossos dois filhos, de nove e sete anos, ficaram alvoroçados com a ideia de conhecer um fantasma em pessoa.

Miguel Otero Silva, que além de bom escritor era um anfitrião esplêndido e um comilão refinado, nos esperava com um almoço de nunca esquecer. Como havia ficado tarde não tivemos tempo de conhecer o interior do castelo antes de sentarmos à mesa, mas seu aspecto visto de fora não tinha nada de pavoroso, e qualquer inquietação se dissipava com a visão completa da cidade vista do terraço florido onde almoçávamos.

Era difícil acreditar que naquela colina de casas empoleiradas, onde mal cabiam noventa mil pessoas, houvessem nascido tantos homens de gênio perdurável. Ainda assim, Miguel Otero Silva nos disse com seu humor caribenho que nenhum de tantos era o mais insigne de Arezzo.

Gabriel García Marquez

("Doze Contos Peregrinos". Trad. Eric Nepomuceno. Rio de Janeiro: Record, 2019)

Em relação aos sentidos e às construções linguísticas do texto precedente, julgue os itens a seguir:

01. Infere-se do texto que o narrador foi almoçar com um amigo escritor, junto de sua família, em um local inóspito e desconhecido.

02. Pode-se inferir do texto que, por mais que o narrador não acreditasse que a casa era mal-assombrada, procurou por elementos que justificassem tal afirmação.

03. Seriam mantidos o sentido e a correção gramatical, caso o pronome relativo destacado em "*Era difícil acreditar que naquela colina de casas empoleiradas, onde mal cabiam noventa mil pessoas*" (5º parágrafo) fosse substituído por "nas quais".

04. O termo "buliçoso" (1º parágrafo) poderia ser substituído por "agitado", sem alterar o sentido original do texto.

05. Os termos destacados em "*Era difícil acreditar que naquela colina de casas empoleiradas*" (5º parágrafo) e "*mas seu aspecto visto de fora não tinha nada de pavoroso.*" exercem a mesma função sintática.

06. Seriam mantidos o sentido e a correção gramatical, caso a vírgula depois de "Após muitas tentativas inúteis" (2º parágrafo) fosse suprimida.

07. Para que o trecho "Antes de se despedir, perguntou-nos se pensávamos dormir por lá" (2º parágrafo) esteja adequado à norma padrão, é necessário acrescentar a preposição "em" depois de "pensávamos": *pensávamos em dormir lá.*

08. O texto é um conto, com trechos predominantemente narrativos.

09. O narrador estabelece diálogo com os leitores, tanto no primeiro quanto no último parágrafos, como forma a chamar sua atenção para suas digressões no texto.

Leia o trecho da matéria para responder os itens 10 a 14:

O município de Propriá apresentou uma queda de 50% no número de homicídios em comparativo feito entre o primeiro quadrimestre de 2021 – janeiro a abril – e o segundo – maio a agosto. Os dados são da Coordenadoria de Estatística e Análise Criminal (CEACrim), da Secretaria de Segurança Pública de Sergipe (SSP/SE). O resultado, divulgado nesta quinta-feira (2), é fruto do trabalho integrado entre as polícias Civil e Militar, junto à Coordenadoria Geral de Perícias (Cogerp).

Segundo o levantamento da SSP/SE, enquanto que no primeiro quadrimestre deste ano foram registrados nove vítimas do crime de homicídio, no segundo quadrimestre foram contabilizadas quatro vítimas. Ainda conforme os dados da CEACrim, no comparativo mensal, os meses de janeiro, março, maio e junho tiveram um caso de homicídio.

O levantamento também indicou que, em Propriá, o mês mais violento foi fevereiro, com quatro casos de homicídios. Já os meses de abril e julho registraram dois homicídios em cada um. Os dados da Coordenadoria de Estatística e Análise Criminal também revelaram que no mês de agosto não houve registro de homicídio em Propriá.

Disponível em < <https://www.policiacivil.se.gov.br/propria-homicidios-caem-50-no-segundo-quadrimestre-de-2021/> > Acesso em 07 set. 2021.)

No que se refere aos sentidos e às construções linguísticas do texto precedente, julgue os itens a seguir:

- 10.** De acordo com o texto, os dados mostram resultado positivo no 2º quadrimestre de 2021, se comparado com o 1º quadrimestre do mesmo ano.
- 11.** Infere-se do texto que, com o trabalho integrado entre Polícia Civil e Militar, a tendência é de melhora nos dados do estado.
- 12.** Seriam mantidos a correção gramatical e o sentido do texto, caso o pronome “deste” em “*enquanto que no primeiro quadrimestre deste ano foram registrados nove vítimas do crime de homicídio*” (2º parágrafo) fosse substituído por “desse”.

13. Feitas as devidas alterações de maiúsculas e minúsculas, a substituição do ponto antes do trecho “Já os meses de abril e julho registraram dois homicídios em cada um” (3º parágrafo) por ponto-e-vírgula prejudica a correção gramatical.

14. Ao transpor para a voz passiva a oração “*O município de Propriá apresentou uma queda de 50% no número de homicídios*” (1º parágrafo), o verbo “apresentou” deve ser flexionado da seguinte forma: *foi apresentada*.

ATUALIDADES E CONHECIMENTOS SOBRE O ESTADO DE SERGIPE

Sérgio Henrique

15. Historicamente, a economia sergipana está sustentada na agricultura, na pecuária e na agroindústria; neste segmento, assentou-se, sobretudo, no café e na soja.

16. Desde 1955 a Petrobras fazia pesquisas em Sergipe em busca de petróleo. As pesquisas foram recompensadas com a descoberta do Campo de Carmópolis, então o maior campo terrestre do país. Sergipe se tornaria um dos maiores produtores de petróleo do país, e a chegada da Petrobras inaugurou um novo tempo na economia do Estado.

Um dos reflexos da desvalorização do real foi o aumento das exportações das commodities, que aqueceu a indústria petroquímica.

17. O local em que hoje está situada a Praça São Francisco, em São Cristóvão, foi o cenário da morte de Lampião, o mais célebre representante do cangaço.

ÉTICA

Tiago Zanolla

18. A ética não se confunde com a lei.

19. A ética é pautada pela universalidade

NOÇÕES DE DIREITOS HUMANOS

Lilian Novakoski

No que tange Direitos Humanos, julgue as assertivas

20. Dentre importantes normas sobre direitos humanos, a Declaração dos Direitos dos Homens e do Cidadão de 1789, foi importante instrumento na afirmação de direitos civis, políticos e sociais.

21. Os tratados internacionais sobre direitos humanos, aprovados em cada casa do Congresso Nacional, em dois turnos, por três quintos dos votos, possuem status suprallegal.

22. **Situação hipotética:** um determinado Deputado elaborou proposta de Emenda Constitucional com a finalidade de alterar a Constituição para prever penas de caráter perpétuo e de banimento em situações de pedofilia e práticas de tortura, contando com grande apoio popular e do Congresso Nacional. Nesta situação, tal proposta não viola a Dignidade da Pessoa Humana e nem preceitos constitucionais, desde que, observado o devido processo legal.

23. É previsto no Eixo Orientador IV do PNDH III trata sobre a segurança pública, onde são elaboradas propostas para que o Poder Público se aperfeiçoe no desenvolvimento de políticas públicas de prevenção ao crime e à violência, reforçando a noção de acesso universal à Justiça como direito fundamental, prevendo inclusive, processos de participação e transparência e à profissionalização das instituições e trabalhadores da segurança.

24. A Indivisibilidade pressupõe que todos os direitos humanos possuem a mesma proteção jurídica, uma vez que são essenciais para alcançar a dignidade.

RACIOCÍNIO LÓGICO

Carlos Henrique

Considere, abaixo, as afirmações e o valor lógico atribuído a cada uma delas entre parênteses.

– Ou Junior é pintor, ou Bia não é cozinheira (afirmação FALSA).

– Se César é matemático, então Junior não é pintor (afirmação FALSA).

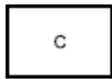
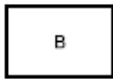


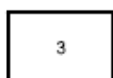
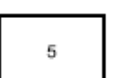
– Bia é cozinheira ou Ana não é motoqueira (afirmação VERDADEIRA).

A partir dessas afirmações, julgue o item seguinte:

25. A proposição “César é matemático e Ana não é motoqueira” é verdadeira.

Carlinha tem alguns cartões e disse a seu pai: “cada um dos meus cartões tem uma letra em uma das faces e um número em outra”. Carlinha complementou: “se na face de um cartão tem uma vogal, então no verso há um número ímpar”.

Em seguida, Carlinha mostrou frente e verso de três cartões.

	Primeiro cartão	Segundo cartão	Terceiro cartão
Frente			
Verso			

Julgue o item seguinte:

26. Analisando os cartões, pode-se concluir que nenhum dos três cartões contradiz as informações de Carlinha.

De uma pequeníssima amostra de 120 alunos do Estratégia Concursos, verificou-se que 60 farão prova para PF, 40, para PRF e 40, para outros concursos. Verificou-se, também, que alguns farão concurso para PF e para a PRF. Acerca dessa situação, julgue os itens seguintes.

27. Selecionando-se ao acaso dois alunos do curso, a probabilidade de que ambos façam prova para a PF e para a PRF será inferior a 2 %.

28. A quantidade de maneiras distintas de se selecionarem três alunos que não farão prova nem para a PRF e nem para a PF é inferior a 10.000.

Cinco moças foram acusadas de comer escondido o pedaço de bolo de chocolate de Joana. Ao entrar na sala, irritada, Joana as questiona:

- “Eu não fui”, responde Karen.
- “Foi a Emília”, garantiu Mônica.
- “Foi a Ju”, disse Emília.
- “A Mônica está mentindo”, retrucou Ju.
- “A Karen está falando a verdade”, disse Renata.

Sabe-se que apenas uma das moças mentiu e somente uma delas o pedaço de bolo de Joana.

29. Diante do exposto, pode-se concluir que Ju comeu o bolo e falou a verdade enquanto que a Mônica é a mentirosa.

Numa pesquisa de mercado, foram entrevistadas várias pessoas acerca de suas preferências em relação a três produtos; A., B e C. Os resultados das pesquisas indicaram que:

- 210 pessoas compram o produto A.
- 210 pessoas compram o produto B.
- 250 pessoas compram o produto C.
- 20 pessoas compram os três produtos.
- 100 pessoas não compram nenhum dos três produtos.
- 60 pessoas compram os produtos A e B.
- 70 pessoas compram os produtos A e C.
- 50 pessoas compram os produtos B e C.

30. Diante do exposto, pode-se concluir que o número de pessoas entrevistadas é superior a 600

NOÇÕES DE DIREITO ADMINISTRATIVO

Thállius Moraes

Levando em consideração as disposições normativas e os princípios constitucionais que regem a atuação e a organização da Administração Pública, julgue os próximos itens.

31. A transferência, mediante ato administrativo, da execução de determinado serviço público a uma pessoa jurídica de direito privado, configura descentralização administrativa por colaboração.

32. Decorre do princípio da tutela administrativa a atribuição que a Administração possui para anular seus próprios atos, quando eivados dos vícios que os tornam ilegais, ou revogá-los, por motivo de conveniência e oportunidade.

33. O poder de polícia, atribuição exclusiva dos órgãos de segurança pública, tem por objetivo evitar lesões aos interesses da coletividade.

34. Todos os atos administrativos podem ser submetidos à apreciação judicial, independentemente de se tratar de um ato vinculado ou de um ato discricionário.

De acordo com as disposições da Lei Estadual nº 2.148/1977, que trata do estatuto dos funcionários públicos civis do estado de Sergipe, julgue os próximos itens.

35. Será readaptado, para outro cargo compatível com a sua capacidade, o servidor sofrer uma limitação física ou mental, nos casos em que não se justifique a sua aposentadoria.

- 36.** A posse deverá ser efetuada no prazo de trinta dias, contados da publicação do ato de provimento do cargo, sendo vedada a sua prorrogação.

NOÇÕES DE DIREITO CONSTITUCIONAL

Emerson Bruno

- 37.** Acerca do direito de acesso à informação, julgue o próximo item. Como forma de participação do cidadão na administração pública direta e na indireta, está previsto o acesso a registros administrativos e a informações sobre atos de governo, desde que observado o sigilo quando este for imprescindível à segurança da sociedade e do Estado.
- 38.** Julgue o item a seguir segundo a Constituição Federal. Considere a seguinte situação hipotética. Por professar ideias pacifistas, Josué se opôs ao alistamento militar em razão da sua opção ideológica. Nessa situação, Josué poderá ter os seus direitos políticos suspensos, mesmo tendo cumprido a prestação alternativa fixada em lei.
- 39.** No ordenamento jurídico nacional, há regra que determina que os ministros do Supremo Tribunal Federal (STF) devem ser escolhidos entre brasileiros natos. De acordo com a interpretação que se pode extrair dessa vedação, julgue o item a seguir. Pode ser ministro do STF o nascido no Brasil e filho de pais estrangeiros, mesmo que estes não estejam a serviço do país onde nasceram.

- 40.** A palavra polícia correlaciona-se com a segurança. Vem da palavra grega polis, que significava o ordenamento político do Estado. Aos poucos, polícia passou a significar a atividade administrativa tendente a assegurar a ordem, a paz interna, a harmonia e, mais tarde, o órgão do Estado que zela pela segurança dos cidadãos. Com relação ao tema abordado no texto acima e a respeito da organização constitucional dos órgãos de segurança pública, julgue o próximo item. A polícia militar estadual é responsável pela polícia ostensiva e a preservação da ordem pública, funcionando como força auxiliar e reserva do Exército brasileiro, estando, ainda, subordinada ao governador do respectivo estado.

- 41.** A respeito dos direitos e garantias fundamentais, julgue o item abaixo. Direito ao meio ambiente ecologicamente equilibrado não pode ser considerado um direito fundamental, pois não está inserido na Constituição Federal como tal.

DIREITO PENAL

Antônio Pequeno

- 42.** O delito de infanticídio, por ser crime próprio, não admite coautoria e participação, de modo que condições e circunstâncias de caráter pessoal não serão comunicadas aos demais concorrentes.
- 43.** O agente que jogar óleo quente na vítima, com animus laedendi, causando, assim, deformidade permanente nela, segundo laudo médico, cometerá crime de lesão corporal gravíssima.
- 44.** Comete crime de furto mediante fraude o agente que utiliza de um artifício ou ardid para retirar a vigilância da vítima e conseguir pegar a res furtiva.

45. Situação hipotética: Carlos subtraiu para si, sem o consentimento de Mariana, sua esposa, a quantia de R\$ 4.000 depositados na caderneta de poupança que pertence exclusivamente a ela. Assertiva: Nessa situação, Carlos cometeu crime de furto, havendo conseqüente punibilidade.

46. Ocorre abolitio criminis quando o tipo penal é revogado por outra norma, e a norma revogadora desloca o caráter criminoso do fato para outro tipo penal recém-criado.

Em janeiro de 2021, Lucas, com 20 anos de idade e nítida vontade de matar Rafael, adquiriu uma arma de fogo e começou a procurá-lo pela cidade. Na semana anterior ao aniversário de 14 anos de Rafael, Lucas encontrou Rafael enquanto este conversava com uma pessoa e, então, disparou cinco tiros contra a vítima, que veio a óbito trinta dias depois. Posteriormente, em seu interrogatório, Lucas afirmou que havia matado Rafael por este ser enteado de um policial civil que o investigava por outros crimes,

Considerando essa situação hipotética, julgue os itens de **47 a 48** a seguir.

47. Ainda que Lucas soubesse a idade de Rafael quando do cometimento do crime, não haverá a incidência da previsão de aumento de pena baseada na idade da vítima, pois, no momento de sua morte, Rafael tinha mais de quatorze anos.

48. Lucas cometeu crime de homicídio doloso qualificado pela impossibilidade de defesa da vítima e pela relação de parentesco dela com o policial civil que investigava Lucas.

49. Configura crime de desobediência a oposição à execução de ato legal, emanado por funcionário público, mediante atitude negativa, sendo a pena privativa de liberdade prevista para tal crime mais branda que a prevista para o crime de resistência.

DIREITO PROCESSUAL PENAL

Renan Araújo

TEXTO-BASE para os itens 50 a 54

Situação hipotética: Durante patrulhamento de rotina, uma equipe da PMSE avistou um indivíduo em atividade suspeita. Diante da fundada suspeita de que trouxesse consigo armas e/ou objetos proibidos, realizaram busca pessoal, tendo encontrado com o suspeito 23 trouxinhas de maconha e 12 pinos de cocaína, além de grande quantidade de dinheiro em espécie. O suspeito confessou que a droga era destinada à comercialização, tendo recebido voz de prisão em flagrante.

Atento ao caso narrado, julgue os itens:

50. Assertiva: sendo lavrado o APFD em sede policial, deverá o delegado de polícia comunicar imediatamente a prisão e o local em que o preso se encontra ao Juiz competente, ao Ministério Público, e à família do preso, ou pessoa por ele indicada.

51. Assertiva: quando da lavratura do auto de prisão em flagrante, deverá a autoridade policial fazer constar a informação sobre a existência de filhos, respectivas idades e se possuem alguma deficiência, além do nome e o contato de eventual responsável pelos cuidados dos filhos, indicado pela pessoa presa, conforme expressa previsão contida no Código de Processo Penal.

52. Assertiva: na falta ou impedimento do escrivão, qualquer pessoa designada pela autoridade poderá, após prestar o compromisso legal, lavrar o APFD.

53. Assertiva: como se trata de crime cuja pena máxima excede 04 anos, somente a autoridade judiciária poderá arbitrar fiança.

54. Assertiva: caso se verifique risco elevado de reiteração delitiva, poderá o Juiz converter a prisão em flagrante em prisão preventiva, ainda que não haja requerimento do Ministério Público nesse sentido.

55. Sobre o inquérito policial, julgue o item a seguir:

A obtenção fortuita, pelo MP, de elementos de convicção a respeito da prática de crime, em razão de diligências realizadas no bojo de inquérito civil instaurado para apurar suposto ato de improbidade administrativa, autoriza a dispensa do inquérito policial e o oferecimento da denúncia, desde que tais elementos obtidos sejam suficientes para comprovar a materialidade delitiva e apontar indícios suficientes de autoria.

LEGISLAÇÃO

Marcos Girão

Com relação à Lei de Drogas, julgue o item a seguir:

56. Sebastião, condenado reincidente por cultivar para consumo pessoal planta destinada à preparação de pequena quantidade de produto capaz de causar dependência física, foi sentenciado com a pena de prestação de serviços à comunidade. Tal penalidade poderá ter prazo de duração de até 10 meses.

57. Um servidor público não sentenciado administrativamente por conduta de abuso de autoridade não poderá ser condenado pela mesma conduta na esfera criminal.

58. Conforme a Lei 9.455/97, que define os crimes de tortura, brasileiro que for vítima de crime de tortura em território estrangeiro ficará sujeito à legislação do país onde sofreu a conduta.

59. Sérgio, Agente de Polícia Civil de Sergipe, aproveitou seu dia de folga para ir à praia de Pirambu aguardar a chegada de um navio que vinha da África com carregamento de armas de fogo. Utilizando sua prerrogativa de policial, Sérgio pediu a seus colegas para não adentrarem na área de descarga naquele dia, favorecendo, com isso, a entrada sem autorização dessas armas de fogo em território nacional. Sérgio cometeu um crime e caso seja processado e condenado, terá sua pena majorada da metade.

60. Provocar incêndio em floresta é crime doloso, tipificado na Lei nº 9.605/98 e que prevê pena de reclusão de dois a quatro anos. A mesma conduta será atípica, se praticada na modalidade culposa.

61. Durante operação policial de combate ao tráfico de drogas, Alessandra foi presa por policiais civis que encontraram em sua posse um passaporte e uma carteira de trabalho, ambos com a foto da mesma pessoa, porém com nomes diferentes. Ao ser questionada, Alessandra alegou que a carteira de trabalho era antiga e, por isso, nela constava seu nome de solteira. E que o passaporte, por sua vez, por ser mais recente, continha seu nome de casada. Embora tenha apresentado documentos de identificação, as informações conflitantes geram motivo para que ocorra identificação criminal.

ESTATÍSTICA

Carlos Henrique

Suponha que o número diário (X) de transações bancárias registradas em determinada conta bancária se distribua conforme uma distribuição de Poisson. Com respeito ao total semanal de transações bancárias registradas nessa conta bancária, denotada como $Y = X_1 + X_2 + X_3 + X_4 + X_5 + X_6$ em que $\{X_1, \dots, X_5, X_6\}$ representa uma amostra aleatória simples retirada de uma distribuição de Poisson com média igual a 6 transações por dia, julgue os seguintes itens.

62. O desvio padrão da variável aleatória Y é igual a 6 transações por semana.

63. $P(Y = 0) = P(X_1 = 0) + P(X_2 = 0) + P(X_3 = 0) + P(X_4 = 0) + P(X_5 = 0) = 6 e^{-6}$.

Uma amostra aleatória simples de tamanho igual a 4 foi retirada de uma população exponencial cuja função de densidade de probabilidade é dada por $f(x) = A e^{-Ax}$, para $x \geq 0$, em que $A > 0$ é o parâmetro desconhecido.

1,5 2,0 1,8 10,7

Com base nos valores mostrados no quadro anterior, que constituem uma realização dessa amostra aleatória simples, julgue os itens a seguir.

64. A estimativa da média populacional obtida pelo critério de mínimos quadrados ordinários é igual a 4.
65. A estimativa de máxima verossimilhança para o desvio padrão populacional é igual a 4.
66. Pelo critério da máxima verossimilhança, a estimativa do parâmetro A é igual a 4.

Em 10 anos (de 2012 a 2021), foi registrado, em cada ano, o faturamento anual (Y) da empresa TOFER RADO, em milhões de reais, e o respectivo gasto anual com propaganda (X), em milhões de reais. Um modelo de regressão linear simples $Y_t = \alpha + \beta X_t + \varepsilon$, $t = 1, 2, \dots$ foi elaborado para se prever Y em função de X, considerando as informações registradas, em que Y_1 e X_1 são o faturamento e o gasto com propaganda em 2012, Y_2 e X_2 são o faturamento e o gasto com propaganda em 2013, e assim por diante. Os parâmetros α e β são desconhecidos e ε é o erro aleatório com as respectivas hipóteses do modelo de regressão linear simples.

As estimativas de α e β foram obtidas pelo método dos mínimos quadrados, e sabe-se que o valor da soma dos faturamentos e dos gastos com propaganda de 2012 a 2021 foram, em milhões de reais, iguais a 120 e 15, respectivamente.

Julgue os itens seguintes

67. Se a estimativa do coeficiente angular da reta obtida por meio do método dos mínimos quadrados foi de 1,8, então o valor de α é superior a 10 milhões
68. Se a estimativa do coeficiente angular da reta obtida por meio do método dos mínimos quadrados foi de 1,8, então a previsão do faturamento em um determinado ano, uma vez que a empresa gastou com propaganda neste ano 2 milhões de reais, é superior a 13 milhões

Determinado estudo considerou um modelo de regressão linear simples na forma

$y_i = \beta_0 + \beta_1 x_i + \varepsilon_i$, em que y_i representa a quantidade de casos de câncer no pulmão no município i ; x_i representa um indicador de quantidade de fumantes referente a esse mesmo município i , para $i = 1, \dots, n$. A componente ε_i representa um erro aleatório com média 0 e variância σ^2 . A tabela a seguir mostra a tabela ANOVA resultante do ajuste desse modelo pelo método dos mínimos quadrados ordinários.

Fonte de Variação	Soma dos Quadrados	Graus de Liberdade	Média dos Quadrados	Razão F
Modelo	900	1	900	90
Erro	100	10	10	
Total	1.000	11		

A partir das informações e da tabela apresentadas, julgue os itens subsequentes.

69. O estudo em questão se referiu a um conjunto com $n = 11$ municípios
70. A correlação linear entre o número de casos de câncer (y) e a quantidade de fumantes (x) foi superior a 1,2.
71. A variância amostral do número de casos de câncer foi superior a 90.

CONTABILIDADE

Wiliam Notário

A empresa Notario's tinha em seus controles, no dia 31/08/2021, o valor a receber de R\$ 10.000,00 por serviços prestados aos seus clientes no mês anterior.

A respeito da situação hipotética apresentada, julgue o próximo item.

72. Se a empresa receber uma das duplicatas, no valor de R\$ 1.000,00, antes do vencimento e conceder um desconto por essa razão, a correta contabilização do fato irá aumentar a situação líquida da empresa.

Com relação aos procedimentos técnicos do Comitê de Pronunciamentos Contábeis (CPC), julgue o item a seguir.

73. Valor contábil é o montante pelo qual o ativo está reconhecido no balanço depois da dedução de toda respectiva depreciação, amortização ou exaustão acumulada e ajuste para perdas.

Julgue os próximos itens, relativos aos procedimentos adotados na escrituração contábil.

74. As contas adiantamento de clientes e de salários possuem a mesma natureza.

75. A contabilização de uma compra de mercadorias com pagamento à vista e imposto a recuperar se dá através da terceira fórmula de lançamento contábil.

76. Um evento que altera a equação fundamental da contabilidade pode não ser um fato contábil.

77. A compra de um imóvel à vista altera a composição dos elementos do patrimônio, sem alterar a situação líquida patrimonial.

Com relação aos conceitos básicos de contabilidade, julgue os itens a seguir.

78. A contabilidade tem por objetivo fornecer informações úteis para auxiliar no processo decisório.

79. O objeto da contabilidade é apresentado no conjunto de bens e direitos da empresa e suas obrigações.

80. Uma empresa que possua capital de terceiros no valor de R\$ 600,00 e capital próprio de R\$ 500,00, terá um ativo total superior a R\$ 1.000,00.

Com relação às demonstrações contábeis, julgue os itens que se seguem.

81. Nos investimentos, serão apresentadas as participações permanentes em outras sociedades e os direitos de qualquer natureza, não classificáveis no ativo circulante, e que não se destinem à manutenção da atividade da companhia ou da empresa.

82. A demonstração do resultado do exercício irá apresentar a receita bruta das vendas e serviços, as deduções das vendas, os abatimentos e os impostos.

Determinada empresa apresentou as seguintes informações de uma compra do período de 2020:

Valor das mercadorias R\$ 100.000,00

Valor do IPI destacado R\$ 10.000,00

ICMS de 12%

Considerando que a transação não implicou em outros custos e o pagamento foi à vista, julgue os próximos itens.

83. O custo líquido da aquisição das mercadorias será de R\$ 88.000,00.

INFORMÁTICA

Emanuelle Gouveia

84. Convém que todo o tráfego da rede passe por firewall, uma vez que a eficácia da segurança proporcionada por esse dispositivo será comprometida caso existam rotas alternativas para acesso ao interior da referida rede. Por isso, é tão importante o mapeamento correto das máquinas para que isso não gere um gargalo na rede.

- 85.** A infecção de um sistema por códigos maliciosos só pode ocorrer por meio da execução de arquivos infectados obtidos de anexos de mensagens eletrônicas, de mídias removíveis, de páginas web comprometidas ou diretamente de outros equipamentos.
- 86.** Ao se preparar uma mensagem para envio por meio de um correio eletrônico, o usuário anexou dois ou mais arquivos em uma mesma mensagem, dessa forma é possível os arquivos tenham formatos, tipos diferentes e tamanhos diferentes.
- 87.** A intranet é uma rede que permite acesso externo controlado, para negócios específicos ou propósitos educacionais, sendo considerada uma extensão da rede local de uma organização, disponibilizada para usuários em geral.
- 88.** O shell e o kernel são duas partes essenciais do sistema operacional Linux: o primeiro serve para controlar os dispositivos do computador, e o segundo, para interpretar os comandos do usuário
- 89.** No Windows, todos os arquivos de usuários que não requeiram segurança não precisam estar associados a uma das bibliotecas padrão (Documentos, Músicas, Imagens e Vídeos), haja vista que é possível criar novas bibliotecas para outras coleções.
- 90.** No Excel, o uso de referências absolutas com auxílio do sinal \$ (cifrão) garante que uma fórmula possa ser alterada quando for copiada.
- 91.** Na edição de um documento no Microsoft Word, a inserção de recuos nos parágrafos só pode ser feita por meio da barra de espaço do teclado, uma vez que nem sempre a régua está visível.
- 92.** O protocolo UDP é geralmente utilizado em transmissão de dados que exigem alto grau de segurança por ele ser um protocolo confiável

- 93.** O backdoor é um ataque que busca facilitar o retorno do atacante sem que o mesmo seja detectado pelos recursos de segurança vigentes na rede em questão.

MEDICINA LEGAL

Alexandre Herculano

- 94.** Julgue o item abaixo com base nos sinais encontrados nos afogados.

Os sinais externos são provenientes, em quase sua totalidade, da permanência do cadáver dentro da água e dos sinais vitais do corpo dentro da massa líquida. Como exemplo, a temperatura baixa da pele. Os cadáveres dos afogados baixam a temperatura mais rapidamente devido ao equilíbrio térmico mais fácil no meio líquido. Esse sinal só não tem valor se o cadáver for retirado imediatamente da água.

- 95.** Julgue o item abaixo com base nos Documentos Médico-legais

Os documentos que podem interessar à Justiça, são: as notificações, os atestados, os prontuários, os relatórios e os pareceres; além desses, os esclarecimentos não escritos no âmbito dos tribunais, constituídos pelos depoimentos orais.

- 96.** Julgue o item abaixo com base na Traumatologia Forense.

João, após ser agredido pelo seu colega de trabalho, Pedro, ficou incapacitado de voltar ao trabalho por 22 dias, devido fratura no osso. Nesse caso, Pedro responderá por lesão corporal grave.

- 97.** Julgue o item abaixo com base na Traumatologia Forense.

Os meios ou instrumentos de ação cortante agem através de um gume mais ou menos afiado, por um mecanismo de deslizamento sobre os tecidos e, na maioria das vezes, em sentido linear

98. Julgue o item abaixo com base na Traumatologia Forense.

Quando uma equimose se apresenta em forma de pequenos grãos chamamos de petéquias.

99. Julgue o item abaixo com base na Traumatologia Forense.

O encravamento caracteriza-se pela penetração de um objeto de grande eixo longitudinal, na maioria das vezes consistente e delgado, no ânus ou na região perineal.

100. Julgue o item abaixo com base na Tanatologia Forense.

Um dos objetivos primordiais do estudo da Tanatologia Médico-Legal é estabelecer o diagnóstico da causa jurídica da morte na busca de determinar as hipóteses de homicídio, suicídio ou acidente.



Estratégia
Concursos

Preencha o Gabarito

<https://bit.ly/Simulado-PC-SE-Agente-11-09-21>

NÃO É ASSINANTE?

Confira nossos planos, tenha acesso a milhares de cursos e participe gratuitamente dos projetos exclusivos. Clique no link!

<https://bit.ly/Estrategia-Assinaturas>

CONHEÇA NOSSO SISTEMA DE QUESTÕES!

Estratégia Questões nasceu maior do que todos os concorrentes, com mais questões cadastradas e mais soluções por professores. Clique no link e conheça!

<https://bit.ly/Sistemas-de-Questões>