



2° SIMULADO

PRF

PÓS-EDITAL



Estratégia
Concursos

Simulado Especial

2º Simulado Polícia Rodoviária Federal

Nome: _____

INFORMAÇÕES SOBRE O SIMULADO EXCLUSIVO

- 1 – Este simulado conta com questões focadas no concurso da PRF;
- 2 – A prova contém **120 itens** que abordam conhecimentos cobrados no edital do concurso;
- 3 – As questões são inéditas e foram elaboradas pelos nossos professores com base no perfil da banca organizadora CESPE/CEBRASPE, com assertivas para serem valoradas como “certo” ou “errado”.
- 4 – Este PDF foi enviado por e-mail, disponibilizado na área do aluno e em um artigo publicado no blog do Estratégia Concursos;
- 5 – Os participantes têm das **8:30 às 13:00** para responder às questões e preencher o Gabarito Eletrônico;
- 6 – O link para preencher o formulário com seu gabarito está localizado na última página deste PDF;
- 7 – O Gabarito do Simulado e o Ranking Classificatório com nota serão divulgados no blog do Estratégia Concursos.
- 8 – Esse simulado é uma autoavaliação! Você mesmo(a) vai corrigir, a partir do padrão de respostas disponível na área do aluno.

PREENCHA SEU GABARITO NO LINK - <http://bit.ly/Simulado-PRF-31-01>

01 – <input type="radio"/> C <input type="radio"/> E	25 – <input type="radio"/> C <input type="radio"/> E	49 – <input type="radio"/> C <input type="radio"/> E	73 – <input type="radio"/> C <input type="radio"/> E	97 – <input type="radio"/> C <input type="radio"/> E
02 – <input type="radio"/> C <input type="radio"/> E	26 – <input type="radio"/> C <input type="radio"/> E	50 – <input type="radio"/> C <input type="radio"/> E	74 – <input type="radio"/> C <input type="radio"/> E	98 – <input type="radio"/> C <input type="radio"/> E
03 – <input type="radio"/> C <input type="radio"/> E	27 – <input type="radio"/> C <input type="radio"/> E	51 – <input type="radio"/> C <input type="radio"/> E	75 – <input type="radio"/> C <input type="radio"/> E	99 – <input type="radio"/> C <input type="radio"/> E
04 – <input type="radio"/> C <input type="radio"/> E	28 – <input type="radio"/> C <input type="radio"/> E	52 – <input type="radio"/> C <input type="radio"/> E	76 – <input type="radio"/> C <input type="radio"/> E	100 – <input type="radio"/> C <input type="radio"/> E
05 – <input type="radio"/> C <input type="radio"/> E	29 – <input type="radio"/> C <input type="radio"/> E	53 – <input type="radio"/> C <input type="radio"/> E	77 – <input type="radio"/> C <input type="radio"/> E	101 – <input type="radio"/> C <input type="radio"/> E
06 – <input type="radio"/> C <input type="radio"/> E	30 – <input type="radio"/> C <input type="radio"/> E	54 – <input type="radio"/> C <input type="radio"/> E	78 – <input type="radio"/> C <input type="radio"/> E	102 – <input type="radio"/> C <input type="radio"/> E
07 – <input type="radio"/> C <input type="radio"/> E	31 – <input type="radio"/> C <input type="radio"/> E	55 – <input type="radio"/> C <input type="radio"/> E	79 – <input type="radio"/> C <input type="radio"/> E	103 – <input type="radio"/> C <input type="radio"/> E
08 – <input type="radio"/> C <input type="radio"/> E	32 – <input type="radio"/> C <input type="radio"/> E	56 – <input type="radio"/> C <input type="radio"/> E	80 – <input type="radio"/> C <input type="radio"/> E	104 – <input type="radio"/> C <input type="radio"/> E
09 – <input type="radio"/> C <input type="radio"/> E	33 – <input type="radio"/> C <input type="radio"/> E	57 – <input type="radio"/> C <input type="radio"/> E	81 – <input type="radio"/> C <input type="radio"/> E	105 – <input type="radio"/> C <input type="radio"/> E
10 – <input type="radio"/> C <input type="radio"/> E	34 – <input type="radio"/> C <input type="radio"/> E	58 – <input type="radio"/> C <input type="radio"/> E	82 – <input type="radio"/> C <input type="radio"/> E	106 – <input type="radio"/> C <input type="radio"/> E
11 – <input type="radio"/> C <input type="radio"/> E	35 – <input type="radio"/> C <input type="radio"/> E	59 – <input type="radio"/> C <input type="radio"/> E	83 – <input type="radio"/> C <input type="radio"/> E	107 – <input type="radio"/> C <input type="radio"/> E
12 – <input type="radio"/> C <input type="radio"/> E	36 – <input type="radio"/> C <input type="radio"/> E	60 – <input type="radio"/> C <input type="radio"/> E	84 – <input type="radio"/> C <input type="radio"/> E	108 – <input type="radio"/> C <input type="radio"/> E
13 – <input type="radio"/> C <input type="radio"/> E	37 – <input type="radio"/> C <input type="radio"/> E	61 – <input type="radio"/> C <input type="radio"/> E	85 – <input type="radio"/> C <input type="radio"/> E	109 – <input type="radio"/> C <input type="radio"/> E
14 – <input type="radio"/> C <input type="radio"/> E	38 – <input type="radio"/> C <input type="radio"/> E	62 – <input type="radio"/> C <input type="radio"/> E	86 – <input type="radio"/> C <input type="radio"/> E	110 – <input type="radio"/> C <input type="radio"/> E
15 – <input type="radio"/> C <input type="radio"/> E	39 – <input type="radio"/> C <input type="radio"/> E	63 – <input type="radio"/> C <input type="radio"/> E	87 – <input type="radio"/> C <input type="radio"/> E	111 – <input type="radio"/> C <input type="radio"/> E
16 – <input type="radio"/> C <input type="radio"/> E	40 – <input type="radio"/> C <input type="radio"/> E	64 – <input type="radio"/> C <input type="radio"/> E	88 – <input type="radio"/> C <input type="radio"/> E	112 – <input type="radio"/> C <input type="radio"/> E
17 – <input type="radio"/> C <input type="radio"/> E	41 – <input type="radio"/> C <input type="radio"/> E	65 – <input type="radio"/> C <input type="radio"/> E	89 – <input type="radio"/> C <input type="radio"/> E	113 – <input type="radio"/> C <input type="radio"/> E
18 – <input type="radio"/> C <input type="radio"/> E	42 – <input type="radio"/> C <input type="radio"/> E	66 – <input type="radio"/> C <input type="radio"/> E	90 – <input type="radio"/> C <input type="radio"/> E	114 – <input type="radio"/> C <input type="radio"/> E
19 – <input type="radio"/> C <input type="radio"/> E	43 – <input type="radio"/> C <input type="radio"/> E	67 – <input type="radio"/> C <input type="radio"/> E	91 – <input type="radio"/> C <input type="radio"/> E	115 – <input type="radio"/> C <input type="radio"/> E
20 – <input type="radio"/> C <input type="radio"/> E	44 – <input type="radio"/> C <input type="radio"/> E	68 – <input type="radio"/> C <input type="radio"/> E	92 – <input type="radio"/> C <input type="radio"/> E	116 – <input type="radio"/> C <input type="radio"/> E
21 – <input type="radio"/> C <input type="radio"/> E	45 – <input type="radio"/> C <input type="radio"/> E	69 – <input type="radio"/> C <input type="radio"/> E	93 – <input type="radio"/> C <input type="radio"/> E	117 – <input type="radio"/> C <input type="radio"/> E
22 – <input type="radio"/> C <input type="radio"/> E	46 – <input type="radio"/> C <input type="radio"/> E	70 – <input type="radio"/> C <input type="radio"/> E	94 – <input type="radio"/> C <input type="radio"/> E	118 – <input type="radio"/> C <input type="radio"/> E
23 – <input type="radio"/> C <input type="radio"/> E	47 – <input type="radio"/> C <input type="radio"/> E	71 – <input type="radio"/> C <input type="radio"/> E	95 – <input type="radio"/> C <input type="radio"/> E	119 – <input type="radio"/> C <input type="radio"/> E
24 – <input type="radio"/> C <input type="radio"/> E	48 – <input type="radio"/> C <input type="radio"/> E	72 – <input type="radio"/> C <input type="radio"/> E	96 – <input type="radio"/> C <input type="radio"/> E	120 – <input type="radio"/> C <input type="radio"/> E

PORTUGUÊS

Janaína Arruda

Texto I

Saint-Hilaire, viajando pelo Brasil em princípio do século XIX, notará, com a acuidade de sua visão, a extrema mobilidade da população brasileira. A preocupação dominante das zonas novas já existia então: emigrava-se às vezes por nada, e com simples e vagas esperanças de outras perspectivas. Todo mundo imaginava sempre que havia um ponto qualquer em que se estaria melhor que no presente. Pensamento arraigado e universal que nada destruía, nem experiências nem fracassos sucessivos. Isto que impressionava o viajante francês, habituado a um continente em que havia séculos o povoamento se estabilizara, é a feição natural de todo território semivirgem da presença humana, onde a maior parte da área ainda está por ocupar e onde as formas de atividade mais convenientes para o homem ainda não foram encontradas; onde, em uma palavra, o indivíduo não se ajustou bem ao seu meio, compreendendo-o e dominando-o.

Idem, *ibidem*, p. 1.179 (com adaptações)

01. O uso do verbo “notará”, no início do texto, destaca uma ação que ainda estava por acontecer e que não pode ser comprovada ao longo do texto como factual.
02. No trecho “Todo mundo imaginava sempre que havia um ponto qualquer em que se estaria melhor que no presente”, a substituição de “em que” por “no qual” mantém a correção gramatical do período.
03. Em “compreendendo-o e dominando-o”, no final do texto, as duas ocorrências de “o” retomam o antecedente “indivíduo”.
04. A expressão “com a acuidade de sua visão”, no início do texto, apresenta sentido de modo.
05. A palavra SE em “emigrava-se às vezes por nada” é uma partícula que indetermina o sujeito da oração.

*Todo mundo imaginava sempre que havia um ponto qualquer em que se estaria **melhor que no presente**.*

06. A inserção do termo DO depois de “melhor” não causaria incorreção gramatical ao trecho, embora seu sentido seja alterado.
07. No trecho “Pensamento arraigado e universal que nada destruía, nem experiências nem fracassos sucessivos” as duas ocorrências do termo “nem” indicam uma alternância de sentidos para os termos.

Texto II

Na época atual, embora a avareza ou o ócio devam continuar merecendo a nossa condenação, no seio dos detentores da riqueza (ou dos que se proponham a alcançá-la), há uma figura digna de ser exaltada: o empresário. Pela razão muito simples de que agora estamos diante de uma sociedade de abundância (ao contrário da sociedade primitiva, vitimada pela escassez) e a única maneira de a imensa maioria ter acesso à variada gama de bens e serviços disponíveis na sociedade é por intermédio do emprego. E ainda que a busca da riqueza pelo empresário não vise diretamente ao bem-estar geral, ao propiciar novos empregos, ele está desempenhando função primordial na economia.

Antonio Paim. Op. cit., p.290 (com adaptações)

08. A expressão “a nossa condenação”, presente no início do texto, desempenha a função de sujeito da locução “devam continuar merecendo”.
09. No trecho entre parênteses “ou dos que se proponham a alcançá-la” o deslocamento do pronome “se” para depois da forma verbal “proponham” causaria incorreção gramatical ao período.
10. O trecho “e a única maneira de a imensa maioria ter acesso à variada gama de bens e serviços disponíveis” poderia ser corretamente reescrito, sem qualquer prejuízo gramatical da seguinte forma: e a única maneira da imensa maioria ter acesso às variadas gamas de bens e serviços disponíveis.

11. Os termos “estar” e “geral” são adjuntos do substantivo “bem” na expressão “não vise diretamente ao bem-estar geral”.

12. No trecho “(ou dos que se proponham a alcançá-la)” existe a ocorrência de pronome demonstrativo.

13. Seria correta a substituição de “e agora estamos diante de uma sociedade de abundância” por “e agora estamos frente a uma sociedade de abundância”.

14. O verbo “desempenhando” no final do texto apresenta sentido de continuidade, uma ação que ainda está em processo.

Texto III

Com a pressão vinda de todos os lados, é natural que, em um dado momento ou em outro, passe pela cabeça da maioria das pessoas a ambição de largar tudo e ir viver uma vida tranquila em outro lugar. Mudar de vida pode ser uma excelente solução para a tensão, dependendo evidentemente da vida que se leva. Qualquer decisão nesse sentido, porém, deve levar em conta um fato da natureza: ninguém pode evitar completamente situações estressantes. O estresse não é doença, e, sim, uma reação instintiva ao perigo real ou imaginário ou a uma situação de desafio. “Uma cascata bioquímica que prepara o corpo para lutar ou fugir”, na definição do manual de técnicas para aliviar o estresse, elaborado pela Escola de Medicina de Harvard, um centro de excelência nos Estados Unidos da América.

O reflexo automático diante do perigo foi implantado em nossos genes para evitar que sejamos feridos ou coisa pior. Sem ele, teria sido impossível a sobrevivência da espécie.

O estresse não é necessariamente negativo. O aumento gradativo da adrenalina melhora o desempenho físico e intelectual de maneira estrondosa — afinal, é para isso mesmo que serve. Quando bem usado, ele ajuda a superar desafios. É a adrenalina — um dos hormônios do estresse — que faz com que atletas consigam superar limites em uma competição ou que consultores de multinacionais terminem um projeto em tempo recorde.

Veja, fev./2004 (com adaptações)

15. Ao substituir a expressão “que se leva”, no primeiro parágrafo, por **que levamos**, é mantida a correção do texto.

16. No trecho “O estresse não é doença, e, sim, uma reação instintiva ao perigo real ou imaginário ou a uma situação de desafio” a conjunção “e” apresenta valor aditivo.

17. O termo “estrondosa” no último parágrafo tem função de qualificar “adrenalina”.

18. No último parágrafo, o gênero empregado em “usado” indica que o sujeito subentendido de “serve”, na oração anterior, é estresse.

19. Ainda no último parágrafo, o texto emprega o modo subjuntivo em “consigam” por exigência do emprego de “Quando” iniciando o período anterior.

20. No trecho “Qualquer decisão nesse sentido, porém, deve levar em conta um fato da natureza” desempenha papel conclusivo na oração.

RACIOCÍNIO LÓGICO

Carlos Henrique

21. Tendo como referência as funções $f(x) = 2x^2 - 16x + 24$ e $g(x) = 3x^2 - 12$ em que $-\infty < x < +\infty$, julgue o item que se segue.

A função $f(x)$ é par.

22. Tendo como referência as funções $f(x) = 2x^2 - 16x + 24$ e $g(x) = 3x^2 - 12$ em que $-\infty < x < +\infty$, julgue o item que se segue.

O valor máximo da função $f(x)$ ocorre em $x = 4$.

23. Tendo como referência as funções $f(x) = 2x^2 - 16x + 24$ e $g(x) = 3x^2 - 12$ em que $-\infty < x < +\infty$, julgue o item que se segue.

A função $f(x)$ é crescente no intervalo $[4; +\infty)$.

24. Tendo como referência as funções $f(x) = 2x^2 - 16x + 24$ e $g(x) = 3x^2 - 12$ em que $-\infty < x < +\infty$, julgue o item que se segue.

A funções $f(x)$ e $g(x)$ se interceptam em dois pontos distintos.

25. Tendo como referência as funções $f(x) = 2x^2 - 16x + 24$ e $g(x) = 3x^2 - 12$ em que $-\infty < x < +\infty$, julgue o item que se segue.

O valor mínimo da função $g(x)$ é -12.

26. Um estudo constatou que a população de uma comunidade é expressa pela função $P(t) = 2.000e^{0,2t}$, em que $P(t)$ é a população t anos após a contagem inicial, que ocorreu em determinado ano, e considerado $t = 0$. Com referência a esse estudo e considerando 1,22 como o valor aproximado para $e^{0,2}$, julgue o item a seguir.

A população será superior a 5400 indivíduos 5 anos após a contagem inicial.

27. Um estudo constatou que a população de uma comunidade é expressa pela função $P(t) = 2.000e^{0,2t}$, em que $P(t)$ é a população t anos após a contagem inicial, que ocorreu em determinado ano, e considerado $t = 0$. Com referência a esse estudo e considerando 1,22 como o valor aproximado para $e^{0,2}$, julgue o item a seguir.

A população inicial é superior a 2000.

28. Um estudo constatou que a população de uma comunidade é expressa pela função $P(t) = 2.000e^{0,2t}$, em que $P(t)$ é a população t anos após a contagem inicial, que ocorreu em determinado ano, e considerado $t = 0$. Com referência a esse estudo e considerando 1,22 como o valor aproximado para $e^{0,2}$, julgue o item a seguir.

A função $P(t)$ é decrescente.

INFORMÁTICA

Ranielison Passos

Acerca de sistemas Windows e Linux, julgue o item a seguir.

29. O processo de dual boot é necessário quando em um computador o usuário queira executar simultaneamente aplicativos nos sistemas operacionais Linux e Windows.

A respeito de segurança computacional, ferramentas de navegação e pesquisas em rede, julgue os itens a seguir.

30. Ferramentas antivírus possuem diversas técnicas de segurança, uma delas é a chamada detecção heurística, que encontra os malwares através da análise do comportamento anômalo ou malicioso de um software.

31. Durante uma pesquisa na internet, utilizando o motor de buscas Google, a partir do navegador Mozilla Firefox, o usuário digitou no campo destinado a pesquisa a expressão Estratégia -Concursos e ao final da digitação o usuário clicou em Pesquisa Google. Após essas ações o programa retornará todos os resultados encontrado com a palavra Estratégia, mas eliminará sites que contenham a palavra Concursos.

32. Afetar o desempenho de máquinas computacionais e de redes locais pode ser consequência da infecção por um Worm.

Sobre os fundamentos e conceitos de Big Data e transformação digital IoT, avalie os itens abaixo.

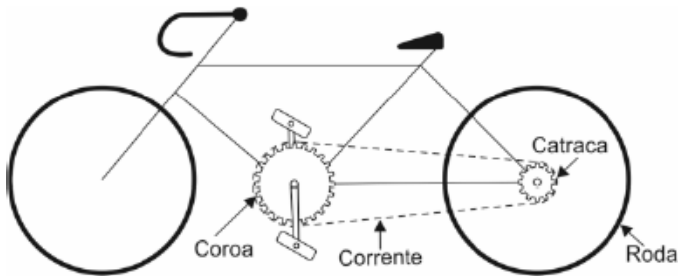
33. Dentre os elementos importantes para a Big Data está o volume de dados, porém a qualidade dos dados em Big Data não são relevantes, pois é possível transformá-los a qualquer momento.

34. Em uma residência, caracteriza uma solução de IoT a instalação de um detector de fumaças capaz de gerar alertas em caso de fumaça e ser acionado, a partir de um smartphone, para iniciar um mecanismo de reação.

FÍSICA

Vinicius Silva


Em uma bicicleta, os raios da roda, coroa e catraca são, respectivamente, iguais a 20 cm, 7,5 cm e 2,5 cm. Maria, uma ciclista que está utilizando a bicicleta consegue dar 3 pedaladas por segundo, sendo cada pedalada correspondente a uma volta completa.



Considerando essa situação hipotética, julgue os próximos itens, assumindo que π seja igual a 3.

- 35. A velocidade angular da catraca é superior a 50 rad/s.
- 36. A velocidade escalar da bicicleta é superior a 10m/s.


Três corpos A, B e C de massas $m_A = 2$ kg, $m_B = 6$ kg e $m_C = 12$ kg estão apoiados numa superfície horizontal perfeitamente lisa. A força horizontal F , de intensidade constante $F = 100$ N, é aplicada ao primeiro bloco A.



Julgue os itens seguintes:

- 37. a intensidade da força que A exerce em B é superior a 80 N;
- 38. a intensidade da força que B exerce em C é igual a 50 N .

No edifício do ESTRATÉGIA CONCURSOS há um bonito elevador e no assoalho dele há uma balança. Joãozinho possui 90 kg e está sobre a balança. Adote $g = 10$ m/s



Julgue os itens a seguir:

- 39. Se o elevador subir acelerado com aceleração de 3 m/s², então a marcação da balança será superior a 1100 N
- 40. Se o elevador descer acelerado com aceleração de 4 m/s², então a marcação da balança será superior a 600 N

ÉTICA E CIDADANIA

Tiago Zanolla

A respeito de ética, princípios e valores, julgue os itens seguintes:

- 41. Integridade é uma qualidade atribuída a uma pessoa honesta e incorruptível, as quais são também atribuídas ao Estado.
- 42. Axiologia é o estudo dos valores.
- 43. Os princípios são normas que prescrevem imperativamente uma exigência que é ou não é cumprida.

44. Valores orientam as atitudes que, por sua vez, orientam o comportamento ético e classificam a conduta.

45. O conceito ético de que os comportamentos morais são aqueles que produzem o maior bem a um número maior de indivíduos segue a abordagem utilitária.

GEOPOLÍTICA

Leandro Signori

"A estrutura socioeconômica tradicional de base rural começa a ser modificada a partir de 1930 com a implantação da industrialização que representou um novo e dinâmico movimento na formação territorial brasileira de natureza diferenciada e capaz de promover a inexistente integração produtiva e a complementaridade inter-regional, consolidando os contornos atuais do mapa político do Brasil."

(Brasil: uma visão geográfica e ambiental no início do século XXI. Adma Hamam de Figueiredo (org.) - Rio de Janeiro: IBGE, Coordenação de Geografia, 2016.)

Acerca da organização do espaço brasileiro e das atividades econômicas desenvolvidas no território nacional ao longo da história e na atualidade, julgue os itens subsequentes:

46. A modernização da agricultura brasileira está relacionada a um rearranjo técnico-econômico e territorial da produção, que se especializa em determinados produtos e se concentra em determinados lugares no território.

47. A construção de Brasília simboliza o esforço pela difusão produtiva da indústria na totalidade do território nacional, pela angariação de capital externo e formação de um mercado interno, pela substituição de importações, somada à difusão do modo de vida

tipicamente urbano na hinterlândia territorial nacional.

48. A materialização de ciência e da tecnologia no território se efetua de forma mais expressiva na região concentrada, onde estão presentes a maioria dos centros industriais e financeiros do país, além de uma variada disponibilidade serviços de modernos e de ponta, características que definem e delimitam uma nítida divisão territorial do trabalho no país.

49. A queda no crescimento industrial dos tradicionais centros brasileiros, verificada após a década de 70, ocasionou na perda da importância do Sudeste como centro de comando do território brasileiro, gerando uma nova divisão produtiva nacional.

50. A economia brasileira atual é marcada por áreas contínuas ao longo de todo território, dotadas de infraestruturas construídas com dinheiro público, mas feitas para o serviço das grandes empresas hegemônicas, conformando um uso seletivo do território.

LÍNGUA ESTRANGEIRA (Inglês)

Adinoél Sebastião

Vice-president [Kamala Harris](#) and her husband, Douglas Emhoff, were escorted at Wednesday's inauguration ceremony by Eugene Goodman, the Capitol police officer hailed as a hero for single-handedly leading the mob that broke into the Capitol two weeks ago away from the Senate chamber.

Goodman has also been promoted to acting deputy sergeant-at-arms for the Senate, one of the most prominent positions in the Capitol Hill security force, according to an official announcement at the ceremony.

Goodman won praise for confronting a mob of Donald Trump supporters that broke into the Capitol on 6 January in an effort to stop the certification of Joe Biden's presidential victory.

As the mob bore down on the closed doors leading to the Senate chamber, from which it was believed that not

all members of Congress had yet been evacuated, Goodman intercepted the crowd.

He engaged the leaders of the group and – when they pushed forward – he retreated down an adjacent hallway, leading the mob away from the chamber.

Elsewhere in the Capitol that day, insurrectionists beat another officer to death, and dozens of officers were injured. In the weeks since the incursion, evidence has emerged that some insurrectionists had come with a serious intention to harm or kidnap lawmakers.

Members of Congress from both parties have called for Goodman to receive a Congressional Gold Medal. The decoration has traditionally been used to recognize members of the military for distinguished service.

<https://www.theguardian.com/us-news/2021/jan/20/eugene-goodman-capitol-police-officer-inauguration-hero>

Considering the text above, judge the following items.

51. According to the text, the Capitol has a long history of heroes that fight against mobs that have invaded it.

52. The authors of the text state that Goodman got a promotion.

53. The pronoun “that” (third paragraph) refers to the antecedent “Goodman” (third paragraph).

54. In “As the mob bore down on the closed doors leading to the Senate chamber” (paragraph 4), the word “mob” can be substituted by the word **horde** without substantially changing the meaning of the sentence.

55. The authors of the text state that during the insurrection one officer died and twelve were injured.

LEGISLAÇÃO DE TRÂNSITO

Alexandre Herculano

Conforme a Resolução CONTRAN nº 740/2018, que dispõe sobre as metas de redução dos índices de mortos por grupo de veículos e dos índices de mortos por grupo de habitantes, julgue os próximos itens.

56. É incorreto afirmar que será admitida a tolerância de 0,5 ponto percentual da meta apurada para cada ano avaliado.

57. As metas poderão ser revisadas pelo Denatran a cada semestre a partir da obtenção dos dados estatísticos reais de mortalidade no trânsito coletados nos Estados e no Distrito Federal, tratados e consolidados pelos respectivos órgãos ou entidades executivos de trânsito, e pela Polícia Rodoviária Federal em âmbito nacional.

Com base na Resolução CONTRAN nº 780/2019, que dispõe sobre o novo sistema de Placas de Identificação Veicular, julgue os itens abaixo.

58. Compete ao Departamento Nacional de Trânsito – DENATRAN aplicar as sanções administrativas aos estampadores credenciados no âmbito de sua circunscrição, registrando e informando em seu sítio eletrônico as sanções aplicadas.

59. Estampador de Placa de Identificação Veicular – PIV é a empresa credenciada pelo órgão ou entidade executiva de trânsito dos Estados e do Distrito Federal (DETRAN), em sistema informatizado do DENATRAN, para exercer, exclusivamente, o serviço de acabamento final das PIV e a comercialização com os proprietários dos veículos

Acerca do Anexo I da Resolução CONTRAN nº 789/2020, julgue os itens.

60. Não está errado afirmar que para conduzir um semirreboque especialmente projetado para uso exclusivo de veículos de duas ou três rodas, o condutor deve necessariamente ser habilitado na Categoria A.

61. Situação hipotética. Determinada combinação de veículo elétrico é composta de uma unidade tratora enquadrada na categoria B e de um reboque. A soma do peso bruto total das duas unidades não excede a 3.500 kg. **Assertiva.** É correto afirmar que só pode conduzir tal veículo um condutor habilitado na Categoria E.

Considerando a Resolução CONTRAN nº 798/2020, analise as assertivas seguintes.

62. Os medidor de velocidade do tipo portátil é um medidor de velocidade com registro de imagem, podendo ser instalado em viatura caracterizada estacionada, em tripé, suporte fixo ou manual, usado ostensivamente como controlador em via ou em seu ponto específico, que apresente limite de velocidade igual ou superior a 80 km/h.

63. Considera-se trecho crítico o segmento de via inscrito em área circular que concentre número de acidentes com mortes e lesões no trânsito considerado significativo pela autoridade de trânsito com circunscrição sobre a via, cujo raio é de: 2.500 m (dois mil e quinhentos metros) nas vias rurais; e 500 m (quinhentos metros) nas vias urbanas ou rurais com características urbanas.

Segundo o texto da Resolução CONTRAN nº 803/2020, julgue os itens subsecutivos.

64. É correto afirmar que a medição do comprimento dos veículos do tipo guindaste deverá tomar como base a ponta da lança e o suporte dos contrapesos.

65. Na fiscalização de peso dos veículos por balança rodoviária serão admitidas as tolerâncias de 10% sobre os limites de pesos regulamentares para o peso bruto total (PBT) e peso bruto total combinado (PBTC) e de 5% sobre os limites de peso regulamentares por

eixo de veículos transmitidos à superfície das vias públicas.

Conforme a Resolução CONTRAN nº 806/2020, que estabelece a mensagem, os temas e o cronograma da Campanha Educativa de Trânsito de 2021 a ser realizada nacionalmente de janeiro a dezembro de 2021, julgue o próximo item.

66. A mensagem da Campanha Educativa de Trânsito de 2021 deverá obrigatoriamente ser veiculada nos meios de comunicação social em toda peça publicitária destinada à divulgação ou promoção de produtos oriundos da indústria automobilística ou afim.

Nos termos da Resolução CONTRAN nº 809/2020, julgue os itens abaixo.

67. O CRLV-e somente será expedido após a quitação dos débitos não só relativos a tributos, encargos e multas de trânsito e ambientais, vinculados ao veículo, como também ao pagamento do Seguro Obrigatório de Danos Pessoais causados por Veículos Automotores de Via Terrestres (Seguro DPVAT).

68. É facultado aos órgãos executivos de trânsito dos Estados e do Distrito Federal estabelecer outras informações a serem agregadas ao CRLV-e.

Segundo a Resolução CONTRAN nº 810/2020, analise e julgue os itens seguintes.

69. Concomitantemente à lavratura do BAT, a autoridade de trânsito ou seu agente deve avaliar o dano sofrido pelo veículo no acidente, enquadrando-o em dano de pequena monta (DPM) ou sem dano, dano de média monta (DMM) ou dano de grande monta (DGM), assinalando o respectivo campo no "Relatório de Avarias".

70. O veículo sinistrado somente será transferido à companhia seguradora ou às empresas e entidades de compra e venda de veículos sinistrados mediante

apresentação do BAT, do relatório de avarias, das imagens do veículo acidentado, do CRV, e da documentação referente ao processo de indenização, em caso de veículo segurado.

Com relação à Resolução CONTRAN nº 24/1998, julgue os itens a seguir.

71. Além da gravação no chassi ou monobloco, os veículos serão identificados, no mínimo, com os caracteres VIS (número sequencial de produção) podendo ser, a critério do fabricante, como uma das opções, por gravação, na profundidade mínima de 0,2 mm, quando em chapas ou plaqueta colada, soldada ou rebitada, destrutível quando de sua remoção.

72. Além da gravação no chassi ou monobloco, os veículos deverão ser identificados, no mínimo, com os caracteres VIS (número sequencial de produção) previsto na NBR 3 nº 6066, dentre outros compartimentos e componentes, em todos os vidros do veículo, à exceção dos quebra-ventos.

73. Protótipos fabricados para competições esportivas e os tratores, por exemplo, não são veículos dispensados dos critérios de identificação dos veículos regulamentados pela Resolução nº 24/98. É correto afirmar que dispensados dessas regras são apenas as viaturas operacionais das Forças Armadas.

74. A Resolução CONTRAN nº 254/07 estabelece requisitos para os vidros de segurança e critérios para aplicação de inscrições, pictogramas e películas nas áreas envidraçadas dos veículos automotores. De acordo com o regulamentado nessa Resolução e suas atualizações, julgue os itens a seguir.

A área do para-brisa, incluindo a faixa periférica de serigrafia destinada a dar acabamento ao vidro e à área ocupada pela banda degradê, é considerada área envidraçada indispensável à dirigibilidade do veículo.

75. As exigências dessa norma aplicam-se a máquinas agrícolas, rodoviárias e florestais, aos veículos destinados à circulação exclusivamente fora das vias públicas e aos veículos incompletos ou inacabados.

De acordo com a Resolução CONTRAN nº 04/1998, julgue o próximo item.

76. A permissão para o transporte de cargas e pessoas em veículos novos, antes do registro e licenciamento, não se estende aos veículos inacabados (chassis), razão pela qual, se o condutor estivesse em tal situação, deveria ocorrer a apreensão imediata.

77. Se determinado veículo novo, que acaba de sair da fábrica em direção ao município de destino, estiver transportando carga, o PRF que o abordar em uma rodovia deverá se certificar de que tal veículo porta autorização especial indispensável para esse trânsito, impressa em 3 (três) vias. A primeira e a segunda vias deverão ser coladas, respectivamente, no vidro dianteiro (para-brisa), e no vidro traseiro. Já a terceira, arquivada na repartição de trânsito expedidora.

Conforme a Resolução CONTRAN nº 14/1998, julgue o item a seguir.

78. Os itens obrigatórios para os ônibus elétricos em circulação incluem, dentre outros, protetores das rodas dianteiras; retrorefletores (catadióptricos) traseiros, de cor vermelha; lanterna de iluminação de placa traseira, de cor branca; e luzes de posição dianteiras (faroletes) de cor branca ou azul.

Julgue os próximos itens relativos à Resolução CONTRAN nº 92/99.

79. O tacógrafo deverá apresentar e disponibilizar a qualquer momento, dentre outras, as seguintes informações das últimas vinte e quatro horas de operação do veículo: velocidades desenvolvidas, distância percorrida pelo veículo e tempo de movimentação do veículo, incluídas suas interrupções.

Julgue o item a seguir de acordo com a Resolução CONTRAN nº 211/06.

80. A exigência de portar Autorização Especial de Trânsito – AET para circular em vias públicas se dará para Combinações de Veículos de Carga – CVC, com mais de duas unidades, excluída a unidade tratora, que possuam peso bruto total acima de 57 t ou com comprimento total acima de 19,80 m.

Analise o item a seguir e julgue-o, tendo em vista o disposto na Resolução CONTRAN nº 253/07

81. A medição da transmitância luminosa das áreas envidraçadas de veículos deverá ser efetuada por meio de instrumento denominado Medidor de Transmitância Luminosa, o instrumento de medição destinado a medir, em valores percentuais, a transmitância luminosa de vidros, películas, filmes e outros materiais simples ou compostos.

Tendo em vista o disposto na Resolução CONTRAN nº 290/08, julgue o item subsequente.

82. Para efeito de registro, licenciamento e circulação, todos os veículos de tração, de carga e os de transporte coletivo de passageiros deverão ter indicação de suas características registradas para obtenção do CAT – Certificado de Adequação à Legislação de Trânsito.

Julgue o próximo item sobre a Resolução CONTRAN Nº 110/2000

83. O órgão máximo executivo de trânsito da União afixou uma tabela de licenciamento a qual todos os DETRAN deverão observar como referência para a definição dos prazos máximos para licenciamento dos veículos neles registrados. Tais prazos de licenciamento não podem ultrapassar, em nenhuma hipótese, aos estabelecidos pela referida tabela.

Com base na Resolução CONTRAN nº 441/13, julgue o item.

84. O transporte de qualquer tipo de sólido a granel em vias abertas à circulação pública somente será permitido em veículos com carroçarias de guardas laterais fechadas.

85. As cargas transportadas deverão estar totalmente cobertas por lonas ou dispositivos similares, os quais deverão cumprir alguns requisitos fundamentais, tais como possibilidade de acionamento manual, mecânico ou automático, cobrir totalmente a carga transportada de forma eficaz e segura e estar em bom estado de conservação, de forma a evitar o derramamento da carga transportada.

DIREITO ADMINISTRATIVO

Thállius Moraes

Tomando por base a disciplina constitucional e doutrinária atinente aos agentes públicos, julgue os itens a seguir.

86. O servidor público da administração direta, autárquica e fundacional, no exercício de mandato eletivo federal, será afastado do cargo, emprego ou função, sendo-lhe facultado optar pela remuneração do seu cargo ou o subsídio do mandato eletivo.

87. Situação hipotética: Roberval e Roserval, irmãos gêmeos que se preparavam para o concurso da polícia rodoviária federal, discutiam sobre a possibilidade de acumulação de cargos públicos. Roberval afirmava ao irmão que seria possível a acumulação de um cargo técnico com outro de natureza científica. Assertiva:

Está incorreta a afirmação de Roberval, pois tais cargos somente poderiam ser acumulados com outro de professor.

No que se refere ao regramento contido na Lei 8.112/1990, aplicável aos servidores públicos civis da União, julgue os itens a seguir.

88. A reintegração, prevista no próprio texto constitucional, tem lugar quando ocorre inabilitação do servidor público estável em estágio probatório relativo a um novo cargo.

89. Para que seja juridicamente viável a reversão a pedido do servidor público estável, é necessário que a aposentadoria tenha ocorrido dentro dos cinco anos anteriores à solicitação.

90. A penalidade de advertência terá seu registro cancelado após o decurso de dois anos se o servidor não houver, nesse período, praticado nova infração disciplinar.

91. O servidor responderá penalmente em razão de ato omissivo ou comissivo, doloso ou culposo, que resulte em prejuízo ao erário ou a terceiros.

DIREITO CONSTITUCIONAL

Adriane Fauth

A respeito dos direitos e garantias fundamentais, julgue os itens a seguir:

92. Ao tratar dos direitos e garantias fundamentais, a Constituição Federal Brasileira de 1988 estabeleceu que são violáveis a intimidade, a vida privada, a honra e a imagem das pessoas.

93. A prática da tortura, o tráfico ilícito de entorpecentes e drogas afins, o terrorismo e os definidos como crimes hediondos poderão ser considerados crimes inafiançáveis e imprescritíveis.

94. Ninguém será levado à prisão ou nela mantido, quando a lei admitir a liberdade provisória, com ou sem fiança.

95. Ricardo, oficial de justiça, portando determinação judicial para proceder à busca e apreensão de um computador que estava no interior da residência de Diego, só poderá ingressar na residência de Diego para cumprir referido mandado, durante o dia, com o consentimento deste último.

96. Mariana, brasileira naturalizada, praticou o crime de homicídio doloso contra Renata, também brasileira. De acordo com a Constituição Federal, é correto afirmar que Mariana será extraditada em razão do episódio narrado.

97. Os direitos e as garantias expressos na Constituição são absolutos e excluem outros direitos decorrentes

dos tratados internacionais em que a República Federativa do Brasil seja parte.

DIREITO PENAL

Antônio Pequeno

98. A revogação formal do crime de atentado violento ao pudor, anteriormente disposto no art. 214 do CP não configurou *abolitio criminis*, uma vez que o conteúdo material do delito foi mantido em razão da continuidade típico-normativa do fato criminoso.

99. No que se refere às normas e regras de aplicação da lei penal, no tempo e no espaço, julgue o item a seguir:

A regra da ultra-atividade decorre da característica da extra-atividade da lei penal e indica a possibilidade de a lei penal aplicar-se a determinado fato, ainda que já revogada.

100. Acerca do conflito de leis penas no tempo, é correto dizer que não se aplica a *lex gravior* ao crime permanente, se a sua vigência é anterior ao término da permanência.

101. Nos crimes tentados, o lugar do crime não abrange aquele em que se desenvolveram os atos executórios, mas tão somente o local em que deveria produzir-se o resultado.

102. A lei penal brasileira aplica-se ao crime cometido no território nacional, em vista da orientação emanada pelo princípio da territorialidade, admitindo-se também a sua incidência, em determinadas hipóteses em caso de crimes praticados no estrangeiro em face do princípio da extraterritorialidade. Em razão disso, não se admite a aplicação de lei penal estrangeira a um fato cometido dentro do território nacional.

103. Ao crime cometido dentro do Navio-Escola Almirante Tamandaré da marinha do Brasil, ancorado no porto de Xangai, na China, aplica-se a lei brasileira em face do princípio da extraterritorialidade.

DIREITO PROCESSUAL PENAL

Priscila Silveira

Sobre o tema ação penal, julgue os itens 104 a 109 como certo ou errado.

104. A representação do ofendido e a requisição do Ministro da Justiça são condições de procedibilidade da ação penal, ambas indispensáveis ao oferecimento da denúncia pelo Ministério Público no caso de ação penal pública condicionada.

105. Nos crimes de ação penal pública, esta será promovida por denúncia do Ministério Público que não pode desistir da ação penal instaurada.

106. Nos crimes de ação penal pública condicionada, a representação poderá ser realizada pelo ofendido pessoalmente ou por procurador com poderes especiais, não sendo admitida a representação oral.

107. No caso de inércia do Ministério Público para oferecer denúncia, a titularidade da ação penal pública passará ao ofendido que terá 6 meses da data do fato para oferecer queixa-crime substitutiva.

108. Em crime praticado por pluralidade de agentes, que se procede mediante ação penal privada, existindo justa causa contra todos os agentes delitivos, o ofendido não poderá processar apenas um dos autores.

109. Oferecida a denúncia, o ofendido pode perdoar o autor do crime, que precisa se manifestar (aceitá-lo ou recusá-lo) no prazo de três dias, sendo que o silêncio importará aceitação.

LEGISLAÇÃO ESPECIAL

Marcos Girão

Conforme a Lei nº 8.069/1990, que dispõe sobre o Estatuto da Criança e do Adolescente, julgue o item abaixo.

110. É crime previsto no Estatuto da Criança e do Adolescente, sem prejuízo do disposto na legislação penal, privar a criança ou o adolescente de sua liberdade, procedendo à sua apreensão em flagrante de ato infracional, sem que exista ordem escrita da autoridade policial competente.

Com base no texto da Lei nº 9.455/1997 (Crimes de Tortura), julgue os itens subsecutivos.

111. Não está correto afirmar que o agente público condenado por crime de tortura perderá o cargo, função ou emprego público e sofrerá interdição para seu exercício pelo prazo de 5 (cinco) anos.

Quanto à Lei nº 8.072/1990, julgue o item abaixo.

112. A prisão temporária dos acusados por crime hediondo terá o prazo de 30 (trinta) dias, improrrogáveis.

De acordo com a Lei 9.099/1995 (Juizados Especiais Cíveis e Criminais), julgue o item subsecutivo.

113. Nos Juizados Especiais o processo é orientado pelos critérios da oralidade, anterioridade, irretroatividade, economia processual e celeridade, buscando, sempre que possível, a conciliação ou a transação.

Acerca da Lei nº 9.605/1998, que dispõe sobre sanções penais e administrativas derivadas de condutas e atividades lesivas ao meio ambiente, julgue o próximo item.

114. O crime de poluição é admitido nas modalidades tipo de dano e tipo de perigo.

Julgue o item subsecutivo, segundo o que estabelece o Decreto Federal nº 9.662/19.

115. A competência da PRF para planejar e executar medidas de segurança para a escolta dos deslocamentos do Presidente da República, do Vice-Presidente da República, dos Ministros de Estado, dos Chefes de Estado, dos diplomatas estrangeiros e de outras autoridades, quando solicitado pela autoridade competente, se restringe aos deslocamentos realizados nas rodovias e estradas federais.

DIREITOS HUMANOS

Ricardo Torques

Acerca dos Direitos Humanos e a Constituição Federal, julgue:

116. As normas definidoras de direitos individuais possuem aplicação imediata, porém, dependem de norma regulamentadora para que garantias possam ser efetivadas.

117. Os tratados internacionais de direitos humanos que forem aprovados em cada casa Congresso Nacional em dois turnos, por três quintos dos votos dos respectivos membros, equivalem a Emenda Constitucional.

118. Um Tratado Internacional que verse sobre direitos humanos, após assinado pelo Presidente da República, não poderá ser rejeitado pelo Congresso Nacional, ao qual caberá somente apreciá-lo e votar para definir a natureza jurídica do Tratado no ordenamento jurídico pátrio.

119. Um Deputado Federal, visando cumprir promessa eleitoral, propõe diversas propostas de alterações na legislação criminal e uma proposta de emenda à constituição (PEC) visando retirar a previsão constitucional que a lei penal retroagirá para beneficiar o réu. Nesta situação hipotética, se houver aprovação popular, a PEC poderá ser aprovada, ponderando pela segurança da sociedade.

120. Com a finalidade de assegurar cumprimento de obrigações decorrentes de tratado internacional de direitos humanos é possível descolamento de competência da justiça estadual para a justiça federal, devendo ser suscitado ao STJ em hipótese de graves violações de Direitos Humanos.

Preencha o Gabarito!

<http://bit.ly/Simulado-PRF-31-01>

NÃO É ASSINANTE?

Confira nossos planos, tenha acesso a milhares de cursos e participe gratuitamente dos projetos exclusivos. Clique no link!

<https://bit.ly/Estrategia-Assinaturas>

CONHEÇA NOSSO SISTEMA DE QUESTÕES!

Estratégia Questões nasceu maior do que todos os concorrentes, com mais questões cadastradas e mais soluções por professores. Clique no link e conheça!

<https://bit.ly/Sistemas-de-Questões>