

POLICIA

1° SIMULADO

PREF

PÓS-EDITAL



Estratégia
Concursos

Simulado Especial

1º Simulado Polícia Rodoviária Federal

Nome: _____

INFORMAÇÕES SOBRE O SIMULADO EXCLUSIVO

- 1 – Este simulado conta com questões focadas no concurso da PRF;
- 2 – A prova contém **120 itens** que abordam conhecimentos cobrados no edital do concurso;
- 3 – As questões são inéditas e foram elaboradas pelos nossos professores com base no perfil da banca organizadora CESPE/CEBRASPE, com assertivas para serem valoradas como “certo” ou “errado”.
- 4 – Este PDF foi enviado por e-mail, disponibilizado na área do aluno e em um artigo publicado no blog do Estratégia Concursos;
- 5 – Os participantes têm das **8:30 às 13:00** para responder às questões e preencher o Gabarito Eletrônico;
- 6 – O link para preencher o formulário com seu gabarito está localizado na última página deste PDF;
- 7 – O Gabarito do Simulado e o Ranking Classificatório com nota serão divulgados no blog do Estratégia Concursos.
- 8 – Esse simulado é uma autoavaliação! Você mesmo(a) vai corrigir, a partir do padrão de respostas disponível na área do aluno.

PREENCHA SEU GABARITO NO LINK - <http://bit.ly/Simulado-PRF-24-01-21>

01 – C E	25 – C E	49 – C E	73 – C E	97 – C E
02 – C E	26 – C E	50 – C E	74 – C E	98 – C E
03 – C E	27 – C E	51 – C E	75 – C E	99 – C E
04 – C E	28 – C E	52 – C E	76 – C E	100 – C E
05 – C E	29 – C E	53 – C E	77 – C E	101 – C E
06 – C E	30 – C E	54 – C E	78 – C E	102 – C E
07 – C E	31 – C E	55 – C E	79 – C E	103 – C E
08 – C E	32 – C E	56 – C E	80 – C E	104 – C E
09 – C E	33 – C E	57 – C E	81 – C E	105 – C E
10 – C E	34 – C E	58 – C E	82 – C E	106 – C E
11 – C E	35 – C E	59 – C E	83 – C E	107 – C E
12 – C E	36 – C E	60 – C E	84 – C E	108 – C E
13 – C E	37 – C E	61 – C E	85 – C E	109 – C E
14 – C E	38 – C E	62 – C E	86 – C E	110 – C E
15 – C E	39 – C E	63 – C E	87 – C E	111 – C E
16 – C E	40 – C E	64 – C E	88 – C E	112 – C E
17 – C E	41 – C E	65 – C E	89 – C E	113 – C E
18 – C E	42 – C E	66 – C E	90 – C E	114 – C E
19 – C E	43 – C E	67 – C E	91 – C E	115 – C E
20 – C E	44 – C E	68 – C E	92 – C E	116 – C E
21 – C E	45 – C E	69 – C E	93 – C E	117 – C E
22 – C E	46 – C E	70 – C E	94 – C E	118 – C E
23 – C E	47 – C E	71 – C E	95 – C E	119 – C E
24 – C E	48 – C E	72 – C E	96 – C E	120 – C E

PORTUGUÊS

Janaina Arruda

Texto I

O crime organizado não é um fenômeno recente. Encontramos indícios dele nos grandes grupos contrabandistas do antigo regime na Europa, nas atividades dos piratas e corsários e nas grandes redes de receptação da Inglaterra do século XVIII. A diferença dos nossos dias é que as organizações criminosas se tornaram mais precisas, mais profissionais.

Um erro na análise do fenômeno é a suposição de que tudo é crime organizado. Mesmo quando se trata de uma pequena apreensão de crack em um local remoto, alguns órgãos da imprensa falam em crime organizado. Em muitos casos, o varejo do tráfico é um dos crimes mais desorganizados que existe. É praticado por um usuário que compra de alguém umas poucas pedras de crack e fuma a metade. Ele não tem chefe, parceiros, nem capital de giro. Possui apenas a necessidade de suprir o vício.

No outro extremo, fica o grande traficante, muitas vezes um indivíduo que nem mesmo vê a droga. Só utiliza seu dinheiro para financiar o tráfico ou seus contatos para facilitar as transações. A organização criminosa envolvida com o tráfico de drogas fica, na maior parte das vezes, entre esses dois extremos. É constituída de pequenos e médios traficantes e uns poucos traficantes de grande porte. Nas outras atividades criminosas, a situação é a mesma. O crime pode ser praticado por um indivíduo, uma quadrilha ou uma organização. Portanto, não é a modalidade do crime que identifica a existência de crime organizado.

Guaracy Mingardi. Inteligência policial e crime organizado. In: Renato Sérgio de Lima e Liana de Paula (Orgs.). Segurança pública e violência: o Estado está cumprindo seu papel? São Paulo: Contexto, 2006, p. 42 (com adaptações).

- 01.** Depreende-se do texto que o crime organizado recebe essa nomenclatura desde os tempos dos corsários e piratas, no século XVIII.
- 02.** De acordo com o texto, nem sempre o que o senso comum supõe ser crime organizado é de fato crime organizado.

03. Pode-se dizer que o conceito da expressão crime organizado foi distorcido porque a imprensa passou a empregá-la para tratar de qualquer crime que envolva entorpecentes.

04. O texto é predominantemente descritivo, uma vez que descreve o *modus operandi* das organizações criminosas.

05. O texto apresenta oposições de informações, o que pode ser claramente percebido pelo uso de expressões com “No outro extremo”, no terceiro parágrafo.

Texto II

As mudanças e transformações globais nas estruturas políticas e econômicas no mundo contemporâneo colocam em relevo as questões de identidade e as lutas pela afirmação e manutenção das identidades nacionais e étnicas. Mesmo que o passado que as identidades atuais reconstroem seja, sempre, apenas imaginado, ele proporciona alguma certeza em um clima que é de mudança, fluidez e crescente incerteza. As identidades em conflito estão localizadas no interior de mudanças sociais, políticas e econômicas, mudanças para as quais elas contribuem.

Tomaz Tadeu da Silva (Org.). Stuart Hall e Kathryn Woodward. Identidade e diferença — A perspectiva dos estudos culturais. Petrópolis: Vozes, 2004, p. 24-5 (com adaptações)

- 06.** De acordo com o texto, as identidades não são fixas e integram as mudanças sociais e políticas.
- 07.** Pode-se inferir do texto que as transformações globais decorrem de conflitos de identidades nacionais e étnicas.
- 08.** Em nenhum momento o texto aponta que as lutas pela afirmação e manutenção das estruturas globais são necessárias.

09. Conforme o texto, o passado em que as identidades atuais se constroem pode ser uma criação da imaginação.

10. As identidades em conflito fazem parte de cada indivíduo presente na sociedade em transformação.

Texto III

As mudanças na economia global têm produzido uma dispersão das demandas ao redor do mundo. Isso ocorre não apenas em termos de bens e serviços, mas também de mercados de trabalho. A migração dos trabalhadores não é, obviamente, nova, mas a globalização está estreitamente associada à aceleração da migração. E a migração produz identidades plurais, mas também identidades contestadas, em um processo que é caracterizado por grandes desigualdades em termos de desenvolvimento. Nesse processo, o fator de expulsão dos países pobres é mais forte que o fator de atração das sociedades pós-industriais e tecnologicamente avançadas.

Idem, ibidem, p. 21 (com adaptações).

11. A dispersão das demandas ocorre em decorrência dos mercados de trabalho e da migração.

12. Existe uma relação de causa e efeito na dispersão das demandas ao redor do mundo e na aceleração da migração e da constituição de identidades plurais.

13. O texto apresenta em seu último período uma relação de comparação.

14. No trecho “E a migração produz identidades plurais, mas também identidades contestadas, em um processo que é caracterizado por grandes desigualdades em termos de desenvolvimento” existe uma relação de oposição entre identidades plurais e identidades contestadas.

15. O uso do verbo “têm produzido” no início do texto contribui para o entendimento de que a dispersão das demandas ao redor do mundo não cessou.

Texto IV

Acredito que, no século XXI, o sucesso de qualquer sociedade dependerá de quatro características: sua geografia e sua base de recursos; sua capacidade de administrar mudanças complexas; seu compromisso com os direitos humanos; e seu comprometimento com a ciência e a tecnologia. O Brasil pode vir a exceder em todos esses aspectos. No passado, o calcanhar de-aquiles do Brasil se situou naquela terceira esfera, a dos direitos humanos. Como os Estados Unidos da América (EUA) e, na verdade, a maior parte das Américas, o Brasil foi forjado em um cadinho de conquista colonial e escravidão brutal.

Esse nascimento violento deixou um legado de enormes divisões étnicas entre as elites de ascendência europeia, as comunidades indígenas e as populações de origem africana, descendentes de escravos. Da mesma forma que os EUA, o Brasil ainda não superou essa genealogia cruel. As desigualdades associadas a raça e etnia configuram um abismo — e, claro, propiciaram a geração de conflitos, a inclinação para o populismo e a instalação ocasional de regimes autoritários.

Jeffrey Sachs. In: Veja 40 Anos, set./2008 (com adaptações).

16. O texto é de cunho argumentativo, uma vez que faz uso de verbo na primeira pessoa do singular.

17. De acordo com o texto, Brasil e EUA apresentam distinções claras no que tange ao compromisso com os direitos humanos.

18. O termo “calcanhar-de-aquiles” presente no texto apresenta sentido de “incerteza”.

19. A expressão “Esse nascimento”, no início do segundo parágrafo, faz referência ao Brasil.

20. Embora exista uma relação entre Brasil e EUA, o texto deixa claro que existe uma resolução quanto à genealogia nos EUA enquanto no Brasil isso ainda não é assunto resolvido.

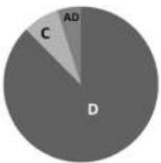
RACIOCÍNIO LÓGICO

Carlos Henrique

21. Em uma marcenaria, há um recipiente com 18 pregos e 22 arrebites. Todos os pregos têm o mesmo peso, todas os arrebites têm o mesmo peso e o peso total de todas as peças é de 214g. Sabendo-se que um arrebite e um prego pesam juntos 11g, julgue o item que se segue.

O peso do prego é inferior a 8g.

22. Para fazer um gráfico de setores que representasse o número de servidores canhotos, destros e ambidestros em certo órgão público, Maria fez o seguinte gráfico abaixo.



	Nº de alunos da sala de aula
Destros (D)	35
Canhotos (C)	3
Ambidestros (AD)	2

Julgue o item subsecutivo.

O setor circular correspondente aos destros é superior a 320°

23. Maria, uma moça que possui 24 anos, perguntou a idade de Carla. Esta lhe respondeu: “Se do quadrado da minha idade, você subtrair o dobro dessa mesma idade, o resultado encontrado será igual ao quádruplo da sua idade”.

Julgue o item subsecutivo.

A soma das idades de Maria e de Carla é um quadrado perfeito.

“Com a produção de petróleo da plataforma P-50, que está deixando as águas da Baía de Guanabara rumo ao norte da Bacia de Campos, Rio de Janeiro, a Petrobras atinge a auto-suficiência na produção de petróleo para o Brasil. (...) Com capacidade para 180 mil barris diários de petróleo, ou $\frac{3}{25}$ do volume diário produzido no País, a P-50 tem capacidade para comprimir 6 milhões de metros cúbicos de gás natural e de estocar 1,6 milhão de barris de petróleo em seus 22 tanques.”

Disponível em <http://www.icarobrasil.com.br> (adaptado)

24. De acordo com as informações do texto acima, o volume diário de petróleo produzido no País, em milhares de barris, é inferior a 1.200

25. Considere que, dos 22 tanques citados na reportagem, 10 sejam do tipo A e os restantes, do tipo B. Se os tanques do tipo B podem armazenar, cada um, 5 mil barris a mais do que os do tipo A, a capacidade de armazenamento de cada tanque do tipo B, em milhares de barris, é superior a 70

Se $x \geq 0$ representa a quantidade de quilômetros percorridos por um veículo em determinado dia, então:

- $f(x) = x/12$ representa a quantidade de litros de combustível consumido pelo veículo para percorrer x quilômetros;
- $g(x) = 60 - x/12$ representa a quantidade de litros de combustível que restam no tanque do veículo depois de percorridos x quilômetros.

26. Se $f(x)$ e $g(x)$ são as funções definidas no texto acima e se $K(x) = f(x)/g(x)$, então a função inversa $K^{-1}(x)$ pode ser expressa por $720x/(x+1)$

27. A capacidade do tanque de combustível desse veículo é superior a 72 litros

28. Tendo como referência as informações do texto acima e considerando que o veículo tenha iniciado o percurso com o tanque de combustível cheio, se, no dia mencionado, o condutor parar o veículo para abastecer quando restarem exatamente 15 litros de combustível no tanque, então, até aquele instante, o veículo terá percorrido mais de 450 km e menos de 600 km.

INFORMÁTICA

Ranielison Passos

Considerando a versão em Português e instalação padrão, julguei o próximo item a respeito do navegador de internet Mozilla Firefox.

29. O browser Mozilla Firefox possui o recurso de salvar senhas automaticamente durante a navegação do usuário, mesmo em janela de navegação privativa.

30. Sobre teclas de atalho no Sistema Operacional Microsoft Windows 10, configuração padrão, Ctrl+Esc é utilizado para abrir o gerenciador de tarefas.

A respeito de Internet das coisas (IoT) e soluções em big data, julgue os itens que se seguem.

31. Em soluções Big Data, a análise dos dados comumente precisa ser precedida de uma transformação de dados não estruturados em dados estruturados.

32. Redes wi-fi e Bluetooth podem ser utilizadas para IoT, já NFC (near field communication) não atende a demandas de IoT.

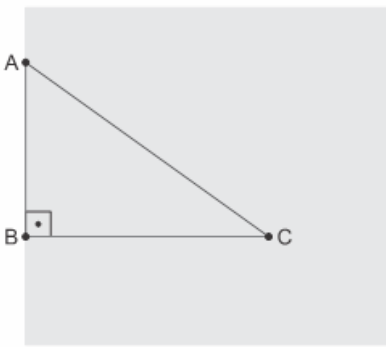
33. Entre os vários tipos de programas utilizados para realizar ataques a computadores, aquele capaz de se propagar automaticamente pelas redes, enviando cópias de si mesmo entre computadores, é conhecido como Backdoor.

34. Na Internet, existem ferramentas que otimizam a tarefa de manipular arquivos, como o Google Docs, que permite o armazenamento online e o compartilhamento de arquivos, dispensando a necessidade, por exemplo, de um usuário enviar um mesmo arquivo por email para vários destinatários.

FÍSICA

Vinicius Silva

35. Dois amigos, Marcos e Pedro, estão às margens de um lago, no ponto A, e decidem nadar até um barco, que se encontra no ponto C. Marcos supõe que chegará mais rápido se nadar direto do ponto A até o ponto C, enquanto Pedro supõe que seria mais rápido correr até o ponto B, que está sobre uma reta que contém o ponto C e é perpendicular à margem, e depois nadar até o barco.

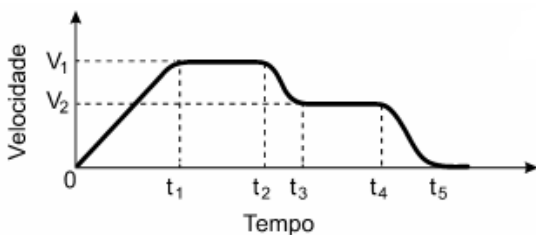


Considere que a distância entre os pontos A e C seja 50m, que a distância entre A e B seja 30m, que a distância entre B e C seja 40m, que Marcos e Pedro nadem com velocidade média de 1,0m/s e que Pedro corra com velocidade média de 3,0m/s. Ao realizarem a travessia, partindo no mesmo instante, julgue o item seguinte.

Pedro e Marcos chegam juntos ao barco.

TEXTO PARA AS QUESTÕES 36 E 37

Considere que o gráfico de velocidade por tempo abaixo, represente o movimento de um veículo em uma rodovia federal.



Considerando as informações contidas no gráfico, julgue os itens a seguir:

- 36. De 0 a t_1 o movimento é progressivo e acelerado.
- 37. entre t_1 e t_2 e t_3 e t_4 o corpo encontra-se em repouso.

TEXTO PARA AS QUESTÕES 38 E 39

A equação horária que descreve o movimento de um automóvel, deslocando-se sobre uma estrada retilínea e horizontal, é dada por $x = 20 + 4t + 2t^2$, na qual o tempo é dado em segundos e a posição em metros. A partir dessas informações, julgue os itens abaixo.

- 38. A velocidade do automóvel em $t = 3s$ é 16m/s.
- 39. O movimento do automóvel é retilíneo e uniforme.
- 40. A velocidade dos navios em relação ao solo é medida por uma unidade denominada nó que equivale aproximadamente a 1,85km/h.

Considere um navio que partiu às 02:00h em direção a um porto situado a 74.000m, com uma velocidade de 10 nós em relação à água.

Supondo que não existam correntes marítimas e que a velocidade do navio permaneça constante, é correto afirmar que o navio chegará ao porto às 06:00.

ÉTICA E CIDADANIA**Tiago Zanolla**

41. Moral é a parte da filosofia que estuda os fundamentos da ética e os princípios ideais da conduta humana.
42. É a ética de responsabilidade que corresponde aos códigos de ética.
43. O “dever” de tomar a decisão que traga o maior bem para o maior número de pessoas é uma característica da ética kantiana.
44. Juízo de valor é aquele que diz o que as coisas são, como são e por que são.
45. A ética científica constata o relativismo cultural e o adota como pressuposto. Qualifica o bem e o mal, assim como a virtude e o vício, a partir de seus fundamentos sociais e históricos.

GEOPOLÍTICA**Leandro Signori**

1 O Brasil político: nação e território. 2 Organização do Estado Brasileiro.

Nosso mapa começou a ser definido ainda no século 15, antes mesmo de o país ser oficialmente ocupado por Portugal, com o Tratado de Tordesilhas. Firmado entre Espanha e Portugal, esse acordo dividia o “Novo Mundo” que começava a ser explorado – a América – entre os dois países e acabou criando a primeira fronteira do Brasil.

Só que na verdade tal fronteira nunca seria respeitada. A invasão de colonos portugueses em terras que, pelo acordo de Tordesilhas, deveriam pertencer aos espanhóis forçou um novo tratado no século 18, o de Madri, que expandiu bastante o território brasileiro.

Quando o país conseguiu sua independência, em 1822, o mapa atual já estava praticamente formado. Restavam apenas algumas disputas por pequenas áreas fronteiriças com países vizinhos. “Quase todos os litígios foram resolvidos com arbitragem internacional”, afirma o historiador Francisco Doratioto, do Instituto Rio Branco, em Brasília. Ainda no século 19, também por meios diplomáticos o governo brasileiro espantou o “olho gordo” estrangeiro sobre uma parte importante do território nacional. “Por volta de 1850, surgiu um plano de ocupação da Amazônia por latifundiários americanos. A diplomacia brasileira agiu com energia, fortificando a foz do rio Amazonas, estabelecendo um plano de colonização e impedindo a chegada de estrangeiros”, afirma outro historiador, Amado Luiz Cervo, da Universidade de Brasília (Unb).

Internet: <super.abril.com.br>. Acesso em 19/01/2020.

Acerca da formação territorial e da fronteira brasileira, julgue os itens a seguir.

46. A necessidade de segurança das fronteiras com seus países vizinhos se manifesta, entre outros fatores, pela vasta extensão territorial do Brasil, que corresponde a quase metade do território sul-americano.
47. No decorrer do século XX, o aparelhamento dos portos, a construção de estradas de ferro e rodovias e as novas formas de participação do país na fase industrial fizeram do Sudeste a região com maior concentração de capital, de modo integrado a uma nova regionalização agrária e urbana brasileira.
48. As fronteiras atuais brasileiras são muito extensas e, apesar da preocupação com a segurança, na época da globalização, são vistas como espaço de integração econômica.

"Não era óbvio que o Brasil se tornasse o gigante que é hoje: a parte do continente atribuída a Portugal pelo Tratado de Tordesilhas era limitada pelo meridiano que passa pela foz do rio Amazonas. Dois séculos e meio depois, as fronteiras atuais, quase três mil quilômetros a oeste da anterior, já eram atingidas na maior parte de sua extensão, e a força do sentimento nacional, forjado nesta conquista, permitiu superar todas as segmentações sociais e regionais."

Hervé Théry e Neli Aparecida de Mello-Théry. Atlas do Brasil. São Paulo: Edusp, 2014, p. 32 (com adaptações).

Considerando o texto acima, que tem caráter unicamente motivador, e os múltiplos aspectos a ele relacionado, julgue os itens a seguir:

49. O processo de ocupação do território e as atividades econômicas desenvolvidas no Brasil, no período colonial, visaram ao desenvolvimento econômico de sua população, à formação de um mercado consumidor interno e ao seu abastecimento.

50. A expressão "arquipélago exportador" procura descrever a organização espacial do Brasil no século XIX, caracterizada por regiões economicamente especializadas em meio a vazios demográficos que se conectavam por uma densa malha ferroviária e rodoviária.

LÍNGUA ESTRANGEIRA (ESPAÑHOL)

Adinoél Sebastião

Instrução: Leia o texto para responder às questões de números 51 a 55

Crimen Organizado

El crimen organizado, también llamado delincuencia organizada, es toda aquella organización compuesta por un grupo de personas con determinadas jerarquías, roles y funciones, cuyo principal objetivo es la obtención de beneficios materiales o económicos mediante la comisión de delitos.

Se habla de una delincuencia "organizada" por el hecho de que se trata precisamente de una sociedad o asociación creada específicamente con la finalidad de realizar, de forma concertada y dirigida, acciones de tipo delictual para alcanzar poder económico, político o social.

El crimen organizado puede llegar a presentar niveles de estructuración y complejidad en sus operaciones similares a los de una empresa. Gracias a esto, es capaz de burlar el control gubernamental y crear eficaces tramas de redes criminales tanto a nivel local como global, con nexos internacionales, lo que se conoce como crimen organizado transnacional.

El crimen organizado suele estar constituido por individuos vinculados o cercanos a grupos de poder, razón por la cual sus cabezas logran evitar caer en manos de la justicia.

Entre los delitos más comunes perpetrados por el crimen organizado están la trata de personas, el tráfico de armas y de drogas, la falsificación, el blanqueo de capitales, los secuestros, los asesinatos y las extorsiones, entre otros.

En los lugares donde imponen su dominio criminal, suelen implementar regímenes monopólicos u oligopólicos, dependiendo de la naturaleza del mercado.

Algunos ejemplos de crimen organizado lo constituyen las mafias italianas en el Estados Unidos del primer tercio del siglo XX, siendo Al Capone el caso más visible, o los carteles colombianos y mexicanos de la droga, cuya actividad podría situarse sobre todo entre finales del siglo pasado y comienzos del actual.

Fonte: "Crimen organizado". En: Significados.com. Disponible en: <https://www.significados.com/crimen-organizado/> Consultado: 19 de enero de 2021, 01:41 pm. (adaptado)

51. En el texto (quinto párrafo), la palabra "trata" se refiere al comercio de seres humanos.

52. En cuanto a la acentuación, en el texto, las palabras "organización", "específicamente", "monopólicos" y "más" son clasificadas como "llana", "sobresdrújula", "esdrújula", "aguda", respectivamente.

53. De acuerdo con el texto, el crimen organizado es una persona jurídica compuesta por un grupo de personas con determinadas jerarquías, roles y funciones, cuyo principal objetivo es la obtención de beneficios materiales o económicos mediante la comisión de delitos.

54. En el primer párrafo del texto la palabra "o" se clasifica en la gramática de la lengua española como una conjunción disyuntiva.

55. En el texto, las palabras "suele" y "suelen" son formas verbales del verbo "soler" y significan: "tener costumbre; ser frecuente".

LEGISLAÇÃO DE TRÂNSITO

Alexandre Herculano

56. Julgue o item abaixo com base na Legislação de Trânsito e suas atualizações posteriores.

Os órgãos e entidades de trânsito pertencentes ao Sistema Nacional de Trânsito darão prioridade em suas ações à defesa a saúde, nela incluída a preservação da vida e do meio-ambiente.

57. Julgue o item abaixo com base na Legislação de Trânsito e suas atualizações posteriores.

Aplica-se o Código de Trânsito a qualquer veículo, bem como aos proprietários, condutores dos veículos nacionais ou estrangeiros residentes no país e às pessoas nele expressamente mencionadas.

58. Julgue o item abaixo com base na Legislação de Trânsito e suas atualizações posteriores.

As Câmaras Temáticas, órgãos técnicos subordinados ao CONTRAN, são integradas por especialistas e têm como objetivo estudar e oferecer sugestões e embasamento técnico sobre assuntos específicos para decisões daquele colegiado.

59. Julgue o item abaixo com base na Legislação de Trânsito e suas atualizações posteriores.

Compete aos Conselhos Estaduais de Trânsito – CETRAN e o CONTRANDIFE julgar os recursos, em segunda instância, contra as decisões dos órgãos e entidades executivos estaduais, nos casos de inaptidão permanente constatados nos exames de aptidão física, mental ou psicológica.

60. Julgue o item abaixo com base na Legislação de Trânsito e suas atualizações posteriores.

Os agentes dos órgãos policiais da Câmara dos Deputados e do Senado Federal poderão, independentemente de qualquer formalização, lavrar auto de infração de trânsito, mas têm remetê-lo ao órgão executivo de trânsito, nos casos em que a infração cometida nas adjacências do Congresso Nacional ou nos locais sob sua responsabilidade comprometer objetivamente os serviços ou colocar em risco a incolumidade das pessoas ou o patrimônio das respectivas Casas Legislativas.

61. Julgue o item abaixo com base na Resolução 780/20 do CONTRAN.

O padrão de estampagem é composto de 7 caracteres alfanuméricos, em alto relevo, na sequência LLLNLNN, com espaçamento equidistante e combinação aleatória, distribuída e controlada pelo DENATRAN, sendo o caracter "L" letra, e o caracter "N" número.

62. Julgue o item abaixo com base nas principais jurisprudências e na Legislação de Trânsito e suas atualizações posteriores

Segundo o STJ, não se aplica o instituto do arrependimento posterior para o homicídio culposo na direção de veículo automotor mesmo que tenha sido realizada composição civil entre o autor do crime a família da vítima.

63. Julgue o item abaixo com base nas principais jurisprudências e na Legislação de Trânsito e suas atualizações posteriores.

Segundo o STJ, o fato de o autor de homicídio culposo na direção de veículo automotor estar com a CNH vencida não justifica a aplicação da causa especial de aumento de um terço a metade.

64. Julgue o item abaixo com base nas principais jurisprudências e na Legislação de Trânsito e suas atualizações posteriores.

Segundo o STJ, para a incidência da causa de aumento de pena no homicídio culposo na direção veicular, é irrelevante que o agente esteja transportando passageiros no momento do homicídio culposo cometido na direção de veículo automotor.

65. Com base nas disposições do CTB e nas resoluções do CONTRAN, julgue o item subsequente, relativo a Carteira Nacional de Habilitação (CNH) para a condução de veículos e a condições de tráfego dos veículos.

Segundo o CTB, o uso de persianas no vidro traseiro dos veículos destinados ao transporte dos membros do Ministério Público é permitido desde que o veículo tenha espelhos retrovisores em ambos os lados.

66. À luz do disposto no CTB, julgue o item seguinte, relativo ao meio ambiente e aos veículos automotores.

A emissão de gases poluentes e ruído pelos veículos em circulação será avaliada por meio de inspeções obrigatórias. Caso o veículo seja reprovado em inspeção, ele ficará sujeito à medida administrativa de retenção. A forma e periodicidade dessas inspeções serão estabelecidas pelos órgãos ou entidades executivos de trânsito dos estados e do Distrito Federal, no âmbito da respectiva circunscrição.

67. Julgue os itens, referentes ao Sistema Nacional de Trânsito, à educação e segurança de trânsito e à terminologia adotada pelo Código de Trânsito Brasileiro (CTB).

Instituída pelo CTB, a Semana Nacional do Trânsito (SNT) acontece anualmente entre os dias 8 e 15 de setembro e é constituída por uma série de eventos e ações educativas promovidas por todos os órgãos e entidades que integram o Sistema Nacional de Trânsito.

68. Tendo como referência o CTB, julgue os itens a seguir, a respeito da política de educação para o trânsito.

O percentual de cinco por cento do valor das multas de trânsito arrecadadas será depositado, mensalmente, na conta de fundo de âmbito nacional destinado à segurança e educação de trânsito.

69. No que se refere ao Código de Trânsito e suas atualizações posteriores, especificamente ao Processo Administrativo, julgue o item.

Caso a defesa prévia seja indeferida ou não seja apresentada no prazo estabelecido, será aplicada a penalidade e expedida notificação ao proprietário do veículo ou ao infrator, no prazo máximo de 180 dias, contado da data do cometimento da infração, por remessa postal ou por qualquer outro meio tecnológico hábil que assegure a ciência da imposição da penalidade.

70. No que se refere ao Código de Trânsito, julgue o item.

As repartições de trânsito conservarão por, no mínimo, 10 anos os documentos relativos à habilitação de condutores, ao registro e ao licenciamento de veículos e aos autos de infração de trânsito.

71. No que se refere ao Código de Trânsito, julgue o item.

O veículo apreendido ou removido a qualquer título e não reclamado por seu proprietário dentro do prazo de sessenta dias, contado da data de recolhimento, será avaliado e levado a leilão, a ser realizado preferencialmente por meio eletrônico.

72. No que se refere ao Código de Trânsito, especificamente sobre o leilão dos veículos removidos e não reclamados, julgue o item.

Se identificada a existência de restrição policial ou judicial sobre o prontuário do veículo, a autoridade responsável pela restrição será notificada para a retirada do bem do depósito, mediante a quitação das despesas com remoção e estada, ou para a autorização do leilão nos termos deste artigo.

73. No que se refere ao Código de Trânsito, especificamente sobre o leilão dos veículos removidos e não reclamados, julgue o item.

Os veículos, sucatas e materiais inservíveis de bens automotores que se encontrarem nos depósitos há mais de seis meses poderão ser destinados à reciclagem, independentemente da existência de restrições sobre o veículo.

74. No que se refere ao Código de Trânsito e o Pnatrans, julgue o item.

As propostas dos Cetran, do Contrandife e do Departamento de Polícia Rodoviária Federal serão encaminhadas ao Contran até o dia 1º de setembro de cada ano, acompanhadas de relatório analítico a respeito do cumprimento das metas fixadas para o

ano anterior e de exposição de ações, projetos ou programas, com os respectivos orçamentos, por meio dos quais se pretende cumprir as metas propostas para o ano seguinte.

75. Com base na Resolução 110/00 do Contran julgue o item abaixo.

Os órgãos executivos de trânsito dos Estados e do DF estabelecerão prazos para renovação do Licenciamento Anual dos Veículos registrados sob sua circunscrição, de acordo com o algarismo final da placa de identificação, respeitados os limites fixados na tabela mencionada na norma. Assim, o prazo final para renovação dos veículos cujos algarismos finais da placa são 3,4 e 5, terão o prazo até novembro.

76. Com base na Resolução 216/06 do Contran julgue o item abaixo.

Nos para-brisas dos veículos automotores, são permitidos no máximo dois danos, exceto nas regiões definidas anteriormente, respeitando os seguintes limites: trinca não superior a 20 centímetros de comprimento; e fratura de configuração circular não superior a 5 centímetros de diâmetro.

77. Com base na Resolução 803/20 do Contran, julgue o item abaixo.

Para fins de fiscalização de peso de veículos que transportem produtos classificados como Biodiesel (B-100) e Cimento Asfáltico de Petróleo (CAP), por meio de balança rodoviária ou de Nota Fiscal, fica permitida a tolerância de 7,5% (sete e meio por cento) no PBT ou PBTC.

78. Com base na Resolução 798/20 do Contran, julgue o item abaixo.

Nos locais em que houver instalado medidor de velocidade do tipo fixo, os medidores de velocidade portáteis somente podem ser utilizados a uma distância mínima de: 500 m, em vias urbanas e em trechos de vias rurais com características de via urbana; e 2.500 m, para os demais trechos de vias rurais.

79. Com base na Resolução 806/20 do Contran, julgue o item abaixo.

A Campanha Educativa de Trânsito de 2021 terá como mensagem "NO TRÂNSITO, TODOS PODEM SALVAR VIDAS", que deverá ser divulgada pelos órgãos e entidades do Sistema Nacional de Trânsito.

80. Com base na Resolução 810/20 do Contran, julgue o item abaixo.

O veículo sinistrado somente será transferido à companhia seguradora mediante apresentação: do relatório de avarias; das imagens do veículo acidentado; do BAT, se houver.

81. Com base na Resolução 809/20 do Contran, julgue o item abaixo.

O CONTRAN disponibilizará sistema eletrônico para validação do CRLV-e, ou sua versão impressa, por meio da leitura do código de barras bidimensionais dinâmico (Quick Response Code - QRCode) inserido no documento.

82. Com base na Resolução 471/13 do Contran, julgue o item abaixo.

A fiscalização de trânsito mediante sistema de videomonitoramento somente poderá ser realizada nas vias que estejam devidamente sinalizadas para esse fim.

83. Com base na Resolução 441/13 do Contran, julgue o item abaixo.

As cargas (do tipo de sólido a granel) transportadas deverão estar totalmente cobertas por lonas ou dispositivos similares, que deverão cumprir, entre outros, o seguinte requisito: possibilidade de acionamento manual, mecânico ou automático.

84. Com base na Resolução 292/08 do Contran, julgue o item abaixo.

Ficam proibidas, em qualquer situação, a substituição do chassi ou monobloco de veículo por outro chassi ou monobloco, nos casos de modificação, furto/roubo ou sinistro de veículos.

85. Com base na Resolução 24/98 do Contran, julgue o item abaixo.

Para fins de controle reservado e apoio das vistorias periciais procedidas pelos órgãos integrantes do Sistema Nacional de Trânsito e por órgãos policiais, por ocasião do pedido de código do RENAVAM, os fabricantes depositarão junto ao órgão máximo executivo de trânsito da União as identificações e localização das gravações, segundo os modelos básicos. Assim, quando houver alteração dos modelos básicos dos veículos, os fabricantes encaminharão, com antecedência de 45 dias, as localizações de identificação veicular.

DIREITO ADMINISTRATIVO**Thálius Moraes**

Considerando as disposições previstas na Lei 8.112/90, que trata do regime jurídico único dos servidores públicos civis federais, analise as próximas assertivas.

86. Após entrar em exercício, o servidor nomeado para cargo de provimento efetivo ficará sujeito a estágio probatório por período de três anos, durante o qual a sua aptidão e capacidade serão objeto de avaliação para o desempenho do cargo.

87. Será punido com suspensão o servidor que revelar segredo do qual se apropriou em razão do cargo.

Considerando as disposições doutrinárias acerca dos atos administrativos e dos poderes da Administração, julgue os próximos itens.

88. A motivação, elemento de validade dos atos administrativos, reflete a situação fática e jurídica que fundamenta a prática do ato.

89. Uma multa de trânsito emitida por um policial rodoviário federal retrata um exemplo de aplicação do poder disciplinar da administração pública.

Acerca da Lei 8.666/93, que trata das licitações públicas, analise a próxima assertiva.

90. Nas hipóteses em que o convite, em razão do baixo valor do objeto a ser licitado, for a modalidade licitatória mais indicada, será cabível, mediante critério da Administração, a adoção da modalidade tomada de preços.

Conforme trata a Lei 9.654/98, que cria a carreira de Policial Rodoviário Federal, julgue o próximo item.

91. Na carreira de Polícia Rodoviário Federal, a classe de Agente engloba atividades de natureza policial envolvendo a fiscalização, patrulhamento e policiamento ostensivo, atendimento e socorro às vítimas de acidentes rodoviários e demais atribuições relacionadas com a área operacional do Departamento de Polícia Rodoviária Federal.

DIREITO CONSTITUCIONAL**Adriane Fauth**

A respeito do Poder Constituinte, seus fundamentos, classificações, julgue os itens a seguir:

92. O poder constituinte originário, que elaborou a CF, é essencialmente político, extrajurídico, sem limites formais, e esgotou-se com a promulgação da CF.

93. No caso brasileiro, o poder constituinte derivado possui limitações temporais, materiais e circunstanciais, expressas no texto constitucional, e limitações implícitas, relativas à titularidade dos poderes constituintes originário e derivado.

94. Poder constituinte decorrente é o poder que têm os estados-membros de uma Federação para elaborar suas próprias Constituições.

95. Emenda e revisão constitucionais são espécies do gênero reforma constitucional, não havendo, nesse sentido, à luz da CF, traços diferenciadores entre uma e outra.

96. A revisão constitucional para a sua realização depende da aprovação da emenda pelo voto de três quintos dos membros do Congresso Nacional, em sessão conjunta.

Determinado deputado federal elaborou proposta de emenda constitucional com a finalidade de instituir novas hipóteses de pena de morte no Brasil.

Considerando a situação hipotética apresentada, julgue o item que se segue:

97. O projeto de emenda constitucional é de duvidosa constitucionalidade, já que não se admite emenda constitucional que tenha por fim abolir direitos e garantias individuais.

DIREITO PENAL

Antônio Pequeno

98. Acerca das noções gerais de direito, julgue o item.

No âmbito do direito penal, aplica-se, em regra, o princípio do tempus regit actum, por meio do qual se deve aplicar a lei penal em vigor na data da prática do ato delituoso. No entanto, se a nova lei, mesmo não estando em vigor na data do crime, for mais benéfica ao acusado, deverá retroagir para ser aplicada no caso concreto.

99. Considere que Ribeiro, penalmente imputável, tenha sequestrado uma criança com o intuito de receber certa quantia como resgate. Três meses depois, estando a vítima ainda em cativeiro, nova lei entrou em vigor, prevendo pena mais severa para o delito. Nessa situação, a lei mais gravosa incidirá sobre a conduta de Ribeiro.

100. O Código Penal adota a teoria da atividade, segundo a qual o delito deverá ser considerado praticado no momento da ação ou da omissão e o local do crime deverá ser aquele onde tenha ocorrido a ação ou a omissão.

101. Considerando esse dispositivo legal, bem como os princípios e as repercussões jurídicas dele decorrentes, julgue o item que se segue.

O presidente da República, em caso de extrema relevância e urgência, pode editar medida provisória para agravar a pena de determinado crime, desde que a aplicação da pena agravada ocorra somente após a aprovação da medida pelo Congresso Nacional.

102. Tendo como referência essa situação hipotética, julgue o item seguinte.

Se, durante o processo judicial a que José for submetido, for editada nova lei que diminua a pena para o crime de receptação, ele não poderá se beneficiar desse fato, pois o direito penal brasileiro norteia-se pelo princípio de aplicação da lei vigente à época do fato.

103. O Direito Penal brasileiro considera como momento do cometimento do crime quando atingido o resultado pretendido.

DIREITO PROCESSUAL PENAL

Priscila Silveira

104. Pamela, 29 anos, foi vítima de crime de ameaça, previsto no artigo 147 do Código Penal, cuja titularidade é de ação penal pública condicionada à representação do ofendido. A carta ameaçadora não foi assinada, mas constava que foi enviada em 05.01.2021 e recebida em 07.01.2021. No dia 20.01.2021, Pamela descobriu que a ameaça havia sido realizada por Roberto. Sobre essa situação hipotética, é correto afirmar que para exercer o direito de representação, Pamela teria o prazo de 06 meses, contado a partir de 20.01.2021, sob pena de decair do direito de representação.

105. O Ministério Público é instituição permanente, essencial à função jurisdicional do Estado, incumbindo-lhe a defesa da ordem jurídica, do regime democrático e dos interesses sociais e individuais indisponíveis (Art. 127 da Constituição). A esse respeito, analise a afirmativa a seguir. No caso de ação penal privada subsidiária da pública, cabe ao Ministério Público aditar a queixa, repudiá-la e oferecer denúncia substitutiva, interpor recurso e, no caso de negligência do querelante e desde que haja sua concordância, retomar a ação penal como parte principal.

106. Em caso de ação penal privada, oferecida queixa-crime perante a autoridade judiciária competente e iniciada a ação penal, se o querelante deixou de promover o andamento do processo por mais de 60 dias, em decorrência de sua inércia, perderá o seu direito de continuar no processo, extinguindo-se, por consequência, a punibilidade do agente.

107. A respeito da ação penal privada, em caso de morte do ofendido ou quando declarado ausente por decisão judicial, se comparecer mais de uma pessoa com direito de queixa, terá preferência o cônjuge, e, na ausência deste, o parente mais próximo na ordem de ascendente, descendente ou irmão. Havendo divergência entre os sucessores, o juiz extinguirá a ação penal.

108. Na ação penal, não sendo caso de arquivamento e tendo o investigado confessado formal e circunstancialmente a prática de infração penal sem violência ou grave ameaça e com pena mínima inferior a 2 (dois) anos, o Ministério Público poderá propor acordo de não persecução penal, desde que necessário e suficiente para reprovação e prevenção do crime, mediante o preenchimento das condições ajustadas cumulativa e alternativamente.

109. Sobre a ação penal pública condicionada, a titularidade é do Ministério Público mas para a propositura da denúncia, necessário a representação do ofendido, que deve ser feita em 6 meses a contar do conhecimento da autoria delitiva. A representação é condição de procedibilidade para que se possa instaurar persecução penal e de acordo com o Código de Processo Penal, ela pode ser oferecida pessoalmente ou por procurador com poderes especiais.

LEGISLAÇÃO ESPECIAL

Marcos Girão

Conforme a Lei nº 13.675, de 2018 (institui o Sistema Único de Segurança Pública - Susp), julgue o item abaixo.

110. Caberá ao Ministério da Justiça e Segurança Pública elaborar o PNSP, que deverá incluir o Plano de Nacional de Enfrentamento de Homicídios de Jovens, além de estabelecer suas estratégias, suas metas, suas ações e seus indicadores, direcionados ao cumprimento dos objetivos e das finalidades estabelecidos na Lei nº 13.675, de 2018.

Em relação à Lei nº 12.850/13 (organizações criminosas), julgue o seguinte item.

111. A localização de eventual vítima, ainda que sua integridade física não esteja devidamente preservada, é um dos resultados previstos na "Lei de Organização Criminosa" como necessários para que aquele que tenha colaborado efetiva e voluntariamente com a investigação e com o processo criminal obtenha o benefício da colaboração premiada.

Quanto à Lei nº 12.037, de 2009 (dispõe sobre a identificação criminal do civilmente identificado) julgue o item abaixo.

112. Desde que autorizado pela autoridade judiciária competente, é permitida a menção da identificação criminal do indiciado em atestados de antecedentes ou em informações não destinadas ao juízo criminal, antes do trânsito em julgado da sentença condenatória.

De acordo com a Lei 13.869 de 2019, que trata dos crimes de abuso de autoridade, julgue o item subsequente.

113. Para os crimes de abuso de autoridade, será admitida ação privada se a ação penal pública não for intentada no prazo legal, cabendo ao Ministério Público aditar a queixa, repudiá-la e oferecer denúncia substitutiva, intervir em todos os termos do processo, fornecer elementos de prova, interpor recurso e, a todo tempo, no caso de negligência do querelante, retomar a ação como parte principal.

Acerca do Estatuto do Desarmamento (Lei nº 10.826/2003), julgue o próximo item.

114. Situação hipotética. Sem ter qualquer autorização da autoridade competente para tanto, Natal Carnaval, em uma determinada operação de importação, vendeu uma arma de fogo ao Sr. Passos Dias Aguiar, que é Agente da Polícia Federal e estava disfarçado no momento da compra. **Assertiva.** Pela conduta descrita, para que Natal Carnaval responda por crime tipificado no Estatuto do Desarmamento, punível com pena de reclusão de 8 (oito) a 16 (dezesesseis) anos e multa, é preciso que haja presentes contra ele elementos probatórios razoáveis de conduta criminal preexistente.

Acerca da Lei nº 11.343/2006 (Lei Antidrogas), julgue o item.

115. Dentre as penas previstas para quem adquirir, guardar, tiver em depósito, transportar ou trazer consigo, para consumo pessoal, drogas sem autorização ou em desacordo com determinação legal ou regulamentar estão as penas de prestação pecuniária e de advertência sobre os efeitos das drogas.

DIREITOS HUMANOS

Ricardo Torques

Considerando o texto constitucional e o posicionamento dos Tribunais Superiores, julgue os itens abaixo sobre os direitos humanos:

116. A República Federativa do Brasil deverá primar pela prevalência dos direitos humanos em suas relações internacionais, buscando a defesa da paz, a solução pacífica dos conflitos e o repúdio ao terrorismo e ao racismo.

117. O *caput* do art. 5º da Constituição Federal restringe os direitos e deveres individuais e coletivos positivados apenas aos brasileiros, natos ou naturalizados, e aos estrangeiros residentes no País. Desse modo, o operador do direito fica impossibilitado de realizar interpretação extensiva do dispositivo constitucional.

118. Os direitos humanos são dotados de eficácia horizontal, ou seja, são aplicáveis também nas relações entre particulares e, por este motivo, não é admitido tratamento diferenciado aos empregados que possuam nacionalidades diferentes.

119. Os tratados e convenções internacionais sobre direitos humanos que forem aprovados, em cada Casa do Congresso Nacional, em dois turnos, por três quintos dos votos dos respectivos membros, serão equivalentes às emendas constitucionais. São exemplos desses diplomas: a Declaração Universal dos Direitos Humanos, a Convenção Americana sobre Direitos Humanos (Pacto de San José da Costa Rica) e a Convenção Internacional sobre os Direitos das Pessoas com Deficiência.

120. É garantido constitucionalmente o direito à livre manifestação do pensamento e, por isso, não é admitido o ingresso de agentes em universidades públicas e privadas com a finalidade de recolher documentos ou interromper aulas em virtude da manifestação livre de ideias nos ambientes universitários.



Estratégia
Concursos

Preencha o Gabarito!

<http://bit.ly/Simulado-PRF-24-01-21>

NÃO É ASSINANTE?

Confira nossos planos, tenha acesso a milhares de cursos e participe gratuitamente dos projetos exclusivos. Clique no link!

<https://bit.ly/Estrategia-Assinaturas>

CONHEÇA NOSSO SISTEMA DE QUESTÕES!

Estratégia Questões nasceu maior do que todos os concorrentes, com mais questões cadastradas e mais soluções por professores. Clique no link e conheça!

<https://bit.ly/Sistemas-de-Questões>