



Estratégia
Concursos

16° SIMULADO

PRF

PRÉ-EDITAL

Simulado Especial

16º Simulado PRF

Nome: _____

INFORMAÇÕES SOBRE O SIMULADO EXCLUSIVO

- 1 – Este simulado conta com questões focadas no concurso da PRF;
- 2 – A prova contém **120 itens** que abordam conhecimentos cobrados no edital do concurso;
- 3 – As questões são inéditas e foram elaboradas pelos nossos professores com base no perfil da banca organizadora CESPE/CEBRASPE, com assertivas para serem valoradas como “certo” ou “errado”.
- 4 – Este PDF foi enviado por e-mail, disponibilizado na área do aluno e em um artigo publicado no blog do Estratégia Concursos;
- 5 – Os participantes têm das **8:30 às 13:00** para responder às questões e preencher o Gabarito Eletrônico;
- 6 – O link para preencher o formulário com seu gabarito está localizado na última página deste PDF;
- 7 – O Gabarito do Simulado e o Ranking Classificatório com nota serão divulgados no blog do Estratégia Concursos.
- 8 – Esse simulado é uma autoavaliação! Você mesmo(a) vai corrigir, a partir do padrão de respostas disponível na área do aluno.

PREENCHA SEU GABARITO NO LINK - <http://bit.ly/Simulado-PRF-04-10>

01 – <input type="radio"/> C <input type="radio"/> E	25 – <input type="radio"/> C <input type="radio"/> E	49 – <input type="radio"/> C <input type="radio"/> E	73 – <input type="radio"/> C <input type="radio"/> E	97 – <input type="radio"/> C <input type="radio"/> E
02 – <input type="radio"/> C <input type="radio"/> E	26 – <input type="radio"/> C <input type="radio"/> E	50 – <input type="radio"/> C <input type="radio"/> E	74 – <input type="radio"/> C <input type="radio"/> E	98 – <input type="radio"/> C <input type="radio"/> E
03 – <input type="radio"/> C <input type="radio"/> E	27 – <input type="radio"/> C <input type="radio"/> E	51 – <input type="radio"/> C <input type="radio"/> E	75 – <input type="radio"/> C <input type="radio"/> E	99 – <input type="radio"/> C <input type="radio"/> E
04 – <input type="radio"/> C <input type="radio"/> E	28 – <input type="radio"/> C <input type="radio"/> E	52 – <input type="radio"/> C <input type="radio"/> E	76 – <input type="radio"/> C <input type="radio"/> E	100 – <input type="radio"/> C <input type="radio"/> E
05 – <input type="radio"/> C <input type="radio"/> E	29 – <input type="radio"/> C <input type="radio"/> E	53 – <input type="radio"/> C <input type="radio"/> E	77 – <input type="radio"/> C <input type="radio"/> E	101 – <input type="radio"/> C <input type="radio"/> E
06 – <input type="radio"/> C <input type="radio"/> E	30 – <input type="radio"/> C <input type="radio"/> E	54 – <input type="radio"/> C <input type="radio"/> E	78 – <input type="radio"/> C <input type="radio"/> E	102 – <input type="radio"/> C <input type="radio"/> E
07 – <input type="radio"/> C <input type="radio"/> E	31 – <input type="radio"/> C <input type="radio"/> E	55 – <input type="radio"/> C <input type="radio"/> E	79 – <input type="radio"/> C <input type="radio"/> E	103 – <input type="radio"/> C <input type="radio"/> E
08 – <input type="radio"/> C <input type="radio"/> E	32 – <input type="radio"/> C <input type="radio"/> E	56 – <input type="radio"/> C <input type="radio"/> E	80 – <input type="radio"/> C <input type="radio"/> E	104 – <input type="radio"/> C <input type="radio"/> E
09 – <input type="radio"/> C <input type="radio"/> E	33 – <input type="radio"/> C <input type="radio"/> E	57 – <input type="radio"/> C <input type="radio"/> E	81 – <input type="radio"/> C <input type="radio"/> E	105 – <input type="radio"/> C <input type="radio"/> E
10 – <input type="radio"/> C <input type="radio"/> E	34 – <input type="radio"/> C <input type="radio"/> E	58 – <input type="radio"/> C <input type="radio"/> E	82 – <input type="radio"/> C <input type="radio"/> E	106 – <input type="radio"/> C <input type="radio"/> E
11 – <input type="radio"/> C <input type="radio"/> E	35 – <input type="radio"/> C <input type="radio"/> E	59 – <input type="radio"/> C <input type="radio"/> E	83 – <input type="radio"/> C <input type="radio"/> E	107 – <input type="radio"/> C <input type="radio"/> E
12 – <input type="radio"/> C <input type="radio"/> E	36 – <input type="radio"/> C <input type="radio"/> E	60 – <input type="radio"/> C <input type="radio"/> E	84 – <input type="radio"/> C <input type="radio"/> E	108 – <input type="radio"/> C <input type="radio"/> E
13 – <input type="radio"/> C <input type="radio"/> E	37 – <input type="radio"/> C <input type="radio"/> E	61 – <input type="radio"/> C <input type="radio"/> E	85 – <input type="radio"/> C <input type="radio"/> E	109 – <input type="radio"/> C <input type="radio"/> E
14 – <input type="radio"/> C <input type="radio"/> E	38 – <input type="radio"/> C <input type="radio"/> E	62 – <input type="radio"/> C <input type="radio"/> E	86 – <input type="radio"/> C <input type="radio"/> E	110 – <input type="radio"/> C <input type="radio"/> E
15 – <input type="radio"/> C <input type="radio"/> E	39 – <input type="radio"/> C <input type="radio"/> E	63 – <input type="radio"/> C <input type="radio"/> E	87 – <input type="radio"/> C <input type="radio"/> E	111 – <input type="radio"/> C <input type="radio"/> E
16 – <input type="radio"/> C <input type="radio"/> E	40 – <input type="radio"/> C <input type="radio"/> E	64 – <input type="radio"/> C <input type="radio"/> E	88 – <input type="radio"/> C <input type="radio"/> E	112 – <input type="radio"/> C <input type="radio"/> E
17 – <input type="radio"/> C <input type="radio"/> E	41 – <input type="radio"/> C <input type="radio"/> E	65 – <input type="radio"/> C <input type="radio"/> E	89 – <input type="radio"/> C <input type="radio"/> E	113 – <input type="radio"/> C <input type="radio"/> E
18 – <input type="radio"/> C <input type="radio"/> E	42 – <input type="radio"/> C <input type="radio"/> E	66 – <input type="radio"/> C <input type="radio"/> E	90 – <input type="radio"/> C <input type="radio"/> E	114 – <input type="radio"/> C <input type="radio"/> E
19 – <input type="radio"/> C <input type="radio"/> E	43 – <input type="radio"/> C <input type="radio"/> E	67 – <input type="radio"/> C <input type="radio"/> E	91 – <input type="radio"/> C <input type="radio"/> E	115 – <input type="radio"/> C <input type="radio"/> E
20 – <input type="radio"/> C <input type="radio"/> E	44 – <input type="radio"/> C <input type="radio"/> E	68 – <input type="radio"/> C <input type="radio"/> E	92 – <input type="radio"/> C <input type="radio"/> E	116 – <input type="radio"/> C <input type="radio"/> E
21 – <input type="radio"/> C <input type="radio"/> E	45 – <input type="radio"/> C <input type="radio"/> E	69 – <input type="radio"/> C <input type="radio"/> E	93 – <input type="radio"/> C <input type="radio"/> E	117 – <input type="radio"/> C <input type="radio"/> E
22 – <input type="radio"/> C <input type="radio"/> E	46 – <input type="radio"/> C <input type="radio"/> E	70 – <input type="radio"/> C <input type="radio"/> E	94 – <input type="radio"/> C <input type="radio"/> E	118 – <input type="radio"/> C <input type="radio"/> E
23 – <input type="radio"/> C <input type="radio"/> E	47 – <input type="radio"/> C <input type="radio"/> E	71 – <input type="radio"/> C <input type="radio"/> E	95 – <input type="radio"/> C <input type="radio"/> E	119 – <input type="radio"/> C <input type="radio"/> E
24 – <input type="radio"/> C <input type="radio"/> E	48 – <input type="radio"/> C <input type="radio"/> E	72 – <input type="radio"/> C <input type="radio"/> E	96 – <input type="radio"/> C <input type="radio"/> E	120 – <input type="radio"/> C <input type="radio"/> E

PORTUGUÊS

Janaina Arruda

Entendendo a Internet

Imagine um número enorme de computadores interligados, recebendo e enviando informações entre si constantemente... Assim é a Internet.

Tecnicamente falando, Internet é o nome dado à organização que se faz em uma rede de computadores. Ela não serve somente como fonte de informações onde o usuário (chamado de internauta) se conecta a fim de obter dados para seu trabalho ou suas pesquisas; ela é útil também por permitir que os internautas se comuniquem uns com os outros, por meio de correio eletrônico ou bate-papo em tempo real (chat).

Entender a Internet como um todo não é difícil. Ao contrário do que muitos imaginam, a Internet não tem uma sede instalada em algum lugar do mundo com filiais em seus principais países. Envolvida por diversos termos, às vezes complicados, como http, URL, sítio, canal, home-page, modem, e-mail, entre outros, a Internet forma-se a partir da possibilidade de conexão de vários computadores ao mesmo tempo. Esses computadores podem ser individuais, como um computador doméstico, ou podem estar organizados em grupos, lembrando uma rede ou uma teia de aranha.

Hoje é possível encontrar (quase) tudo na grande rede. Ao conectar-se, o internauta passa a ter acesso a informações diversas, relacionadas a cultura, turismo, educação, lazer, viagem, televisão, cinema, arte, informática, política, religião, enfim, um mundo paralelo ao nosso, onde a informação é compartilhada de diferentes maneiras.

Mozart Fialho Jr. Novo dicionário de informática. 2.^a ed., Goiânia: Gráfica Terra, 2002, p. 28-30 (com adaptações).

1. As formas verbais no gerúndio empregadas no título do texto assim como em eu vou estar registrando o seu pedido são aceitas pelas normas gramaticais, visto que indicam ações temporais.

2. O vocábulo “si”, em destaque no texto, tem valor recíproco e o seu emprego, no texto, contribui para o entendimento de que uns computadores recebem e enviam informações para outros, que fazem o mesmo em relação aos primeiros.

3. No texto, as palavras em destaque “interligados”, “rede” e “conexão” possuem relação de sentido circunjacente.

4. No segundo período do segundo parágrafo, a expressão “não serve somente” necessita da informação dada pela oração “ela é útil também por permitir que os internautas se comuniquem uns com os outros” para completar a ideia presente nesse trecho.

5. No trecho em que aparece, o nome “internauta” é dado às ferramentas de comunicação na Internet, tais como o correio eletrônico e o bate-papo em tempo real (chat).

6. O uso do itálico nas palavras “chat”, “home-page”, “modem” e “e-mail”, as quais estão em destaque no texto, para indicar que se trata de termos de origem estrangeira.

7. O uso dos parênteses no último parágrafo do texto representa uma ressalva à afirmação de que tudo pode ser encontrado na rede.

8. As palavras “número” e “doméstico” são acentuadas graficamente porque, nelas, a sílaba tônica recai sobre a penúltima sílaba, sendo, portanto, classificadas como proparoxítonas.

9. No último período do texto, a ausência do sinal indicativo de crase em “relacionadas a cultura” justifica-se pelo fato de o termo “cultura” estar empregado em sentido genérico, sem anteposição de artigo definido, tal como os demais termos da enumeração — “turismo, educação, lazer, viagem, televisão, cinema, arte, informática, política, religião”.

10. O vocábulo “enfim”, no último período do texto, introduz uma informação que pode ser interpretada como uma conclusão do que se diz na oração anterior.

TEXTO II

O novo milênio — designado como era do conhecimento, da informação — é marcado por mudanças de relevante importância e por impactos econômicos, políticos e sociais. Em épocas de transformações tão radicais e abrangentes como essa, caracterizada pela transição de uma era industrial para uma baseada no conhecimento, aumenta-se o grau de indefinições e incertezas. Há, portanto, que se fazer esforço redobrado para identificar e compreender esses novos processos — o que exige o desenvolvimento de um novo quadro conceitual e analítico que permita captar, mensurar e avaliar os elementos que determinam essas mudanças — e para distinguir, entre as características e tendências emergentes, as que são mais duradouras das que são transitórias, ou seja, lidar com a necessidade do que Milton Santos resumiu como distinguir o modo da moda.

No novo padrão técnico-econômico, notam-se a crescente inovação, intensidade e complexidade dos conhecimentos desenvolvidos e a acelerada incorporação desses nos bens e serviços produzidos e comercializados pelas organizações e pela sociedade. Destacam-se, sobretudo, a maior velocidade, a confiabilidade e o baixo custo de transmissão, armazenamento e processamento de enormes quantidades de conhecimentos codificados e de outros tipos de informação.

Helena Maria Martins Lastres et al. Desafios e oportunidades da era do conhecimento. In: São Paulo em Perspectiva, 16(3), 2002, p. 60-1 (com adaptações).

11. Infere-se das ideias apresentadas no texto que o novo milênio engloba a era do conhecimento, em que a vantagem competitiva decorrente da produção e comercialização de bens e serviços ocorrerá por meio da geração do conhecimento, que permitirá a manutenção do potencial inovador das organizações.

12. Na estrutura textual apresentada é abordada a necessidade de se lidar com as tendências e mudanças derivadas das novas formas de conhecimento, objeto do que se denomina, hoje, por era do conhecimento.

13. No primeiro período do texto, a substituição do predicado “é marcado” por **caracteriza-se** manteria a correção gramatical e os sentidos do texto.

14. Seriam preservados a correção gramatical e os sentidos do texto se, na oração “aumenta-se o grau de indefinições e incertezas”, em destaque no texto, a forma verbal estivesse flexionada no plural, desde que suprimida a partícula “-se”.

15. Desde que realizadas as devidas alterações no período, a correção gramatical do texto seria preservada caso o verbo permitir, no segmento “o que exige o desenvolvimento de um novo quadro conceitual e analítico que permita captar”, fosse flexionado no pretérito imperfeito do mesmo modo verbal (subjuntivo): permitisse.

TEXTO III

O setor de tecnologias da informação e comunicação (TICs) impulsiona um conjunto de inovações técnico-científicas, organizacionais, sociais e institucionais, gerando novas possibilidades de retorno econômico e social nas mais variadas atividades. Por contribuir para a elevação do valor agregado da produção, com reflexos positivos no emprego, na renda e na qualidade de vida da população, esse ramo vem obtendo status privilegiado em diversas políticas e programas nacionais para a ampliação do acesso às telecomunicações, aceleração da informatização e mitigação da exclusão digital. Como exemplo, podem ser destacadas as propostas de fortalecimento da competitividade inseridas no âmbito da Política de Desenvolvimento Produtivo do Ministério do Desenvolvimento, Indústria e Comércio, que são imprescindíveis em face do panorama da crise financeira internacional.

Cristiane Vianna Rauhen et al. Relatório de acompanhamento setorial. In: Tecnologias de informação e comunicação, v. III. UNICAMP e Agência Brasileira de Desenvolvimento Industrial, ago./2009, p. 10-1 (com adaptações).

16. No primeiro período do texto, no trecho “O setor de tecnologias da informação e comunicação (TICs) impulsiona um conjunto de inovações (...) institucionais”, o termo “conjunto” exerce a função de núcleo do sujeito da forma verbal “impulsiona”.

17. A correção gramatical e o sentido do texto seriam prejudicados se o segmento em destaque no texto “Por contribuir para a elevação do valor agregado”, fosse assim reescrito: Por contribuir, juntamente com a elevação do valor agregado.

18. No segundo período do texto, no trecho “com reflexos positivos no emprego, na renda e na qualidade de vida da população”, é obrigatória a presença da vírgula, uma vez que os constituintes frasais estão ligados por processo de subordinação.

19. Pelas relações de sequenciação e concatenação estabelecidas entre os elementos textuais, depreende-se que a expressão “esse ramo”, retoma diretamente o termo “conjunto de inovações técnico-científicas”.

20. Depreende-se do texto que as tecnologias da informação e comunicação, mais conhecidas como TICs, representam a nova base tecnoprodutiva em conhecimento e podem ser consideradas as principais difusoras de progresso técnico nos dias de hoje, além de constituírem elemento estratégico das organizações e instituições.

RACIOCÍNIO LÓGICO

Guilherme Neves

21. Considere que os conjuntos A, B e C tenham o mesmo número de elementos, que A e B sejam disjuntos, que a união dos três possuía 150 elementos e que a interseção entre B e C possuía o dobro de elementos da interseção entre A e C. Nesse caso, se a interseção entre B e C possui 20 elementos, então B tem menos de 60 elementos.

22. Dos 420 detentos de um presídio, verificou-se que 210 foram condenados por roubo, 140, por homicídio e 140, por outros crimes. Verificou-se, também, que alguns estavam presos por roubo e homicídio. Acerca dessa situação, julgue o item seguinte.

Menos de 60 dos detentos estavam presos por terem sido condenados por roubo e homicídio.

Ao consultar alguns perfis na rede social X, Guilherme percebeu que tinha, com Abelardo, 37 amigos em comum, com Paulo, 51 amigos em comum, e com Possati, 45 amigos em comum.

Com base nessa situação hipotética, julgue os itens que se seguem.

23. Guilherme, Abelardo, Paulo e Possati têm em comum menos de 40 amigos na rede social X.

24. As informações apresentadas permitem concluir que Guilherme possui mais de 100 amigos na rede social X.

25. Cinco pessoas estão sentadas em cinco cadeiras em linha, cada uma com uma moeda na mão. As moedas são todas bem equilibradas, de modo que a probabilidade de sair cara ou coroa em cada uma delas é $1/2$. Em um determinado momento, as cinco pessoas jogam suas respectivas moedas. Aquelas que obtiverem cara continuam sentadas, e as que obtiverem coroa levantam-se. Após esse procedimento, a probabilidade de que NÃO haja duas pessoas adjacentes, ambas sentadas ou ambas de pé, é de $1/16$.

Considerando que se pretenda formar números de 3 algarismos distintos com os algarismos 2, 3, 5, 7, 8 e 9, julgue o próximo item.

26. A quantidade de números ímpares de 3 algarismos que podem ser formados é superior a 90.

27. Em um campeonato em que 5 equipes joguem uma vez entre si em turno único, o número de jogos será superior a 12.

Considerando que, em uma pesquisa de rua, cada entrevistado responda sim ou não a cada uma de dez perguntas feitas pelos entrevistadores, julgue o item seguinte.

28. Há menos de cem maneiras de um entrevistado responder sim a três perguntas e não às demais.

INFORMÁTICA

Ranielison Passos

Sobre noções básicas do sistema operacional Linux, julgue o item abaixo.

29. Em sistema operacional Linux, distribuição Ubuntu, o comando `pwd`, aplicado no terminal de comandos, exibe o nome do diretório atual.

Sobre técnicas de operações em redes de computadores, cloud computing e correio eletrônico, julgue os itens.

30. Na utilização do navegador Google Chrome, versão padrão de instalação em português, para acessar o recurso que permite alterar a página de inicialização o usuário poderá digitar na barra de endereços do navegador a expressão `chrome://settings`.

No que se refere à segurança da informação, julgue os próximos itens.

31. Um sistema de segurança Firewall pode ser aplicado em servidores da rede por Hardware ou Software, sendo impossível a alteração das

configurações padrão caso optado pela instalação de Firewall de Hardware.

32. Instalar a ferramenta de proteção antivírus, mantendo-a atualizada, é o suficiente para garantir a segurança de um computador.

Considerando os conceitos de internet e intranet, cloud computing, redes de computadores e conceitos de utilização de motores de buscas, julgue as afirmativas abaixo.

33. O conceito de nuvem comunitária está sendo altamente aceito por empresas internacionais e nacionais. Nesse tipo de serviço em nuvem duas ou mais organizações se juntam para criar e implementar sua própria infraestrutura de nuvem.

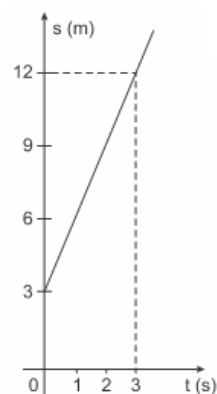
34. O recurso PageRank pode ser encontrado no site de buscas Google. Essa ferramenta não é capaz de classificar uma página aos resultados de acordo com os apontamentos, por exemplo, apenas melhor posiciona um site nas pesquisas através de monetização, como o impulsionamento de uma página através de aplicações financeiras.

FÍSICA

Vinícius Silva

TEXTO PARA AS QUESTÕES 35 E 36

Considere um veículo que se desloca em uma via coletora, durante 10s. O gráfico abaixo representa o gráfico do espaço em função do tempo.



Desenho ilustrativo -
fora de escala

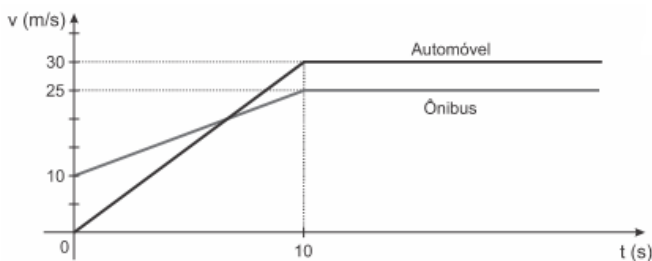
De acordo com as informações contidas no gráfico, julgue os itens abaixo.

35. A aceleração do veículo é de 9 m/s^2 .

36. a posição do veículo no instante $t = 10\text{ s}$ é maior que 30 m .

TEXTO PARA AS QUESTÕES 37 E 38

Em uma estrada, no instante em que um automóvel partiu do repouso de uma cabine de pedágio com cobrança manual, um ônibus passou pela cabine eletrônica com velocidade de 10 m/s . O gráfico mostra as variações das velocidades dos veículos, em função do tempo, a partir desse instante.

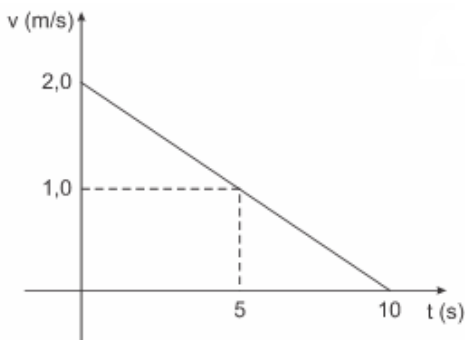


37. A aceleração do ônibus, em m/s^2 é menor que a aceleração da gravidade na superfície da Terra, entre os instantes zero e dez segundos.

38. Nos primeiros 10 s o automóvel percorre uma distância maior que a do ônibus.

TEXTO PARA AS QUESTÕES 39 e 40.

Um observador inercial analisa o movimento de um dado objeto de massa m constante e constrói o gráfico da velocidade em função do tempo mostrado a seguir, em que v é a velocidade do objeto e t é o tempo. O movimento ocorre numa linha reta.



A respeito da situação acima, julgue os itens que seguem.

39. A aceleração do objeto é constante.

40. no instante $t = 5\text{ s}$, o corpo deslocou-se $12,5\text{ m}$.

ÉTICA NO SERVIÇO PÚBLICO

Thállius Moraes

Considerando os conceitos de Ética e Moral, analise as próximas assertivas.

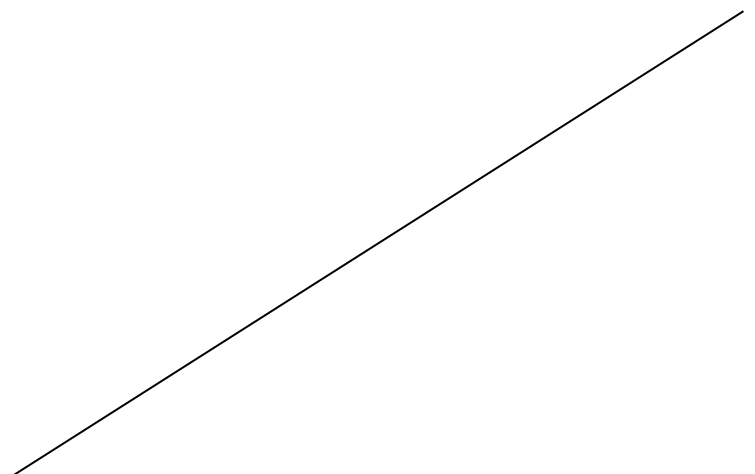
41. A ética destina-se exclusivamente ao estudo das relações travadas entre os cidadãos e o Estado.

42. Os princípios éticos podem ser utilizados como norte interpretativo das leis e da Constituição.

O Decreto 1.171/94 trata do Código de Ética Profissional do Servidor Público Civil do Poder Executivo Federal. Considerando as suas disposições, julgue os próximos itens.

43. O servidor público tem o dever de facilitar a fiscalização de atos e serviços por quem de direito, quando assim lhe for solicitado.

44. Conforme rege o Código de Ética poderá ser demitido o servidor que desviar servidor público para atendimento a interesse particular.



GEOPOLÍTICA BRASILEIRA**Leandro Signori**

“A gênese do Estado brasileiro encontra-se na colonização portuguesa da América. Entretanto, o território brasileiro não é apenas uma continuidade da América Portuguesa: a delimitação das fronteiras atuais, concluída apenas no início do século XX, envolveu conflitos armados, negociações econômicas e acordos diplomáticos.”

Fonte: TERRA, Lygia. Conexões: estudos de geografia geral e do Brasil / Lygia Terra, Regina Araújo, Raul Borges Guimarães – 2. Ed – São Paulo: Moderna, 2013.

Julgue os itens subsequentes a respeito da formação territorial e da fronteira brasileira.

45. Nos primeiros séculos, a colonização portuguesa no Brasil manteve um caráter predominantemente litorâneo, com a economia voltada para o abastecimento do mercado externo e com dificuldades de povoamento das áreas interioranas.

46. O planejamento geopolítico contemporâneo do território brasileiro considera as fronteiras fundamentalmente como áreas de segurança nacional a serem protegida contra inimigos externos, com grande presença de efetivos militares.

“Ao longo da história, o setor da agricultura no Brasil passou por diversos ciclos e transformações, indo desde a economia canavieira, pautada principalmente na produção de cana-de-açúcar durante o período colonial, até as recentes transformações e expansão do café e da soja. Atualmente, essas transformações ainda ocorrem, sobretudo garantindo um ritmo de sequência às transformações técnicas ocorridas a partir do século XX, como a mecanização da produção e a modernização das atividades.”

Disponível em: <https://mundoeducacao.uol.com.br/>. Acesso em 28/09/2020.

Sobre o espaço rural brasileiro e suas transformações, julgue os itens a seguir.

47. O financiamento público para a produção, por meio de linhas de crédito, e para a pesquisa, como as desenvolvidas pela Embrapa, foi fundamental para o aprimoramento tecnológico e expansão da agropecuária brasileira.

48. A modernização técnica da agricultura ocorreu de maneira disseminada no território brasileiro, de modo que grande parte dos estabelecimentos rurais do país estão conectados às cadeias produtivas do agronegócio.

HISTÓRIA DA PRF**Leandro Signori**

Considerando a atualidade da Polícia Rodoviária Federal (PRF), julgue os itens a seguir:

49. A capacitação e especialização de seu efetivo é um dos objetivos da Polícia Rodoviária Federal, buscando incrementar o profissionalismo da instituição, colocando-a num patamar de desempenho mais eficiente, mais responsável e mais efetivo na condução da ordem e da segurança pública.

50. O Comando de Operações Especializadas é a unidade responsável por orientar os profissionais em suas especializações, de acordo com suas habilidades e interesses.

LEGISLAÇÃO DE TRÂNSITO**Alexandre Herculano**

51. Com base na legislação de trânsito e nas jurisprudências, relativas ao tema, julgue o item a seguir.

Nenhuma via pavimentada poderá ser entregue após sua construção, ou reaberta ao trânsito após a realização de obras ou de manutenção, enquanto não estiver devidamente sinalizada, vertical e horizontalmente, de forma a garantir as condições adequadas de segurança na circulação

52. Sobre obra ou evento que possa perturbar ou interromper a livre circulação de veículos e pedestre, julgue o item a seguir.

Salvo em casos de emergência, a autoridade de trânsito com circunscrição sobre a via avisará a comunidade, por intermédio dos meios de comunicação social, com quarenta e oito horas de antecedência, de qualquer interdição da via, indicando-se os caminhos alternativos a serem utilizados.

53. Com base na legislação de trânsito e nas Resoluções do Contran, julgue o item a seguir.

Ao veículo utilizado no transporte de carga indivisível, que não se enquadre nos limites de peso e dimensões estabelecidos pelo Coordenador do Sistema Nacional de Trânsito, poderá ser concedida, pela autoridade executiva de trânsito, autorização especial de trânsito, com prazo certo, válida para cada viagem, atendidas as medidas de segurança consideradas necessárias.

54. Com base na legislação de trânsito, julgue o item a seguir.

Os veículos licenciados no exterior não poderão sair do território nacional sem o prévio pagamento ou o depósito, judicial ou administrativo, dos valores correspondentes às infrações de trânsito cometidas, salvo se na fase de recurso administrativo.

55. Com base na situação hipotética abaixo, na legislação de trânsito e nas jurisprudências do STJ, julgue o item a seguir.

“A imprudência do motorista de uma caminhonete por pouco não terminou na morte, subiu em uma calçada, atingiu uma mulher. Ele nem sequer desceu do veículo para prestar socorro. Uma câmera de segurança registrou o atropelamento.”

O motorista, no caso acima, responderá por lesão corporal na direção veicular com aumento da pena de um terço a metade.

56. Julgue o item a seguir, de acordo com o que versa o Código de Trânsito Brasileiro (Lei nº 9.503/97).

Não é possível reconhecer a consunção do delito previsto no art. 306, do CTB (embriaguez ao volante) pelo crime do art. 303 (lesão corporal culposa na direção de veículo automotor).

57. Julgue o item a seguir, de acordo com o que versa o Código de Trânsito Brasileiro (Lei nº 9.503/97).

João conduzia seu veículo automotor produzindo fumaça em níveis superiores aos legalmente permitidos. Nessa situação, conforme o nível de fumaça exalada, a conduta de João pode configurar tanto infração administrativa como crime de trânsito.

58. Julgue o item abaixo com base na Legislação de Trânsito.

O condutor que exerce atividade remunerada em veículo, habilitado na categoria C, D ou E, poderá optar por participar de curso preventivo de reciclagem sempre que, no período de um ano, atingir 19 pontos.

59. Julgue o item abaixo com base na Legislação de Trânsito e nas principais jurisprudências.

O bem jurídico tutelado nos crimes de trânsito é a segurança viária.

60. Julgue o item abaixo com base na Legislação de Trânsito e nas jurisprudências vigentes.

Segundo o STJ se o antigo proprietário deixar comunicar ao órgão executivo de trânsito a transferência do veículo poderá arcar com as multas e com o IPVA posterior à venda.

61. Julgue o item abaixo com base na Legislação de Trânsito e nas jurisprudências vigentes.

João passou em todos os exames e recebeu a Permissão para Dirigir veículo automotor. Com dez

meses de Permissão João recebeu uma infração de natureza grave, pois deixou de efetuar o registro do seu novo veículo no prazo de 30 dias. Dessa forma, João perderá a Permissão para Dirigir.

62. Julgue o item abaixo com base na Legislação de Trânsito.

Quem praticar homicídio culposo na direção de veículo automotor, sob a influência de álcool ou de qualquer outra substância psicoativa, violando o dever de cuidado objetivo, poderá responder por dolo eventual.

63. Julgue o item abaixo com base na Legislação de Trânsito.

O condutor que se utilize de veículo para a prática do crime de receptação, descaminho, contrabando, condenado por um desses crimes em decisão judicial transitada em julgado, terá cassado seu documento de habilitação ou será proibido de obter a habilitação para dirigir veículo automotor pelo prazo de cinco anos.

64. Julgue o item abaixo com base na Legislação de Trânsito.

A autorização para conduzir veículos de propulsão humana e de tração animal, e ciclomotor ficará a cargo dos Municípios.

65. Julgue o item abaixo com base na Legislação de Trânsito.

Os tratores rodas, destinados a executar trabalhos agrícolas, poderão ser conduzidos por condutores habilitados na categoria B. Exceto em via pública.

66. Julgue o item abaixo com base na Legislação de Trânsito.

Os condutores das categorias C, D e E deverão submeter-se a exames toxicológicos para a habilitação e renovação da Carteira Nacional de Habilitação. O exame buscará aferir o consumo de substâncias psicoativas que, comprovadamente, comprometam a capacidade de direção e deverá ter janela de detecção mínima de 90 dias.

67. Julgue o item abaixo com base na Legislação de Trânsito.

O exame de direção veicular será realizado perante comissão integrada por três membros designados pelo dirigente do órgão executivo local de trânsito. Na comissão de exame de direção veicular, pelo menos, dois membros deverão ser habilitado na categoria igual ou superior à pretendida pelo candidato.

68. Julgue o item abaixo com base na Legislação de Trânsito.

O condutor de veículo automotor envolvido em acidente de trânsito ou que for alvo de fiscalização de trânsito poderá ser submetido a teste, exame clínico, perícia ou outro procedimento que, por meios

técnicos ou científicos, permita certificar influência de álcool ou outra substância psicoativa que determine dependência.

69. Julgue o item abaixo com base na Legislação de Trânsito.

Vinícius, que conduzia o seu veículo automotor por uma rotatória, ao se aproximar de uma interseção não sinalizada, deixou de parar o seu veículo para a passagem de outro condutor que vinha pela sua direita. Levando em consideração a regra de preferência Vinícius cometeu uma infração de natureza grave.

70. Julgue o item abaixo com base na Legislação de Trânsito.

Recusar-se a entregar à autoridade de trânsito ou a seus agentes, mediante recibo, os documentos de habilitação, de registro, de licenciamento de veículo e outros exigidos por lei, para averiguação de sua autenticidade é infração grave.

71. Julgue o item abaixo com base na Legislação de Trânsito.

Deixar o responsável de promover a baixa do registro de veículo irrecuperável é infração gravíssima.

72. Julgue o item abaixo com base na Legislação de Trânsito.

Confiar ou entregar a direção de veículo a pessoa que, mesmo habilitada, por seu estado físico ou psíquico, não estiver em condições de dirigi-lo com segurança é infração gravíssima.

73. Julgue o item abaixo com base na Legislação de Trânsito.

Os caracteres das placas serão individualizados para cada veículo e o acompanharão até a baixa do registro, sendo vedado seu reaproveitamento.

74. Julgue o item a seguir, de acordo com o que versa o Código de Trânsito Brasileiro (Lei nº 9.503/97).

É finalidade, entre outros, do Sistema Nacional de Trânsito: fixar, mediante normas e procedimentos, a padronização de critérios técnicos, financeiros e administrativos para a execução das atividades de trânsito.

75. Com base na Resolução 788/20 do Contran, julgue o item abaixo.

Poderão ser agregadas no CRLV-e outras informações consideradas pertinentes pelo CONTRAN.

76. Com base na Resolução 216/06 do Contran julgue o item abaixo.

Nos pára-brisas dos ônibus, são permitidos no máximo três danos, exceto nas áreas críticas, sendo que a trinca não pode ser superior a 10 centímetros de comprimento, e fratura de configuração circular não superior a 4 centímetros de diâmetro.

77. Com base na Resolução 735/18 do Contran julgue o item abaixo.

No caso de Combinações para Transporte de Veículos – CTV e Combinações de Transporte de Veículos e Cargas Paletizadas – CTVP, para a circulação e a concessão da Autorização Especial de Trânsito – AET deverá ser observado, entre outros requisitos, a altura máxima do conjunto carregado de 5,95 m.

78. Com base na Resolução 14/98 do Contran, julgue o item abaixo.

Uma das exigências, na fiscalização, são espelhos retrovisores externos, em ambos os lados nos veículos automotores e cinto de segurança graduável e de três pontos.

79. Com base na Resolução 723/18 do Contran, julgue o item abaixo.

A autoridade de trânsito deverá expedir notificação ao infrator no caso de suspensão do direito de dirigir. Da notificação constará a data do término do prazo para a apresentação da defesa, que não será inferior a 30 dias contados a partir da data da notificação da instauração do processo administrativo.

80. Com base na Resolução 231/07 do Contran, julgue o item abaixo.

As placas dos veículos automotores pertencentes às Missões Diplomáticas deverão conter as seguintes gravações estampadas na parte central superior da placa (tarjeta), substituindo-se a identificação do Município: CMD - para os veículos pertencentes ao Corpo Diplomático.

81. Com base na Resolução 356/10 do Contran, julgue o item abaixo.

Para o exercício das atividades de mototáxi o condutor deverá, entre outros requisitos, ter, no mínimo, vinte e um anos de idade e possuir habilitação na categoria “A”, por pelo menos dois anos.

82. Com base na Resolução 525/15 do Contran, julgue o item abaixo.

Nos casos em que o empregador adotar 2 motoristas trabalhando no mesmo veículo, o tempo de repouso poderá ser feito com o veículo em movimento, assegurado o repouso mínimo de 6 horas consecutivas fora do veículo em alojamento externo ou, se na cabine leito, com o veículo estacionado, a cada 48 horas.

83. Com base na Resolução 619/16 do Contran, julgue o item abaixo.

O Auto de Infração de Trânsito é o documento que dá início ao processo administrativo para imposição de

punição, em decorrência de alguma infração à legislação de trânsito.

84. Com base na Resolução 552/15 do Contran, especificamente sobre os requisitos mínimos de segurança para amarração das cargas transportadas em veículos de carga, julgue o item abaixo.

Os pontos de amarração devem ser projetados para transmitir as forças que recebem aos elementos estruturais do veículo. Devem estar fixados na plataforma de carga e sobre a parede vertical dianteira (painel frontal), quando esta for utilizada para apoiar a carga.

85. Com base na Resolução 258/07 do Contran, julgue o item abaixo.

Na fiscalização de peso dos veículos por balança rodoviária será admitida à tolerância máxima de 7,5% sobre os limites de pesos regulamentares, para suprir a incerteza de medição do equipamento, conforme legislação metrológica.

86. Com base na Resolução 24/98 do Contran julgue o item abaixo.

Para os veículos tipo ciclomotores, motonetas, motocicletas e deles derivados, a altura dos caracteres da gravação de identificação veicular (VIN) deve ter no mínimo 4 milímetros.

87. Com base na Resolução 110/00 do Contran julgue o item abaixo.

Os órgãos executivos de trânsito dos Estados e do DF estabelecerão prazos para renovação do Licenciamento Anual dos Veículos registrados sob sua circunscrição, de acordo com o algarismo final da placa de identificação, respeitados os limites fixados na tabela mencionada na norma. Assim, o prazo final para renovação dos veículos cujos algarismos final da placa são 3,4 e 5, terão o prazo até outubro.

88. Com base na Resolução 242/07 do Contran julgue o item abaixo.

Não é permitida a instalação e utilização de aparelho gerador de imagem cartográfica no veículo. Exceto quando instalado pelo fabricante.

89. Com base na Resolução 273/08 do Contran julgue o item abaixo.

As motocicletas e motonetas dotadas de motor com mais de 130 centímetros cúbicos poderão tracionar semi-reboques, especialmente projetados e para uso exclusivo desses veículos, devidamente homologados pelo órgão máximo executivo de trânsito da União, observados os limites de capacidade máxima de tração, indicados pelo fabricante ou importador da motocicleta ou da motoneta.

90. Com base na Resolução 277/08 do Contran julgue o item abaixo.

É vedado o transporte de crianças com até sete anos de idade, em dispositivo de retenção posicionado em sentido contrário ao da marcha do veículo.

DIREITO ADMINISTRATIVO

Thállius Moraes

Considerando as disposições previstas na Lei 8.112/90, que trata do regime jurídico único dos servidores públicos civis federais, analise os próximos itens.

91. Embora as instâncias civil, penal e administrativa sejam independentes entre si, é

possível que a absolvição criminal afaste a responsabilidade administrativa, isentando o servidor de punição nessa esfera.

92. Situação hipotética: Teobaldo, servidor público federal, aposentou-se no ano de 2019. Contudo, em 2020, a Administração Pública teve a ciência de que Teobaldo, quando ainda na atividade, praticou uma infração administrativa, instaurando processo administrativo disciplinar para a apuração dessa irregularidade. No PAD, foi comprovado que o servidor, quando ainda na atividade, exercia atividades incompatíveis com o exercício do cargo e com o horário de trabalho. Assertiva: Nesse caso, como Teobaldo já está aposentado, é cabível a penalidade de cassação da aposentadoria.

Considerando as disposições doutrinárias acerca dos atos administrativos, do controle da Administração Pública e da responsabilidade civil estatal, julgue os próximos itens.

93. Os atos administrativos, como regra geral, sejam eles vinculados ou discricionários, deverão ser motivados, com indicação dos fatos e dos fundamentos jurídicos que embasaram a decisão.

94. O poder de fiscalização que uma Secretaria de Estado exerce sobre um ente descentralizado a ele vinculado configura uma forma de controle administrativo hierárquico.

95. Conforme a teoria do risco administrativo, adotada no Brasil, a culpa da vítima será considerada como critério para excluir ou para atenuar a responsabilização civil estatal.

DIREITO CONSTITUCIONAL**Adriane Fauth**

96. Em relação aos direitos fundamentais, julgue:

É conflitante com o princípio da isonomia a adoção de ações afirmativas.

97. Em relação aos direitos fundamentais, julgue:

São destinatários dos direitos e garantias fundamentais, dispostos no art. 5º da CF/88, apenas os brasileiros, natos ou naturalizados, em pleno gozo dos direitos políticos.

98. Acerca dos Direitos Sociais, julgue.

A Constituição Federal veda qualquer discriminação no tocante a salário e critérios de admissão do trabalhador portador de deficiência.

99. Sobre o tema Direitos Políticos, julgue o item.

Aos estrangeiros, residentes em território brasileiro, é facultado o alistamento como eleitores na forma da lei.

100. Sobre o tema Segurança Pública, julgue o item.

Apurar infrações penais em detrimento de bens, serviços e interesses de entidades autárquicas é uma das atribuições da polícia federal.

DIREITO PENAL**Ivo Martins**

101. Adequa-se ao tipo legal de comunicação falsa de crime, previsto nos crimes contra a administração da justiça, a conduta de dar causa à instauração de investigação policial contra alguém, imputando-lhe crime de que se sabe ser inocente.

102. Sob a vigência da lei X, Robson cometeu um crime. Posteriormente, passou a vigorar a lei Y, que, além de ser mais grave, ainda revogou a lei X. Depois disso, Robson foi julgado. Nessa situação, o juiz terá de se fundamentar com base na retroatividade em benefício do réu para aplicar a lei X, por ser esta menos grave que a lei Y.

103. Em se tratando de homicídio doloso, o juiz poderá deixar de aplicar a pena, se as consequências da infração atingirem o próprio agente de forma tão grave que a sanção penal se torne desnecessária.

104. Constitui o delito de concussão (art. 316 CP), solicitar, para si ou para outrem, direta ou indiretamente, ainda que fora da função ou antes de assumi-la, mas em razão dela, vantagem indevida.

105. No crime de estelionato, se o criminoso é primário, e é de pequeno valor o prejuízo, o juiz pode substituir a pena de reclusão pela de detenção, diminuída de um a dois terços, ou aplicar somente a pena de multa.

106. Nas excludentes de ilicitude, ocorre o excesso doloso quando o agente consciente e propositadamente causa ao agressor, ao se defender, maior lesão do que seria necessário para repelir o ataque, uma vez reconhecido, elimina a possibilidade de se reconhecer a excludente de ilicitude.

DIREITO PROCESSUAL PENAL**Luciana Peixoto**

Policiais rodoviários federais receberam a informação que o veículo FOX Prata Placa AAA-1234 está possivelmente transportando drogas; avistaram o carro suspeito e realizaram a abordagem policial. O condutor se identificou com Flávio e o passageiro como Alberto, apresentando documento de identificação civil válido; em busca pessoal nada de ilícito foi encontrado com os suspeitos. Em seguida os policiais realizaram a busca veicular e encontraram dentro do estofado do banco traseiro 15 kg de substância que aparentava ser cocaína. Durante entrevista informal em separado, Alberto disse que a droga era do conhecido e que tinha recebido R\$500,00 para transportá-la até São Paulo; Flávio afirmou que não tinha conhecimento da substância ilícita e conheceu Alberto em um posto de gasolina onde pediu carona para a capital paulista. Diante dos fatos Flávio e Alberto foram conduzidos até a presença da Autoridade Policial para os procedimentos de polícia judiciária.

Com base no fato hipotético narrado, julgue os itens 107 a 110 como certo ou errado.

107. O crime de tráfico de drogas na modalidade transportar é considerado permanente e nos termos do código de processo penal, o delegado de polícia poderá lavrar o auto de prisão em flagrante delito, já que o agente encontra-se em situação flagrancial enquanto não cessar a permanência. Decidindo pela prisão, assim que o preso for apresentado, a autoridade ouvirá o condutor e colherá, desde logo,

sua assinatura, entregando a cópia do termo e recibo de entrega do preso.

108. No caso em questão, estando os indiciados presos, o delegado de polícia terá o prazo legal de 30 dias para finalizar o inquérito policial com minucioso relatório do que tiver sido apurado e enviar os autos ao juiz competente, podendo o prazo ser duplicado pelo juiz, ouvido o Ministério Público, mediante pedido justificado da autoridade de polícia judiciária.

109. Se durante as investigações o Delegado de Polícia descobrir que a droga pertence à Organização Criminosa, o Ministério Público poderá assumir a presidência do inquérito policial, desde que exista autorização judicial baseada na gravidade em concreto do crime.

110. Não cabe acareação entre os acusados, sendo permitido tal procedimento apenas entre acusado e testemunha, entre testemunhas, entre acusado ou testemunha e a pessoa ofendida, e entre as pessoas ofendidas, quando divergirem e suas declarações sobre fatos relevantes.

LEGISLAÇÃO ESPECIAL**Marcos Girão**

Considerando a Lei no 9.605/1998, julgue o próximo item.

111. Situação hipotética. Determinado agricultor, desempregado há meses por conta da quarentena, explorou economicamente uma floresta nativa na região onde mora, situada em terras de domínio público, sem que tivesse a devida autorização da autoridade competente. Aos policiais que o abordaram, explicou que só cometeu tal ato porque precisava prover tanto a sua subsistência imediata como a de sua família, que já estava com grandes dificuldades para alimentar-se. **Assertiva.** É correto afirmar que o citado agricultor cometeu crime ambiental.

Analise a assertiva abaixo de acordo com a Lei nº 11.343, de 23 de agosto de 2006.

112. A conduta de cultivar, para seu consumo pessoal, plantas destinadas à preparação de pequena quantidade de substância ou produto capaz de causar dependência física ou psíquica, é considerada típica e punida com pena de reclusão de 5 (cinco) a 15 (quinze) anos, podendo ser reduzida de um sexto a dois terços, desde que o agente seja primário, de bons antecedentes e não integre organização criminosa.

Acerca da Lei nº 13.869/2019, julgue o próximo item.

113. Segundo estabelece a Lei nº 13.869/2019, a divergência na interpretação de lei ou na avaliação de fatos e provas não configura abuso de autoridade. É correto afirmar que o objetivo deste dispositivo foi o de evitar aquilo que a doutrina chama de “crime de hermenêutica”, que ocorre quando o operador do Direito (em especial o magistrado) é responsabilizado criminalmente pelo simples fato de

sua interpretação ter sido considerada errada pelo Tribunal revisor.

Conforme dispõe a Lei nº 10.826, de 2003, analise a assertiva a seguir.

114. Situação hipotética. Pandemira, de 10 anos de idade, apoderou-se de uma arma de fogo que estava em sua residência e disparou contra um colega seu durante uma aula, por vingança. Seu colega veio a falecer. Seu pai, o Policial Rodoviário Federal, Coronardo da Silva, tinha a posse do citado armamento e não adotou a devida cautela para impedir o acesso do menor ao armamento.

Assertiva. No que diz respeito à posse do armamento, o PRF Coronardo, sem prejuízo de outras sanções, estará sujeito a responder por crime tipificado no Estatuto do Desarmamento, punível com pena de detenção de 1 (um) a 2 (dois) anos e multa.

Com relação à Lei N.º 8.069, de 13 de 1990, julgue o item.

115. Situação hipotética. Determinado agente, maior de idade, simulou a participação de uma adolescente em cena de sexo explícito por meio de adulteração e de montagem de fotografias. **Assertiva.** A mera montagem de fotografia que simule a participação de adolescente em cena de sexo explícito em si não é suficiente para configurar a infração penal por parte do agente que a produziu, pois é preciso haver ainda a prova da adulteração dessas fotografias.

DIREITOS HUMANOS E CIDADANIA**Lilian Novakoski**

Acerca dos Direitos Humanos, julgue:

116. A Constituição brasileira distingue a cidadania da nacionalidade, referindo-se ao vínculo em relação ao Estado e aquela a possibilidade de uma pessoa ser titular de direitos políticos.

117. Dentre as características dos Direitos Humanos, a essencialidade determina que os direitos humanos devem ser visto como um conjunto de direitos, e não analisados de forma isolada.

118. Os sistemas global e regionais de proteção dos direitos humanos são complementares ao sistema nacional de cada país e tem por objetivo a proteção integral dos direitos humanos.

119. Os tratados internacionais, aprovados em cada casa do Congresso Nacional, em dois turnos, por três quintos dos votos terão natureza constitucional.

120. É de competência privativa do Presidente da República celebrar tratados internacionais, que devem ser referendados pelo Congresso Nacional.

Preencha o Gabarito!

<http://bit.ly/Simulado-PRF-04-10>

NÃO É ASSINANTE?

Confira nossos planos, tenha acesso a milhares de cursos e participe gratuitamente dos projetos exclusivos. Clique no link!

<https://bit.ly/Estrategia-Assinaturas>

CONHEÇA NOSSO SISTEMA DE QUESTÕES!

Estratégia Questões nasceu maior do que todos os concorrentes, com mais questões cadastradas e mais soluções por professores. Clique no link e conheça!

<https://bit.ly/Sistemas-de-Questões>