



Estratégia
Concursos

4° SIMULADO

PRF

PRÉ-EDITAL



Simulado Especial

4º Simulado PRF

Nome: _____

INFORMAÇÕES SOBRE O SIMULADO EXCLUSIVO

- 1 – Este simulado conta com questões focadas no concurso da PRF;
- 2 – A prova contém **120 itens** que abordam conhecimentos cobrados no edital do concurso;
- 3 – As questões são inéditas e foram elaboradas pelos nossos professores com base no perfil da banca organizadora CESPE/CEBRASPE, com assertivas para serem valoradas como “certo” ou “errado”.
- 4 – Este PDF foi enviado por e-mail, disponibilizado na área do aluno e em um artigo publicado no blog do Estratégia Concursos;
- 5 – Os participantes têm das **8h30 às 13h** para responder às questões e preencher o Gabarito Eletrônico;
- 6 – O link para preencher o formulário com seu gabarito está localizado na última página deste PDF;
- 7 – O Gabarito do Simulado e o Ranking Classificatório com nota serão divulgados no blog do Estratégia Concursos.
- 8 – Esse simulado é uma autoavaliação! Você mesmo(a) vai corrigir, a partir do padrão de respostas disponível na área do aluno.

PREENCHA SEU GABARITO NO LINK - <https://bit.ly/Simulado-PRF-24-05>

01 – <input type="radio"/> C <input type="radio"/> E	25 – <input type="radio"/> C <input type="radio"/> E	49 – <input type="radio"/> C <input type="radio"/> E	73 – <input type="radio"/> C <input type="radio"/> E	97 – <input type="radio"/> C <input type="radio"/> E
02 – <input type="radio"/> C <input type="radio"/> E	26 – <input type="radio"/> C <input type="radio"/> E	50 – <input type="radio"/> C <input type="radio"/> E	74 – <input type="radio"/> C <input type="radio"/> E	98 – <input type="radio"/> C <input type="radio"/> E
03 – <input type="radio"/> C <input type="radio"/> E	27 – <input type="radio"/> C <input type="radio"/> E	51 – <input type="radio"/> C <input type="radio"/> E	75 – <input type="radio"/> C <input type="radio"/> E	99 – <input type="radio"/> C <input type="radio"/> E
04 – <input type="radio"/> C <input type="radio"/> E	28 – <input type="radio"/> C <input type="radio"/> E	52 – <input type="radio"/> C <input type="radio"/> E	76 – <input type="radio"/> C <input type="radio"/> E	100 – <input type="radio"/> C <input type="radio"/> E
05 – <input type="radio"/> C <input type="radio"/> E	29 – <input type="radio"/> C <input type="radio"/> E	53 – <input type="radio"/> C <input type="radio"/> E	77 – <input type="radio"/> C <input type="radio"/> E	101 – <input type="radio"/> C <input type="radio"/> E
06 – <input type="radio"/> C <input type="radio"/> E	30 – <input type="radio"/> C <input type="radio"/> E	54 – <input type="radio"/> C <input type="radio"/> E	78 – <input type="radio"/> C <input type="radio"/> E	102 – <input type="radio"/> C <input type="radio"/> E
07 – <input type="radio"/> C <input type="radio"/> E	31 – <input type="radio"/> C <input type="radio"/> E	55 – <input type="radio"/> C <input type="radio"/> E	79 – <input type="radio"/> C <input type="radio"/> E	103 – <input type="radio"/> C <input type="radio"/> E
08 – <input type="radio"/> C <input type="radio"/> E	32 – <input type="radio"/> C <input type="radio"/> E	56 – <input type="radio"/> C <input type="radio"/> E	80 – <input type="radio"/> C <input type="radio"/> E	104 – <input type="radio"/> C <input type="radio"/> E
09 – <input type="radio"/> C <input type="radio"/> E	33 – <input type="radio"/> C <input type="radio"/> E	57 – <input type="radio"/> C <input type="radio"/> E	81 – <input type="radio"/> C <input type="radio"/> E	105 – <input type="radio"/> C <input type="radio"/> E
10 – <input type="radio"/> C <input type="radio"/> E	34 – <input type="radio"/> C <input type="radio"/> E	58 – <input type="radio"/> C <input type="radio"/> E	82 – <input type="radio"/> C <input type="radio"/> E	106 – <input type="radio"/> C <input type="radio"/> E
11 – <input type="radio"/> C <input type="radio"/> E	35 – <input type="radio"/> C <input type="radio"/> E	59 – <input type="radio"/> C <input type="radio"/> E	83 – <input type="radio"/> C <input type="radio"/> E	107 – <input type="radio"/> C <input type="radio"/> E
12 – <input type="radio"/> C <input type="radio"/> E	36 – <input type="radio"/> C <input type="radio"/> E	60 – <input type="radio"/> C <input type="radio"/> E	84 – <input type="radio"/> C <input type="radio"/> E	108 – <input type="radio"/> C <input type="radio"/> E
13 – <input type="radio"/> C <input type="radio"/> E	37 – <input type="radio"/> C <input type="radio"/> E	61 – <input type="radio"/> C <input type="radio"/> E	85 – <input type="radio"/> C <input type="radio"/> E	109 – <input type="radio"/> C <input type="radio"/> E
14 – <input type="radio"/> C <input type="radio"/> E	38 – <input type="radio"/> C <input type="radio"/> E	62 – <input type="radio"/> C <input type="radio"/> E	86 – <input type="radio"/> C <input type="radio"/> E	110 – <input type="radio"/> C <input type="radio"/> E
15 – <input type="radio"/> C <input type="radio"/> E	39 – <input type="radio"/> C <input type="radio"/> E	63 – <input type="radio"/> C <input type="radio"/> E	87 – <input type="radio"/> C <input type="radio"/> E	111 – <input type="radio"/> C <input type="radio"/> E
16 – <input type="radio"/> C <input type="radio"/> E	40 – <input type="radio"/> C <input type="radio"/> E	64 – <input type="radio"/> C <input type="radio"/> E	88 – <input type="radio"/> C <input type="radio"/> E	112 – <input type="radio"/> C <input type="radio"/> E
17 – <input type="radio"/> C <input type="radio"/> E	41 – <input type="radio"/> C <input type="radio"/> E	65 – <input type="radio"/> C <input type="radio"/> E	89 – <input type="radio"/> C <input type="radio"/> E	113 – <input type="radio"/> C <input type="radio"/> E
18 – <input type="radio"/> C <input type="radio"/> E	42 – <input type="radio"/> C <input type="radio"/> E	66 – <input type="radio"/> C <input type="radio"/> E	90 – <input type="radio"/> C <input type="radio"/> E	114 – <input type="radio"/> C <input type="radio"/> E
19 – <input type="radio"/> C <input type="radio"/> E	43 – <input type="radio"/> C <input type="radio"/> E	67 – <input type="radio"/> C <input type="radio"/> E	91 – <input type="radio"/> C <input type="radio"/> E	115 – <input type="radio"/> C <input type="radio"/> E
20 – <input type="radio"/> C <input type="radio"/> E	44 – <input type="radio"/> C <input type="radio"/> E	68 – <input type="radio"/> C <input type="radio"/> E	92 – <input type="radio"/> C <input type="radio"/> E	116 – <input type="radio"/> C <input type="radio"/> E
21 – <input type="radio"/> C <input type="radio"/> E	45 – <input type="radio"/> C <input type="radio"/> E	69 – <input type="radio"/> C <input type="radio"/> E	93 – <input type="radio"/> C <input type="radio"/> E	117 – <input type="radio"/> C <input type="radio"/> E
22 – <input type="radio"/> C <input type="radio"/> E	46 – <input type="radio"/> C <input type="radio"/> E	70 – <input type="radio"/> C <input type="radio"/> E	94 – <input type="radio"/> C <input type="radio"/> E	118 – <input type="radio"/> C <input type="radio"/> E
23 – <input type="radio"/> C <input type="radio"/> E	47 – <input type="radio"/> C <input type="radio"/> E	71 – <input type="radio"/> C <input type="radio"/> E	95 – <input type="radio"/> C <input type="radio"/> E	119 – <input type="radio"/> C <input type="radio"/> E
24 – <input type="radio"/> C <input type="radio"/> E	48 – <input type="radio"/> C <input type="radio"/> E	72 – <input type="radio"/> C <input type="radio"/> E	96 – <input type="radio"/> C <input type="radio"/> E	120 – <input type="radio"/> C <input type="radio"/> E

PORTUGUÊS**Carlos Roberto****TEXTO I****PRF realiza ações alusivas ao Maio Amarelo**

A Polícia Rodoviária Federal (PRF) iniciou, na semana passada, a Operação Nacional de Segurança Viária. Engajada no Movimento Maio Amarelo, a instituição aposta na ostensividade de suas equipes em pontos críticos de acidentalidade para coibir condutas perigosas e assim reduzir o número de acidentes nesses locais.

A ideia é fazer com que motoristas percebam os potenciais riscos à segurança oferecidos nesses trechos que, de acordo com dados registrados pelo órgão, somam maior número de acidentes graves e de vítimas em acidentes fatais. A estratégia reforça o tema do Maio Amarelo: "Perceba o risco. Proteja a Vida", alinhada com a campanha PRF que faz o alerta de "em tempos de pandemia, se for sair de casa, respeite as leis de trânsito".

O uso do capacete e do cinto de segurança são práticas capazes de minimizar a gravidade das lesões em vítimas de acidentes trânsito. A falta de atenção, não manter distância de segurança do veículo à frente, o desrespeito a veículos de menor porte, por exemplo, potencializam os riscos e serão observados durante a operação.

Com a população consciente dos riscos que atitudes contrárias às leis e o trânsito podem oferecer, os acidentes podem ser evitados, menor o número de feridos e maior a disponibilidade de leitos para as vítimas do coronavírus. Além disso, vítimas de acidentes podem se tornar potenciais infectadas com a COVID-19 em razão da exposição ao vírus no ambiente hospitalar. Esse é, também, um risco que será ressaltado na Operação Nacional de Segurança Viária.

<https://www.informativo.com.br/policia/prf-realiza-acoes-alusivas-ao-maio-amarelo,358769.jhtml>

Com base no texto acima, julgue os itens abaixo quanto aos aspectos semânticos e linguísticos.

01. No primeiro período do texto, o trecho "a Operação Nacional de Segurança Viária" exerce a função sintática de complemento verbal indireto do verbo iniciar, visto que o vocábulo "Operação" está precedido da preposição "a".

02. No trecho "em pontos críticos de acidentalidade", no segundo período do primeiro parágrafo, o substantivo "pontos" é caracterizado por uma expressão perifrástica.

03. O trecho "de acordo com dados registrados pelo órgão" exerce função conformativa e as vírgulas que o destacam são obrigatórias.

04. O trecho "em tempos de pandemia, se for sair de casa, respeite as leis de trânsito" poderia ser reescrito, sem prejuízo sintático e semântico, da seguinte forma: "As leis de trânsito devem ser respeitadas ao sair de casa em tempos de pandemia."

05. No terceiro parágrafo trecho as expressões "do capacete" e "do cinto de segurança" exercem uma relação completiva com o substantivo ao qual se referem.

06. O trecho "práticas capazes de minimizar a gravidade das lesões em vítimas de acidentes trânsito.", exerce, no texto, função predicativa.

07. Segundo o novo acordo ortográfico da Língua Portuguesa, o vocábulo "distância", presente no terceiro parágrafo do texto, é acentuado em decorrência da regra de acentuação dos proparoxítonos eventuais (dis-tân-ci-a).

08. No trecho "...vítimas de acidentes podem se tornar potenciais infectados...", o pronome átono "se" poderia ser registrado posposto ao verbo sem prejuízo gramatical.

09. No último período do texto, o pronome demonstrativo "esse" exerce função catafórica por se referir a um momento futuro, ou seja, a "um risco que será ressaltado na Operação Nacional de Segurança Viária".

TEXTO II**O Prazer do Beneficiador é Sempre Maior do que o do Beneficiado**

- Não me podes negar um facto, disse ele; é que o prazer do beneficiador é sempre maior do que o do beneficiado. Que é o benefício? É um ato que faz cessar certa privação do beneficiado. Uma vez produzido o efeito essencial, isto é, uma vez cessada a privação, torna o organismo ao estado anterior, ao estado indiferente. Supõe que tens apertado em demasia o cós das calças; para fazer cessar o incómodo, desabotoas o cós, respiras, saboreias um instante de gozo, o organismo torna à indiferença, e não te lembras dos teus dedos que praticaram o ato. Não havendo nada que perdure, é natural que a memória se esvaeça, porque ela não é uma planta aérea, precisa de chão. A esperança de outros favores, é certo, conserva sempre no beneficiado a lembrança do primeiro; mas este fato, aliás um dos mais sublimes que a filosofia pode achar em seu caminho, explica-se pela memória da privação, ou, usando de outra fórmula, pela privação continuada na memória, que repercute a dor passada e aconselha a precaução do remédio oportuno.

Machado de Assis, in 'Memórias Póstumas de Brás Cubas'

10. No trecho "é que o prazer do beneficiador é sempre maior do que o do beneficiado.", a preposição que antecede o vocábulo "que" poderia ser retirada sem prejuízo gramatical.

11. No trecho "Não havendo nada que perdure, é natural que a memória se esvaeça, porque ela não é uma planta aérea, precisa de chão.", a palavra "porque" poderia ser substituída, sem prejuízo gramatical do texto, por "porquanto".

12. No último período do primeiro parágrafo, a palavra "se" em "explica-se pela memória da privação" exerce a função de índice de indeterminação do sujeito.

13. Segundo o autor do texto, proporcionar algo novo a quem recebe uma boa ação corresponde à maior recompensa de quem a pratica.

14. Segundo o autor do texto, proporcionar algo novo a quem recebe uma boa ação corresponde à maior recompensa de quem a pratica e, inclusive, supera os benefícios do seu destinatário.

15. Pode-se inferir do texto que a prática da boa ação é capaz de transformar a realidade de quem a recebe à medida que os fatos vão se consolidando na memória e quebrando barreiras de uma vida caracterizada por privações.

TEXTO III**A representação da "realidade" na imprensa**

Parece ser um fato assentado, para muitos, que um jornal ou um telejornal expresse a "realidade". Folhear os cadernos de papel de ponta a ponta ou seguir pacientemente todas as imagens do grande noticiário televisivo seriam operações que atualizariam a cada dia nossa "compreensão do mundo". Mas esse pensamento, tão disseminado quanto ingênuo, não leva em conta a questão da perspectiva pela qual se interpretam todas e quaisquer situações focalizadas. Submetermo-nos à visada do jornalista que compôs a notícia, ou mesmo à do câmera que flagra uma situação (e que, aliás, tem suas tomadas sob o controle de um editor de imagens), é desfazermo-nos da nossa própria capacidade de análise, é renunciarmos à perspectiva de sujeitos da nossa interpretação.

Tanto quanto os propalados e indiscutíveis "fatos", as notícias em si mesmas, com a forma acabada pela qual se veiculam, são parte do mundo: convém averiguar a quem interessa o contorno de uma análise política, o perfil criado de uma personalidade, o sentido de um levante popular ou o alcance de uma medida econômica. O leitor e o espectador atentos ao que leem ou veem não têm o direito de colocar de lado seu senso crítico e tomar a notícia como espelho fiel da "realidade". Antes de julgarmos "real" o "fato" que já está interpretado diante de nossos olhos, convém reconhecermos o ângulo pelo qual o fato se apresenta como indiscutível e como se compõe, por palavras ou imagens, a perspectiva pela qual uma bem particular "realidade" quer se impor para nós, dispensando-nos de discutir o ponto de vista pelo qual se construiu uma informação.

(Tibério Gaspar).

Diante das informações que habitualmente nos oferecem os jornais e os noticiários, devemos, segundo o autor do texto:

16. Considerar como fatos efetivos apenas aqueles que ganham igual dimensão em todos os veículos.
17. Imaginar que os interesses existentes na divulgação dos fatos acabam por destituí-los de importância.
18. Interpretar as notícias de modo a excluir delas o que nos pareça mais problemático ou inverossímil.

Ainda com base no Texto III, julgue os itens a seguir quanto aos aspectos gramaticais.

19. No segundo período do primeiro parágrafo, a expressão "ponta a ponta" poderia ser escrita com o emprego do acento grave (ponta à ponta), mas não com hífen (ponta-a-ponta), haja vista que se trata de um caso facultativo de ocorrência da crase e que o acordo ortográfico em vigor retirou o uso do hífen entre vocábulos repetidos.
20. A frase "dispensando-nos de discutir o ponto de vista pelo qual se construiu uma informação.", constante da última linha do texto, poderia ser assim reescrita no plural: "dispensando-nos de discutir os pontos de vistas pelos quais se construíram uma informação."

RACIOCÍNIO LÓGICO

Brunno Lima

Em determinada cidade, o número de infectados pelo Coronavírus em cada dia x do mês de abril de 2020 foi expresso pela função $I(x) = -x^2 + 24x + 200$, em que $1 \leq x \leq 30$. Com base nessas informações, julgue os dois itens que se seguem.

21. No dia 16 de abril de 2020 o número de infectados pelo Coronavírus nessa cidade foi superior a 400.

Brunnã, surgiu aqui uma dúvida... A potência -16^2 não deveria ter apresentado sinal positivo? Não! Se na função tivéssemos $(-x)^2$, aí sim, deveríamos fazer $(-16)^2$ e, nesse caso, teríamos como resposta $+256$, afinal $(-16) \times (-16) = +256$. Mas na potência apresentada temos apenas o 16 elevado ao quadrado, percebeu? Por isso o sinal negativo foi mantido. Cuidado com esse detalhe!

22. Nessa cidade, o maior número de infectados diário registrado no mês de abril de 2020 foi inferior a 350.

O curso de formação da Polícia Rodoviária Federal (PRF) é realizado na cidade de Florianópolis (SC). Suponha que em um dia de folga um grupo de 100 estudantes que frequentam esse curso visitou alguns pontos turísticos da cidade e cada um deles foi a pelo menos um dos seguintes lugares: o Mercado Público, o Ribeirão da Ilha ou a Lagoa da Conceição. Desses estudantes, 2 visitaram somente o Mercado Público e a Lagoa da Conceição; 3 visitaram o Mercado Público, o Ribeirão da Ilha e a Lagoa da Conceição; 5 visitaram somente o Mercado Público; 30 visitaram somente o Ribeirão da Ilha e a Lagoa da Conceição; 5 visitaram somente o Ribeirão da Ilha e o Mercado Público e 70 visitaram a Lagoa da Conceição. Com base nessa situação hipotética, julgue os seis itens a seguir, considerando somente as visitas feitas por esses 100 estudantes.

23. Mais de 40 estudantes não visitaram o Ribeirão da Ilha.

24. Exatamente 30% dos estudantes visitaram apenas a Lagoa da Conceição.

25. A probabilidade de selecionarmos um estudante que tenha visitado a Lagoa da Conceição e o Mercado Público é igual a $\frac{1}{20}$.

26. Considerando-se que um estudante que visitou apenas um dos pontos turísticos foi escolhido ao acaso, então a probabilidade de ser um estudante que tenha visitado a Lagoa da Conceição é superior a 58%.

27. Caso os “n” estudantes que visitaram o Mercado Público e o Ribeirão da Ilha resolvam almoçar juntos num restaurante em uma mesa circular com “n” cadeiras, então eles poderão ser acomodados de 8! formas distintas.

28. Considere que os estudantes que visitaram apenas o Mercado Público alugaram um carro com capacidade para 5 pessoas. Sabendo que todos eles poderiam dirigir o veículo, o número de maneiras distintas de posicionar esses estudantes no carro é superior a 5^3 .

INFORMÁTICA

Ranielison Passos

Julgue os itens a seguir, relativo à segurança da informação.

29. A ferramenta de software Rootkit é um tipo de programa instalado no computador do usuário sem causar danos severos a máquina ou comprometer de qualquer forma a segurança do sistema.

30. Uma das alternativas de segurança que permite ao computador filtrar tentativas externas de acessos não autorizados, é a implementação de Firewall. Esse sistema auxilia a rede e contribui para a melhora do estado de segurança da informação do ambiente computacional.

31. Em relação a *Cloud Computing*, julgue o próximo item

Considerando a situação em que uma instituição de ensino possua sua própria infraestrutura computacional e que utiliza o sistema de computação em nuvem para disponibilizar recursos de armazenamento às máquinas de rede, se enquadra no modelo denominado computação híbrida.

32. Julgue a próxima afirmativa, com relação a sistema proxy.

Os servidores de rede que operam em modo de *Proxy* são capazes de criar caches com as solicitações dos usuários da rede, de forma a otimizar consultas futuras, sendo essas caches de uso exclusivo de seu respectivo usuário.

33. Considerando regras e operações em sistemas operacionais, julgue o próximo item.

São operações de um Kernel: interromper processos menos importantes; execução, criação e eliminação de processos; e executar as chamadas de sistema, system calls.

34. Sobre técnicas de operações em redes para correio eletrônico, jogue o próximo item.

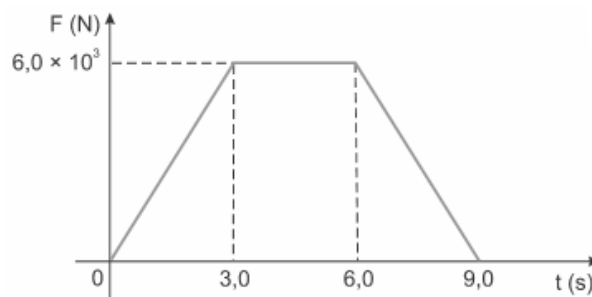
No aplicativo gerenciador de mensagens Microsoft Outlook, baseando-se em sua configuração padrão, a opção Com Cópia Oculta (Cco) está habilitada, visível e disponível na janela de nova mensagem. Na opção Cco o usuário poderá marcar um ou mais destinatários durante a criação do novo email.

FÍSICA

Vinícius Silva

Texto para as questões 35, 36 e 37.

Observe no gráfico a variação, em newtons, da intensidade da força F aplicada pelos motores de um veículo em seus primeiros 9s de deslocamento. Julgue os itens que seguem.



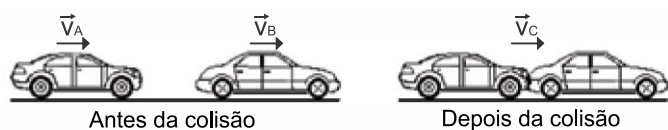
35. O movimento do corpo é uniforme entre 3s e 6s.

36. o impulso da força do motor é igual a 36kN.

37. A quantidade de movimento do corpo entre 0 e 9s é variável.

Texto para as questões 38 e 39.

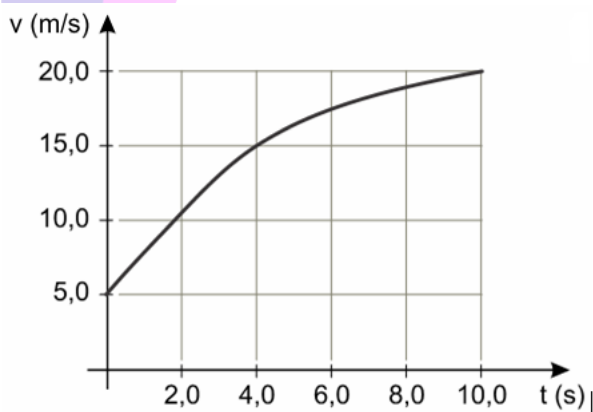
Um automóvel trafegava com velocidade constante por uma avenida plana e horizontal quando foi atingido na traseira por outro automóvel, que trafegava na mesma direção e sentido, também com velocidade constante. Após a colisão, os automóveis ficaram unidos e passaram a se mover com a mesma velocidade.



Acerca da situação acima, julgue os itens que seguem.

38. A colisão que ocorreu entre os veículos foi inelástica.

39. Houve conservação da energia mecânica durante a colisão.



40. A intensidade média da força resultante sobre esse automóvel, no intervalo de tempo entre zero e quatro segundos, é maior que 3,0kN.

ÉTICA NO SERVIÇO PÚBLICO

Paulo Guimarães

41. Com relação à ausência do servidor público ao trabalho, o Código de Ética Profissional (Decreto nº 1.171/1994) dispõe que:

O servidor que não for trabalhar será preso administrativamente assim que for encontrado, devendo cumprir a punição por pelo menos três dias em cela separada dos demais presos.

42. Configura uma PROIBIÇÃO ao servidor público, prevista no Código de Ética Profissional (Decreto 1.171/94):

Ter respeito à hierarquia, porém sem nenhum temor de representar contra qualquer comprometimento indevido da estrutura em que se funda o Poder Estatal.

43. Os deveres e as vedações constantes dos códigos de ética devem se prestar a detalhar e a elucidar obrigações e proibições já constantes do regime estatutário.

44. O servidor público possui um dever ético igual ao dos demais profissionais em geral, nem mais nem menos.

GEOPOLÍTICA BRASILEIRA

Leandro Signori

"Não era óbvio que o Brasil se tornasse o gigante que é hoje: a parte do continente atribuída a Portugal pelo Tratado de Tordesilhas era limitada pelo meridiano que passa pela foz do rio Amazonas. Dois séculos e meio depois, as fronteiras atuais, quase três mil quilômetros a oeste da anterior, já eram atingidas na maior parte de sua extensão, e a força do sentimento nacional, forjado nesta conquista, permitiu superar todas as segmentações sociais e regionais."

Hervé Théry e Neli Aparecida de Mello-Théry. Atlas do Brasil. São Paulo: Edusp, 2014, p. 32 (com adaptações).

Considerando o texto acima, que tem caráter unicamente motivador, e os múltiplos aspectos a ele relacionado, julgue os itens a seguir:

45. A expressão “arquipélago exportador” procura descrever a organização espacial do Brasil no século XIX, caracterizada por regiões economicamente especializadas em meio a vazios demográficos que se conectavam por uma densa malha ferroviária e rodoviária.

46. As fronteiras atuais brasileiras são muito extensas e, apesar da preocupação com a segurança, na época da globalização, são vistas como espaço de integração econômica.

Em meio a perspectivas globais de escassez de recursos naturais, a existência e a preservação de recursos naturais se torna um importante recurso geopolítico no mundo para os estados nacionais. Nessa nova conjuntura global, o Brasil, país rico em recursos naturais e com grande biodiversidade, pode utilizá-los de maneira estratégica para ampliar sua esfera de influência, além de planejar modelos econômicos ambientais e sustentáveis para o seu próprio desenvolvimento.

Com relação ao espaço natural brasileiro e os seus múltiplos aspectos relacionados, julgue os itens a seguir:

47. O Pantanal Mato-grossense, extensa planície drenada pelo rio Paraguai, possui uma grande heterogeneidade de vegetais, mesclando características de todos os domínios naturais brasileiros.

48. A Mata Atlântica, muito importante para a preservação da biodiversidade brasileira e mundial, é um bioma bastante ameaçado, restando atualmente menos de 5% da sua área original.

HISTÓRIA DA PRF

Leandro Signori

Considerando a atualidade da Polícia Rodoviária Federal (PRF) julgue os itens a seguir:

49. A PRF é uma instituição que age com a visão calcada na garantia dos direitos humanos e sua atuação está sempre estruturada por um consistente modelo de gestão, baseado em constante modernização, buscando efetividade e celeridade.

50. O vigor da atuação articulada da PRF está presente também no cenário internacional, tendo como exemplos acordos de cooperação com organizações internacionais que são referências no segmento de segurança pública.

LEGISLAÇÃO DE TRÂNSITO

Marcos Girão

No que se refere à Lei nº 9.503/1997 (Código de Trânsito Brasileiro - CTB), julgue os itens subsequentes.

51. Um condutor de veículo só poderá fazer uso de buzina, desde que em toque breve, apenas para fazer as advertências necessárias a fim de evitar acidentes e, fora das áreas urbanas, quando for conveniente advertir a um condutor que se tem o propósito de ultrapassá-lo.

52. Determinado condutor passou a 100 km/h por uma rodovia que estava sinalizada com placa de regulamentação informando que a velocidade máxima permitida para o local é 90 km/h. Nesse caso, é seguro afirmar que o condutor cometeu uma infração de natureza grave.

53. O Código de Trânsito Brasileiro conceitua caminhão-trator como o veículo destinado ao transporte de carga com peso bruto total de até três mil e quinhentos quilogramas.

54. **Situação hipotética.** O condutor Vatotin Almeida se envolveu em um acidente de trânsito que, infelizmente, teve duas pessoas como vítimas. Vatotin, com receio das consequências, deixou de preservar o local do acidente, o que dificultou os trabalhos da polícia e da perícia. **Assertiva.** Vatotin não deveria ter cometido essa conduta é uma infração gravíssima.

55. É vedado ao motorista profissional dirigir por mais de 5 (cinco) horas e meia ininterruptas veículos de transporte rodoviário coletivo de passageiros ou de transporte rodoviário de cargas. Na condução de veículo de transporte de carga, serão observados 30 (trinta) minutos para descanso a cada 6 (seis) horas, sendo facultado o seu fracionamento e o do tempo de direção desde que não ultrapassadas 5 (cinco) horas e meia contínuas no exercício da condução.
56. As placas com as cores verde e amarela da Bandeira Nacional serão usadas somente pelos veículos de representação pessoal do Presidente e do Vice-Presidente da República, dos Presidentes do Senado Federal e da Câmara dos Deputados, e do Presidente Ministros do Supremo Tribunal Federal.
57. Se determinado veículo que tenha sido legalmente removido não for reclamado por seu proprietário dentro do prazo de sessenta dias, contado da data de recolhimento, será avaliado e levado a leilão, que deverá ser realizado preferencialmente por meio eletrônico. Tal regra se aplica, no que couber, aos animais recolhidos e não for reclamados por seu proprietário.
58. Nos termos do Código de Trânsito Brasileiro, é correto afirmar que dirigir veículo sem usar lentes corretoras de visão, aparelho auxiliar de audição, de prótese física ou as adaptações do veículo impostas por ocasião da concessão ou da renovação da licença para conduzir, é considerada infração grave, com penalidade de multa, sujeitando o infrator à medida administrativa de retenção do veículo até o saneamento da irregularidade ou apresentação de condutor habilitado.
59. Em qualquer fase da investigação ou da ação penal, poderá o juiz decretar, como medida cautelar, em decisão motivada, a suspensão da permissão ou da habilitação para dirigir veículo automotor, ou a proibição de sua obtenção. Não está errado afirmar que essa decisão só poderá ser realizada de ofício ou a requerimento do Ministério Público.
60. As alterações do CTB, feitas pela Lei Brasileira de Inclusão da Pessoa com Deficiência e Lei nº 13.281, acrescentaram para o órgão ou entidade de trânsito dos Municípios a competência de executar a fiscalização de infrações em estacionamentos de edificações de uso público e edificações privadas de uso coletivo, mas apenas para aquelas infrações relacionadas ao uso de vagas reservadas em estacionamentos.
61. O uso de luzes em veículo deverá obedecer a algumas regras, como por exemplo, aquela que obriga o condutor que, ao trafegar sob chuva, a manter acesas as luzes de posição do seu veículo.
62. É prescindível à consumação do delito de embriaguez ao volante a prova da produção de perigo concreto à segurança pública, bastando a prova da embriaguez, por se tratar de delito de perigo abstrato..
63. **Situação hipotética.** Determinado condutor, trafegando com seu veículo por uma rodovia, ultrapassou pela contramão outro veículo em um aclive com pouca visibilidade, quando foi abordado por um PRF. O PRF o informou que ele seria autuado por ter cometido infração de trânsito e que, respeitado o devido processo legal, em sendo aplicada a respectiva multa, ele pagaria o valor de R\$ 130,16 (cento e trinta reais e dezesseis centavos). **Assertiva.** O PRF acertou em suas afirmações.
64. A velocidade máxima permitida para a via será indicada por meio de sinalização, obedecidas suas características técnicas e as condições de trânsito. Onde não existir sinalização regulamentadora, nas vias urbanas, a velocidade máxima para uma via secundária será de 40 km/h.
65. Os locais destinados a postos de gasolina, oficinas, estacionamentos, ou garagens de uso coletivo, deverão ter suas entradas e saídas devidamente identificadas, na forma regulamentada pelo DETRAN.

- 66. Situação hipotética.** Marilyn Monrói participou, na direção de seu veículo automotor, em via pública, de competição automobilística não autorizada pela autoridade competente. Tal conduta gerou tamanho risco à incolumidade pública que ela, ao se atralhar em uma manobra, atropelou um transeunte que passava, causando-lhe lesão corporal grave. **Assertiva.** Por esse crime, respeitado o devido processo legal, Monrói será condenada à pena privativa de liberdade de reclusão, que variará de 3 (três) a 6 (seis) anos, sem prejuízo das outras penas cabíveis.
- 67.** A velocidade mínima para uma via, quando sinalizada com velocidade máxima de 90 km/h, e estando a via em condições normais de trânsito, será de 40 km/h.
- 68.** Se determinado condutor executa operação de retorno com prejuízo da livre circulação ou da segurança, ainda que o faça em local permitido, comete uma infração gravíssima e será apenado com multa.
- 69.** A atuação dos integrantes do Sistema Nacional de Trânsito, no que se refere à política de segurança no trânsito, deverá voltar-se prioritariamente para o cumprimento de metas anuais de redução de índice de mortos por grupo de veículos e de índice de mortos por grupo de habitantes. Tais índices deverão ser apurados pelo Governo Federal, semestralmente, detalhando-se os dados levantados e as ações realizadas por vias federais, estaduais e municipais.
- 70.** Determinada via de trânsito rápido está devidamente sinalizada com velocidade máxima de 100km/h. De acordo com o CTB, é correto afirmar que o órgão que a sinalizou errou, pois as vias dessa espécie devem ter velocidade máxima de 80km/h.
- 71.** Sempre que não houver faixa especial a eles destinada, os veículos de tração animal deverão ser conduzidos pela direita da pista, junto à guia da calçada (meio-fio) ou acostamento.
- 72.** Ao veículo ou combinação de veículos utilizado no transporte de carga indivisível, que não se enquadre nos limites de peso e dimensões estabelecidos pelo CONTRAN, poderá ser concedida, pela autoridade com circunscrição sobre a via, autorização especial de trânsito, com prazo de 6 (meses), renovável por igual período, atendidas as medidas de segurança consideradas necessárias.
- 73.** Pelas regras atuais da legislação de trânsito brasileira, o proprietário poderá indicar ao órgão executivo de trânsito, o principal condutor do seu veículo, o qual, após aceitar a indicação, terá seu nome inscrito em campo próprio do cadastro do veículo no CRLV.
- 74.** Está correto afirmar que quando um condutor passar por um local a 87 km/h, sendo tal velocidade registrada por radar devidamente instalado na via, e a velocidade da via determinada for 60 km/h, esse condutor, terá cometido uma infração de natureza grave.
- 75.** É o Presidente da República o único competente, segundo o CTB, para designar o ministério ou órgão da Presidência responsável pela coordenação máxima do Sistema Nacional de Trânsito, ao qual estará vinculado o CONTRAN e subordinado o órgão máximo executivo de trânsito da União.
- 76. Situação hipotética.** Certo condutor, distraído, deixou de parar o veículo antes de transpor linha férrea, o que quase ocasionou UM grave acidente com um trem que se aproximava. **Assertiva.** Esse condutor cometeu uma infração de natureza grave, punível com multa de R\$ 195,23 (cento e noventa e cinco reais e vinte e três centavos)..

77. O pagamento da multa poderá ser efetuado até a data do vencimento expressa na notificação, por oitenta por cento do seu valor. Certo infrator optou pelo sistema de notificação eletrônica, disponível em seu Estado. Se ele optar também por não apresentar defesa prévia nem recurso, reconhecendo o cometimento da infração, poderá efetuar o pagamento da multa por 60% (sessenta por cento) do seu valor. Isso ele pode fazer em qualquer fase do processo, até o vencimento da multa.

78. Um condutor de um veículo envolveu-se em um acidente de trânsito que resultou em vítima. Por esse fato, ainda que ele venha a prestar pronto e integral socorro à vítima, a ele tanto se imporá a prisão em flagrante como dele será exigida fiança.

79. A via caracterizada por intersecções em nível, geralmente controladas por semáforos, com acessibilidade aos lotes lindeiros, possibilitando o trânsito entre as regiões da cidade, é denominada via arterial.

80. Deixar de dar preferência de passagem a pedestre e a veículo não motorizado que não haja concluído a travessia, mesmo que ocorra sinal verde para o veículo, é infração grave, com suspensão do direito de dirigir como penalidade.

Julgue os itens a seguir de acordo com a Resolução CONTRAN nº 211/06.

81. A exigência de portar Autorização Especial de Trânsito – AET para circular em vias públicas se dará apenas para Combinações de Veículos de Carga - CVC, com mais de duas unidades, incluída a unidade tratora, que possuam peso bruto total a partir de 57 t ou comprimento total acima de 19,80 m.

82. O caminhão-trator poderá ser de tração simples (4x2) nas Combinações com Peso Bruto Total Combinado – PBTC inferior a 55 toneladas.

Analise os itens a seguir e julgue-os, tendo em vista o disposto na Resolução CONTRAN nº 253/07.

83. A medição da transmitância luminosa das áreas envidraçadas de veículos deverá ser efetuada por meio de instrumento denominado Medidor de Transmitância Luminosa, o instrumento de medição destinado a medir, em valores percentuais, a transmitância luminosa de vidros, películas, filmes e outros materiais simples ou compostos.

84. O auto de infração, além das demais exigências legais, deverá conter, expressos em valores percentuais: a medição realizada pelo instrumento e o valor considerado para fins de aplicação de penalidade, somente.

Julgue os itens subsequentes, tendo em vista as disposições da Resolução CONTRAN nº 268/08, que regula o uso de luzes intermitentes ou rotativas em veículos.

85. A condução dos veículos de emergência, somente se dará sob circunstâncias que permitam o uso das prerrogativas de prioridade de trânsito e de livre circulação, estacionamento e parada, quando em efetiva prestação de serviço de urgência que os caracterizem como veículos de emergência, estando neles acionados o sistema de iluminação vermelha intermitente e alarme sonoro. Amarelo-âmbar não se aplica para esses veículos.

86. Os veículos prestadores de serviços de utilidade pública, referidos no Código de Trânsito Brasileiro, identificam-se pela instalação de dispositivo, não removível, de iluminação intermitente ou rotativa, e somente com luz amarelo-âmbar.

Julgue os itens a seguir de acordo com a Resolução CONTRAN nº 289/08.

87. É correto afirmar que compete ao Departamento Nacional de Infraestrutura de Transportes - DNIT, Órgão Executivo Rodoviário da União, no âmbito de sua circunscrição exercer a fiscalização eletrônica de velocidade nas rodovias federais, utilizando instrumento ou medidor de velocidade do tipo fixo, assim como a engenharia de tráfego para implantação de novos pontos de redução de velocidade.

88. Para a instalação de equipamento do tipo fixo de controle de velocidade, o DPRF solicitará ao DNIT a autorização para intervenção física na via.

Tendo em vista o disposto na Resolução CONTRAN nº 290/08, julgue os itens subsecutivos.

89. Para efeito de registro, licenciamento e circulação, todos os veículos de tração, de carga e os de transporte coletivo de passageiros deverão ter indicação de suas características registradas para obtenção do CAT - Certificado de Adequação à Legislação de Trânsito.

90. A responsabilidade pela inscrição e conteúdo dos pesos e capacidades nos veículos de que trata a Resolução será do proprietário, quando se tratar de veículo novo acabado ou inacabado.

DIREITO ADMINISTRATIVO

Thallius Moraes

Acerca da Organização da Administração Pública, julgue os próximos itens.

91. O ente federado instituidor não exerce hierarquia ou controle sobre o ente da Administração Indireta que foi por ele criado.

92. A desconcentração administrativa consiste na distribuição interna de competências agrupadas em unidades individualizadas, sem que ocorra a criação de uma nova pessoa jurídica.

Acerca dos atos administrativos e dos poderes da administração, considerando as disposições doutrinárias, legais e jurisprudenciais pertinentes, julgue as próximas assertivas.

93. Quando determinado agente público extrapola suas atribuições, aplicando uma multa acima do valor permitido por lei, estará agindo com desvio de poder.

94. A motivação representa a situação fática e jurídica que justifica a prática do ato. É no elemento motivo que a exposição dessas razões será realizada, de maneira a embasar o ato praticado pelo administrador.

Conforme disposições da Lei 8.112/90, que estabelece o regime jurídico dos servidores públicos federais, analise a próxima assertiva.

95. Embora as esferas civil, penal e administrativas sejam independentes, a absolvição criminal do servidor poderá produzir reflexos na esfera administrativa, isentando o servidor de responsabilidade.

DIREITO CONSTITUCIONAL

Adriane Fauth

96. Em relação à inviolabilidade de domicílio, julgue:

Poderá o agente de polícia adentrar em domicílio particular sem o consentimento do morador durante o dia por meio de mandado judicial, ou a qualquer horário, mesmo sem ordem judicial, caso haja fundadas razões, justificadas posteriormente que indiquem que dentro da casa ocorre situação de flagrante delito.

97. No que diz respeito aos direitos fundamentais e à inviolabilidade de correspondência, julgue o item.

A inviolabilidade de correspondência alcança a todos sem distinção, exceto quando se tratar de correspondência destinada ou remetida a pessoa presa, visto que, segundo o STJ, poderá a administração penitenciária interceptá-las, desde que com fundamento em razões de segurança pública, de disciplina prisional ou de preservação da ordem jurídica.

98. A respeito da segurança pública, julgue:

No âmbito dos estados e do Distrito Federal, a segurança viária fica sob a responsabilidade dos respectivos órgãos ou entidades executivos e seus agentes de trânsito, estruturados em Carreira, na forma da lei.

99. Em relação à Ordem Social e aos princípios da Seguridade Social, julgue:

O princípio da equidade na forma e participação do custeio determina uma participação igual dos agentes financiadores da seguridade.

100. Sobre a Ordem Social, julgue o item que se segue:

A previdência social será organizada sob a forma do Regime Geral de Previdência Social, de caráter contributivo e de filiação facultativa, observados critérios que preservem o equilíbrio financeiro e atuarial.

DIREITO PENAL

Renan Araújo

TEXTO-BASE para os itens 101 e 103

Situação hipotética: No dia 10.05.2020, por volta das 23:30h, José entrou em determinada agência bancária e, valendo-se de artefato explosivo, estourou um dos caixas eletrônicos, com vistas à subtração de cédulas. Após a explosão, José reuniu a maior quantidade de cédulas possível e as colocou na mochila, empreendendo

fuga. Policiais militares foram noticiados do ocorrido e iniciaram perseguição ininterrupta, que culminou na prisão em flagrante do infrator alguns minutos depois, tendo sido recuperada a *res furtiva* em sua integralidade.

Atento ao caso narrado, julgue os itens:

101. Assertiva: José praticou o crime de furto qualificado pelo emprego de explosivo ou artefato análogo que cause perigo comum.

102. Assertiva: a pena imposta a José será aumentada em um terço, por ter sido o crime praticado durante o repouso noturno, ainda que a conduta não tenha sido realizada em imóvel residencial.

103. Assertiva: tendo sido recuperadas as cédulas pouco tempo após a infração, configura-se o crime de furto em sua forma tentada, eis que o agente não teve a posse mansa e pacífica da coisa subtraída.

TEXTO-BASE para os itens 104 a 106

Situação hipotética: José, Policial Rodoviário Federal, durante abordagem de rotina, verificou que a CNH apresentada por Pedro, motorista, era falsa. Dada voz de prisão ao condutor, este ofereceu R\$ 500,00 ao policial José para não ser conduzido à delegacia de polícia. José não aceitou a oferta e conduziu o infrator à presença da autoridade policial, tendo o infrator confessado que fabricou a CNH falsa para posterior utilização, eis que não conseguia ser aprovado no exame.

Atento ao caso narrado, julgue os itens:

104. Assertiva: no que tange à falsificação e posterior utilização da CNH falsificada, Pedro deverá responder pelos delitos de falsificação de documento público e uso de documento falso, em concurso material.

105. Assertiva: quanto à oferta de vantagem indevida ao policial, Pedro deverá responder pelo crime de corrupção ativa, em sua forma tentada.

106. Assertiva: não será possível a aplicação do princípio da insignificância em relação aos crimes praticados por Pedro, conforme entendimento jurisprudencial predominante.

DIREITO PROCESSUAL PENAL

Renan Araújo

TEXTO-BASE para os itens 107 a 110

Situação hipotética: Determinado inquérito policial foi instaurado para apurar as circunstâncias de um crime de homicídio doloso qualificado, em tese praticado por José, que foi preso em flagrante, tendo sua prisão em flagrante sido convertida em prisão preventiva pela autoridade judiciária competente.

Atento ao caso narrado, julgue os itens:

107. Assertiva: caso o inquérito policial venha a ser arquivado por falta de elementos suficientes para a denúncia, isso não impedirá a retomada futura das investigações, desde que haja notícia de prova nova.

108. Assertiva: no presente caso, o inquérito policial deverá se encerrar em até 30 dias, a contar da instauração do inquérito policial.

109. Assertiva: caso José constitua defensor para acompanhar o inquérito, este deverá ter acesso amplo aos elementos de prova já documentados nos autos.

110. Assertiva: verificando a autoridade policial que o fato foi praticado acobertado por excludente de ilicitude, poderá esta determinar o arquivamento dos autos do inquérito.

LEGISLAÇÃO ESPECIAL

Paulo Guimarães

111. De acordo com a Lei nº 5.553 de 1968, que trata da apresentação e uso de documento de identificação pessoal, julgue o item abaixo:

Quando, para a realização de determinado ato, for exigida a apresentação de documento de

identificação, a pessoa que fizer a exigência fará extrair, no prazo de até 5 (cinco) dias, os dados que interessarem devolvendo em seguida o documento ao seu exibidor.

112. Constitui crime punível com pena de detenção de 1 (um) a 3 (três) anos ou multa a retenção de qualquer documento previsto da Lei 5.553 de 1968.

113. O Sistema Nacional de Armas – Sinarm foi instituído pelo Estatuto do Desarmamento (Lei 10.826 de 2003) no âmbito da Polícia Federal, com circunscrição em todo o território nacional.

114. O crime de corrupção de menores previsto no Estatuto da Criança e do Adolescente é um delito material, razão por que, para a sua caracterização, é necessária a efetiva comprovação de que o menor foi corrompido.

115. Conforme a Lei nº 8.069/1990 (ECA) é crime o armazenamento de fotografias ou vídeos que contenham cena de sexo explícito envolvendo criança ou adolescente mesmo que recebido de forma involuntária.

DIREITOS HUMANOS E CIDADANIA

Ricardo Torques

Julgue os itens com base na Teoria Geral dos Direitos Humanos, sua evolução, características, presença na Constituição Federal e sua proteção internacional.

116. Quando reconhecidos pelo ordenamento jurídico interno, os direitos humanos são denominados direitos fundamentais.

117. A eficácia horizontal dos direitos humanos refere-se à sua aplicação nas relações entre o Estado e os cidadãos.

118. A Constituição Federal garante a inviolabilidade da honra e da imagem das pessoas. Em caso de ofensa praticada por determinado veículo de comunicação, o direito de resposta afastará o direito à indenização.

119. O Supremo Tribunal Federal decidiu que as pesquisas com células-tronco embrionárias não violam o direito à vida, nem a dignidade da pessoa humana.

Com base no Programa Nacional de Direitos Humanos (PNDH) julgue o item abaixo:

120. O Decreto nº 7.037/2009, ao aprovar o Programa Nacional de Direitos Humanos (PNDH-3), estabelece seis eixos orientadores e veda que sejam firmadas parcerias com outros órgãos federais, além daqueles já indicados como responsáveis para a implementação do PNDH-3.

Estratégia
Concursos

Preencha o Gabarito!

<https://bit.ly/Simulado-PRF-24-05>

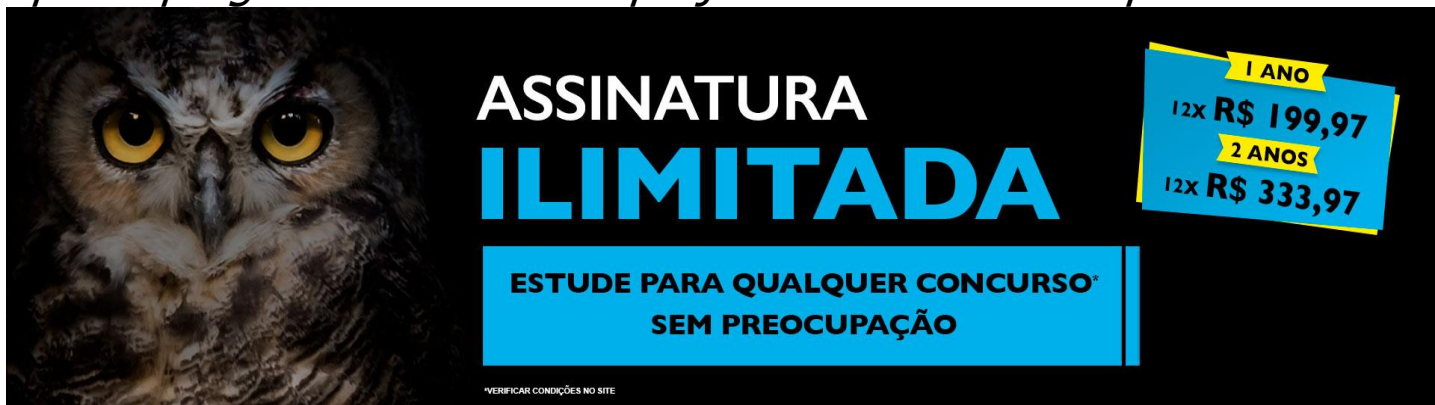
Conheça nosso Sistema de Questões

Estratégia Questões nasceu maior do que todos os concorrentes, com mais questões cadastradas e mais soluções por professores. Clique no banner e aproveite os descontos e bônus imperdíveis!



Não é assinante?

Confira nossos planos, tenha acesso a milhares de cursos e participe gratuitamente dos projetos exclusivos. Clique no banner!



ASSINATURA ILIMITADA

ESTUDE PARA QUALQUER CONCURSO* SEM PREOCUPAÇÃO

1 ANO
12X R\$ 199,97

2 ANOS
12X R\$ 333,97

*VERIFICAR CONDIÇÕES NO SITE