

IBGE
Instituto Brasileiro de Geografia e Estatística



Estratégia
Concursos

www.ibge.gov.br
0800 70 1000

SIMULADO

IBGE

COORDENADOR CENSITÁRIO DE SUBÁREA

MINAS GERAIS

ESPIRITO SANTO

RIO DE JANEIRO

IBGE

Simulado Especial

IBGE – Coordenador Censitário

Nome: _____

INFORMAÇÕES SOBRE O SIMULADO EXCLUSIVO

- 1 – Este simulado conta com questões focadas no concurso do IBGE;
- 2 – A prova contém **60 itens** que abordam conhecimentos cobrados nos últimos editais dos concursos;
- 3 – As questões são inéditas e foram elaboradas pelos nossos professores com base no perfil da banca organizadora FGV, com alternativas A, B, C, D e E.
- 4 – Este PDF foi enviado por e-mail, disponibilizado na área do aluno e em um artigo publicado no blog do Estratégia Concursos;
- 5 – Os participantes têm das **8h30 às 13h** para responder às questões e preencher o Gabarito Eletrônico;
- 6 – O link para preencher o formulário com seu gabarito está localizado na última página deste PDF;
- 7 – **A partir das 14h, os nossos professores iniciarão a Correção da Prova AO VIVO no canal do Estratégia Concursos no YouTube.** Eles resolverão todos os itens das questões. Aproveite para assisti-la AO VIVO e corrigir os erros, pois o vídeo ficará disponível apenas na área do aluno.
- 8 – O Gabarito do Simulado e o Ranking Classificatório com nota serão divulgados durante a transmissão da correção da prova.

PREENCHA SEU GABARITO NO LINK - <http://bit.ly/Simulado-IBGE-30-11>

- | | | | | |
|----------------|----------------|----------------|----------------|----------------|
| 01 - A B C D E | 13 - A B C D E | 25 - A B C D E | 37 - A B C D E | 49 - A B C D E |
| 02 - A B C D E | 14 - A B C D E | 26 - A B C D E | 38 - A B C D E | 50 - A B C D E |
| 03 - A B C D E | 15 - A B C D E | 27 - A B C D E | 39 - A B C D E | 51 - A B C D E |
| 04 - A B C D E | 16 - A B C D E | 28 - A B C D E | 40 - A B C D E | 52 - A B C D E |
| 05 - A B C D E | 17 - A B C D E | 29 - A B C D E | 41 - A B C D E | 53 - A B C D E |
| 06 - A B C D E | 18 - A B C D E | 30 - A B C D E | 42 - A B C D E | 54 - A B C D E |
| 07 - A B C D E | 19 - A B C D E | 31 - A B C D E | 43 - A B C D E | 55 - A B C D E |
| 08 - A B C D E | 20 - A B C D E | 32 - A B C D E | 44 - A B C D E | 56 - A B C D E |
| 09 - A B C D E | 21 - A B C D E | 33 - A B C D E | 45 - A B C D E | 57 - A B C D E |
| 10 - A B C D E | 22 - A B C D E | 34 - A B C D E | 46 - A B C D E | 58 - A B C D E |
| 11 - A B C D E | 23 - A B C D E | 35 - A B C D E | 47 - A B C D E | 59 - A B C D E |
| 12 - A B C D E | 24 - A B C D E | 36 - A B C D E | 48 - A B C D E | 60 - A B C D E |

PORTUGUÊS**TEXTO I**

<https://www.ibge.gov.br/>

01. Sobre o texto 1 é correto afirmar que:

- a) cabe a troca de "censo" por "senso" neste contexto.
- b) deve haver a inserção do artigo "o" após "todo".
- c) a palavra "Taí" é um exemplo de linguagem coloquial, informal.
- d) o verbo "receber" não apresenta complemento.
- e) só há artigo indefinido no texto.

02. Sobre os elementos coesivos no texto, entende-se que

- a) "uma coisa" retoma a primeira frase do texto.
- b) a expressão "uma coisa" apresenta valor mais específico em relação ao seu referente.
- c) a palavra "que" é um conectivo e não desempenha papel anafórico.
- d) o vocábulo "mineiro" desempenha valor anafórico.
- e) o pronome "você" tem valor generalizante e pode ser substituído por "alguém".

03. A palavra "receber", no texto, apresenta o mesmo sentido da que se encontra na seguinte frase:

- a) Gumercendo tinha a casa bem-posta, recebia todo o Rio de Janeiro.
- b) Recebeu a moça após três anos de noivado.
- c) Juvenal finalmente recebeu as férias atrasadas.
- d) O soldado recebeu medalha de honra.
- e) Ele foi demitido, pois não gostava de receber ordens.

TEXTO II

O Índice Nacional de Preços ao Consumidor Amplo 15 (IPCA-15) variou 0,14% em novembro, mostrando leve aceleração em relação à taxa de 0,09% registrada em outubro. Esse é o menor resultado para um mês de novembro desde 1998, quando a taxa foi de -0,11%. No ano, o IPCA-15 acumula alta de 2,83% e, em 12 meses, de 2,67%, abaixo dos 2,72% registrados nos 12 meses imediatamente anteriores. Em novembro de 2018, a taxa foi de 0,19%.

<https://agenciadenoticias.ibge.gov.br/> Última Atualização: 22/11/2019 10h58

04. Sobre os números do IPCA-15 no texto, entende-se que:

- a) o menor resultado é o de novembro de 2018.

- b) houve grave aceleração em 1998, pois o número -0,11% é negativo.
- c) o acumulado, somando os 12 meses do ano em vigor, é de 2,67%.
- d) houve variação de 0,05% do IPCA-15 de novembro de 2019 em relação ao ano anterior.
- e) houve desaceleração de 0,09% em outubro em relação ao mês anterior.

TEXTO III**Minuto IBGE**

O Minuto IBGE é um programa de rádio semanal disponibilizado gratuitamente para emissoras de todo o país, através da Rede Nacional de Rádio.

Com dados e curiosidades, o programa mostra como as informações produzidas pelo IBGE estão presentes no dia-a-dia dos brasileiros. Toda segunda-feira, é lançada uma nova edição.

<https://agenciadenoticias.ibge.gov.br/minuto-ibge.html>

05. Quanto às características do texto 3, percebe-se que:

- a) há argumento de autoridade, a fim de reforçar o caráter argumentativo.
- b) há citações, a fim de garantir seu caráter didático.
- c) há definição e caracterização, a fim de apresentar um canal de comunicação.
- d) é exemplo de texto descritivo literário.
- e) é exemplo de texto narrativo não literário.

06. Quanto aos aspectos linguísticos do texto 3, está **incorreto** dizer que:

- a) há um vício na grafia da palavra "dia-a-dia".
- b) pode-se trocar "através da" **por meio da**.
- c) o vocábulo "segunda-feira" pode ser precedido do artigo "a".
- d) a palavra "Minuto" apresenta valor específico, por isso não deve ser grafada com inicial minúscula.
- e) "gratuitamente" é um advérbio de modo.

07. A única frase abaixo que se mostra coerente é:

- a) Passar muito tempo estudando é preguiça.
- b) As pessoas estão morrendo de fome por causa da riqueza do país.
- c) A televisão é a maior maravilha da ciência a serviço da imbecilidade humana.
- d) Fiz aquele caríssimo curso de gastronomia, não obstante sei cozinhar.
- e) Os loucos às vezes se curam, os imbecis nunca.

TEXTO IV

Após dois anos consecutivos de queda, 2015 (-3,5%) e 2016 (-3,3%), o PIB do Brasil voltou a crescer em volume: 1,3% em 2017 na comparação com 2016. Entre as unidades da Federação, apenas Rio de Janeiro (-1,6%), Sergipe (-1,1%) e Paraíba (-0,1%) tiveram variações negativas, ocupando, respectivamente, a 27ª, 26ª e 25ª posições no ranking de variação de volume.

<https://agenciadenoticias.ibge.gov.br/>

08. Marque a alternativa correta quanto aos elementos linguísticos do texto:

- a) A vírgula imediatamente após “queda” separa o adjunto adverbial antecipado.
- b) Como a sigla PIB é conhecida, pode ser grafada com letras minúsculas.
- c) O vocábulo “apenas” transmite uma relação de exclusividade do substantivo próprio “Rio de Janeiro”.
- d) o gerúndio “ocupando” e a vírgula que o antecede podem ser substituídos por e **ocuparam**.
- e) “posições” pode se flexionar no singular, concordando com o último referente: “25ª”.

TEXTO V

A revista Retratos foi publicada pelo IBGE de maio de 2017 a outubro de 2019. Foram 18 edições com reportagens que abordam temas atuais, ligados ao trabalho do instituto na missão de retratar a realidade do país para o exercício da cidadania.

<https://agenciadenoticias.ibge.gov.br/revista-retratos.html>

09. O texto 5 faz supor que

- a) A revista Retratos é uma publicação que tem como função divulgar os dados populacionais de acordo com os levantamentos anuais do IBGE.
- b) As 18 edições do ano de 2019 suplantaram as publicadas no ano de 2018.
- c) Os verbos no passado “foi” e “foram” não asseguram que a revista parou de circular a partir de novembro de 2019.
- d) As edições de 2020 serão ainda mais aprofundadas com dados sociais, do trabalho, saúde.
- e) A revista tem como função promover a instituição IBGE perante a sociedade.

10. Um texto no site do IBGE traz o seguinte título:

São Paulo é o único estado com queda do desemprego no terceiro trimestre

Com base nesse título, marque a alternativa que apresenta uma frase que não estaria nesse texto, por não transmitir relação com esse tema:

- a) A taxa de desocupação de São Paulo foi a única a recuar entre os estados, caindo para 12% no terceiro trimestre de 2019, após registrar 12,8% no segundo trimestre.

- b) Na outra ponta, a desocupação cresceu apenas em Rondônia e atingiu 8,2%, uma alta de 1,5 ponto percentual.
- c) Os maiores níveis de desemprego foram observados na Bahia (16,8%), no Amapá (16,7%) e em Pernambuco (15,8%), e as menores em Santa Catarina (5,8%), Mato Grosso do Sul (7,5%) e Mato Grosso (8%).
- d) Já a taxa de desocupação do país no terceiro trimestre de 2019 caiu para 11,8%, após ficar em 12% no trimestre anterior.
- e) O Observatório de Indicadores da Cidade de São Paulo – ObservaSampa – é uma plataforma online que reúne indicadores capazes de mensurar a qualidade de vida dos paulistanos, o acesso a equipamentos, assim como indicadores de desempenho da PMSP.

TEXTO VI

O grande São Paulo enfrenta graves problemas urbanos. Apesar da alta arrecadação do município e das obras custosas, que se multiplicam a olhos vistos, apenas um terço da cidade tem esgotos. Metade da capital paulista serve-se de água proveniente de poços domiciliares. A rede de hospitais é notoriamente deficiente para a população, ameaçada por uma taxa de poluição que técnicos internacionais consideram superior à de Chicago. O trânsito é um tormento, pois o acréscimo de novos veículos supera a capacidade de dar solução de urbanismo ao problema. Em média, o paulista perde três horas do seu dia para ir e voltar, entre a casa e o trabalho.

(Garcia Othon M. Comunicação em Prosa Moderna, FGV, 26ª ed)

11. A tese do texto 6 é:

- a) Em média, o paulista perde três horas do seu dia para ir e voltar, entre a casa e o trabalho.
- b) O trânsito é um tormento, pois o acréscimo de novos veículos supera a capacidade de dar solução de urbanismo ao problema.
- c) O grande São Paulo enfrenta graves problemas urbanos.
- d) A rede de hospitais é notoriamente deficiente para a população, ameaçada por uma taxa de poluição que técnicos internacionais consideram superior à de Chicago.
- e) Apesar da alta arrecadação do município e das obras custosas, que se multiplicam a olhos vistos, apenas um terço da cidade tem esgotos.

12. Marque a alternativa incorreta:

- a) A expressão "O grande São Paulo" não se refere à cidade de São Paulo tendo em vista o emprego do artigo masculino "O".
- b) A locução prepositiva "Apesar de", em "Apesar da alta arrecadação do município e das obras custosas" pode ser substituído por "A despeito de", mantendo-se o mesmo sentido.
- c) A frase "Em média, o paulista perde três horas do seu dia para ir e voltar, entre a casa e o trabalho." é um dos argumentos que reforçam os "graves problemas urbanos".
- d) O artigo "a" na expressão "à de Chicago" faz subentender a expressão "taxa de poluição".
- e) A conjunção "pois" pode ser substituída por "porquanto", mantendo-se o mesmo sentido.

13. "– Nós somos seres humanos, natural que a gente acompanhe as notícias. Se a gente ganhar esses dois jogos, e o Palmeiras empatar, seremos campeões. Mas a gente tem que deixar isso de lado." (Willian Arão, jogador de futebol do Flamengo)

O trecho acima é um extrato da fala de um jogador numa entrevista. A expressão que comprova uma linguagem informal no texto é:

- a) "Nós somos seres humanos"
- b) "acompanhe as notícias"
- c) "ganhar esses dois jogos"
- d) "seremos campeões"
- e) "tem que deixar"

TEXTO VII

A política afina o espírito humano, educa os povos, desenvolve nos indivíduos a atividade, a coragem, a nobreza, a previsão, a energia, cria, apura, eleva o merecimento.

Não é esse jogo da intriga, da inveja e da incapacidade, entre nós se deu a alcunha de politicagem. Esta palavra não traduz ainda todo o desprezo do objeto significado. Não há dúvida de que rima bem com criadagem e parolagem, afilhadagem e ladroagem. Mas não tem o mesmo vigor de expressão que os seus consoantes. Quem lhe dará o batismo adequado? Politiquice? Politiquismo? Politicaria? Politicalha? Neste último, sim, o sufixo pejorativo queima como ferrete, e desperta ao ouvido uma consonância elucidativa.

Política e politicalha não se confundem, não se parecem, não se relacionam uma com a outra. Antes se negam, se excluem, se repulsam mutuamente. A política é a arte de gerir o Estado, segundo princípios definidos, regras morais, leis escritas, ou tradições respeitáveis.

A politicalha é a indústria de explorar o benefício de interesses pessoais. Constitui a política uma função, ou um conjunto de funções do organismo nacional: é o exercício normal das forças de uma nação consciente e senhora de si. A politicalha, pelo contrário, é o envenenamento crônico dos povos negligentes e viciosos pela contaminação de parasitas inexoráveis. A política é a higiene dos países moralmente sadios. A politicalha, a malária dos povos de moralidade estragada.

14. O texto 7 se estrutura argumentativamente com

- a) pressupostos e subentendidos.
- b) analogia por contraste
- c) método indutivo (específico para o geral)
- d) método dedutivo (geral para o específico)
- e) argumento de autoridade

15. É correto afirmar sobre o texto 7 que:

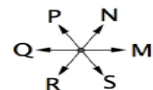
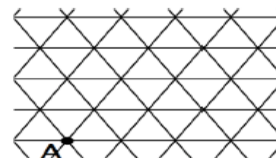
- a) O autor preferiu usar politicalha a politicagem porque esta, embora expresse todo o desprezo do objeto significado, é muito corriqueira entre nós.
- b) Segundo Rui Barbosa, caracteriza a política o aperfeiçoamento do espírito humano e certa semelhança com a politicalha.
- c) A expressão "consonância elucidativa" (2º parágrafo) significa no contexto sentido mais claro, mais acurado.
- d) Os sufixos dos vocábulos "Politiquice", "Politiquismo", "Politicaria", "Politicalha" (todos no 2º parágrafo) têm exatamente o mesmo sentido.
- e) A expressão "queima como ferrete" (2º parágrafo) encontra-se no sentido denotativo.

RACIOCÍNIO LÓGICO

16. Em um ano bissexto, quando o primeiro dia do ano cai em uma quarta-feira, o último dia de março cairá em uma

- a) segunda-feira.
- b) terça-feira.
- c) quarta-feira.
- d) quinta-feira.
- e) sexta-feira.

17. A figura abaixo mostra, à esquerda, uma malha triangular onde cada triângulo tem lado de 1 unidade de comprimento e onde um ponto A está assinalado. À direita, as letras M, N, P, Q, R e S mostram direções e sentido de 6 movimentos possíveis, cada um de 1 unidade.



A partir do ponto A foi feita a seguinte sequência de movimentos: NNPMS, chegando-se ao ponto B. A sequência de movimentos que, partindo de B chega-se ao ponto A, é

- a) RPR.
- b) QQQ.
- c) RQQ.
- d) QRM.
- e) QRP.

18. Ana, Beatriz e Carolina marcaram um encontro às 11h45. Ana chegou às 11h33, Beatriz chegou 37 minutos depois de Ana e Carolina chegou às 11h57. É correto afirmar que

- a) Beatriz chegou antes de Carolina.
- b) Beatriz chegou às 12h05.
- c) Carolina chegou 17 minutos antes de Beatriz.
- d) Carolina chegou 22 minutos depois de Ana.
- e) Carolina chegou 13 minutos antes de Beatriz.

19. Considere a sentença:

“Como e não fico com fome”.

Uma sentença logicamente equivalente à negação da sentença dada é:

- a) Se como então fico com fome.
- b) Se não como então não fico com fome.
- c) Não como e fico com fome.
- d) Como e fico com fome.
- e) Não como ou não fico com fome.

20. André tem 39 moedas e um tabuleiro quadriculado com 6 linhas e 12 colunas. Após André colocar todas as suas moedas no tabuleiro, uma por quadrícula, é verdade que

- a) nenhuma linha do tabuleiro ficou vazia.
- b) pelo menos uma linha do tabuleiro ficou vazia.
- c) alguma linha do tabuleiro ficou com exatamente 6 moedas.
- d) alguma linha do tabuleiro ficou com mais de 6 moedas.
- e) alguma linha do tabuleiro ficou com exatamente 7 moedas.

21. Glauco compra e vende terrenos em uma determinada cidade. Numa certa semana ele comprou dois terrenos, um por 55.000 reais e outro por 45.000 reais, e, na semana seguinte, Glauco vendeu o primeiro com lucro de 30% e o segundo com lucro de 6%.

Em toda a operação, o lucro de Glauco em relação ao capital investido foi de:

- a) 19,2%;
- b) 20,5%;
- c) 24,2%;
- d) 26,0%.
- e) 28,5%

22. Duas torneiras (A e B) abastecem uma caixa d'água com capacidade de 1 m³. A torneira A tem vazão de 10 litros por minuto e a torneira B, 6 litros por minuto. Estando a caixa vazia, a torneira B foi aberta e, após 20 minutos, a torneira A foi também aberta.

Desde a abertura da primeira torneira até o momento em que a caixa ficou cheia, transcorreram:

- a) 50 minutos;
- b) 55 minutos;
- c) 70 minutos;
- d) 75 minutos;
- e) 88 minutos.

23. Antonela correu durante 45 minutos a uma velocidade constante de 8 km/h e, a seguir, correu durante 1 hora e 20 minutos a uma velocidade constante de 9 km/h.

A distância total percorrida por Antonela, em quilômetros, foi:

- a) 17;
- b) 18;
- c) 19;
- d) 20;
- e) 21.

24. Em uma escola, um terço de seus alunos volta para casa de trem, um quinto de ônibus, três décimos voltam de bicicleta e os demais voltam a pé.

A fração dos alunos que vai para casa a pé equivale a:

- a) $\frac{4}{5}$;
- b) $\frac{5}{6}$;
- c) $\frac{1}{6}$;
- d) $\frac{13}{18}$;
- e) $\frac{5}{18}$.

25. Numa empresa de telefonia quatro funcionários atendem, em média, 10 clientes em 25 minutos. Mantendo a mesma eficiência, cinco funcionários atenderão 20 clientes em

- a) 10 minutos.
- b) 15,625 minutos.
- c) 20 minutos.
- d) 40 minutos.
- e) 62,5 minutos.

ÉTICA NO SERVIÇO PÚBLICO

26. De acordo com o código de ética do IBGE a alternativa incorreta é:

- a) O caráter colaborativo e participativo deve estar presente nas atividades estatísticas e cartográficas, privilegiando-se, assim, um contato estreito e harmonioso entre ambas as atividades – contato essencial para melhorar a qualidade, comparabilidade e coerência dos dados produzidos.
- b) O servidor que trabalha em harmonia com a estrutura organizacional, respeitando seus colegas e cada concidadão, colabora e de todos pode receber colaboração, pois sua atividade pública é a grande oportunidade para o crescimento e o engrandecimento da Nação.
- c) A moralidade da Administração Pública não se limita à distinção entre o bem e o mal.
- d) Todo ato administrativo deve ser publicado, pois a publicidade dos mesmos constitui requisito de eficácia e moralidade, ensejando sua missão comprometimento ético contra o bem comum, imputável a quem a negar, sem exceções.
- e) Toda pessoa tem direito à verdade. O servidor não pode omiti-la ou falseá-la, ainda que contrária aos interesses da própria pessoa interessada ou da Administração Pública.

27. Sobre O Código de ética do IBGE:

- a) O servidor público não poderá jamais desprezar o elemento ético de sua conduta.
- b) Uma vez que não se integram à condição de servidor do IBGE, o elemento ético da conduta abrange, apenas os primados maiores, incluídos os princípios técnicos, científicos e a ética profissional.
- c) Todo Estado deve crescer ou estabilizar-se sobre o poder corruptivo do hábito do erro, da opressão ou da mentira, que sempre aniquilam até mesmo a dignidade humana quanto mais a de uma Nação.
- d) O servidor não deve prestar toda a sua atenção às ordens legais de seus superiores.
- e) Toda ausência do servidor de seu local de trabalho é necessariamente fator de desmoralização do serviço público.

28. A publicidade de qualquer ato administrativo constitui requisito de eficácia e moralidade impondo sua omissão comprometimento ético contra o bem comum, imputável a quem a negar, salvo somente nos casos de:

- a) investigações disciplinares, estado de sítio e interesse do Estado, a serem preservados em sindicância previamente declarada pública.
- b) epidemia, segurança nacional ou desinteresse do Estado ou da Administração Pública, a serem preservados em processo previamente declarado sigiloso.

- c) calamidade, investigações policiais ou interesse do Estado ou da Administração Pública, a serem preservados em processo previamente disponibilizado ao público.
- d) segurança nacional, investigações policiais ou desinteresse do Estado ou da Fundação Pública, independentemente de processo prévio declarado sigiloso.
- e) segurança nacional, investigações policiais ou interesse superior do Estado e da Administração Pública, a serem preservados em processo previamente declarado sigiloso.

LEI Nº 8.112/90

29. Acerca do regime de responsabilidades previsto no Estatuto dos Servidores da União (Lei nº 8.112/90), julgue as afirmativas a seguir como Verdadeiras (V) ou Falsas (F).

- I. O servidor público federal responde civil, penal e administrativamente pelo exercício regular de suas atribuições, não podendo as sanções cumularem-se, por serem independentes entre si.
- II. Tratando-se de dano causado a terceiros, o servidor responde perante a Fazenda Pública, em ação regressiva.
- III. Os herdeiros assumem a obrigação de reparar o dano e contra eles será executado o débito, na totalidade do valor fixado, e independentemente do limite recebido como herança.
- IV. A responsabilidade administrativa do servidor será afastada no caso de absolvição criminal que negue a existência do fato ou sua autoria.

A sequência correta é:

- a) V, V, V, V
- b) F, V, F, V
- c) F, F, F, F
- d) V, V, F, F
- e) F, F, V, V

- 30.** José, servidor estatutário federal regido pela Lei nº 8.112/90 costuma ausentar-se do serviço durante o expediente, mesmo sem autorização de seu chefe imediato. Em virtude disso, já sofreu penalidade administrativa, que, segundo o estatuto, consiste na:
- a) penalidade de advertência, que terá seu registro cancelado após o decurso de 2 (dois) anos de efetivo exercício.
 - b) penalidade de suspensão, aplicada diretamente ou após a aplicação e cumprimento da penalidade de advertência.
 - c) advertência oral pela chefia imediata, e, em caso de desobediência, aplicação da penalidade de exoneração.
 - d) demissão, em virtude da habitualidade de sua conduta, podendo ser convertida, após processo administrativo disciplinar, em sua exoneração.
 - e) pena de advertência, que deve ser aplicada por escrito, e, sendo reincidente, pena de suspensão, que não poderá ultrapassar 90 (noventa) dias.

NOÇÕES DE ADMINISTRAÇÃO E SITUAÇÕES GERENCIAIS

- 31.** Esse princípio parte da ideia de que, num sistema aberto, as informações do ambiente retornam ao sistema, permitindo alterações no seu funcionamento. A que conceito concernente a sistemas abertos se refere o princípio acima?
- a) Equifinalidade.
 - b) Diferenciação.
 - c) Feedback negativo.
 - d) Externalidade.
 - e) Output.
- 32.** Esse princípio parte da ideia de que, num sistema aberto, é necessária a adaptação do funcionamento organizacional ao ambiente, gerando um equilíbrio dinâmico. Trata-se de:
- a) Equifinalidade.
 - b) Homeostase.
 - c) Feedback negativo.
 - d) Exportação
 - e) Ciclo de eventos
- 33.** Os sistemas autopoieticos são:
- a) abertos
 - b) fechados
 - c) indutivos
 - d) redutores
 - e) adaptativos

- 34.** As funções administrativas podem ser divididas em níveis, especificamente:
- a) estratégico, prático e operacional;
 - b) estratégico, administrativo e operacional;
 - c) teórico, prático e operacional;
 - d) teórico, tático e programático;
 - e) horizontal, vertical e matricial.
- 35.** As funções administrativas neoclássicas incluem as seguintes, exceto:
- a) planejamento,
 - b) organização
 - c) direção
 - d) controle
 - e) ação corretiva.
- 36.** O planejamento estratégico preocupa-se com questões:
- a) operacionais
 - b) de curto prazo
 - c) iterativo-processuais
 - d) de ação corretiva
 - e) sistêmicas
- 37.** A barreira à comunicação que melhor explica quando uma pessoa não consegue lidar com elevada quantidade de informações é:
- a) canal inadequado;
 - b) percepção seletiva;
 - c) linguagem;
 - d) sobrecarga de informações;
 - e) filtragem.
- 38.** A comunicação do tipo cadeia:
- a) É estruturada de acordo com a hierarquia da organização.
 - b) Se dá entre clientes e funcionários
 - c) É informal
 - d) se dá em círculo
 - e) gera o "telefone sem fio"
- 39.** A comunicação organizacional se realiza de diferentes formas, surgindo tanto de maneira formal como informal, a exemplo da rede de rumores. Esta última:
- a) É estruturada de acordo com a hierarquia da organização.
 - b) Se dá entre clientes e funcionários
 - c) É informal
 - d) se dá em círculo
 - e) gera o "telefone sem fio"

40. Em relação à direção da comunicação nas organizações, é correto afirmar que a comunicação:

- a) vertical pode ser dividida em ascendente e descendente;
- b) ascendente é a que se dirige aos empregados operacionais;
- c) lateral ocorre entre gestores e empregados de forma bottom-up;
- d) horizontal ocorre entre chefes e subordinados;
- e) descendente é a que se dirige aos escalões superiores.

41. Sobre racionalidade plena:

- a) é um mito, atualmente superado pela constatação da racionalidade limitada.
- b) é comum no uso administrativo.
- c) não gera as melhores decisões.
- d) não possui aplicações teóricas.
- e) é intuitiva.

42. O processo decisório tem por objetivo a resolução de problemas e pode incluir categorias de decisões. Quando uma decisão é tomada por um grupo, em conjunto, qual é a categoria de decisão envolvida?

- a) Decisões programadas.
- b) Decisões tecnológicas.
- c) Decisões não programadas.
- d) Decisões compartilhadas.
- e) Decisões interorganizacionais.

43. Indicadores de eficiência referem-se a:

- a) produtos, unicamente.
- b) insumos, unicamente.
- c) relação entre insumos e produtos.
- d) impactos
- e) relação interdimensional de esforços.

44. Uma campanha de vacinação conseguiu erradicar uma determinada doença em uma região. Trata-se de indicador de:

- a) eficiência
- b) eficácia
- c) efetividade
- d) economicidade
- e) Excelência

45. Seguir o manual de normas e procedimentos é um indicativo de:

- a) eficiência
- b) eficácia
- c) efetividade
- d) economicidade
- e) Excelência

46. O BSC é uma importante ferramenta de gestão, muito utilizada para diversos objetivos, incluindo os seguintes, exceto:

- a) controle dos indicadores da empresa.
- b) planejamento estratégico integrado.
- c) estabelecer forças organizacionais
- d) avaliação de desempenho individual
- e) avaliação de desempenho organizacional

47. Importante ferramenta para estabelecimento das forças competitivas do mercado, criada por Michael Porter:

- a) SWOT
- b) BSC
- c) CNBC
- d) Modelo das 5 forças
- e) Matriz BCG

48. Importante ferramenta para estabelecimento das forças, fraquezas, oportunidades e ameaças:

- a) SWOT
- b) BSC
- c) CNBC
- d) Modelo das 5 forças
- e) Matriz BCG

49. Qual dos elementos abaixo não é uma das 5 forças que orientam a competitividade em indústrias:

- a) A rivalidade entre empresas concorrentes.
- b) O poder negocial dos fornecedores.
- c) A competência essencial de cada empresa.
- d) A ameaça de entrada de novos concorrentes.
- e) A ameaça do surgimento de produtos ou serviços substitutos.

50. Uma ferramenta que apresenta o desdobramento das causas para um dado efeito é:

- a) fluxograma
- b) histograma
- c) gráfico de dispersão
- d) BSC
- e) Diagrama de Ishikawa

51. O agente censitário, no seu trabalho prático, deve preocupar-se em tratar bem o cidadão. Trata-se de:

- a) empatia;
- b) antipatia;
- c) segurança;
- d) cortesia;
- e) sinergia.

52. A prestação de serviço público é um serviço e, por isso:

- a) possui homogeneidade.
- b) deve ser prestada sob o paradigma burocrático.
- c) desconsidera as necessidades do cidadão.
- d) é impositiva.
- e) é variável.

53. A gestão de pessoas, em sua compreensão atual estabelece que

- a) deve ser conduzida pelo próprio funcionário.
- b) os gerentes imediatos de cada funcionário devem ser especialistas em pessoas.
- c) desconsidera as necessidades do cidadão.
- d) há responsabilidade de linha e função de staff.
- e) o foco está sobre a realização do melhor recrutamento possível.

54. Segundo a hierarquia das necessidades de Maslow, a motivação do indivíduo que busca se relacionar bem no seu grupo é baseada em aspectos:

- a) fisiológicas;
- b) de segurança;
- c) sociais;
- d) de estima;
- e) de autorrealização.

55. A teoria dos dois fatores estabelece que:

- a) remuneração é um fator motivacional.
- b) o ambiente gera motivação.
- c) o sucesso profissional depende das condições psicológicas.
- d) satisfação é o oposto de insatisfação.
- e) o uso de criatividade é fator motivacional.

56. São consideradas necessidades na pirâmide de Maslow:

- a) motivação, fisiologia, crenças.
- b) fisiologia, segurança, amor/relacionamento.
- c) motivação, segurança, crenças.
- d) fisiologia, motivação, desafios.
- e) fisiologia, motivação, educação.

57. Para a teoria dos traços

- a) O líder pode aprender a ser líder.
- b) liderança é traço inato.
- c) para ser líder, basta querer.
- d) o líder é do tipo laissez faire.
- e) A liderança é baseada em fatores motivacionais.

58. Grupos e equipes diferem por:

- a) Equipes serem antecedentes aos grupos.
- b) os grupos possuem líderes fortes.
- c) equipes não possuem líderes.
- d) equipes possuem objetivos em comum.
- e) grupos são mais enérgicos.

59. A avaliação 360 graus, aplicada a uma organização:

- a) é feita em grupos de discussão.
- b) desconsidera feedbacks autoavaliativos.
- c) dá maior relevo à avaliação dos colegas do que dos subordinados.
- d) permite avaliação por todas as fontes de feedback.
- e) obriga a participação de todos os funcionários nos feedbacks.

60. Qual, dentre os métodos de avaliação mencionados abaixo, é o mais completo?


- a) escala gráfica.
- b) escolha forçada
- c) incidentes críticos.
- d) pesquisa de campo.
- e) avaliação por objetivos.

Preencha o Gabarito!

<http://bit.ly/Simulado-IBGE-30-11>

Não é assinante?

Confira nossos planos, tenha acesso a milhares de cursos e participe gratuitamente dos projetos exclusivos. Clique no banner!



**ASSINATURA
ILIMITADA**

**ESTUDE PARA QUALQUER CONCURSO*
SEM PREOCUPAÇÃO**

1 ANO
12X R\$ 199,97

2 ANOS
12X R\$ 333,97

*VERIFICAR CONDIÇÕES NO SITE