



**POLÍCIA MILITAR DO ESTADO DE SÃO PAULO
DIRETORIA DE PESSOAL – DP**

Concurso Público

001. PROVA OBJETIVA – PARTE I

Soldado PM de 2ª Classe

- ◆ Você recebeu sua folha de respostas, este caderno, contendo 60 questões objetivas e um tema de redação a ser desenvolvido, e a folha de redação para transcrição do texto definitivo.
- ◆ Confira seus dados impressos na capa deste caderno e nas folhas de respostas e de redação.
- ◆ Quando for permitido abrir o caderno, verifique se está completo ou se apresenta imperfeições. Caso haja algum problema, informe ao fiscal da sala.
- ◆ A folha de redação deverá ser assinada apenas no local indicado; qualquer identificação ou marca feita pelo candidato no verso da folha de redação, que possa permitir sua identificação, acarretará a atribuição de nota zero à redação.
- ◆ É vedado, em qualquer parte do material recebido, o uso de corretor de texto, de caneta marca-texto ou de qualquer outro material similar.
- ◆ Redija o texto definitivo e preencha a folha de respostas com caneta de tinta preta (preferencialmente) ou azul. Os rascunhos não serão considerados na correção. A ilegibilidade da letra acarretará prejuízo à nota do candidato.
- ◆ A duração das provas objetiva e de redação é de 4 horas, já incluído o tempo para o preenchimento da folha de respostas e para a transcrição do texto definitivo.
- ◆ Só será permitida a saída definitiva da sala e do prédio após transcorridos 75% do tempo de duração das provas.
- ◆ Deverão permanecer em cada uma das salas de prova os 3 últimos candidatos, até que o último deles entregue sua prova, assinando termo respectivo.
- ◆ Ao sair, você entregará ao fiscal a folha de redação, a folha de respostas e este caderno, podendo levar apenas o rascunho de gabarito, localizado em sua carteira, para futura conferência.
- ◆ Até que você saia do prédio, todas as proibições e orientações continuam válidas.

AGUARDE A ORDEM DO FISCAL PARA ABRIR ESTE CADERNO DE QUESTÕES.

Nome do candidato _____

RG _____

Inscrição _____

Prédio _____

Sala _____

Carteira _____

LÍNGUA PORTUGUESA

Leia o texto para responder às questões de números 01 e 02.

Estudos divulgados pela OMS (Organização Mundial da Saúde) mostram que, só no ano de 2010, 50 milhões de pessoas no mundo sobreviveram a acidentes de trânsito com algum traumatismo ou ferida. Se nada for feito, a estimativa é de que teremos 1,9 milhão de mortes no trânsito em 2020 e 2,4 milhões em 2030.

(www.sbotrj.com.br. Adaptado)

01. O texto estabelece uma relação entre

- (A) mortes no trânsito e suas formas de prevenção.
- (B) traumatismo ou ferida e seus tratamentos.
- (C) acidentes de trânsito e suas causas.
- (D) acidentes de trânsito e suas consequências.
- (E) mortes no trânsito e suas repercussões.

02. A expressão “Se nada for feito” pode ser substituída, sem alteração de sentido e conforme a norma-padrão da língua, por

- (A) Caso nada seja feito.
- (B) Portanto nada fosse feito.
- (C) Apesar de nada ser feito.
- (D) Segundo nada seria feito.
- (E) Pois que nada foi feito.

03. Assinale a alternativa em que a concordância das palavras está de acordo com a norma-padrão.

- (A) Foi estabelecido uma estimativa quanto ao número de acidentados.
- (B) Poderão haver muitos mais vítimas de trânsito se nada for feito.
- (C) Acidentes de trânsito deixam um grande número de feridos.
- (D) São essenciais que os motoristas dirijam com mais cautela.
- (E) As mortes causadas por acidentes são muito preocupante.

Considere o cartaz para responder às questões de números 04 e 05.



(www.sbotrj.com.br)

04. O cartaz chama atenção para o fato de que

- (A) é importante que os pais estejam informados sobre o paradeiro dos filhos.
- (B) os traumatismos mais graves são resultado de acidentes de trânsito.
- (C) dirigir após usar o celular é um comportamento perigoso, que deve ser evitado.
- (D) os jovens são as principais vítimas de acidentes de trânsito no Brasil.
- (E) enviar mensagens pelo celular enquanto se dirige pode provocar acidentes.

05. O modo verbal em “não digite” expressa um conselho, assim como ocorre com a expressão destacada em:

- (A) Os candidatos que **não apresentarem** um documento com foto não poderão realizar a prova.
- (B) Atenção: **não se esqueçam** de usar o cinto de segurança também no banco de trás do automóvel.
- (C) Pesquisadores canadenses descobriram que o macarrão **não induz** o ganho de peso.
- (D) Como **não haverá** expediente bancário na sexta-feira, o boleto poderá ser pago na segunda-feira.
- (E) O morador **não autorizou** a entrada do técnico para a medição do consumo de gás no imóvel.

Leia o texto para responder às questões de números **06 a 10**.

Por que o criador do botão 'curtir' do Facebook apagou as redes sociais do celular

A tecnologia só deve prender nossa atenção nos momentos em que nós queremos, conscientemente, prestar atenção nela. “Em todos os outros casos, deve ficar fora do nosso caminho.”

Quem afirma não é um dos críticos tradicionais das redes sociais, mas justamente o executivo responsável pela criação do botão 'curtir' nos primórdios do Facebook, há mais de dez anos.

Depois de perceber que as notificações de aplicativos como o próprio Facebook ocupavam boa parte do seu dia, eram distrativas e o afastavam das relações na vida real, o matemático Justin Rosenstein decidiu apagar todas as redes sociais, aplicativos de *e-mails* e notícias de seu celular, em busca de mais “presença” no mundo *off-line*.

Interrogado se ele se arrepende por ter criado a fonte da distração que hoje tanto critica, responde: “Nenhum arrependimento. Sempre que se tenta progredir, haverá consequências inesperadas. Você tem que ter humildade e ter muita atenção no que acontece depois, para fazer mudanças conforme for apropriado”.

(Ricardo Senra. www.bbc.com. Adaptado)

06. Justin Rosenstein apagou as redes sociais do celular porque elas

- (A) exigiam que ele dedicasse muita atenção à resolução de equações.
- (B) impulsionaram os negócios e exigiram computadores mais sofisticados.
- (C) demandavam que ele passasse tempo excessivo envolvido no trabalho.
- (D) faziam com que ele se distanciasse das interações na vida não virtual.
- (E) geravam discussões pouco edificantes que incitavam a intolerância.

07. A expressão destacada em “A tecnologia só deve prender nossa atenção **nos momentos em que** nós queremos” (1º parágrafo) pode ser substituída, com o sentido preservado, por

- (A) tanto que.
- (B) onde.
- (C) quando.
- (D) embora.
- (E) até que.

08. A palavra “Interrogado”, destacada ao início do último parágrafo, pode ser substituída, no que se refere à norma-padrão, por

- (A) Ao questionarem-nos.
- (B) Ao questionarem-o.
- (C) Ao perguntarem-lhes.
- (D) Ao os perguntarem.
- (E) Ao lhe perguntarem.

09. Uma frase condizente com as informações do último parágrafo é:

- (A) Embora Rosenstein reconheça as consequências imprevistas de sua criação, não se mostra arrependido.
- (B) Por não ver problemas em sua invenção, Rosenstein não considera ter motivos para se sentir arrependido.
- (C) Rosenstein arrepende-se de sua invenção, porém admite que já é tarde para corrigir os seus erros.
- (D) Apesar de perceber as limitações de sua criação, Rosenstein não vê necessidade de modificá-la.
- (E) Consciente dos malefícios de sua criação, Rosenstein lamenta não ter feito mudanças logo no começo.

10. Duas expressões do texto que têm sentidos opostos são:

- (A) conscientemente; justamente.
- (B) arrepende-se; crítica.
- (C) notificações; aplicativos.
- (D) criador; matemático.
- (E) distração; atenção.

Considere a tira para responder às questões de números 11 e 12.



(Bill Watterson. O melhor de Calvin. 31.03.2018. <http://cultura.estadao.com.br>)

11. Na fala do primeiro quadrinho, o vocábulo **melhor** estabelece relação de

- (A) comparação.
- (B) adição.
- (C) consequência.
- (D) causa.
- (E) negação.

12. Na fala do último quadrinho, o garoto

- (A) reforça a ideia de que se lançará a diversas distrações.
- (B) mostra-se confuso diante da grande variedade de atividades.
- (C) reduz as oportunidades de diversão a uma única.
- (D) revela-se entediado diante da falta de opções de diversão.
- (E) contraria a afirmação de que sábado é o melhor dia da semana.

13. Assinale a alternativa em que o sinal indicativo de crase está empregado corretamente.

- (A) O garoto prefere ver desenhos à brincar na rua.
- (B) O garoto passou o sábado assistindo à televisão.
- (C) O garoto prefere desenhos animados à filmes ou jogos.
- (D) O garoto gosta de assistir à desenhos animados.
- (E) O garoto perguntou à seu amigo se ele queria ver TV.

Leia o texto para responder às questões de números 14 a 18.

Geovani Martins: como a favela me fez escritor

Nasci em Bangu, Zona Oeste do Rio de Janeiro, em 1991. Em 2004, aos 13 anos de idade, mudei com minha mãe e meus irmãos para o Vidigal, na Zona Sul da cidade. Destaco esses lugares e essas datas para dizer que *O sol na cabeça*, meu primeiro livro, publicado em março de 2018, teve início com o choque provocado por essa mudança.

Era tudo diferente: o jeito de falar, de brincar na rua, as regras no futebol, a música, o ritmo das pessoas, até o sol parecia queimar de outra forma. Eu ficava no meio, tentando me adaptar. Depois dessa primeira mudança encarei mais umas tantas; até o ano de 2015 já havia me mudado 17 vezes. A partir desse trânsito constante entre tantas casas, becos, ruas e praças, parti para o livro com a ideia de que a periferia precisa ser tratada sempre como algo em movimento.

A favela hoje é centro, produz cultura e movimentada a economia. O favelado cria e consome como qualquer outra pessoa do planeta. E quando digo consome, não me refiro apenas a Nike, Adidas, Samsung, Microsoft. Falo também da cultura *pop* que faz a cabeça dos jovens do mundo todo, como os filmes e as séries de sucesso mundial. A cultura erudita, como Shakespeare e Machado de Assis, também encontra seus públicos por becos e vielas.

(Geovani Martins. <https://epoca.globo.com>. 06.03.2018. Adaptado)

14. Geovani Martins conta que seu livro é resultado de

- (A) histórias que leu quando ainda era criança.
- (B) leituras de estudos realizados por intelectuais.
- (C) uma reescrita de livros de autores eruditos.
- (D) sua vivência pessoal em diferentes favelas.
- (E) uma imaginação sem paralelo com a realidade.

15. Para o autor, consumir

- (A) significa produzir itens que classifica como supérfluos.
- (B) equivale a rejeitar a influência da cultura estrangeira.
- (C) envolve comprar produtos industrializados e apreciar arte.
- (D) restringe-se a adquirir produtos produzidos por multinacionais.
- (E) é um benefício pouco acessível a moradores de favelas.

16. Uma das características das favelas para a qual o autor chama a atenção é a
- (A) diversidade cultural.
 (B) ausência de segurança.
 (C) desigualdade econômica.
 (D) falta de opções de lazer.
 (E) precariedade do saneamento.
17. Uma expressão empregada com sentido figurado está destacada em negrito na alternativa:
- (A) ... encontra **seus públicos** por becos e vielas. (3º parágrafo)
 (B) Destaco esses **lugares**... (1º parágrafo)
 (C) ... cultura *pop* que **faz a cabeça** dos jovens... (3º parágrafo)
 (D) ... meu primeiro **livro**, publicado em março de 2018... (1º parágrafo)
 (E) ... **os filmes e as séries** de sucesso mundial. (3º parágrafo)
18. Uma passagem do texto que permanece correta após o acréscimo das vírgulas é:
- (A) ... até o sol, parecia queimar, de outra forma. (2º parágrafo)
 (B) ... a periferia precisa ser tratada, sempre, como algo em movimento. (2º parágrafo)
 (C) Falo também, da cultura *pop* que faz a cabeça, dos jovens do mundo todo... (3º parágrafo)
 (D) Depois, dessa primeira mudança encarei, mais umas tantas... (2º parágrafo)
 (E) ... teve início, com o choque provocado, por essa mudança. (1º parágrafo)

19. Uma loja colocou à venda 80 peças do tipo A e 40 peças do tipo B, e após uma semana havia vendido $\frac{1}{4}$ das peças do tipo A e $\frac{2}{5}$ das peças do tipo B. Em relação ao número total de peças colocadas à venda, o número de peças que não foram vendidas nessa semana representam

- (A) $\frac{3}{10}$
 (B) $\frac{9}{10}$
 (C) $\frac{3}{5}$
 (D) $\frac{2}{5}$
 (E) $\frac{7}{10}$

20. A tabela fornece algumas informações sobre o número de vagas abertas e fechadas nos últimos três anos, pelas indústrias de uma determinada cidade.

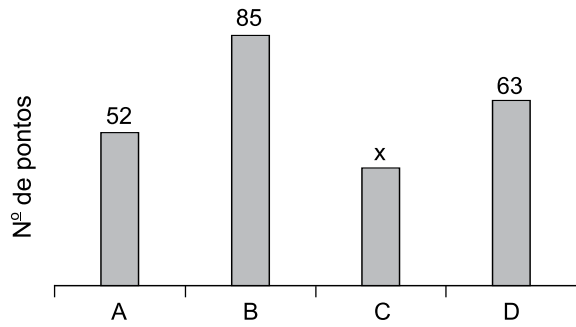
Ano	Nº de vagas abertas (VA)	Nº de vagas fechadas (VF)	Saldo (VA – VF)
2015	58	X	-395
2016		X – 66	
2017			+72
Total	446		-675

O número de vagas fechadas em 2017 foi

- (A) 268.
 (B) 276.
 (C) 285.
 (D) 281.
 (E) 272.
21. Em um depósito há um determinado número de caixas que deverão ser empilhadas, de modo que cada pilha tenha o mesmo número de caixas. Na realização da tarefa foi constatado que, se cada pilha tiver 5 caixas, ou 6 caixas ou 8 caixas, sempre restarão 2 caixas fora das pilhas. O menor número de caixas que deverão ser empilhadas nesse depósito é
- (A) 122.
 (B) 124.
 (C) 118.
 (D) 120.
 (E) 126.

22. Uma pessoa tirou 150 fotos com seu celular e excluiu 14 delas. Considerando-se as fotos restantes, a razão entre as fotos de boa qualidade e as fotos de baixa qualidade é $\frac{3}{5}$. Sabendo-se que havia somente fotos de boa ou de baixa qualidade no celular, o número de fotos de boa qualidade era
- (A) 57.
(B) 62.
(C) 51.
(D) 73.
(E) 68.
23. Um determinado produto, se for comprado a prazo, terá 10% de acréscimo sobre o valor da etiqueta, e passará a custar R\$ 93,50. Se esse produto for comprado à vista, terá 20% de desconto sobre o valor da etiqueta. O preço desse produto à vista é
- (A) R\$ 75,80.
(B) R\$ 68,00.
(C) R\$ 72,50.
(D) R\$ 81,40.
(E) R\$ 79,00.
24. Uma máquina trabalhando ininterruptamente 5 horas por dia produz um lote de peças em 3 dias. Para que esse mesmo lote fique pronto em 2 dias, o tempo que essa máquina terá que trabalhar diariamente, de forma ininterrupta, é de
- (A) 7 horas e 50 minutos.
(B) 6 horas e 45 minutos.
(C) 6 horas e 35 minutos.
(D) 7 horas e 30 minutos.
(E) 7 horas e 05 minutos.
25. Uma pessoa possui um móvel com algumas gavetas, e quer colocar em cada uma delas o mesmo número de blusas. Ao realizar a tarefa percebeu que, colocando 7 blusas em cada gaveta, 3 blusas ficariam de fora, porém, não seria possível colocar 8 blusas em cada gaveta, pois ficariam faltando 2 blusas na última gaveta. O número total de blusas é
- (A) 38.
(B) 30.
(C) 34.
(D) 36.
(E) 32.

26. O gráfico apresenta o número de pontos obtidos pelos grupos A, B, C e D, que participaram de uma atividade recreativa.



Sabendo que o número de pontos obtidos pelo grupo A foi 30% maior que o número de pontos obtidos pelo grupo C, então, na média, o número de pontos obtidos por um grupo foi

- (A) 70.
 (B) 50.
 (C) 60.
 (D) 55.
 (E) 65.
27. Dois amigos foram a uma lanchonete e pediram cinco pães de queijo e dois sucos, e pagaram, no total, R\$ 19,50. Sabendo que o preço de um pão de queijo mais um suco é R\$ 6,00, então, o valor a ser pago na compra de três pães de queijo será
- (A) R\$ 8,00.
 (B) R\$ 7,50.
 (C) R\$ 8,50.
 (D) R\$ 9,50.
 (E) R\$ 9,00.
28. Uma avenida retilínea terá um trecho de 3,6 km recapeado, e isso será feito em 3 etapas, conforme mostra a figura.

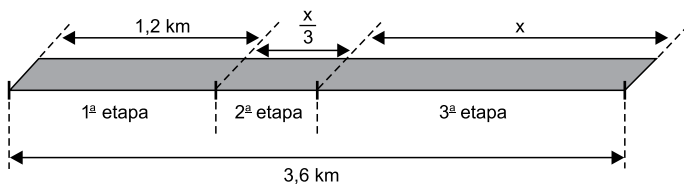


Figura fora de escala

O comprimento do trecho a ser recapeado na 2ª etapa é de

- (A) 1200 m.
 (B) 1000 m.
 (C) 800 m.
 (D) 400 m.
 (E) 600 m.

29. Uma praça retangular, cujas medidas em metros, estão indicadas na figura, tem 160 m de perímetro.

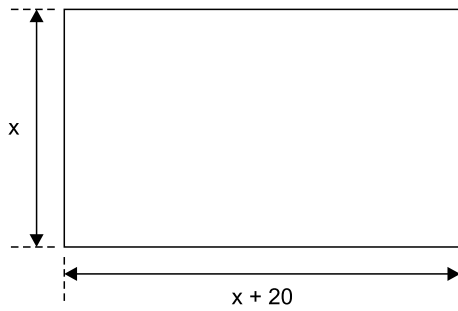


Figura fora de escala

Sabendo que 70% da área dessa praça estão recobertos de grama, então, a área não recoberta com grama tem

- (A) 450 m^2 .
 - (B) 500 m^2 .
 - (C) 400 m^2 .
 - (D) 350 m^2 .
 - (E) 550 m^2 .
30. Um bloco maciço de argila tem a forma de um prisma reto de base retangular e altura igual a 24 cm, conforme mostra a figura.

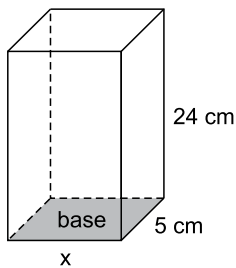


Figura fora de escala

Sabendo que o volume desse bloco é 900 cm^3 , o perímetro da base indicada na figura mede

- (A) 20 cm.
- (B) 22 cm.
- (C) 15 cm.
- (D) 25 cm.
- (E) 18 cm.

CONHECIMENTOS GERAIS

HISTÓRIA GERAL

31. Analise os dois materiais a seguir para responder à questão.

Material 1



(disponível em: <<https://goo.gl/mPzavT>>)

Mapa da ferrovia Berlim-Bagdá em 1914

Traço contínuo: ferrovia já construída

Linha tracejada: ferrovia em construção

Material 2

A Primeira Guerra Mundial envolveu vários países, mas representou, principalmente, o confronto entre quatro potências: França, Inglaterra, Rússia, de um lado, e a Alemanha, do outro.

(MOTTA, M. M. M. "A Primeira Grande Guerra". Em: REIS FILHO, D. A.; FERREIRA, J.; ZENHA, C. *O século XX v.1*. – O tempo das certezas: da formação do capitalismo à Primeira Grande Guerra. Rio de Janeiro: Civilização Brasileira, 2006. Adaptado)

A análise dos materiais permite concluir que uma das causas da Primeira Guerra Mundial foi

- (A) a aliança entre o Império Russo e o Império Turco Otomano, o que contrariava os interesses alemães e austro-húngaros nos Bálcãs e no Mediterrâneo oriental, agravando as tensões na região.
- (B) o expansionismo germânico em direção à Península Balcânica e ao Oriente Médio, com o objetivo de facilitar o acesso ao petróleo do Golfo Pérsico e aos territórios coloniais na África oriental.
- (C) a invasão e o domínio do Império Turco Otomano pelos alemães entre o final do século XIX e o início do século XX, o que contrariou os interesses do Império Britânico, principal aliado otomano.
- (D) o controle direto exercido pelo Império Alemão sobre os Bálcãs, o que intensificou a revolta nacionalista dos povos eslavos da região, especialmente sérvios e búlgaros, contrários à Tríplice Aliança.
- (E) a presença alemã na região dos Bálcãs, o que ameaçava diretamente os interesses russos e austro-húngaros na região, aliados que pretendiam controlar a navegação entre o Mediterrâneo e o Mar Negro.

32. Na Guiné, Moçambique e Angola, os movimentos de libertação sempre fizeram cuidadosa distinção entre o povo português, que os apoiava, e o governo ditatorial que estava tentando esmagá-los. Desde o início, tais movimentos temeram que uma revolução política na África portuguesa ainda pudesse deixá-los na condição de dependência neocolonial de Lisboa e dos interesses econômicos europeus aos quais Lisboa estava ligada e pelos quais às vezes atuava como agente. Por isso, a emergência de ideias “terceiro-mundistas” no seio das forças armadas portuguesas foram observadas com grande interesse pelos movimentos marxistas na África.

(Maxwell, K. *O Império derrotado: revolução e democracia em Portugal*. São Paulo: Companhia das Letras, 2006. Adaptado)

O trecho citado evidencia o fato de que, no contexto da Guerra Fria, havia forte associação entre

- (A) as lutas socialistas e os processos de descolonização e libertação nacional.
- (B) as lutas anti-coloniais e a defesa de vínculos identitários com a metrópole.
- (C) o terceiro-mundismo e os ideais e valores associados ao bloco capitalista.
- (D) os princípios democráticos liberais e o anti-autoritarismo comunista.
- (E) o nacionalismo conservador e a luta pela autodeterminação dos povos.

HISTÓRIA DO BRASIL

33. No Brasil pós 1930, a relação entre intelectuais e os valores autoritários que emanavam do Estado não deve ser vista como passiva, com homens letrados e artistas “bem-intencionados” tornando-se vítimas das manipulações de políticos espertalhões. As soluções autoritárias para a “questão nacional” ou para o campo cultural, sobretudo aquelas que envolviam a educação das massas e a imposição de valores nacionalistas às elites regionais, eram compartilhadas por vários intelectuais ideologicamente distintos entre si, como liberais, fascistas, católicos e positivistas.

(Napolitano, M. *História do Brasil República: da queda da Monarquia ao fim do Estado Novo*. São Paulo: Contexto, 2016. Adaptado)

À época, os intelectuais passaram a ver no Estado

- (A) um potencializador das práticas econômicas e sociais rurais, evitando choques oriundos da industrialização e da urbanização.
- (B) uma forma de afirmação de um ideal racista, voltado para a defesa da cultura popular e das políticas de branqueamento.
- (C) um meio para construir os valores da “brasilidade”, forjando uma nação integrada que unisse elites e classes populares.
- (D) um agente de efetivação de um projeto politicamente descentralizado, em que prevalecesse a autonomia dos estados.
- (E) um mecanismo de reafirmação da identidade religiosa católica brasileira, em detrimento de outras crenças e religiões.

34. Ainda hoje, as interpretações mais difundidas, embora reconheçam a inequívoca vocação democrática da Constituição de 1946, sublinham suas limitações e sua incidência sobre aquilo que consideram ser a fragilidade da experiência democrática brasileira nesse período.

(Schwarcz, L. M.; Starling, H. M. *Brasil: uma biografia*. São Paulo: Companhia das Letras, 2015. Adaptado)

Entre as limitações citadas no trecho, é correto identificar

- (A) a proibição de manifestações de rua.
- (B) a exclusão do direito de voto aos analfabetos.
- (C) a inexistência do direito ao *habeas corpus*.
- (D) a exclusão do voto feminino.
- (E) a manutenção do voto censitário.

35. Em agosto de 1969, o Presidente Costa e Silva sofreu grave ataque cardíaco. Seguiu-se uma intensa luta pelo poder, em torno da sucessão. Segundo a Constituição de 1967, então em vigência, o Vice-Presidente Pedro Aleixo deveria suceder imediatamente ao presidente, em caso de morte ou incapacidade deste para os deveres do cargo. Mas Pedro Aleixo opusera-se abertamente ao AI-5, não servindo, portanto, aos propósitos das forças armadas que controlavam o Estado. O Alto Comando das Forças Armadas, dotado de poderes extraordinários, concluiu que “a solução constitucional não era viável”, decidindo que a presidência seria exercida por uma junta pelos ministros do Exército, da Marinha e da Aeronáutica.

(Alves, M. H. M. *Estado e oposição no Brasil: 1964-1984*. Bauru: Edusc, 2005. Adaptado)

A crise sucessória de Costa e Silva evidencia

- (A) o cumprimento da lei pelos militares, de tal forma que todos os trâmites legais fossem observados nos contextos eleitorais.
- (B) a importância que a interlocução com os civis sempre teve para os militares, em especial nas eleições e nas sucessões presidenciais.
- (C) o compromisso reiterado dos militares com a perspectiva de abertura política, ainda que os movimentos de oposição tenham impedido esse processo.
- (D) o caráter autoritário e politicamente instável do regime militar, na medida em que a própria Constituição de 1967 estava sendo desrespeitada.
- (E) a estabilidade política que marcou o país no período, garantida por meio de acordos dos militares com a oposição civil.

36. “O Colégio Eleitoral, agora constituído de forma regular, detém poder político incontestável para cumprir o seu mandato. A campanha para suprimi-lo constitui audaciosa tentativa política para contornar poder legitimamente adquirido nos termos da Constituição vigente. Defender o Colégio Eleitoral contra essa investida intempestiva é um dever que é meu, que é do governo, que é de todos os parlamentares que o apoiam. Cumpre conter a ofensiva desencadeada contra regras do jogo aceitas para eleição do meu sucessor”. Presidente João Figueiredo, em pronunciamento à nação, em 16 de abril de 1984.

(Rodrigues, A. T. *O grito preso na garganta*. São Paulo: Editora Fundação Perseu Abramo, 2003. Adaptado)

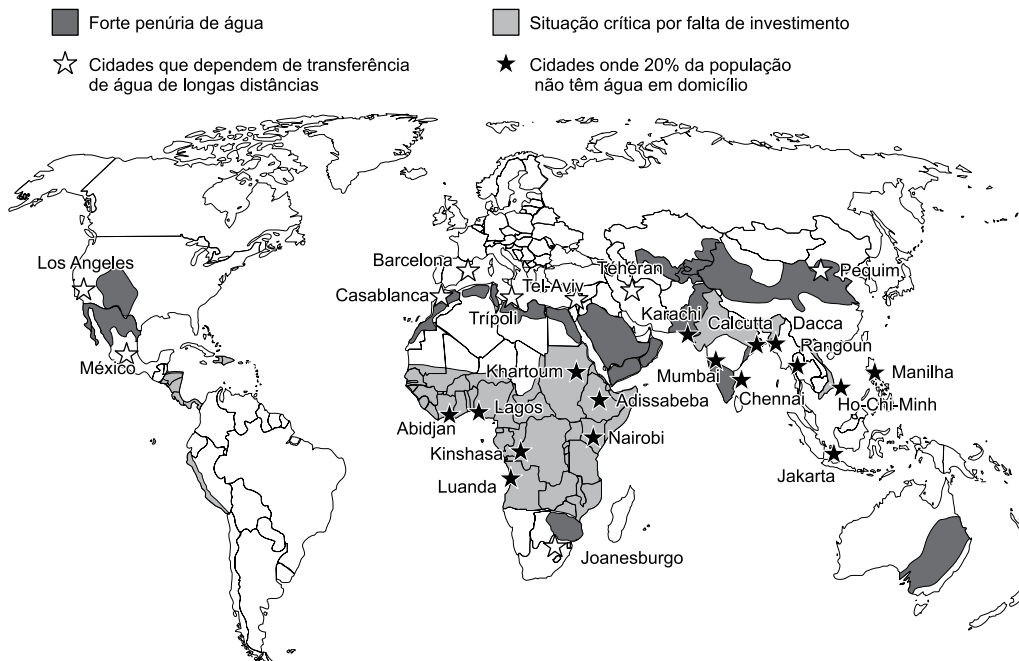
Em seu pronunciamento, Figueiredo critica

- (A) a organização da luta contra a carestia.
- (B) os comitês de luta pela anistia.
- (C) a fundação de partidos como PT e PDT.
- (D) a candidatura presidencial de Tancredo Neves.
- (E) o movimento das Diretas Já.

GEOGRAFIA GERAL

37. Observe o mapa para responder à questão.

PROJEÇÕES SOBRE A SITUAÇÃO DA ÁGUA POTÁVEL NO MUNDO EM 2020



(<https://planetevivante.files.wordpress.com>. Acesso em 01.04.2018)

A leitura do mapa e os conhecimentos sobre as atuais condições socioeconômicas mundiais permitem afirmar que é provável que, em 2020,

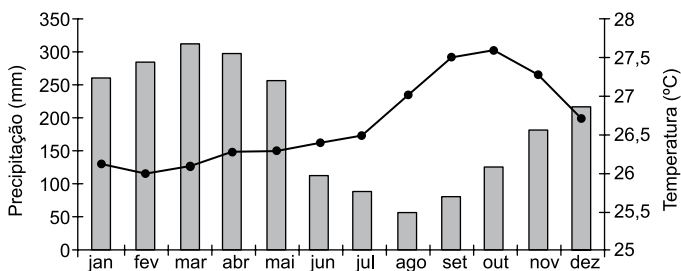
- (A) as cidades com maior carência de fornecimento de água potável estarão localizadas nos países subdesenvolvidos.
- (B) os países mais populosos e urbanizados do mundo deverão manter grande suprimento de água potável.
- (C) as áreas mais desenvolvidas correrão sérios riscos de carência de água, principalmente para as atividades econômicas.
- (D) as cidades mundiais com forte influência econômica deverão apresentar situações críticas de abastecimento de água potável.
- (E) os países com forte crescimento demográfico apresentarão grande disponibilidade de recursos hídricos.

38. Nestas últimas décadas, o processo de globalização econômica esteve atrelado ao comércio internacional. Comprova esse fato

- (A) a crescente pressão dos países ricos em enfraquecer os blocos econômicos.
- (B) o protecionismo, prática comum, sendo um entrave à circulação de mercadorias.
- (C) o aumento da independência econômica dos países produtores e exportadores de *commodities*.
- (D) o enfraquecimento de países que defendem relações comerciais bi ou multilaterais.
- (E) a expansão do pleno emprego no setor industrial nos países considerados emergentes.

GEOGRAFIA DO BRASIL

39. Analise o climograma representativo de uma extensa área do Brasil para responder à questão.



(<http://img0.cptec.inpe.br>. Acesso 01.04.2018)

O climograma é característico

- (A) da área litorânea da região Sul, que apresenta clima subtropical, sem estação seca e elevada amplitude térmica.
- (B) da área sul da região Sudeste, que apresenta clima tropical de altitude, fraca pluviosidade e temperaturas elevadas o ano todo.
- (C) da porção central do Centro-Oeste, que apresenta clima tropical úmido, com grande pluviosidade e elevada amplitude térmica.
- (D) do interior nordestino, que apresenta clima tropical, com os meses de verão mais chuvosos e baixa amplitude térmica.
- (E) de grande parte da Amazônia, que apresenta clima equatorial, forte pluviosidade e temperaturas elevadas o ano todo.

40. Dados divulgados em agosto de 2017 pelo IBGE (Instituto Brasileiro de Geografia e Estatística) mostrava que a população brasileira era de 207,7 milhões de habitantes.

Analisando-se as características da população brasileira, é possível constatar que

- (A) a esperança de vida, que indica o tempo médio de vida dos habitantes, tem sido reduzida, principalmente devido aos problemas decorrentes do desemprego e da crise econômica.
- (B) a migração entre as regiões brasileiras parou de crescer há mais de uma década, o que mostra a regularidade da distribuição das atividades econômicas pelo país.
- (C) a taxa de mortalidade infantil, que é um dos indicadores mais utilizados para mostrar as condições de vida, em especial aquelas relacionadas à saúde, está em declínio.
- (D) a taxa de urbanização, que mostra o dinamismo demográfico de um país, tem apresentado forte ampliação, fato que deve igualar as taxas entre as diferentes regiões do país.
- (E) a taxa de fecundidade tem permanecido em fraca expansão, mostrando que há uma tendência de se manter o crescimento vegetativo elevado, principalmente na zona urbana.

41. Notícia publicada em março de 2018 destaca que o IBGE (Instituto Brasileiro de Geografia e Estatística) já completou 93,6% da coleta de dados do 11º Censo Agropecuário Brasileiro. Já foram colhidas informações de 4,9 milhões de estabelecimentos, dos 5,2 milhões estimados inicialmente pelo IBGE.

(<http://agenciabrasil.ebc.com.br>. Acesso 01.04.2018. Adaptado)

O último recenseamento agropecuário foi realizado em 2006. Os doze anos que separaram os dois censos não devem alterar o fato de que, no país, predominam

- (A) as terras produtivas ocupadas por posseiros.
- (B) os minifúndios que ocupam metade das terras rurais.
- (C) as pastagens destinadas à criação de gado leiteiro.
- (D) os cultivos permanentes fortemente mecanizados.
- (E) as grandes propriedades rurais acima de mil hectares.

ATUALIDADES

42. Em 26 de fevereiro deste ano, o presidente dos EUA, Donald Trump, ordenou a expulsão de 60 diplomatas russos do país. Outros 14 países europeus, como França e Alemanha, também confirmaram que pedirão a saída de representantes diplomáticos russos de seus países.

(UOL – goo.gl/ypk7S2. Acesso 01.04.2018. Adaptado)

As medidas tomadas pelos países são uma forma de represália

- (A) ao apoio russo ao governo sírio, responsável por milhares de mortos na guerra civil da Síria.
- (B) ao apoio dos russos à produção de mísseis pelo governo da Coreia do Norte.
- (C) à adesão russa à nova guerra comercial iniciada em janeiro pela China.
- (D) ao envenenamento de um ex-espião russo por agentes químicos, no Reino Unido.
- (E) ao roubo de dados pessoais de milhares de seguidores da rede facebook.

43. Até 18 de fevereiro deste ano, o STF (Supremo Tribunal Federal) já tinha recebido 18 ações diretas de inconstitucionalidade contra a reforma trabalhista. As mudanças na CLT (Consolidação das Leis do Trabalho) entraram em vigor em novembro passado.

(Folha de São Paulo - goo.gl/ZWn6q3. Acesso 01.04.2018. Adaptado)

A maior parte dos processos tem em comum o fato de

- (A) reclamarem sobre o fim dos saques anuais do PIS-PASEP.
- (B) sustentarem a prorrogação do trabalho temporário por mais de três meses.
- (C) questionarem o trabalho de grávidas em locais insalubres.
- (D) reivindicarem o fim das férias fragmentadas em três períodos.
- (E) pedirem a volta da obrigatoriedade do imposto sindical.

44. A agência internacional de risco *Standard & Poor's* (S & P) rebaixou nesta quinta-feira (11. jan. 2018) a nota de crédito soberano do Brasil de “BB” para “BB-”. Com isso, o rating do país segue sem o selo de bom pagador, mas agora está três degraus abaixo do grau de investimento. Já a perspectiva para a nota mudou de negativa para estável.

(G1 – goo.gl/mnRUWR. Acesso 01.04.2018. Adaptado)

A agência apontou como justificativa para o rebaixamento

- (A) o atraso na aprovação da reforma da Previdência para reequilibrar as contas públicas.
- (B) o elevado número de desempregados, superior a 12 milhões de pessoas.
- (C) o aumento da inflação provocado pela elevação do preço dos combustíveis.
- (D) a morosidade na conclusão de obras de infraestrutura como a transposição do rio São Francisco.
- (E) a fragilidade da reforma política aprovada pelo Congresso no final de 2017.

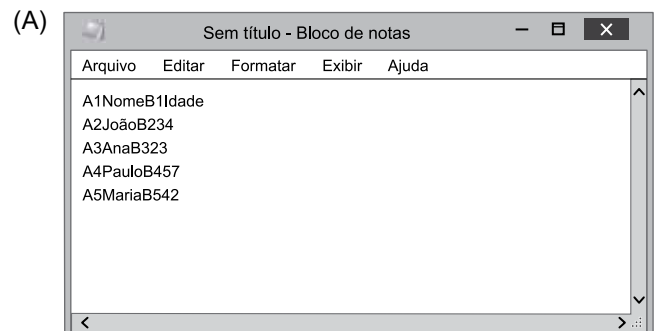
NOÇÕES BÁSICAS DE INFORMÁTICA

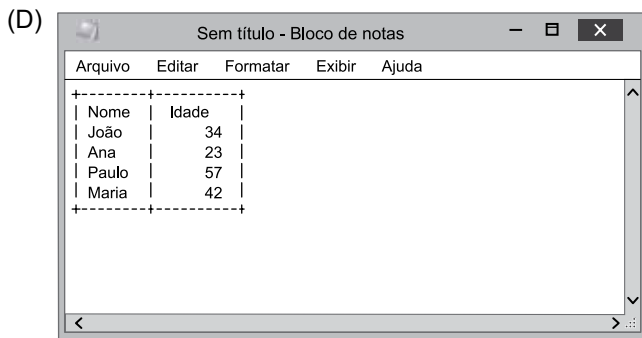
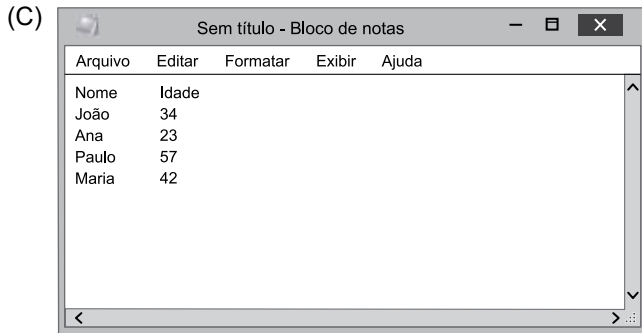
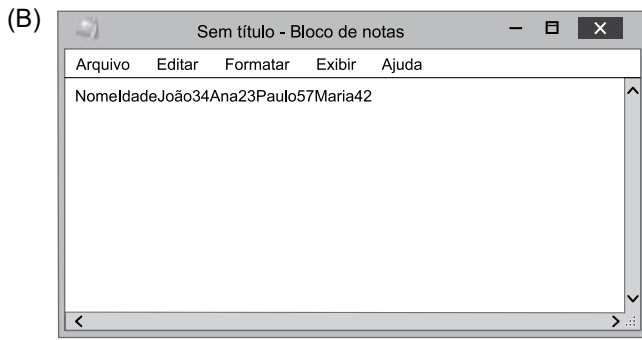
45. Tem-se a seguinte planilha, criada no Microsoft Excel 2010, em sua configuração original.

	A	B	C
1	Nome	Idade	
2	João	34	
3	Ana	23	
4	Paulo	57	
5	Maria	42	
6			

Um usuário selecionou as células A1 até B5 e pressionou CTRL+C. Em seguida, abriu o Bloco do Notas do Microsoft Windows 10, em sua configuração padrão, e pressionou CTRL+V.

Assinale a alternativa que indica corretamente o resultado.





(E)

	A	B	C	D	E
1	Nome	Ricardo da Silva	Paulo de Almeida	Inácio de Souza	
2	Cidade	São Paulo	Guarulhos	Osasco	
3					

46. Usando o Microsoft Windows 10, em sua configuração padrão, um usuário deseja alterar a sua senha de login. Assinale a alternativa que indica quais teclas o usuário deve pressionar para ter acesso à opção *Alterar Senha* e assim poder alterar a sua senha de login.

- (A) SHIFT+ESC
- (B) CTRL+ALT+DEL
- (C) CTRL+P
- (D) CTRL+S
- (E) ALT+TAB

47. Tem-se a seguinte planilha criada no Microsoft Excel 2010, em sua configuração original.

	A	B
1	A	
2	1	
3	2	
4	3	
5	B	
6	4	
7	5	
8	6	
9	C	
10	D4	
11		

Assinale a alternativa que indica o resultado correto da fórmula =SOMA(A1:A10), a ser inserida na célula A11.

- (A) 6
- (B) 15
- (C) 25
- (D) 21
- (E) 0

48. Tem-se a seguinte planilha criada no Microsoft Excel 2010, em sua configuração padrão, na qual o cursor do mouse está posicionado no título das colunas, entre as colunas A e B, conforme a imagem a seguir.

	A	B	C
1	Nome	Cidade	
2	Ricardo da	São Paulo	
3	Paulo de A	Guarulhos	
4	Inácio de S	Osasco	
5			

Assinale a alternativa que exhibe o resultado da ação, quando o usuário dá um duplo-clique com o botão principal do mouse.

(A)

	A	B	C
1	Cidade	Nome	
2	São Paulo	Ricardo da Silva	
3	Guarulhos	Paulo de Almeida	
4	Osasco	Inácio de Souza	
5			

(B)

	A	B	C
1			
2			
3			
4			
5			

(C)

	A	B	C
1	Nome	Cidade	
2	Inácio de S	Osasco	
3	Paulo de A	Guarulhos	
4	Ricardo da	São Paulo	
5			

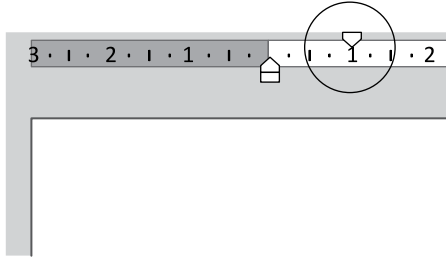
(D)

	A	B	C
1	Nome	Cidade	
2	Ricardo da Silva	São Paulo	
3	Paulo de Almeida	Guarulhos	
4	Inácio de Souza	Osasco	
5			

(E)

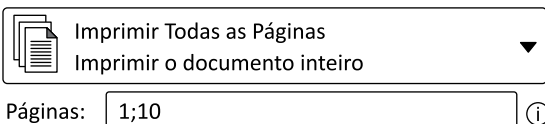
	A	B	C	D	E
1	Nome	Ricardo da Silva	Paulo de Almeida	Inácio de Souza	
2	Cidade	São Paulo	Guarulhos	Osasco	
3					

49. A partir de um novo documento, totalmente vazio, que está sendo editado com o Microsoft Word 2010, em sua configuração original, assinale a alternativa correta a respeito da formatação que será aplicada ao texto, quando o marcador superior da régua fica mais à direita do que o marcador inferior, como é exibido, por meio de um círculo, em destaque na imagem a seguir.



- (A) Todas as linhas, de todos os parágrafos, são recuadas.
- (B) Apenas as linhas seguintes à primeira linha, de todos os parágrafos, são recuadas.
- (C) Apenas a primeira linha, somente do primeiro parágrafo, é recuada.
- (D) Apenas as linhas seguintes à primeira linha, somente do primeiro parágrafo, são recuadas.
- (E) Apenas a primeira linha, de todos os parágrafos, é recuada.
50. Em um documento de 10 páginas, editado no Microsoft Word 2010, em sua configuração padrão, um usuário preencheu o campo Páginas da janela de configurações de impressão com o conteúdo da imagem a seguir.

Configurações



Assinale a alternativa que indica quais páginas serão impressas.

- (A) Páginas 2 até 9, apenas.
- (B) Todas as páginas, de 1 até 10.
- (C) Página 1, apenas.
- (D) Páginas 1 e 10, apenas.
- (E) Página 10, apenas.

51. Ao preparar uma apresentação no Microsoft PowerPoint 2010, em sua configuração original, um usuário adicionou uma AutoForma no slide 1. Ao pressionar F5 e iniciar o modo de exibição Apresentação de Slides, essa AutoForma deve ser exibida imediatamente, mas precisa ser configurada com uma animação do tipo _____, para que desapareça.

Assinale a alternativa que preenche corretamente a lacuna do texto.

- (A) Transição
- (B) Miniaturizar
- (C) Saída
- (D) Apagar
- (E) Ênfase

52. Miranda e Caio receberam, cada um, uma mensagem de correio eletrônico usando o Microsoft Outlook 2010, em sua configuração original, com as seguintes características:

De: aurelio@vunesp.com.br

Para: miranda@vunesp.com.br, caio@vunesp.com.br

Os usuários Miranda e Caio responderam ao mesmo tempo a mensagem que receberam, usando a opção Responder a Todos, sem qualquer alteração nos campos de destinatários da mensagem. Considerando apenas essa última ação de Miranda e Caio, assinale a alternativa que indica quantas mensagens Aurelio, Miranda e Caio receberão, respectivamente.

- (A) 2, 1, 1
- (B) 1, 1, 1
- (C) 1, 2, 2
- (D) 2, 0, 0
- (E) 2, 2, 2

NOÇÕES DE ADMINISTRAÇÃO PÚBLICA

53. A Constituição Federal de 1988 prevê, entre seus direitos e garantias fundamentais, que

- (A) é reconhecida a instituição do júri, com a organização que lhe der a lei, sendo-lhe assegurada a competência para o julgamento dos crimes hediondos.
- (B) a prática do racismo constitui crime inafiançável e imprescritível, sujeito à pena de reclusão, nos termos da lei.
- (C) a lei considerará crimes inafiançáveis e insuscetíveis de graça ou anistia os crimes contra a Administração Pública.
- (D) constituem crimes inafiançáveis e imprescritíveis a prática de tortura, o tráfico ilícito de entorpecentes e drogas afins e o terrorismo.
- (E) são admissíveis, no processo criminal, as provas obtidas por meios ilícitos, se comprovada a boa-fé da autoridade policial.

54. Suponha que um Servidor Público Militar do Estado de São Paulo tenha sido demitido por ato administrativo em dezembro de 2016, mas que sobrevenha, em janeiro de 2018, uma decisão judicial na qual o Servidor em questão é absolvido em ação referente ao ato que deu causa à demissão. Em uma situação como essas, a Constituição do Estado de São Paulo prevê que o Servidor Público Militar deverá ser

- (A) indenizado pelo período em que esteve afastado, entre 2016 e 2018, e reincorporado a partir de fevereiro de 2018.
- (B) reintegrado à Corporação, com todos os direitos restabelecidos.
- (C) readaptado para que possa voltar ao exercício na Polícia Militar do Estado de São Paulo.
- (D) indenizado pelo período em que esteve afastado, entre 2016 e 2018, e aproveitado a partir de fevereiro de 2018.
- (E) revertido à Corporação, com todos os direitos restabelecidos.

55. Considere a seguinte situação hipotética:

Um Cidadão cometeu um crime, sofreu condenação, cumpriu a pena que lhe foi imposta e, em seguida, solicitou a reabilitação perante a autoridade competente, que veio a ser concedida ao final de regular procedimento.

Diante de tais fatos, em razão do que determina a Constituição do Estado de São Paulo, o Cidadão

- (A) tem direito de obter, das repartições policiais competentes, quaisquer certidões sem menção ao crime em que houve reabilitação, salvo se houver requisição feita para fins de concurso público ou em processo seletivo privado.
- (B) não tem direito de obter, das repartições policiais competentes, quaisquer certidões a respeito do crime e sua reabilitação, cabendo-lhe, contudo, pleitear certidão sem menção aos antecedentes junto ao Poder Judiciário.
- (C) tem direito de obter, das repartições policiais competentes, certidão sem menção do crime em que houve reabilitação em seus antecedentes, não devendo a condenação ser mencionada sequer em caso de requisição judicial.
- (D) não terá o direito de obter, das repartições policiais competentes, certidão sem menção ao caso em que houve reabilitação em seus antecedentes, será, no entanto, registrado junto ao crime praticado que houve a reabilitação.
- (E) tem direito de obter, das repartições policiais competentes, certidão de antecedentes sem menção ao crime em que houve reabilitação, salvo em caso de requisição judicial, do Ministério Público, ou para fins de concurso público.

56. Se um agente público do Estado de São Paulo adquire materiais em desacordo com as disposições legais e regulamentares, o Estatuto dos Funcionários Públicos Cíveis do Estado prevê que esse agente será responsabilizado

- (A) pelo respectivo custo gerado, sem prejuízo das penalidades disciplinares cabíveis, mas não poderá ser efetuado desconto no seu vencimento ou remuneração.
- (B) administrativamente, sendo comunicado o fato às autoridades policiais, mas não lhe será imposta pena disciplinar nem o pagamento do respectivo custo gerado.
- (C) pelo respectivo custo gerado, sem prejuízo das penalidades disciplinares cabíveis, podendo-se proceder ao desconto no seu vencimento ou remuneração.
- (D) administrativamente, cabendo-lhe a pena disciplinar cabível, mas não lhe será imputado o respectivo custo gerado.
- (E) pelo respectivo custo gerado, mas não será objeto de penalidades disciplinares, nem poderá o valor correspondente ser descontado de seu vencimento ou remuneração.

- 57.** Um requerimento é submetido à análise da Administração Direta do Estado de São Paulo e passam-se mais de 120 (cento e vinte) dias sem que haja qualquer resposta ao interessado. Em uma situação como essas, a Lei Estadual nº 10.177/98 prevê que
- (A) o pedido não será considerado rejeitado, sendo o requerimento remetido à autoridade superior para análise no prazo de 20 (vinte) dias.
 - (B) o decurso de prazo maior que 120 (cento e vinte) dias desonera a autoridade competente da obrigação de proferir uma decisão.
 - (C) o interessado não poderá considerar rejeitado o requerimento, impedindo-lhe de deduzir a mesma demanda perante o Poder Judiciário.
 - (D) o interessado poderá considerar rejeitado o requerimento na esfera administrativa, salvo previsão legal ou regulamentar em contrário.
 - (E) o pedido não será considerado rejeitado se a autoridade competente consignar nos autos tratar-se de questão complexa, nos termos da lei.
- 58.** O Regulamento Disciplinar da Polícia Militar do Estado de São Paulo prevê que as transgressões disciplinares decorrentes de ações ou omissões contrárias à disciplina policial-militar poderão ser consideradas graves se
- (A) atentatórias ao bem de todos, sem preconceitos de origem, raça, sexo, cor, idade e quaisquer outras formas de discriminação.
 - (B) atentatórias às instituições ou ao Estado; atentatórias aos direitos humanos fundamentais; ou de natureza desonrosa.
 - (C) atentatórias a valores espirituais superiores, destinados a elevar a profissão policial-militar à condição de missão.
 - (D) infringentes, conscientemente, à aceitação dos valores e deveres policiais-militares e à firme disposição de bem cumpri-los.
 - (E) infringentes ao compromisso de honra, prestado em caráter solene, de cumprimento da deontologia policial-militar.
- 59.** No estágio probatório dos cargos das classes previstas na Lei Complementar nº 1.080/08, o servidor será submetido à avaliação especial de desempenho, que
- (A) verifica a aptidão e a capacidade do servidor para o exercício das atribuições inerentes ao cargo que ocupa, por intermédio de critérios como, por exemplo, assiduidade, produtividade e disciplina.
 - (B) avalia a possibilidade de passagem do servidor de um grau para outro imediatamente superior dentro de uma mesma referência da respectiva classe, por intermédio de critérios como, por exemplo, assiduidade, disciplina e produtividade.
 - (C) verifica a aptidão e a capacidade do servidor para o exercício das atribuições inerentes ao cargo superior àquele que ocupa, por intermédio de critérios como, por exemplo, responsabilidade, liderança e obediência.
 - (D) avalia a possibilidade de passagem do servidor da referência 1 para a referência 2 de sua respectiva classe, por intermédio de critérios como, por exemplo, disciplina, responsabilidade e capacidade de iniciativa.
 - (E) verifica a aptidão e a capacidade do servidor para o exercício das atribuições de cargo ou função em comissão, destinado a preenchimento por servidores de carreira, por intermédio de critérios como, por exemplo, assiduidade, produtividade e disciplina.
- 60.** De acordo com o previsto no Decreto Estadual nº 58.052/12, a Polícia Militar deve, como os demais órgãos e entidades do Estado de São Paulo, possuir uma estrutura que atuará como instância consultiva da autoridade máxima, sempre que provocada, sobre os recursos interpostos relativos às solicitações de acesso a documentos, dados e informações não atendidas ou indeferidas. Essa estrutura é designada pelo Decreto referido como
- (A) Serviço de Informação ao Cidadão – SIC.
 - (B) Comissão de Avaliação de Documentos e Acesso – CADA.
 - (C) Comitê Gestor do Sistema de Documentos e Informações – SPdoc.
 - (D) Comissão de Acesso à Informação – CAI.
 - (E) Comitê de Qualidade da Gestão Pública – CQGP.

REDAÇÃO

TEXTO 1

A Prefeitura de Santa Bárbara d'Oeste, no interior de São Paulo, quer proibir o consumo de bebida alcoólica em vias públicas na Praça Central e arredores. Segundo o projeto, só será permitido o consumo de álcool em estabelecimento comercial e durante a realização de festas populares que sejam autorizadas pela administração municipal.

Nos EUA e em alguns países da Europa, já existem leis para restringir o consumo de álcool em ruas, praças e parques. Na Irlanda e Inglaterra, quem beber em áreas públicas pode ser multado e até ir preso se descumprir a legislação.

No Brasil, não há nenhuma legislação federal que proíba o consumo de álcool em vias públicas.

(“Prefeitura do interior de SP quer proibir bebidas alcoólicas em espaço público”. <https://g1.globo.com>, 14.05.2017. Adaptado)

TEXTO 2

A Lei Municipal nº 4.666, de 2010, que proibia o consumo de bebida alcoólica em vias públicas, na cidade de Canoinhas, em Santa Catarina, foi derrubada após ser considerada inconstitucional pelo Tribunal de Justiça daquele estado na última semana. Segundo a decisão, o motivo que afastaria a Lei dos termos constitucionais seria a restrição ao direito de liberdade individual.

Em entrevista ao Poder Judiciário de Santa Catarina, o desembargador Jaime Ramos, relator da matéria, afirmou que o texto da lei era desproporcional: “A proibição restringe o direito de liberdade individual, sobretudo porque a ingestão moderada de bebida alcoólica, além de ser lícita, é socialmente aceita e tolerada, e o consumo excessivo é reprimido por dispositivos legais mais eficazes”, concluiu.

(Adriane Hess. “Justiça derruba lei que proibia consumo de bebidas alcoólicas em vias públicas”. www.jornalcorreiodonorte.com.br, 16.03.2017. Adaptado)

TEXTO 3

A Câmara de São Miguel do Oeste, município no estado de Santa Catarina, aprovou, por maioria, projeto de lei que dispõe sobre a proibição do consumo de bebidas alcoólicas em avenidas, rodovias, ruas, alamedas, servidões, caminhos, passagens, calçadas, praças, ciclovias, pontes e viadutos da cidade.

Durante a sessão que aprovou o projeto de lei, o promotor de Justiça Maycon Hammes lembrou que: “Hoje temos um individualismo muito grande e perdemos o senso de comunidade. Temos muitos direitos, mas nenhum direito é absoluto. O direito de cada um termina onde começa o direito do próximo. O direito de beber pode ser limitado a partir do momento em que começa a incomodar”, argumentou.

O juiz Márcio Cristófoli apoiou a argumentação do promotor e afirmou que as sanções são necessárias para garantir o cumprimento de regras. Ele afirmou que a sujeira resultante da aglomeração de pessoas para beber dá um péssimo aspecto para o visitante que vem a São Miguel do Oeste.

(“Aprovado projeto que restringe o consumo de bebidas alcoólicas em espaços públicos”. www.folhadoeste.com.br, 12.07.2017. Adaptado)

Com base nos textos apresentados e em seus próprios conhecimentos, escreva uma dissertação, empregando a norma-padrão da língua portuguesa, sobre o tema:

A PROIBIÇÃO DO CONSUMO DE BEBIDAS ALCOÓLICAS EM VIAS PÚBLICAS E O DIREITO DE LIBERDADE INDIVIDUAL.

